

历史基础知识智能训练

马 天 才

陕 西 人 民 出 版 社

历史基础知识智能训练

马 天 才

陕西人民出版社 出版发行

(西安北大街131号)

新华书店经销 陕西省印刷厂印刷

787 × 1092毫米 1/32开本 7.5印张 170千字

1987年8月第1版 1987年8月第1次印刷

印数：1—11,300

统一书号：7094·544 定价：1.25元

说 明

本书是为历史初学者加强基础知识学习和智能训练而编写的。内容包括两部分：第一部分是七套历史基础知识智能测验题（中国历史四套，世界历史两套，另有一套中外历史综合题）及其参考答案；第二部分是四十八幅中外历史图表，每幅表下都附有该表主要解决的问题，命名为“一表解多题”。

本书的特点是：形式新颖、深浅合宜，在灵活运用历史基础知识的原则下进行编写，以期达到开发智力，培养能力的目的，为快出人才，多出人才，出好人才服务。

本书可供自学青年从不同角度进行历史智能训练使用，亦可作中学教师和学生的教学参考资料。

由于时间仓促，编写者水平有限，舛误之处在所难免，敬请读者提出宝贵意见。

马 天 才

1985年教师节

目 录

(一) 历史基础知识智能测验题部分.....	(1)
中国历史第一套智能测验题 (自远古至公元581年)	
.....	(1)
中国历史第二套智能测验题 (公元581—1840年)	
.....	(6)
中国历史第三套智能测验题 (公元1840—1919年)	
.....	(10)
中国历史第四套智能测验题 (公元1919—1949年)	
.....	(14)
世界历史第一套智能测验题 (自远古至公元1870年)	
.....	(19)
世界历史第二套智能测验题 (公元1870—1945年)	
.....	(25)
历史基础知识综合智能测验题.....	(27)
中国历史第一套智能测验题参考答案.....	(38)
中国历史第二套智能测验题参考答案.....	(45)
中国历史第三套智能测验题参考答案.....	(50)
中国历史第四套智能测验题参考答案.....	(58)
世界历史第一套智能测验题参考答案.....	(67)
世界历史第二套智能测验题参考答案.....	(75)

历史基础知识综合智能测验题参考答案.....	(83)
(二) 基础历史一表解多题部分.....	(101)
一、中国历史古代部分分期简表.....	(101)
二、原始社会简表.....	(104)
三、奴隶社会简表.....	(107)
四、诸子百家情况对比表.....	(110)
五、商鞅变法、王安石变法、魏孝文帝改革 比较表.....	(113)
六、台湾自古以来就是我国神圣领土不可分割 的一部分.....	(116)
七、中国古代农民战争情况对比表.....	(119)
八、我国古代科技文化成就简表.....	(125)
九、西汉、唐、明、清在边疆设置的机构表.....	(131)
十、中国古代史上的重要战役.....	(134)
十一、古今地名对照表.....	(137)
十二、中国近代史图解.....	(140)
十三、中国近代史上五次战争简表.....	(142)
十四、中国近代三次革命高潮简表.....	(145)
十五、中国近代史三大条约比较表.....	(148)
十六、太平天国运动与义和团运动比较表.....	(151)
十七、沙俄侵略我国情况表.....	(154)
十八、戊戌变法和明治维新比较表.....	(157)
十九、资产阶级改良派和资产阶级革命派 对比表.....	(160)
二十、帝国主义在中国强占“租借地”、划分 “势力范围”简表.....	(161)

二十一、北洋军阀分裂为皖、直、奉集团情况对比表.....	(162)
二十二、中国近代的文化、科学界著名人物.....	(163)
二十三、中国近现代史三次思想运动.....	(165)
二十四、新民主主义革命时期几次重要会议.....	(168)
二十五、中国工人运动第一次高潮.....	(174)
二十六、新民主主义革命三次统一战线表.....	(177)
二十七、一九二七年三次武装起义.....	(180)
二十八、红军四次反“围剿”胜利表.....	(183)
二十九、第二次国内革命战争时期红军和革命根据地发展情况简表.....	(185)
三十、抗日时期民主根据地简表.....	(187)
三十一、抗日战争中两条路线比较表.....	(188)
三十二、日本发动的侵略中国的四次事变.....	(190)
三十三、抗日战争时期中国共产党 击败国民党三次反共高潮.....	(191)
三十四、中国共产党在民主革命各个时期的 土地政策.....	(193)
三十五、人民解放战争的战略进攻.....	(195)
三十六、新民主主义革命时期的学生运动 概况.....	(196)
三十七、解放战争时期的三大战役.....	(199)
三十八、古代埃及、巴比伦、印度、中国和 波斯帝国简表.....	(200)
三十九、英国资产阶级革命和法国资产阶级革命比较表.....	(203)

四十、俄国 1861 年改革与日本明治维新 比较表.....	(206)
四十一、比较第一、二次世界大战的异同表.....	(209)
四十二、北美独立战争与美国内战 比较表.....	(211)
四十三、英国、美国、法国资产阶级革命 简表.....	(214)
四十四、1848 年欧洲革命、1905 年俄国革命、 1917 年俄国二月革命比较表.....	(217)
四十五、第一国际、第二国际、第三国际 简表.....	(219)
四十六、国际共产主义运动中的重大事件 简表.....	(222)
四十七、两次世界大战期间主要的国际性会议 简表.....	(226)
四十八、中外历史综合分期简表.....	(229)

(一) 历史基础知识智能测验题部分

中国历史第一套智能测验题 (自远古至公元581年)

一、考目录题：我国古代史包括哪几个社会形态？并说出各个社会的起迄时间、约多少年。

二、编歌诀题：将我国主要历史朝代按顺序编成一首歌诀。

三、填表题：按时间顺序填写我国境内的原始人群名称：

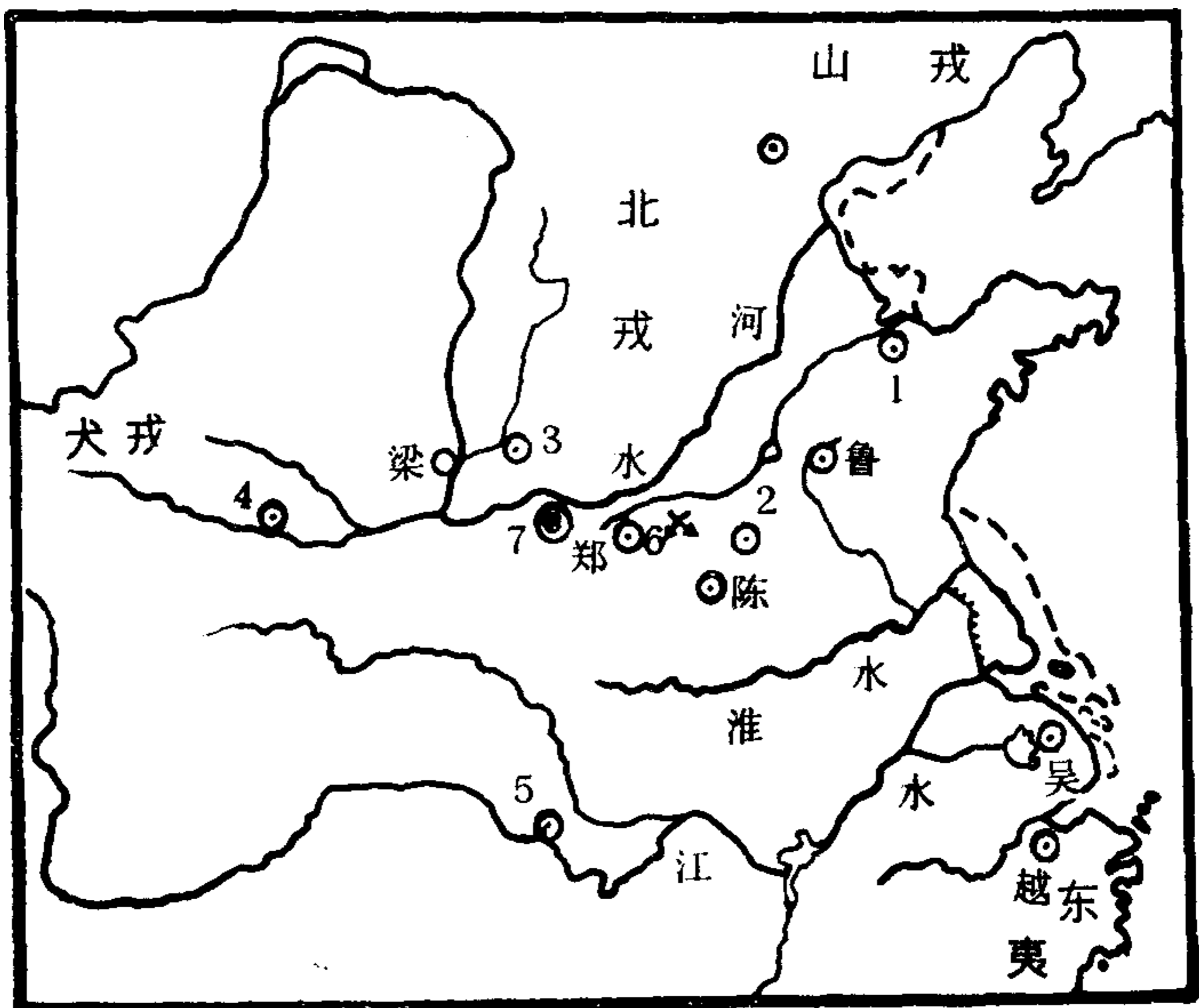
原始 人 群 时 期	距今约170万年的元谋人
	↓
	距今约80万年的()人
	↓
	大约四、五十万年前的()人
	↓
()人	
↓	
()长阳人	
↓	
()人	

四、问答题：为什么称中华民族为炎黄子孙？黄帝陵在什么地方？

五、列举题：1. 列举我国奴隶社会各朝代的开国帝王及都城名称。2. 列举隋朝以前重要的七次战役名称。（春秋战国时期除外）

六、编歌诀题：请选出西周九个主要诸侯国编成一首三字歌诀。

七、填历史地图题：在下边春秋列国形势图中填出“春秋五霸”的国名、郑国奴隶起义的地点及周王城。



- 1、() 5、()
2、() 6、()
3、() 7、()
4、()

八、问答题：十九世纪末，在我国什么地方发现了大量的甲骨文？大约有多少片？你知道甲骨文大约有多少单字？它是一种怎样的文字？

九、讲故事题：请讲一讲卧薪尝胆的故事。

十、辨认题：下面的话是谁说的？

1、“杀人者死，伤人及盗抵罪。”

2、“知之为知之，不知为不知。”

3、“王侯将相，宁有种乎？”

4、“祸兮，福之所倚；福兮，祸之所伏。”

5、“民为贵，”“君为轻。”

6、“知彼知己，百战不殆。”

7、“罢黜百家，独尊儒术。”

8、“假使我是个卖论取官的人，早就做到尚书令或左、右仆射了，还用你来说什么中书郎么？”

十一、问答题：你怎样理解万里长城的伟大？

十二、听写题：听写下列历史名词。

1、李（kuí 亏）


2、（chán 谗）于

3、（ 婀 ）（páng 旁）宫

4、上（gu 龟）

5、左、右仆（yè 夜）

十三、填空题题：填大泽乡起义后的进军路线地点：



十四、记典故题：写出历史上关于班超的两个典故名称。

十五、设计绘图题：请根据下边推恩令的内容，设计出推恩令示意图。

“汉武帝时候，又颁布了“推恩令”，准许诸侯王把自己的封地再分给子弟，建立侯国。一个王国分出许多小侯国，直属的领地就小了，再没有力量对抗中央。后来汉武帝又陆续夺去大批王、侯的爵位。这样，经过长期斗争，诸侯王国对中央的威胁终于解除了。”

十六、组词题：用黄、赤、绿三字开头，组成三支农民起义军名称。

十七、填表题：填出下表内容：

国号	建立时间	开国帝名	定都地名
魏国			
蜀国			
吴国			

十八、连线题：1、把下列历史事件与朝代用直线联系起来。

西	卫青、霍去病攻打匈奴	东
汉	班超派甘英到大秦去	汉
	窦固、窦宪解除北匈奴威胁	
	张骞出使西域	

2、把下列人物与朝代用线连起来。

拓跋珪	东魏
高欢	北魏

高 洋	北齐
宇文泰	北周
宇文觉	西魏
刘 裕	宋
萧道成	陈
萧 衍	梁
司马睿	东晋
陈霸先	齐

十九、加减题：请计算下列加减题的结果，看是什么朝代。

1、北魏 + 东魏 + 西魏 + 宋 + 齐 + 北周 + 北齐 + 陈 + 梁 = ?

2、北魏 + 齐 + 北齐 + 东魏 + 西魏 + 北周 - 齐 = ?

二十、听诗歌题：1、下边是何朝何人写的何诗？并简略评价诗人。放录音：“种豆南山下，草盛豆苗稀。晨兴理荒秽，带月荷锄归。”

2、下边是何朝何民族的民歌？它表现了什么地方的什么情景？放录音：“敕勒川，阴山下，天似穹庐，笼盖四野。天苍苍，野茫茫，风吹草低见牛羊。”

二十一、古今地名题：写出下列古地名的现在名称（或地理位置）： 1、镐京—— 2、洛邑——

3、秦朝都城—— 4、建康——

5、天竺—— 6、安息——

7、大食—— 8、大秦——

二十二、制作题：将中国历史纪年表夏至隋各朝代按次剪下，放乱，请再按顺序排列起来。

二十三、组合排列题：十六国各国名称可组合排列为

“一夏、一成、二赵、三秦、四燕、五凉”。请写出十六国具体名称。

二十四、辨别题：下列口号及主张是什么朝代什么起义者提出来的？

1、“苍天已死，黄天当立，岁在甲子，天下大吉”。

2、“杀人者死，伤人者偿创”。

二十五、问答题：下而的诗、文句是什么意思，表现了什么样的思想感情或情景？

1、“硕鼠硕鼠，无食我黍！三岁贯汝，莫我肯顾。逝将去汝，适彼乐土。乐土乐土，爰得我所！”。

2、“举耜为云，决渠为雨”。

3、“且溉且粪，长我禾黍，衣食京师，亿万之口。”

二十六、考大事年表题：

1、我国奴隶制社会包括夏、商、西周、春秋各朝，各是何年由什么人建立的？

2、按顺序写出我国封建社会战国、秦、西汉、东汉、三国、西晋、东晋、南北朝的起迄时间。

中国历史第二套智能测验题

（公元581—1840年）

一、考目录题：我国封建社会分哪五个阶段，各阶段包括哪些朝代？请在年代表上表示。（图例见下页）


二、列举题：1、列举组成隋朝大运河的四段运河名称、所贯穿的五大河及所流经的六省的名称。

2、列举唐朝文化对日本的重大影响。

3、列举清初调整农业政策中的几项措施。

4、列举1661年、1662年、1683年、1684年台湾历史上的四件大事。

(第一题图例)



三、解释名词：土尔扈特。

四、填空题：

1、唐代六诏是今天()和()的祖先；吐蕃是今天()的祖先。回纥是今天()的祖先。

2、为了加强对西北边疆的管辖，()朝在那里设置西域都护；()朝在那里设置安西都护府和北庭都护府；()朝在那里设置伊犁将军。

3、我国古代三位杰出的唯物主义思想家：荀况著有《()》；王充著有《()》；范缜著有《()》。

五、听写题：写出下面地名、族名、人名。

1、地名：(qi cí 读秋词) 冤(q 读渠) 于(ti á n 读田)

2、族名：回(hú 读胡) (mò hé 读莫河)
(Dá dá 读达达)

3、人名：玄(z à ng 读葬) 大(zu ò) 荣

俞大 (yóu 读由)

六、辨别题：下边的话各是谁说的？

1、“君，舟也；人，水也。水能载舟，亦能覆舟。”

2、“古来汉人为吾师。”

3、“十年之功，废于一旦。”

4、“人生自古谁无死，留取丹心照汗青。”

5、“天下初定，百姓财力困乏，好比小鸟不可拔羽，新树不可摇根，当今要政，在于安养生息。”

七、古今地名题：下面古地名是今天什么地方？

1、涿郡

2、江都

3、余杭

4、京口

5、始安

6、龟兹

7、于阗

8、青城

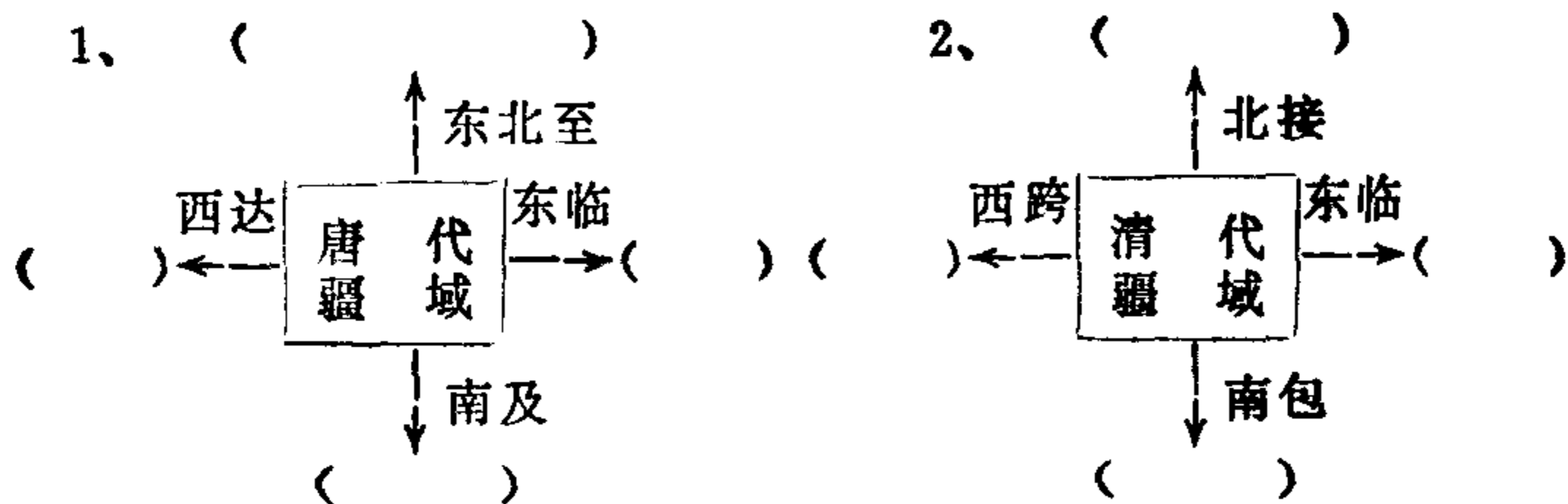
9、逻些

10、明州

八、追原姓名题：下列人物原姓名是什么？

1、晁衡 2、玄奘 3、郑和

九、填图题：填下边两幅示意图：



十、辨作者题：请朗诵下面这些诗句，并说出它是何朝何人所写？

1、“朱门酒肉臭，路有冻死骨！”

2、“孤帆远影碧空尽，惟见长江天际流。”

3、“宣城太守知不知？一丈毯，千两丝。地不知寒人要暖，少夺人衣作地衣！”

4、“死去原知万事空，但悲不见九州同，王师北定中原日，家祭无忘告乃翁。”

十一、填表题：请填下表：

族名	首领	建国时间	都城	国名
契丹族				
党项族				
女真族				

十二、列举题：列举隋至清代一位女英雄、一位女词人、一位女纺织革新家、一位女皇帝。

十三、简介题：简单介绍唐代长安城和明代北京城。

十四、组物名题：1、用天、地、日、月、山、钟、鼓等字，每字与其它字组成一座明代北京的建筑物名称。

十五、问答题：1、历史上记载唐、明两代有三块代表民族和睦历史的著名石碑，其内容是什么？

2、请问大齐、大蜀、大楚、大顺四大农民政权各是何朝、哪次农民起义的领袖建立的？

十六、综合对比题：请填下表对比内容。（表见下页）

十七、评述历史引文题：简要说明下面这句引文的背景及作用：“君，舟也；人，水也。水能载舟，亦能覆舟。”

十八、按朝代顺序将中国历史主要的朝代排下来，写出来。

十九、编歌诀题：将南京城在历代的主要名称编成歌诀。

(第十六题表)：

对比内容	岳 飞 抗 金	戚 继 光 抗 倭
人物称呼		
军队名称		
友军名称		
主要战役		
人 物 评 价		

中国历史第三套智能测验题

(公元1840—1919年)

一、考目录题：按顺序一、二、三、四、五、六排列，每个数字作一句话开头的第一个字，组成六个短句，将中国近代史中的主要线索、任务、分期、大事做一概括说明。

二、编歌诀题：按顺序用从后金的大汗到清代最后一个皇帝的名称编成三字歌。

三、连线题：将下列爱国英雄、爱国将领、人民抗英组织与他们所在的抗击英军地点连接起来。

林则徐	厦门
邓廷桢	广州
陈化成	吴淞
关天培	定海