

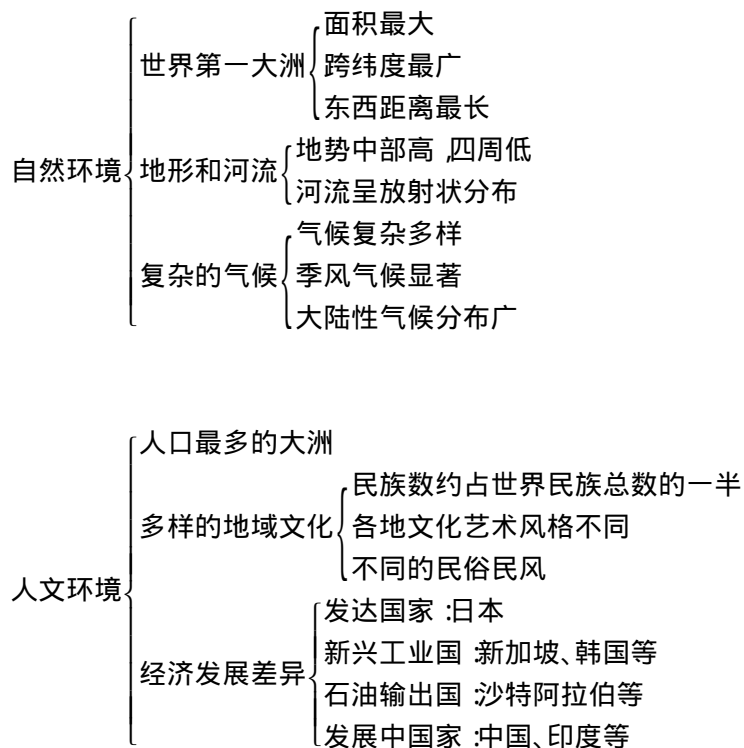
目 录

| | |
|-----------------------|--------|
| 第六章 我们生活的大洲——亚洲 | (1) |
| 第一节 自然环境 | (1) |
| 第二节 人文环境 | (5) |
| 第六章学习评价 | (8) |
| 第七章 我们邻近的国家和地区 | (10) |
| 第一节 日本 | (11) |
| 第二节 东南亚 | (15) |
| 第三节 印度 | (18) |
| 第四节 俄罗斯 | (22) |
| 第七章学习评价 | (25) |
| 第八章 东半球其他的国家和地区 | (28) |
| 第一节 中东 | (29) |
| 第二节 欧洲西部 | (32) |
| 第三节 撒哈拉以南的非洲 | (35) |
| 第四节 澳大利亚 | (38) |
| 第八章学习评价 | (42) |
| 第九章 西半球的国家 | (45) |
| 第一节 美国 | (46) |
| 第二节 巴西 | (50) |
| 第九章学习评价 | (53) |
| 第十章 极地地区 | (55) |
| 第十章学习评价 | (58) |
| 期中学习评价 | (60) |
| 期末学习评价 | (65) |
| 参考答案与提示 | (71) |



第六章 我们生活的大洲——亚洲

全屏显示



摇员

第一节 自然环境



珠穆朗玛峰

珠穆朗玛峰是喜马拉雅山脉的主峰,海拔8848米,是地球上第一高峰,位于东经86.8°、北纬27.9°。地处中尼边界东段,北坡在我国境内,南坡在尼泊尔王国境内。被誉为南极、北极之

外的世界第三极。

最早到达珠峰脚下的是我国的藏族人民。藏族人民给这座山峰取了个圣洁的名字,叫圣母峰,“珠穆朗玛”就是藏语“圣母”的音译。

珠峰的外观,如一座没入天庭的金字塔。它的顶端,长60多米,宽不过1米,地势非常险峻。气温常年在-10℃—-15℃,稀薄的空气中含氧量仅为东部平原区的1/5,8级大风屡见不鲜,7000米高度以上的地方全是裸露的岩石。

珠峰是怎样形成的呢?在5000万年以前,这里还是一片汪洋大海,后来由于印度板块向亚欧板块碰撞俯冲,古海区地壳被不断抬升,以至形成喜马拉雅山及其主峰——珠穆朗玛峰。



珠峰是神奇的,有许多科学之谜等待人类解开。只有不畏艰险、意志坚强的勇士才能攀登上这地球之巅——珠穆朗玛峰!

地理资料库

认识亚洲的位置

| | |
|------|---|
| 半球位置 | 东西半球中,以东半球为主; 南北半球中,以北半球为主。 |
| 相对位置 | 东临太平洋,南临印度洋,北临北冰洋,西南临地中海(属大西洋); 西与欧洲相邻,西南与非洲相邻,东北与北美洲相望,南与大洋洲相望。 |

认识亚洲的范围

纬度范围大致在 10°S — 90°N 之间,经度范围大致在 26°E — 170°W 之间。

西北以乌拉尔山脉、乌拉尔河、里海、大高加索山脉、黑海和土耳其海峡与欧洲为界,西南以苏伊士运河与非洲为界,东北以白令海峡与北美洲为界,南面隔海与大洋洲相望。

认识亚洲的面积

面积约4400万平方千米,是世界第一大洲。

认识亚洲的地形和河流

“地面起伏很大,中部地势高耸,四周地势较为低下”的地形特点;“呈放射状流向”的河流分布特点。

认识亚洲的气候

“气候复杂多样、季风气候显著、大陆性气候分布广”的三大气候特点。

关注气候(尤其是季风气候)对农业生产的影响。



问题探究

怎样利用地图来描述亚洲的相对位置?

亚洲的相对位置要通过与亚洲相邻的大洲和大洋的关系来描述,这种相邻关系必须强调方向的判定。具体地讲:

一要在地图上正确辨认东、南、西、北、东南、西南、西北、东北八个方向;二要在地图上读出与亚洲相邻(或相望)的大洲和大洋;三要以亚洲为中心,用方向来描述周围大洲和大洋与亚洲的相对位置关系,如欧洲在亚洲的西侧。

怎样通过对地图和相关资料的分析来描述亚洲的自然环境特征?

要描述一个区域的自然环境特征,一要从分析相关的自然地理要素入手,如地形、河流、气候,等等;二要学习识图、用图,学会从各种资料中提取相关地理信息,如在“亚洲地形图”上认识不同地形区的位置和海拔,并学习进一步归纳其地形特征;三要重视分析各自然要素之间的联系,如地形对河流分布的影响,纬度位置对气候的影响,等等。

问题验证

请回答下列“世界之最”,并在“亚洲的地形图”上找到相应位置。

最高的高原——

最高大的山脉——

最高的山峰——

陆地的最低点——

最大的湖泊——

最大的半岛——

最大的群岛——

读“亚洲地形图”,完成下列要求:

(1)在图上找出亚洲的主要高原、平原及其大致海拔,归纳亚洲的地形特点。

(2)在图上查找亚洲大江大河的流向,归纳亚洲河流的流向特点。



点之间的关系。

发现新问题

里海是海吗？请说出你的判断理由。

为什么温带大陆性气候成为亚洲分布最广的气候类型？



基础巩固

一、请你完成

亚欧之间的分界线是乌拉尔山脉、 河、里海、大高加索山脉、 海和 海峡。

世界上最大的半岛是 半岛，世界上最大的群岛是 群岛。

亚洲的气候具有 、 和 的特点。

二、请你选择

亚洲最大的平原是 ()

华北平原

西西伯利亚平原

印度河平原

密西西比河平原

亚非两洲的分界线是 ()

白令海峡

巴拿马运河

苏伊士运河

英吉利海峡

亚洲分布范围最广的气候类型是 ()

热带雨林气候

温带季风气候

高原山地气候

温带大陆性气候

易于发生旱涝灾害的地区有 ()

①南亚 ②西亚 ③北亚 ④东南亚 ⑤东亚 ⑥中亚

①②③ ④⑤

④⑤⑥ ②③⑥

三、请作连线

把下列地区与该地区的气候类型用直线连起来：

青藏高原 ①热带季风气候

印度半岛 ②热带雨林气候

马来群岛 ③高原山地气候

蒙古高原 ④温带大陆性气候

能力拓展

四、读图分析

读图 远景 分析完成以下各问：

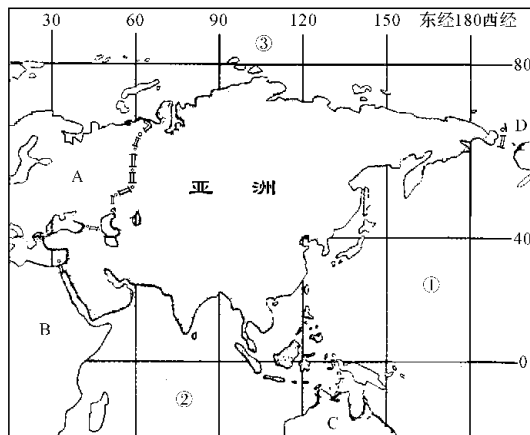


图 远景

填出亚洲周围大洲、大洋的名称。

大洲： 洲 洲；

 洲 洲。

大洋：① 洋；② 洋；

③ 洋。

读图判读亚洲所跨的纬度、经度范围。

纬度范围在 之间，

经度范围在 之间。

五、思考回答

请你说出亚洲南部自东向西三大半岛的名



称及各自的气候类型。

请你分析归纳亚洲的自然环境特点。

探究应用

六、问题讨论

亚洲东部和南部的季风气候显著,亚洲内陆地区温带大陆性气候分布广泛。请就此问题与同学们一起讨论分析:

季风气候与温带大陆性气候各有什么样的特征?

播

受气候的深刻影响,亚洲东部和南部地区、内陆地区的农业生产会有哪些差异?

自我评价

| 自己记录 | 完成时间 | 做对题数 | 题目难度 | | | 难题题号 |
|-------|------|------|------|---|---|------|
| | | | 难 | 中 | 易 | |
| 发现新问题 | | | | | | |



第二节 人文环境



话摇茶

茶叶、咖啡和可可被称为世界三大饮料,因饮茶的人数最多,所以茶叶居三大饮料之首。

亚洲是世界上茶叶产量最大的洲,因饮茶者众,它也是世界上茶叶消费量最大的洲。人们常说:“开门七件事,柴米油盐酱醋茶。”可见茶在人们生活中的重要地位。

你知道茶的故乡在哪里吗?它就在中国。茶树在中国栽种的历史源远流长。在远古时代,我国就有“神农尝百草,日遇七十二毒,得茶而解之”的传说,唐陆羽的《茶经》中写道:“茶之为饮,发乎神农氏。”随着农业生产的发展,唐代中叶,饮茶已盛行全国,并形成了内涵丰富的茶文化。

世界产茶国家大约有四十多个,它们的茶籽和茶树栽培技术,都是直接或间接从中国引入的。今天,日本、印度、朝鲜、越南、斯里兰卡等国家,茶叶的生产和出口均在这些国家的经济发展中占据突出地位,饮茶更成为这些国家的人民“一日不可缺少”的生活习惯。

红茶醇厚,绿茶清香,花茶芬芳,……茶香,凝聚着中华民族的勤劳与智慧,茶香也传播着享誉世界的华夏文明。愿世界各族人民在醇厚、芬芳的茶香中,和勤劳、勇敢的中国人民共同感受这象征祥和、幸福和美好的氛围。

地理资料库

亚洲的人口数量

约45亿人(2000年),占世界人口总数的近一半。是世界人口最多的大洲。

亚洲的人口分布

东亚、东南亚和南亚是人口稠密地区。

人口过亿的亚洲国家有中国、印度、印度尼西亚、日本、孟加拉国、巴基斯坦。

亚洲的人口问题

亚洲人口过多、人口增长过快,造成严重的人口问题,导致资源和环境恶化、经济和社会发展滞后。

亚洲的地域文化

地域文化与当地的自然条件、民族习俗有密切的关系。亚洲地域辽阔,自然环境复杂,民族众多,形成了多样的地域文化,主要包括华夏文化、印度河流域文化、恒河文化、阿拉伯文化,等等。

亚洲的经济发展

亚洲各国因自然、社会、历史条件差异很大,造成各国经济发展很不平衡。

人均国民生产总值和产业结构是衡量一个国家经济发展水平的重要指标。人均国民生产总值越高的国家,第三产业比重越大;人均国民生产总值越低的国家,第一产业比重越大。

亚洲国家按经济发展水平,包括:

发达国家:如日本;

新兴工业国:如新加坡、韩国等;

石油输出国:如沙特阿拉伯、科威特等;

发展中国家:如中国、印度、蒙古等。



问题探究

如何认识亚洲多样地域文化的形成与发展?

地域文化的形成与发展,都要历经漫长的历史过程,要受到多种因素的影响,其中自然地理环境是地域文化发生发展的基础,也是最主要的影响因素。

亚洲各区域的自然地理环境差异很大,有广布的沙漠戈壁,也有陡峭的高原山地,四周高、中间低的盆地,还有温暖湿润的平原低地……不同国家、不同民族居住在这自然条件迥然不同的区域内,为适应这不同的生存环境,就形成了不同的地域文化,并世代相传,沿袭发展。

如何阅读、分析地理统计图表?

本节课文中的三幅图(图1.15、图1.16、图1.17)分别是在世界图或亚洲图的底图上标注地理统计数据的。如何阅读、分析这些统计数据呢?

首先,要读懂图。要认真读图名,知道你所读的图要表述哪些地理事物或地理现象;要认真读图例,不仅要知道不同图例所代表的不同地理事物是



什么,还要知道图例的含义(如什么是人口自然增长率)。

其次,要学会进行图上分析。如以图 2.1.1 为例,通过读图,可以认识六大洲人口数、平均人口自然增长率的排序。

最后,要学会进行归纳总结。如通过读图 2.1.1,可归纳总结出“亚洲人口最多、平均人口自然增长率居世界各大洲的第三位”的结论;读图 2.1.2,可归纳出“亚洲经济发展差异大,贫穷国家仍很多”的结论。据此还可以进一步分析得出:“众多的人口和贫穷必然给亚洲生态环境带来巨大的压力”的结论。

问题验证

你学会分析地理统计图表了吗?请读教科书图 2.1.1,回答下列问题:

(1)人口增长过多、过快,会导致人口问题。世界上都有哪几个大洲面临严重的人口问题呢?

摇

(2)众多的人口,对资源和环境会产生沉重的压力。就你所知,人口过多会造成哪些资源、环境问题?

发现新问题

你所了解的华夏文化与阿拉伯文化有哪些不同?为什么会有这些不同?

新加坡、沙特阿拉伯都是亚洲的富裕国家,它们的经济发展道路一样吗?如果不一样,它们是怎样来确定本国的经济发展战略的?

(提示:各国要根据自己国家的国情,并结合世界政治、经济和科学技术的大环境来确定经济发展战略)。



基础巩固

一、请你完成

1. 亚洲的东亚、东南亚和南亚是人口稠密地区。

2. 亚洲不同地区的不同民族分别创造了不同的地域文化,如华夏文化、中华文化、印度文化、伊斯兰文化等。

3. 一般来说,人均国民生产总值是衡量一个国家经济发展水平的重要指标。

二、请你选择

1. 东亚人口超 10 亿的国家是 ()

2. 日本、印度、俄罗斯

3. 生活在沙特阿拉伯的贝都因人,他们的主要住房是 ()

4. 木屋、窑洞、帐篷、高脚屋

5. 现在世界上的发达国家,大多数 ()

6. 第一产业比重最大

7. 第二产业比重最大

8. 第三产业比重最大

9. 第一、二产业比重都很大

能力拓展

三、计算填表

下表是 2000 年亚洲、非洲和北美洲的人口总数和平均人口自然增长率,请分别计算各洲的年净增人口数。

| 大洲 | 人口数 (亿人) | 平均人口自然 增长率(%) | 年净增人口数 (亿人) |
|-----|-------------|------------------|----------------|
| 亚洲 | 39.2 | 1.2 | |
| 非洲 | 9.3 | 1.5 | |
| 北美洲 | 3.2 | 0.8 | |

四、读图分析

图 2.1.3 是“某年亚洲、日本两国国内生产总值的三类产业构成(%)”图。读图回答:



探究应用

五、请收集亚洲不同国家有特色的文化风情资料,与同学们交流并讨论该国自然环境对民族文化风情的影响。

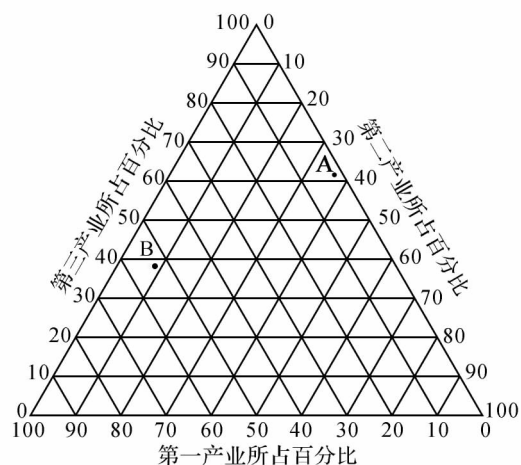


图 远原圆

读图,读出 粤国、月国的三类产业百分比。

粤国:第一产业占 ,第二产业占 ,第三产业占 ;

月国:第一产业占 ,第二产业占 ,第三产业占 。

产业结构是衡量一个国家经济发展水平的重要指标之一。据此,判断下列选项中正确的是

()

①发展中国家 ②发达国家 ③日本 ④印度 ⑤美国 ⑥缅甸

粤国是①④ 月国是②③

粤国是①⑤ 月国是②⑥

自我评价

| 自己记录 | 完成时间 | 做对题数 | 题目难度 | | | 难题题号 |
|-------|------|------|------|---|---|------|
| | | | 难 | 中 | 易 | |
| 发现新问题 | | | | | | |



第六章学习评价

一、请你完成

1. 亚洲西南以喜马拉雅与非洲为界,东北以乌拉尔与北美洲为界。

2. 喜马拉雅山脉是世界最高大的山脉,其主峰海拔为8848米。

3. 中亚气候主要为温带大陆性气候,南亚气候主要为热带季风气候。

4. 据2000年资料,亚洲人口数约为30亿人,为世界人口第一大洲。

5. 亚洲的黄河—长江中下游地区、恒河和印度河是亚洲的三个人类文明发祥地。

6. 世界上的发达国家,大多数第一产业的比重最小,第三产业的比重最大。

二、请你选择

1. 亚洲的半球位置主要在北半球和东半球。(摇摇)

①东半球 ②西半球 ③南半球 ④北半球

2. 喜马拉雅山脉位于亚洲。

①② ③④

3. 世界最大的湖泊是里海。(摇摇)

①黑海 ②里海 ③地中海 ④死海

4. 贝加尔湖位于亚洲。

5. 与亚洲东部和南部夏季降水多少有密切因果关系的选项是季风。(摇摇)

①地势的高低

②距海的远近

③季风的强弱

④夏季风的强弱

6. 世界最大群岛的气候类型是热带雨林气候。(摇摇)

①地中海气候

②热带雨林气候

③温带季风气候

④温带大陆性气候

7. 亚洲大小民族共4000个左右,约占世界民族总数的1/3。(摇摇)

①蒙古 ②藏族

③傣族 ④苗族

8. 大力发展出口加工工业,推动了本国经济发展的东南亚国家是泰国。(摇摇)

①中国 ②新加坡 ③马来西亚 ④印度

9. 泰国 ① 沙特阿拉伯 ②

③ ④ ⑤ ⑥

⑦ ⑧ ⑨ ⑩

三、请作连线

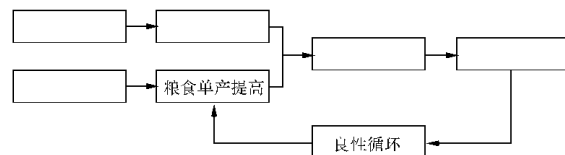
请把不同民族与所在地区的自然条件或民族习俗用直线连接起来:

- | | |
|---------|--------|
| ①热带雨林气候 | ④居住高脚屋 |
| ②热带沙漠气候 | ⑤居住帐篷 |
| ③身着宽大白袍 | ⑥游牧生活 |
| ⑦聚居生活 | |
- ① 沙特阿拉伯 的贝都因人
- ② 印度尼西亚 的达拉克人

四、框图填充

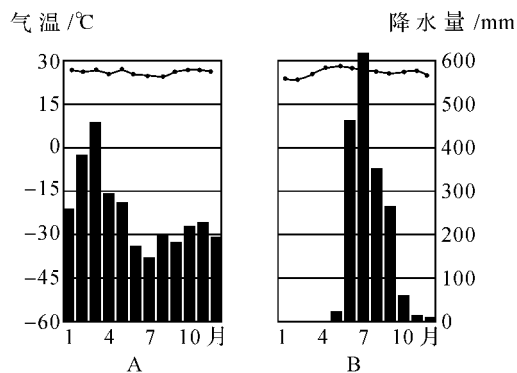
亚洲人口众多,对土地产生巨大压力,并形成恶性循环。如何改变这种状况,进入良性循环呢?请把粤—耘各项内容按因果关系填入下面的框图中。

①科技兴农 ②退耕还林 ③环境得到改善 ④控制人口 ⑤对粮食需求减少



五、阅读分析

读亚洲粤、月两地的“气温、降水量各月分配图”(图远景),回答下列问题。



图远景

请描述粤、月两地的气候特征。

粤地:

月地:

粤地气候主要分布在热带季风气候。(摇摇)

①东亚 ②东南亚 ③南亚



忆东南亚 忆西亚
阴地气候可能造成的气候灾害是什么？

六、思考回答

黄河——长江中下游地区,是世界著名的人类文明发祥地。请思考分析,形成该人类文明发祥地的主要自然条件是什么？

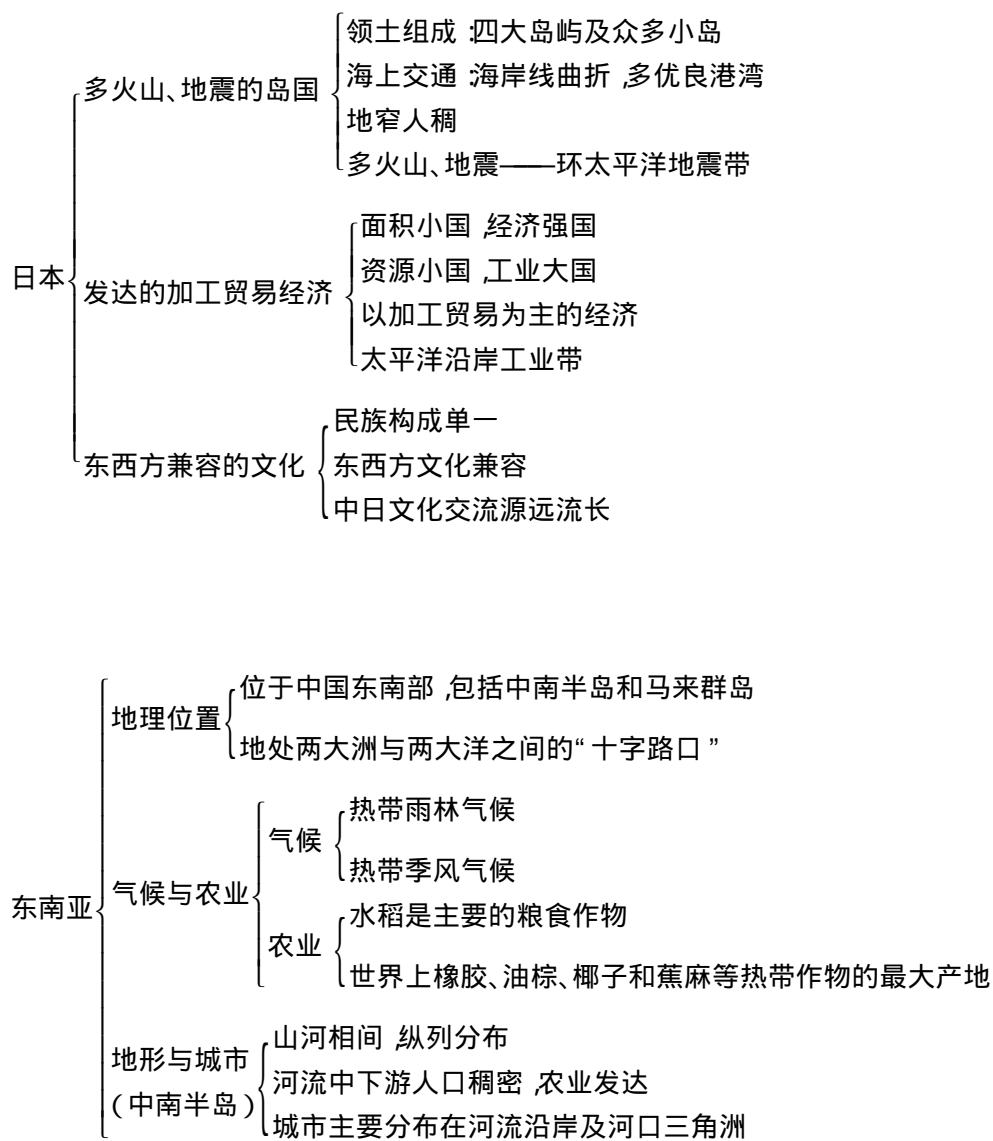
自我评价

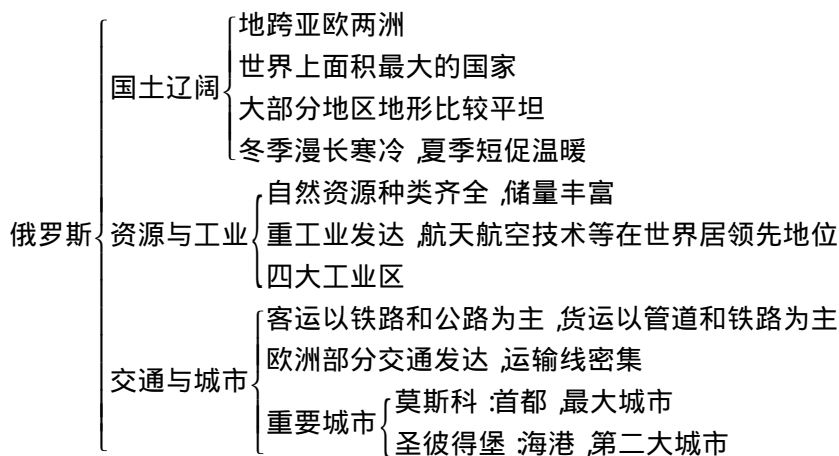
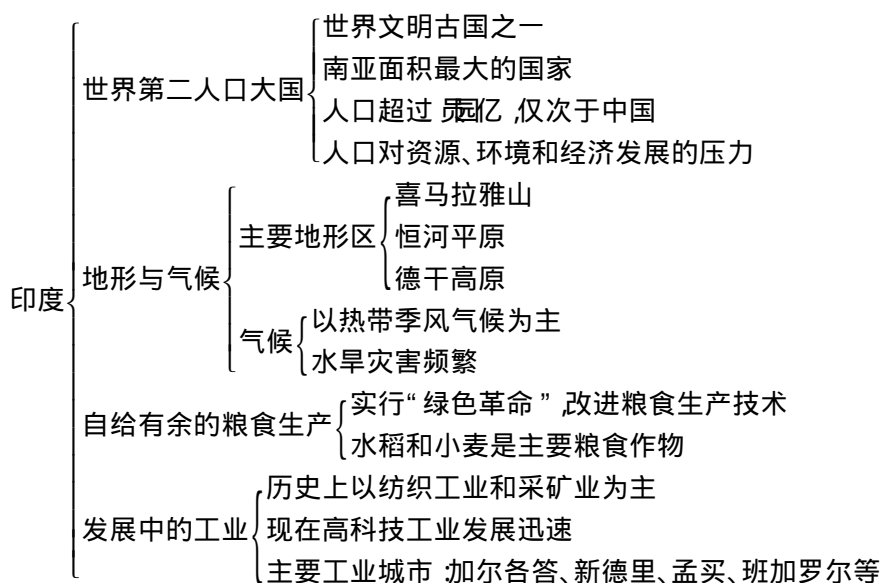
| 自己记录 | 完成时间 | 做对题数 | 题目难度 | | | 难题题号 |
|-------|------|------|------|---|---|------|
| | | | 难 | 中 | 易 | |
| 发现新问题 | | | | | | |



第七章 我们邻近的国家和地区

全屏显示





接页

第一节 日本



日本的富士山

富士山位于日本本州岛中南部,面积为 78335 平方千米,海拔 3776 米,是日本最高的山峰,也是一座活火山。它是由 20 多万年来多次火山喷发逐渐形成的。自公元 704 年有文字记载以来,它共喷发过 15 次,最近一次喷发是在 1992 年。富士

山的山体呈圆锥形,山上有温泉、瀑布,山顶上有一巨大的火山湖,直径 1000 米,深 100 米,山顶处可观日出、云海等大自然美景。

富士山的山顶除盛夏外,常有积雪,山麓有成片的樱花树木(樱花是日本的国花,日本国的别称就叫“樱花之国”),景色迷人,是日本著名的旅游胜地。在日本人的眼中,富士山是一座圣山,是日本民族的象征,日本人以登上富士山为荣。

地理资料库

自然地理特征

(1) 地狭人稠的岛国,领土由北海道、本州、四国、九州四个大岛和附近一些小岛组成。海岸线曲折,多优良港湾。



(圆)多山地、丘陵,平原狭小。关东平原是日本最大的平原。

(猿)多火山、地震。富士山是日本最高峰(海拔 猿苑远米),也是一座活火山。

(源)具有海洋性特征的季风气候,与亚洲大陆同纬度其他地区相比,日本冬季较为温暖,夏季较为凉爽,降水比较丰富。

(缘)森林、水能资源丰富,矿产资源贫乏。

圆经济特征与发展条件

日本的经济特征是:①经济发达的资本主义国家,工业现代化程度高;②经济结构以工业为主,农业不占重要地位;③对外依赖性强,需要从国外进口大量的原料和燃料,产品销售也依赖国际市场。

经济发展

有利条件:海岸线曲折,多良港;人口密集,劳动力素质高
不利条件:国内资源贫乏,市场狭小
发展途径:大力发展海上航运,进口原料和燃料,出口工业产品,开拓国际市场

原料来源

石油:中东
煤炭:中国、澳大利亚
铁矿石:巴西、印度、澳大利亚
棉花:中国、美国

猿主要工业区

日本工业主要分布在本州南部的太平洋沿岸和濑户内海沿岸,东京、横滨、名古屋、大阪、神户、北九州等大城市及其附近地区,是日本工业集中分布的地带。

日本主要有京滨工业区、名古屋工业区、阪神工业区、濑户内工业区和北九州工业区等。



问题探究

猿日本为什么多火山和地震?

日本是太平洋西部的一个岛国,按照板块构造说解释,日本处于亚欧板块与太平洋板块之间的接触地带,地壳极不稳定,所以多火山和地震。

圆日本经济对外依赖严重,会为其经济发展

带来哪些影响?请谈谈你的看法。

日本是一个面积小国,资源小国,但又是一个经济大国。日本结合本国的国情,形成了以加工贸易为主的经济。

所谓加工贸易,就是从国外大量进口原料,在国内对原料进行加工,制成工业品再大量出口。以加工贸易为主的经济,对日本经济发展有利有弊。有利的方面主要是:由于加入了国际经济技术的合作,有利于促进科技水平和劳动者素质的提高,有利于降低生产成本,有利于工业产品参与国际市场的竞争,使日本的经济飞速发展,在世界经济中占重要的地位。不利的方面主要是:由于日本的经济对外依赖严重,如果出现世界经济危机,必然影响其经济发展,甚至会带来致命的打击。例如 圆世纪 怨年代的东南亚金融危机,就引起日本经济的持续萧条。

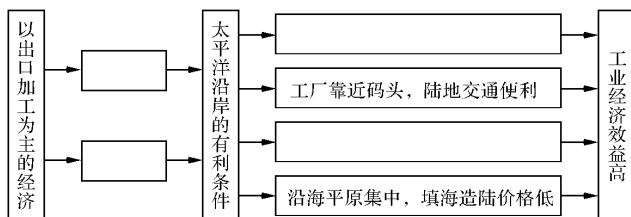
猿日本工业高度集中在沿海地区带来的问题有哪些?其解决问题的对策是什么?

日本工业高度集中在沿海地区带来的问题主要包括工业用地地价上涨,供水、供电紧张,环境污染加剧等。其解决问题的对策主要包括扩大海外投资,建立海外的生产和销售基地;大量进口国外的原料,减少国内资源的开采;把污染较多的工厂迁移到海外等。

问题验证

在地理课堂上,我们已经学习了综合分析问题的方法,请你结合所学知识,综合分析日本工业集中分布在太平洋沿岸和濑户内海沿岸的主要原因,并将下列内容的序号填入框图中(每个选项只能使用一次)。

粤大城市和人口集中,是国内最大的消费地
月原料、燃料主要依靠进口
悦港口条件优越,巨型船舶可以停靠
阅产品主要出口





发现新问题

日本是多地震的国家,我国也是多地震的国家,人们采取了许多办法来预防地震,或者减少地震对人类造成的危害。在防震减灾的经验和教训方面,中、日两国应互相交流和借鉴。你了解哪些防震减灾的知识,请和同学一起讨论。

日本文化东西方兼容的特点,对日本社会的发展有推动作用。目前,多种异域文化对我国的影响也越来越大,你认为这是好事还是坏事,请和同学交流你的看法。



基础巩固

一、请你完成

日本位于 板块和 板块交界处,地壳极不稳定,所以多火山、地震。

日本海岸线曲折,多优良港湾,对日本 业、 业的发展和 运输及 贸易十分有利。

 是日本国的象征。

日本地域狭小,资源贫乏,经济发展对外 性强,形成以 为主的经济。

二、请你选择

日本四大岛屿中,面积最大的是 ()

北海道 本州

四国 九州

关于日本资源的叙述,正确的是 ()

- | | |
|----------------------|--------|
| 矿产资源贫乏 | 人力资源贫乏 |
| 水力资源贫乏 | 森林资源贫乏 |
| 日本的古代建筑、文字等深受 () 影响 | |
| 欧洲的影响 | 印度的影响 |
| 非洲的影响 | 中国的影响 |
| 日本的主要民族及传统服装是 () | |
| 蒙古族,中山装 | 突厥族,沙丽 |
| 大和族,西服 | 大和族,和服 |

能力拓展

三、读图分析

读“日本图”(图 苑原),按要求填空:

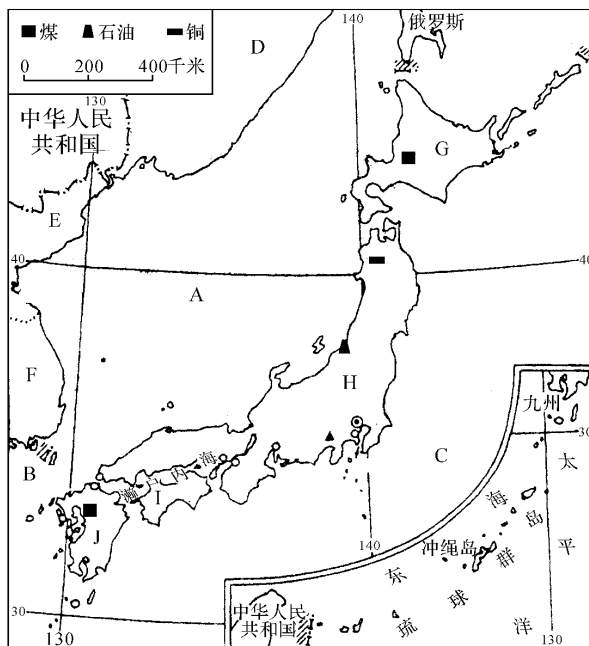


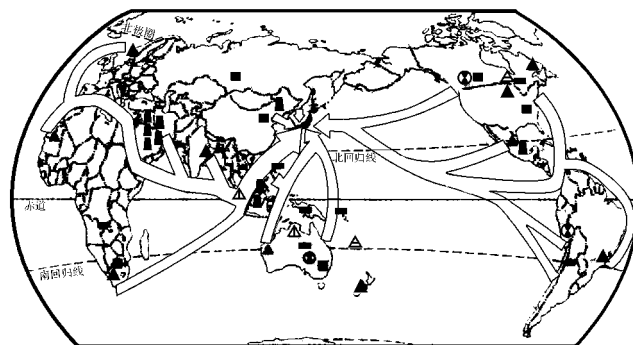
图 苑原

() 写出图中字母所代表的地理事物名称:
A: 海; B: 海峡; C: 洋。

() 写出图中字母所代表的国家名称:
D: ; E: ; F: 。
() 写出图中字母所代表的四大岛屿名称:
G: ; H: ; I: ; J: 。

() 日本最大的城市是 。

在“日本主要工业原料来源”(图 苑原)图中,各箭头都指向日本,而且全部表示海洋运输路线,请你判断:



■煤 ■石油 ▲铁 ■铜 ▲镍 ▲铝上 ⊙铅锌

图 苑原圆

摇摇(员)如果运输船舶装有煤炭,它可能来自亚洲东部的摇摇摇摇摇(国家)。

(圆)如果运输船舶装有石油,它可能主要来自摇摇摇摇摇地区。

(猿)如果运输船舶装有铁矿石,它可能来自亚洲南部的摇摇摇摇摇(国家),南半球的摇摇摇摇摇(国家)和摇摇摇摇摇(国家)。

探究

探究应用

四、思考回答

员日本工业主要分布在哪里?

圆日本是如何因地制宜、趋利避害发展工业的?

自我评价

| 自己记录 | 完成时间 | 做对题数 | 题目难度 | | | 难题题号 |
|-------|------|------|------|---|---|------|
| | | | 难 | 中 | 易 | |
| 发现新问题 | | | | | | |



第二节 东南亚



印度尼西亚的“五多”

岛多——印度尼西亚位于东南亚的热带海洋中,它由~~17000~~多个大小岛屿(其中有人居住的就有~~13000~~个)组成,素有“千岛之国”的称号,是世界上最大的群岛国家。

海多——由于岛多而且分散,国境东西绵延~~17000~~多千米,南北相距~~5000~~千米,海岸线长达~~17000~~千米,各岛之间分属太平洋和印度洋的~~2~~个海,是世界上最大的“海国”。

火山多——印度尼西亚地处亚欧板块、印度洋板块和太平洋板块的接触地带,地壳极不稳定,火山、地震活动频繁。全国已查明的火山达~~13000~~多座,仅活火山就有~~4000~~多座,占世界活火山的~~1/3~~,有“火山国”之誉。

雷雨多——印度尼西亚是典型的热带雨林气候区,多对流雨。爪哇岛是世界上雷雨最多的地区,平均每年有~~100~~个雷雨日,其西部名城茂物每年的雷雨日高达~~100~~个,既全年有雷雨的日子占~~1/3~~。茂物全年雷雨有~~1500~~多场,总雨量~~2000~~多毫米,被人们称为世界“雷都”。

植物多——高温多雨的热带气候,为热带作物生长提供了优越条件。印度尼西亚的植物共有~~10000~~多种,仅加里曼丹岛一地,植物种类就相当于整个非洲的~~1/3~~。森林面积有~~1000~~万平方千米。森林覆盖率为~~1/3~~,平均每人有林地近~~1~~公顷。

地理资料库

员地理位置及其重要性

东南亚地处亚洲与大洋洲、太平洋与印度洋之间的“十字路口”,从古到今都是东西方海上交通要道。尤其是位于马来半岛和苏门答腊岛之间的马六甲海峡,是东亚、东南亚联系南亚、西亚、非洲和欧洲各港口最短航线的必经之地,交通位置非常重要。

员气候、地形与城市的分布

东南亚位于低纬度地区,赤道附近的马来群岛

大部分和马来半岛的南部属于热带雨林气候,全年高温多雨,植物终年茂密。中南半岛和菲律宾群岛的北部属于热带季风气候,一年分为明显的旱季和雨季。关于东南亚季风的风向及特征见下表:

| 风摇向 | 盛吹时间 | 风从哪里吹来摇摇 | 降水多少 | 季节 |
|-----|-------------------------------------|-----------|------|----|
| 东北风 | 每年 5 月—次年 3 月 | 从中国大陆吹来摇摇 | 降水较少 | 旱季 |
| 西南风 | 每年 11 月— 3 月 | 从印度洋吹来摇摇 | 降水很多 | 雨季 |

摇摇东南亚中南半岛北部与我国山水相连,高山、大河由北向南延伸,具有山河相间、纵列分布的特点。各条大河下游地势平坦,交通便利,人口稠密,城市集中。

员主要农作物

湿热的气候条件,使东南亚成为世界重要的热带作物生产基地之一。其主要农作物及其该作物在世界上的最大产地见下表:

| 主要农作物 | 橡胶 | 油棕 | 椰子 | 蕉麻 | 稻米 |
|-------|----|------|-------|-----|----|
| 最大产地 | 泰国 | 马来西亚 | 印度尼西亚 | 菲律宾 | 泰国 |

摇摇东南亚是世界上华人和华侨分布最集中的地区

华侨是指长期旅居国外,但仍保留中国国籍的人;对于那些已定居国外,并加入所在国国籍的具有中国血统的人,我们称为外籍华人。东南亚是世界上华人和华侨分布最集中的地区,其中新加坡华人占到全国总人口比重的~~70~~,马来西亚的华人占~~1/3~~,文莱的华人占~~1/3~~,泰国的华人占~~1/3~~。

丰富的热带风光

缘东南亚的旅游资源 { 美丽的沙滩和岛屿
众多的名胜古迹
独特的风土人情



问题探究

员马来半岛和马来群岛的区别

东南亚包括中南半岛和马来群岛两大部分。



中南半岛因在中国以南而得名,它位于南海和印度洋之间,其南部狭长的部分一直延伸到赤道附近。这一部分,就是马来半岛。

马来群岛,我们也叫南洋群岛,位于中南半岛的东南部,横跨赤道两侧,由圆万多个大小岛屿组成,是世界上最大的群岛。

圆热带雨林气候和热带季风气候的差异:

| 气候类型 | 主要分布地区 | 气候特征 | 对农业生产的影响 |
|--------|------------------|---------------------|------------------|
| 热带雨林气候 | 马来群岛的大部分和马来半岛的南部 | 全年高温多雨,年降水量在圆千毫米以上 | 农作物随时可以播种,四季都有收获 |
| 热带季风气候 | 中南半岛和菲律宾群岛的北部 | 全年高温,一年中有明显的旱季和雨季之分 | 农作物多在雨季播种,旱季收获 |

摇摇为什么中南半岛上的大城市主要分布在河流沿岸及河口三角洲?

| 城市 | 附近的河流 | 所在国家 |
|----|-------|------|
| 河内 | 红河 | 越南 |
| 金边 | 湄公河 | 柬埔寨 |
| 万象 | 湄公河 | 老挝 |
| 曼谷 | 湄南河 | 泰国 |
| 仰光 | 伊洛瓦底江 | 缅甸 |

摇摇从上表中可以看出,中南半岛上的许多大城市都分布在河流沿岸。这是因为河流沿岸及河口三角洲为平原地形,地势平坦,土壤肥沃,灌溉便利,农业发达,人口稠密,加之交通方便,物产富饶,工商业集中,所以城市规模不断扩大。

问题验证

摇摇 东南亚各国的位置和轮廓特征受海陆分布影响很大,请对照东南亚地图找出下列国家。

- ① 临海国:越南、柬埔寨、泰国、马来西亚、缅甸。
- ② 岛国:菲律宾、新加坡、印度尼西亚、文莱。
- ③ 内陆国:老挝。

发现新问题

请你调查了解:

(员)你所在学校附近的城镇是否分布在河流沿岸?

(圆)陕西省的西安市、宝鸡市、咸阳市、渭南市、铜川市、延安市、榆林市、汉中市、安康市、商洛市中,哪些城市位于河流沿岸?并写出你所熟悉城市附近的河流名称。

(猿)城市分布在河流沿岸分别有哪些利弊?



基础巩固

一、请你完成

员东南亚位于亚洲东南部,是联系亚洲与摇摇摇摇洲,沟通太平洋与摇摇摇摇洋的“十字路口”,摇摇摇摇海峡是通过这个路口的咽喉。

圆中南半岛北部与我国山水相连,高山、大河由北向南延伸,具有摇摇摇摇、摇摇摇摇的特点。

猿中南半岛是摇摇摇摇气候,马来群岛大部分地区是摇摇摇摇气候。

二、请你选择

员世界上最大的群岛国家是 (摇摇)

圆日本摇摇摇摇月爱印度尼西亚