



国家教育部“十一五”专项任务项目“中小学全效学习方案研究与实验”研究成果

# 中考分类集训

## ZHONGKAO FENLEI JIXUN

3 年中考精华



1 年原创预测



分类限时集训

### 历史

习题有效管理

# 中考分类集训

ZHONGKAO FENLEI JIXUN

3 年中考精华 • 1 年原创预测 • 分类限时集训

主 审：鲁子问（华中师范大学教授）

石 挺（华中师范大学教授）

主 编：丁茂文

## 历史

习题有效管理

四川出版集团  天地出版社

图书在版编目 (CIP) 数据

中考分类集训. 历史/《中考分类集训》编写组编.

—成都: 天地出版社, 2008. 10

ISBN 978-7-80624-532-3

I. 中… II. 中… III. 历史课—初中—升学参考资料

IV. G634

中国版本图书馆 CIP 数据核字 (2008) 第 156802 号

## 全效学习系列丛书 中考分类集训 历史

作 者: 《中考分类集训》编写组

责任编辑: 吴晓春

出版发行□ 四川出版集团·天地出版社

(成都市三洞桥路 12 号 邮政编码: 610031)

网 址□ <http://www.tiandiph.com>

电子邮箱□ [tiandicbs@vip.163.com](mailto:tiandicbs@vip.163.com)

印 刷□ 河北省三河市鑫鑫科达彩色印刷包装有限公司

版 次□ 2008 年 10 月第一版

印 次□ 2008 年 10 月第一次印刷

开 本□ 880mm×1230mm 1/16

印 张□ 6.5

字 数□ 281 千

定 价□ 15.00 元

书 号□ ISBN 978-7-80624-532-3

---

■ 版权所有, 违者必究, 举报有奖!

举报电话: (028) 87735269 (营销部)

87734639 (总编室)

83226220 (客户服务部)

66126701 (选题策划部)

# 目 录

## ● 一轮考点复习

考点限时集训(一) 中华文明的起源、国家的产生和社会的变革 .....	1
考点限时集训(二) 统一国家的建立、政权分立与民族融合 .....	3
考点限时集训(三) 繁荣与开放的社会 .....	5
考点限时集训(四) 经济重心的南移与民族关系的发展 .....	7
考点限时集训(五) 统一的多民族国家的巩固与社会危机 .....	9
考点限时集训(六) 中国古代科学技术和思想文化 .....	11
考点限时集训(七) 列强的侵略与中国人民的抗争 .....	13
考点限时集训(八) 近代化的起步 .....	15
考点限时集训(九) 新民主主义革命的兴起 .....	17
考点限时集训(十) 抗日战争和人民解放战争的胜利 .....	19
考点限时集训(十一) 经济和社会生活、科学技术与思想文化 .....	21
考点限时集训(十二) 中华人民共和国成立和巩固、社会主义道路的探索 .....	23
考点限时集训(十三) 建设有中国特色的社会主义 .....	25
考点限时集训(十四) 民族团结与祖国统一、国防建设与外交成就、科技、教育与文化、社会生活 .....	27
考点限时集训(十五) 人类文明的开端、亚洲和欧洲的封建社会 .....	29
考点限时集训(十六) 古代文明的传播与发展 .....	31
考点限时集训(十七) 欧美主要国家的社会巨变 .....	33
考点限时集训(十八) 第一次工业革命 .....	35
考点限时集训(十九) 资产阶级统治的巩固与扩大 .....	37
考点限时集训(二十) 无产阶级的斗争、殖民扩张与殖民地人民的抗争 .....	39
考点限时集训(二十一) 第二次工业革命 .....	41
考点限时集训(二十二) 第一次世界大战 .....	43
考点限时集训(二十三) 璀璨的近代文化 .....	45
考点限时集训(二十四) 苏联社会主义道路的探索 .....	47
考点限时集训(二十五) 凡尔赛—华盛顿体系下的世界 .....	49
考点限时集训(二十六) 第二次世界大战 .....	51
考点限时集训(二十七) 战后主要资本主义国家的发展变化 .....	53
考点限时集训(二十八) 社会主义国家的变革与演变、亚非拉国家的独立与振兴 .....	55
考点限时集训(二十九) 战后世界格局的演变 .....	57
考点限时集训(三十) 现代科学技术与文化 .....	59

## ● 二轮专题复习

---

专题限时集训(一) 中国古代的政治制度 .....	61
专题限时集训(二) 中国古代的经济 .....	63
专题限时集训(三) 民族关系、民族政策和民族主义问题 .....	65
专题限时集训(四) 中西文明的碰撞与交流 .....	67
专题限时集训(五) 主流思想的演变与科技创新 .....	69
专题限时集训(六) 中国近代化进程 .....	71
专题限时集训(七) 中国的民主革命进程 .....	73
专题限时集训(八) 新中国的建设和发展 .....	75
专题限时集训(九) 民生问题 .....	77
专题限时集训(十) 西方大国的资产阶级革命与改革 .....	79
专题限时集训(十一) 西方资本主义大国经济政策的调整和经济的发展 .....	81
专题限时集训(十二) 国际关系、国际格局和国际机构 .....	83
专题限时集训(十三) 中外历史人物的评论 .....	85
专题限时集训(十四) 历史上重大改革回眸 .....	87
专题限时集训(十五) 区域化与全球化 .....	89

---

参考答案 .....	91
------------	----

## 考点限时集训(一)

### 中华文明的起源、国家的产生和社会的变革

[时间:45分钟 分值:100分]

#### 第I卷(选择题 共40分)

- 【2009·中考预测】某历史兴趣小组利用暑假准备实地考察我国境内已知的最早人类遗址,他应该去 ( )  
A. 陕西省 B. 河北省  
C. 云南省 D. 浙江省
- 【2009·中考预测】我国古代有许多美好的传说,其中三过家门而不入的历史人物是 ( )  
A. 尧 B. 舜  
C. 禹 D. 鲧
- 【2009·中考预测】下图是河姆渡原始居民的水井和草棚复原图,它说明河姆渡居民已经过着 ( )



河姆渡原始居民的水井  
和草顶井架复原图

1-1

- A. 游牧生活 B. 定居生活  
C. 不稳定的生活 D. 与外地交换食品的生活
- 【2009·中考预测】下列选项中不属于北京人特征的是 ( )  
A. 使用打制石器 B. 过着群居生活  
C. 人工取火 D. 保留了猿的特点
- 【2009·中考预测】有人说“‘封邦建国’加强了周王室与各诸侯国的经济、文化联系……”。这句话主要是评价 ( )  
A. 世袭制 B. 禅让制  
C. 郡县制 D. 分封制
- 【2008·绍兴】2008年5月17日,百载难逢的奥运圣火,走进了千年古城绍兴,并以大禹陵为起点,经历了名副其实的文化之旅。大禹 ( )  
A. 建立了中国第一个王朝夏朝  
B. 自称为“始皇帝”,建立皇帝制度  
C. 是华夏族的人文初祖  
D. 是治水英雄,最早实行禅让制
- 【2008·日照】小说《封神榜》中有关“炮烙之刑”“以酒为池”“悬肉为林”的描写,反映了统治者的极度暴虐腐朽。这与哪位统治者有关 ( )  
A. 夏王桀 B. 商王纣  
C. 周厉王 D. 周幽王
- 【2008·泰州】“封建亲戚,以藩屏周”反映了西周时期实行的政治制度是 ( )  
A. 禅让制 B. 分封制  
C. 郡县制 D. 行省制
- 【2008·汕头】在西周时期,既赋予诸侯相关权利,又要求诸侯履行相关义务的制度是 ( )

- A. 郡县制 B. 分封制  
C. 礼乐制 D. 中央集权制
- 【2009·中考预测】商鞅变法的内容中,能反映中央集权思想的措施是 ( )  
A. 土地私有 B. 奖励耕织  
C. 奖励战功 D. 推行县制
- 【2009·中考预测】秦国成为战国七雄中实力最强的封建国家,主要原因是 ( )  
A. 实行商鞅变法 B. 更多使用铁制农具  
C. 牛耕得到推广 D. 重视水利工程建设
- 【2008·临沂】“他对内整顿朝政,对外‘尊王攘夷’,终于九合诸侯,一匡天下,成就了春秋五霸之首的伟业。”这里的“他”是 ( )  
A. 周武王 B. 齐桓公  
C. 晋文公 D. 楚庄王
- 【2009·中考预测】公元前7世纪中期,齐桓公召集诸侯在葵丘会盟的主要目的是 ( )  
A. 提高齐国的政治地位  
B. 加强各国之间的交流  
C. 协调诸侯国间的争夺  
D. 维护小国的经济利益
- 【2009·中考预测】我们说春秋战国是大变革的时期,是因为 ( )  
A. 战争频繁 B. 诸侯争霸  
C. 新旧制度更替 D. 百家争鸣
- 【2008·广东】商周时期,手工业技术已达到相当高的水平,其中最具有代表性的是 ( )  
A. 纺织业 B. 制瓷业  
C. 青铜制造业 D. 造纸业
- 【2008·岳阳】我们现在的岳阳在战国时期应该属于下列哪个诸侯国的管辖范围之内 ( )  
A. 秦国 B. 燕国  
C. 楚国 D. 齐国
- 【2008·广东】商鞅变法的措施中对下列哪几种人有奖励 ( )  
①书读得好的人  
②农业生产搞得好的  
③仗打得好的人  
④生意做得好的人  
A. ①② B. ②③  
C. ①②③ D. ②③④
- 【2009·中考预测】公元前475年,中国进入封建社会。请你算一算,这一事件距今(2008年)有多少年 ( )  
A. 2479年 B. 2480年  
C. 2483年 D. 2482年

19. 【2009·中考预测】下列哪次战役结束后,东方六国再也无力抵御秦军的进攻 ( )
- A. 牧野之战 B. 城濮之战  
C. 马陵之战 D. 长平之战
20. 【2009·中考预测】“问鼎中原”的典故与下列哪一人物有关 ( )
- A. 越王勾践 B. 齐桓公  
C. 楚庄王 D. 晋文公

请将选择题的答案填入下表:

题号	1	2	3	4	5	6	7	8	9	10	11
答案											
题号	12	13	14	15	16	17	18	19	20	总分	
答案											

## 第Ⅱ卷(非选择题 共60分)

21. 【2006·韶关】阅读下列材料:(20分)

亲爱的同学,你知道马坝人是怎样被发现的吗?1958年5月,在我们韶关市曲江县城马坝镇狮子岩的洞穴里,当地农民在采挖洞中的堆积物肥料时,发现了一个中年男性的头骨化石和一批动物化石,考古学家如获至宝。经鉴定,那个头骨化石是13万年以前的原始人类,因为这个头骨化石是在马坝发现的,考古学家便将之命名为“马坝人”。马坝人把石块打制成粗糙的石器,把树枝砍削成木棒作为工具,艰难地掀开了珠江流域这段光辉历史的扉页。

——据《韶关历史》改编

请回答:

(1)从生产工具的发展水平来看,马坝人生活在什么时代?(10分)

(2)材料中显示马坝人的生活非常艰难,你能想象一下马坝人的生活情景吗?(10分)

22. 阅读以下材料:(20分)

“治世不一道,便国不法古。故汤武不循古而王,夏殷不易礼而亡。复古者不可非,而循礼者不足多”。

——《史记·商君列传》

请回答:

(1)这段史料表达了商鞅的什么思想?(5分)

(2)他的思想得到了当时哪个国家的采纳和实施?结果如何?(10分)

(3)请你说说商鞅的思想对今天的社会主义建设的启示。(5分)

23. 【2009·中考预测】阅读下列材料:(20分)

材料一 齐桓公和管仲曾是冤家对头。在齐桓公与他的哥哥争当齐国国君的过程中,管仲是站在齐桓公哥哥一边的,并用箭射杀过他。齐桓公即位以后,要报管仲一箭之仇。这时,大臣鲍叔牙郑重地对他说:“君若只想治好齐国,有臣等尽职尽责地效力也就差不多了。君若要称霸天下,没有管仲不行。”齐桓公听从了他的建议,很快重用了管仲。

材料二 子(孔子)曰:“管仲相(辅佐)齐桓公,霸诸侯,一匡天下(挽救周室),民到于今受其赐(百姓受惠直到今天)。微(没有)管仲,吾其被(通披)发左衽矣!(我们大概要披散头发,敞开衣襟,成为蛮夷统治下的百姓了)”

——《论语·宪问》

请回答:

(1)根据上述材料说说管仲是如何帮助齐桓公成就霸业的?(12分)

(2)孔子对管仲是如何评价的?(2分)

(3)根据上述材料,谈谈你对齐桓公、鲍叔牙用人的看法。(6分)

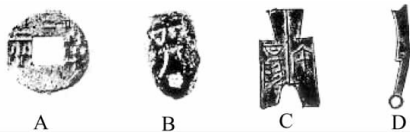
## 考点限时集训(二)

### 统一国家的建立、政权分立与民族融合

[时间:45分钟 分值:100分]

#### 第I卷(选择题 共40分)

- 【2008·绍兴】秦朝为加强中央集权而采取的措施是( )
  - 废除分封制,实行郡县制
  - 颁布“推恩令”,加强监察制度
  - 沿袭并完善了三省六部制
  - 沿用并完善了科举制
- 【2008·连云港】秦始皇巡游各地时,往往要刻石记功。当时刻石使用的文字应该属于( )
  - 甲骨文
  - 小篆
  - 楷书
  - 行书
- 【2008·资阳】我国是统一的多民族国家。右图所示历史人物建立的统一的中央集权国家的朝代名称和时间是( )
  - 秦朝 公元前770年
  - 秦朝 公元前221年
  - 西汉 公元前202年
  - 隋朝 公元589年
- 【2008·徐州】“秦王扫六合,虎视何雄哉!”的“秦王”在统一全国后,采取了一系列措施来巩固国家政权,下列史实与此不符的是( )
  - 废除丞相
  - 废除分封制,推行郡县制
  - 统一度量衡
  - 建立皇帝制度
- 【2009·中考预测】秦始皇在中央设置的官职中,主管监察的是( )
  - 丞相
  - 御史大夫
  - 太尉
  - 户部尚书
- 【2009·中考预测】西汉解决好王国问题的关键措施是( )
  - “推恩令”的颁布
  - 平定七国之乱
  - 统一铸五铢钱
  - 盐铁由中央专卖
- 【2009·中考预测】秦统一全国以后,规定通行全国的货币是( )



2-2

- 【2009·中考预测】汉武帝的“罢黜百家”是指( )
  - 道家和兵家
  - 法家和墨家
  - 除儒家以外的诸子百家
  - 诸子百家
- 【2008·泰州】下列不属于汉武帝推进大一统措施的是( )

- 罢黜百家,独尊儒术
  - 削弱封国势力
  - 强化监察制度
  - 统一度量衡
- 【2009·中考预测】秦末农民战争中,对推翻秦朝统治起决定作用的战役是( )
    - 长平之战
    - 巨鹿之战
    - 城濮之战
    - 马陵之战
  - 【2009·中考预测】汉武帝的大一统包括( )
    - 建立了明确的人才举荐制度
    - 创立了休养生息政策
    - “罢黜百家,独尊儒术”
    - 平定七国之乱
    - 实行盐铁专卖
    - ①③⑤
    - ①④⑤
    - ①②③
    - ②③⑤
  - 【2008·威海】下列战役按时间发生顺序排列正确的是( )
    - 涿鹿之战
    - 城濮之战
    - 赤壁之战
    - 长平之战
    - ①②③④
    - ②④①③
    - ①②④③
    - ②①④③
  - 【2009·中考预测】不少国家把中国称为 China,这反映了( )

- 中国瓷器在世界的地位
  - 秦汉文化对世界的影响
  - 隋唐文化对世界的影响
  - 中国四大发明在世界的地位
- 【2009·中考预测】为了接受汉族的先进文化,北魏孝文帝要求采用汉姓,学说汉话的少数民族是( )
    - 匈奴族
    - 鲜卑族
    - 契丹族
    - 女真族
  - 【2008·成都】观察右边的“讲经图”(汉代画像砖),这是哪一位皇帝时期兴办太学的实证( )
    - 汉高祖 刘邦
    - 汉武帝 刘彻
    - 汉光武帝 刘秀
    - 蜀汉皇帝 刘备



2-3

- 【2008·扬州】下列改革中,直接起到了促进民族融合作用的是( )
  - 管仲改革
  - 吴起变法
  - 商鞅变法
  - 北魏孝文帝改革
- 【2008·汕头】在中国历史上,国家大一统的观念有悠久的历史、深厚的基础,这种国家大一统局面的形成始于( )
  - 炎黄部落联盟的组成
  - 尧舜时期“天下为公”的传说
  - 儒家思想的影响
  - 秦、汉巩固统一国家的措施实施之后
- 【2009·中考预测】下列成语所反映历史事件的先后顺序是( )

①草木皆兵 ②四面楚歌 ③三顾茅庐 ④投笔从戎

A. ②④③① B. ①②③④

C. ①③②④ D. ④③②①

19. 【2009·中考预测】秦始皇和汉武帝为建立和巩固统一的封建国家而采取的共同做法有 ( )

①加强中央集权 ②加强对思想的控制 ③派兵北击匈奴 ④加强与海外各国的经济文化交流

A. ①②③ B. ②③④

C. ①③④ D. ①②④

20. 【2009·中考预测】促成南朝时期江南经济开始赶上北方的最重要的客观原因是 ( )

A. 南朝的社会环境相对稳定

B. 北方先进生产工具和生产技术传入南方

C. 北方劳动人民大量南迁

D. 南朝统治者注意调整统治政策

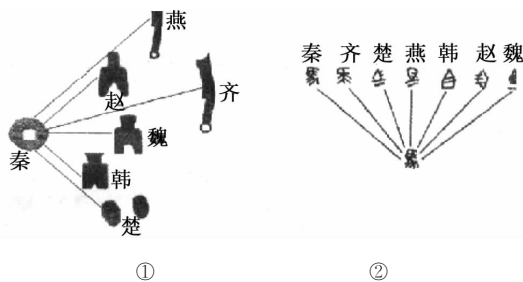
请将选择题的答案填入下表:

题号	1	2	3	4	5	6	7	8	9	10	11
答案											
题号	12	13	14	15	16	17	18	19	20	总分	
答案											

## 第Ⅱ卷(非选择题 共60分)

21. 【2008·威海】阅读下列材料:(18分)

材料一



2-4

材料二 “今师异道,人异论,百家殊(异)方,指意不同”,人君就无法维持统一。“诸不在六艺(六经)之科、孔子之术者,皆绝其道,勿使并进。”

——董仲舒

请回答:

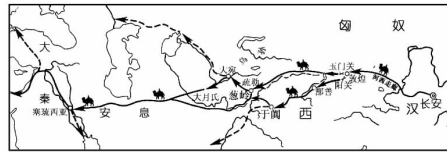
(1)材料一中的图①为秦统一货币图,秦始皇规定在全国统一使用的货币是\_\_\_\_\_ ;图②为秦统一文字图,秦始皇用\_\_\_\_\_ 规范文字。秦始皇为加强中央集权在地方上推行了什么制度?为加强思想控制,他采取了什么措施?(10分)

(2)根据材料二,为加强思想上的大一统,董仲舒向汉武帝提出了什么建议?为加强中央集权,汉武帝在政治上采取了什么措施?(8分)

22. 阅读下列材料和路线图:(22分)

材料一 公元前1世纪的某一天,古罗马的执政官凯撒大帝穿着灿若朝霞的丝织长袍进入剧场,在场的百官以及贵夫人们惊叹声此起彼伏,觉得凯撒大帝简直“帅呆”了。于是穿中国锦衣绣服,成为当时男女贵族的流行时尚。

材料二 下图是古代著名的中西陆上交通示意图



2-5

请回答:

(1)凯撒大帝的丝袍是通过材料二中的这条中西通道得到的,请说出这条通道的名称:\_\_\_\_\_ (4分),当时东起中国\_\_\_\_\_ (2分),西至\_\_\_\_\_ (2分)。

(2)图中这条通道在当时发挥了什么作用(6分)?

(3)这条通道对我们今天的现实生活还有价值吗(2分)?说出你的理由(6分)

23. 阅读下列材料:(20分)

材料一 匈奴人失去河西,损失重大,唱到:“失我祁连山,使我六畜不蕃息(生长繁殖)。失我焉支(胭脂)山,使我嫁妇无颜色(不能打扮得漂亮了)。”

材料二 史书记载,昭君和亲后,边关的城门很晚才关闭,处处都是放牧和贸易的牛马,好几代人不再听到报警的狗叫声,老百姓再也没有战争之苦。

请回答:

(1)上述材料反映了汉与匈奴的哪两种关系?(4分)

(2)材料中的两种历史现象是如何出现的?(6分)

(3)你如何评价材料中的两种历史现象?(10分)

## 考点限时集训(三)

### 繁荣与开放的社会

[时间:45分钟 分值:100分]

#### 第I卷(选择题 共40分)

- 【2008·福州】我国用考试方法选拔官员的科举制正式诞生于 ( )  
A. 秦朝 B. 汉朝  
C. 隋朝 D. 宋朝
- 【2008·福州】与“贞观之治”有关的皇帝是 ( )  
A. 秦始皇 B. 唐太宗  
C. 汉武帝 D. 康熙帝
- 【2007·连云港】唐太宗看到很多中举士子鱼贯而出时,高兴地说:天下人才都为我所用了。这一记载 ( )  
A. 反映了我国古代帝王的奢侈生活  
B. 说明了唐朝科举制实施情况  
C. 属于后人杜撰且不符合当时情况  
D. 说明了唐太宗善于虚心纳谏
- 【2008·威海】某导演想拍一部有关唐朝对外友好往来的电视专题片。他选取的下列素材中与唐朝无关的是 ( )  
A. 鉴真东渡 B. 玄奘西游  
C. 遣唐使来中国学习 D. 郑和下西洋
- 【2008·重庆】小明将参加学校组织的“话说唐太宗政绩”的知识擂台赛,他准备的下列史实中不正确的是 ( )  
A. 任用魏征等贤臣  
B. 重视人才的培养  
C. 轻徭薄赋,减轻农民负担  
D. 创立科举制度
- 【2007·泰州】从电视剧《贞观长歌》中可以看出:统治者重视发展生产、减轻农民负担,从而开创了“贞观之治”的局面。这位统治者是 ( )  
A. 秦始皇 B. 汉武帝  
C. 唐太宗 D. 唐玄宗
- 【2007·常德】下列遗址遗迹中最能体现国内民族团结友好的是 ( )  
A. 秦兵马俑遗址 B. 大昭寺会盟碑  
C. 唐招提寺鉴真坐像 D. 敦煌莫高窟
- 【2009·中考预测】唐朝时期,被誉为中印文化交流中最杰出的使者是 ( )  
A. 鉴真 B. 玄奘  
C. 阿倍仲麻吕 D. 崔致远
- 【2009·中考预测】“不要怕过宽大的草原,那里有一百匹好马欢迎您!不要怕过高大的雪山,那里有一百头驯良的牦牛来欢迎您!”这首民歌中的“您”所指的历史人物是 ( )  
A. 王昭君 B. 文天祥  
C. 文成公主 D. 渥巴锡
- 【2008·连云港】“尽道隋亡为此河,至今千里赖通波”中“河”的中心就是现在的 ( )  
A. 北京 B. 杭州  
C. 洛阳 D. 南京
- 【2009·中考预测】“忆昔开元全盛日,小邑犹藏万家室”中的“开元”是下列哪位皇帝的年号 ( )  
A. 唐太宗 B. 唐玄宗  
C. 唐高宗 D. 武则天
- 【2009·中考预测】开皇之治、贞观之治、开元之治出现的共同因素是 ( )  
①得人而用,政治清明 ②重视农业,发展生产  
③勤于朝政,励精图治 ④裁汰僧尼,禁建新寺  
A. ①②④ B. ①③④  
C. ②③④ D. ①②③
- 【2009·中考预测】“传法为重,舍身为轻;六渡出海,终抵东瀛。”此对联高度赞扬了鉴真不畏艰难、执着追求的精神。文中提到的“东瀛”是指 ( )  
A. 天竺 B. 朝鲜  
C. 日本 D. 越南
- 【2009·中考预测】唐代,我国境内生活着许多少数民族,他们为当地的开发与发展做出了重要贡献,下面有关民族关系的史实属于唐朝的有 ( )  
①修筑长城抵御匈奴 ②灭东突厥,设都督府  
③“金瓶掣签” ④文成公主入藏  
⑤平定大小和卓叛乱  
A. ①② B. ①②③  
C. ②④ D. ④⑤
- 【2008·成都】唐朝采取的治理国家的机构是 ( )  
A. 郡县制 B. 三省六部制  
C. 丞相制 D. 军机处
- 【2008·重庆】“你挑着担,我牵着马……”唐僧到西天取经的故事妇孺皆知。历史上,唐僧西行取经的目的地是 ( )  
A. 天竺 B. 新罗  
C. 日本 D. 波斯
- 【2008·成都】唐朝户数从贞观末年的300万户到开元末年增加到841万户,这是 ( )  
A. 贞观之治的成效 B. 农业发展的结果  
C. 开元盛世的成效 D. 任用贤能的结果
- 【2007·黄冈】在封建的男权社会中,武则天作为我国历史上唯一的女皇帝,引发了时人和后人更多的关注和争议。下列这些评论中,最准确的是 ( )  
A. 严刑酷法,实行残暴统治  
B. 颇有作为,推动了社会经济文化继续发展  
C. 奢侈腐化,心狠手毒  
D. 选贤任能,政治清明,创“开元盛世”
- 【2009·中考预测】藏族、维吾尔族和白、彝族的祖先分别是 ( )  
①回纥 ②吐蕃 ③突厥 ④南诏 ⑤靺鞨  
A. ①②⑤ B. ②③④  
C. ①②④ D. ②①④

20. 【2008·资阳】学习隋唐史后,四位同学要作主题演讲,你认为能准确地概括这段历史基本特征的是 ( )
- A. 文明初露曙光                      B. 由分裂走向统一  
C. 繁荣与开放                          D. 封建国家陷入危机

请将选择题的答案填入下表:

题号	1	2	3	4	5	6	7	8	9	10	11
答案											
题号	12	13	14	15	16	17	18	19	20	总分	
答案											

## 第Ⅱ卷(非选择题 共60分)

21. 【2007·黄冈】2007年是高考制度恢复30周年,通过公开公平地考试选拔人才的制度,中国自古有之。科举制度自创立以来,经过不断发展和完善,对中国乃至世界都产生了深远影响。(20分)

(1)中国古代科举制度的基本特征是什么?(4分)

(2)唐朝科举考试和明清的八股取士在考试的内容方面有何不同?(12分)说明了什么问题?(4分)

22. 【2007·陕西】中国需要世界,世界也需要中国。我国古代时期,中外文化交流的广泛开展,不仅使中华文明更加辉煌,而且促进了世界文明的发展。(22分)

请回答:

(1)列举唐代中外文化交流的主要史实。(至少举出两点)(10分)

(2)简述郑和下西洋的历史意义。(8分)

- (3)唐代中外文化交流的史实(或郑和下西洋的历史意义),对今天构建和谐世界有何借鉴?(4分)

23. 【2007·河南】根据材料回答问题。(18分)

材料一 2006年12月26至27日,中日共同历史研究委员会第一次会议在北京召开,两国学者对中日2000多年来的交往历史,对近代以来发生的不幸历史以及战后半个多世纪中日关系发展的历史进行了共同研究。

材料二 2007年是中日邦交正常化35周年,也是卢沟桥事变70周年。2007年4月11至13日,中国国务院总理温家宝对日本进行了正式访问,这是7年来中国政府首脑首次访日,温家宝总理称之为“融冰之旅”。访问期间,中日双方就努力构筑“基于共同战略利益的互惠关系”达成一致,并发表了联合新闻公报。中日政治和经济合作关系将进入一个新阶段。

(1)请你列举中日古代人员之间友好交往的一个事例,古代日本曾经仿效中国隋唐制度进行了什么改革?这次改革有何意义?(6分)

(2)说出近代以来日本发动和参与的三次大规模的侵华战争,并对其在中国犯下的罪行试举一例。(8分)

(3)你认为近年来中日之间政治关系结“冰”的主要原因是什麼?如何才能促进中日之间的世代友好?(4分)

## 考点限时集训(四)

### 经济重心的南移与民族关系的发展

[时间:45分钟 分值:100分]

#### 第I卷(选择题 共40分)

1. 【2009·中考预测】下列各政权,曾经与南宋并立的是

①北宋 ②辽 ③金 ④西夏 ⑤元朝

- A. ①③④ B. ②③④  
C. ③④⑤ D. ②③⑤

2. 【2008·济宁】关于“瓦舍”(也称“瓦子”)的说法,不正确的是

- A. 给城市生活增添了生机  
B. 出现在宋朝时期  
C. 是娱乐兼营商业的场所  
D. 散布于广大农村

3. 【2009·中考预测】2008年,北京成功举办了第29届奥运会。按时间先后顺序排列我国古代对北京的称呼

①大都 ②蓟 ③京师 ④涿郡

- A. ②④③① B. ②④①③  
C. ④②①③ D. ③②④①

4. 【2009·中考预测】我国地方省级行政区划出现于

- A. 宋朝 B. 元朝  
C. 战国 D. 秦朝

5. 【2008·山西】下列全国性统一的政权中,由少数民族建立起来的是

- A. 秦 B. 唐  
C. 元 D. 明

6. 【2007·临沂】一位法国学者说,(宋代中国)“现代化”的程度令人吃惊……在经济和人民日常生活方面,中国是当时世界上首屈一指的国家。下列名词能够反映宋代社会经济与人民生活“现代化”水平的有

①会子 ②蕃坊 ③瓦舍 ④岁币 ⑤互市

- A. ①②④⑤ B. ②③④⑤  
C. ①②③④ D. ①②③⑤

7. 【2009·中考预测】下列关于“澶渊之盟”的叙述,错误的一项是

- A. 它是北宋战败后与辽达成的盟约  
B. 盟约中有辽撤兵的内容  
C. 北宋答应给辽“岁币”  
D. 盟约签订后,宋辽之间维持了较久的和平关系

8. 【2008·恩施】2008年3月14日,西藏自治区拉萨市区发生了打砸抢烧严重暴力犯罪事件,这是由达赖集团有组织、有预谋、精心策划煽动境内外“藏独”分裂势力,相互勾结制造的。历史上西藏置于中央政府管辖之下是在

- A. 汉朝 B. 唐朝  
C. 宋朝 D. 元朝

9. 【2009·中考预测】元诗“胡人有妇解汉音,汉女亦解调胡琴”反映了元朝的统一促进了民族融合。那时开始形成的一个新民族是

- A. 契丹族 B. 女真族  
C. 畏兀儿族 D. 回族

10. 【2009·中考预测】南宋时期,有一位阿拉伯商人运载一批货物到泉州销售,他抵达泉州后应到哪一个机构办理手续

- A. 蕃市 B. 市舶司  
C. 蕃学 D. 蕃坊

11. 【2009·中考预测】下列哪些政权曾定都于北京

- ①北宋 ②南宋 ③金 ④元 ⑤清 ⑥唐  
A. ①③⑤ B. ②④⑥  
C. ③④⑤ D. ③⑤⑥

12. 【2008·岳阳】下列属于成吉思汗历史功绩的是

- A. 建立蒙古政权 B. 建立南宋政权  
C. 建立西夏 D. 建立元朝政权

13. 【2008·宜昌】民族政权并立是两宋时期的重要特征。与南宋对峙的女真族政权是

- A. 辽 B. 西夏  
C. 金 D. 元

14. 【2007·常德】下列对宋代历史特点的描述,正确的是

- A. 经济发达但文化上并不繁荣  
B. 科技发达但政治上并不强大  
C. 军事强大但科技上并不先进  
D. 政治强大但经济上并不发达

15. 【2008·中考预测】台湾是中国领土不可分割的一部分,最早将台湾纳入其行政管辖范围的是

- A. 三国 B. 隋朝  
C. 元朝 D. 清朝

16. 【2006·盐城】下列政权属于契丹族建立的是

- A. 北魏 B. 辽  
C. 西夏 D. 清朝

17. 【2007·福州】下列关于宋代经济中心南移的表现,叙述正确的是

- A. 北宋的海外贸易发达  
B. 南宋时期出现了世界上最早的纸币——交子  
C. “苏湖熟,天下足”  
D. 景德镇的纺织品精美绝伦

18. 【2008·威海】假如你生活在宋代,不可能看到的情景是

- A. 岳飞在郾城大败金军  
B. 供住宿的邸店很多  
C. 东京城内的市民在“瓦子”里娱乐  
D. 许多读书人在书房里钻研八股文

19. 【2008·恩施】2008年5月12日,四川汶川发生8级地震,造成了巨大经济损失和人员伤亡,成为世界瞩目的焦点。早在北宋前期,四川地区商业十分繁荣,出现了世界上最早的纸币,这种纸币是

- A. 会子                      B. 关子  
C. 交子                      D. 清朝

20. 【2009·中考预测】在下列反映宋朝的电视剧中出现了以下的场景,你认为不符合史实的是 ( )

- A. 东京夜市上小吃很多  
B. 临安城里有许多鱼店  
C. “瓦子”里上演京剧  
D. 百姓过中秋节

请将选择题的答案填入下表:

题号	1	2	3	4	5	6	7	8	9	10	11
答案											
题号	12	13	14	15	16	17	18	19	20	总分	
答案											

## 第 II 卷(非选择题 共 60 分)

21. 【2007·临沂】阅读下列材料:(20 分)

今棉之为用,可以御寒,可以生暖,盖老少贵贱无不赖之。其衣被天下后世,为功殆过于蚕桑矣,而皆开自黄婆一人,是不当尸而祝之,社而稷之,与先蚕同列祀典乎?

——王应安《柳南续笔》

原文大意:现在棉布广泛应用,用来御寒保暖,无论老少贵贱都离不开它。棉布成为后世的主要衣被原料,其作用甚至超过了丝绸,这都是黄道婆一人的功劳。难道不应该像拜祭神灵一样崇敬她,让她享有与蚕神螺祖同等的祭祀吗?

结合材料及所学知识回答:

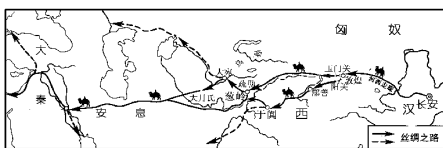
(1)在棉布盛行之前,我国人民的主要衣被原料是什么?(4 分)

(2)材料中所说“黄道婆一人的功劳”是指什么?你怎样看待这一说法?(10 分)

(3)黄道婆的成就对她的故乡产生了什么影响?(6 分)

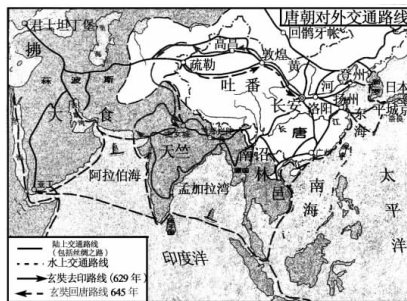
22 【2009·中考预测】阅读下列材料:(20 分)

材料一 汉代丝绸之路示意图



4-1

材料二 唐朝对外交通路线图



4-2

材料三 宋高宗说:“市舶之利最厚,若措置得宜,所得动以百万计。”

请回答:

(1)三则材料反映出在对外贸易中,汉、唐、宋三朝商路各有什么特点?(8 分)

(2)从经济重心、科技发展和主要外贸商品三个方面说明商路变化的原因。(12 分)

23. 【2009·中考预测】以农为本的经济思想,长期以来对我国的社会经济发展产生着深远的影响。战国时期的秦国、唐初、元朝都很注意发展农业生产,提高粮食产量,减轻农民负担。

请回答:(20 分)

(1)商鞅变法的法令中,对生产粮食和布帛多的人规定可免去什么负担?(5 分)

(2)唐朝初年,允许农民交纳一定的实物来替代劳役的是哪位皇帝?(5 分)

(3)忽必烈是如何重视农业生产的?(10 分)

## 考点限时集训(五)

### 统一的多民族国家的巩固与社会危机

[时间:45分钟 分值:100分]

#### 第 I 卷(选择题 共 40 分)

1. 【2008·泰州】人们常用“一人之下,万人之上”来形容宰相的地位。我国古代宰相制度废除于 ( )
- A. 秦朝                      B. 汉朝  
C. 唐朝                      D. 明朝
2. 【2008·福州】下表反映了我国中央政府对边疆地区进行有效管辖的相关史实,这个地区是 ( )

朝代	相关史实
元朝	设宣政院
清朝	册封达赖、班禅
	设置驻藏大臣

- A. 台湾  
B. 海南  
C. 新疆  
D. 西藏
3. 【2007·湘潭】有位学者指出:“中国政治传统中,君权和相权的关系,是一部不断摩擦、不断调整的历史。”我国设立和废除丞相的朝代分别是 ( )
- A. 秦朝和唐朝              B. 西汉和唐朝  
C. 秦朝和明朝              D. 西汉和明朝
4. 【2007·扬州】台湾自古以来就是中国领土不可分割的一部分。下列有关台湾叙述正确的是 ( )
- ①三国时,台湾称夷洲    ②元朝时加强了对台湾的管辖  
③明朝后期荷兰殖民者侵占台湾    ④1662年郑成功收复台湾  
⑤1684年清朝设台湾府隶属广东省。
- A. ①②③④                  B. ①②③⑤  
C. ②③④⑤                  D. ①②④⑤
5. 【2007·威海】明成祖加强君权的措施是 ( )
- ①废除丞相    ②迁都北京    ③执行削藩政策    ④设立东厂
- A. ①③                      B. ②④  
C. ③④                      D. ②③④
6. 下列为反对外来侵略,保卫边疆而作出的努力,不属于清朝前期的是 ( )
- A. 郑成功收复台湾和清朝设置台湾府  
B. 戚继光抗击倭寇  
C. 取得两次雅克萨之战的胜利  
D. 签订《尼布楚条约》
7. 【2007·潍坊】清朝时,有人因为写了“清风不识字,何故乱翻书”的诗句而惨遭杀害;有一考官因出了一道“维民所止”的题目(清朝统治者认为他暗指“雍正无头”)而丢官丧命。这反映了清朝统治者 ( )
- A. 大兴文字狱              B. 焚书坑儒  
C. 提倡言论自由              D. 独尊儒术
8. 【2008·陕西】郑和是我国古代伟大的航海家,他的足迹最远到达 ( )

- A. 菲律宾群岛              B. 波斯湾沿岸  
C. 印度半岛                  D. 非洲东海岸和红海沿岸
9. 【2009·中考预测】关于科举制的表述,不正确的是 ( )
- A. 正式形成于隋炀帝时  
B. 唐朝时分为明经科和进士科  
C. 明经科是做高官的主要途径  
D. 明朝时考试内容限于四书五经
10. 【2007·盐城】“封侯非我意,但愿海波平”是戚继光名言。据此我们应主要学习他的 ( )
- A. 忠君思想                  B. 拒官态度  
C. 军事才能                  D. 爱国精神
11. 【2007·威海】1662年,从荷兰殖民者手中收复台湾的是 ( )
- A. 戚继光                      B. 郑成功  
C. 康熙                          D. 林则徐
12. 【2008·徐州】“秦王扫六合,虎视何雄哉!”中的“秦王”在统一全国后,采取了一系列措施来巩固国家政权,下列史实与此不符的是 ( )
- A. 废除丞相  
B. 废除分封制,推行郡县制  
C. 统一度量衡  
D. 建立皇帝制度
13. 【2008·盐城】下列关于我国结束分裂割据,实现大统一的封建王朝的排序,正确的一组为 ( )
- A. 隋—西晋—秦—元    B. 西晋—隋—元—秦  
C. 秦—隋—西晋—元    D. 秦—西晋—隋—元
14. 【2006·孝感】清朝前期,清政府设置驻藏大臣和伊犁将军,其主要意义是 ( )
- A. 第一次把西藏和新疆地区纳入了中央政权版图  
B. 加强了中央政府对西藏和新疆地区的有效管理  
C. 打击了外来侵略势力,巩固了祖国的边防  
D. 加强了君主专制统治,促进了边疆地区的开发
15. 【2008·广东】郑成功跨海收复台湾,向入侵者严正指出“台湾者,中国之土地也,久为贵国所踞,余既来索,则地当还我……”这里的“贵国”实际上指的是 ( )
- A. 葡萄牙殖民者              B. 英国殖民者  
C. 荷兰殖民者                  D. 日本殖民者
16. 【2006·濉溪】胡锦涛主席和普京总统共同宣布:中俄边界走向已全部确定。双方表示:两国间4300多公里共同边界,从此将成为两国人民和平、友好、合作、发展的纽带。请你回忆一下,历史上中俄双方签订的第一个边界条约是 ( )
- A. 《南京条约》  
B. 《尼布楚条约》  
C. 《中俄勘分西北界约记》  
D. 《中俄北京条约》

17. 【2008·黄冈】如果把“锦衣卫、东厂和西厂”“军机处”“文字狱”确定为一个学习单元,则这个单元的主题应该是 ( )
- A. 特务统治的强化 B. 思想控制的加强  
C. 文化专制的强化 D. 专制集权的加强
18. 【2008·盐城】康熙帝册封五世班禅与乾隆帝平定大小和卓叛乱的共同作用是 ( )
- A. 巩固了统一的多民族国家  
B. 驱逐了殖民势力  
C. 增进了中外友好交往  
D. 巩固了清朝海防
19. 【2008·汕头】西藏自古以来是中国不可分割的一部分,下列哪些史实可以支持这一观点 ( )
- ①清顺治时期确立册封“达赖”的制度 ②清康熙时期确立册封“班禅”的制度 ③清雍正时期在西藏设置“驻藏大臣” ④“驻藏大臣”监督“金瓶掣签”过程
- A. ①②④ B. ①②③  
C. ①②③④ D. ②③④
20. 【2007·宜宾】清朝初期,康熙帝两次组织雅克萨之战,战胜了侵入我国黑龙江流域的 ( )
- A. 沙俄侵略者 B. 荷兰侵略者  
C. 法国侵略者 D. 英国侵略者

请将选择题的答案填入下表:

题号	1	2	3	4	5	6	7	8	9	10	11
答案											
题号	12	13	14	15	16	17	18	19	20	总分	
答案											

## 第Ⅱ卷(非选择题 共60分)

21. 简述清初巩固和发展统一多民族国家的重大事件。(10分)

22. 请你用史实来说明台湾自古就是中国的领土。(10分)

23. 【2009·中考预测】阅读下列材料:(20分)

材料一 规定国家的最高统治者称皇帝,皇帝总揽一切大权。在中央,皇帝以下设丞相、太尉、御史大夫。在地方,把全国划分为36郡。

材料二 颁布“推恩令”,取消地方的盐铁经营和铸币权。

材料三 通过“杯酒释兵权”的办法解除石守信等大将的兵权。不久,又陆续解除地方节度使的权力。

材料四 在地方废除行省,设三司;在中央废丞相,由六部分理朝政,直接对皇帝负责。

材料五 为了军事上的需要,在宫中建立了军机处,协助皇帝处理军务。

请回答:

- (1)以上五则材料分别是哪五位皇帝实行的措施?(10分)

- (2)结合这些措施,谈谈你对加强专制集权的认识。(10分)

24. 中国是一个统一的多民族国家,古代各少数民族政权与中央政府的关系在不同的时期呈现出不同的特点。据此回答以下问题:(20分)

- (1)辽、西夏、金、元是少数民族政权,其中既与北宋并立又与南宋并立过的政权是哪一个?两宋时期民族关系的特点是什么?(4分)

- (2)清朝前期,哪一事件为统一多民族国家的巩固和发展谱写了新的光辉篇章?这一事件说明了什么?此外,清朝为巩固统一的多民族国家还采取了哪些措施?(14分)

- (3)纵观中国古代历史,民族关系发展的主流是什么?(2分)

## 考点限时集训(六)

### 中国古代科学技术和思想文化

[时间:45分钟 分值:100分]

#### 第I卷(选择题 共40分)

- 【2008·广东】商周时期,手工业技术已达到相当高的水平,其中最具有代表性的是 ( )  
A. 纺织业 B. 制瓷业  
C. 青铜制造业 D. 造纸业
- 【2007·常德】西汉东方朔撰文书汉武帝,所用竹简需要两人抬进宫。改变这种携书不方便现象得益于发明了 ( )  
A. 雕版印刷术 B. 活字印刷术  
C. 造纸技术 D. 制墨技术
- 【2006·连云港】某同学在活动课上说出的下列观点,其中属于儒家学派的是 ( )  
A. 仁者爱人,为政以德 B. 兼爱,非攻  
C. 知己知彼,百战不殆 D. 后代总要胜过前代
- 【2008·黄冈】下列历史人物为中国古代四大发明或为东西方文化交流作出重大贡献的有 ( )




①孔子 ②毕昇 ③马可·波罗 ④郑和

6-1

- ①②③④
  - ①③④
  - ②③④
  - ①②④
- 【2007·南阳】四大发明是中国人带给世界的最大的贡献。其中对世界文化的传播有重要影响的是 ( )  
A. 造纸术、指南针 B. 火药、指南针  
C. 造纸术、印刷术 D. 印刷术、火药
- 【2007·淄博】小明从历史网站的《历史辨析》栏目中看到了下面四句话,请你帮他找出与历史事实相符的是 ( )  
A. 秦朝,文学家用小篆在纸上写文章  
B. 西汉,活字排版印刷的《伤寒杂病论》面世  
C. 宋朝,司马光主持编写的《资治通鉴》是一部编年体通史巨著  
D. 明朝,曹雪芹创作的《红楼梦》,具有高度的思想性和艺术性
- 【2007·泸州】北宋中期的一部科技著作提到平民毕昇发明了 ( )  
A. 都江堰 B. 指南针  
C. 赵州桥 D. 活字印刷术
- 【2009·中考预测】每年的农历正月十八,在南阳市,总有大量群众在医圣祠自动参加祭拜活动,表达对一位医德高尚、学术造诣深厚且对我国医学发展作出杰出贡献的医学家的深爱 and 怀念。这位医学家是 ( )  
A. 黄帝 B. 张仲景  
C. 华佗 D. 李时珍

- 【2008·陕西】都江堰是我国古代著名的水利工程,下列关于都江堰的说法正确的是 ( )  
①修建于隋唐时期 ②由李冰主持建造 ③使成都平原成为“天府之国” ④至今仍发挥着重要的作用  
A. ①②③ B. ①③④  
C. ①③④ D. ②③④

- 【2008·泉州】下面各项中,最能反映我国古代青铜工艺水平和成就的是 ( )  
A. 甲骨文 B. 司母戊鼎  
C. 兵马俑 D. 敦煌莫高窟



6-2

- 【2008·重庆】右图人物是我国古代杰出的发明家,他的重大发明是 ( )  
A. 指南针  
B. 雕版印刷术  
C. 活字印刷术  
D. 火药
- 【2008·黄冈】2008年5月12日,四川汶川发生里氏8.0级大地震,有2000年历史的都江堰水利工程经受了这次地震的考验。2000多年前,组织发动民众修建此项水利工程的是 ( )  
A. 水工郑国 B. 蜀守李冰  
C. 大将军蒙恬 D. 临御史禄
- 【2008·重庆】2008年8月,奥运会将在北京召开。假如你作为一名小导游向外国游客介绍北京古代的建筑奇观,在下列各项中你可以选择的是 ( )  
A. 赵州桥 B. 大雁塔  
C. 大明宫 D. 故宫(紫禁城)
- 【2008·盐城】小明准备撰写关于明代手工工场生产的历史小论文。他需要查阅的著作是 ( )



A B C D

6-3

- 【2008·连云港】现存东起鸭绿江、西到嘉峪关的长城建成于 ( )  
A. 战国时期 B. 秦朝时期  
C. 宋朝时期 D. 明朝时期
- 【2008·太原】被鲁迅称之为“史家之绝唱,无韵之离骚”的我国第一部纪传体通史是 ( )  
A. 《史记》 B. 《汉书》  
C. 《资治通鉴》 D. 《三国演义》
- 反映民间风情的风俗画是宋代以后绘画艺术的突出特点,产生这一特点的根本原因是 ( )  
A. 城市工商业的发展和市民阶层的出现  
B. 民间文化的发展

- C. 画家的性格  
D. 统治者的提倡

18. 【2009·中考预测】中医学是我国传统文化的一支奇葩，今天它已走向世界，越来越多的外国同行来中国学习中医。下列关联中，属于明朝的医药学家及其药物学著作的是 ( )
- A. 华佗—《本草纲目》  
B. 张仲景—《伤寒杂病论》  
C. 李时珍—《伤寒杂病论》  
D. 李时珍—《本草纲目》
19. 【2009·中考预测】弗兰西斯·培根曾说：“这三种东西曾改变了整个世界的面貌和状态，第一种是在文字方面，第二种是在战争上，第三种是在航海上。……以致没有一个帝国，没有一个派别，没有一个赫赫有名的人物能比这三种机械发明在人类的事业中产生更大的力量和影响。”这里的“三种机械发明”是指 ( )
- ①造纸术 ②印刷术 ③火药 ④指南针
- A. ①②③ B. ②③④  
C. ①②④ D. ①③④
20. 【2007·资阳】2008年北京将举办奥运会，如果你是奥运志愿者，向外国游客或运动员介绍北京的历史文化。下列介绍正确的是 ( )
- ①北京是中国古都，元明清三朝在此建都 ②北京城布局严整，是古代城市建筑的杰作，是中华民族智慧的结晶  
③紫禁城位于北京城中心，是明清时代皇帝居住的地方，今称故宫 ④北京城附近还有嘉峪关长城风光
- A. ①③④ B. ②③④  
C. ①②③ D. ①②③④

请将选择题的答案填入下表：

题号	1	2	3	4	5	6	7	8	9	10	11
答案											
题号	12	13	14	15	16	17	18	19	20	总分	
答案											

## 第Ⅱ卷(非选择题 共60分)

21. 【2007·沈阳】读图说史(20分)
- 中国古代素以手工业发达著称，处于世界领先地位，留下了许多传世的珍品：



A B C D

6-4

- A. 铸有周康王册命贵族盂，并赐给他臣民与奴隶铭文的铜鼎  
B. 唐代金卧龟莲花纹五足银香炉  
C. 元代青花凤纹瓷壶  
D. 清代农耕图瓷瓶
- 从上面四幅图中，你能获取哪些方面的历史信息？(写出四点即可)

22. 【2008·临沂】阅读下列材料，回答问题。(20分)

材料一 2008年北京奥运会会徽：“中国印，舞动的北京”。(右图)



6-5

材料二 在战国时代，我国已普遍使用印章(用木、石等材料雕刻而成的图章)。……如果把“中国印，舞动的北京”看作一个汉字“京”，她便是奥运会会徽史上第一次汉字字形书法的引入。

……如果把“中国印，舞动的北京”当作一个“人”形画，她便是东方绘画表现手法上的一次杰出的应用。……她将当之无愧地成为奥林匹克运动视觉形象史上的一座艺术丰碑。

——北京2008奥运会会徽说明

- (1)根据材料一、二及所学知识，说明2008年北京奥运会会徽融合了中国哪几种传统艺术形式？(8分)

(2)上述传统艺术形式在我国古代都有着辉煌的成就，涌现出了许多著名的艺术家。请你选择其中两种艺术形式，根据所学历史教材，各说出两位我国古代艺术名家。(8分)

(3)2008年北京奥运会即将召开，请从展示和弘扬中国传统艺术的角度，为本届奥运会期间的文艺表演或宣传设计两项活动。(4分)

23. 【2009·中考预测】阅读下列材料:(20分)

公元前6世纪至公元1000年，中国在世界重大科技成就中所占的比例约达50%~70%，公元1000年后的宋元时期的几项重大发明对促进世界文明的发展与进步又做出了极其重要的贡献。但16世纪后，中国科技却没有像同一时期的欧洲一样迅速发展，而逐渐落后于世界。

——《自然科学大事年表》

请回答：

- (1)试分析公元前6世纪至公元1000年期间，我国科技成就辉煌的原因。(8分)
- (2)宋元时期对世界文明的发展与进步产生重要影响的发明有哪些？(8分)
- (3)概括16世纪后中国科技逐渐落后的根本原因。(4分)