

中考 对策

历史

ZHONGKAO DUICE



参考答案

内附 4 套 2008 年中考试题



NORTHEAST NORMAL UNIVERSITY PRESS
WWW.NENUP.COM

东北师范大学出版社

- 总策划：教育分社
- 责任编辑：李希尧 黄冬冬
- 封面设计：宋超
- 责任校对：王树军 谷长胜
- 责任印制：张允豪

- 主 编：漆志明
- 编 者：何利群 许宏安 邹玉香 周静香 尹学诗 李光志 施从容
邹咏香 尹成峰 李界林 麻庆岭 陈焕梅 申玉凤 陈宋功
杜旺 王怀栋 杜涛 鲍圣峰 李现振 滕玉雪 王敬东
何连晓 王世玲 王效忠 孙枚连 臧友峰 孙刚 崔广胜
李广富 孙士强 孙宝华 申耀光 王莉 李进才 颜廷识
鲁春厚 李忠海

图书在版编目 (CIP) 数据

中考对策·历史/漆志明主编. —长春：东北师范大学出版社，2008.5
ISBN 978-7-5602-5423-4

I. 中… II. 漆… III. 历史课 - 初中 - 升学参考资料 IV. G634

中国版本图书馆 CIP 数据核字 (2008) 第 071452 号

东北师范大学出版社出版发行
长春市人民大街 5268 号 (邮政编码：130024)
电话：0431—85695744 85688470
传真：0431—85695744 85695734
网址：<http://www.nenup.com>

电子函件：sdcbs@mail.jl.cn
东北师范大学出版社激光照排中心制版

延边新华印刷有限公司印装
吉林省延吉市河南街 818 号 (邮政编码：133001)

2008 年 8 月第 1 版 2008 年 8 月第 1 次印刷
幅面尺寸：210 mm×296 mm 印张：16.5 字数：420 千

定价：28.80 元

如发现印装质量问题，影响阅读，可直接与承印厂联系调换

第一单元 中华文明的起源

课标考点透析

考纲要求	应试方略
1. 以元谋人、北京人等早期人类为例，了解中国境内原始人类的文化遗存。 2. 简述河姆渡遗址、半坡遗址等原始农耕文化的特征。 3. 知道炎帝、黄帝和尧、舜、禹的传说，了解传说和史实的区别。	本单元内容在历年中考题中涉及不多，所占比重较小，考查形式多以选择题为主，考查重点是中国境内原始人群的生产和生活特点，农业生产的发展情况和炎黄的传说，所以要注意对这方面的复习。

知识网络回顾

祖国境内的远古居民	元谋人	地点：云南元谋县。时间：距今约一百七十万年 生产生活状况：会制造工具和使用火 特点：我国境内已知最早的人类
	北京人	地点：北京周口店龙骨山。时间：距今约七十万年至二十万年 身体特征：仍保留着猿的一些体质特征，能直立行走 生产生活状况：会制造和使用工具，使用天然火 生活方式：共同劳动并分享劳动成果，过着群居生活，是人类最原始的社会组织形式
原始的农耕生活	河姆渡原始居民	距今年代：距今约七千年 地点：浙江余姚河姆渡村 生产生活状况：住干栏式房屋；种植水稻，我国是世界上最早种植水稻的国家；饲养家畜；使用磨制石器，还使用动物骨骼制成的骨器
	半坡原始居民	距今年代：距今约五六千年。地点：陕西西安半坡村 生产生活状况：过定居生活，住半地穴式房屋；有了原始的农业、畜牧业生产；最早种植粟；使用磨制石器；会烧制陶器，陶器不仅是重要的生产、生活工具，彩陶还反映了原始人的艺术追求
华夏之祖	炎黄战蚩尤	时间、地点：约四五千年前，黄河的流域的炎帝、黄帝部落联盟形成日后的华夏族
	黄帝——嫫祖	黄帝传说：建造宫室，制作衣裳，教人挖井，发明舟车 嫫祖：发明养蚕缫丝
	人文初祖	仓颉：发明文字 海内外华人自称为炎黄子孙
	尧舜禹的禅让	更替过程：尧、舜、禹 大禹治水的传说：禹治水十三年，三过家门而不入 禅让制：民主推选部落联盟首领的办法 夏朝的建立：公元前 2070 年禹建立夏朝

中考试题集成

一、选择题

- (宜昌) 元谋人、长阳人和河姆渡遗址都分布在()。
A. 黄河流域 B. 长江流域
C. 珠江流域 D. 辽河流域
- (南京) 考古人员在北京人遗址中发现了大量的木炭和几处较大的灰烬堆, 这说明北京人()。
A. 会建造房屋 B. 会使用天然火

- 会种植水稻 D. 会制造彩陶
- (盐城) 黄河流域是中华文明的发源地, 此地半坡原始居民在世界上最早种植的农作物是()。
A. 水稻 B. 玉米 C. 粟 D. 占城稻
- (太原) 关于我国先民早期创业的历史, 有许多神话和传说。被尊奉为中华民族“人文初祖”的是()。
A. 蚩尤 B. 黄帝 C. 舜 D. 禹

考点精讲

考点 1 元谋人

生活时间: 距今约一百七十万年。
生活地点: 云南元谋县。
情况: 会制造工具, 知道使用火。
社会组织: 原始人群。
地位: 我国境内已知最早人类。

考点 2 北京人

生活时间: 距今约七十万年至二十万年。
生活地点: 北京周口店龙骨山山洞。
外貌特征: 保留着猿的某些特征。
生产工具: 打制石器、木棒。
生产生活状况: 会使用天然火和保存火种。采集野果, 偶尔猎获动物。

考点 3 河姆渡原始居民的农耕文化特征

生活时间: 距今约七千年。
生活地点: 浙江省余姚市河姆渡。
代表类型: 代表长江流域原始居民的农耕生活。
使用工具: 磨制石器、骨器、耒耜。
居住情况: 住干栏式房屋, 过着定居生活。
生产活动: 种植水稻(世界上最早); 饲养家畜; 制造陶器和玉器, 原始乐器; 会挖水井。

考点 4 半坡原始居民的农耕生活

生活时间: 距今约五六千年。
生活地点: 陕西西安附近的半坡村。
代表类型: 代表北方黄河流域原始居民的农耕生活。
使用工具: 磨制石器、木制耒耜、骨制箭头、渔叉、渔钩。
居住情况: 住半地穴式房屋, 过着定居生活。
生产活动: 种植粟(世界上最早); 饲养猪狗等, 打猎、捕鱼; 制造彩陶、纺织、制衣。

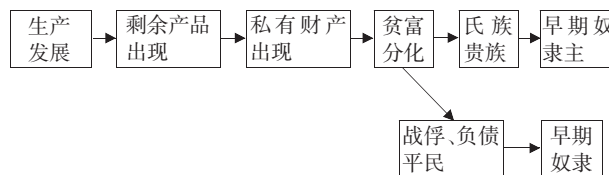
考点 5 华夏族的形成

时间: 距今四五千年。
活动范围: 黄河流域。
形成过程: 黄帝部落联合炎帝部落在涿鹿一战中大败蚩尤, 从此炎帝、黄帝部落结成联盟, 经过长期的发展, 形成日后的华夏族。
人文初祖黄帝: 相传, 黄帝建造宫室, 制作衣裳, 还教人挖井, 发明舟车, 为后世的衣食住行奠定了基础。他的妻子嫫祖发明养蚕缁丝, 他的属下仓颉发明了文字, 伶伦编出了乐谱, 等等。所以后人尊称黄帝为“人文初祖”。
尧舜禹的禅让: 是原始社会时期的一种民主推选部落联盟首领的制度。
原始社会的结束: 约公元前 2070 年, 禹建立夏朝。这标志着我国原始社会的结束, 奴隶社会的开始。

考点 6 北京人和山顶洞人的比较

代表文化	距今时间	体质形态	工具制造	生产活动	观念	社会组织
北京人	约七十万年至二十万年	保留了猿的某些特征	打制石器	采集、狩猎		原始人群
山顶洞人	约三万年	和现代人基本相同	开始掌握磨光和钻孔技术; 使用骨针	采集、狩猎	爱美	氏族

考点 7 原始社会解体过程图



考点 8 奴隶社会代替原始社会是历史的巨大进步

原始社会生产力极端落后, 人们的生活极端困苦, 认识自然的能力相当有限。为了生存时常进行部落间的

战争，有时使整个氏族毁灭。而奴隶社会中保留了生产力的核心要素——“战俘”作为奴隶，有了以国家形式出现的专门社会管理机构；同时，阶级斗争成为推动阶

级社会前进的动力之一。这些新因素使社会生产力得到了提高。所以说奴隶社会代替原始社会是历史的巨大进步。

中考模拟预测题

基础等级模拟题组

一、选择题

- 从总的体质特征看，元谋人和北京人属于()。
 - 猿类
 - 古猿
 - 猿人
 - 现代人
- 我国最早懂得人工取火的远古人类是()。
 - 元谋人
 - 北京人
 - 山顶洞人
 - 半坡氏族
- 下列哪一项不属于北京人的生活状况?()
 - 用火烧烤食物
 - 使用打制石器
 - 过群居生活
 - 种植粟
- 我国原始社会结束在()。
 - 黄帝时期
 - 尧时期
 - 舜时期
 - 禹时期
- 被尊称为中华民族人文初祖的是()。
 - 炎帝
 - 黄帝
 - 蚩尤
 - 禹
 - ①②
 - ①②③
 - ③④
 - ②③④
- 下列原始人类，按时间先后顺序排列正确的是()。
 - 元谋人
 - 北京人
 - 半坡居民
 - ①②③
 - ①③②
 - ②③①
 - ③②①
- 禹治水时，采取的方法是()。
 - 堵塞决口
 - 加高堤坝
 - 顺势疏导
 - 加宽河道
- 传说中的尧舜禹时期大致在()。
 - 旧石器时代
 - 新石器时代
 - 青铜时代
 - 铁器时代

二、非选择题

9. 阅读下列材料：

“在北京人居住的洞穴里，保存了几处较厚的灰烬堆，埋着烧裂的石头和兽骨……”

请回答：

- 这则材料证明了什么？
- 材料所证明的事实对北京人来说有何作用？
- 材料所证明的事实有什么意义？

10. 请比较半坡原始居民和河姆渡原始居民的异同。

发展等级模拟题组

一、选择题

- 假设你生活在半坡原始居民时代，在猎获一头野猪后，要把猪腿剥下，你所使用的工具是()。
 - 打制石器
 - 磨制石器
 - 青铜剑
 - 铁斧

- “过着定居生活，工具以磨制石器为主，已广泛制作和使用陶器。”黄河流域最早体现上述特征的原始人类是()。
 - 北京人
 - 山顶洞人
 - 半坡人
 - 大汶口人

- 半坡和河姆渡遗址都是在大河流域，主要是因为()。
 - 交通便利，适宜发展商业
 - 战略位置重要
 - 土质肥沃，适宜发展农业
 - 便于生活用水发展

- 决定河姆渡原始居民种植水稻，半坡原始居民种植粟的根本因素是()。
 - 饮食习惯
 - 劳动工具
 - 自然条件
 - 劳动技术

- 促使原始人过定居生活的主要因素是()。
 - 原始农业的发展
 - 掌握建造房屋与制陶的技术
 - 饲养家畜、家禽
 - 营造公共墓地

- 人和动物的根本区别是()。
 - 会劳动
 - 会制造工具
 - 会用石器
 - 会用木棒

- 促使原始人过定居生活的主要因素是()。
 - 原始农业的发展
 - 掌握建造房屋与制陶的技术
 - 饲养家畜、家禽
 - 营造公共墓地

- 人和动物的根本区别是()。
 - 会劳动
 - 会制造工具
 - 会用石器
 - 会用木棒

二、非选择题

7. 阅读下列材料：

材料一 在北京地区的一个原始社会墓葬里，埋葬着一个青年妇女、一个中年妇女和一个老年男子。他们的骨骼上都撒着赤铁矿的粉粒，随葬的装饰品没有多大差别，有石器、石珠、穿孔兽牙等。

材料二 在山东地区的一个原始社会墓葬里，发现一成年男女合葬墓，其随葬品多偏在男性一侧，女性被放置在从属地位上。

材料三 在我国另一处原始社会墓葬里，经过对十一座墓葬的发掘，发现最多的随葬品达 124 件，有的墓葬中仅有几件或空无一物。

请回答：

- 材料一反映出原始社会哪一阶段怎样的社会状况？为什么？
- 比较材料一和材料二，说明原始社会发生了怎样的变化。
- 材料三反映社会发展又出现了怎样的变化？
- 材料一至材料三墓葬的变化，反映了我国当时社会是怎样发展演变的？

第二单元 国家的产生和社会变革

课标考点透析

考纲要求	应试方略
<ol style="list-style-type: none"> 1. 简述夏朝建立的史实，了解从禅让制到王位世袭制的演变。 2. 了解夏、商、西周三代的更替。 3. 说出西周分封制的主要内容。 4. 知道春秋五霸和战国七雄的史实。 5. 通过商鞅变法等史实，认识战国时期的社会变革。 	<p>考纲要求中的 1~4 点为识记内容，多以选择题和填空题的形式出现，难度不大。第 5 点是理解层次的内容，不仅要识记变法内容，还要认识变法的作用，结合今天的改革谈启示。</p>

知识网络回顾

夏商西周的更迭	夏朝	建立：约公元前 2070 年，禹建立夏朝
		统治中心：今河南西部和山西南部一带
	政治	世袭制：禹死后启继承父位，从此世袭制代替了禅让制
		奴隶制国家机构建立
商朝	灭亡：夏王桀推行暴政。约公元前 1600 年，商国国君汤战胜桀，夏朝灭亡	
	建立：约公元前 1600 年，汤建立商朝。他任用伊尹等人做大臣，商朝很快强大起来	
	政治：盘庚迁都至殷，此后，商的统治区域不断扩大	
西周	灭亡：商王纣推行暴政。公元前 1046 年，周国国君武王伐纣，商朝灭亡	
	分封制	目的：巩固统治
		内容：周天子把土地和平民、奴隶分给亲属、功臣等，封他们为诸侯。诸侯必须服从周天子的命令，向天子交纳贡品，平时镇守疆土，战时带兵随从天子作战。诸侯在自己的封土内再往下层层分封
		作用：开发了边远地区，加强了统治，使周成为一个强盛的国家
灭亡：西周后期，政局混乱，发生国人暴动。公元前 771 年，西周灭亡		
商鞅变法	生产工具的改进和农作物产量提高	铁农具：春秋时出现，战国时推广
		牛耕：春秋末年已经使用，战国时进一步推广
	兴修水利：秦国蜀郡太守李冰在岷江中游修都江堰	
	各国变法运动	目的：确立封建统治，发展封建经济
		结果：封建制度逐步确立，地主阶级和农民阶级的矛盾成为社会主要矛盾
典型：商鞅变法	内容：承认土地私有，允许买卖；奖励耕战，废除没有军功的旧贵族特权；建立县制，由国君直接派官吏管理	
影响：秦国成为战国后期最富强的封建国家，为秦统一六国奠定了基础		

中考试题集成

一、选择题

- (黄冈) 通过一些成语可以帮助我们了解春秋战国时期诸侯争霸的历史, 下列成语反映的史实与楚庄王参与争霸有关的是()。
 - 退避三舍
 - 卧薪尝胆
 - 问鼎中原
 - 纸上谈兵
- (临沂) “他对内整顿朝政, 对外‘尊王攘夷’, 终于九合诸侯, 一匡天下, 成就了春秋五霸之首的伟业。”这里的“他”是()。
 - 周武王
 - 齐桓公
 - 晋文公
 - 楚庄王
- (广东) 商鞅变法的措施中对下列哪几种人有奖

励?()

- ①书读得好的人 ②农业生产搞得好的 ③仗打得好的人 ④生意做得好的人
- A. ①② B. ②③ C. ①②③ D. ②③④
- (雅安) 改革是兴利除弊、振兴国家的重要手段。商鞅变法使秦国成为战国后期最富强的国家。商鞅变法的内容中, 对旧贵族特权打击最大的一项是()。
 - 国家承认土地私有
 - 根据军功大小授予爵位和田宅
 - 建立县制
 - 生产粮食布帛多的人, 可免除徭役

考点精讲

考点 1 夏、商、西周的更迭

国家产生的原因:

由于社会生产力的发展, 人们的生活水平提高, 私有财产和贫富分化出现。一部分人开始占有另一部分人的财产, 于是, 出现了阶级和阶级斗争, 国家便随之产生。国家是阶级斗争不可调和的产物

夏、商、西周的更替:

(1) 夏朝的建立:

建立: 约公元前 2070 年, 禹建立夏朝, 他的儿子启继承王位, 于是世袭制代替了禅让制, “公天下”变成了“家天下”。

末代国王: 桀。

(2) 商朝的建立:

建立: 约公元前 1600 年, 汤建立商朝。

发展情况: 商朝曾几次迁都, 一直到商王盘庚迁都到殷, 都城才稳定下来。故后人又称商朝为殷朝或殷商。

末代国王: 纣。

(3) 西周的建立:

建立: 约公元前 1046 年, 武王伐纣建国, 定都镐京。

特点: 实行分封制。西周后期, 政局混乱, 公元前 9 世纪时, 周厉王暴虐无道, 平民表示不满。终于发生了国人(平民)暴动。公元前 771 年, 西周灭亡。

考点 2 春秋战国时期的社会变革

(1) 原因:

根本原因: 社会生产力的发展。

具体原因: 诸侯争霸, 富国强兵。

(2) 春秋:

公元前 770 年周平王东迁洛, 史称“东周”, 东周分为春秋和战国两个时期。

对诸侯争霸的评价: 春秋时期的争霸战争, 给社会带来种种灾难。但在争霸过程中, 一些大国为谋求霸权,

进行改革, 进而推动了整个社会的进步。同时一些诸侯国被消灭, 出现了一些疆域较大的国家, 这也为将来的社会统一奠定了基础。

(3) 战国:

三家分晋: 战国初年, 晋国卿大夫中的韩、赵、魏三家, 瓜分晋国。

田氏代齐: 齐国大夫田氏取代原来的国君, 建立田氏齐国。

战国七雄: 齐、楚、秦、燕、赵、魏、韩。

兼并战争: 这时的七国都有统一中国的雄心, 彼此之间的战争更频繁, 规模更大, 并且都具有兼并的特点。

长平之战: 战国末年, 强大的秦国不断兼并东方各国的土地。公元前 260 年秦赵之间爆发了空前激烈的长平之战。结果赵军大败, 四十多万人被俘, 绝大部分被坑杀。从此, 东方六国再也无力抵御秦军的进攻。

战国经济的发展: 铁农具、牛耕的推广使生产力不断发展。兴修水利工程, 其中最著名的就是李冰在岷江中游修筑的都江堰。都江堰是闻名世界的防洪灌溉工程。

考点 3 商鞅变法

历史背景: 战国时期, 新兴的地主阶级为了确立封建统治, 发展封建经济, 先后在各国内掀起变法运动。其中, 以秦国的商鞅变法效果最显著。

时间和人物: 公元前 356 年, 商鞅在秦孝公支持下开始变法。

具体内容: (1) 国家承认土地私有, 允许自由买卖。

(2) 奖励耕战, 生产粮食布帛多的人, 可免除徭役; 根据军功大小授予爵位和田宅, 废除没有军功的旧贵族的特权。(3) 建立县制, 由国君直接派官吏治理。

历史作用: 经过商鞅变法, 秦国的经济得到发展, 军队战斗力不断加强, 发展成为战国后期最富强的封建国家。

历史影响: 随着各国变法运动的深入进行, 封建制

度逐步确立起来，地主阶级统治代替了奴隶主贵族统治，地主阶级和农民阶级的矛盾成为社会主要矛盾。我国的封建社会形成了。

考点4 商鞅变法的背景及成功的原因

(1) 背景：春秋以来，由于生产力的发展，奴隶主将新开垦的田地变成私产并出租。这些奴隶主转化为封建地主，租种地主土地者成为农民。封建社会的两个新兴阶级产生了。为确立封建统治，发展封建经济，各诸侯国新兴地主阶级掀起变法运动。

(2) 商鞅变法能够成功的原因：① 变法发生在奴隶制逐步崩溃和封建社会开始形成时期，顺应了历史发展的趋势。② 商鞅本着“治世不一道，便国不法古”的指导思想，提出合乎秦国国情，顺应民意（主要是新兴地主阶级）的改革措施，且执行起来又非常坚决。③ 秦孝公信任并重用商鞅，这也是变法获得成功的条件之一。

考点5 运用经济、政治、文化等方面的辩证关系，说明春秋战国时期的变化

春秋战国时期是中国历史的大变革时期，其表现是：

(1) 经济方面：由于铁器、牛耕推广，生产力迅速提高。井田制瓦解，出现了封建制的生产方式，形成地主阶级和农民阶级，出现了独立经营的手工业者和商人。

(2) 政治方面：周王室衰微，“征伐自诸侯出”，世卿世禄制被军功制取代，以分封制、宗法制为主要内容的奴隶社会政治制度为封建专制主义中央集权制度取代。

(3) 思想文化方面：出现了我国历史上第一次思想上的大解放。旧的思想观念受到冲击，对人的重视在社会上普及开来，“学在官府”的局面被打破，私人讲学开始兴起，个人著书立说成为风气，不同思想家提出了不同的政治主张，出现了各种学派，形成百家争鸣的局面。

(4) 民族关系方面：华夏族与周边的少数民族在征伐和生产中逐渐开始融合。

中考模拟预测题

基础等级模拟题组

一、选择题

- 我国最早建立军队、制定刑法、设置监狱是在()。
A. 夏朝 B. 商朝 C. 西周 D. 东周
- 夏朝是我国第一个奴隶制王朝，夏朝以后紧接着的两个朝代是()。
A. 秦朝、西汉 B. 春秋、战国
C. 西汉、东汉 D. 商朝、西周
- 下列有关商汤的叙述不正确的是()。
A. 商汤要求大臣勤于政事，要“有功于民”
B. 商汤任用有才干的伊尹等大臣，建立起一个强大的国家
C. 商汤在位时，国家强大，方国纷纷前来朝贡
D. 商汤建都在亳，由于政治动乱和水患，他将都城迁到殷
- 西周统治者实行分封制的主要目的是()。
A. 分割诸侯的兵力 B. 保证国家的兵源
C. 巩固奴隶主政权 D. 统一全国思想
- 春秋时期的第一个霸主是()。
A. 齐桓公 B. 晋文公
C. 楚庄王 D. 秦穆公
- 对分封制内容的表述不正确的是()。
A. 周天子把土地和人民分给亲属和功臣
B. 诸侯必须服从周天子命令
C. 诸侯有向天子交纳贡品的义务
D. 诸侯必须服兵役
- 齐桓公即位以后，被任命为相，在齐国进行改革的是()。
A. 管仲 B. 李悝
C. 吴起 D. 商鞅

- 商鞅变法措施中，对当代行政管理制度有着重要影响的是()。
A. 允许土地私有 B. 重农抑商
C. 实行“连坐法” D. 推行县制

发展等级模拟题组

一、选择题

- 下列君主中有别于其他的一个是()。
A. 禹 B. 周文王 C. 汤 D. 桀
- 夏、商王朝的覆灭给后世君主的主要启示是应该()。
A. 重视教育 B. 勤政爱民
C. 加强国防 D. 发展经济
- 西周为了巩固自己的统治，推行了()。
A. 分封制 B. 禅让制
C. 世袭制 D. 奴隶制
- 西周与商朝相比，在政治上的主要不同之处是()。
A. 实行王位世袭制 B. 实行分封制
C. 压迫奴隶和平民 D. 巩固奴隶主政权
- 商鞅在秦国变法，“商君虽死，秦法未败”。造成这一历史现象的主要原因是()。
A. 秦孝公大力支持变法
B. 变法打击了奴隶主贵族势力
C. 变法得到新兴地主阶级的拥护
D. 变法顺应时代发展的要求
- 《史记·商君列传》中记载：“商君相秦十年，宗亲贵戚多怨望。”这主要是因为商鞅变法()。
A. 承认土地私有 B. 允许土地自由买卖
C. 规定按军功授爵赐田 D. 统一度量衡
- 下列关于春秋争霸的说法中，正确的是()。
A. 打击奴隶制，推广封建制

- B. “尊王攘夷”，维护周王室统治
 - C. 春秋无义战，阻碍社会进步
 - D. 争夺土地人口的兼并战争
8. 春秋战国这一历史时期发展的阶段特征中，最本质的是()。
- A. 由奴隶制向封建制转变
 - B. 由分裂走向统一
 - C. 侯国林立，兼并战争频繁
 - D. 由各学派出现到“百家争鸣”

二、非选择题

9. 当今，人们赞美都江堰是世界的奇迹，是无坝生态水利工程的典范。阅读材料，回答问题。

材料一

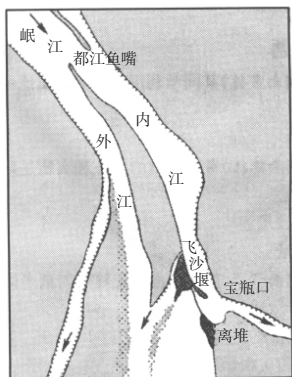


图 1

材料二 成都平原被称为“天府之国”，很大程度上受益于都江堰。两千多年的事实证明，都江堰真正体现了“水利是农业的命脉”的精义……

2000年，都江堰及其附近的青城山被联合国教科文组织确认为世界文化遗产。

——《成都历史》

- (1) 根据材料一，说一说都江堰水利工程采取了哪些方法来兼顾灌溉和防洪两项功能。
- (2) 根据材料二，说出都江堰被评为世界文化遗产的理由，以及对我们的启示。

第三单元 统一国家的建立

课标考点透析

考纲要求	应试方略
<ol style="list-style-type: none"> 1. 了解秦兼并六国和秦始皇加强中央集权的史实，探讨统一国家建立的意义。 2. 知道陈胜吴广起义。 3. 列举汉武帝大一统的主要史实，评价汉武帝。 4. 讲述张骞通西域等史实；认识丝绸之路在中外交流中的作用。 	<p>在本单元中考命题主要集中在以下几个知识点：秦朝的建立及其采取的巩固统一的措施；汉武帝巩固大一统的措施；中央政权与少数民族的关系；丝绸之路的开通等。在复习过程中首先应把握好知识结构，建立起知识体系，在此基础上再对具体的知识进行分析、理解、记忆；既要掌握相关的基本史实，又要以小专题的形式，对各个问题进行系统整理。同时，还要特别注意评价重要的历史人物和历史事件。</p>

知识网络回顾

秦朝	秦的统一	公元前 221 年，秦王嬴政灭掉六国，统一天下，定都咸阳
	统一的意义	结束了春秋战国以来长期分裂混战的局面，建立了我国历史上第一个统一的多民族的封建国家
	加强中央集权	政治上：皇帝拥有至高无上的地位和绝对的权力。在中央设立丞相、太尉和御史大夫，分别管理行政、军事和监察。在地方，全面推行郡县制。中央和地方的官吏都由皇帝任免 经济上：统一货币；统一度量衡 文化上：统一文字，小篆作为全国的通用字体，后来，隶书又流行起来 思想上：焚书坑儒，摧残了文化。阻碍了思想的进步
汉朝	大泽乡起义	原因：秦的暴政。时间：公元前 209 年 地点：大泽乡。领导人：陈胜、吴广 意义：是中国历史上第一次大规模的农民起义
	张骞两次出使西域	目的：为了联络大月氏和乌孙夹击匈奴 经过：公元前 138 年和公元前 119 年，两次出使西域 意义：使西域和内地的联系加强，公元前 60 年，西汉政府设置了西域都护，新疆（西域）正式归属中央政府管辖
	丝绸之路	以长安为起点，经过河西走廊和新疆地区，翻越葱岭，通向西亚和欧洲

中考试题集成

一、选择题

1. (连云港) 秦始皇巡游各地时，往往要刻石记功。当时刻石使用的文字应该属于()。
A. 甲骨文 B. 小篆 C. 楷书 D. 行书
2. (黄冈) 汉武帝为巩固国家统一采取的措施有()。
①罢黜百家，独尊儒术 ②颁布推恩令 ③盐铁由国家垄断经营 ④设置西域都护
A. ①②③④ B. ①②③ C. ①②④ D. ②③④

3. (成都) 观察右边的“讲经图”(汉代画像砖)，这是哪一位皇帝时期兴办太学的实证?()
A. 汉高祖刘邦
B. 汉武帝刘彻
C. 汉光武帝刘秀
D. 蜀汉皇帝刘备



4. (南京)为巩固统一,秦始皇与汉武帝在经济方面实施相同措施是()。
- A. 统一文字 B. 统一货币
C. 统一度量衡 D. 盐铁官营
5. (潍坊)“惜秦皇汉武,略输文采,唐宗宋祖,稍逊风骚……”毛泽东在《沁园春·雪》中提及了中国古代多位杰出君王。其中“汉武”最主要的功绩是()。
- A. 创立中央集权
B. 结束割据,实现国家统一
C. 稳固大一统局面
D. 统治期间出现盛世局面
6. (成都)汉代开辟的丝绸之路是联系中外的纽带,沟通东方和西方的桥梁。丝绸之路的走向是()。
- A. 长安——葱岭——河西走廊——今新疆地区
B. 长安——今新疆地区——河西走廊——葱岭
C. 长安——河西走廊——今新疆地区——葱岭
D. 成都——云南——缅甸——印度——欧洲

二、非选择题

7. (山西)材料一 公元前138年,张骞拜别汉武帝,出使西域,辗转十多年才回到长安。公元前119年,汉武帝派张骞第二次出使西域,张骞率领使团,带着上万头牛羊和大量丝绸,访问西域的许多国家,西域各国也派使节回访长安。从此,汉朝和西域的交往日趋频繁。《汉书》曰:“张骞始开西域之迹。”
- 材料二 1271年,马可波罗一行从威尼斯出发,历经千辛,于1275年到达元朝首都。马可波罗聪明好学,得到元世祖忽必烈的赏识,被留在朝中供职。他在中国生活了17年,足迹踏遍华北、西北、华东、西南等。他奇异的经历和广博的见闻,生动地留在《马可·波罗行纪》一书中,传于后世。
- 以下说法均是正确的,请你仔细阅读上述材料,如果该说法是从上述材料中得出的,请在括号中划上“√”,否则划上“O”。

- (1) 汉武帝非常重视与西域各国的联系。()
- (2) 张骞为汉朝和西域各国的相互往来作出了很大贡献。()
- (3) 丝绸之路是古代沟通中西交通的路上要道()
- (4) 马可·波罗是中西文化交流的使者。()
- (5) 《马可·波罗行纪》一书对新航路的开辟,产生了很大的影响。()
- (6) 张骞和马可·波罗都是有追求、有毅力的人。()

8. (河南)阅读下列材料:

材料一 北京奥运会火炬(如右图)的创意灵感来自祥云图案,造型设计灵感来自中国传统的纸卷轴。源于汉代的漆红色使之明显区别于往届奥运会火炬设计,红银对比的色彩产生醒目的视觉效果。



材料二 2008年3月24日,第29届北京夏季奥运会圣火采集仪式隆重举行。来自西方文明之源的奥运火种,将由两万名火炬手手与手相传,把象征着和平友谊的奥运圣火带到五大洲,奥运火炬传递途经我省的路线是:商丘、开封、郑州、洛阳、安阳。

请回答:

- (1) 请你找出北京奥运火炬中蕴含的中国古代文化元素一处。
- (2) 奥运圣火来自西方文明之源,“西方文明之源”在哪里?
- (3) 奥运圣火传递路线是以古代东西方一条重要的商路为主线设计的,这一商路被人们称为什么?
- (4) 奥组委选择境内火炬传递城市时,考虑的因素之一是文化灿烂、历史悠久。请你从奥运火炬传递途经我省的五个城市中选择一,举一例说明。

考点精讲

考点1 秦灭六国和秦始皇加强中央集权的措施

秦灭六国和中央集权制度的建立:秦灭六国,建立起我国历史上第一个统一的中央集权的封建国家——秦朝,定都咸阳。秦朝创立了一套封建专制主义的中央集权制度:

(1) 最高统治者称皇帝。(2) 在中央设丞相、太尉、御史大夫,分管行政、军事和监察,最后由皇帝决断。(3) 在地方推行郡县制。作用:巩固了封建国家的统治。

统一的历史意义:秦的统一结束了春秋战国以来的分裂割据局面,建立了我国历史上第一个统一的多民族的封建国家。

考点2 秦始皇巩固统一的措施

(1) 经济、文化上:统一文字、货币和度量衡。秦始皇规定在全国统一使用圆形方孔铜钱;统一度量衡;

把小篆作为全国规范文字。(2) 思想上:为了加强思想控制,秦始皇接受李斯的建议,发布焚书令,规定除政府外,民间只可收藏有关医学、占卜和种植的书,其余一律集中焚毁;把暗中批评他的一批儒生,在咸阳活埋。(3) 军事上:为了安定北方,维护国家的统一,秦始皇命大将蒙恬大举反击匈奴,收复河套地区,并把内地民众移居到那里垦田戍边。后又让蒙恬负责修筑了西起临洮,东到辽东的城防,用来抵御匈奴,这就是闻名中外的“万里长城”。

考点3 秦末农民战争

(1) 农民起义的原因:①为了修建阿房宫和骊山墓,秦朝每年迫使成千上万的农民脱离生产,社会经济遭到严重破坏;②沉重的赋税;③严酷的刑法导致人民怨声载道;④秦二世的统治更加残暴,赋税、徭役和刑法更

加苛重，秦朝的残暴统治严重阻碍了社会的发展。

(2) 主要经过：陈胜、吴广“斩木为兵，揭竿为旗”，杀秦军，占县城，建政权，天下响应”，说明秦朝统治已失去了民心，推翻秦朝是人心所向。由于秦军的强大，不到半年，起义军就被镇压下去。陈胜、吴广起义失败后，项羽和刘邦继续反秦。

(3) 意义：陈胜、吴广领导的农民起义，沉重地打击了秦朝的统治，是我国历史上第一次大规模的农民起义。他们的革命首创精神，鼓舞后代千百万劳动人民起来反抗残暴的统治。在秦末农民战争的沉重打击下，秦朝二世而亡。

考点 4 汉武帝的大一统

汉武帝时，政治、经济、文化、思想等方面出现空前统一的局面。

(1) 政治上颁布推恩令：汉武帝为了加强中央对地方的控制，颁布推恩令，下令允许诸王将自己的封地分给子弟，建立较小的侯国。目的是进一步削弱诸侯国的势力。

(2) 思想上：汉武帝接受董仲舒的建议“罢黜百家，独尊儒术”，把儒家学说作为封建统治的正统思想，对其他各家思想都予以排斥。

(3) 文化上：大力推行儒学教育，在长安兴办太学。太学是我国古代的最高学府。

考点 5 张骞出使西域

(1) 原因：西域被匈奴征服，被迫交纳很多财物作为贡税。

(2) 目的：为了联络大月氏夹击匈奴，解除匈奴对西汉的威胁。

(3) 经过：公元前 138 年和公元前 119 年，张骞两次出使西域。

(4) 结果：第一次出使的目的并未达到，但是了解了西域各国的经济、政治、文化情况以及他们想和汉朝往来的愿望。第二次出使西域沟通了与西域各国的联系，加强了汉和西域的经济文化交流。

(5) 意义：加强了汉朝同西域的交流，西域的一些物产输入内地。中国与西亚和欧洲的关系开始发展起来。

考点 6 西域和西域都护府的设置

两汉时期，人们把甘肃玉门关和阳关以西，也就是今新疆地区和更西的地方，称为西域。公元前 60 年，西汉政府设置西域都护，管理西域事务，保护往来的商旅。意义：西域各国开始正式归属中央政权的管辖。从此，新疆地区成为我国不可分割的一部分。

考点 7 秦朝统一中国的历史条件和历史作用

条件：(1) 春秋战国以来，长期战乱不断，人民厌恶战争，渴望安定统一。(2) 各国变法运动顺应了历史

发展的潮流，促进了社会生产力的发展，为建立统一国家准备了条件。(3) 商鞅变法使秦国成为战国后期最富强的国家，为秦的统一奠定了经济基础。(4) 长平之战使东方六国再也无力抵御秦的进攻。(5) 秦王嬴政通过十年兼并战争，远交近攻，各个击破。策略正确是完成统一大业的关键因素。

作用：(1) 秦的统一结束了长期以来诸侯割据混战的局面，有利于人民的生活安定和社会生产的发展，符合当时各族人民的共同愿望。(2) 秦的对我国经济、文化的发展和交流以及中华民族的发展具有重要意义。

考点 8 关于秦始皇对中华民族的贡献和过失

(1) 贡献：① 统一全国，建立起我国历史上第一个统一的中央集权的封建国家，结束了长期以来诸侯割据混战的局面，有利于人民的生活安定和社会生产力的发展。符合当时各族人民的共同愿望，促进了民族融合，同时，对我国经济文化的交流、发展以及对历史的主流发展具有重要意义，对后世产生了深远的影响。

② 政治上：创立了一套封建专制主义中央集权制度。最高统治者称皇帝，至高无上，总揽全国一切军政大权；中央政府设丞相、太尉、御史大夫，分管行政、军事和监察，最后由皇帝决断；在地方上，推行郡县制。封建专制主义中央集权制度的建立，巩固了封建国家的统一，加强了对人民的统治，对后世产生了深远的影响。

③ 经济文化上：统一文字、货币、度量衡，把小篆作为全国规范的文字，统一使用圆形方孔铜钱，促进了经济文化的交流和发展，巩固了秦的统一，对后世产生了深远的影响。

④ 军事上：派蒙恬反击匈奴，修筑长城，保护了中原农业生产的发展；派兵统一东南、岭南地区，修筑灵渠，为中原与岭南地区的经济文化交流提供了有利条件。秦始皇巩固边疆地区的措施维护了国家的统一，巩固了秦朝的统治，促进了边疆地区的发展，促进了民族大融合。

(2) 过失：① 思想上：为了加强思想控制，接受李斯的建议，实行焚书坑儒，给我国古代文化造成了巨大的损失，钳制了人们的思想，摧残了文化，结束了春秋战国以来百家争鸣的学术氛围。② 秦始皇实行暴政，赋税徭役繁重，刑法严酷，使社会经济遭到严重破坏，给人民带来深重的灾难，并最终导致了秦朝的灭亡。

考点 9 传承辉煌历史，开启现代“丝绸之路”

2007 年，国家主席胡锦涛出席了上海合作组织峰会，并对位于古代丝绸之路的中亚各国进行友好访问。在吉尔吉斯山麓下，胡主席感慨道：这片河谷是天山古道的一部分，是连接中亚草原与中国西北地区的捷径。古代丝绸之路上的繁忙和浪漫，承载着中吉两国人民源远流长的深厚友谊，两国有着天然的地理联结，悠久的人文沟通，一定能进行广泛而务实的合作。两千多年前，张骞一行从长安起程，经陇西向西行进。尽管一路上风吹

雪打，日晒雨淋，环境险恶，困难重重，但他们信心坚定，不顾艰辛，冒险西行，开创了中国古代这条横贯中亚，联系欧亚两洲的交通大道——丝绸之路，促进了东西方经济文化的广泛交流，成为中国走向世界的先行者。

我们应该感谢阿拉伯民族，他们为东西方经济文化

的传播作出了杰出的贡献。除了陆上丝绸之路外，从汉代开始，中国人就开通了从广东到印度的航道。人们把这些海上贸易往来的各条航线称为“海上丝绸之路”。对于中国人民来讲，今天的丝绸之路，是开放之路，是奋进之路，是通向二十一世纪的光明之路。

中考模拟预测题

基础等级模拟题组

一、选择题

- “国家统一，民族融合”是中国历史的主流，为建立起第一个统一的多民族的封建国家而作出杰出贡献的人物是()。
 - 黄帝
 - 夏启
 - 秦始皇
 - 孝文帝
- 秦始皇巡游各地前要向各地颁发圣旨，让各地作好迎驾的准备，圣旨上的文字应该是()。
 - 金文
 - 甲骨文
 - 楷书
 - 小篆
- 下列属于秦始皇巩固统一的措施的是()。

①焚书坑儒 ②“罢黜百家，独尊儒术” ③派卫青、霍去病大破匈奴 ④统一文字、货币、度量衡

 - ①②③
 - ①③④
 - ①④
 - ②③④
- 秦灭六国实现统一的根本原因是()。
 - 商鞅变法彻底，秦在七国中实力最强
 - 秦实行远交近攻的外交策略
 - 秦顺应了国家统一的历史发展潮流
 - 秦始皇的雄才大略
- 秦始皇采取的措施中有利于加强中央对地方管辖的是()。
 - 设置丞相、太尉和御史大夫
 - 在全国推行郡县制
 - 统一文字、货币和度量衡
 - 修建长城
- “罢黜百家，独尊儒术”的“百家”指的是()。
 - 道家、法家
 - 诸子百家
 - 道家、儒家
 - 除儒家以外的诸子百家
- 为了加强中央对地方的控制，颁布推恩令，进一步削弱王国势力的西汉统治者是()。
 - 汉高祖
 - 汉文帝
 - 汉景帝
 - 汉武帝
- 丝绸之路最早形成于()。
 - 秦朝
 - 汉朝
 - 隋朝
 - 唐朝
- 西域正式归属汉朝版图的标志是()。
 - 张骞出使西域
 - 西域都护府的建立
 - 班超经营西域

D. 安西都护府的建立

二、非选择题

- 秦王嬴政在用人政策上有什么长处？这和他取得统一战争的胜利有什么关系？

发展等级模拟题组

一、选择题

- 秦朝时期郡县长官产生的方式是()。
 - 皇帝任命
 - 自荐求官
 - 丞相任命
 - 科举考试
- 汉武帝颁布推恩令的主要目的是()。
 - 平息王国内部王位继承的纷争
 - 怀柔王国势力，稳定社会秩序
 - 分割王国封地，加强中央集权
 - 提高列侯地位，制约王国发展
- 实现西汉王朝政治、经济、军事和思想的大一统，使西汉王朝进入鼎盛时期的皇帝是()。
 - 汉高祖
 - 汉文帝
 - 汉武帝
 - 汉景帝
- 秦汉时期，中国已开始走向世界，其主要表现不包括()。
 - 甘英出使大秦，到达波斯湾地区
 - 丝和丝织品远销西亚和欧洲地区
 - 加强了与亚洲邻国的技术和文化交流
 - 与亚、非、欧许多国家进行了直接的贸易往来和使节交往
- 张骞通西域后，不少西域的物种传到中原，丰富了中原人民的生活。下列物种，不是从西域传入的是()。



A.核桃



B.小麦



C.石榴



D.葡萄

- 秦始皇、汉武帝都是杰出的帝王，为中华民族发展作出了巨大的贡献。但他们在处理以下某一方面问题时态度截然相反，这个问题是()。
 - 国家统一问题
 - 外族入侵问题
 - 中央集权问题
 - 儒家思想问题

二、非选择题

- 阅读下列材料：

据史书记载，汉武帝统治后期，由于连年征战，赋税

沉重导致人民负担加重，社会出现动荡，西汉统治一度出现危机。汉武帝勇于承认错误，下“罪己诏”，及时减轻剥削，与民休息，使西汉统治平稳度过危机。因此，后代史书称赞他说：“有亡秦之失而免亡秦之祸。”后人将他与秦始皇并称为“秦皇汉武”。

请回答：

- (1) 汉武帝促进和巩固大一统局面的政治、军事措施有哪些？
- (2) 汉武帝为促进农业发展和实现经济大一统采取了哪些措施？
- (3) 请将汉武帝与秦始皇进行简单的对比，简要评价一下汉武帝。

8. 阅读下列材料：

材料一 罗马废墟中出土的汉代绢



材料二 位于新疆塔克拉玛干沙漠东部孔雀河下游的楼兰曾经是丝绸之路上的一颗耀眼明珠，公元4世纪以后，这座盛极一时的城市却神秘地消失了。

请回答：

- (1) 根据材料，从中你能得到什么历史信息？有人认为中国的丝绸制品最早是在东汉时期输入罗马的，你同意吗？请用史实加以说明。
- (2) 结合所学知识，简述丝绸之路开通的历史作用。
- (3) 2 000 多年前，位于沙漠之中的楼兰能够盛极一时的主要自然原因是什么？
- (4) 你认为楼兰最终湮灭的原因可能是什么。

第四单元 政权分立与民族融合

课标考点透析

考纲要求	应试方略
1. 了解三国鼎立形成的史实。 2. 知道人口南迁和民族交往促进了江南开发的史实。 3. 概述北魏孝文帝促进民族融合的措施。	本章中“江南地区的开发”“北方的统一”“孝文帝的改革”等将成为中考的热点之一。并且与时政相联系进行考查。

知识网络回顾

东汉末年	官渡之战：曹操以少胜多打败袁绍，为统一北方奠定了基础 赤壁之战：孙刘以少胜多打败曹操，之后曹操、刘备、孙权三分天下的局面基本形成
三国鼎立	魏：220年，曹丕在洛阳称帝 蜀：221年，刘备在成都称帝 吴：229年，孙权在建业称帝
北魏孝文帝改革	原因：①民族融和加强；②鲜卑族用落后的方式统治各族人民，激化了社会矛盾 内容：①学习汉族的政治经济制度，加强对经济和官吏的管理；②迁都洛阳；③大力推行学习汉族文化风俗的政策 意义：加速了黄河流域民族大融合的过程 评价孝文帝：他具有勇于改革，积极进取的精神，对中国历史的发展作出了重大贡献，是我国历史上一位杰出的政治家

中考试题集成

1. (佛山) 如右图，公元五世纪末北魏孝文帝力排众议，迁都于()。

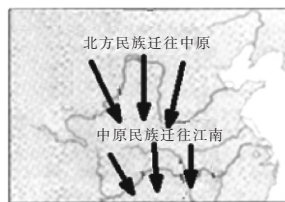


2. (黄石) 关于北魏孝文帝改革的影响，表述正确的是()。

- A. 实现了黄河流域的统一
- B. 为统一全国作好了准备
- C. 促进了民族融合
- D. 抑制了佛教发展

3. (南京) 下图反映了江南地区得到开发的哪一原

因?()



三国两晋南北朝时期民族迁徙示意图

- A. 江南社会相对稳定
- B. 江南自然条件优越
- C. 北方人口大量南迁
- D. 南方统治者重视农业

考点精讲

考点 1 三国鼎立

官渡之战：

(1) 历史背景：割据北方的曹操和袁绍两派军阀之间为了控制北方地区而进行的战争。

(2) 时间：公元 200 年。

(3) 双方实力：袁绍率十万大军，而曹操只有三四万人。

(4) 结果：曹操以少胜多。

(5) 历史意义：为曹操统一北方奠定了基础。

赤壁之战：

(1) 历史背景：曹操要消灭江东的孙权和依附于荆州势力的刘备，进而统一全国。

(2) 时间：公元 208 年。

(3) 交战双方：曹操率二十多万大军南下，孙刘联军共有五万多人。

(4) 结果：孙刘联军用火攻的办法，以少胜多，大败曹军。

(5) 历史意义：这场战役使曹、刘、孙三方的力量对比发生了新的变化，为三国鼎立局面的形成奠定基础。

三国鼎立局面的形成：

(1) 概况：公元 220 年，曹操的儿子曹丕废掉汉献帝，自称皇帝，国号魏，建都洛阳，东汉结束；公元 221 年，刘备在成都称帝，国号汉，号称蜀；公元 222 年，孙权称王，国号吴，后定都建业，三国鼎立局面形成。

(2) 影响：三国鼎立局面是东汉末年以来军阀混战的结果，也是从分裂割据走向逐步统一的过渡阶段。并存的三个政权，为战胜对方，都采取了一系列恢复和发展生产的措施，这为日后的统一奠定了物质基础。

考点 2 江南地区的开发

西晋的兴亡：

西晋建立：266 年，司马懿的孙子司马炎篡夺了皇位，建立了晋朝，定都洛阳，史称西晋。280 年，西晋军队灭掉了吴国，结束了分裂局面。

内迁的各少数民族：从东汉末年以來，匈奴、鲜卑、羯、氐、羌等北方少数民族陆续内迁，到西晋初年，人数达到几百万人。他们同汉族长期杂居，互相影响，民族界限日益缩小。

西晋短暂而亡：316 年，内迁匈奴人的一支武装灭亡了西晋。

西晋灭亡的原因：(1) 西晋统一后，统治集团迅速腐朽；(2) 统治集团的内乱；(3) 内迁的少数民族趁机起兵。

东晋十六国：

东晋建立：公元 317 年，皇族司马睿重建晋朝，都城在建康。

前秦统一北方：4 世纪后期，氐族人建立了前秦政权，重用汉人王猛为丞相，国力强大，统一了黄河流域。

淝水之战：

时间：383 年。

背景：前秦打算一举灭亡东晋，统一全国。

交战双方实力：前秦八十多万兵力，东晋八万多人。

结果：东晋大败前秦。

影响：(1) 前秦的统治瓦解，北方地区重新陷入割据混战的状态；(2) 东晋在南方取得暂时稳定，为经济发展提供了有利条件。

江南地区的开发：

原因和条件：

(1) 江南地区有优越的自然条件。

(2) 大量的北方人口迁徙到江南，为江南的发展提供了劳动力和技术。

(3) 江南地区的战乱比较少，社会秩序比较安定。

成就：

(1) 兴修水利，大片荒地开垦为良田。

(2) 以种植水稻为主，稻田里开始使用绿肥、牛耕和粪肥也得到推广。

(3) 小麦的种植推广到江南。

(4) 长江中下游一带的农业发展迅速，福建、广东等地也得到一定程度的开发。

影响：江南地区的开发对我国经济产生了深远影响，为经济重心逐渐南移奠定了基础。

考点 3 北方民族大融合

北方的统一：

(1) 386 年鲜卑族建立了北魏。439 年，北魏统一了黄河流域。

(2) 影响：北魏统一北方，为民族大融合高潮的到来奠定了基础。

(3) 概况：黄河流域的各族人民长期生活在一起，日常的接触和频繁的交往，在生产技术和生活习俗上相互影响，民族融合已经成为趋势。

民族的融合：

表现：北魏孝文帝迁都洛阳，迁都后，进一步实行了政治、经济改革，促进了民族融合。

改革内容：

(1) 在朝廷中必须使用汉语，禁用鲜卑语。

(2) 官员及家属必须穿戴汉族服饰。

(3) 将鲜卑族的姓氏改为汉族姓氏，把皇族由姓拓跋改为姓元。

(4) 鼓励鲜卑贵族与汉族贵族联姻。

(5) 采用汉族官制、律令。

(6) 学习汉族的礼法，尊崇孔子。

影响：这些改革措施是北方民族大融合趋势长期发展的必然结果，对推进北方民族大融合起了积极作用。

考点 4 三国鼎立局面的形成是历史的进步还是历史的倒退

分裂与统一相比较，分裂是一种倒退现象，但三国

鼎立实现了局部的统一，比起东汉末年十多个军事集团的割据混战来说是一个进步；从历史发展的整个进程来看，三国鼎立也为以后的统一奠定了基础。另外，从西南、江南边疆地区的开发建设，汉族同少数民族的融合、文化的交流等方面来说，三国鼎立局面的形成是历史的进步。

考点 5 如何理解三国两晋南北朝时期分裂中形成统一的因素

统一是我国历史的主流，是我国政治经济发展的必然趋势，即便处在大分裂时期，也同样蕴含着走向统一的因素。三国两晋南北朝之所以走向隋朝的大统一，主要是因为：

(1) 江南经济的发展和封建生产方式向边疆地区的扩展，为实现统一奠定了经济基础。

(2) 北方各族人民的大融合形成了强大的民族凝聚力和向心力。

(3) 战乱给人民带来灾难和痛苦，人民渴望统一。统一是各族人民的共同心愿。

(4) 局部统一的出现。实际上局部统一是走向全国统一的一个量化的过程，也是实现统一的条件。这一时期先后出现前秦、北魏、北周等北部黄河流域的统一和西晋的短暂统一。

这些都足以说明，走向统一是这一时期中国历史发展的大趋势。

中考模拟预测题

基础等级模拟题组

一、选择题

- 下列事件与曹操无关的是()。

A. 官渡之战 B. 赤壁之战
C. 统一北方 D. 建魏称帝
- 如果你为历史剧《曹操》准备道具，你不应在剧中的餐桌上摆放的食品是()。

A. 玉米 B. 葡萄 C. 胡萝卜 D. 核桃
- 杜甫曾这样评价他的功绩“功盖三分国，名成八阵图”。“他”是指()。

A. 刘备 B. 诸葛亮 C. 周瑜 D. 曹操
- 奠定了三国鼎立局面基础的战役是()。

A. 巨鹿之战 B. 官渡之战
C. 赤壁之战 D. 淝水之战
- 下列历史事件的先后顺序是()。

①三顾茅庐 ②蜀汉建国 ③赤壁之战 ④东汉灭亡

A. ①③④② B. ④①③②
C. ②①④③ D. ④①②③
- 下列封建王朝中，其统治与西晋最相似的是()。

A. 秦朝 B. 夏朝 C. 西汉 D. 东汉
- 魏晋南北朝时期，江南经济得以开发的原因有()。

①江南地区自然条件优越 ②江南地区农业生产经验丰富
③北方战乱，人口南迁 ④江南地区社会比较安定

A. ①②③ B. ①③④ C. ②④ D. ①③
- 下列关于两晋南北朝时期江南经济发展的表现，叙述错误的是()。

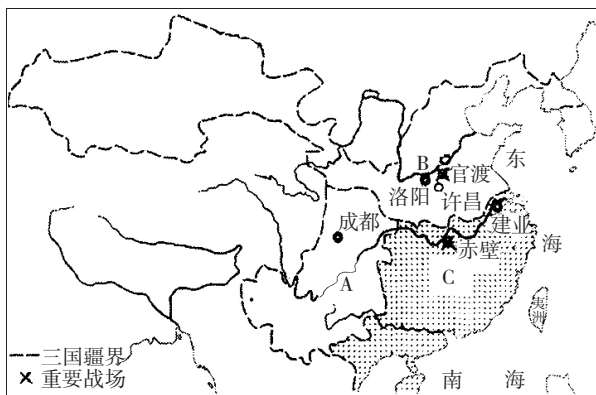
A. 南方形成了三个农业经济区
B. 南方经济已经超过北方
C. 丝织业成为南方经济的重要组成部分
D. 广州是新崛起的海外贸易港口城市
- 北魏孝文帝的改革措施中，对促进民族融合最有利的是()。

A. 迁都洛阳
B. 采用汉族官制、律令

- C. 以孝治国
D. 学说汉语、穿汉服与汉族通婚

二、非选择题

10. 在下图中填出 A、B、C 所示政权名称。



三国鼎立形势图

- A _____。
B _____。
C _____。

11. 阅读下列材料：

“老骥伏枥，志在千里；烈士暮年，壮心不已”

——曹操

请回答：

- 这首诗抒发了曹操的远大抱负和雄心壮志，想一想，他当时的雄心壮志是什么？
- 为什么曹操在官渡之战中以少胜多，而在赤壁之战中却以多败少？
- 赤壁之战所带来的影响是什么？
- 曹操在两次战争中的不同结局，给我们哪些启示？

发展等级模拟题组

一、选择题

- 三国鼎立局面出现的根本原因是()。

A. 三个相对独立的经济区域发展呈均势
B. 吴、蜀有优越的地理条件
C. 赤壁之战的影响

- D. 曹操、刘备、孙权都善于用兵
2. 刘邦能打败项羽，曹操能够战胜强敌统一北方，其共同原因是()。
- A. 据有关中 B. 废除苛法
C. 重视人才 D. 释放奴婢
3. 下列四个成语中，不是出自淝水之战的是()。
- A. 投鞭断流 B. 草木皆兵
C. 风声鹤唳 D. 破釜沉舟
4. 使曹操不敢轻易南下，形成三国鼎立局面的战争是()。
- A. 巨鹿之战 B. 官渡之战
C. 淝水之战 D. 赤壁之战
5. 有人认为：“三国两晋南北朝时期，经济长期遭到破坏，政治动荡不安，长期分裂割据，人心涣散，实是我国历史上的黑暗时代，应当完全否定。”这种观点否定和违背了()。
- ①科技文化的进步 ②江南经济的发展 ③民族融合的作用 ④人民群众的向心作用
- A. ①② B. ②③
C. ①②④ D. ①②③④
6. 从三国后期到两晋初期，位于北方地区的政权战胜其他割据政权，形成统一的根本原因是()。

- A. 北方地区出现了民族大融合的趋势
B. 北方地区的社会经济发展程度高于南方地区
C. 北方政权进一步完善了专制主义的中央集权制度
D. 北方政权成功地削弱了地方势力
7. 下列不属于孝文帝迁都原因的是()。
- A. 旧都气候干燥，粮食不能满足众多人口的需求
B. 有利于学习汉族先进文化
C. 原都城位置偏北，不利于统治广大中原地区
D. 对南征有利
8. 下列改革中，促进了民族融合，加速了少数民族封建化进程的是()。
- A. 管仲改革 B. 商鞅变法
C. 北魏孝文帝改革 D. 王安石变法

二、非选择题

9. 结合史实简要分析三国两晋南北朝时期北方经济和南方经济的各自特点，并说明产生这些特点的原因。
10. 今天，对于北魏孝文帝的改革，史学界有两种观点。一种观点认为，孝文帝主持的改革，加速了北魏国家和鲜卑民族的衰亡，消极作用大于积极作用；另一种观点认为孝文帝的改革，促进了北方民族大融合，积极因素远远大于消极因素。你同意哪一种观点？请说明你的理由。