

## 能力训练 63 世界地理分论

## 一、选择题：

1. 东亚东部 ( )

- A. 大陆性气候显著 经济以畜牧业为主  
 B. 海洋性气候显著 工农业发达  
 C. 季风性气候显著 雨热同期 农业较发达  
 D. 有世界著名的临海型工业区和沿海工业地带，形成东亚工业区域

解析：东亚东部是世界上著名的季风气候区，而非大陆性气候显著区和海洋性气候显著区。季风气候的突出优点是雨热同期，有利于农业生产。东亚有世界著名的加工贸易型国家——日本，工业分布在太平洋沿岸和濑户内海沿岸，属临海型工业区。东亚有中国东部沿海工业地带，中国深圳、香港、台湾和韩国、新加坡工业发达，形成工业新月地带。

答案：C、D

2. 关于日本地理特征的叙述 不正确的是 ( )

- A. 地狭人稠 B. 多火山、地震  
 C. 多优良港湾 D. 境内平原面积广阔

解析：此题要求选不正确的答案，“地狭人稠”、“多火山地震”、“多优良港湾”都是正确的，只有“境内平原面积广阔”是错误的，日本境内多山，国土的四分之三以上是山地和丘陵，仅在沿海一带分布着狭小的平原。

答案：D

3. 东亚深居内陆，人口稀少，经济以畜牧业为主的 国家是 ( )

- A. 中国 B. 日本 C. 朝鲜 D. 蒙古

解析：选项中的四个国家，中国是临海国，经济特点是工农业迅速发展的社会主义国家；日本是一个岛国，它是现代化工业发达的国家；朝鲜是半岛国家，森林、矿产丰富，社会主义建设取得很大成绩；蒙古深居内陆，人口稀少，经济以畜牧业为主。

答案：D

4. 下列“河流——河口城市——注入海洋”的组合中，正确的是 ( )

- A. 湄公河——曼谷——泰国湾  
 B. 莱茵河——鹿特丹——北海  
 C. 亚马孙河——圣保罗——大西洋  
 D. 密西西比河——休斯敦——墨西哥湾

解析：此四条河中，课文对莱茵河及其注入的海洋和河口城市作了重点强调，所以很容易选出。

答案：B

5. 关于日本农业生产的叙述正确的是 ( )

- A. 日本人多地少，人均耕地更少  
 B. 日本农业生产实行大型机械化作业  
 C. 日本农业实行精耕细作，农业亩产高  
 D. 日本粮食作物以小麦、玉米为主

解析：由于日本多山，国土的 3/4 是山地和丘陵，平原面积不大，并且地块小，只适合小型农业机械。由于实行机械化、水利化，合理施用化肥，精耕细作，亩产高。农作物以水稻为主，稻米产量已能自给。

答案：A、C

6. 关于蒙古的叙述 正确的是 ( )

- A. 蒙古人口密度约 5 人/平方千米，是个地广人稀的国家  
 B. 蒙古是一个高原国家，北部和西北部地势较高，中部和东部有杭爱山脉和肯特山脉，东南部地势平坦  
 C. 克鲁伦河沿河地带是蒙古主要的耕作区，也是蒙古人口稠密的地区  
 D. 蒙古境内 90% 以上为温带草原，畜牧业发达

解析：蒙古面积为 156 万多平方千米，人口为 220 多万，平均人口密度为每平方千米一个多人；色楞格河沿河地带是蒙古以种植麦类为主的耕作区，也是蒙古人口稠密地区；蒙古属典型温带大陆性气候，境内戈壁、沙漠都有相当分布，畜牧业占重要地位。

答案：B

7. 中南半岛地形分布的特点是 ( )

- A. 以高原为主 B. 以平原为主  
 C. 以山地为主 D. 山河相间、纵列分布

解析：此题考查学生对中南半岛地形分布特点的掌握情况。中南半岛北部地势高峻，与中国西南部山水相连，高山、大河由此向南延伸，形成山河相间，纵列分布的形势。

答案：D

8. 东南亚最大的平原是 ( )

- A. 湄公河平原 B. 湄南河平原  
 C. 伊洛瓦底江平原 D. 萨尔温江平原

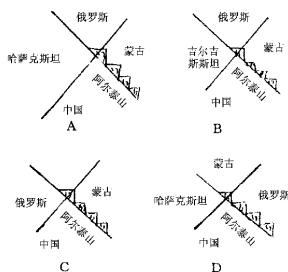
解析：此题考查学生对东南亚地形区的掌握情况。东南亚的平原多分布在沿河和沿海一带。河流的下游河谷变宽，水流缓慢，泥沙沉积，河岸两侧形成较大的冲积平原，湄公河平原是东南亚最大的平原。

答案：A

9. 根据图中所示直线示意国界线判断正确的是 ( )



## 第三部分 单元综合测试



解析 解答本题的关键在于牢固掌握我国新疆自治区与中亚各国的相对位置关系。首先是本图中体现的我国最西北的东南西北走向的阿尔泰山位于中、蒙、俄、哈四国之间,地理位置特别重要。其次是在我国西北与其相邻的国家按逆时针方向应是蒙古、俄罗斯、哈萨克斯坦、吉尔吉斯斯坦、塔吉克斯坦、阿富汗等。

答案 :A

10. 关于东南亚华侨和华人的叙述,正确的是 ( )

- A. 东南亚是华侨和华人分布最集中的地区  
B. 他们的祖先大多是中国广东、福建人  
C. 已经取得所在国国籍的人,称为华侨  
D. 没有取得所在国国籍,仍保留中国国籍的人,称为华人

解析 在旧中国,广东、福建(又称侨乡)的居民为生活所迫,大批漂洋过海,下南洋(东南亚)谋生。后来,许多华侨及其子女取得了所在国的国籍,这部分人被称为华人,还有少数保留中国国籍的人,称为华侨,东南亚是华人和华侨分布最集中的地区,且在有些国家中所占比重很大。

答案 :A、B

11. 印度经济作物与其主要分布地区搭配正确的是 ( )

- A. 甘蔗——西北地区  
B. 水稻——东北部及半岛沿海地区  
C. 茶叶——德干高原  
D. 黄麻——印度河流域

解析 作物都有一定的生长习性,它们的分布与水热、土壤、地形等有密切关系。题设中圈定是印度的经济作物分布,D项“黄麻”相对应的“印度河流域”属于巴基斯坦,应排除;A项中的“甘蔗”喜水肥,而印度西北比较干旱;C项中“茶叶”,在多雨的气候及排水较好的坡地才能生长得较好;只有B项正确。印度的东北部为西南季风的迎风坡,降水丰富,该地区有著名的“雨极”——乞拉朋齐。半岛沿海地区降水量也很

大,能满足水稻的生长。因此,做题时一定要把握好题干与选项的关系。

答案 :B

12. 澳大利亚大陆上动物演化缓慢的证据是至今生活着 ( )

- A. 有袋类动物和卵生哺乳动物  
B. 水中哺乳动物和陆地哺乳动物  
C. 水中有袋类动物和不能飞行的鸟类  
D. 食蚁兽、鸸鹋和企鹅及古老动物

解析 本题从一个新的角度考察澳大利亚的动物,要与有关动物进化方面的生物结合起来考虑。

答案 :A

13. 撒哈拉以南非洲的人文地理的主要特点是 ( )

- A. 非洲的中部、南部是世界黑种人的故乡  
B. 非洲南部是阿拉伯世界的一部分  
C. 黑种人各部族有各自的语言、风俗和原始宗教  
D. 非洲南部居民多信奉伊斯兰教

解析 解答该题应该明确,南部非洲与北非在自然与人文地理方面是有区别的。对各选项进行筛选时:①回忆“撒哈拉以南的非洲人口中,90%以上的是黑种人,非洲中南部是世界黑种人的故乡”这部分知识,可以肯定选项A是符合题意要求的。②因为阿拉伯人主要分布在北非,这里虽然也有阿拉伯人,但人数很少,所以选项B不符合题意。③黑种人中的部族很多,他们各自都有自己的语言、风俗习惯和宗教信仰,所以选项C是正确的。④黑人的原始宗教很多,北非的居民多信奉伊斯兰教,而南部非洲很少,所以选项D不符合题意。因此这道选择题的正确答案应为A、C。

答案 :A、C

14. 下列关于南亚和南亚次大陆的叙述,正确的是 ( )

- A. 南亚是指印度半岛以南的亚洲地区  
B. 南亚次大陆是指喜马拉雅山以南至印度洋的南亚大陆部分  
C. 南亚次大陆是指南亚地区除大陆以外的全部岛屿  
D. 南亚与南亚次大陆提法不同,但其含义相同

解析 南亚不仅包括印度半岛,还包括印度河平原和恒河平原,还有印度洋中的一些岛屿,选项A错误,南亚次大陆是指喜马拉雅山以南至印度洋的南亚大陆部分,不包括印度洋中的岛屿。

答案 :B

15. 关于西亚地理的叙述 ( )



- A. 濒临黑海、地中海、红海、阿拉伯海、里海  
B. 两河流域是指阿姆河的锡尔河流域  
C. 地形由两个高原和一个平原组成  
D. 国家都属于阿拉伯国家

解析: 西亚地理位置的重要性应包括两层意思: 一是“三洲五海之地”; 二是苏伊士运河、土耳其海峡和波斯湾的重要地位。

两河流域指底格里斯河和幼发拉底河, 主要分布在伊拉克境内, 注入波斯湾。阿姆河和锡尔河注入咸海, 都属于内陆地区的河、湖, 位于中亚地区。西亚地形由三个高原和一个平原组成, 即伊朗高原、阿拉伯高原、土耳其高原(安纳托利亚高原)和美索不达米亚平原(亦称两河平原)。

西亚地区绝大多数居民信奉伊斯兰教, 称其为阿拉伯人, 所在国大部分居民信奉伊斯兰教, 称阿拉伯国家。西亚不是所有国家都属于阿拉伯国家, 如伊朗、阿富汗、土耳其、以色列等, 就不属于阿拉伯国家。因此, 选项 B、C、D 不正确。

答案: A

16. 西亚与北非和欧洲分界的两个重要海峡是 ( )  
A. 霍尔木兹海峡      B. 曼德海峡  
C. 土耳其海峡      D. 直布罗陀海峡

解析: 解决本题的关键是熟悉并掌握地图。霍尔木兹海峡是波斯湾和阿拉伯海之间的重要通道, 全部位于西亚范围内; 曼德海峡是印度洋和红海之间的重要通道, 全部位于西亚和北非范围内; 土耳其海峡是黑海和地中海之间的重要通道, 是欧亚的分界; 直布罗陀海峡是地中海和大西洋之间的重要通道, 是欧非的分界。

答案: C、D

17. 澳大利亚著名的出口产品是 ( )  
A. 煤、石油、玉米、棉花  
B. 黄金、铁矿石、小麦、羊毛  
C. 小麦、羊毛、煤、铁矿石  
D. 金刚石、铜、羊毛

解析: 此题考查了澳大利亚的四大出口商品。澳大利亚的经济发展可以分为两个阶段: 第二次世界大战前, 经济以农牧业为主, 被称作“骑在羊背上的国家”, 主要出口商品是羊毛和小麦。第二次世界大战后, 经济的发展有了明显的变化, 工矿业收入已经超过农牧业, 成为国民经济的支柱, 特别是煤和铁矿石的出口, 在世界上占重要地位。因此, 澳大利亚又称为“坐在矿车上的国家。”因此, 澳大利著名的出口产品是小麦、羊毛、煤、铁矿石。

答案: C

18. 下列关于中亚地形区分布的叙述, 正确的是 ( )  
A. 西南部是与我国接壤的帕米尔高原  
B. 东南部是哈萨克丘陵  
C. 北部是里海沿岸平原  
D. 东部有绵延到我国新疆境内的天山山脉

解析: 与我国接壤的帕米尔高原在东南部, 哈萨克丘陵在北部、西部是里海沿岸平原, 所以 A、B、C 错误。

答案: D

19. 非洲是当今世界缺粮最严重的地区, 主要原因是 ( )  
A. 农业生产的自然条件差  
B. 粮食产量低, 年年减产  
C. 人口增长过快, 人口增长速度超过了粮食增长速度  
D. 耕地太少, 粮食总产量小

解析: 非洲粮食问题是由人口问题引起的, 非洲是世界上人口自然增长率最高的一洲, 人口增长过快, 人口增长的速度超过了粮食增长速度, 目前, 非洲是世界上缺粮最严重的地区。

答案: C

20. 关于北亚的叙述, 正确的是 ( )  
A. 东临太平洋, 西临大西洋  
B. 是一个地广人稀的地区  
C. 北亚也称西伯利亚  
D. 是黄种人聚居地区

解析: 北亚又称西伯利亚, 为俄罗斯领土, 分布着黄种人和白种人, 但不是黄种人聚居地区。北亚西起乌拉尔山, 东到太平洋, 北临北冰洋, 南临东亚国家, 面积约占亚洲面积 25%, 人口仅占亚洲人口的 1.2%, 是一个地广人稀的地区。

答案: B、C

21. 撒哈拉以南的非洲分布最广泛的气候类型是 ( )  
A. 热带雨林气候      B. 热带草原气候  
C. 热带沙漠气候      D. 地中海气候

解析: 此题目的目的在于让学生读撒哈拉以南非洲气候类型分布图, 了解本区的气候分布特点。通过读图很明显地知道本区分布最广泛的气候类型是热带草原气候。

答案: B

22. 目前撒哈拉以南非洲面临的主要问题是 ( )  
A. 干旱、能源和资源问题  
B. 人口、粮食和环境问题  
C. 人口、粮食和能源问题  
D. 宗教、资源和环境问题

解析: 解答本题的关键是抓住人口增长过快导



## 第三部分 单元综合测试

致粮食不能自给,粮食不能自给导致开垦草原种植庄稼,草原过度放牧,产生环境问题。特别是撒哈拉以南人口出生率高达 30%,粮食问题更为严重。本区长期受殖民统治,放牧业落后,产量极低。人们为了维持生存,使用很原始的方法,砍伐森林,开垦草原,种植庄稼,过度放牧带来了土地肥力下降。草原退化、沙漠面积扩大等一系列环境问题。

答案 B

23. 造成“狮身人面像”缺损严重的主要自然因素是 ( )

A. 河流侵蚀作用 B. 风化和侵蚀作用  
C. 喀斯特作用 D. 海蚀作用

解析 埃及的金字塔不在海岸边;“狮身人面像”缺损严重不可能是海蚀作用造成的,金字塔位于沙漠气候区,降水稀少;“狮身人面像”缺损严重也不可能是河流侵蚀作用、喀斯特作用造成的,只能是风化和风蚀作用造成的。

答案 B

24. 关于欧洲西部的叙述,正确的是 ( )

A. 地形以平原为主  
B. 主要的内海有北海和波罗的海  
C. 北部有著名的阿尔卑斯山脉,南部是斯堪的纳维亚山脉  
D. 气候深受大西洋影响,海洋性特征显著

解析 选项 A 是欧洲的地形特点,本区地形以平原和山地为主;B 选项中北海应属边缘海;C 选项把北部和南部山脉名称写颠倒了,所以只有 D 选项正确。

答案 D

25. 下面关于欧洲西部气候的叙述,正确的是 ( )

A. 欧洲西部气候深受大西洋影响,具有温和湿润的气候特征  
B. 欧洲西部气候具有季风性特征  
C. 欧洲西部气候自西向东由海洋性向大陆性过渡  
D. 欧洲西部气候自西向东由季风气候向大陆性气候过渡

解析 本题考查欧洲气候特征,关键是排除欧洲到西部具有季风气候特征。本区由于所处的纬度位置和海陆位置以及自身的地形、海岸线等特征,气候深受海洋影响,与同纬度的其它地区相比,冬季比较温和,夏季比较凉爽,降水的季节分配也较均匀,气候的海洋性特征显著。同时由于欧洲西部各地距海远近不同,各地受海洋影响的强弱也有差别,因此,自西向东海洋性逐渐减弱,大陆性逐渐加强。

答案 A、C

26. 欧洲西部的地理特征有 ( )  
A. 冰川地貌分布较广  
B. 气候南北向差异大,东西向无明显差异  
C. 河网密布,水量充沛  
D. 人口密度自西向东锐减

解析 本题仍是以“个案”考查分区地理。欧洲西部南北、东西方向上气候差异都比较明显,人口分布与工业地带分布相似,略呈十字形,因此 A、C 正确。

答案 A、C

27. 有“无流国”之称的国家是 ( )

A. 沙特阿拉伯 B. 土耳其  
C. 埃及 D. 伊拉克

解析 土耳其和埃及不在阿拉伯半岛上,“无流国”是指阿拉伯半岛上的沙特阿拉伯、科威特、阿曼等七国由于降水少,地面没有河流,被叫做“无流国”,伊拉克境内有底格里斯河和幼发拉底河,因此不是无流国。

答案 A

28. 中亚干旱的温带大陆性气候形成的根本原因是 ( )

A. 高原沙漠广布  
B. 降水稀少  
C. 植被以草原、荒漠为主  
D. 深居亚欧大陆内部

解析 此题考查中亚干旱的温带大陆性气候形成的根本原因。降水稀少、沙漠广布、景观以草原和荒漠为主,是气候干旱的表现,不是气候干旱的原因。中亚深居亚欧大陆内部,距海遥远,降水稀少,因而气候干旱。

答案 D

29. 美国与中国的地理特征相似之处有 ( )

A. 均有寒潮天气现象  
B. 平原主要分布在东部沿海地区  
C. 主要大河都自西向东流  
D. 气候的大陆性特征都比较明显

解析 对中国、美国的天气、气候、地形等自然因素进行分析比较,可以得出 B、C 是错误的。

答案 A、D

30. 1997 年爆发了金融危机的地区是 ( )

A. 南亚 B. 东亚 C. 东南亚 D. 中亚

解析 1997 年中期开始的东南亚金融危机波及到亚洲、俄罗斯和拉丁美洲,甚至影响到世界经济增长的总体速度,这次金融危机对我国和香港特别行政区的影响也比较大,这类时事性质的地理知识同学们一定要多加关注。

答案 C



31. 有关美国的叙述正确的是 ( )
- A. 东北部工业区和乳畜带的范围基本相同  
B. “硅谷”主要分布在地中海气候区  
C. 农业现代化侧重生物技术和水利的发展  
D. 是输出农产品最多国家,不需要进口农产品
- 解析:解答本题的关键是联系高中地理内容分析美国具体的地理现象。美国东北部工业区分布在五大湖附近到大西洋沿岸,与乳畜带范围大致一样;硅谷分布在旧金山,位于 $30^{\circ}\text{N}$ — $40^{\circ}\text{N}$ 的大陆两岸,属地中海气候;美国国土广大,劳力不足,农业侧重高度机械化;美国虽然是世界上输出农产品最多的国家,但热带作物面积较少,需进口咖啡、可可、橡胶、香蕉等热带农林产品。
- 答案:A、B
32. 下列各组港口中,都属于北大西洋沿岸大港的是 ( )
- A. 波士顿、汉堡、安特卫普  
B. 鹿特丹、圣保罗、开普敦  
C. 伦敦、悉尼、圣佛朗西斯科  
D. 纽约、利物浦、蒙特利尔
- 解析:本题主要考查学生地理事物的空间分布的想象能力。B、C两项很容易被排除。
- 答案:A、D
33. 现在拉丁美洲的许多国家都通行的语言是 ( )
- A. 汉语                      B. 英语  
C. 法语                      D. 西班牙语
- 解析:西班牙殖民者曾经占领了美洲的许多地方,西班牙语就逐渐取代了当地的语言,现在拉丁美洲的许多国家都通行西班牙语。
- 答案:D
34. 下列城市中,既是首都,又是海港的南亚城市是 ( )
- A. 卡拉奇                      B. 科伦坡  
C. 曼谷                        D. 加德满都
- 解析:卡拉奇是巴基斯坦的最大城市和港口,但不是首都;科伦坡是斯里兰卡的首都,最大港口,印度洋航线上的重要中继站;曼谷和加德满都虽都是首都,但不是港口。
- 答案:B
35. 有关拉丁美洲国家经济发展的叙述,正确的是 ( )
- A. 巴西、智利和古巴等均属发达国家  
B. 拉丁美洲各国均属于发展中国家  
C. 阿根廷的汽车和飞机制造业十分发达  
D. 单一性产品经济在南美洲诸国中已不复存在
- 解析:从拉丁美洲的经济发展看,各国均属发展

中国家。各国经济发展不平衡,有些国家的民族工业得到了迅速发展,比如巴西,钢铁、汽车和飞机制造业迅速发展;有些国家仍是单一产品经济,比如古巴,蔗糖作为本国的经济支柱。

答案:B

36. 全世界希望巴西着重保护的自然环境是 ( )
- A. 热带草原                  B. 野生动物  
C. 热带雨林                  D. 亚马孙河水源

解析:此题四个选项的自然环境都应该加以保护,如果一旦破坏,会造成不同范围的影响。审题时要抓住“全世界”这一关键词,因为这片世界上面积最大的热带雨林如果丧失不仅动植物资源遭到破坏,全球的气候也将受到影响。保护热带雨林已成为全球人类普遍关心的问题。

答案:C

37. 加拿大与美国相同的地理特征有 ( )
- A. 本国自然资源贫乏,主要靠进口  
B. 因纽特人是主要少数民族  
C. 主要工业都集中在各自国家的东南部  
D. 都濒临大西洋、太平洋和北冰洋

解析:美国和加拿大两国自然资源都比较丰富;因纽特人主要分布在加拿大;加拿大的工业集中在其东南部,美国的工业集中在其东北部。从此可以看出A、B、C三项叙述都是错误的。

答案:D

38. 关于德国的叙述,正确的是 ( )
- A. 德国是现代化工业高度发达的国家  
B. 德国是欧洲人口最多的国家  
C. 德国石油和铁矿石产量居世界前列  
D. 慕尼黑是德国最重要的工业区

解析:德国是欧洲西部人口最多的国家,欧洲人口最多的国家应为俄罗斯;德国褐煤和钾盐产量居世界前列,石油、铁矿石主要靠进口;德国最重要工业区为莱茵——鲁尔区。

答案:A

39. 南极洲有世界寒极之称,酷寒的原因是 ( )
- A. 南极洲跨经度最广  
B. 南极洲所处纬度最高  
C. 南极洲是冰雪覆盖的高原  
D. 南极洲海岸平直,受海洋影响小

解析:解答本题的关键是掌握影响气候的因素。南极洲地处高纬太阳辐射弱;地势高,终年被厚厚的冰雪所覆盖。冰雪具有极强的反射阳光的能力。南极洲位于强大的高压区,盛行极地东风从大陆吹向海洋,风速达12级风的三倍,最大可达100米/秒,全年大部分地区平均气温在 $-25^{\circ}\text{C}$ 以下,极端最低温达 $-88^{\circ}\text{C}$ 以下,成为名符其实的寒极。



答案 B、C

40. 下列关于俄罗斯位置、范围的叙述,正确的是 ( )

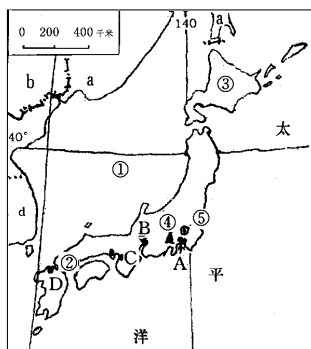
- A. 欧洲部分面积大于亚洲部分面积的传统欧洲国家
- B. 是世界上所跨经度最广的国家
- C. 北回归线穿过国土北部,纬度高
- D. 西临太平洋,东临波罗的海,北临北冰洋的临海国家

解析:俄罗斯的领土中,欧洲部分约占四分之一,选项 A 错误。北极圈穿过国土北部,选项 C 错误。俄罗斯西濒波罗的海,东临太平洋,北靠北冰洋,所以选项 D 错误。俄罗斯所跨经度为 160°左右,是世界上所跨经度最广的国家。

答案 B

二、综合题:

1. 读图并回答下列问题:



(1) 国家名称:a 是 \_\_\_\_\_, b 是 \_\_\_\_\_, d 是 \_\_\_\_\_。

(2) 海域和岛屿名称 ① 是 \_\_\_\_\_ 海, ② 是 \_\_\_\_\_ 海, ③ 是 \_\_\_\_\_ 其附近海域有世界著名的大渔场,是由 \_\_\_\_\_ 暖流和 \_\_\_\_\_ 寒流交汇形成的。

(3) ④ 是 \_\_\_\_\_ 山,是著名的活火山;⑤ 是 \_\_\_\_\_ 平原,为日本最大的平原。

(4) 著名工业城市:A 是 \_\_\_\_\_, B 是 \_\_\_\_\_; C 是 \_\_\_\_\_, D 是 \_\_\_\_\_。由此可以看出,日本工业主要集中在 \_\_\_\_\_ 沿岸和 \_\_\_\_\_ 沿岸。而新兴微电子工业多分布在 \_\_\_\_\_ 南部和 \_\_\_\_\_ 东北部。

解析:日本不仅在东亚占重要地位,在世界范围内也有重要影响,所以一定要重点掌握。特别是日本的工业,在 70 年代之后,工业生产稳步增长,并与当时的欧洲经济共同体、美国并列,成为世界工业最发达的三极。日本虽然国内资源贫乏,国内

市场狭小,但其利用得天独厚多优良港湾的有利条件,大力发展海上航运,进口原料,出口产品,积极发展两头在外的产业,从而使经济迅速发展。其新兴的工业,特别是微电子工业,由于对环境要素要求较高,多向老工业区以外环境优美的地带扩展,特别是九州南部和本州东北部。

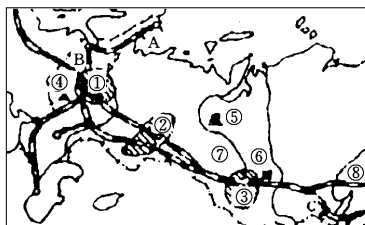
答案 (1) 俄罗斯 中国 韩国

(2) 日本 濑户内 北海道 日本 千岛

(3) 富士山 关东平原

(4) 横滨 名古屋 大阪 北九州 太平洋 濑户内海 九州 本州

2. 读“俄罗斯铁路、矿产和工业分布示意图”,完成下列问题:



(1) 城市名称:

A. \_\_\_\_\_ B. \_\_\_\_\_ C. \_\_\_\_\_

(2) 填表回答①②③三个工业区的名称和主要工业部门:

代号	工业区名称	主要工业部门
①		
②		
③		

(3) 矿产地:④ \_\_\_\_\_, ⑤ \_\_\_\_\_, ⑥ \_\_\_\_\_。

(4) 铁路名称:⑦ \_\_\_\_\_, ⑧ \_\_\_\_\_。

解析:本题主要考查俄罗斯工业、矿产、城市、铁路等方面的知识,判读时应联系周围地物进行辨别。A、B 两地分别濒临北冰洋和波罗的海,应为摩尔曼斯克和圣彼得堡,C 地位于贝加尔湖畔,并有铁路通过,则为伊尔库茨克;工业区和铁路名称可根据相互位置辨别;矿产地关键在于明确各图例代表的矿产名称。

答案 (1) A. 摩尔曼斯克 B. 圣彼得堡 C. 伊尔库茨克

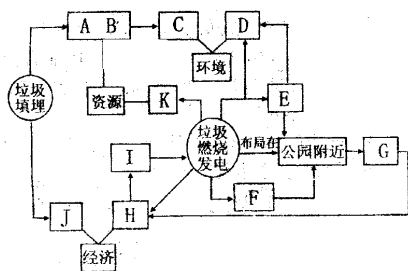
(2) ①莫斯科工业区,机械、化学、多种轻工业;②乌拉尔工业区,钢铁、机械工业;③新西伯利亚工业区,重工业、军事工业

(3) ④库尔斯克 ⑤秋明油田 ⑥库兹巴斯

(4) ⑦西伯利亚大铁路 ⑧贝阿铁路



3. 下面是某城市垃圾处理的两种方法,它对资源、经济、环境有不同的影响,按相关关系将图中的代码分别填入各项前的括号内。

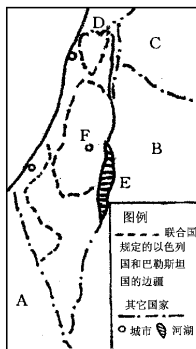


- ( ) 电厂内植树种花,和公园融为一体
- ( ) 公园规模扩大,景区增加
- ( ) 大量资金用于掩埋、征地、工资支出
- ( ) 经济收入增加
- ( ) 增加收入,再投资建电厂,绿化及废物处理
- ( ) 电厂建筑讲究艺术性,和公园融为一体
- ( ) 垃圾资源用于发电、回收利用
- ( ) 环境得到保护
- ( ) 占用大量土地资源
- ( ) 环境质量下降
- ( ) 造成二次污染,影响环境资源的质量

答案:从上到下依次为 EGJHIFKDA 或 BCA 或 B

4. 读右图回答:

- (1) 该图所示是\_\_\_\_\_及其附近地区,该地区局势长期以来动荡不安,主要是因为\_\_\_\_\_和\_\_\_\_\_两大民族间存在着难以调和的矛盾。

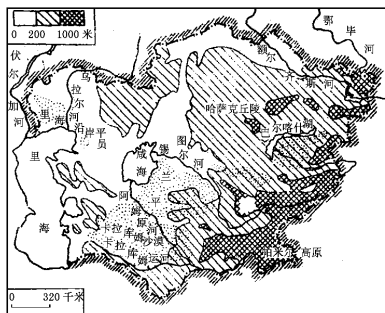


- (2) 填出图中国家的名称:A \_\_\_\_\_, B \_\_\_\_\_, C \_\_\_\_\_, D \_\_\_\_\_。

- (3) 图中湖泊 E 的名称是\_\_\_\_\_,其湖面与珠穆朗玛峰的相对高度为\_\_\_\_\_米;该湖泊的成因是\_\_\_\_\_。
- (4) 图中 F 是被三大宗教奉为“圣地”的\_\_\_\_\_市,这三大宗教是\_\_\_\_\_。
- (5) 该地区最重要的水源是\_\_\_\_\_,此水源对该地区的重要性是\_\_\_\_\_。
- (6) 美国政府一直插手该地区事务的原因是:

- \_\_\_\_\_。
- 答案:巴勒斯坦 阿拉伯 犹太
- (2) 埃及 约旦 叙利亚 黎巴嫩
- (3) 死海 9248 米 断裂作用
- (4) 耶路撒冷 基督教 犹太教 伊斯兰教
- (5) 约旦河 是沿岸各国工农业生产和生活的重要水源
- (6) 该地区在美国全球战略中具有重要地位。

5. 读中亚图分析回答:



- (1) 中亚地形以\_\_\_\_\_和\_\_\_\_\_为主,最大的平原为\_\_\_\_\_平原,南部是与中国接壤的\_\_\_\_\_高原,东部有\_\_\_\_\_山脉。
- (2) 中亚深居内陆,气候是冬\_\_\_\_\_夏\_\_\_\_\_降水\_\_\_\_\_。大部分地区为干旱、半干旱气候,植被以\_\_\_\_\_、\_\_\_\_\_为主,在土库曼斯坦境内有著名的\_\_\_\_\_沙漠。
- (3) 中亚地处亚欧大陆\_\_\_\_\_部,连接\_\_\_\_\_、\_\_\_\_\_两大洲,这里是古代东西方陆上“丝绸之路”。现在,我国新疆境内的铁路与\_\_\_\_\_的铁路接通,为\_\_\_\_\_沿岸至\_\_\_\_\_沿岸架起了一座由铁路构成的“亚欧大陆桥”。

- (4) 简述“中国古代陆上“丝绸之路”概况。
- (5) 简述:中亚农业以畜牧业和灌溉农业为主的原因。

解析:本题考查学生对地理、历史的综合联系、分析能力。(100字左右)

知识点:中亚的地理位置、地貌与气候、丝绸之路。

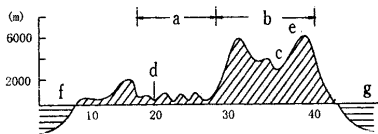
第四问注意“陆上”,主要从背景、途径、交流情况以及意义出发去答;第五问:从事农业生产应当因地制宜,即由中亚自然条件讲到农业生产。

- 答案 (1) 丘陵、平原、图兰、帕米尔、天山
- (2) 冷、热、稀少、草原、荒漠、卡拉库姆
- (3) 中、亚、欧、哈萨克斯坦、太平洋、大西洋
- (4) 陆地丝绸之路形成于西汉张骞、东汉班超出

使西域时期,东起长安、西通欧洲的商路,主要线路为:长安→河西走廊→玉门关→新疆→喀什→塔什库尔干→中亚地区及地中海沿岸。横贯亚欧大陆,将中国的丝绸及其他特产输往中亚、波斯和罗马等地。(丝绸之路全长7000多米),是古代历史上的一条商路。丝绸之路的开辟,促进了古代中国同西亚和欧洲的经济、文化交流和友好往来。

(5)人类活动与自然环境密切相关。中亚属于干旱、半干旱、荒漠为主的气候。多内流河、内陆湖。这些河流为农牧业生产提供了灌溉水源,多草原分布。从而使中亚农业以畜牧业和灌溉农业为主。

6. 读沿赤道所作非洲地形剖面图回答:



(1) 填出图中字母所代表的地理名称:

- a. \_\_\_\_\_ b. \_\_\_\_\_  
c. \_\_\_\_\_ d. \_\_\_\_\_  
e. \_\_\_\_\_ f. \_\_\_\_\_  
g. \_\_\_\_\_

(2) a 地形区是\_\_\_\_\_而形成的。

(3) b 地形区是\_\_\_\_\_气候,其成因是\_\_\_\_\_。

(4) d 河干流的中游和下游的特点是\_\_\_\_\_。

解析:本题提供的信息清楚,但具有一定的综合性,要求分析赤道通过地区的地形、气候的成因,河流各段的特征。

答案(1)刚果盆地,东非高原,维多利亚湖,刚果河,肯尼亚山,大西洋,印度洋

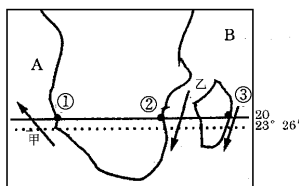
(2)地壳上升,河流下切,湖水外泄。

(3)热带草原气候,地势较高,气温较低,缺少形成热带雨林气候的条件。

(4)中游:落差很小,水流缓慢,河宽水深,利于航行。

下游:切穿西部高地,落差大,形成一系列瀑布,不能通航。

7. 读图回答下列问题:



(1) A 处为\_\_\_\_\_ (海域), B 处为\_\_\_\_\_ (海域)。

(2) 图中岛屿名称为\_\_\_\_\_, 其东部气候类型为\_\_\_\_\_。

(3) 洋流的名称为甲\_\_\_\_\_, 乙\_\_\_\_\_。

(4) 图中①、②、③三地降水量多少顺序哪个正确 ( )

A. →②<③> B. ≥②<③①

C. →②≥③< D. <②→③③

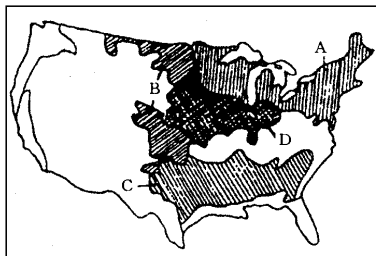
解析(1)由图的轮廓特征和纬度位置可以判断出,此图为非洲南部图,那么岛屿、海域以及洋流的名称就很好回答了。(2)马达加斯加岛东部位于迎风坡,受信风和暖流影响,雨量充足,属于热带雨林气候。(3)①、②、③处的降水量大小,应从洋流和风带两方面加以分析。

答案(1)大西洋 印度洋

(2)马达加斯加岛热带雨林气候

(3)莫桑比克暖流 本格拉寒流 (4)A

8. 读下图,完成下列要求:



(1) 图中字母代表的农业带(区)为:A \_\_\_\_\_、B \_\_\_\_\_、C \_\_\_\_\_、D \_\_\_\_\_。

(2) 图中反映出美国的农业特点:\_\_\_\_\_。

(3) 美国农业现代化侧重高度机械化,能源消耗太多,大量使用化肥、农药、除草剂、杀虫剂带来哪些问题?

答案(1)A. 乳畜带 B. 小麦区 C. 棉花带 D. 玉米带

(2) 地区生产专门化 (3)A、B (4)能源消耗太多,农业成本提高,自然资源和生态环境遭到破坏,环境污染严重。

9. 根据下图,回答:

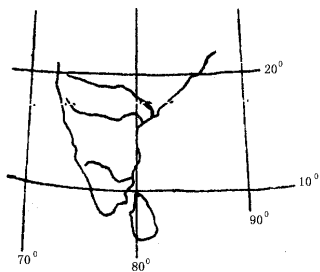
(1) 这个地区的地势倾斜方向为\_\_\_\_\_,判断的根据是\_\_\_\_\_。

(2) 这个地区的气候属于\_\_\_\_\_气候,其特征为\_\_\_\_\_,夏季盛行风向为\_\_\_\_\_风。

(3) 图中所示的岛屿为\_\_\_\_\_岛。

(4) 图中所示地区属于\_\_\_\_\_ (区域)。

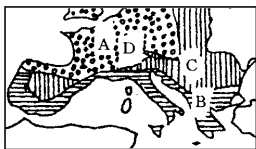




解析:由图中河流的流向可知,该地区的地势西高东低。由图中的经纬度和轮廓可知,该地区为南亚,图示的岛屿为斯里兰卡岛,该地区为热带季风气候。

- 答案 (1) 西高东低,河流的流向;  
 (2) 热带季风,全年高温,一年有明显的雨、旱两季,西南季;  
 (3) 斯里兰卡;  
 (4) 南亚。

10. 读“欧洲西部部分地区气候示意图”,回答:

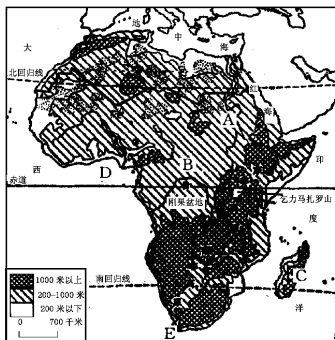


- (1) 图中 A、B、C、D 四种气候类型分别是:  
 A. \_\_\_\_\_, B. \_\_\_\_\_, C. \_\_\_\_\_, D. \_\_\_\_\_。  
 (2) 西部大西洋沿岸受 \_\_\_\_\_ 暖流和 \_\_\_\_\_ 影响,冬季比较 \_\_\_\_\_,夏季比较 \_\_\_\_\_,年降水量比较多,季节分配较均匀,属于 \_\_\_\_\_ 气候;往东,离 \_\_\_\_\_ 渐远,海洋影响逐渐减弱,气候的 \_\_\_\_\_ 逐渐增强。  
 (3) B 气候区的植被以 \_\_\_\_\_ 为主,有适应夏季 \_\_\_\_\_ 气候的耐旱特征。

解析:判读气候类型应依据影响各地气候的因素来分析,如位置,地形,洋流等。A 地位于大西洋沿岸,深受北大西洋暖流和西风影响,属于温带海洋性气候;B 地位于地中海沿岸,属地中海气候;C 地处于内陆,属温带大陆性气候;D 地位于阿尔卑斯山区,海拔高,属于高山气候。B 地植被特征应联系该地气候特点分析。

- 答案 (1) A. 温带海洋性气候 B. 地中海气候  
 C. 温带大陆性气候 D. 高山气候  
 (2) 北大西洋,西风,温和,凉爽,海洋性,大西洋,大陆性  
 (3) 常绿灌木,干热

11. 读下图,回答:



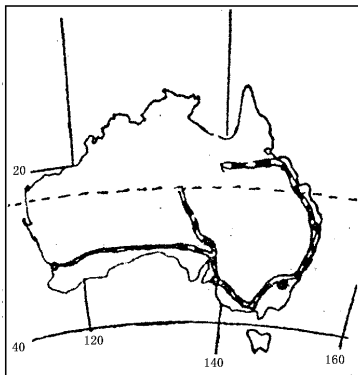
- (1) 将图中各字母代表的地理事物的名称填在下列横线上:  
 A \_\_\_\_\_ 河, B \_\_\_\_\_ 河, C \_\_\_\_\_ 岛, D \_\_\_\_\_ 湾, E \_\_\_\_\_ 角。  
 (2) 图中 A 河流的流向为 \_\_\_\_\_, B 河流的流向为 \_\_\_\_\_, 它们分别注入 \_\_\_\_\_ 和 \_\_\_\_\_。

(3) 根据两条河流流经的气候区,判断两条河流中水能蕴藏量丰富的是 \_\_\_\_\_。

解析:第(1)(2)小题主要考查地理事物的空间分布和河流流向,第(3)小题中,尼罗河流经热带草原气候区和热带沙漠气候区,刚果河主要流经热带雨林气候区,故刚果河水能资源丰富。

- 答案 (1) 尼罗,刚果,马达加斯加,几内亚,好望;  
 (2) 自南向北,由南向北再折向西南,地中海,大西洋;  
 (3) 刚果河。

12. 读图回答:



- (1) 澳大利亚的居民主要是 \_\_\_\_\_ 国移民后裔,通用语言是 \_\_\_\_\_。澳大利亚矿产丰富,我国也从澳大利亚进口 \_\_\_\_\_ 矿。澳大利亚



的首都是\_\_\_\_\_ (名称),2000年夏季奥运会在\_\_\_\_\_ (名称)举行,它是全国最大的工业中心和港口城市,气候类型属于\_\_\_\_\_ ( )

- A. 热带草原气候 B. 热带雨林气候  
C. 亚热带草原气候 D. 亚热带湿润气候

(2)为什么称澳大利亚为“骑在羊背上的国家”?

(3)为什么又称澳大利亚为“坐在矿车上的国家”?

(4)列表比较加拿大和澳大利亚两国在人口、城市分布方面的特征,并说明其自然原因和社会原因。

解析:考查考生对地理、历史知识的融会贯通能力。考查的知识点有:澳大利亚的语言、殖民宗主国、悉尼、牧业、矿业;人口及城市分布。

第2小题,通过养羊、羊毛出口作解答。第3小题,“二战”后,澳大利亚开发了本国丰富的矿产资源。第4小题,“社会原因”是欧洲殖民者的活动。

答案(1)英、英语、铁、③堪培拉、②悉尼、D

(2)澳大利亚发展养羊业具有很多有利条件:①草原肥美,分布广;②有地下水供羊饮用;③西部和内陆气候干燥,有适于绵羊生长繁殖的环境条件。因而,澳大利亚绵羊特别多,以出口羊毛著名世界,故被称为“骑在羊背上的国家”。

(3)①澳大利亚矿产资源十分丰富,铁、煤、铝土、锰等储量居世界前列;②“二战”后,澳大利亚发展了采矿、冶金、机械、化学等工业。③工矿业出口的收入超过农牧业,已成为国民经济的支柱,因此澳大利亚被称为“坐在矿车上的国家”。

(4)

国家	人口、城市分布特点	自然原因	社会和历史原因
加拿大	集中于南部走廊地带,北部人口、城市稀少	南部夏暖,经济发达,北部严寒,经济落后	欧洲殖民者先在南部走廊开发经营
澳大利亚	集中于东南沿海地区,中西部人口城市少	东南部温暖湿润,经济发达;中西部干旱,多沙漠	欧洲殖民者先在东南沿海开发经营

13. 读图并回答下列问题:

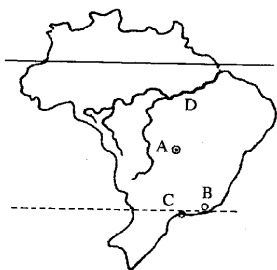
(1)A地是\_\_\_\_\_市,B是\_\_\_\_\_市,C是\_\_\_\_\_市,D是\_\_\_\_\_河。

(2)巴西的人口主要分布在哪里,其原因是什么?

(3)巴西的主要工业部门有\_\_\_\_\_ ( )

- A. 钢铁和汽车 B. 化学和石油  
C. 飞机和造船 D. 食品纺织

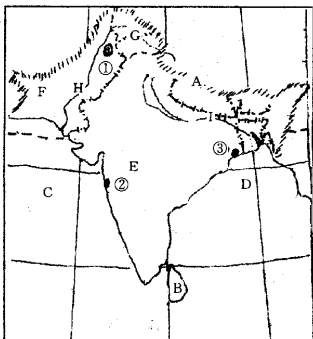
(4)亚马孙河成为世界上水量最大的河流原因是什么?



解析(1)首先仔细阅读巴西空白图,根据巴西三大城市的位置,分别填出它们的名称。(2)明确巴西各地气候和交通条件,联系学过的有关巴西人口分布知识,结合“巴西人口分布图”,解答第(2)题。(3)根据巴西的矿产资源情况以及该国在世界上占重要地位的工业部门完成第(3)题的选择。(4)河流水量大小受该河流域降水量的影响,解答第(4)题,要从分析亚马孙平原降水丰富的原因入手。

答案(1)巴西利亚;里约热内卢;圣保罗;亚马孙河 (2)主要分布在东南部沿海地区。其原因是:海上交通方便,欧洲殖民主义者和黑人最早到达这里,开发历史悠久;地势较为低平,利于耕作,工业发达 (3)A、C (4)地处赤道附近,受赤道低气压带影响,多上升气流,降雨丰富;平原地形及三面高向东敞开的地形山势,有利于大西洋水汽的进入;水汽进入内陆后,受三面高原、山地的抬升,多地形雨;地表水从三面向亚马孙河汇聚。

14. 读图,回答下列问题



(1)填写图中字母代表的地理事物的名称





地形区 A \_\_\_\_\_  
 岛屿 B \_\_\_\_\_  
 海域 C \_\_\_\_\_ D \_\_\_\_\_  
 河流 H \_\_\_\_\_ I \_\_\_\_\_。  
 国家 E \_\_\_\_\_ F \_\_\_\_\_。G 是 \_\_\_\_\_ 地区, 由于历史原因, 该地区使 E、F 两国冲突不断, 造成南亚军备竞赛, 引起国际社会的广泛关注。

城市: ① \_\_\_\_\_; ② \_\_\_\_\_, 为 \_\_\_\_\_ 纺织工业中心; ③ \_\_\_\_\_, 为 \_\_\_\_\_ 纺织工业中心。

(2) 在图中画箭头, 正确地表示南亚地区夏季风向。并说明该地区水旱灾害频繁的主要原因: \_\_\_\_\_。

解析: 对于南亚地区来说, 经济上虽然算不得发达, 自然环境却有一定的特殊性, 虽为亚洲一部分, 却属印度洋板块; 气候形成上, 不只是由于

海陆势力性质的差异, 还有气压带、风带的移动, 前面题中有牵涉, 本题就略去。城市的工业还牵涉着农业中经济作物的分布, 如孟买位于棉产区, 为棉纺织工业中心, 加尔各答位于黄麻产区, 为麻纺织工业中心, 另外, 南亚有些问题还是世界的热点, 比如稍稍降温的印巴核军备竞赛等。

答案 (1) A 喜马拉雅山 B 斯里兰卡岛 C 阿拉伯海 D 孟加拉湾 H 印度河 I 恒河 E 印度 F 巴基斯坦 G 克什米尔地区 ① 伊斯兰堡 ② 孟买 棉 ③ 加尔各答 麻

(2) 画图略。原因: 西南季风给本地区带来丰沛的降水, 但它极不稳定。有的年份西南季风来得晚, 或退得早, 或是风力太弱, 雨水就不足, 易成旱灾。有的年份西南季风来得早, 或退得晚, 或者风力太强, 雨水就过多, 易造成水灾。

## 能力训练 64 世界地理综合

### 一、选择题:

- 关于日本对外贸易的叙述, 正确的是 ( )
  - 最大的贸易对象是美国, 其次是中国
  - 向我国出口服装、煤、石油、棉花、水产、蔬菜、进口钢材、电子产品和其他工业品
  - 神户、横滨是两大外贸港
  - 大量进口的都是矿产品

解析: 日本最大的贸易对象是美国, 其次是亚洲和西欧, 不单单只有中国, 所以 A 选项错误, 日本向中国输入的商品是服装、煤炭、棉花、水产品、蔬菜, 向中国输出钢材、电子产品和其它工业产品, 所以 B 选项错误, 日本大量进口的不都是矿产品还有棉花, 100% 进口, 所以 D 选项错误。

答案: C

- 世界上最繁忙的海运航线是 ( )
  - 欧洲沿海航线
  - 北大西洋航线
  - 好望角航线
  - 北太平洋航线

解析: 欧洲和北美洲是世界上经济最发达的两个地区, 它们的经济重心又都集中在北大西洋沿岸, 它们之间的贸易量很大, 所以北大西洋航线最繁忙。

答案: B

- 下列气候中, 干季是在副热带高压带控制下的是 ( )
  - 地中海式气候
  - 亚热带季风气候
  - 热带草原气候
  - 热带雨林气候

解析: D 项终年多雨, 且分配均匀。A、B、C 三项

都有明显的干湿季。从成因上看, A 项的干季是在副热带高压带控制下形成的。

答案: A

- 发源于南亚地区的宗教主要是 ( )
  - 伊斯兰教和佛教
  - 印度教和佛教
  - 伊斯兰教和基督教
  - 印度教和天主教

解析: 本题主要是考查对南亚各国宗教情况了解的程度。宗教在南亚各国人民生活中, 具有举足轻重的地位, 对南亚国家的经济生活有着深刻的影响。南亚各国多信奉印度教、伊斯兰教和佛教。分析时可先把有天主教、基督教的答案排除。由于题干问的是发源于南亚的宗教, 因此再把含有起源于中东的伊斯兰教的答案排除, 最后得出正确答案为 B。

答案: B

- 世界上输出工农业产品数量最多, 产值最大的国家是 ( )
  - 俄罗斯
  - 中国
  - 日本
  - 美国

解析: 美国不仅是工业大国, 也是农业大国, 在国际贸易中, 其输出的工农业产品数量最多、产值最大。

答案: D

- 澳大利亚大陆沙漠和半沙漠分布很广的原因是 ( )
  - 东部大分水岭阻碍湿润气流深入



## 第三部分 单元综合测试

- B. 西部高原地势较高,阻碍西风气流深入  
C. 东南信风中大陆吹向海洋  
D. 广大地区受副热带高压带控制

解析:澳大利亚大陆介于 $10^{\circ}\text{S}$ — $40^{\circ}\text{S}$ ,南回归线横穿中部,广大地区受副热带高压带控制,炎热、干燥,形成沙漠或半沙漠景观,东部大分水岭阻挡太平洋湿润气流向内地深入,使内地干燥。

答案:A、D

7. 阿根廷的农产品出口到埃及,最短的海上运输线经过 ( )  
A. 大西洋、直布罗陀海峡  
B. 开普敦附近、印度洋、红海  
C. 巴拿马运河、直布罗陀海峡  
D. 莫桑比克海峡、苏伊士运河

解析:本题主要考查海洋交通知识和学生空间想象能力,最短的海上运输线首先横穿大西洋,然后过直布罗陀海峡。与其他三条路对比,判断A是正确的。

答案:A

8. 朝鲜半岛的河流多流入 ( )  
A. 渤海 B. 日本海 C. 黄海 D. 东海

解析:朝鲜半岛位于日本海和黄海之间,半岛东临日本海,西濒黄海,南临朝鲜海峡,半岛的河流不可能流入渤海和东海,故A、D答案是错误的;半岛的地势是东部和北部较高,南部和西部较低,半岛的河流多向西、向南流入黄海、朝鲜海峡。

答案:C

9. 好望角附近的气候类型是 ( )  
A. 热带雨林气候 B. 热带草原气候  
C. 热带沙漠气候 D. 地中海气候

解析:通过读图了解好望角的位置,然后读气候分布图得知该地是地中海气候。

答案:D

10. 斯堪的纳维亚半岛上湖泊众多,其成因多为 ( )  
A. 冰川作用形成的  
B. 地壳下陷形成的  
C. 海湾被沙堤与海隔开而逐渐形成的  
D. 泥沙淤塞部分河段而形成的

解析:地质时期,本地形成冰川,冰川消退后,冰碛物堆积成低丘,凹地积水成湖泊。

答案:A

11. 有关中亚地区的正确叙述有 ( )  
A. 中亚地区除西临里海外,其他三面均距海很远,深居内陆  
B. 中亚东南接海拔5000米左右的帕米尔高原,地势东南高,西北低

- C. 气候冬冷夏热,降水很少,形成大片沙漠  
D. 由于干旱少雨,河流都是内流河,湖泊面积小
- 解析:(1)解答前两选项,要联系“中亚地形图”的知识,明确中亚四周的大致界线,与哪些重要的地理事物相邻,平原、高原和山地是怎样分布的。在这些知识的基础上进行分析,做出选择。

(2)第C、D选项主要考查中亚自然环境方面的知识,要理解气候对一个地区其他地理要素(如:水文植被、土壤)影响很大。要思考中亚地区是否降水少,形成沙漠没有,河流是否都是内流河,并和课本内容一一对证,待确定无疑时再做选择。

答案:A、D

12. 赤道穿过的大洲中,面积最大的是 ( )  
A. 亚洲 B. 非洲 C. 大洋洲 D. 南美洲

解析:本题主要考查学生对大洲和大陆的区别和联系是否清楚。大洲不仅包括大陆的全部,还包括大陆周围的岛屿,所以赤道虽未穿过亚洲大陆,但却穿过其周围的岛屿,也属于被赤道穿过的大洲。

答案:A

13. 有关拉丁美洲的叙述,正确的是 ( )  
A. 除巴西外,都是发展中国家  
B. 香蕉、咖啡产品商品率很高,但生产和消费多受外国资本的控制  
C. 二战后人口自然增长率较高,农业人口多,城市化进程速度比发达国家慢得多  
D. 巴西是拉丁美洲面积最大的国家,阿根廷是世界粮食出口国

解析:巴西已形成比较完整的工业体系,但仍然是发展中国家。二战后,拉丁美洲城市化进程比发达国家快。B和D叙述正确。

答案:B、D

14. 目前撒哈拉以南非洲面临的主要问题为 ( )  
A. 干旱、能源和资源问题  
B. 人口、粮食和环境问题  
C. 人口、粮食和能源问题  
D. 宗教、资源和环境问题

解析:撒哈拉以南许多国家人口迅速增长,超过了粮食和经济增长的速度。现在非洲的人口自然增长率在世界各大洲中居首位,约为28%,撒哈拉以南更高达30%,许多国家粮食还不能自给。由于人口增长过快,需要更多的粮食和肉类,可是本区长期在殖民统治下,农牧生产落后,产量很低。人们为了维持生存,使用很原始的方法,砍伐森林,开垦草原,种植庄稼,或在草原地区放牧过多的牲畜,带来一系列环境问题,如土地肥力丧失,草原退化,沙漠面积扩大。



答案 B

15. 有关美国地理知识的叙述, 正确的是 ( )
- A. 美国矿产资源比较贫乏, 工业生产原料进口量很大
- B. 密西西比河和五大湖为美国灌溉、航运和发电提供了良好的条件
- C. 美国地处北美大陆中部, 缺失热带、寒带和亚寒带气候
- D. 美国是一个单一民族国家, 居民以欧洲白种人移民的后代为

解析 此题是对美国地理知识的综合考查, 要逐项分析, 才能得出正确答案。美国是一个矿产资源丰富的国家, 而 A 项中说其矿产资源贫乏, 所以 A 是错误的。B 项的叙述是正确的。C 项只注重本土而忽略了两个海外州, 不正确。D 项也不正确, 因为美国是一个多种族和多民族的国家。

答案 B

16. 俄罗斯的农业带主要分布在: ( )
- A. 西伯利亚平原 B. 东欧平原
- C. 鄂毕河流域 D. 乌拉尔河流域

解析 解答本题的关键是了解欧洲的气候, 俄罗斯全国普遍纬度较高, 冬季长而严寒, 夏季短而温暖, 属大陆性气候。西部的东欧平原部分受大西洋影响, 气候比较温和, 而东部的亚洲部分受极地大陆气团影响, 冬季非常寒冷, 北冰洋沿岸则是终年严寒的极地气候, 所以发展农业的气候。主要分布在东欧平原地区。这里的中部和南部有伏尔加河和顿河的水源, 且纬度相对较低, 是较温暖的地方, 全国大部分的农业集中分布在这里, 因此, 俄罗斯的农业带主要分布在东欧平原。

答案 B

17. 某国首都有著名的古斗兽场, 对于该国的叙述, 正确的是 ( )
- A. 该国现代足球联赛风靡世界
- B. 该国气候类型主要为温带海洋性气候
- C. 该国是欧洲经济最发达的国家
- D. 该国南部塔兰托的钢铁工业布局为临海型

解析 此题视角新, 联系面广。它牵涉到旅游、气候、经济工业布局以及我们平时的文化娱乐(看电视欣赏足球比赛)等。从选择题类型看, 它属于题干暗示型, 可把题干转换成“对于意大利的叙述”, 问题就会迎刃而解。

答案 A、D

18. 南非开普敦与我国南京的气候相比较, 一年中 ( )
- A. 两地都雨热同期

- B. 开普敦气温较高的月份, 南京的气温也较高
- C. 开普敦降水较多的月份, 南京降水也较多
- D. 开普敦受高压控制的季节, 南京盛行偏南风
- 解析 此题主要考查地中海气候和亚热带季风气候的成因、特征及其分布等, 要求考生有较强的对比分析能力。开普敦为南半球地中海气候, 南京是北半球亚热带季风气候, 两地季节正好相反, 地中海气候冬季温和多雨, 亚热带季风气候夏季高温多雨, 即开普敦降水多时, 是在 7 月份, 此时, 南京降水也多。

答案 C

19. 有关美国的叙述, 正确的是 ( )
- A. 东北部工业区与乳畜带的范围基本相同
- B. “硅谷”——分布在地中海气候区
- C. 农业现代化侧重生物技术和水利的发展
- D. 世界上输出农产品最多的国家, 不需要进口农产品

解析 美国东北部工业区分布在五大湖附近到大西洋沿岸, 与乳畜带的范围基本相同, 硅谷分布在旧金山, 旧金山位于北纬  $30^{\circ}$ — $40^{\circ}$  之间的大陆西岸, 属于地中海气候。美国国土面积广大, 劳力不足, 农业现代化侧重于高度机械化方面。美国虽然是世界上输出农产品最多的国家, 但种植热带作物面积少, 需要进口咖啡、可可、香蕉、天然橡胶等热带农林产品。

答案 B

20. 有“美洲大陆桥梁”之称的是 ( )
- A. 墨西哥高原 B. 安第斯山
- C. 巴西高原 D. 中美地峡

解析 中美地峡在墨西哥和南美大陆之间, 它连接了北美和南美大陆, 有“美洲大陆桥梁”之称。此题要和“南美洲的脊梁”区分开, 安第斯山贯穿南美洲西部, 南北纵长约 9000 千米, 被叫做“南美洲的脊梁”。

答案 D

21. 英、法两国相同的地理特点有 ( )
- A. 首都都是全国第一大城市和最大海港
- B. 煤、铁、石油等自然资源严重短缺
- C. 工业化历史悠久, 工业发展水平很高
- D. 大多数河流水量充足, 水流平稳, 利于航行

解析 根据题意选择的答案既符合英国, 又符合法国的实际情况。

答案 C、D

22. 新加坡发展经济的有利条件及原因为 ( )
- A. 农业发达, 粮食生产自给有余
- B. 对外开放, 发展出口加工工业
- C. 位置优越, 港口优良, 交通便利
- D. 利用劳动力资源丰富优势, 大力出口初级产



品,发展对外贸易

解析 本题解答关键是联系新加坡的国情,新加坡粮食需进口,新加坡不出口初级产品,而充分利用有利的地理位置和自然条件,发展对外贸易。新加坡发展经济的有利条件是:位于东南亚地区中心,为各国贸易集散地,位置十分优越;位于马六甲海峡的出入口,港口优良,交通便利。新加坡充分利用有利条件,扬长避短,通过对外开放,吸引外资,引进先进技术,进口原料,并发挥本国的技术力量,迅速发展了炼油、造船、海口钻井平台制造、电子电器等工业。

答案 B、C

23. 关于印度河的叙述正确的是 ( )
- A. 发源于印度北部,流经印度中部,注入孟加拉湾
- B. 发源于巴基斯坦,流经孟加拉国,注入孟加拉湾
- C. 发源于中国,流经克什米尔、巴基斯坦,注入阿拉伯海
- D. 发源于尼泊尔,向南流经印度、孟加拉国,注入阿拉伯海

解析 印度河发源于我国西藏境内,先向西北流,后转为向南流,流经克什米尔、巴基斯坦,注入阿拉伯海。现在的印度、巴基斯坦和孟加拉国在第二次世界大战前合称印度,是美国的殖民地,二次大战后取得独立,并分解成三国。但印度河的名字未改。

答案 C

24. 拉丁美洲是指 ( )
- A. 南美洲和西印度群岛
- B. 美国以南的美洲
- C. 巴拿马运河以南的美洲部分
- D. 墨西哥高原、中美地峡、西印度群岛和南美洲

解析 做此题时要区别开下列概念,美洲、北美洲、南美洲、拉丁美洲。拉丁美洲包括南美洲和位于北美洲的墨西哥、中美洲、西印度群岛,简言之是美国以南的美洲地区,为突出它们在语言文化、经济、历史发展等人文地理方面的共同特点,而合编为一章学习。

答案 B

25. 马六甲海峡的位置特点是 ( )
- A. 位于马来半岛与加里曼丹岛之间
- B. 位于马来半岛与苏门答腊岛之间
- C. 是印度洋与太平洋间的咽喉
- D. 是印度洋与大西洋间的咽喉

解析 此题考查学生对马六甲海峡位置特点的掌握情况。马六甲海峡位于马来半岛与苏门答腊岛之间,是东南亚这个“十字”路口的咽喉。

答案 B

26. 北海是 ( )
- A. 海上航运的重要水域
- B. 重要的大陆架石油、天然气产区
- C. 北大西洋暖流与北冰洋南下冷水交汇处,成为世界著名渔场
- D. 内海

解析 北海是一个重要的海域,对沿岸各国经济的发展,起到了巨大的推动作用,它在交通、海底矿产资源、海洋生物等方面都有自己独特的地方。D项错误,北海为边缘海。

答案 A、B、C

27. 下列哪个大洲既位于北半球又位于西半球 ( )
- A. 亚洲 B. 非洲 C. 北美洲 D. 南美洲

解析 本题主要考查各大洲所在的半球位置。本题限制条件有两个,首先可以考虑位于西半球的大洲为北美洲和南美洲,然后两中选出位于北半球的北美洲。本题属于无图考图题,要求学生熟练掌握世界海陆分布,在头脑中形成一幅“活地图”。

答案 C

28. 有关中国人宗教信仰的说法正确的是 ( )
- A. 维吾尔人信喇嘛教 B. 蒙古人信伊斯兰教
- C. 回民多信基督教 D. 大多数汉族人不信教
- 解析 在中国,汉族中大多数人不信教;少数民族中,维吾尔族、回族多信伊斯兰教(伊斯兰教在中国又称为回教或清真教,信徒又称穆斯林),藏族、蒙古族则有人信喇嘛教(佛教中的一派。)

答案 D

29. 可以吸收大量劳动力的服务业部门是 ( )
- A. 广告业 B. 金融业
- C. 房屋装修业 D. 互联网服务业

解析 此题主要考查“廉价劳动力指向型工业”的特点及有关工业部门等。像普通服装、电子装配、建筑施工、房屋装修等一般耗用大量劳动力,而对劳动者的技术要求不高,专业性不强,而广告业、金融业、互联网服务业要求专业性较强,相对而言,社会需求的数量有限。

答案 C

30. 世界上使用地区最广的语言是 ( )
- A. 汉语 B. 英语 C. 俄语 D. 法语

解析 使用英语的人虽然只有4亿左右,但分布地区却遍及欧洲的英国、北美洲的美国和加拿大、大洋洲的澳大利亚及亚洲的印度等国。

答案 B

31. 世界上淡水资源最丰富的大洲是 ( )



A. 亚洲 B. 大洋洲 C. 北美洲 D. 南极洲  
 解析 : 南极大陆平均海拔 2350 米以上 , 大部分地区覆盖着很厚的冰层 , 平均厚度 2000 多米 , 体积占世界总体积的 90% 以上。所以南极洲是世界上淡水资源最丰富的大洲。

答案 : D

32. 面积居世界前六位的国家中 , 领土全部在南半球的是 ( )

A. 巴西 B. 美国 C. 澳大利亚 D. 加拿大

解析 : 世界上面积位于前六位的国家有俄罗斯、加拿大、中国、美国、巴西、澳大利亚。其中领土全部在南半球的是澳大利亚。

答案 : C

33. 下列火山中 , 属活火山的是 ( )

A. 圣劳伦斯火山 B. 富士山  
 C. 乞力马扎罗山 D. 维苏威火山

解析 : 火山按其活动情况分为三类 : 活火山、死火山、休眠火山。乞力马扎罗山是死火山 , 其余三个均是活火山。

答案 : A、B、D

34. 下列湖泊中 , 深度最大的是 ( )

A. 死海 B. 里海  
 C. 苏必利尔湖 D. 贝加尔湖

解析 : 死海湖面海拔为 -400 米 , 是海拔最低的湖 ; 里海为世界面积最大的咸水湖 ; 苏必利尔湖为世界最大的淡水湖 ; 贝加尔湖最深处达 1600 多米 , 是世界上最深的湖。

答案 : D

35. 关于南亚地区宗教问题的说法 , 正确的是 ( )

A. 南亚是佛教和伊斯兰教的发源地  
 B. 印度、尼泊尔等国的多数居民信奉佛教  
 C. 斯里兰卡居民多信奉印度教  
 D. 巴基斯坦、孟加拉国居民多信奉伊斯兰教

解析 : 南亚是佛教和印度教的发源地 ; 印度、尼泊尔等国的居民多信奉印度教 ; 斯里兰卡的居民多信奉佛教 ; 巴基斯坦和孟加拉国的居民多信奉伊斯兰教。

答案 : D

36. 有关美国和俄罗斯的叙述 , 正确的是 ( )

A. 两国领土广大 , 自然资源丰富 , 是世界上资源能够自给的少数几个国家之一  
 B. 两国领土濒临三大洋 , 地跨两大洲  
 C. 两国核工业和宇航工业发达 , 消费品制造业发展缓慢  
 D. 两国的首都 , 既是全国的政治、文化中心 , 又是全国最大的城市

解析 : 美国和俄罗斯是两个在世界舞台上扮演

重要角色的国家 , 对它们之间的异同点要认真地加以分析。A 项只适合俄罗斯 , 不适合美国 , 因为美国资源耗费量大 , 有些工业原料需大量进口。B 项适合两国。俄罗斯跨亚欧两洲 , 临大西洋、北冰洋和太平洋。C 项中“核工业和宇航工业发达”适合两国 , 而“消费品制造业发展缓慢”只适合俄罗斯 , 因为美国轻重工业都很发达。D 项对两国首都的叙述 , 也只适合莫斯科 , 因为华盛顿是一个政治职能为主的城市 , 在美国也不是最大(最大的城市是纽约)的。

答案 : B

37. 发源于我国境内 , 流出国境后 , 注入印度洋水城的河流是 ( )

A. 湄公河 B. 湄南河 C. 萨尔温江 D. 红河

解析 : 要解答此题 , 一要知道这些河流的发源地 , 二要知道这些河流注入的海洋。

答案 : C

38. 河口位于副热带高气压带高压区的非洲河流有 ( )

A. 尼罗河 B. 印度河  
 C. 尼日尔河 D. 幼发拉底河

解析 : 此题可用排除法求解。印度河、幼发拉底河为亚洲的河流 , 故排除 B、D ; 尼日尔河的河口在热带雨林气候区 , 属赤道低气压带。故排除 C。

答案 : A

39. 发达国家最多的大洲为 ( )

A. 欧洲 B. 亚洲 C. 北美洲 D. 大洋洲

解析 : 先阅读世界政区图 , 了解各大洲主要的国家 , 回忆发达国家的名称 , 两者相比较得出各大洲的发达国家数目。

答案 : A

40. 联合国总部设在 ( )

A. 华盛顿 B. 日内瓦 C. 纽约 D. 罗马

解析 : 联合国总部设在美国最大的城市纽约 , 在市中心曼哈顿区的东河岸有联合国大厦。

答案 : C

二、综合题 :

1. 读下表 , 并结合所学知识完成下列各题 :

20 世纪 90 年代初 , 一些国家粮食生产状况表 :

国别	中国	印度	A	B	C	D
人口(亿)	11.6	8.6	2.5	1.5	0.56	0.26
粮食产量(亿吨)	4.35	2.8	3.34	0.51	0.68	0.57
人均产量(千克)	375	265	1336	340	1214	2192

(1) 表中未注名称的 4 国中有 2 个位于北美洲、1 个位于南美洲、1 个位于欧洲。则 : A 为 \_\_\_\_\_ , B 为 \_\_\_\_\_ , C 为 \_\_\_\_\_ , D 为 \_\_\_\_\_



## 第三部分 单元综合测试

\_\_\_\_\_。

(2)在右面坐标图内,按由多到少的顺序和图例要求画出6国人均粮食产量柱状图(横坐标每格代表一个国家)。从图中可看出,我国农业可持续发展方面存在的问题是\_\_\_\_\_。为扭转这个状况,应采取的措施是:一是发展农业技术,努力\_\_\_\_\_。二是\_\_\_\_\_。

(3)农业是印度国民经济的主体,为了更好地发展本国农业,该国从60年代和70年代起,开展新的农业发展战略——“绿色革命”和“白色革命”。下列叙述正确的是

- A.“绿色革命”是以植树造林、改善农业生态环境为中心
- B.“白色革命”是以摒弃地膜使用,避免“白色污染”为中心
- C.印度既是传统稻米生产国,又有较大规模企业化种植园
- D.印度是世界上养牛最多的国家,农业结构中,畜牧业产值占一半以上

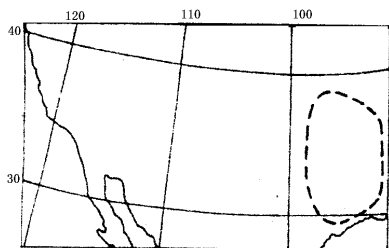
(4)关于B国农业发展特点及其他方面国情的叙述,正确的有

- A.畜牧业产值高于种植业
- B.农业现代化侧重于高度机械化、集约化、自动化
- C.农业发展快,机械化水平较高,农畜产品出口较多
- D.农业技术改革突出,有精耕细作的丰富经验
- E.有规模较大的企业化种植园

答案(1)美国 巴西 法国 加拿大

(2)画图(略) 人均占有粮食较低 生产粮食控制人口增长 (3)C (4)C、E

2.图中虚线内是世界沙尘暴多发地区之一。读图完成下列要求。



(1)该区域沙尘暴多发的季节是\_\_\_\_\_。

(2)这段时期,影响该区域的风越过\_\_\_\_\_山地,到达平原地区时,温度上升,变得干燥。

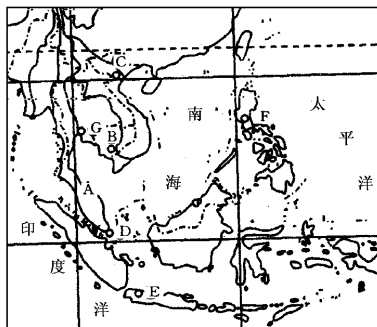
(3)由于100多年前对该地区的过度开发,导致了\_\_\_\_\_才使该地区的沙尘暴日益频繁。

解析:本题主要考查学生的知识迁移能力和对生态平衡及美国地形知识的掌握情况。在冬季、初春北半球陆地上形成冷高压,易暴发寒潮。寒潮经过地区往往形成大风天气,大风经过地区如果植被破坏,可能有飞沙走石,形成沙尘暴。由图可知图示表示的是美国大部分地区。在美国西部山区大开发时期,地表植被遭到破坏,强劲的西风会给美国东部地区造成严重的沙尘暴天气。

答案(1)冬、春(只答春季也得) (2)西落基山

(3)牧场(植被)破坏

3.读图完成下列要求:



(1)用序号在图中适当位置标注以下地理事物:①越南②泰国③缅甸④马来西亚⑤印度尼西亚⑥菲律宾

(2)A是\_\_\_\_\_半岛,B是\_\_\_\_\_市,C是\_\_\_\_\_市,D是\_\_\_\_\_国,E是\_\_\_\_\_市,F是\_\_\_\_\_市,G是\_\_\_\_\_市。

(3)分析东南亚地理位置的重要性。

答案(1)略(2)马来;金边;河内;新加坡;雅加达;马尼拉;曼谷(3)东南亚地处太平洋和印度洋、亚欧大陆和澳大利亚大陆之间的“十字路口”,马六甲海峡是从欧洲、非洲向东到东南亚、东亚各港口最短航线的必经之地,是连接两大洋的海上咽喉要道。

4.一艘客轮做环绕非洲大陆的航行,请回答沿途的有关问题:

(1)从塞得港出发沿地中海至直布罗陀海峡,依次经过的大海港是\_\_\_\_\_、\_\_\_\_\_和\_\_\_\_\_。



(2) 船出直布罗陀海峡峡谷, 顺\_\_\_\_\_洋流向南航行, 在 30°N 以北看到岸上的植被是\_\_\_\_\_。过 30°N 纬线以南, 看到沿岸的景象是\_\_\_\_\_。

(3) 船过佛得角后, 又顺\_\_\_\_\_洋流进入几内亚湾, 但见岸上植被是\_\_\_\_\_。

(4) 船经过刚果河口时, 据说见到的情况是: “河口形如喇叭, 大西洋的海潮巨浪汹涌。数艘万吨海轮, 驶进刚果河, 航运极为便利。”你认为可信吗? \_\_\_\_\_, 理由是\_\_\_\_\_。

(5) 从赤道到好望角, 船一直逆\_\_\_\_\_洋流航行, 到纳米比亚沿岸时, 看到滚滚的\_\_\_\_\_沙漠。

(6) 船过\_\_\_\_\_角, 进入印度洋, 迎\_\_\_\_\_洋流北行。过\_\_\_\_\_海峡后, 又顺\_\_\_\_\_洋流北行。

(7) 船过索马里半岛, 经过\_\_\_\_\_海峡、\_\_\_\_\_海、\_\_\_\_\_运河, 返回塞得港, 船过索马里后到塞得港, 依次经过非洲的\_\_\_\_\_、\_\_\_\_\_和\_\_\_\_\_国家沿岸。

解析: 本题是一道综合性极强的题, 根据非洲的基本知识来回答, 一要了解非洲的自然特征, 二要掌握非洲的综合特征。

答案 (1) 亚历山大; 黎波里, 突尼斯; 阿尔及尔。

(2) 加那利寒流; 灌木丛林; 热带荒漠, 沙漠逼临海岸。

(3) 赤道逆流、几内亚暖流, 热带雨林, 高大茂密。

(4) 不可信, 因为刚果河下游切穿西部高地, 落差很大, 形成一系列瀑布, 不能通航。

(5) 本格拉寒流, 纳米布。

(6) 厄加勒斯; 莫桑比克暖流; 莫桑比克; 索马里寒流。

(7) 曼德红; 苏伊士; 吉不提; 厄立特里亚; 苏丹; 埃及。

5. 一艘游轮, 于夏季沿亚洲航行。据说途中遇到以下景象, 你认为哪些是可信的, 哪些是不可信的, 并说明理由:

(1) 当 6 月 22 日 22 点从白令海峡出发时, 见到岸边驯鹿成群地在草原上吃草, 悠闲自如; 因纽特人乘坐着狗拉雪橇在茫茫雪原上奔驰。可信否? \_\_\_\_\_, 理由是\_\_\_\_\_。

(2) 从白令海峡向日本群岛途中, 船顺水航行, 船上旗帜向北飘扬。可信否? \_\_\_\_\_, 理由是\_\_\_\_\_。

(3) 船到北海道海区, 在雾锁的海面上, 有许多渔轮在捕鱼。可信否? \_\_\_\_\_, 理由是\_\_\_\_\_。

(4) 船到横滨港时, 正值梅雨季节, 遥望岸边, 真是“多少楼台烟雨中”。可信否? \_\_\_\_\_, 理由是\_\_\_\_\_。

(5) 船过马六甲海峡后, 发现船上旗帜哗啦啦地向东北方向飘扬, 船在逆水中行进。可信否? \_\_\_\_\_, 理由是\_\_\_\_\_。

(6) 船驶进红海后, 顿觉灼热蒸人, 但见两岸黄沙滚滚, 一片荒漠。可信否? \_\_\_\_\_, 理由是\_\_\_\_\_。

(7) 船到地中海后, 天下起细雨, 阵阵凉风袭人。可信否? \_\_\_\_\_, 理由是\_\_\_\_\_。

答案 (1) 不可信 白令海峡位于北极圈附近, 属于苔原带, 草原和雪原都不妥

(2) 可信 沿千岛寒流航行, 顺水, 夏季盛行东南季风, 旗向西北飘

(3) 可信 这里寒暖流交汇, 海面多雾, 是世界著名渔场

(4) 可信 日本梅雨季节在 6 月份

(5) 可信 这时印度洋盛行西南季风, 洋流作顺时针方向流动

(6) 可信 两岸属热带沙漠气候

(7) 不可信 地中海气候夏季炎热少雨

6. 读图分析回答问题:



(1) 在图中用“→”画出波斯湾地区石油外运的三条主要路线。

(2) 图中 A 大陆自然带由赤道向南北的排序是\_\_\_\_\_。

(3) 图中 B 大陆气候类型的分布规律是\_\_\_\_\_。

(4) 图中 C 是\_\_\_\_\_岛, 该岛西部属\_\_\_\_\_国家, 东部属\_\_\_\_\_洲, 其国家是\_\_\_\_\_。

(5) 图中 D 岛是\_\_\_\_\_国家的\_\_\_\_\_岛, 该岛\_\_\_\_\_资源较丰富。

(6) 图中 E 是\_\_\_\_\_海湾, 其大陆架蕴藏着丰富的\_\_\_\_\_资源。

解析: 解答此题首先要认清地图, 经分析确认该图是以印度洋为中心的三大洲的部分地区图, 其次确立陆地、海洋岛屿等相对位置, 在此基础上找出赤道所通过的地区, 依次分析, 自然带、气候类型的分布, 充分认识由波斯湾地区石油外运主要路线的路径。

答案 (1) 三条路线:

一条 波斯湾→马六甲海峡→日本

二条 波斯湾→苏伊士运河→直布罗陀海峡→西欧

三条 波斯湾→好望角→西欧或美国