

考点训练 1 地球与地球仪

[训练时间:45分钟 分值:100分]

第 I 卷(选择题 共 60 分)

1. 【2007·徐州中考】麦哲伦船队环球航行的成功能说明以下哪一地理事实？ ()
 - A. 地球是一个球体
 - B. 人类活动可以影响气候
 - C. 大陆漂移
 - D. 世界各国经济发展不均衡
 2. 【2007·邵阳中考】地球仪上最长的纬线是 ()
 - A. 0°纬线
 - B. 90°N 纬线
 - C. 23.5°N 纬线
 - D. 90°S 纬线
 3. 【2007·南平中考】小明到英国格林尼治天文台旧址旅游时,他两脚跨在本初子午线地标的两侧,张开双手表示东经和西经,此时东经和西经的度数分别向东、向西变化的规律是 ()
 - A. 没有变化
 - B. 度数减少
 - C. 度数增大
 - D. 变化无规律
 4. 【2007·石家庄中考】南北半球的分界线是 ()
 - A. 本初子午线
 - B. 北回归线
 - C. 赤道
 - D. 南回归线
- 【2007·潍坊中考】人们为了方便生活,确定某地在地球上的位置,划分了东西半球和南北半球,设定了经纬网。根据所学知识,回答 5~6 题。
5. 东西半球的分界线是 ()
 - A. 20°W 经线和 160°E 经线
 - B. 赤道
 - C. 20°E 经线和 160°W 经线
 - D. 本初子午线
 6. 关于经纬线和经纬度叙述正确的是 ()
 - A. 赤道与所有经线等长
 - B. 经度越往西越大的是东经
 - C. 纬线指示南北方向
 - D. 所有经线等长,都相交于南北两极点
 7. 【2006·益阳中考】下列关于地球的说法,正确的是 ()
 - A. 纬线指示南北方向
 - B. 赤道是最长的纬线
 - C. 本初子午线是最长的经线
 - D. 东西半球的分界线是 20°E、160°W

【2007·威海中考】读图 K1-1,完成 8~9 题。

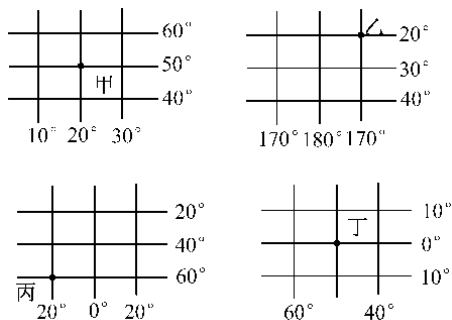


图 K1-1

8. 关于甲、乙、丙、丁四地经纬度的判断,正确的是 ()
 - A. 甲地(50°S,20°E)
 - B. 乙地(20°N,170°W)
 - C. 丙地(60°S,20°W)
 - D. 丁地(0°,50°E)
9. 关于甲、乙、丙、丁四地自然现象的说法,正确的是 ()
 - A. 甲地既无太阳直射,也无极昼极夜现象
 - B. 乙地没有太阳直射现象
 - C. 丙地有极昼极夜现象
 - D. 丁地一年中有一次太阳直射现象
10. 【2007·东莞中考】读“地球经纬网图”(图 K1-2),乙地的经纬度是 ()

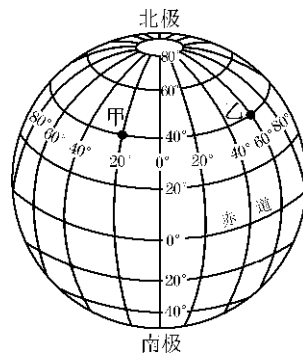


图 K1-2

11. 【2007·福州中考】某日天气预报：“目前,台风中心已经移至 15°N,135°E 的位置……”此时台风中心在图 K1-3 中相应的位置是 ()

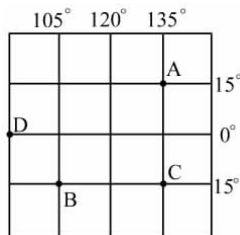


图 K1-3

12. 【2006·扬州中考】下列各点,既位于东半球又属于北温带的是 ()
 - A. 120°E,40°N
 - B. 170°E,30°N
 - C. 40°W,20°N
 - D. 10°W,80°S
13. 【2007·福州中考】我们每天自东方迎来黎明的曙光,由西方送走黄昏的落日,这是由于 ()
 - A. 地球自西向东公转
 - B. 地球自东向西公转
 - C. 地球自西向东自转
 - D. 地球自东向西自转

14. 【2007·成都中考】下列关于地球自转运动的说法正确的是 ()
- A. 产生昼夜更替
B. 产生四季变化
C. 运动方向与公转相反
D. 使成都夏季白天比冬季长
15. 【2007·南平中考】世界万物都在不断运动着,其中地球绕太阳不停地公转,它的周期是 ()
- A. 12小时 B. 24小时
C. 36小时 D. 一年
16. 【2007·东莞中考】在我国,一年中的12、1、2三个月是 ()
- A. 春季 B. 夏季
C. 秋季 D. 冬季
17. 【2006·扬州中考】当我们开始愉快的暑假时,澳大利亚正处于一年中的 ()
- A. 春季 B. 夏季
C. 秋季 D. 冬季
18. 【2007·邵阳中考】同学们的衣柜里存放着春、夏、秋、冬四季服装,这是因为我们生活在 ()
- A. 热带地区 B. 温带地区
C. 寒带地区 D. 亚寒带地区
19. 【2005·河南课改区中考】当你走进中考考场时(6月份),地球在绕太阳公转轨道中的大体位置接近图 K1-4 中的 ()

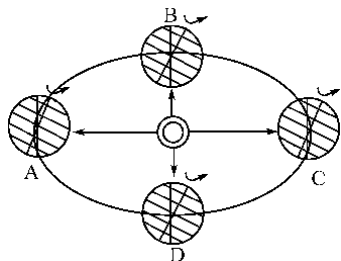


图 K1-4

- A. A B. C C. D D. B
20. 【2007·济宁中考】当地球公转到图 K1-5 中 B 点位置时,不可能有的现象是 ()

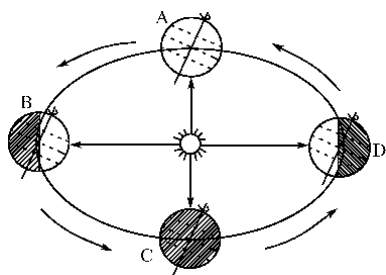


图 K1-5

- A. 印度半岛处于多雨期
B. 我国内流区内各河流普遍进入枯水期
C. 北京的昼长达一年中最大值
D. 我国东部广大地区盛行东南风
- 第 II 卷(综合题 共 40 分)
21. (18 分)【2008·原创中考预测题】读经纬网图(图 K1-6),回答下列问题。
- (1)写出 D 点的经度和纬度:_____。(2 分)
- (2)B、C、D 三点中,位于北半球的是_____,位于西半球的是_____,A 点在 C 点的_____方向。(6 分)

- (3)A、B、C、D 四点中,位于热带的是_____,有极昼极夜现象的是_____。(4 分)
- (4)当太阳直射在北回归线时,A、B、C、D 四点中,_____点白昼时间最长。(3 分)
- (5)当 D 处于冰雪纷飞的时候,那 B 处是_____ (季节)。(3 分)

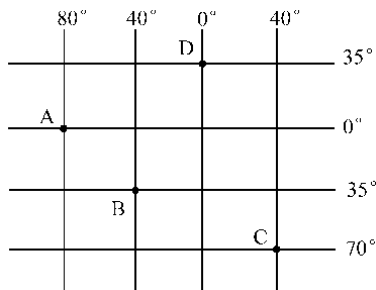


图 K1-6

22. (10 分)【2007·资阳中考】读地球公转示意图(图 K1-7),回答下列问题。

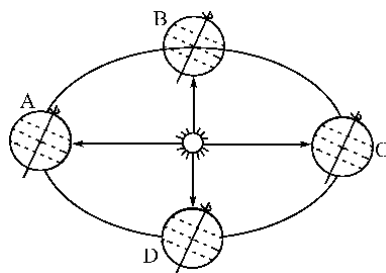


图 K1-7

- (1)请在图中地球公转轨道上用箭头标出地球的公转方向。(3 分)
- (2)当地球公转到 A 点时,日期是每年的_____前后。(2 分)
- (3)当地球公转到 C 点时,四川省资阳市的昼夜长短情况是_____。(3 分)
- (4)当地球公转到 D 点时,太阳直射点的纬度是_____。(2 分)
23. (12 分)【2007·徐州中考】图 K1-8 为某学校操场上的旗杆及其影子示意图,读图回答:

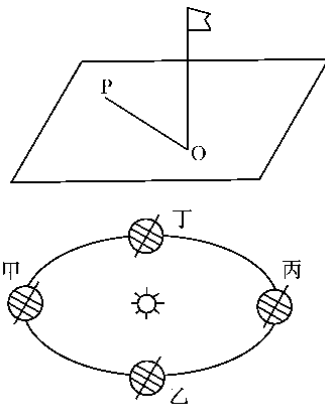


图 K1-8

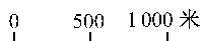
- (1)如果一年中旗杆正午的影子始终朝向正北,则该学校的位置在_____线以北。(3 分)
- (2)如果一年中旗杆正午的影子在 12 月 22 日长度为零,则该学校的位置在_____线上。(3 分)
- (3)如果是你参加中考地理考试时(6 月 21 日)的学校操场,则次日正午旗杆影子将是一年中_____的时刻。该日地球公转到上图中甲、乙、丙、丁四点中的_____位置附近。(6 分)

考点训练 2 地图


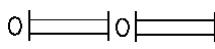
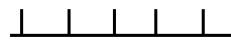

[训练时间:45分钟 分值:100分]

第 I 卷(选择题 共 60 分)

1. 【2007·黄石中考】某中学地理兴趣小组拟绘制一幅校园平面图。实际测得教学楼与图书馆间的距离为 300 米,如绘到图上的距离为 30 厘米,则同学们采用的比例尺应为 ()

- A. 1 : 10 000
 B. 
 C. 1 : 1 000
 D. 图上 1 厘米代表实际距离 20 米

2. 【2007·威海中考】在地图上,通常用来表示国界的图例是 ()

- A. 
 B. 
 C. 
 D. 

3. 【2007·汕头中考】图 K2-1 是某中学校园平面图,校门朝向是 ()

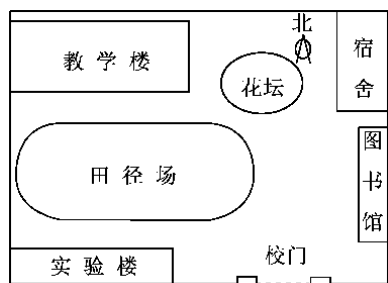


图 K2-1

- A. 南方 B. 北方
 C. 西方 D. 东方

4. 【2007·惠州中考】A 地位于 $23^{\circ}\text{N}, 114^{\circ}\text{E}$, B 地位于 20°N , 经度 0° , 则 A 地位于 B 地的 ()

- A. 西南方 B. 东南方
 C. 东北方 D. 西北方

5. 【2007·南平中考】当你在一个陌生的城市旅游时,你选择的导游图应当是 ()

- A. 比例尺尽可能小的该市地图
 B. 世界地图
 C. 比例尺尽可能大的该市地图
 D. 中国地图

6. 【2006·福州中考】当一幅地图的图幅大小不变时,若选用的比例尺越小,则 ()

- A. 能画在图上的实际范围越小
 B. 能画在图上的实际范围不变
 C. 图上表达的内容越简略
 D. 图上表达的内容越详细

7. 【2007·石家庄中考】分层设色地形图上,绿色地区表示的地形类型是 ()

- A. 平原 B. 山地
 C. 丘陵 D. 高原

【2007·惠州中考】读地形图(图 K2-2),回答 8~9 题。

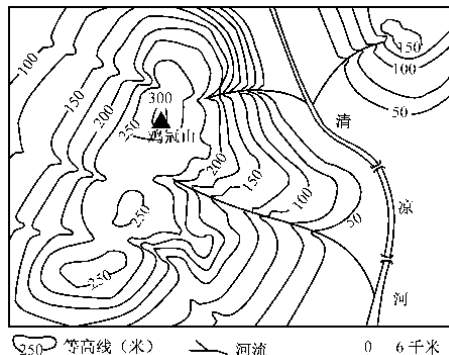


图 K2-2

8. 图示范围主要地形是 ()

- A. 山地 B. 丘陵 C. 盆地 D. 高原

9. 清涼河的大致流向是 ()

- A. 自北向南流 B. 自南向北流
 C. 自东北向西南流 D. 自西往东流

【2007·潍坊中考】读等高线图(图 K2-3),回答 10~11 题。

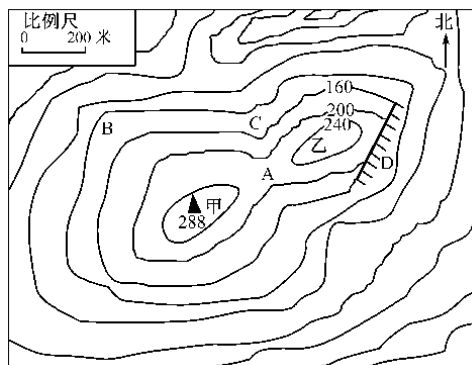


图 K2-3

10. 图中字母 A、B、C、D 分别表示不同的地形部位,下列说法正确的是 ()

- A. A 表示山顶 B. B 表示鞍部
 C. C 表示山谷 D. D 表示山脊

11. 若量得甲、乙二地图上距离为 2 厘米,则甲、乙二地的实际距离为 ()

- A. 50 米 B. 200 米
 C. 400 米 D. 1 000 米

12. 【2005 年·株洲中考】图 K2-4 的四幅地形剖面图中,能正确表示等高线图(图 K2-4)中 EF 线地势起伏状况的是 ()

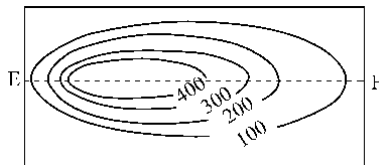


图 K2-4

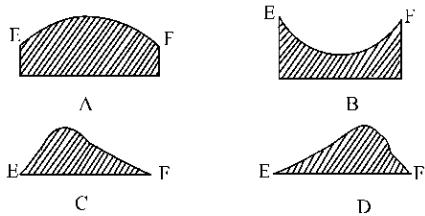


图 K2-5

13. 【2007·威海中考】关于图 K2-6 中①、②两幅等高线地形图的说法,正确的是 ()
- A. ①图表示盆地地形
B. ①图的比例尺比②图大
C. 甲—乙的坡度比丙—丁的坡度小
D. 甲—乙的实际距离小于丙—丁的实际距离

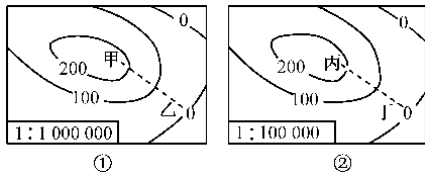


图 K2-6

14. 【2008·原创中考预测题】有一科学探险队来到某地方进行科学考察,他们发现此地一年四季都吹着特别冷的北风,请问是下列哪个地方? ()
- A. 北极点附近
B. 南极点附近
C. 欧洲西部
D. 中国北部
15. 【2008·原创中考预测题】在等高线地形图中,哪种地表形态可能会发育成河流? ()
- A. 山脊
B. 鞍部
C. 山谷
D. 陡崖

第 II 卷(综合题 共 40 分)

16. (8 分)【2006·泉州中考】读“等高线地形图”(图 K2-7),完成下列问题。

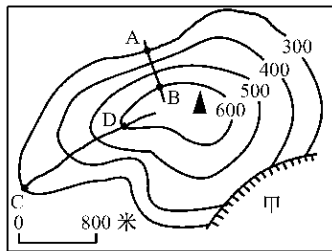


图 K2-7

- (1) 判断甲处地形部位是_____。(2 分)
- (2) 图中 A 点的海拔是_____米。(2 分)
- (3) 沿 AB 线路爬到山顶和沿 CD 线爬到山顶,坡度较陡的线路是_____ (AB 线路或 CD 线路)。(2 分)
- (4) 图上 BD 之间水平连线的实际距离大约是_____。(2 分)
17. (12 分)【2007·福州中考】读“某地等高线地形图”(图 K2-8),回答问题。

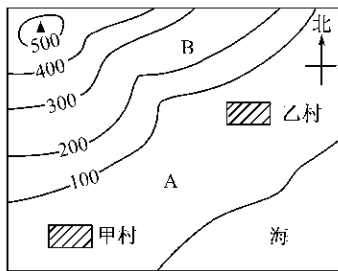


图 K2-8

- (1) 图中山顶海拔范围在_____米—_____米之间。(4 分)
- (2) 甲村在乙村的_____方向。(2 分)
- (3) A、B 两地中,适宜栽种柑橘树的是_____地,适宜栽种水稻的是_____地。(填字母)(4 分)
- (4) 该地有一条小河沿山谷流下,向东南注入海洋,请在图中画出这条河。(2 分)

18. (12 分)【2008·原创中考预测题】读等高线地形图,完成下列问题:

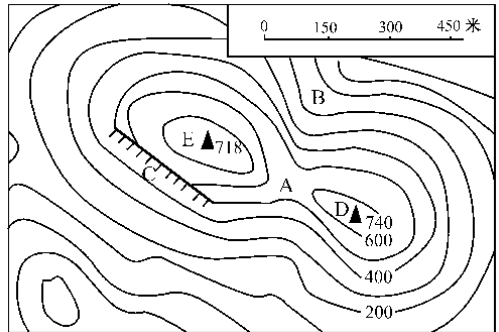


图 K2-9

- (1) 写出图中字母所在的地形部位的名称:(4 分)
- A _____; B _____;
C _____; D _____。
- (2) 图中 E 处的海拔高度为_____。(2 分)
- D 处和 E 处的相对高度为_____。(2 分)
- (3) 图中 A 在 B 的_____方向。(2 分)
- (4) 两个山顶的距离是_____ (两个山顶的图上距离为 4 厘米)。(2 分)
19. (8 分)【2007·唐山中考】读等高线地形图(图 K2-10),回答:

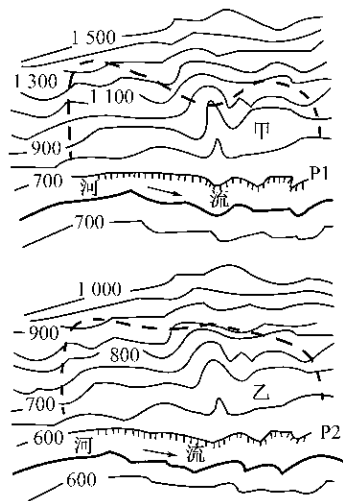


图 K2-10

- (1) 在等高线地形图中 P1 和 P2 两地均是_____。(2 分)
- (2) 甲(图中粗虚线范围)和乙(图中粗虚线范围)更容易发生滑坡的是_____,(2 分)其判断理由是_____。(4 分)

考点训练 3 陆地与海洋

[训练时间:45分钟 分值:100分]

第 I 卷(选择题 共 84 分)

【2007·唐山中考】现如今,人们通过从宇宙空间发回的地球卫星照片,就能看清地球是个不规则的球体,其表面大部分是蔚蓝色的海洋。据此并结合图 K3-1 回答第 1~2 题。




图 K3-1

1. 地球的表面积约为 ()
 A. 4.1 亿平方千米 B. 5.1 亿平方千米
 C. 6.1 亿平方千米 D. 7.1 亿平方千米
2. 地球表面的陆地面积和海洋面积分别约占 ()
 A. 49%,51% B. 39%,61%
 C. 29%,71% D. 19%,81%
3. 【2007·黄石中考】下列大洲中,赤道没有穿过的大洲是 ()
 A. 欧洲 B. 非洲
 C. 亚洲 D. 南美洲
4. 【2007·徐州中考】麦哲伦探险航线经过的大洋依次是 ()
 A. 大西洋、太平洋、北冰洋
 B. 大西洋、太平洋、印度洋
 C. 印度洋、大西洋、太平洋
 D. 印度洋、太平洋、大西洋

【2007·东莞中考】读“东西半球海陆分布图”(图 K3-2), 回答 5~8 题。

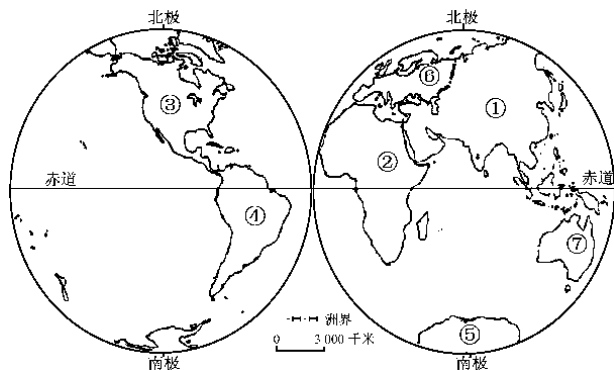


图 K3-2

5. 地球上面积最大的大洲是 ()
 A. 欧洲 B. 北美洲
 C. 非洲 D. 亚洲

6. 地球上人口最多的大洲是 ()
 A. 大洋洲 B. 欧洲
 C. 亚洲 D. 南极洲
7. 下列判断正确的是 ()
 A. ②是非洲 B. ②南极洲
 C. ②是欧洲 D. ②是南美洲
8. 地球上面积最大的大洋是 ()
 A. 印度洋 B. 大西洋
 C. 太平洋 D. 北冰洋
9. 【2007·内江中考】下列关于大洲、大洋面积大小的比较,正确的是 ()
 A. 非洲 < 欧洲 B. 印度洋 > 大西洋
 C. 太平洋 > 亚洲 D. 北美洲 < 南极洲
10. 【2007·广安中考】下列属于南北美洲分界线的是 ()
 A. 苏伊士运河 B. 巴拿马运河
 C. 高加索山 D. 土耳其海峡
11. 【2006·扬州中考】亚洲与非洲的分界线是 ()
 A. 苏伊士运河 B. 巴拿马运河
 C. 土耳其海峡 D. 白令海峡

【2007·唐山中考】丰富多彩的地理图像是认识地球表面地理事物的工具,也是储存地理信息的载体。图 K3-3 为世界西半球的两个大洲夜晚灯光(白色部分)分布状况,读图完成 12~13 题。

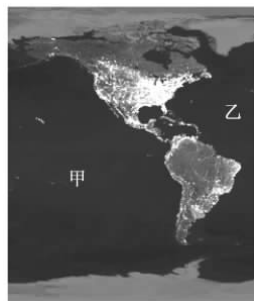


图 K3-3

12. 图中所示,夜晚灯光范围大的地区主要分布在 ()
 A. 欧洲的俄罗斯
 B. 亚洲的中国
 C. 大洋洲的澳大利亚
 D. 北美洲的美国
13. 图中甲、乙两大洋分别是 ()
 A. 印度洋、大西洋
 B. 太平洋、北冰洋
 C. 太平洋、大西洋
 D. 印度洋、太平洋

14. 【2006·南通中考】关于图 K3-4 中字母所代表地理事物名称的表述,不正确的是 ()

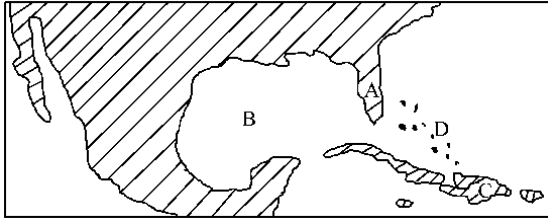


图 K3-4

- A. 半岛
B. 海峡
C. 岛屿
D. 群岛
15. 【2005·青岛中考】赤道、南北回归线都穿过的大洲是 ()
- A. 亚洲
B. 非洲
C. 北美洲
D. 南美洲
16. 【2007·南平中考】北宋沈括在《梦溪笔谈》中记载:在太行山中发现许多海螺、海蚌壳等生物化石。这一记载说明 ()

- A. 太行山是从古老的大海里升起来的
B. 太行山今后将从陆地转变为海洋
C. 今天的海螺、海蚌是从陆地进入海洋的
D. 古老的海螺、海蚌是生活在陆地上的
17. 【2007·东莞中考】读六大板块示意图(K3-5),喜马拉雅山的形成是由于 ()

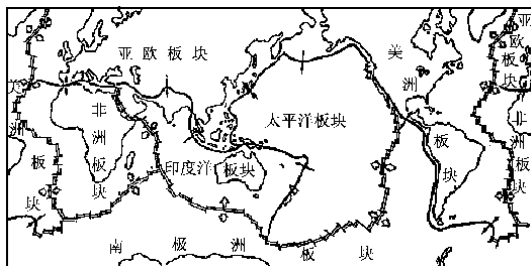


图 K3-5

- A. 亚欧板块和印度洋板块相互挤压
B. 亚欧板块和非洲板块相互挤压
C. 印度洋板块张裂
D. 印度洋板块和太平洋板块共同挤压
18. 【2006·青岛中考】与图 K3-6 相关的叙述错误的是 ()

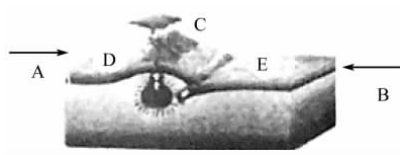


图 K3-6

- A. 此图表示板块的碰撞
B. 两侧箭头表示板块的运动方向
C. 由此图判断,板块交界处多火山地震
D. 由此图判断,所有板块之间都是碰撞的
19. 【2007·盐城中考】人们经过测量发现喜马拉雅山脉的高度在逐年上升,那是亚欧板块和印度洋板块相互碰撞挤压

而成的。而对板块运动规律的研究发现印度洋板块和非洲板块正不断发生张裂运动,可以预见位于两个板块之间的红海的面积将会继续 ()

- A. 扩大
B. 缩小
C. 不变

【2006·黄冈中考】读四个大洲轮廓图(图 K3-7),回答 20~21 题。



图 K3-7

20. 珠穆朗玛峰在图中哪个大洲 ()
- A. ①
B. ②
C. ③
D. ④
21. 既是①②两大洲的分界线也是两个大洋的分界线的是 ()
- A. 马六甲海峡
B. 乌拉尔河
C. 台湾海峡
D. 白令海峡

第 II 卷(综合题 共 16 分)

22. (16 分)【2008·原创中考预测题】读七大洲分布图(图 K3-8),回答下列问题。

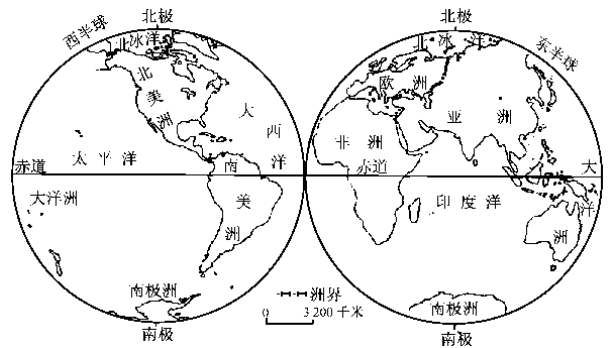


图 K3-8

- (1)从图中可看出,完全位于北半球并被太平洋、大西洋、北冰洋所包围的大洲是_____。(3分)
- (2)世界人口增长最缓慢的大洲是_____。(3分)
- (3)从欧洲到美国的洛杉矶最近的航海线是向_____经过_____洋、_____运河、_____洋到达。(6分)
- (4)一架飞机从伦敦起飞,一直往南飞,依次经过的大洲和大洋是(4分) ()
- A. 欧洲、大西洋、南美洲、南极洲
B. 欧洲、非洲、大西洋、南极洲
C. 欧洲、亚洲、非洲、大西洋、南极洲
D. 亚洲、印度洋、大洋洲、南极洲

考点训练 4 气温与降水

[训练时间:45分钟 分值:100分]

第 I 卷(选择题 共 68 分)

1. 【2007·东莞中考】读上海 7 月气温日变化图(图 K4-1), 一天中最高气温出现在 ()

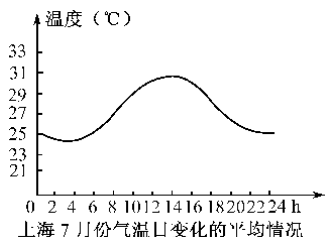


图 K4-1

- A. 日出前后
B. 正午 12 时
C. 日落前后
D. 14 时左右
2. 【2007·湘潭中考】某研究性小组在室外测得一日内的气温如下表

时刻	2 点	8 点	14 点	20 点
气温(°C)	5	7	15	13

- 根据上述材料推算, 该地日平均气温是 ()
- A. 8°C B. 9°C
C. 10°C D. 12°C
3. 【2007·广安中考】热带的最冷月的月平均气温都在 ()
- A. 18°C 以下 B. 18°C
C. 20°C D. 18°C 以上
4. 【2006·郴州中考】我国西部地区有句民谚“早穿棉袄午穿纱, 围着火炉吃西瓜”, 这说明该地 ()
- A. 日温差大
B. 月温差大
C. 年温差大
D. 气温的年际变化大
5. 【2006·南充中考】某山山顶海拔约为 900 米, 山中某地海拔约 50 米, 气温为 18°C, 山顶的气温约为 ()
- A. 5°C B. 13°C
C. 23°C D. 10°C
6. 【2007·惠州中考】小明参加暑期地理夏令营, 爬一座山峰, 出发时小明用温度计测得山下的温度是 24°C, 爬到山顶后测得温度是 15°C, 按照温度垂直递减的一般规律, 可推知小明登高了 ()
- A. 900 米 B. 1 200 米
C. 1 500 米 D. 1 800 米

【2007·黄石中考】读等高线图(图 K4-2), 回答 7~8 题。

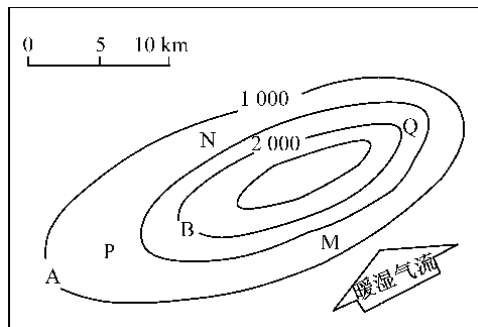


图 K4-2

7. 已知 A 点的气温为 12°C, 则 B 点的气温约为 ()
- A. 0°C B. 9°C
C. 18°C D. 6°C
8. 一般地讲, 图中降水量最多的是 ()
- A. P 地 B. Q 地
C. M 地 D. N 地

【2007·东莞中考】读某地月平均气温曲线和降水量柱状图(图 K4-3), 回答 9~10 题。

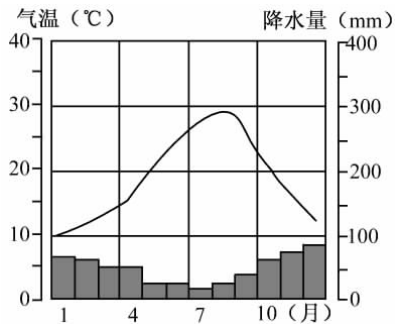


图 K4-3

9. 平均气温最高的月份是 ()
- A. 4 月 B. 6 月
C. 8 月 D. 12 月
10. 降水最多的月份是 ()
- A. 4 月 B. 6 月
C. 8 月 D. 12 月
11. 【2006·威海中考】关于世界各地降水季节变化的叙述, 正确的是 ()
- A. 地中海沿岸夏季多雨
B. 回归线附近地区大陆东岸全年多雨
C. 极地地区夏季多雨
D. 回归线附近地区大陆西岸全年少雨
12. 【2007·潍坊中考】生产生活与天气、气候密切相关。天气现象复杂多变, 地球表面冷热不均, 降水差别显著, 影响人类生产生活因素多种多样。下列关于降水分布的叙述正确的是 ()
- A. 赤道地区降水丰富, 为多雨带

- B. 回归线附近,大陆西部沿海比东部沿海降水多
 C. 中纬度地区,大陆东部沿海比西部沿海降水多
 D. 极地地区为多雨带
13. 【2005·益阳中考】有关降水分布的叙述,正确的是()
 A. 北极地区降水较丰富
 B. 山地迎风坡降水多,背风坡降水少
 C. 热带地区的降水量均很多
 D. 沿海地区降水一定比内陆多
14. 【2006·长沙中考】造成“人间四月芳菲尽,山寺桃花始盛开”现象的主要原因是()
 A. 地形地势的影响
 B. 人类活动的影响
 C. 海陆分布的影响
 D. 地球形状的影响
15. 【2008·原创中考预测题】下列地区中,气温年较差最大的是()
 A. 欧洲西部 B. 撒哈拉沙漠
 C. 亚马孙平原 D. 中国的西北地区
16. 【2008·原创中考预测题】下列地区,年降水量最少的是()
 A. 亚马孙平原 B. 北美洲东南部
 C. 阿拉伯半岛 D. 澳大利亚东北部
17. 【2007·湘潭中考8题变式题】下列说法正确的是()
 A. 低纬度一定湿润,高纬度一定干旱
 B. 同一座山的山下气温一般总是高于山上
 C. 面向海洋的山坡一定多雨
 D. 夏季,大陆气温比海洋气温高

第II卷(综合题 共32分)

18. (12分)【2007·石家庄中考】读图K4-4,回答问题。

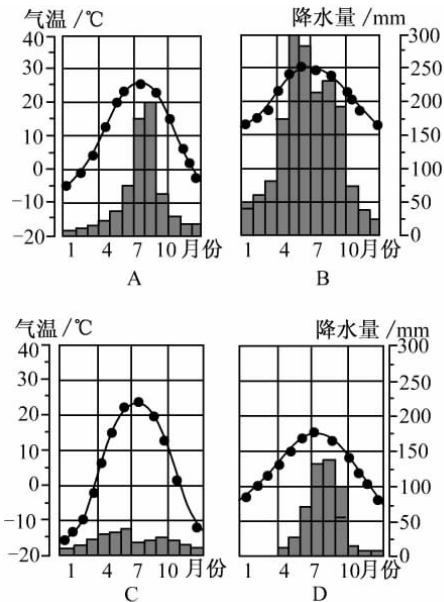


图 K4-4

(1)A地气温最高的月是_____月,气温约为_____℃,降水最多的月份是_____月,月降水量大约为_____mm。(4分)

(2)A、B、C、D四地中最热月均温最高的是_____地,最冷月均温最低的是_____地,降水最多的是_____地,降水最少的是_____地。(4分)

(3)四地中气候特征可能为台湾地区的是_____地,可能为北京地区的是_____地。(4分)

19. (12分)【2008·原创中考预测题】根据某地气候资料,完成下列要求。

月份	1	2	3	4	5	6	7	8	9	10	11	12
气温(℃)	-13	-10	-3	4	9	14	17	20	16	9	-1	-11
降水(mm)	10	5	22	47	71	81	135	169	112	57	24	12

(1)全年月平均最高气温是_____℃,气温年较差是_____℃。(4分)

(2)全年降水量最多的月份是_____。(2分)

(3)该地可能属于_____气候。(2分)

(4)如果明明于1月份到该地旅游,你会告诉他(4分)

()

A. 天气比较温暖,带较薄的羊毛衫

B. 降水较多,带雨伞

C. 气候炎热,带衬衫

D. 天气寒冷,穿羽绒服

20. (8分)【2006·常德中考】下面是关于某地某年逐月降水量柱状图(图K4-5)和各月气温、降水分布表,对照图、表完成下列要求。

月份	1	2	3	4	5	6	7	8	9	10	11	12
气温(℃)	10	13	14	15	18	19	22	25	20	18	17	14
降水(mm)	60	82	61		11	4	2	3	10	18	28	78

(1)在下图中绘出该地气温年变化曲线。(6分)

(2)在上表中相应位置填写出4月份降水量数据。(2分)

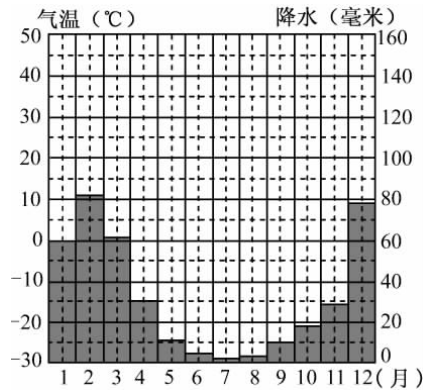


图 K4-5

考点训练 5 天气与气候

[训练时间:45分钟 分值:100分]

第 I 卷(选择题 共 80 分)

【2007·邵阳中考】某星期日,小明同学收听到关于第二天(星期一)的天气预报:晴转阴,气温 $2^{\circ}\text{C}\sim 6^{\circ}\text{C}$,降水概率 20%。据此回答 1~3 题。

1. “晴转阴”用符号表示正确的是 ()



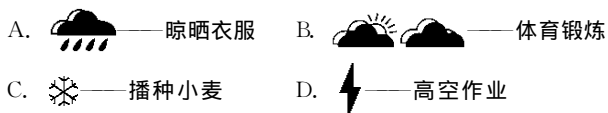
2. 星期一这天 ()

- A. 下雨的可能性不大 B. 下雨的可能性大
C. 不可能下雨 D. 绝对有雨

3. 星期一这天小明上学时最合适的着装是 ()

- A. 薄毛衣 B. 棉衣
C. 衬衣 D. 短袖衫

4. 【2007·南平中考】下列天气符号所代表的天气对人类活动最为有利的组合是 ()



5. 【2006·温州中考】温州山清水秀,气候宜人,下列叙述中,描述温州气候的是 ()

- A. 冬无严寒,夏无酷暑 B. 今天最高气温 20°C
C. 今天市区空气质量 II 级 D. 明天阴转多云

6. 【2007·盐城中考】2006 年 3 月 23 日,杭州、武汉、盐城三个城市的大气污染指数分别为 132、119、96,那么这一天空气质量最好的城市是 ()

- A. 杭州 B. 武汉
C. 盐城

7. 【2007·惠州中考】A 地位于 23°N , 114°E ,那么 A 地的气候类型最可能是 ()

- A. 地中海气候 B. 热带季风气候
C. 亚热带季风气候 D. 热带草原气候

【2007·临沂中考】北京时间 2006 年 12 月 20 日 0 时,第 15 届亚运会在多哈开幕;57 天后,第 6 届亚洲冬季运动会在长春开幕。结合图 K5-1,回答 8~9 题。

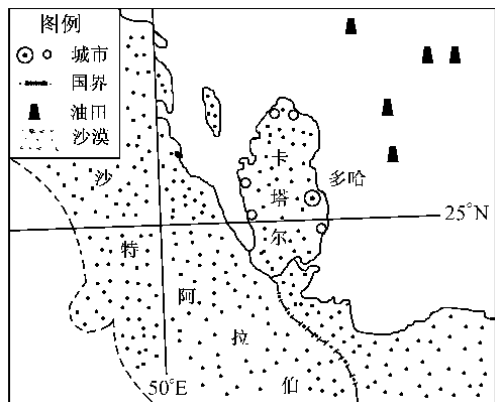


图 K5-1

8. 多哈亚运会选择在 12 月份举行,主要考虑此时天气一般 ()

- A. 温暖多雨 B. 温暖少雨
C. 寒冷干燥 D. 高温多雨

9. 我国参加亚洲冬季运动会的运动员主要来自 ()

- A. 广西、湖南、西藏 B. 广东、福建、新疆
C. 吉林、黑龙江、辽宁 D. 四川、山东、江苏

10. 【2007·黄石中考】下列三个大洲的轮廓图(K5-2)中加点地区的气候类型均为 ()

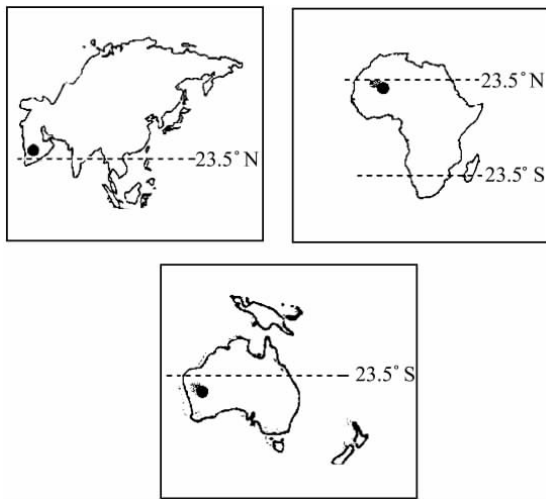


图 K5-2

- A. 热带雨林气候 B. 热带沙漠气候
C. 亚热带季风气候 D. 地中海气候

11. 【2006·福州中考】下列气温曲线、降水柱状图(图 K5-3)能反映北京气候特点的是 ()

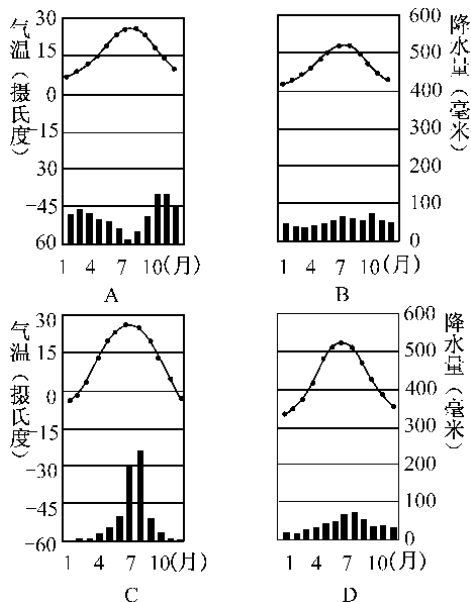


图 K5-3

【2005·青岛中考】表格内是某地气温和降水资料,回答12~13题。

月份	1	2	3	4	5	6	7	8	9	10	11	12
气温(°C)	21	22	21	20	17	16	15	15	16	16	17	19
降水(mm)	1	0.4	0.5	0.3	1	4	6	7	5	2	1	0.8

12. 你认为该气候类型是 ()
 A. 热带雨林气候 B. 温带沙漠气候
 C. 温带大陆性气候 D. 热带沙漠气候
13. 这种气候类型有可能分布在下列哪个国家 ()
 A. 新加坡 B. 沙特阿拉伯
 C. 英国 D. 印度尼西亚

【2006·广州中考】读“世界部分气候类型分布图”(图 K5-4),回答14~15题。

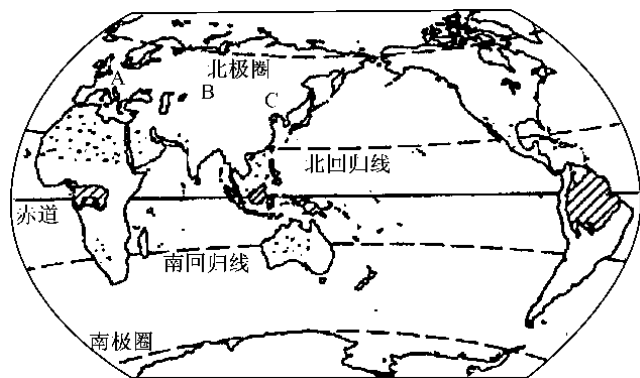


图 K5-4

14. 图中斜线部分的气候类型是 ()
 A. 热带雨林气候 B. 热带季风气候
 C. 热带沙漠气候 D. 亚热带季风气候
15. 图中温带地区 A、B、C 三地的气候类型由西向东分别是 ()
 A. 温带季风气候—温带大陆性气候—温带海洋性气候
 B. 温带季风气候—温带海洋性气候—温带大陆性气候
 C. 温带海洋性气候—温带大陆性气候—温带季风气候
 D. 温带海洋性气候—温带大陆性气候—温带海洋性气候
16. 【2006·平度中考】家住广州的周先生一家要利用暑假的时间到国外旅游,儿子建议爸爸先去一个比较湿润,又不很热的地方,请你帮忙选择一个去处 ()
 A. 开罗 B. 纽约
 C. 伦敦 D. 莫斯科

17. 【2007·盐城中考】北京和新疆所处纬度大体相同,但气候相差很大:北京较为湿润,而新疆的塔里木盆地却很干燥,造成这一差异的主要因素是 ()

- A. 纬度因素 B. 海陆因素
 C. 地形因素 D. 人类活动

【2008·原创中考预测题】读“气温曲线图和降水量柱状图”(图 K5-5),回答18~20题。

18. 下列大洲中,包含 A、B 两种气候的是 ()
 A. 南美洲 B. 欧洲
 C. 非洲 D. 亚洲
19. 描述 A 图的气候特征 ()
 A. 四季分明,气候温暖 B. 全年高温多雨
 C. 夏季炎热,冬季寒冷 D. 全年高温少雨

20. 影响 A、B 两地的气候差异的主要因素是 ()
 A. 纬度位置 B. 海陆位置
 C. 地形、地势因素 D. 人类活动

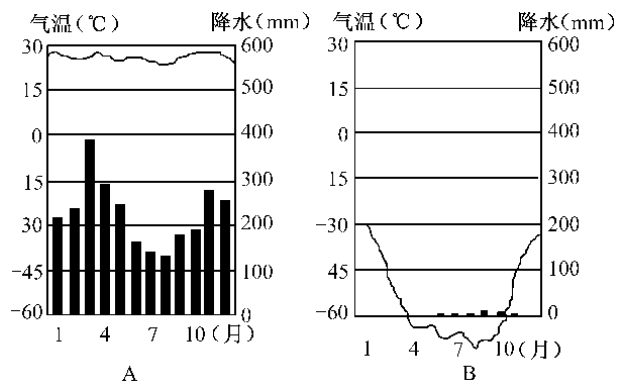


图 K5-5

第 II 卷(综合题 共 20 分)

21. (13 分)【2008·原创中考预测题】读某地气候资料图(图 K5-6),横坐标表示降水量(mm),纵坐标表示气温(°C),回答下列问题。

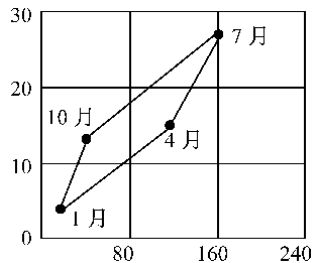


图 K5-6

- (1)根据图中信息可知,该地位于_____半球(南或北)。(2分)
- (2)该地冬季最冷月气温在_____°C以上,属_____带(温度带)。(4分)
- (3)该地的气候类型是_____,这种气候类型的特点是_____。(4分)
- (4)不适宜在该地种植的农作物是(3分) ()
 A. 青稞 B. 柑橘
 C. 水稻 D. 玉米

22. (7 分)【2006·深圳中考】据报道,中国科学院最近组织了地质、测绘、水文、大气、环保等综合科考队,对喜马拉雅山脉的珠峰地区进行了科学考察。

(1)2005年5月22日上午11时,首批科考队员登上了珠峰峰顶,第二批队员在海拔8300米的突击营地,后勤人员在海拔5200米的大本营。此时这三地中气温最高的是在_____。(2分)

(2)科考队员通过对珠峰地区的冰川考察分析认为:珠峰所在喜马拉雅山脉的冰川消融速度在加快。这种现象主要是由于人类活动中过多排放_____引起的“温室效应”造成的。(2分)请提出一个能防止温室效应的可行措施:_____

_____。(3分)

考点训练 6 人口、人种、语言与宗教

[训练时间:45分钟 分值:100分]

第 I 卷(选择题 共 64 分)

1. 【2007·株洲中考】世界人口的增长存在着很大的差异。分析下表,关于 X 国和 Y 国的正确说法是 ()

	人口密度(人/平方千米)	出生率(%)	死亡率(%)
X	108	4.2	1.8
Y	275	0.6	0.7

- A. X 国可能在北美
B. Y 国可能在欧洲西部
C. X 国的人口自然增长率低于 Y 国
D. Y 国人口分布稀疏

- 【2006·崂山中考】读下列表格(四个国家 1998 年的有关人口资料),完成 2~3 题。

国家	出生率(%)	死亡率(%)
英国	1.20	1.08
巴西	2.03	0.73
德国	0.97	1.04
尼日利亚	4.01	1.23

2. 德国存在的主要人口问题是 ()
①增长过快 ②增长过慢 ③少年儿童比例过高 ④劳动力不足
A. ①③ B. ②④
C. ②③ D. ①④
3. 四个国家中,1998 年的人口自然增长率最高的是 ()
A. 英国 B. 巴西
C. 德国 D. 尼日利亚
4. 【2006·扬州中考】目前,人口自然增长率最高的大洲是 ()
A. 亚洲 B. 欧洲
C. 非洲 D. 北美洲
5. 【2005·呼和浩特中考】甲地比乙地人口稠密,由此可推出的正确结论是 ()
A. 甲地一定比乙地气候温暖湿润
B. 甲地一定比乙地地形平坦
C. 每平方千米内的居民数量甲地一定比乙地多
D. 甲地的人口一定比乙地多
6. 【2006·南通中考】从世界人口分布图(图 K6-1)中可以看出,世界人口稠密地带主要位于 ()
A. 北半球内陆平原地区
B. 北半球中低纬度近海地带
C. 赤道附近沿海地带
D. 南半球中纬度平原地区

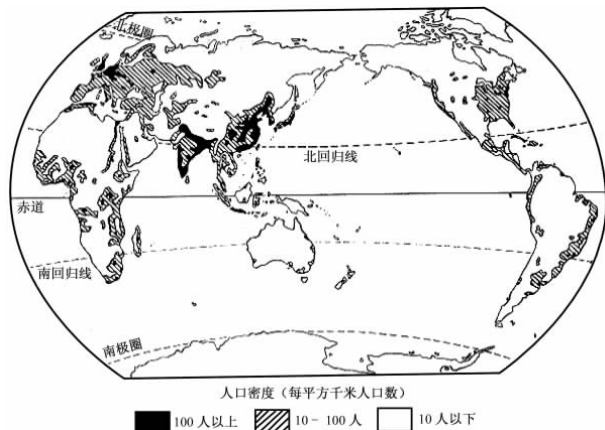


图 K6-1

7. 【2006·宜昌中考】宜昌市人口约 418 万,面积为 2.1 万平方千米,则其人口密度约为 ()
A. 5 人/平方千米 B. 19.9 人/平方千米
C. 50 人/平方千米 D. 199 人/平方千米
8. 【2006·扬州中考】关于人口问题的观点,正确的是 ()
A. 人口增长越快越多越好
B. 人口增长越慢越少越好
C. 人口停止增长或减少更好
D. 人口数量的增长应该同社会经济发展相适应,与资源环境条件相协调
9. 【2007·福州中考】撒哈拉以南的非洲 90% 以上的人口为 ()
A. 黄种人 B. 白种人
C. 黑种人 D. 混血种人
10. 【2007·宁德中考】图 K6-2 中字母 C 所在大洲居民大多数属于 ()

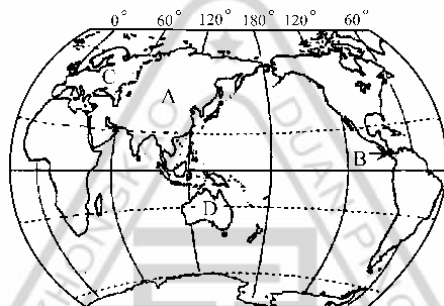


图 K6-2

- A. 黄色人种 B. 白色人种
C. 黑色人种 D. 混血人种
11. 【2006·黑河中考】北美洲的印第安人属于 ()
A. 黄色人种 B. 白色人种
C. 黑色人种 D. 混血人种

12. 【2007·威海中考】为迎接2008北京奥运会,北京市掀起了学习英语的热潮,其主要原因是 ()
- A. 英语是世界上使用人数最多的语言
B. 英语是世界上使用最广泛的语言
C. 英语是联合国的唯一工作语言
D. 英国参加2008年奥运会的运动员最多
13. 【2007·广安中考】世界上使用人数最多的语言是 ()
- A. 英语 B. 汉语
C. 俄语 D. 法语
14. 【2007·株洲中考】宗教是人类社会中一种重要的文化现象。世界三大宗教都起源于 ()
- A. 亚洲 B. 欧洲
C. 非洲 D. 北美洲
15. 【2006·衡阳中考】世界上信徒最多、流传最广的宗教是 ()
- A. 佛教 B. 印度教
C. 基督教 D. 伊斯兰教
16. 【2008·原创中考预测题】图 K6-3 表示的是哪一种宗教的建筑 ()



图 K6-3

- A. 基督教 B. 佛教
C. 伊斯兰教 D. 道教

第 II 卷(综合题 共 36 分)

17. (16 分)【2006·泰安中考】阅读下列图文材料,回答问题。
- 材料一 城市人口占总人口比重的高低,在一定程度上反映了一个国家和地区的社会经济发展水平。城市集中了较多的人口及工业、商业和其他产业,交通运输和科技文教也相对发达。世界发达国家 70% 以上的人口居住在城市。目前,发展中国家城市人口的比重也在不断上升,城市人口的大量增加,为城市建设和发展提供了充足的劳动力,但由此也产生了许多社会问题。
- 材料二 “人口迁移示意图”(图 K6-4)



图 K6-4

- (1)材料二反映的人口迁移方向是_____。(2 分)
- (2)近年来,城市人口增长速度越来越快,请结合实际分析这种变化的原因。(6 分)

(3)根据以上材料,设计一个地理问题,并回答。(不要与上述两个问题重复)(8 分)

问题: _____

回答: _____

18. (20 分)【2008·原创中考预测题】读“世界地图”(图 K6-5),回答问题。

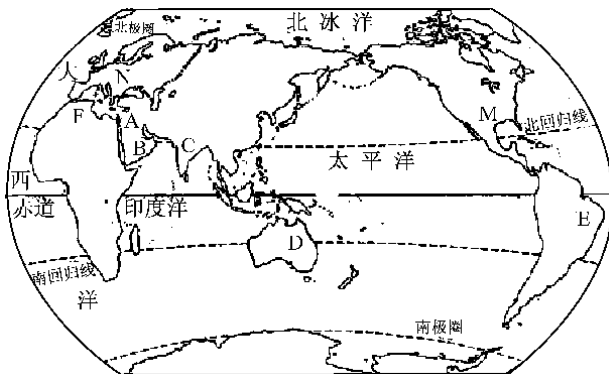


图 K6-5

- (1)写出图中数码所代表的地理事物名称。(4 分)
- 大洲 N: _____; 国家 D: _____。
- (2)M 所在地的土著人是 _____, 属于 _____ 人种; C 地居民大多属于 _____ 人种, 官方语言是 _____。(8 分)
- (3)图中 B、C、D、M 中, 石油资源丰富的是 _____ (填字母)。(2 分)
- (4)图中 F 地居民信仰的宗教是 _____; E 地居民主要讲 _____ 语。(4 分)
- (5)图中 E、F 两地的居民建筑各有特色, _____ 地民居墙体相对单薄, 建有较完整的排水系统。(2 分)

考点训练 7 聚落、发展与合作

[训练时间:45分钟 分值:100分]

第 I 卷(选择题 共 68 分)

1. 【2007·南平中考】人类社会在发展过程中,集中居住形成了 ()
- A. 乡村 B. 城市
C. 家庭 D. 聚落
2. 【2007·济宁中考】下列聚落(图 K7-1)在湿热气候环境中形成的是 ()





图 K7-1

- 【2006·潍坊中考】读沙漠景观图(图 K7-2),回答 3~4 题。



沙漠中绿洲景观

3. 该景观可能位于下列哪个地区 ()
- A. 欧洲西部
B. 西亚和北非地区
C. 我国的塔里木盆地
D. 北美洲北部地区
4. 该地区的民居建筑“墙体厚,窗子小”的原因是 ()
- A. 气候寒冷
B. 降水丰富
C. 昼夜温差很大,风沙也很大
D. 降水稀少
5. 【2005·淮安中考】有关聚落的叙述,错误的是 ()
- ①世界上的任何一个角落都有聚落
②聚落是人们的集中居住地
③聚落的形成与自然条件无关
④聚落随人口和社会的发展而发生变化
- A. ①② B. ③④
C. ①③ D. ②④

6. 【2007·广安中考】世界上面积最大的国家是 ()
- A. 中国 B. 加拿大
C. 巴西 D. 俄罗斯
7. 【2007·东莞中考】世界上人口最多的国家是 ()
- A. 中国 B. 美国
C. 加拿大 D. 俄罗斯

【2006·黄冈中考】读四个国家轮廓图(图 K7-3),回答 8~9 题。

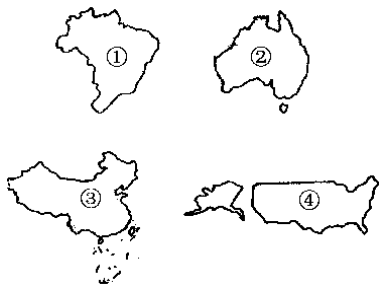


图 K7-3

8. ②③④三国都濒临的大洋是 ()
- A. 太平洋 B. 大西洋
C. 印度洋 D. 北冰洋
9. 四国中属于发达国家的是 ()
- A. ①② B. ②③
C. ②④ D. ③④
10. 【2007·邵阳中考】世界上的发达国家主要分布在 ()
- A. 亚洲、欧洲、大洋洲
B. 欧洲、北美洲、大洋洲
C. 亚洲、欧洲、拉丁美洲
D. 亚洲、欧洲、非洲
11. 【2007·株洲中考】读发达国家和发展中国家人口和国内生产总值比较图(图 K7-4),属于 I 类国家的是 ()

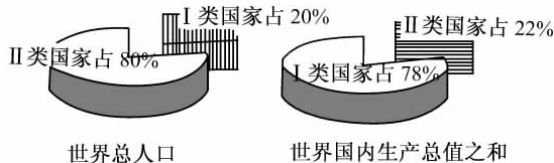


图 K7-4

- A. 澳大利亚 B. 阿根廷
C. 尼日利亚 D. 巴西
12. 【2007·威海中考】“南北对话”中的“南”指的是 ()
- A. 南半球的国家
B. 发达国家
C. 南美洲
D. 发展中国家

考点训练 8 亚洲

[训练时间:45分钟 分值:100分]

第 I 卷(选择题 共 76 分)

- 【2007·株洲中考】“我们亚洲，山是高昂的头，我们亚洲，河像热血流……”听到这首《亚洲雄风》，我们脑海中会浮现出亚洲山河的壮丽画卷。下列有关亚洲景观的描述，正确的是 ()
 - 青藏高原是世界上最高的高原
 - 喜马拉雅山是世界上最高的山脉
 - 长江是世界第一长河
 - 贝加尔湖是世界上面积最大的淡水湖
 - 【2006·怀化中考】下列关于亚洲的说法，你认为与实际不相符的是 ()
 - 地势中部高四周低
 - 季风气候显著
 - 多样化的地域文化
 - 经济发展很平衡
 - 【2006·盐城中考】关于亚洲的叙述，错误的是 ()
 - 世界上陆地面积最大的洲
 - 地形以平原盆地为主
 - 东部和南部季风气候显著
 - 河流从中间流向四周，呈放射状分布
 - 【2006·福州中考】下列关于亚洲地形、地势、河流的叙述，正确的是 ()
 - 地形以平原为主，地势平坦，河流较少
 - 地势中部低、四周高，河流多为内流河
 - 地形以平原、丘陵为主，河流短急
 - 地势中部高、四周低，河流由中部呈放射状流向四周
 - 【2008·原创中考预测题】亚洲是世界第一大洲，下面是对“世界第一大洲”的说明，其中错误的是 ()
 - 世界上跨纬度最广的一个洲
 - 世界上跨经度最广的一个洲
 - 东西距离最长的一个洲
 - 世界上面积最大的一个洲
 - 【2006·黑河中考】亚洲东、南部冬季风从陆地吹向海洋，夏季风从海洋吹向陆地。请你判断是哪种典型的气候类型 ()
 - 海洋性气候
 - 草原气候
 - 季风气候
 - 沙漠气候
 - 【2005·济南中考】关于亚洲自然地理特征的叙述，正确的是 ()
 - 跨经度最广，东西距离最长
 - 湖泊众多，拥有世界上面积最大的淡水湖
 - 东部和南部夏季的降水与夏季风的强弱有密切的关系
 - 中部地区受地形因素的影响，形成典型的温带大陆性气候
 - 【2007·潍坊中考】关于大洲地形、地势特点的描述正确的是 ()
 - 欧洲地势中部高，四周低
 - 亚洲地形类型复杂，以高原、山地为主
 - 非洲地形平坦，以平原为主
 - 南美洲分三大地形区，且南北纵列分布
 - 【2007·威海中考】亚洲和北美洲共同具有的地理特征是 ()
 - 地势中间高，四周低
 - 地势东西两侧高，中部低
 - 温带大陆性气候面积广大
 - 缺失热带雨林气候
 - 【2008·原创中考预测题】下列运河或海峡，属于洲际界线的是 ()

①苏伊士运河 ②马六甲海峡 ③白令海峡 ④巴拿马运河

 - ①②③
 - ②③④
 - ①②④
 - ①③④
 - 【2008·原创中考预测题】西亚最重要的矿产资源是 ()
 - 煤
 - 铁
 - 天然气
 - 石油
 - 【2008·原创中考预测题】关于亚洲发展状况的正确叙述是 ()
 - 经济发展不平衡，地区差异大
 - 除日本外，大多数国家属于发达国家
 - 发展中国家经济发展差异不大
 - 新加坡是典型的发达国家
- 【2007·潍坊中考】生产生活与天气、气候密切相关。天气现象复杂多变，地球表面冷热不均，降水差别显著，影响人类生产生活因素多种多样。根据所学知识，回答第 13 题。
- 亚欧大陆西北部和东北部纬度位置相同，气候却差异很大，其原因是 ()
 - 人类活动
 - 大气环流和洋流
 - 地形
 - 太阳辐射

【2007·邵阳中考】图 K8-1 为 2003 年亚洲五国国内生产总值的三类产业构成图,读图完成 14~15 题。

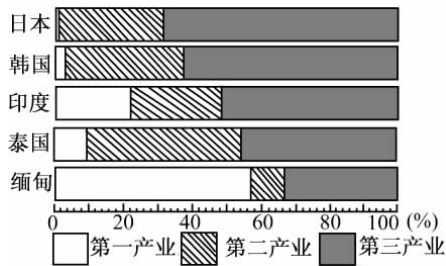


图 K8-1

14. 图示五国中第一产业(农业)在国内生产总值中所占比重最大的国家是 ()
- A. 韩国 B. 印度
C. 泰国 D. 缅甸
15. 由图可知,五国产业构成差异很大,这说明 ()
- A. 亚洲各国自然条件差异很大
B. 亚洲各国人口数量差别很大
C. 亚洲各国经济发展水平差异很大
D. 亚洲各国政治制度差别很大
16. 【2008·原创中考预测题】下列关于亚洲经济发展的叙述,正确的是 ()
- A. 亚洲经济不发达的历史原因是过去长期遭受殖民统治
B. 20 世纪 70 年代以来,西亚、中亚大力发展出口加工工业,推动了本国经济发展
C. 东南亚国家因为大量出口石油而成为比较富裕的国家
D. 沙特阿拉伯、韩国都已迈入发达国家的行列
17. 【2008·原创中考预测题】亚洲是世界上季风气候最显著的地区,它的东部和南部都受季风的影响,下列说法正确的是 ()
- A. 亚洲东部和南部的夏季风都来自太平洋
B. 亚洲东部和南部的季风的风向都是一致的
C. 亚洲东部和南部受季风的影响,所以它们的气候类型是一样的
D. 亚洲东部和南部的夏季风的特点都是温暖湿润
18. 【2008·原创中考预测题】亚洲的文化与当地自然条件有着密切的关系,下列说法错误的是 ()
- A. 也门多山坡,因此房屋大多依山而建
B. 由于气候严寒,亚库特人住木屋,身着毛皮服装
C. 印度尼西亚的达雅克人居住帐篷
D. 由于多河湖,孟加拉人以船为交通工具
19. 【2008·原创中考预测题】有关各大洲地理事物的叙述,错误的是 ()
- A. 非洲有“高原大陆”之称

- B. 欧洲是世界上平均海拔最低的大洲
C. 拉丁美洲其实就是指南美洲
D. 世界有三个人类文明发祥地位于亚洲

第 II 卷(综合题 共 24 分)

20. (24 分)【2006·菏泽中考】“我们亚洲,山是高昂的头……亚洲雄风震天吼。”相信你熟悉这首歌,那么你对亚洲了解多少呢?请读图 K8-2,完成下列要求。

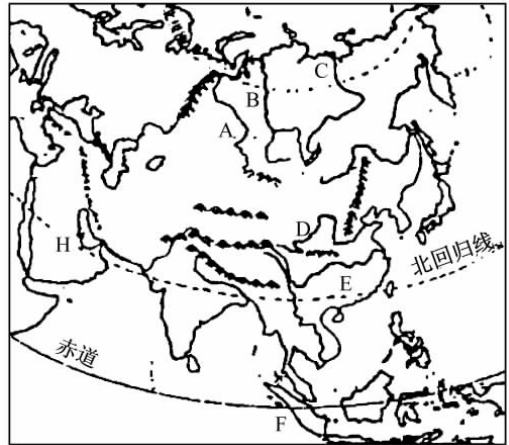


图 K8-2

- (1) 写出亚、欧两洲的分界线: _____、_____、_____、_____。(4 分)
- (2) 图中 F 岛多地震的原因是 _____。(3 分)
- (3) 小明通过读图,判断亚洲的地势特点是中间高、四周低,他判断的依据可能是 _____。(4 分)
- (4) 图中 A、B、C、D、E 五条河中,不会出现凌汛的是 _____;(2 分)A 河流量丰富,但航运价值不大,其自然原因是 _____。(3 分)
- (5) 应美国、沙特阿拉伯、摩洛哥、尼日利亚、肯尼亚五国元首的邀请,国家主席胡锦涛于 2006 年 4 月 18 日至 29 日对上述五国进行国事访问。上述五国中,位于 H 半岛上的是 _____。(2 分)全世界有许多地方因缺水而引发冲突,其中 H 半岛就是最典型的地区之一。新加坡的年降水量不算少,但也是世界上缺水的国家。他们缺少的原因有何不同?
- ① H 半岛 _____。(3 分)
- ② 新加坡 _____。(3 分)

考点训练 9 日本与东南亚

[训练时间:45分钟 分值:100分]

第 I 卷(选择题 共 76 分)

- 【2007·福州中考】小明去日本旅游回来,下面是他对日本之行的描述,哪一句是假的 ()
 - 享受美味生鱼片
 - 游富士山,泡温泉
 - 到热带雨林探险
 - 观赏樱花
- 【2007·东莞中考】关于日本的叙述,错误的是 ()
 - 富士山是日本的象征
 - 多火山、地震
 - 民族构成复杂
 - 和服是日本人的传统服装
- 【2007·东莞中考】日本工业发展的有利条件不包括 ()
 - 科技水平较高
 - 多优良港湾
 - 耕地面积很少
 - 教育水平高
- 【2007·威海中考】关于日本的叙述,错误的是 ()
 - 是世界经济强国,属发达国家
 - 资源丰富,科技发达
 - 经济发展对外依赖性强
 - 工业集中分布在太平洋沿岸和濑户内海沿岸
- 【2007·株洲中考】二战期间日本的经济受到重创,二战以后,短短几十年的时间,日本的经济迅速发展,成为世界经济强国。结合有关知识,判断下列关于日本经济说法正确的是 ()
 - 矿产资源丰富
 - 经济特点为“单一商品经济”
 - 人口众多,产品主要供本国居民消费
 - 在国际贸易中获取的利润高
- 【2006·常德中考】日本发展经济最需要从国外引进或进口的是 ()
 - 发达的科技
 - 高素质的劳动力
 - 高效率的管理
 - 煤、铁、石油
- 【2006·龙岩中考】下列关于日本的叙述,正确的是 ()
 - 东亚岛国,地广人稀
 - 地形以平原为主

- 大量进口原料,出口工业产品
- 工业集中分布在日本海沿岸

- 【2007·湘潭中考】湘潭九华工业园组团去考察日本的主要工业区,最合适的地区是 ()
 - 北海道西部
 - 日本海沿岸
 - 九州岛南部
 - 濑户内海沿岸
- 【2007·南平中考】读“日本经济结构图”(图 K9-1),关于日本经济的叙述,正确的是 ()

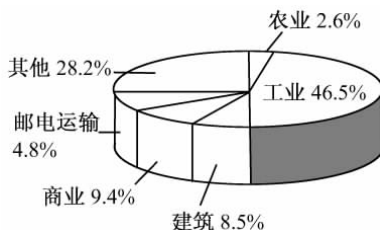


图 K9-1

- 农业发达且在国民经济中占绝对优势
 - 具有高度发达的资本主义工业
 - 工业水平比较低
 - 商业、建筑业占绝对优势
- 【2006·青岛中考 7 题变式题】日本的温泉有 1 200 多处,这些温泉区已经成为日本的旅游和疗养胜地。与温泉相联系的地理特征有 ()
 - 日本气候属于海洋性
 - 日本地形以山地、丘陵为主
 - 日本多火山、地震
 - 日本河流短小湍急
 - 【2007·东莞中考】海外华人和华侨分布最集中的地区是 ()
 - 加拿大
 - 东南亚
 - 美国
 - 澳大利亚
 - 【2007·威海中考】关于东南亚地区的叙述,不正确的是 ()
 - 是世界上重要的热带作物生产基地
 - 由中南半岛和马来群岛两部分组成
 - 整个地区都是热带雨林气候
 - 处在两大洲和两大洋的“十字路口”,地理位置重要
 - 【2005·济宁中考】在世界上,东南亚的地理位置非常重要,是因为它位于 ()
 - 五海三洲之地
 - 亚洲各国到达美洲的必经之地