

©孙萍,毕守才 2006

图书在版编目(CIP)数据

新课程·新教材 导航·学地理·八年级上·人教版/孙萍,毕守才编.
—大连:辽宁师范大学出版社,2005.6(2006.7重印)
ISBN 7-81042-747-4

I. 新... II. ①孙... ②毕... III. 地理课-初中-教学参考资料
IV. G634

中国版本图书馆 CIP 数据核字(2005)第 061237 号

编委会

主任 王兆祯

副主任 孟凡敏 韩桂华 赵桂弟 段维强

编委 宋文一 赵莉 金晔 陈静 李军 于淑贤 袁佩琳
王天美 孟凡敏 韩桂华 赵桂弟 段维强 王兆祯

出版人:程培杰

丛书策划:程培杰 王 星

责任编辑:穆 杰 王 琦

责任校对:陈连娜

封面设计:李小曼

版式设计:方力颖

出版者:辽宁师范大学出版社

地 址:大连市黄河路 850 号

邮 编:116029

营销电话:(0411)84206854 84215261 84259913(教材)

印刷者:大连华伟印刷有限公司

发 行 者:辽宁省华育书刊发行有限公司

幅面尺寸:185mm×260mm

印 张:4

字 数:100千字

出版时间:2006年7月修订版

印刷时间:2006年7月第4次印刷

定 价:4.30元

目 录

第一章 从世界看中国	1
第一节 辽阔的疆域	1
第二节 众多的人口	5
第三节 多民族的大家庭	8
自我评价	10
第二章 中国的自然环境	14
第一节 地势和地形	14
第二节 气候多样 季风显著	17
第三节 河流和湖泊	21
自我评价	24
第三章 中国的自然资源	30
第一节 自然资源总量丰富 人均不足	30
第二节 土地资源	32
第三节 水资源	35
自我评价	39
第四章 中国的经济发展	43
第一节 逐步完善的交通运输网	43

第二节 因地制宜发展农业	46
第三节 工业的分布与发展	49
自我评价	51
参考答案	54

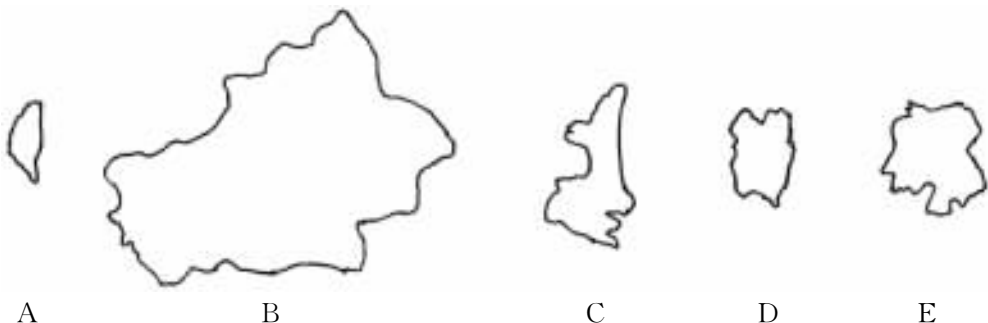
- C. 亚洲东部,太平洋西岸
D. 亚洲东部,太平洋东岸
2. 我国大部分位于 ()
A. 热带 B. 北温带 C. 北寒带 D. 南温带
3. 关于我国地理位置的特点,说法正确的是 ()
A. 我国大部分位于北温带,不利于农业的多种经营
B. 我国陆上疆界过长,不利于对外贸易的发展
C. 我国地域广大,资源丰富
D. 我国海陆兼备,有利于西部太平洋湿润的气流深入大陆内部,形成降水
4. 在晴朗的天气里,当帕米尔高原还是满天星斗时,乌苏里江应该是 ()
A. 旭日东升 B. 天近中午 C. 晚霞满天 D. 满天星斗
5. 下面选项属于我国内海的有 ()
A. 台湾海峡 B. 渤海 C. 东海 D. 黄海
6. 下列国家中,与我国隔海相望的一组是 ()
A. 马来西亚、新加坡 B. 朝鲜、韩国 C. 柬埔寨、文莱 D. 日本、菲律宾
7. 沿顺时针,与我国陆上疆界相邻的国家有 ()
A. 缅甸、越南、哈萨克斯坦、俄罗斯 B. 印度、阿富汗、缅甸、老挝
C. 越南、老挝、巴基斯坦、印度 D. 巴基斯坦、吉尔吉斯斯坦、蒙古、朝鲜
8. 在我国省级行政区中,邻国最多的是 ()
A. 西藏自治区 B. 新疆维吾尔自治区
C. 黑龙江省 D. 广西壮族自治区
9. 在我国省级行政区中,邻省最多的是 ()
A. 陕西省 B. 四川省 C. 云南省 D. 湖南省

我来填

10. 我国疆域辽阔,陆地领土面积约_____万平方千米。仅次于_____和_____,居世界第三位。
11. 我国是世界上为数不多的海洋大国之一,领海及内水面积为_____万平方千米,管辖的海域面积约为_____万平方千米。
12. 我国是一个海陆兼备的国家,陆上疆界和海上疆界共长_____千米,近似等于_____ (纬线)的长度。

我来连

13. 将下列省级行政单位的轮廓图与名称、简称及行政中心用线连起来。



- | | | | |
|---|-------------|------|---------|
| A | (1)台湾省 | ①新 | a. 台北市 |
| B | (2)陕西省 | ②陕或秦 | b. 西安市 |
| C | (3)湖南省 | ③闽 | c. 长沙市 |
| D | (4)福建省 | ④湘 | d. 乌鲁木齐 |
| E | (5)新疆维吾尔自治区 | ⑤台 | e. 福州市 |

我能做

14. 读“中国在地球上位置示意图”，回答问题。

(1)在图中描出主要纬线：赤道、北回归线和北极圈
画出主要经线：西经 20°和东经 160°

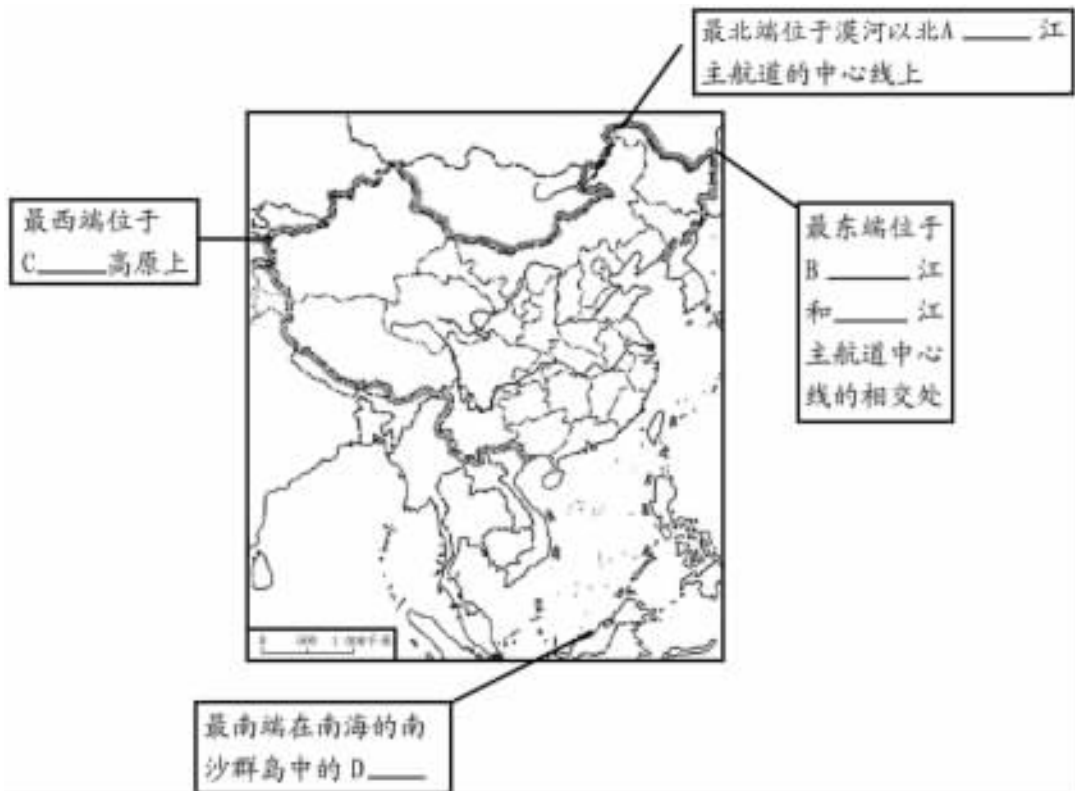
(2)从东西半球看，我国位于_____半球；从南北半球看，我国位于_____半球；从世界大洲和大洋的位置关系看，我国是位于_____，_____的国家。

(3)从纬度位置看，我国大部分属于_____带，小部分在_____带，没有_____带(五带)。对我国农业的影响是_____。

从海陆位置看，我国位于_____大陆的东部，陆上与 14 个国家接壤。东部濒临_____洋，有众多的岛屿和港湾，是一个_____的国家。对我国发展_____、对外交往与合作等有好处。



15. 读图，回答问题。



(1)我国省级行政区之最:

- ①纬度最高的省区是_____，②纬度最低的省区是_____，
 ③跨经度最广的省区是_____，④面积最大的省区是_____，
 ⑤邻省最多的省区是_____、_____，⑥邻国最多的省区是_____。

请将上述省区名称的简称填在图中相应位置上。

(2)在图中填出我国四大海域的名称。

(3)古人说中国“上下五千年，纵横一万里”。完成下面要求，你就会对这句话有更深刻的理解。

请在图中填出我国领土的“四至”点，并量算我国最北端至最南端的直线距离，最东端至最西端的直线距离。

16. 读资料，回答问题。

资料一:1994年11月16日,《联合国海洋法公约》生效,其中将海洋分为领海、毗连区、专属经济区、大陆架、公海等几部分。一个国家拥有对专属经济区的自然资源勘探、开发、科研、人工岛屿及其他设施的使用和管辖权。


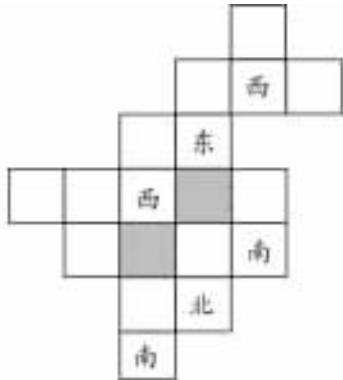
资料二:日本曾在1987年花费巨资加固无人居住的小岛。因为拥有海洋上的一个小岛,可以使该国获得1500多平方千米的领海(相当于3个新加坡),43万平方千米的专属经济区(相当于4个我国的浙江省)。

- (1)我国大陆海岸线北起_____省,南到_____自治区,全长约_____万千米。自北向南濒临的海域有:_____、_____、_____和_____。
- (2)我国岛屿众多,如_____岛、_____岛等,加上漫长的海岸线,我国可管辖的海域面积广大,约_____万平方千米。
- (3)我国的内海有_____海和琼州海峡。

探究创新

17. (1)在左图中完成空格,使横行、竖行分别组成我国省级行政区的名称,不能重复。

(2)在右图的每个花瓣中填上一个字,组成一个我国省会的名称,并说出该省区的名称。

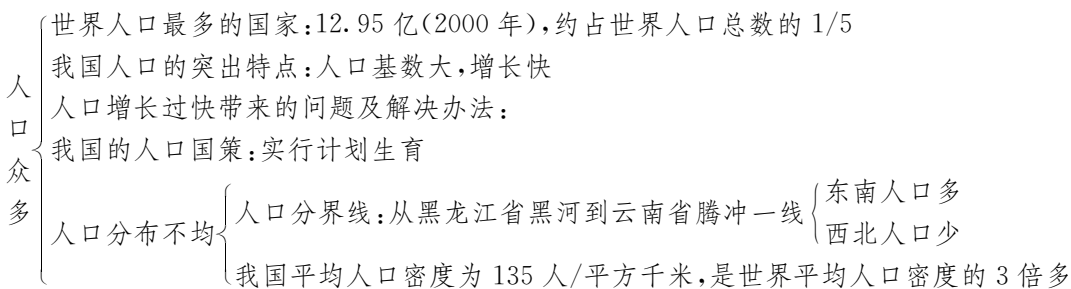


第二节 众多的人口

学法导航

抓住要点:本节主要学习我国人口的基本国情。学习时,要抓住我国人口基数大这个要点。由于人口基数大,人口每年增长数多,人口问题给社会经济发展和资源环境带来巨大的压力。目前我国实行的人口政策是:实行计划生育,控制人口数量,提高人口素质。例如,我国的人口自然增长率从1970年的2.59%降到1999年的0.88%,人口自然增长率平均每年下降0.57%,下降的速度比较快,但每年还新增人口1 200多万,主要原因就是人口基数大。

本节知识网络如下:



能力展示

我会选

- 关于我国人口增长的说法,正确的是 ()
 - 人口增长越快,越能带动经济发展,因为人多力量大
 - 人口增长越慢,越有利于人民生活水平的提高
 - 由于我国的人口自然增长率很高,我国每年仍新增人口1 200万
 - 人口的增长应同社会经济发展和资源环境条件相适应
- 我国每年净增人口1 200万,主要原因是 ()
 - 城市化进程加快
 - 改革开放促进经济发展的结果
 - 没有很好地实行计划生育政策
 - 我国人口约有13亿,人口基数大
- 我国人口自然增长率从1970年的2.59%降到1999年的0.88%,全国共少出生人口2.5亿人,节约抚养费约3万亿元,这说明 ()
 - 我国没有人权
 - 计划生育成效显著
 - 人口越少越有利于经济发展
 - 人口不断减少,可以不实行计划生育了

4. 我国人口分布特点是 ()
 A. 北方多、南方少
 B. 南方多、北方少
 C. 西部多、东部少
 D. 东部多、西部少
5. 我国人口最多的省级行政区是 ()
 A. 蜀
 B. 豫
 C. 鲁
 D. 粤
6. 我国人口分布不均匀,以黑河—腾冲一线为界,位于此线以东的地区人口密度大,下面选项中位于此线以东的省区、直辖市有 ()
 A. 西藏自治区
 B. 甘肃省
 C. 重庆市
 D. 宁夏回族自治区

我来填

7. 根据 2000 年第五次人口普查,我国总人口为_____亿,目前是世界上人口_____的国家,占世界人口总数的_____以上。
8. 我国陆地面积是_____万平方千米,计算我国人口密度大约是_____人/平方千米,大约是世界平均人口密度(39 人/平方千米)的_____倍多。

我能做

9. 结合下表,回答下列问题。

年份	1949	1955	1960	1965	1970	1975	1980	1985	1990	1995	2000
人口数(亿)	5.4	6.1	6.6	7.3	8.3	9.2	9.9	10.6	11.4	12.1	12.7

注:本表各年人口数未包括香港、澳门特别行政区和台湾省的人口数。

- (1) 根据表格,绘出我国人口增长曲线图。



- (2) 计算从 1949 年到 2000 年我国人口增长了_____亿。
- (3) 说一说我国人口增长有什么特点? 产生了哪些负面影响?

10. 读图,回答问题。



- (1)在图中用彩笔画出我国人口地理分界线。
- (2)人口密度在 10 人/平方千米以下的省区有_____、_____、_____、_____等,它们主要分布在我国的_____地区;人口密度在 400 人以上的省区有_____、_____、_____等,它们主要分布在我国的_____地区。
- (3)从图中可以看出我国人口分布_____,以_____—_____一线为界,此线以东人口密度_____,此线以西人口密度_____。

II. 资料题:

20 世纪 60 年代,国家号召青年上山下乡,建设祖国大西北。当时全国东部许多省的热血青年来到祖国的大西北,可到了 80 年代,出现了“孔雀东南飞”的现象。(当时去的人中大部分又回到家乡)

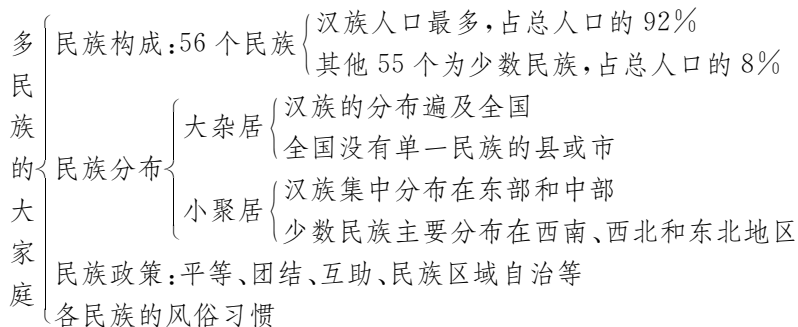
请结合影响人口分布的条件,谈谈你的看法。

第三节 多民族的大家庭

学法导航

我国是一个多民族的大家庭,各民族大都拥有自己的文字、语言、风俗、习惯等。在学习本节内容时,同学们要通过看电视、读书、上网等多种渠道广泛搜集各民族的资料、图片,并结合时事政治了解我国各民族的风俗习惯、传统文化和民族政策,理解各民族一律平等、互相尊重、团结友爱的重要意义。同时,能通过我国民族分布图说出我国民族的分布特点,以及这种分布对地区经济发展和文化交融的积极意义。

本节知识网络如下:



能力展示

我会选

- 关于我国少数民族的叙述,正确的是 ()
 - 我国是一个统一的多民族国家,全国有56个少数民族
 - 少数民族同汉族的分布界线十分清楚
 - 各民族分布特点是大杂居,小聚居
 - 我国少数民族同汉族交错分布
- 我国各民族中人口最多的是 ()
 - 壮族
 - 满族
 - 汉族
 - 回族
- 下面有关我国民族政策、风俗习惯等内容的叙述,正确的是 ()
 - 民族不分大小,一律平等
 - 我国的每个民族都有自己的语言和文字
 - 我国政府建议各民族不搞宗教活动
 - 我国各民族实行区域自治,我国共设立了6个自治区
- 我国最西端的省级行政单位的主体民族是 ()
 - 蒙古族
 - 壮族
 - 藏族
 - 维吾尔族
- 北回归线穿过的自治区的简称是 ()
 - 滇
 - 桂
 - 闽
 - 台

(3)从图中我们可以看出汉族主要分布在_____部和_____部,少数民族主要分布在_____、_____和_____地区。各民族分布具有“_____”的特点。

探究创新

II. 阅读材料,回答问题。

周恩来同志曾在《关于我国民族政策的几个问题》一文中指出:“民族的风俗习惯比宗教信仰还要广泛,……如果不尊重,就容易刺激感情。比如我国对于回族和新疆的各个伊斯兰教的民族不吃猪肉的风俗习惯就要尊重。”

搜集资料,说说下面的风俗习惯是我国哪个少数民族的?你还能说出这些民族的哪些风俗习惯?

(1)该民族能歌善舞,传统风味食品有手抓饭、馕(一种饼)、烤羊肉串等。

(2)献“哈达”是该族人民最普遍的一种礼节,传统服饰特点是长袖、宽领、肥大的袍子,并有“穿衣露一手”的习惯。

(3)该族人民不食狗肉,传统民居是便于拆卸的蒙古包。

(4)该民族一般在阳历的4月13日至15日这三天过一个盛大的节日,内容主要有泼水、赛龙舟、跳孔雀舞、放“孔明箭”等活动。

自我评价

一、选择题

- 夏季我国白昼最短的地方在 ()
A. 漠河镇 B. 曾母暗沙
C. 帕米尔高原 D. 黑龙江与乌苏里江主航道相交处
- 我国跨经度最广的省区是 ()
A. 西藏自治区 B. 青海省 C. 内蒙古自治区 D. 新疆维吾尔自治区
- 我国濒临的海洋,从南到北依次是 ()
A. 渤海、黄海、东海、南海 B. 南海、东海、黄海、渤海
C. 渤海、东海、黄海、南海 D. 南海、黄海、东海、渤海
- 下面选项中有两个简称的省区是 ()
A. 江西省 B. 山西省 C. 河南省 D. 甘肃省

5. 下面省区轮廓图中,以藏族为主体的是 ()



A



B



C



D

6. 我国关于人口问题的国策是 ()

A. 控制人口数量
B. 提高人口素质
C. 实行计划生育
D. 晚婚、晚育、少生、优生

7. 关于人口数量的增长的叙述,正确的是 ()

A. 要同人口基数相适应
B. 要同社会经济发展和资源环境条件相适应
C. 要同国家的面积相适应
D. 要同风俗习惯相适应

8. 我国人口最多的省区的行政中心是 ()

A. 广州市
B. 成都市
C. 济南市
D. 郑州市

9. 下列省区中,邻国最多的是 ()

A. 滇
B. 藏
C. 新
D. 内蒙古

10. “五十六个民族,五十六枝花,五十六个兄弟姐妹是一家……”这首歌曲唱出了各族人民的心声。请你判断,我国人口最多的少数民族所在的省区简称是 ()

A. 桂
B. 新
C. 滇
D. 内蒙古

11. 下列叙述中,正确的是 ()

A. 我国没有一个县或者市的居民是单一民族
B. 在少数民族聚居区中,没有汉族人口分布
C. 各民族分布具有“小杂居,大聚居”的特点
D. 各少数民族主要分布在西南、西北、东南地区

12. 我国领土的最南端在 ()

A. 海南岛
B. 帕米尔高原
C. 青藏高原
D. 曾母暗沙

13. 下列选项中,正确的是 ()

A. 我国实行民族区域自治政策
B. 每个少数民族都有自己的语言、文字、宗教信仰和风俗,我们应该尊重
C. 少数民族创造的乐器有蒙古族的马头琴、维吾尔族的冬不拉等
D. 过泼水节的少数民族有傣族、壮族、彝族等

14. 我国的地理位置特点是 ()

A. 从海陆位置看,我国位于亚欧大陆的东部、太平洋的西岸
B. 从纬度位置看,我国位于北纬 10° — 52° 之间,大部分在北温带
C. 从东西半球看,我国位于西半球
D. 从温度带看,我国大部分位于热带,气候温暖湿润

15. 在世界上,平均几个人中就有 1 个中国人 ()

A. 3 个
B. 5 个
C. 7 个
D. 10 个

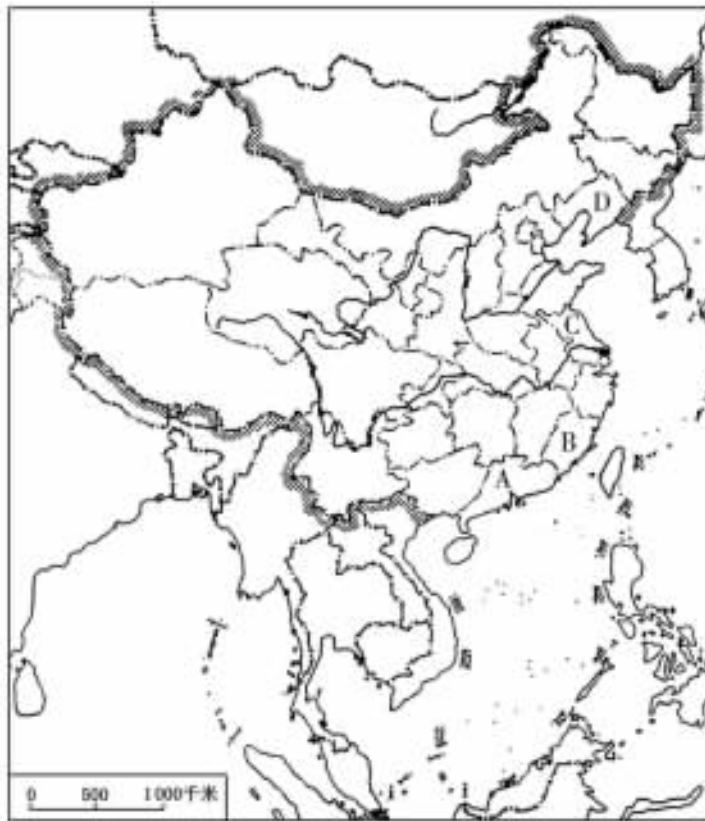
二、问答题

16. 读图,完成下列要求。



- (1) 上图的四个省中,临海的有_____,陆上同邻国接壤的有_____,纬度最高的有_____。
- (2) 上图的四个省中,地理位置最偏东的是_____,最偏西的是_____,有热带分布的是_____。
- (3) 在四个省的省会城市中,地理位置最偏南的是_____,最偏北的是_____。
- (4) 关于图中四个省的叙述,正确的是 ()
- A. ①省是我国西南边疆省,它同四个国家接壤
 - B. ②省是我国位置最南的省,我国领土最南端的曾母暗沙位于该省
 - C. ③省是我国的湖北省,简称鄂,省会在武汉市
 - D. ④省是我国的黑龙江省,它同俄罗斯和蒙古两国为邻

17. 我国疆域辽阔,同学们要到祖国的各地走一走,看一看。



我国省级行政区填充图

(1)沿海游一圈:

①在图中填出我国沿海的省级行政区名称。

A. _____ B. _____ C. _____ D. _____

②山东省隔_____海与_____ (国家)隔海相望,台湾省隔_____海与_____, _____等国家隔海相望。

(2)陆疆走一回:

我国疆界漫长,与我国云南省相邻的国家有_____,_____和_____。

与俄罗斯相邻的省区有_____,_____,_____和_____。

(3)长江漂一次:

长江干流发源于_____省,流经的直辖市的简称是_____和_____,最终注入_____海。

(4)黄河奔一程:

黄河干流流经的省区中主要的少数民族有_____族、_____族和_____族等。

18. 计算我国山东、河南、新疆、西藏的人口密度,然后比较我国东部地区与西部地区的人口分布特点。

省级行政区	东 部		西 部	
	山 东	河 南	新 疆	西 藏
面积(万平方千米)	15	17	160	123
人口(万人)	9 082	9 613	1 905	267
人口密度(人/平方千米)				
分布特点				

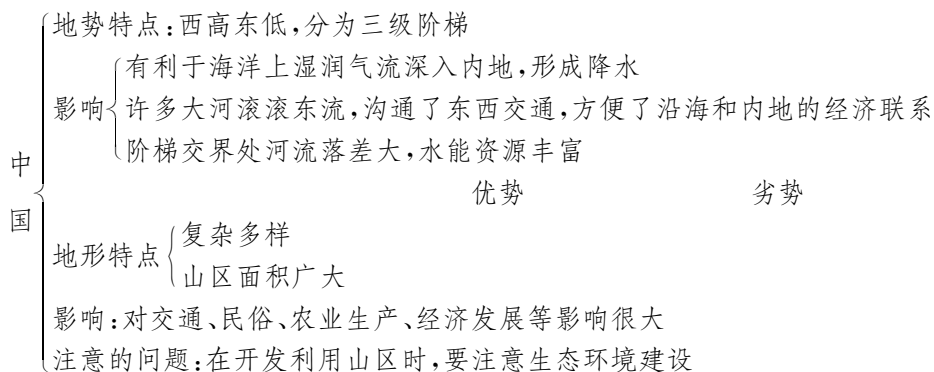
第二章 中国的自然环境

第一节 地势和地形

学法导航

弄清概念:地形和地势这两个概念既有联系,又有明显的区别。地形是地表各种各样形态的总称,每一种形态为一种地形类型——山脉(山地)、丘陵、高原、盆地和平原。地形类型分布在地表的一定区域内就构成了一个地形区,一个较大的地形区内可以有各种不同的地形;我国地形复杂多样,山区面积广大。地势则是由各种地形的具体分布情况所决定的一定区域内的地表高低起伏状况;我国地势西高东低,呈阶梯状分布。山地和山区也有区别。山地(山脉)是五种地形类型中的一种,在我国山地面积约占陆地面积的 $\frac{1}{3}$;山区则是一个比较广义的概念,包括山地、丘陵和比较崎岖的高原,约占全国面积的 $\frac{2}{3}$ 。

本节知识网络如下:



能力展示

我会选

- 下列关于我国地势西高东低优越性的叙述,正确的是 ()
 - 地势向海洋倾斜,不利于形成降水
 - 呈阶梯状,利于交通
 - 大河自西向东流,沟通东西交通,促进沿海和內地的经济联系
 - 高原、高山均分布在东部,有利于发展多种经济
- 关于我国地形地势特点的叙述,正确的是 ()
 - 平原面积广大,利于发展种植业
 - 地形复杂多样,山区面积广大
 - 山区面积广大,地形类型单一
 - 地势东高西低,呈阶梯状分布