
同步训练

初一地理

吉林教育出版社

目 录

第十一章 中亚	
第一节 概述	(1)
* 第二节 哈萨克斯坦	(1)
综合能力测试	(2)
第十二章 西亚和北非	
第一节 地理位置和自然环境	(4)
第二节 居民和经济	(6)
第三节 巴勒斯坦和以色列	(8)
* 第四节 沙特阿拉伯	(10)
第五节 埃及	(10)
综合能力测试	(12)
第十三章 撒哈拉以南的非洲	
第一节 自然环境	(14)
第二节 居民和经济	(16)
第三节 南非	(18)
综合能力测试	(20)
第十四章 欧洲西部	
第一节 自然环境	(22)
第二节 国家和居民	(24)
第三节 英国	(26)
第四节 法国	(27)
第五节 德国	(29)
* 第六节 意大利	(31)
综合能力测试	(32)
第十五章 欧洲东部和北亚	
第一节 范围和国家	(34)
第二节 俄罗斯	(36)
* 第三节 乌克兰	(39)
综合能力测试	(40)
第十六章 北美	
第一节 概述	(43)
第二节 美国	(45)
* 第三节 加拿大	(47)
综合能力测试	(48)

第十七章 拉丁美洲

第一节 政区和自然环境	(51)
第二节 居民和经济	(53)
第三节 巴西	(55)
* 第四节 墨西哥	(57)
综合能力测试	(58)

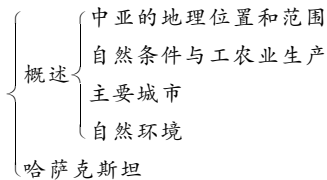
第十八章 大洋洲

第一节 概述	(61)
第二节 澳大利亚	(63)
综合能力测试	(65)

第十九章 南极洲 (67)**第二十章 人类共同生活在一个地球上** (70)**期末测试题** (72)**参考答案** (75)

第十一章 中亚

知识体系



第一节 概述(略)

* 第二节 哈萨克斯坦

训练目标

【重点掌握】

1. 中亚的地理位置和范围
2. 中亚的自然环境、工农业生产及主要城市
3. 哈萨克斯坦的概况

例题解析

【例】关于中亚地区农牧业生产的叙述,正确的是 ()

- A. 由于深居大陆内部,气候干旱,耕作业不发达,牧场广阔
- B. 中亚地区是世界上仅次于中国、美国的第三大产棉地
- C. 中亚的畜牧业以放牧牛、马、羊和骆驼为主
- D. 哈萨克斯坦是著名的棉花生产国,被誉为“白金之国”

分析 本题是考查中亚地区农牧业生产状况的一道题。中亚有广阔的平原,耕地面积大,热量较充足,阿姆河、锡尔河等河流为农业提供了灌溉水源,因而有利于农业发展,主要农作物为小麦和棉花,因此,A不正确;中亚的牧业主要饲养牛和羊,因此,C不正确;乌兹别克斯坦被称为“白金之国”,因此,答案D不正确。

答案 B

总结 气候是影响农业生产的重要因素。中亚地区,由于深居内陆,气候干旱,农业主要是灌溉农业和畜牧业,主要农作物是小麦和棉花,畜牧业以饲养牛和羊为主。中亚地区成为世界上仅次于中国、美国的第三大产棉基地。

综合能力测试

一、选择题

1. 乌兹别克斯坦被称为“白金之国”是因为它盛产 ()
A. 白金 B. 黄金 C. 棉花 D. 羊毛
2. 哈萨克斯坦境内最大的城市是 ()
A. 塔什干 B. 阿拉木图 C. 杜尚别 D. 比什凯克
3. 世界上最大的内陆国及其首都都是 ()
A. 哈萨克斯坦,塔什干 B. 哈萨克斯坦,阿拉木图
C. 蒙古,乌兰巴托 D. 哈萨克斯坦,阿斯塔纳
4. 世界上最大的内流湖是 ()
A. 里海 B. 咸海 C. 死海 D. 日本海
5. 中亚区域内世界著名的沙漠是 ()
A. 塔克拉玛干大沙漠 B. 塔尔沙漠
C. 撒哈拉沙漠 D. 卡拉库姆大沙漠
6. 下列有关中亚自然环境表述正确的是 ()
A. 中亚深居内陆,地形以高原、山地为主
B. 中亚大部分地区为干旱、半干旱气候
C. 中亚区域内河流多为外流河
D. 中亚咸海盐的浓度越来越大,咸海面积也越来越大
7. 下列关于中亚经济的表述中,正确的是 ()
A. 中亚棉花产量仅次于美国,位居世界第二位
B. 中亚的棉毛纺织工业、地毯编织和畜产品加工业都比较发达
C. 中亚森林资源丰富,木材加工工业发达
D. 本区采矿、冶金、军事工业比较落后
8. 中亚五国中,与我国接壤的国家有 ()
A. 土库曼斯坦、哈萨克斯坦、塔吉克斯坦
B. 塔吉克斯坦、吉尔吉斯斯坦、哈萨克斯坦
C. 乌兹别克斯坦、哈萨克斯坦、土库曼斯坦
D. 巴基斯坦、塔吉克斯坦、哈萨克斯坦
9. 流经中亚地区的外流河是 ()
A. 锡尔河 B. 乌拉尔河 C. 阿姆河 D. 额尔齐斯河
10. 中亚地区的气候特点是 ()
A. 冬冷夏热,降水稀少 B. 全年高温多雨
C. 冬季温和多雨 D. 冬温夏凉,降水较多
11. 中亚矿产资源 ()
A. 种类不多,储量不大
B. 在世界上占有重要地位的只有石油
C. 煤、铁、石油、天然气的探明储量都占世界重要地位
D. 有色金属的探明储量也占世界重要地位
12. 世界最大内陆国家的首都是 ()

A. 阿斯塔纳

B. 阿什哈巴德

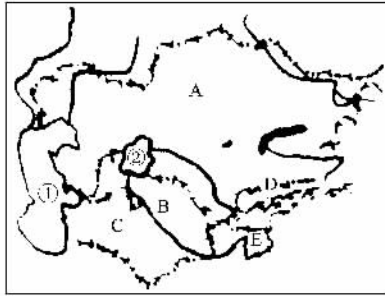
C. 阿拉木图

D. 塔什干

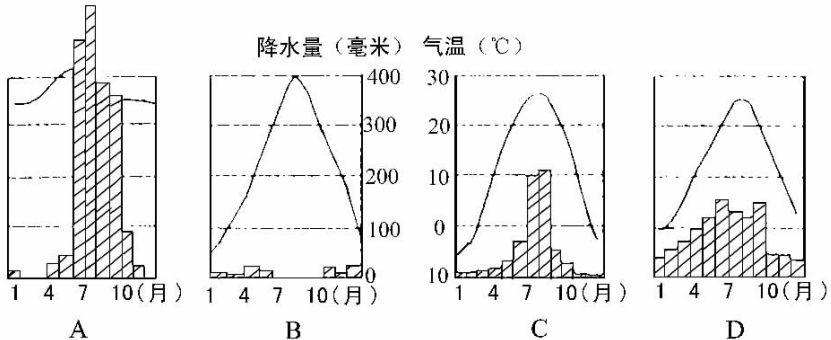
二、非选择题

13. 中亚地处亚欧大陆_____部,连接_____、_____两大洲,这里是古代东西方陆上的“丝绸之路”。现在,在我国新疆境内的铁路已与_____的铁路接通,为_____沿岸至_____沿岸架起了一座由铁路构成的“亚欧大陆桥”。
14. 中亚北部和西部是_____地形,_____面积广大。
15. 中亚是仅次于中国和美国的_____基地。
16. 乌兹别克斯坦因盛产_____而被称为“_____”。
17. 读下图,填空:

- (1) 中亚五国: A _____, B _____, C _____, D _____, E _____。
- (2) 河湖: ① _____, ② _____。



18. 读下面的四幅气温曲线和降水量柱状图,回答问题:



- (1) 表示中亚某城市气温、降水特征的是_____图,属_____气候。这种气候的气温夏季_____,冬季_____,降水_____。这种气候特征形成的根本原因是由中亚的_____决定的。
- (2) 表示南亚大部分地区气温、降水特征的是_____图,属_____气候。这种气候的特点是_____。
- (3) 表示东亚东部地区气温、降水特征的是_____图,属_____气候,该气候特点是_____。

第十二章 西亚和北非

知识体系

- 地理位置和自然环境
- 居民和经济
- 巴勒斯坦和以色列
- 沙特阿拉伯
- 埃及

第一节 地理位置和自然环境

训练目标

【重点掌握】

1. 西亚和北非地理位置的重要意义
2. 主要海洋、海湾、海峡、湖泊、国家和城市
3. 地形、气候

例题解析

【例】沟通地中海和大西洋的重要通道为 ()

- A. 土耳其海峡 B. 霍尔木兹海峡
C. 直布罗陀海峡 D. 苏伊士运河

分析 题干中所给的四个备选答案都为西亚和北非的重要通道:土耳其海峡沟通了黑海和地中海;霍尔木兹海峡是波斯湾和阿拉伯海之间的重要通道,有“石油海峡”之称;直布罗陀海峡是大西洋和地中海之间的交通要道;苏伊士运河连接了红海和地中海。

答案 C

总结 此题考查的知识点为西亚和北非的地理位置,即两洋、三洲、五海之间的咽喉要道。熟读地图,建立空间概念,才能解答类似题目。

同步训练

一、选择题

1. 世界陆地表面最低点及海拔是 ()

A. 咸海, -344 米 B. 吐鲁番盆地, -344 米
C. 死海, -300 米 D. 死海, -400 米
2. 世界最高的气温记录出现在 ()

A. 赤道附近的基尔 B. 利比亚的阿齐济耶
C. 利比里亚的阿齐济耶 D. 厄瓜多尔
3. 世界上面积最大的沙漠是 ()

第十二章

- A. 撒哈拉大沙漠
C. 塔尔沙漠
4. 亚欧两洲分界线是通过 ()
A. 死海 B. 里海 C. 黑海 D. 咸海
5. 古巴比伦文化的摇篮是 ()
A. 幼发拉底河和底格里斯河流域 B. 尼罗河谷地和河口三角洲
C. 阿姆河和锡尔河流域 D. 印度河和恒河流域
6. 死海的成因是 ()
A. 冰川侵蚀 B. 火山活动 C. 海水退却 D. 断裂陷落
7. 连接黑海和地中海的海峡是 ()
A. 土耳其海峡 B. 霍尔木兹海峡
C. 直布罗陀海峡 D. 马六甲海峡
8. 西亚、北非的地形大部分是 ()
A. 高原 B. 平原 C. 山地 D. 盆地
9. 西亚、北非气候干燥的主要原因是 ()
A. 距海较远,海洋水汽难以到达
B. 高原四周环山,地形闭塞,海洋湿气难以深入
C. 大部分地区受副热带高压和东北信风带控制
D. 地面覆盖大面积沙漠
10. 亚欧两洲分界线南部为 ()
A. 里海—高加索山—黑海—土耳其海峡 B. 黑海—土耳其海峡—苏伊士运河
C. 乌拉尔山—咸海—死海—高加索山 D. 乌拉尔山—死海—高加索山—苏伊士运河
11. 西亚和北非有七国属于“无流国”这七国中有 ()
A. 伊拉克 B. 科威特 C. 埃及 D. 约旦
12. 地中海沿岸地区的气候特点是 ()
A. 全年高温多雨 B. 冬季温和多雨,夏季炎热干燥
C. 冬冷夏热,降水少 D. 冬冷夏热,夏季多雨
13. 西亚国土面积最大的国家是 ()
A. 沙特阿拉伯 B. 伊朗 C. 伊拉克 D. 土耳其
14. 地处西亚、北非的国家中地跨两大洲的国家是 ()
A. 埃及 B. 沙特阿拉伯 C. 格鲁吉亚 D. 土耳其
15. 下列有关撒哈拉沙漠表述正确的是 ()
A. 西起大西洋,东到太平洋,北到地中海,南到苏丹热带草原
B. 撒哈拉沙漠地下埋藏有丰富的石油资源
C. 撒哈拉沙漠地处赤道两侧,终年干旱少雨
D. 撒哈拉沙漠是世界上面积最大的沙漠

二、非选择题

16. 本区地形大部分是_____原,属于_____气候,仅地中海沿岸为_____气候。
17. 世界陆地表面的最低点是_____海,由_____陷落而成,湖面海拔为_____米,它其实是个咸水湖,所含_____高。
18. 阿拉伯半岛上的沙特阿拉伯、阿曼等七国由于_____很少,地面没有河流,被叫做“_____”。
19. 沙漠边缘的平原,常因开垦不当或过度放牧,地面失去_____保护,致使土壤_____化,逐渐

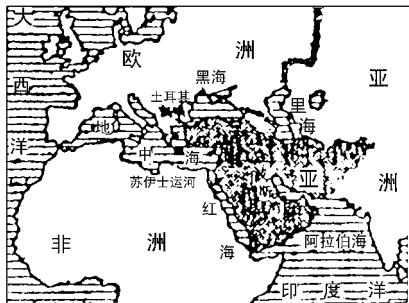
成为沙漠。

20. 读“西亚和北非的位置示意图”，回答问题：

(1) 西亚和北非地处_____洋和_____洋，_____洲、_____洲、_____洲，_____海、_____海、_____海、_____海之间。地理位置十分重要。

(2) 著名的“_____”，就通过本区的_____，说明中国同西亚地区自古以来就有经济交往。

(3) 现在西亚和北非又成为东、西方海、陆、空交通走廊。陆路：有_____路、公路通三洲。航空：由我国飞往东非、_____非、_____欧的飞机，都经过新疆、西亚。



海运

{ 苏伊士运河：沟通_____海与_____海，连接_____洋和_____洋
土耳其海峡：是_____海与_____海的门户

第二节 居民和经济

训练目标

【重点掌握】

1. 伊斯兰教和阿拉伯世界
2. 丰富的石油资源和磷矿资源
3. 气候和农牧业的关系

例题解析

【例】对西亚和北非的叙述，正确的是 ()

- A. 西亚和北非的国家均为阿拉伯国家，这里被称为阿拉伯世界
- B. 伊斯兰教、基督教、犹太教都把耶路撒冷看做是圣城
- C. 居民多信奉伊斯兰教的国家被称为阿拉伯国家
- D. 居民多为阿拉伯人的国家，通用阿拉伯语

分析 本题的解答要辨别伊斯兰教、阿拉伯人，阿拉伯国家，阿拉伯语等概念之间的内在联系和区别。

答案 B D

总结 一般来说，以阿拉伯人为主的国家称阿拉伯国家，通用阿拉伯语，信仰伊斯兰教。但信奉伊斯兰教的人远远超出阿拉伯国家的范围。南亚、东南亚、中亚等地区的居民，信奉伊斯兰教的人就很多，而这些国家并非阿拉伯国家。西亚不仅是伊斯兰教的发源地，也是基督教、犹太教的发祥地，三大宗教都有其宗教传说与耶路撒冷城有关，故三大宗教都把耶路撒冷城视作圣城。

同步训练

一、选择题

1. 西亚和北非绿洲农业的代表植物是 ()
A. 葡萄 B. 油橄榄 C. 枣椰树 D. 油棕
2. 下列关于本区农业、畜牧业表述正确的是 ()

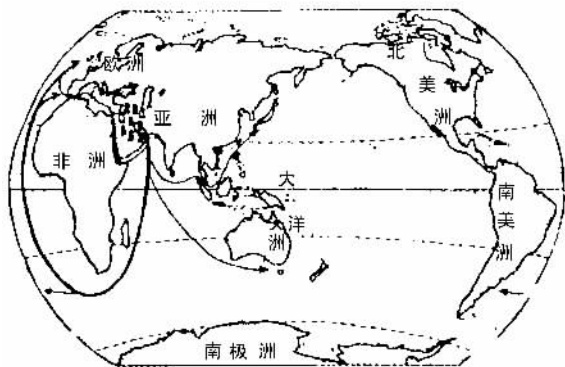
第十二章

- A. 本区畜牧业比较发达,居民以游牧方式四处放牧
B. 土耳其的安卡拉羊、阿富汗的细毛羊、紫羔皮等畜产品都很著名
C. 伊朗等国的出口商品中有羊毛地毯
D. 被称为“橄榄之邦”的国家是伊拉克
3. 世界上储量最大、出产和输出石油最多的地方是 ()
A. 西亚和北非 B. 俄罗斯 C. 美国 D. 墨西哥
4. 西亚和北非地下石油的特点是 ()
A. 储量大 B. 埋藏浅 C. 出油多 D. 油质好
5. 下列各国中,不以出口石油为主要收入的国家是 ()
A. 黎巴嫩 B. 沙特阿拉伯 C. 科威特 D. 伊拉克
6. 下列关于西亚和北非的石油的表述,正确的是 ()
A. 西亚以波斯湾为中心,有一条巨大石油带,东西延伸
B. 西亚的石油储量占世界总储量的一半,产量占世界产量的一半
C. 西来、北非的石油 90% 输往西欧、美国、日本等工业发达国家
D. 西亚、北非出口的石油,完全是由海运运出去的
7. 西亚、北非约有 2.5 亿人口,主要是 ()
A. 白色人种 B. 黄色人种 C. 阿拉伯人 D. 犹太人
8. 发源于西亚的宗教有 ()
A. 伊斯兰教 B. 基督教 C. 犹太教 D. 佛教
9. 伊斯兰教、基督教和犹太教三教圣城是 ()
A. 瓦拉那西 B. 耶路撒冷 C. 麦加 D. 麦地那
10. 西亚和北非各国经济发展的共同之处是 ()
A. 畜牧业为各国最重要的经济支柱 B. 养牛业和耕作业并重
C. 灌溉农业和畜牧业占有重要地位 D. 石油工业都很发达
11. 下列各国中,全部属“阿拉伯国家”的是 ()
A. 伊拉克、叙利亚、巴勒斯坦、摩洛哥 B. 以色列、伊朗、沙特阿拉伯、阿曼
C. 土耳其、埃及、阿尔及利亚、约旦 D. 阿富汗、阿塞拜疆、突尼斯、利比亚
12. 对西亚、北非农牧业的正确叙述是 ()
A. 土耳其的紫羔皮和阿富汗的细毛羊是国家贸易的著名畜产品
B. 枣椰树是绿洲农业的代表植物
C. 畜牧业比较发达,生产方式比较先进
D. 油橄榄、柑橘等水果主要产在水源充足的河谷平原和沙漠绿洲

二、非选择题

13. 沙特阿拉伯的_____城,被称为伊斯兰教的圣城。_____被伊斯兰教、基督教、犹太教都看做是圣城。
14. 西亚和北非是世界上_____人主要聚居的地区,其人种属_____种,居民大多信奉_____教,通用_____语。
15. 西亚和北非地下的石油,一般具有_____,_____,_____,_____的特点,所产的石油_____%输往_____,_____和_____。
16. 西亚和北非畜牧业发达,牧民放牧以_____方式为主,用羊毛织成的地毯是_____等国重要的出口商品。农业主要分布在_____和有地下水灌溉的_____。

17. 读图,完成下列要求:

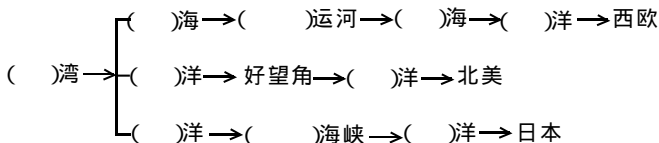


(1) 西亚自古以来就是兵家必争之地,究其原因主要因为:

A. 该地区位于_____洲、_____洲和_____洲的交通要道。

B. 该地区以_____为中心的石油资源丰富,其_____量、_____量、_____量都在世界上占重要地位。

(2) 完成西亚石油输往西欧、北美、日本的海上运输路线:



(3) 简述石油输出国的经济和前景。

第三节 巴勒斯坦和以色列

训练目标

【重点掌握】

1. 巴勒斯坦和以色列重要的地理位置
2. 先进的灌溉农业

例题解析

【例】下列关于巴勒斯坦地区的叙述,正确的是

()

- A. 是亚欧的“陆桥”
- B. 本地区的东侧是地中海沿岸平原,适于耕作
- C. 这一带的高原适合于定居放牧
- D. 这一地区只有荒漠,不能发展畜牧业

分析 巴勒斯坦地区位于阿拉伯半岛西侧,地中海东岸,是欧、亚、非三大洲的交通枢纽,战略位置非常重要,早在远古时代就是兵家的必争之地。这一地区的西侧是狭窄的地中海沿岸平原,适于耕作,其余

的大部分地区是干旱高原,只适于游牧。

答案 A

总结 该题考查的知识点是巴勒斯坦地区的位置和地理环境。熟记地图,建立空间概念,是解题关键。

同步训练

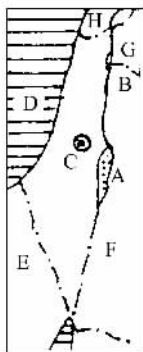
一、选择题

1. 西亚面积最大的国家及其首都都是 ()
 A. 沙特阿拉伯 麦加
 B. 伊朗 德黑兰
 C. 土耳其 安卡拉
 D. 沙特阿拉伯 利雅得
2. 下列叙述,正确的是 ()
 A. 以色列实现了在荒漠上发展灌溉农业
 B. 以色列属干旱的荒漠环境不能发展农业
 C. 以色列的高原区只能发展畜牧业
 D. 以色列与巴勒斯坦常因土地主权、宗教问题发生争端
3. 下列有关巴勒斯坦和以色列的叙述,正确的是 ()
 A. 巴勒斯坦和以色列都使用阿拉伯语
 B. 现在以色列占领了整个巴勒斯坦地区
 C. 巴勒斯坦与以色列常因土地主权、宗教问题发生争端
 D. 巴勒斯坦尚未建立独立的国家
4. 关于巴勒斯坦地区位置和地形的叙述,正确的是 ()
 A. 该地区位于地中海的东岸
 B. 该地区位于阿拉伯半岛的东侧
 C. 该地区是亚、非、拉三大洲的交通枢纽
 D. 该地区东部是狭窄平原,西部是干旱高原
5. 关于巴勒斯坦和以色列农业的正确叙述是 ()
 A. 巴勒斯坦地区西侧适于畜牧业,东部靠近约旦河宜于农耕
 B. 水资源严重不足,使巴、以两国农业生产水平低下
 C. 以色列在发展灌溉、改良荒漠上取得了丰富的成功经验
 D. 以色列投资修建水渠和输水管线,将南部水源输送到北部,甚至深入沙漠

二、非选择题

6. 巴勒斯坦阿拉伯人和犹太人都是古代_____族人的后裔,都曾在巴勒斯坦地区定居、生活。犹太人于1948年5月14日宣布建立“_____国”。
7. 巴勒斯坦人民经过长期斗争,于_____年_____月_____日宣布建立独立的巴勒斯坦国,但未确定其疆界。巴勒斯坦与以色列常因_____主权、_____问题发生争端。
8. 巴勒斯坦地区的气候_____,年降水量_____,且分布_____,_____资源严重贫乏,_____成了发展农业生产的关键。
9. 为解决_____的利用问题,以色列政府一方面投资修建了_____和_____管线,另一方面大力发展_____和_____技术,实现了在_____上发展_____的创举。
10. 读“巴勒斯坦地区图”,回答下列问题:
 (1) 填出图中字母代表的地理事物:国家:E _____、F _____、G _____、H _____,海洋:D _____。

- (2) A 湖泊的名称_____，名称的由来_____。
- (3) B 河的名称_____，河水的季节变化规律是_____。
- (4) C 城市的名称_____，_____教、_____教、_____教都把它奉为“圣城”。
- (5) 该地区_____、_____矛盾尖锐，至今尚未解决。



* 第四节 沙特阿拉伯(略)

第五节 埃及

训练目标

【重点掌握】

1. 尼罗河对埃及古代文明和现代经济(尤其是农业)的影响
2. 苏伊士运河开凿的地点和航运价值
3. 埃及传统的出口商品(长绒棉)和现代重要的经济支柱

例题解析

【例】埃及的耕地、人口、城市主要集中在 ()

- A. 尼罗河沿岸
B. 尼罗河三角洲地区
C. 地中海沿岸
D. 沙漠中的绿洲

分析 此题要结合埃及的气候和尼罗河对埃及的作用等方面来考虑。

答案 A B

总结 题中所列的四个选项所描述的地区,都会有耕地、人口,甚至城市的分布。但埃及气候干燥,90%以上为沙漠。因此决定耕地、人口、城市分布的主要因素是水源是否充足,由此可知 C、D 不可能成为耕地、人口、城市的主要集中区。尼罗河自南向北穿行于沙漠,为埃及人带来了肥沃的土壤和充足的灌溉水源,使尼罗河沿岸形成沙漠中一条绿色走廊。尼罗河哺育着两岸的居民,现在 90%以上的人口、城市、耕地等都分布在尼罗河沿岸和三角洲地区。

同步训练

一、选择题

1. 埃及农耕区和世界长绒棉产区是 ()

A. 尼罗河各地及地中海沿岸
B. 地中海沿岸
C. 尼罗河各地及三角洲
D. 红海沿岸
2. 世界上最长的河流是 ()

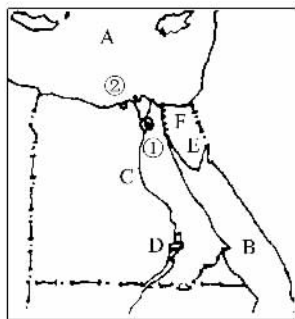
- A. 长江 B. 密西西比河 C. 亚马孙河 D. 尼罗河
3. 下列有关苏伊士运河的正确叙述是 ()
- A. 苏伊士运河是沟通地中海和黑海的海上交通要冲
 B. 苏伊士运河是连接大西洋和印度洋的捷径
 C. 塞得港位于苏伊士运河的南端
 D. 苏伊士运河两岸土壤肥沃, 农业发达, 是著名的“绿色走廊”
4. 埃及的第二大城市和最大海港是 ()
- A. 开罗 B. 亚历山大 C. 苏伊士 D. 塞得港
5. 下列关于埃及的表述, 正确的是 ()
- A. 埃及是地跨亚非两洲的亚洲国家
 B. 亚历山大是埃及人口最多的城市, 也是阿拉伯国家中人口最多的城市
 C. 石油一直是埃及的传统出口商品
 D. 尼罗河流域是古代埃及文化的摇篮

二、非选择题

6. 埃及位于非洲的_____部, 亚洲境内的_____半岛也是埃及的领土。
7. 埃及全境 90% 以上的地表是_____, 人口、城市主要集中在狭长的_____沿岸平原和入海处的河口三角洲。首都_____也位于此区, 该城市是阿拉伯国家中人口最多的城市。埃及在地中海沿岸的重要的海港是_____港。
8. 尼罗河全长_____多千米, 是世界第一长河, 发源于非洲东部高原, 自南往北注入_____海。
9. 苏伊士运河是在_____海和_____海之间的_____地峡开凿的, 运河的通航使印度洋到_____洋海上航运比绕好望角缩短航程 8000 千米以上。
10. 埃及具有吸引游客的旅游资源: 如尼罗河沿岸的优美风光, 古迹_____和_____奇景。

11. 读“埃及略图”, 完成下列要求:

- (1) 城市: ①_____, ②_____。
- (2) 运河 F _____, 沟通了 A _____ 和 B _____ 两海。
- (3) 水坝 D _____, 河流 C _____。
- (4) 半岛 E _____, 所在大洲是_____。
- (5) 埃及的农业特色是_____, 其著名农产品有_____, 主要分布在_____和_____。



三、简答题

12. 尼罗河和苏伊士运河各对埃及的经济发展起了什么作用?

综合能力测试

一、选择题

1. 西亚和北非的地形主要是 ()
A. 平原 B. 高原 C. 平原和高原 D. 山地
2. 北非主要的产油国是 ()
A. 科威特 B. 沙特阿拉伯 C. 阿尔及利亚 D. 阿曼
3. 苏伊士运河的开通,是沟通哪两个大洋的捷径 ()
A. 太平洋和大西洋 B. 大西洋和印度洋
C. 印度洋和太平洋 D. 太平洋和北冰洋
4. 西亚和北非主要人种是 ()
A. 黑色人种 B. 棕色人种 C. 黄色人种 D. 白色人种
5. 阿拉伯国家中人口最多的城市是 ()
A. 开罗 B. 亚历山大 C. 麦加 D. 耶路撒冷
6. 伊斯兰教、基督教、犹太教三大教派的圣城是 ()
A. 麦加 B. 利雅得 C. 开罗 D. 耶路撒冷
7. 西亚和北非的居民大多信仰 ()
A. 伊斯兰教 B. 佛教 C. 基督教 D. 犹太教
8. 西亚和北非的气候大部分属 ()
A. 热带雨林气候 B. 热带草原气候 C. 热带沙漠气候 D. 热带季风气候
9. 关于死海的叙述,错误的是 ()
A. 位于巴勒斯坦和约旦交界处 B. 由于地壳断裂陷落而成
C. 由于盐分很高,水中完全没有生命 D. 湖面海拔-400米
10. 西亚石油 ()
A. 储量约占世界一半以上 B. 产量约占世界石油总产量的 1/3
C. 特点是储量大、埋藏深、出油多、油质好 D. 所产石油 90% 输往国外
11. 下列关于埃及的叙述,正确的是 ()
A. 埃及是地跨亚、非两洲的亚洲国家
B. 亚历山大是埃及人口最多的城市,也是阿拉伯国家中人口最多的城市
C. 石油一直是埃及的传统出口商品
D. 尼罗河流域是古代埃及文明的摇篮
12. 被誉为“石油王国”的國家的首都是 ()
A. 德黑兰 B. 开罗 C. 安卡拉 D. 利雅得
13. 流域面积、水能、流量均居非洲第一位的河流是 ()
A. 尼罗河 B. 刚果河 C. 尼日尔河 D. 赞比西河
14. 世界上最大的沙漠及其所在的大洲是 ()
A. 塔克拉玛干沙漠 亚洲 B. 撒哈拉沙漠 非洲
C. 阿拉伯沙漠 亚洲 D. 卡拉库姆沙漠 亚洲
15. 关于苏伊士运河的叙述,正确的是 ()
A. 连接了地中海和红海,沟通了大西洋和印度洋
B. 曾长期被英、法所霸占,1956 年埃及才将其收归国有

- C. 亚历山大港位于运河口
D. 任何吨位的船只都可通行

二、非选择题

16. 西亚和北非处在联系_____三大洲,处于沟通_____洋和_____洋的枢纽地位。
17. 西亚以_____为中心,有一条巨大的石油带向南北延伸,其中_____,_____,_____,_____是西亚主要产油国家。
18. 西亚、北非地下的石油,一般具有_____大、_____浅、_____多、_____好的特点。
19. 世界第一长河是_____,它发源于非洲_____,自南向北注入_____。
20. 埃及著名的出口商品是_____,埃及的四大经济支柱是_____,_____,_____,_____。
21. 将下列国家名称与其物产用线连接起来。

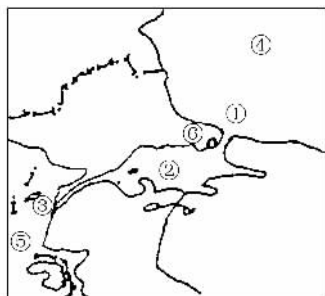
- | | |
|--------|---------|
| A. 土耳其 | ① 油橄榄 |
| B. 伊拉克 | ② 紫羔皮 |
| C. 埃及 | ③ 安卡拉羊毛 |
| D. 摩洛哥 | ④ 枣椰 |
| E. 阿富汗 | ⑤ 长绒棉 |

22. 将下列国家与其别称连线。

- | | |
|-----------|---------|
| A. 乌兹别克斯坦 | ① 花园城市 |
| B. 摩洛哥 | ② 石油王国 |
| C. 埃及 | ③ 白金之国 |
| D. 沙特阿拉伯 | ④ 金字塔之国 |
| E. 新加坡 | ⑤ 橄榄之邦 |

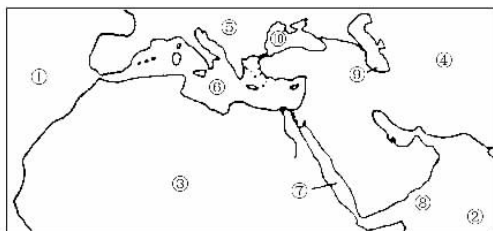
23. 读“土耳其海峡示意图”,回答问题:

- (1) 土耳其海峡位于_____境内,是_____两洲的分界线。
(2) 土耳其海峡是④_____沿岸国家通往⑤_____的要道。
(3) 位于水陆交通“十字路口”的⑥是土耳其最大的城市_____。
(4) 土耳其海峡是由①_____海峡、②_____海、③_____海峡组成的



24. 读“西亚和北非地理位置图”,完成下列要求:

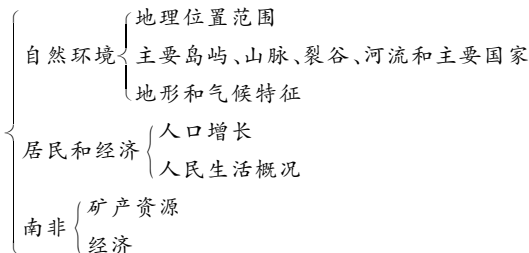
- (1) 两洋:①_____ ②_____
(2) 三洲:③_____ ④_____ ⑤_____
(3) 五海:⑥_____,⑦_____,⑧_____,⑨_____,⑩_____
(4) 在图中画出波斯湾石油输往西欧的最近海上航线。



25. 石油为不可再生资源,西亚、北非各产油国都在考虑石油采完后本国经济的出路问题。你认为应该怎么办?

第十三章 撒哈拉以南的非洲

知识体系



第一节 自然环境

训练目标

【重点掌握】

1. 本区的位置范围及地形特征
2. 热带草原气候和热带雨林气候
3. 主要的矿产资源

例题解析

【例】关于撒哈拉以南非洲的叙述，错误的是 ()

- A. “东非大裂谷”横贯非洲大陆
- B. “东非大裂谷”是陆地上最大的裂谷带
- C. 乞力马扎罗山是非洲最高的山峰，位于南非高原上
- D. 乞力马扎罗山是非洲最高的山峰，位于东非高原上

分析 此题考查的知识点有两点：一是东非大裂谷的位置及特点。二是乞力马扎罗山的位置及特点，二者都是非洲之最。分析题中的四个备选选项可知，此题出现了“东非大裂谷”和“乞力马扎罗山”两个本章突出的地理事物。选项 A 描述“东非大裂谷”的位置，与事实不符，错误；选项 B 描述“东非大裂谷”的特征，正确；选项 C、D 同时描述“乞力马扎罗山”的特点和位置，但 C 项的位置描述错误，D 项正确，再根据题意选答案。

答案 A C

总结 地理事物的空间分布必须对照地图记忆其准确的位置，掌握了准确的位置，再记住特点就不难。

同步训练

一、选择题

1. 关于撒哈拉以南的非洲，叙述不正确的是 ()
 - A. 降水减少，干旱严重
 - B. 世界上人口增长最快的地区