

天利活页试题(第一辑)

——对接高考同步预练与名校期末试卷(高二)

(地理)

北京天利考试信息网编



西藏人民出版社

图书在版编目(CIP)数据

天利活页试题·第一辑/北京天利考试信息网编.
—拉萨:西藏人民出版社,2003.6
ISBN 7 - 223 - 01564 - 0

.天... 北... .基础课—高中—习题 IV .G634

中国版本图书馆 CIP 数据核字(2003)第 029248 号

“天利”及“天利 38 套”系列图书畅销全国各地，进入“开卷”全国教辅畅销书排行榜前列，因此各地盗版书商和众多学校大量盗印“天利 38 套”及“天利”系列图书，质量低劣，侵害读者利益，读者订阅时请认准  和  标志。

欢迎举报盗版，电话：010 - 64684153

天利活页试题(第一辑)

——对接高考同步预练与名校期末试卷(高一)

作者 北京天利考试信息网

责任编辑 李海平

封面设计 谭仲秋

出版 西藏人民出版社

社址 拉萨市林廓北路 20 号 邮政编码 850000

北京发行部:100027 北京 4717 信箱 电话:010 - 64680026、84483652

印刷 北京市后沙峪印刷厂

经销 全国新华书店

开本 16 开(787 × 1092 毫米) 字数 500 千

印张 46.25

版次 2004 年 6 月第 2 版第 1 次印刷

标准书号 ISBN 7 - 223 - 01564 - 0/G·671

定价 52.00 元

版权所有 侵权必究

编写说明

在高一、高二阶段的学习中,如何将高考考试大纲考核要求纳入进来,让学生提前预练高考试题,形成一定感性认识,以及让学生接触其他学校,特别是全国各地名校的实战考题,是众多教师探讨和期盼的事情。为此,北京天利考试信息网约请了北京、江苏、浙江等各地教学一线的特级、高级教师和高考专家,以高中现教材和高考考试大纲为依据,借鉴各地先进教学方法编写了本书。

本书主要内容包括两个方面:一是高考考核内容与要求在本阶段的体现,让学生提前练习,提早一步了解高考,提高学生学习兴趣,也让学生从另一角度理解教学内容;二是全国名校的期中期末优秀试卷,让师生有机会了解外界,从更高更大的层面去理解、掌握所学知识。

需要特别说明的是,本书属于大同步类助学读物,适合于上学期各阶段使用。本书所选编的试题均为水平测试卷,因高二英语教材变化较大,高二英语册试题是经过调整的水平测试卷,适合于目前的教学。

参加本书编写的有:范国平、刘志学、曹宁、彭文刚、李战坤、宋惠民、陈同振、刘荣珍、闫晓辉、张淑娟等。在本书编写过程中得到各地专家、教师和教学研究人员的支持和帮助,在此表示深切的感谢。

限于时间和水平,本书错误在所难免,希望读者不吝指教。

编者

2004年6月

1. 江苏省江浦高中 2003 ~ 2004 学年高二第一 学期期中考试

地 理

班级_____姓名_____学号_____

一、选择题(共 50 分)

(一)单项选择题(每题 2 分,计 40 分)

1. 美国有很多老年人退休以后向南方阳光地带迁移,影响这种人口迁移的主要原因是 ()
A. 气候 B. 水 C. 经济 D. 土壤
2. 关于中心商务特征的叙述正确的是 ()
A. 趋向于沿主要河流分布 B. 不断向市区外缘移动
C. 建筑物出现高层和低层混杂的局面 D. 人口数量的昼夜差别很大
3. 下列可以布置在城市居民区内的企业是 ()
A. 石化企业 B. 轻纺 C. 钢铁工业 D. 煤气工业
4. 关于文化景观与自然的叙述正确的是 ()
A. 文化景观都顺应了自然发展的规律,对环境产生有利或无害的影响
B. 自然对文化景观的影响并不是绝对的
C. 有虫神庙的地方往往虫灾频频发生,而没有虫神庙的地方虫灾较少
D. 随着生产力水平的提高,自然对文化的影响将越来越大
5. 世界上第一个由最富裕的发达国家和发展中国家组成的贸易集团是 ()
A. 北美自由贸易区 B. 亚太经合组织 C. 欧盟 D. 荷比卢联盟
6. 在观赏赵州桥时,特别要注意的是 ()
A. 要发挥想象 B. 以情观景,感悟其自然的美
C. 要移情于景,情景交融 D. 要了解其科学而巧妙的设计
7. 下列关于旅游开发条件评价的叙述正确的是 ()
A. 距离越长,旅游者对旅游目的地的需求也越高
B. 旅游资源的质量高则其旅游经济价值就高
C. 旅游资源的游览价值高则其旅游经济价值就高
D. 旅游的环境承载量可以从容人量去度量
8. 某地区人口自然增长率与生育率的关系是 ()
A. 生育率数量上就是出生率 B. 生育率是决定该地区人口增长率的基础
C. 自然环境对生育率往往有较大影响 D. 妇女教育程度高,生育率也相应提高
9. 前苏联的切尔诺贝利核电站因反应堆泄漏,造成当地 13 万居民紧急疏散。作为被迫迁移难民,他们属于下列中的 ()
A. 环境难民 B. 战争难民
C. 政治难民 D. 经济难民

10. 自人类历史以来,造成人口迁移最主要因素一直都是 ()
 A. 经济因素 B. 环境因素 C. 政治因素 D. 自然灾害
11. 在城市地域功能分区问题上,经济因素的影响表现为 ()
 A. 城市中心区对住宅、工业、商业的吸引程度不大
 B. 住宅区大多位于市中心,因为城市边缘交通不便
 C. 城市用地的地租,由市中心向四周降低,市中心地租最高的用地往往为商业租用
 D. 经济因素的作用会随该市经济的发展而减弱
12. 下列事项中,不属于文化范畴的是 ()
 A. 山顶洞人居住过的洞穴中发现的石斧 B. 塔克拉玛干沙漠中发现的岩画
 C. 辽宁西部发现的孔子鸟化石 D. 新建的北京中华世纪坛
13. 下列事物不属于文化事物的是 ()
 A. 三月三傣族泼水节 B. 八月十八钱塘潮 C. 五月初五赛龙舟 D. 正月十五元宵节
14. 下列文化景观从创建到今,其主要功能始终如一的是
 A. 明长城 B. 清东陵 C. 天津杨柳青“石家大院” D. 四川都江堰
15. 中国古代传授文化知识的私塾,从文化扩散的角度看,其文化扩散类型是 ()
 A. 传染扩散 B. 等级扩散 C. 刺激扩散 D. 迁移扩散
16. 文化扩散是文化发展的反映,文化扩散应推动社会文明的进步,但也有与此相背的例子,如下述中的 ()
 A. 印刷术由中国传向西方 B. 哥伦布将烟草带到欧洲
 C. 洋务运动引进西方工业 D. 因特网广泛发展到全球
17. 有关环境人口容量的叙述,正确的是 ()
 A. 科技发展水平是制约环境人口容量的首要因素,所以发达国家的环境人口容量大
 B. 我国人口承载力最高为 16 亿左右,所以目前我国的耕地和淡水资源的人均占有量较高
 C. 不论是以悲观者或乐观者的观点来评估我国的环境人口容量,我国人口与环境的矛盾都十分突出
 D. 由于科技发展水平和消费水平的不断变化,环境人口容量不能定量地估计,只能定性说明
18. 下列关于人口素质与环境的关系的叙述,正确的是 ()
 A. 人口身体素质的高低主要取决于遗传因素,环境因素的影响极小
 B. 方便面、罐头食品中的防腐剂、抗氧化剂等化学添加剂有一定的致癌作用,会影响人的身体素质
 C. 春秋战国时期,我国先民就封山育林,定期开禁,而现代人却仍在滥伐森林,这说明人口的科学文化素质对环境的影响不大,当今环境破坏主要是人口数量过多造成的
 D. 落后的封建意识对社会环境危害大,对自然环境无影响
19. 改革开放以来,中国的大批学生到欧美留学,与民工潮涌向东南沿海的大城市,两者的共同之处是 ()
 A. 都是政策性移民,具有自发的性质
 B. 交通和通信的发展是巨大的拉力因素
 C. 地区自然条件相差很大,环境质量不同是决定性因素
 D. 都是追求自身职业更好地发展,谋求更高的生活水平
20. 第一次世界大战后,世界政治地图的变化有 ()
 A. 德国领土大大缩小,海外殖民地被瓜分 B. 波兰领土西移

C. 以色列建国

D. 非洲绝大多数国家独立

(二)双项选择题(每题 2 分,计 10 分,选对一项得 1 分,选错不得分)

21. 跨国公司体现了经济全球化,其主要表现有 ()
- A. 生产的全球化和销售的全球化
 - B. 将资本、技术和管理合为一体推广到世界各地
 - C. 区域经济集团正加速形成
 - D. 发展中国家转向自由市场经济,吸引外国直接投资
22. 下列有关综合国力的叙述正确的是 ()
- A. 对各国综合国力的评价即对各国总体实力采用定量的评估
 - B. 综合国力的基本构成要素是经济力量,即国内生产总值和对外贸易
 - C. 当今世界国家的经济摩擦、外交斗争和军事摩擦等,归根结底是综合国力的竞争,人才的竞争
 - D. 我国已提出科教兴国和可持续发展战略,综合国力正稳步提高
23. 去美国大峡谷公园旅游须提前半年预定门票,这说明了 ()
- A. 旅游地的市场距离远,所以旅游经济价值不高
 - B. 旅游地的交通通达性直接影响其经济价值
 - C. 旅游活动的规模应与环境承载力相适应
 - D. 现代旅游业的发展重视游客的心理需求和对生物群落的关心与尊重
24. 可能导致环境人口容量降低的因素有 ()
- A. 科学技术水平落后
 - B. 环境质量相对稳定
 - C. 资源过度使用、利用效率低下
 - D. 社会经济水平逐步提高
25. 下列城市中同时符合人口达百万以上、是我国主要商业城市、有我国重要金融机构、人口是净迁入的几个条件的是 ()
- A. 北京 B. 天津 C. 上海 D. 重庆 E. 深圳 F. 广州

二、非选择题(共 50 分)

26. 读“宗教建筑图”,并回答下列问题(7 分):



图 1 宗教建筑图

- (1)图中 A、B、C 分别代表的是何宗教建筑物
- (2)A 图建筑物所代表的宗教产生于_____。
- (3)C 图建筑物在我国的_____。
- (4)唐僧去印度取经的过程在文化扩散现象中属于_____。
- (5)试举一个由于宗教问题而引起的地区性冲突的例子_____扩散。
27. 读“江苏沿海某城镇工业布局简图”,并回答下列问题(7 分):
- (1)计划要在该城市建电子厂,钢铁厂和化工厂,请选择这几个厂布局位置的数字,并讲出理由。

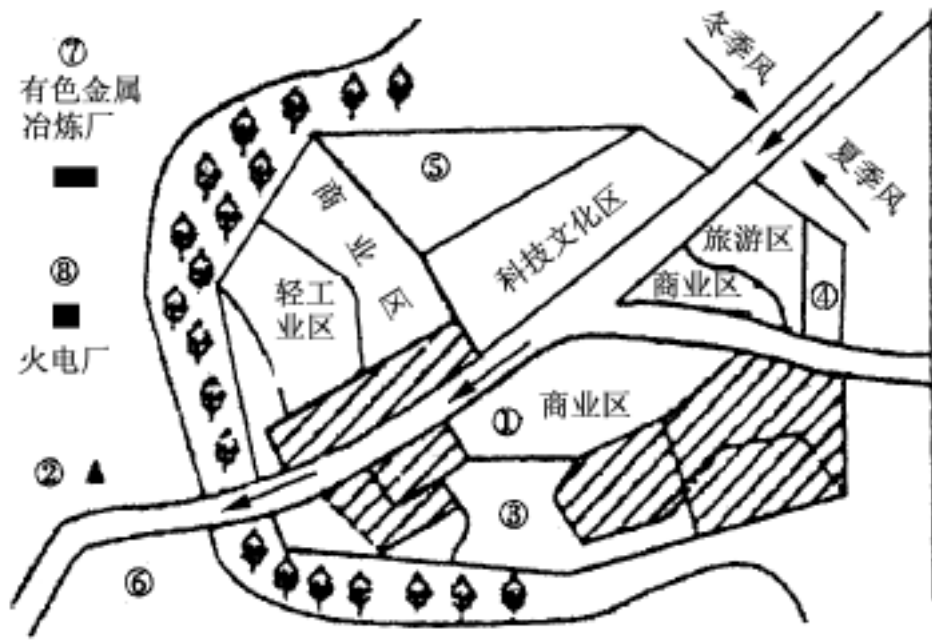


图2 江苏沿海某城镇工业布局简图

电子厂：位置_____

钢铁厂：位置_____，布局理由_____。

化工厂：位置_____，布局理由_____。

有色金属冶炼厂：位置_____，布局理由_____。

(2)为了减轻有色金属冶炼厂和火电厂等对居住环境的污染，工业区与生活区要隔开一定的距离并加以绿化，称为_____。

28. 根据江苏旅游资源的情况，回答下列问题(9分)：

(1)江苏境内有“园林之城”之称的城市是_____。

(2)该城市集我国古典园林之精华，其中分别代表我国宋、元、明、清四个朝代园林的建筑不同风格的园林分别是_____。

(3)园林建筑常用的构景手法是_____。

29. 读图，并问答下列问题(10分)：

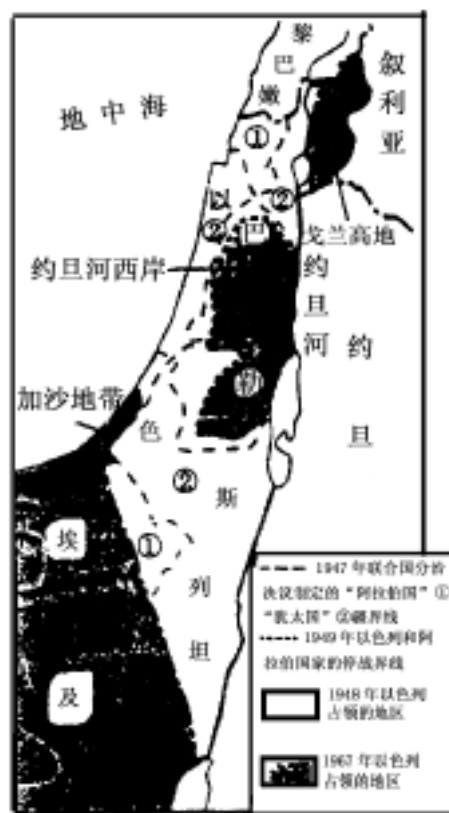


图3 阿以冲突

(1)该区主要气候类型有_____和_____。制约当地居民生活和发展生产的限制性资源是_____。

(2)根据 1947 年 11 月第三届联大的决议,由什么民族在该区域的什么地方建立什么国家?试分析在该地建国的原因。

(3)试分析影响阿以和平进程的因素主要有哪些?

30. 读下列资料并回答问题(6分)。

资料一:公元前 213 年,秦始皇迁徙 50 万人戍守五岭,与越人杂居;公元前 211 年,秦始皇又迁内地居民 3 万户到河套以北垦田生产。西汉文景时期采用过免税、赐爵、赎罪等办法鼓励移民北方;汉武帝将福建一带的闽越人迁徙到江淮一带与汉民杂居。东汉末年以来,北方人民大量渡江南迁;西晋末年以后,北民南迁长江中下游一带的就达 70 多万。唐‘安史之乱’和宋金对峙时期都有大批北民南迁。据 1157 年统计,南方人口为 1 684 万,到了 1179 年已达 2 950 万,人口增加了 3/4。(摘自朱绍侯主编《中国古代史》)

资料二:20 世纪 80 年代下半期我国务工经商流动人口示意图。

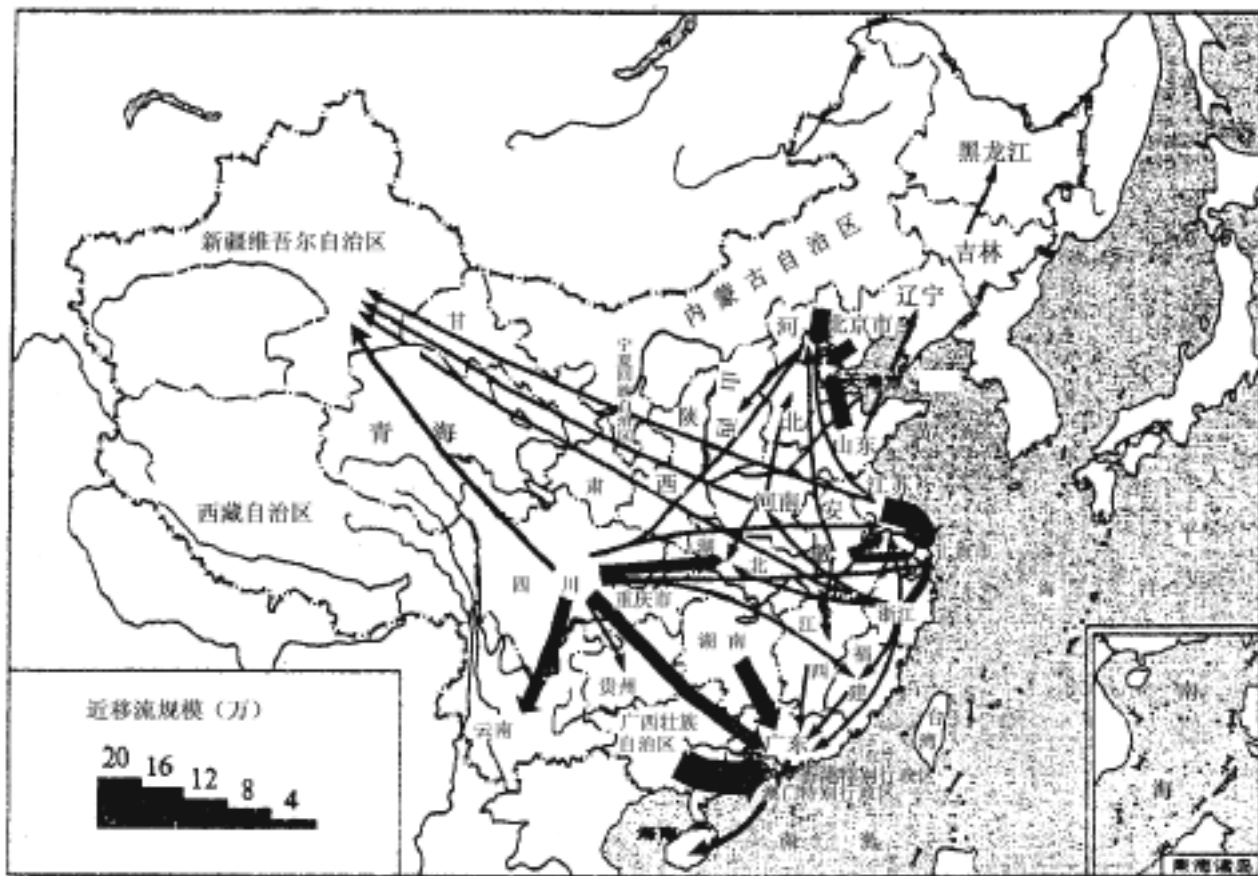


图 4

(1)阅读资料一,说明人口迁徙的原因及其积极作用。

(2)看图说明 20 世纪 80 年代下半期我国人口流动的特点及原因。

(3)图中人口迁移的积极作用和可能产生的问题有哪些?

31. 阅读下列资料并回答问题：

资料一：第二次世界大战以来，美国的国内生产总值(GDP)一直居世界之首，大约每年占世界GDP的1/4，人均GDP在2万美元以上。美国的产业和贸易结构经20世纪80年代以来的调整已实现了年轻化、专业化和知识化。美国经济规模是世界上最大的，已达8万亿美元之巨。美国在世界经济中起着商品吸收器、金融变压器和技术增高器的作用。

资料二：美国的科研和开发费用占GDP的比例和绝对值均高于欧洲、日本；在科技人员的数量上也领先，同时还有吸引世界优秀人才的机制。到1997年为止，美国科学家约占世界获诺贝尔奖总人数的1/3。

资料三：从人类历史进程考察，世界格局的多极化潮流不可逆转。从世界的角度考察，世界经济的全球一体化和区域集团化两种趋势并行发展，这是美国经济霸权的衰落。有人估计，到21世纪中叶，当美国在世界经济中的比重下降至15%以下时，世界多极化的格局终将形成。(摘自2000年第3期《21世纪》)

(1) 结合阅读材料和你已有的知识评价美国的综合国力。

(2) 你认为美国之所以成为当今世界惟一的超级大国，其内部的动力是什么？

(3) 为什么世界多极化的格局潮流不可逆转并终将形成？

(4) 你认为我国在世界多极化格局的趋势中处于什么样的位置？我国应怎样面对经济的全球化？

2. 北京市大兴区 2004 年高二第一学期期末考试

地 理

班级_____姓名_____学号_____

一、单项选择题(共 30 分)

下列各小题均有四个选项,其中只有一项是最符合题目要求的。请将所选答案前的字母序号填在题后的括号中。(每小题 1 分,多选、错选、漏选该小题均不得分。)

1. 下列关于人口数量变化对环境影响的叙述中,正确的是 ()
A. 人口数量增长必然导致环境恶化
B. 造成环境污染的主要原因是人口数量增长
C. 环境污染程度与人口数量变化没有关系
D. 人口数量增长会对资源和环境造成巨大压力
2. 20 世纪 90 年代以来,政治地图变化最大的是 ()
A. 南、北美洲 B. 欧洲与非洲 C. 亚洲与非洲 D. 欧洲与亚洲
3. 提高人口科学文化素质,可以 ()
A. 从根本上减少自然灾害的发生 B. 降低地球的环境人口容量的极限值
C. 消除自然环境对人类发展的影响 D. 充分利用资源,减少废弃物的排放量
4. 20 世纪 80 年代以来,我国深圳有大量人口迁入,其最主要的影响因素是 ()
A. 资源丰富、航运便利 B. 社会经济因素
C. 地理位置优越 D. 气候适宜、淡水充足
5. 城市功能区是指 ()
A. 城市人口统计的地区 B. 提供城市职能的地区
C. 城市内由交通线分隔的地带 D. 同类活动在空间上高度聚集的地区
6. 城市中最为广泛的土地利用方式是 ()
A. 住宅区用地 B. 商业区用地 C. 工业区用地 D. 公园绿化用地
7. 广义的文化是指 ()
A. 知识,即教科书中的自然与社会科学内容
B. 道德、情感、风俗习惯等社会意识形态
C. 人类社会发展过程中创造出的所有精神财富
D. 人类社会创造出来的所有物质与精神财富的总和
8. 下列地理事物中,属于文化景观的是 ()
A. 黄山上的迎客松 B. 北美洲的尼亚加拉瀑布
C. 法国的艾菲尔铁塔 D. 挪威的峡湾风光
9. 下列文化景观中,属于人类精神活动产物的是 ()
A. 云南傣家竹楼 B. 意大利水城威尼斯

- C. 黄土高原的窑洞
D. 天安门广场人民英雄纪念碑
10. 下列文化景观建造时具有宗教信仰功能的是 ()
A. 万里长城 B. 京杭大运河 C. 巴黎凯旋门 D. 柬埔寨的吴哥窟
11. 波音飞机在美国以外寻找零件供应基地,其目的在于 ()
A. 提高国际威望 B. 寻找最佳区位 C. 交流技术 D. 缩小南北差距
12. 都江堰工程属于 ()
A. 自然资源 B. 自然景观 C. 物质文化景观 D. 精神文化景观
13. 黄山、桂林山水吸引大批游客前往游览,最主要的原因是它们具有 ()
A. 美学价值 B. 科学价值 C. 历史文化价值 D. 经济价值
14. 经济全球化的最大收益者是 ()
A. 拉丁美洲国家 B. 亚非国家 C. 发展中国家 D. 发达国家
15. 有关文化区的叙述,正确的是 ()
A. 文化事物(或现象)和文化系统覆盖的地区都可称为文化区
B. 文化区的范围有大有小,范围越大的文化区,其重要性就越大
C. 文化区都有明显的边界,不一定与自然区重合
D. 狭义的文化区概念仅指某种文化现象覆盖的范围
16. 我国许多学者赴欧美学习,并将学到的知识和技术带回国内,这样的扩散过程主要属于 ()
A. 扩展扩散 B. 迁移扩散 C. 传染扩散 D. 刺激扩散
17. 旅游活动构成的三要素是 ()
A. 旅游者、观光地、旅行社 B. 旅游者、旅游资源、导游
C. 旅游者、旅游资源、旅游业 D. 旅游者、交通工具、观光地
18. 现代旅游业是 ()
A. 知识密集型产业 B. 劳动密集型产业
C. 资金密集型产业 D. 技术资金密集型产业
19. 现代旅游最主要的目的是 ()
A. 科学研究 B. 增长知识、强健身体
C. 消遣、娱乐 D. 猎奇探险
20. 在自然景观中处于相对重要位置的是 ()
A. 建筑景观 B. 生物景观 C. 水文景观 D. 地貌景观
21. 人文风景区构成的重要标志是 ()
A. 地质地貌景观 B. 气象气候景观 C. 建筑景观 D. 水文景观
22. 下列旅游资源中具有较高历史文化价值的是 ()
A. 长白山天池 B. 路南石林 C. 长江三峡 D. 北京故宫
23. 从旅游资源的特性分析,北京的“世界公园”突出体现了旅游资源的 ()
A. 非凡性 B. 多样性 C. 可创造性 D. 长存性
24. 桂林山水的可观赏性在于 ()
A. 妙在山水有机组合 B. 自然人文和谐统一
C. 山峰雄伟、险峻 D. 各峰形态迥异
25. 园林建筑中,设计主景与配景的目的是 ()
A. 突出园林的整体效果 B. 以有限空间造无限风景

38. 有关旅游资源开发评价的叙述,正确的是 ()

- A. 具备较高审美价值的旅游资源,其游览价值一定高
- B. 旅游地的最优吸引半径是有限的
- C. 交通位置的优越性不直接影响旅游资源的开发价值
- D. 旅游活动的规模应与旅游区的环境承载力相适应

39. 下列文化景观中,能明显体现出当地自然环境特征的是 ()

- A. 新疆的坎儿井
- B. 北京的天坛
- C. 江南丘陵的茶园
- D. 国家奥林匹克中心

40. 根据下表(2000年世界人口状况)资料,判断下列说法正确的是 ()

地区	亚洲	非洲	欧洲	北美	拉丁美洲	大洋洲
人口数量(亿人)	35.7	7.8	7.3	3.1	4.9	0.29
人口自然增长率	1.4%	2.4%	-0.1%	0.6%	1.8%	1.1%

- A. 非洲人口的出生率最高,死亡率最低
- B. 非洲的新增人口最多
- C. 世界新增人口至少 50% 分布在亚洲
- D. 拉丁美洲的新增人口至少是北美新增人口的 3 倍

三、非选择题:(共 50 分)

41. 读“图 1. 人口再生产类型转变示意”,完成下列要求:(共 14 分)

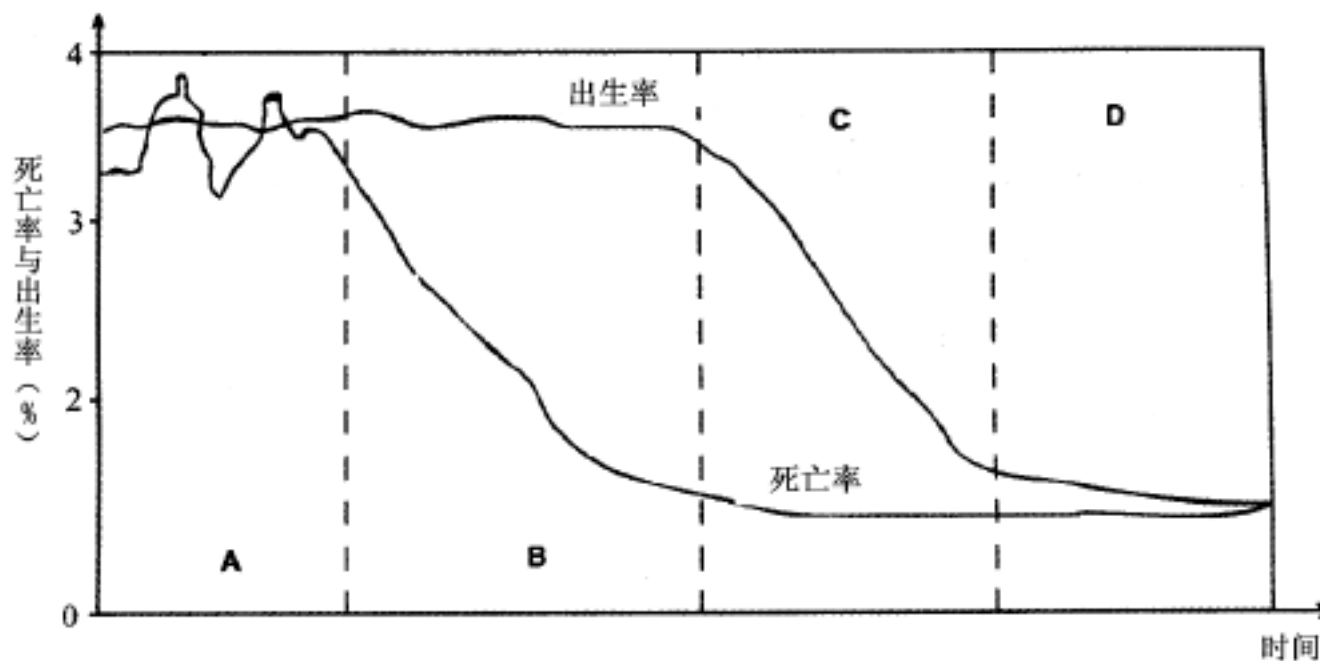


图 1 人口再生产类型转变示意

(1) 写出图中字母所标阶段人口再生产类型的名称:(8 分)

A _____ 型, B _____ 型, C _____ 型, D _____ 型。

传统型:

过渡型:

42. 读“图 2. 各类土地利用付租能力随距离递减示意”, 完成下列要求: (共 18 分)

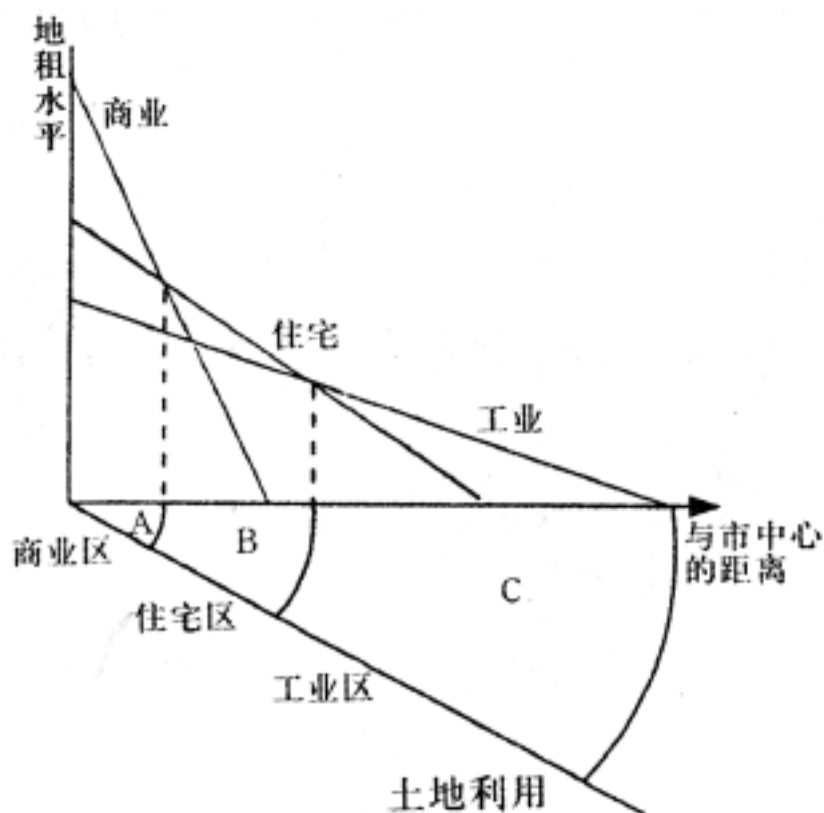


图 2 各类土地利用付租能力随距离递减示意

(1) 影响地租高低的主要因素是_____。此外, _____也是影响地租水平的主要因素。(2分)

(2) 选择填空: 距离市中心远近对于_____影响最大。(2分)
A. 商业 B. 工业 C. 住宅

(3) 从付租能力分析并回答下列问题: (12分)

A 区为商业区的原因是:

B 区为住宅区的原因是:

C 区为工业区的原因是:

43. 图 3 是某城市简图。当地夏半年盛行东南风, 冬半年盛行东北风。读图 3, 完成下列要求。(共 10 分)

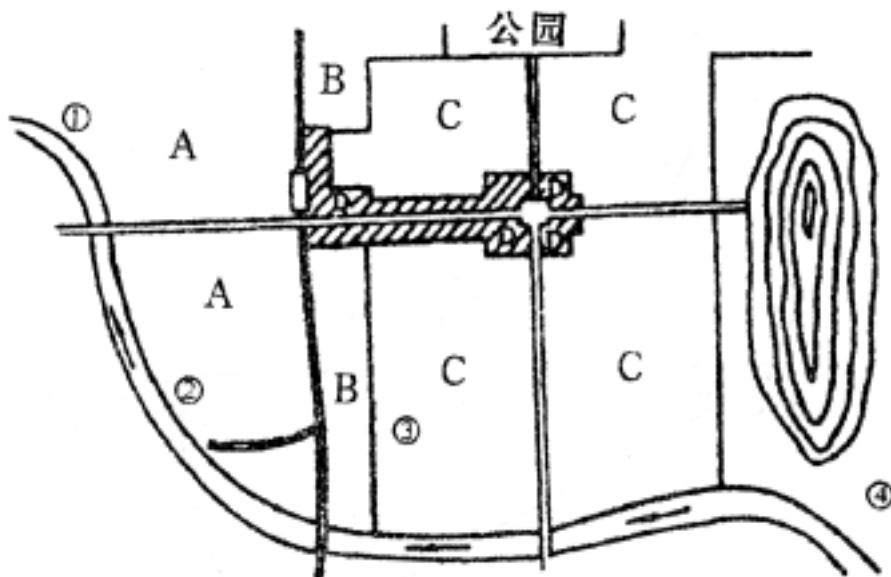


图 3 某城市简图

3. 天津市耀华中学 2004 年高二第一学期期末考试 考试

地 理

班级_____姓名_____学号_____

一、单项选择题(共 40 分,每小题 1 分。在每小题给出的四个选项中,只有一个选项是符合要求的)

1. 对环境人口容量的估计正确的是 ()

- A. 在一定历史阶段内,环境人口容量的不确定性
- B. 在假定条件下,可对环境人口容量进行绝对量的估计
- C. 在实际中,通常把某一种或几种资源能供养的人口数作为环境人口容量的估计值
- D. 假定条件不同,估计方法不同,对于环境人口容量的估计结果大致相同

随着人们物质和文化生活水平的提高,旅游业成为国民经济的一个快速增长点。据此回答 2、3 题:

2. 欣赏旅游景观应选择适当的位置,下列语句能体现这一道理的是 ()

- A. 山穷水尽疑无路,柳岸花明又一村
- B. 落霞与孤鹜齐飞,秋水共长天一色
- C. 水流船动山自移,恰似人在画中游
- D. 五岳若与黄山比,犹欠灵砂一道泉

3. 有关园林景观特点的叙述,正确的是 ()

- A. 以无限的空间,造有限的风景,园林构景贵在层次
- B. 园林都需要主景和配景,配景烘云托月的作用是园林整体效果成败的关键
- C. 我国南方私家园林大多规模宏大,气势雄伟
- D. 框景、借景都是我国园林构景常用手法之一

2002 年共有 32 支球队进入了在日本、韩国举行的世界杯足球赛决赛圈,这不仅是体育界的盛会,也是文化交流的盛会。据此回答 4、5 题:

4. 比赛期间的各国文化在此交流,此种文化传播的主要方式属于 ()

- A. 等级扩散
- B. 传染扩散
- C. 文化传承
- D. 刺激扩散

5. 带来中美洲文化的球队是 ()

- A. 哥斯达黎加
- B. 尼日利亚
- C. 土耳其
- D. 巴西

位于浦东新区的东方明珠电视塔已成为上海市的标志性建筑,是改革开放以来新上海的象征。据此回答 6~8 题:

6. 东方明珠电视塔作为标志性建筑,是因为 ()

- A. 具有功能性和目的性
- B. 具有稳定的空间位置和足够的高度
- C. 是一座钢结构的塔
- D. 是特定时代的产物

7. 东方明珠作为一种文化景观,具有 ()

- A. 军事防御功能
- B. 传递信息功能
- C. 交通运输功能
- D. 宗教信仰功能

8. 浦东新区的快速发展,说明上海市在保护和改善城市环境中 ()

- A. 成功地转移了城市中心区
- B. 优化了城市功能分区
- C. 合理建设和利用了卫星城市
- D. 缓解了老城区的交通压力

读下表及材料,据此回答 9、10 题:

年份	世界国民生产总值 (亿美元)	世界出口额 (亿美元)	出口额占国民生产 总值的比例
1980	108252	17337	15.9 %
1997	269768	52418	18.1 %

材料一:全球企业兼并交易额 1988 年为 2.5 万亿美元,1999 年为 3.4 万亿美元。

材料二:目前全球拥有 5.3 万家跨国公司,控制全球 50 % 的生产,60 % 的贸易和 80 % 以上的直接对外投资。

9. 经济全球化的主要原因是 ()

人口过快增长 金融中心数量的增多 科学技术的进步 跨国公司

A. B. C. D.

10. 发达国家是全球化的最大受益者,因为它主导着 ()

粮食出口 世界贸易 金融市场 劳务市场

A. B. C. D.

下面是赤峰地区某村土地利用类型与民族构成变化表,据此回答 11、12 题:

年份	草地 %	耕地 %	林地 %	荒地 %	蒙古族 %	汉族 %
1820	60	5	10	25	90	10
1950	40	45	5	10	50	50

11. 从文化景观顺应自然发展的规律看,赤峰地区某村最理想的文化景观应为 ()

A. 草原牧场 B. 丘陵梯田 C. 旱作耕地 D. 水田耕地

12. 从表中可以看出,该区域文化景观形态的改变,其影响原因主要是 ()

A. 耕作技术 B. 生产、生活方式 C. 自然环境 D. 军事因素

13. 关于自然景观的观赏地点和时间的正确叙述是 ()

A. 峰峦之雄伟峻秀,唯近观可得
B. 庐山、黄山最宜冬季观赏
C. 对于山水有机组合的景观,乘船游览效果最佳
D. 小湖沼、池塘在高远处观全景为妙

14. 山西商人按传统要在店铺后院摆放一两个直径 2 尺、3 尺的瓦罐,缸内蓄水。既有“聚财”的含义,又有防火的功能。下列说法哪些是正确的 ()

A. 此种文化现象只是简单的物质文化现象
B. 物质文化不可以反映精神文化的某些方面
C. 此种文化现象受自然因素的影响较大
D. 此种景观证明精神文化事物也具有一定的物质形式

15. 有关中国地缘环境的叙述,不正确的是 ()

A. 西部地势高,北部是茫茫荒漠,人烟稀少
B. 南部地形复杂,热带丛林密布,不便通行
C. 由于陆上往来不便,古代中国的发展是在封闭地缘环境中形成的
D. 东部面临浩瀚的海洋,中国经济和文化的发展环境历来都是开放的