


想一想，7可以分成几和几？把数字填在 里。

7 <	<input type="text"/>	<input type="text"/>	<input type="text"/>	<input type="text"/>	<input type="text"/>	<input type="text"/>	<input type="text"/>	<input type="text"/>
	<input type="text"/>	<input type="text"/>	<input type="text"/>	<input type="text"/>	<input type="text"/>	<input type="text"/>	<input type="text"/>	<input type="text"/>




要使每只小兔都有7根胡萝卜，还需要添上几根呢？请你添画上去。



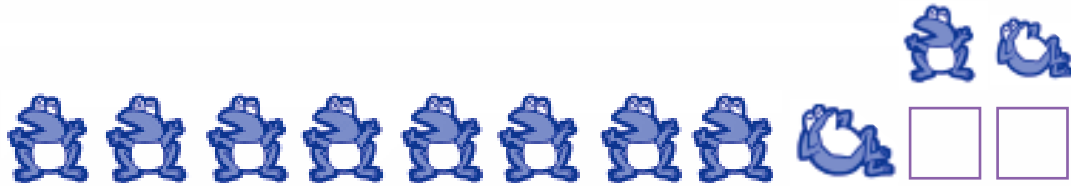
8 可以分成几和几？请你说一说，要使每片树叶上都有 8 只瓢虫，还需要加上几只呢？请画线连起来。

2

博士娃  
学前准备



9可以分成几和几？请你说一说。小青蛙排排队，每一排都是9只，请把数字填在 里。

















想一想，再说一说，10可以分成几和几？请你按照方框里的数字，用两种不同的颜色给小鸟涂色。


4



小动物们在拔河比赛，绳子两边加起来共有几只动物呢？请把数字填在 里。



$$\boxed{2} + \boxed{6} = \boxed{\quad}$$



$$\boxed{3} + \boxed{7} = \boxed{\quad}$$



$$\boxed{5} + \boxed{4} = \boxed{\quad}$$



下面4道题你会做吗？请填上数字。


 $+$  $=$

 $+$  $=$


 $+$  $=$

 $+$  $=$

哪两顶小伞上的数字合起来是5？用线连起来。




哪两只水桶上的数字合起来是6？用线连起来。



请在下面的 里填上数字。



$$\square + \square = \square$$




$$\square + \square = \square$$



$$\square + \square = \square$$



$$\square + \square = \square$$




$$\square + \square = \square$$




$$\square + \square = \square$$

要使两朵花上的数字合起来是7,另一朵花上的数字该是几?



要使两条鱼上的数字合起来是8,另一条鱼上的数字该是几?



10

博士娃  
学前准备

请你做一做下面的题目。

①  $3 + 1 = \square$

②  $5 + 1 = \square$

③  $9 + 1 = \square$

④  $1 + 1 = \square$

⑤  $6 + 1 = \square$

⑥  $8 + 1 = \square$

⑦  $2 + 1 = \square$

⑧  $7 + 1 = \square$

⑨  $4 + 1 = \square$

⑩  $12 + 1 = \square$

⑪  $19 + 1 = \square$

⑫  $16 + 1 = \square$

⑬  $11 + 1 = \square$

⑭  $18 + 1 = \square$

⑮  $14 + 1 = \square$

⑯  $17 + 1 = \square$

⑰  $15 + 1 = \square$

⑱  $13 + 1 = \square$



请在 里填上正确的数字。

2 和 合起来是 4



1 和 合起来是 4



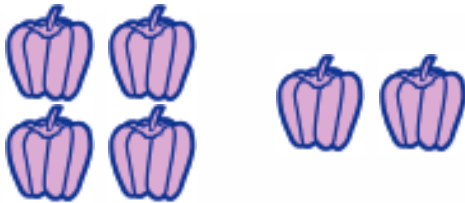
2 和 合起来是 5



3 和 合起来是 6




4 和 合起来是 6




3 和 合起来是 7



2 和 合起来是 7



6 和 合起来是 8



请你做一做下面的题目。

①  $5 + 2 = \square$

②  $2 + 2 = \square$

③  $8 + 2 = \square$

④  $1 + 2 = \square$

⑤  $6 + 2 = \square$

⑥  $9 + 2 = \square$

⑦  $3 + 2 = \square$

⑧  $9 + 2 = \square$

⑨  $7 + 2 = \square$

⑩  $4 + 2 = \square$

⑪  $15 + 2 = \square$

⑫  $11 + 2 = \square$

⑬  $18 + 2 = \square$

⑭  $13 + 2 = \square$

⑮  $17 + 2 = \square$

⑯  $14 + 2 = \square$

⑰  $10 + 2 = \square$

⑱  $16 + 2 = \square$

博士娃  
学前准备



在 里填上正确的数字。

和 2 合起来是 9

$$\square + 2 = 9$$

4 和 合起来是 5

$$4 + \square = 5$$

1 和 合起来是 6

$$1 + \square = 6$$

和 3 合起来是 4

$$\square + 3 = 4$$

和 5 合起来是 7

$$\square + 5 = 7$$

6 和 合起来是 8

$$6 + \square = 8$$

4 和 合起来是 8

$$4 + \square = 8$$

和 3 合起来是 7

$$\square + 3 = 7$$

和 4 合起来是 6

$$\square + 4 = 6$$



请你做一做下面的题目。

①  $8 + 3 = \square$

②  $5 + 3 = \square$

③  $6 + 3 = \square$

④  $9 + 3 = \square$

⑤  $1 + 3 = \square$

⑥  $7 + 3 = \square$

⑦  $3 + 3 = \square$

⑧  $8 + 3 = \square$

⑨  $4 + 3 = \square$

⑩  $13 + 3 = \square$

⑪  $14 + 3 = \square$

⑫  $10 + 3 = \square$

⑬  $16 + 3 = \square$

⑭  $15 + 3 = \square$

⑮  $12 + 3 = \square$

⑯  $15 + 3 = \square$

⑰  $17 + 3 = \square$

⑱  $11 + 3 = \square$

14

博士娃  
学前准备



请找出正确的答案，并涂上颜色。

$2 + 5 =$  




$3 + 3 =$  




$4 + 4 =$  




$2 + 3 =$  



$6 + 1 =$  




$3 + 6 =$  



$5 + 3 =$  



$2 + 7 =$  



$5 + 5 =$  



9  
4  
6  
5  
6  
8  
8  
7

请你做一做下面的题目。

①  $4 + 4 = \square$

②  $7 + 4 = \square$

③  $1 + 4 = \square$

④  $8 + 4 = \square$

⑤  $3 + 4 = \square$

⑥  $6 + 4 = \square$

⑦  $7 + 4 = \square$

⑧  $2 + 4 = \square$

⑨  $9 + 4 = \square$

⑩  $5 + 4 = \square$

⑪  $15 + 4 = \square$

⑫  $8 + 4 = \square$

⑬  $12 + 4 = \square$

⑭  $9 + 4 = \square$

⑮  $10 + 4 = \square$

⑯  $14 + 4 = \square$

⑰  $11 + 4 = \square$

⑱  $13 + 4 = \square$

博士娃  
学前准备

16



请你写出下面各题的答案。

$4 + 4 =$

$4 + 3 =$

$9 + 2 =$

$2 + 4 =$

$5 + 4 =$

$2 + 8 =$

$7 + 3 =$

$5 + 6 =$

$5 + 2 =$

$7 + 1 =$

$1 + 3 =$

$6 + 6 =$