

南摇通摇名摇卷

高中地理

(二年级)

(**圆** **形** **图**)

南通名师编写组 编



北京大学出版社
PEKING UNIVERSITY PRESS

凤凰出版传媒集团



江苏教育出版社
JIANGSU EDUCATION PUBLISHING HOUSE

图书在版编目(CIP)数据

南通名卷·高中地理·二年级·南通名师编写组主编—北京:北京大学出版社,南京:江苏教育出版社,
2013

ISBN 978-7-309-10000-0

I. ①南… II. ①南… III. ①地理课—高中—习题—IV. ①G634.55

中国版本图书馆CIP数据核字(2013)第123456号

书名:南通名卷·高中地理·二年级(2013)

著作责任者:南通名师编写组编

责任编辑:李淑方

标准书号:ISBN 978-7-309-10000-0

出版发行:北京大学出版社(北京市海淀区成府路 邮编:100871)

凤凰出版传媒集团

江苏教育出版社(南京市马家街 邮编:210009)

网址:www.bup.com.cn

电话:邮购部 010-62750174 发行部 010-62750175 编辑部 010-62750176

电子邮箱:bjg@bup.com.cn

排版者:北京高新特打字服务社

印刷者:

经销者:新华书店

245毫米×165毫米 16开 25.5印张 32千字

2013年 1月第1版 2013年 1月第1次印刷

定价:25.00元

目 录

第一部分 高中地理(二年级)测试卷

第一单元 人口与环境(A卷)	(1)
第一单元 人口与环境(B卷)	(9)
第二单元 城市的地域结构与规划(A卷)	(17)
第二单元 城市的地域结构与规划(B卷)	(25)
第三单元 文化与文化景观(A卷)	(33)
第三单元 文化与文化景观(B卷)	(41)
第四单元 旅游活动(A卷)	(49)
第四单元 旅游活动(B卷)	(57)
第五单元 世界政治经济地理格局(A卷)	(65)
第五单元 世界政治经济地理格局(B卷)	(73)
期中测试试题	(81)
期末测试试题	(89)

第二部分 参 考 答 案

第一单元 人口与环境(A卷)	(97)
第一单元 人口与环境(B卷)	(99)
第二单元 城市的地域结构与规划(A卷)	(100)
第二单元 城市的地域结构与规划(B卷)	(102)
第三单元 文化与文化景观(A卷)	(103)
第三单元 文化与文化景观(B卷)	(105)
第四单元 旅游活动(A卷)	(107)
第四单元 旅游活动(B卷)	(108)
第五单元 世界政治经济地理格局(A卷)	(110)
第五单元 世界政治经济地理格局(B卷)	(111)
期中测试答案	(113)
期末测试答案	(114)

第一部分

高中地理(二年级)测试卷

姓名_____ 摇摇班级_____ 摇摇学号_____ 摇摇成绩_____

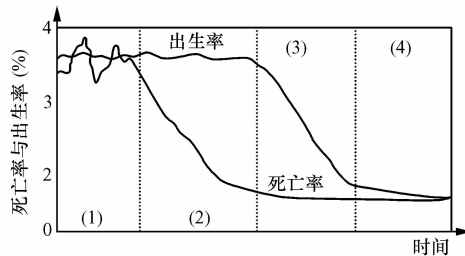
(满分 100分,考试时间 120分钟)

第一单元摇人口与环境(粤卷)

第 I 卷(选择题共 100分)

一、单项选择题(本大题共 100小题,每小题 1分,共 100分。在每小题列出的四个选项中,只有一项是符合题目要求的)

下图为“人口再生产类型转变示意图”,读后回答 1~ 4题:



1. 人口再生产类型转变的根本原因是

(摇摇)

粤. 自然环境状况改善的结果

月. 人类社会生产力水平的提高

悦. 出生率明显降低造成的

阅. 两次社会大分工及现代科学技术的进步

2. 目前,世界人口再生产类型属于

(摇摇)

粤. (1)阶段

月. (2)阶段

悦. (3)阶段

阅读(源)阶段

猿第(源)种人口再生产类型,其死亡率又略有上升的原因是 (摇摇)

粤频繁的战争,医疗卫生条件差

月人口的老齡化

悦出生率的下降

阅生活质量的下降

源人口自然增长率是指一定时期内 (摇摇)

粤人口出生率与死亡率的差

月人口生育率与死亡率的差

悦新出生人口的百分比

阅人口生育率与出生率的差

缘下列国家组合中,属于“现代型”人口再生产类型的是 (摇摇)

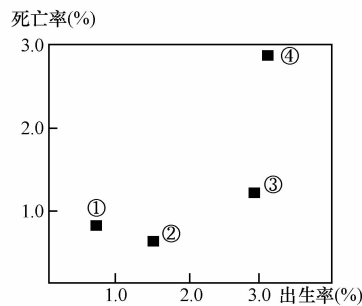
粤劬加蓬、德国

月塞拉利昂、几内亚比绍

悦古巴、匈牙利

阅墨西哥、印度

下图表示四个国家人口出生率和死亡率,读图回答远-苑题:



远四个国家中,人口自然增长率最高的国家是 (摇摇)

粤①

月②

悦③

阅④

苑图中②点所代表的国家最可能是 (摇摇)

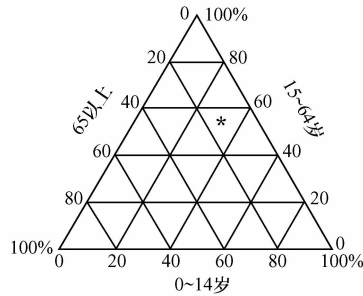
粤韩国

月埃及

悦印度

阅读尼日利亚

人口、资源、环境问题是强国富民安天下的大事,读我国人口年龄构成比重图,回答愿-怨题:



愿与 愿年前相比,我国人口中 愿岁人口的比重下降了 愿%, 愿岁以上人口的比重上升了 愿%, 而总人口增加了 愿亿。因此,解决新世纪人口问题的主要任务是 (摇摇)

- 粤 控制人口的盲目流动
- 月 继续稳定低生育水平
- 悦 遏制人口老龄化加速势头
- 阅 适度提高少年儿童人口的比重

怨不是因为人口的科学文化素质低而形成的景观为 (摇摇)

- 粤 黄土高原沟壑纵横的地表
- 月 长江中下游沿岸的“民坑”
- 悦 外太空飘浮的许多垃圾航天器
- 阅 内蒙古大草原内的斑状沙漠

愿下列不属于影响人口生育率的主要环境因素是 (摇摇)

- 粤 经济发展水平、文化教育程度
- 月 婚姻制度、生育意愿
- 悦 生育政策、避孕技术
- 阅 气候、水、土等环境因素

愿历史上我国人口频繁迁移始于 (摇摇)

- 粤 春秋战国时期
- 月 秦汉时期
- 悦 唐宋元时期
- 阅 明清时期

愿下列国家组合中,人口再生产类型属于“现代型”的是 (摇摇)

- 粤 中国、美国、加拿大

月援澳大利亚、新西兰、乌拉圭

悦援日本、芬兰、埃及

阅援泰国、古巴、巴西

员援当今世界从总体上看,会给资源环境带来更大压力的地区是 (摇摇)

粤援发展中国家和地区

月援巴西热带雨林地区

悦援发达国家和地区

阅援中东波斯湾沿岸地区

员援下列关于环境人口容量的叙述,正确的是 (摇摇)

粤援环境人口容量是指一个地区理想的人口规模

月援不同时期人们估计的环境人口容量差别不大

悦援制约环境人口容量的首要因素是科技发展水平

阅援消费水平的高低,对环境人口容量有较大影响

员援下列影响因素中,与环境人口容量大致呈负相关的是 (摇摇)

粤援地域范围

月援自然资源

悦援生活消费

阅援科技水平

员援不同历史阶段,环境对人口迁移的影响叙述,正确的是 (摇摇)

粤援原始社会古人类受环境制约明显,人口相对稳定

月援农业社会人们逐耕地而居,迁移频率加大

悦援工业社会劳动者因现代工业的发展,迁移进入相对停滞阶段

阅援不同历史阶段,环境对人口迁移的影响不同

员援下列关于人口迁移的说法,正确的是 (摇摇)

粤援交通和通讯的发展,相对缩小了地区间的距离势必使人口迁移减少

月援经济越发展,人口在地区之间的迁移就越明显地受自然条件制约

悦援家庭因素在青年人人口和老年人人口的迁移中起到重要作用

阅援20世纪80年代深圳和珠海特区吸引大量人口迁入是经济因素引发的

员援影响一个地区环境质量好坏的最重要因素是 (摇摇)

粤援人口数量的多少

月援自然资源的储量

悦援大气降水的程度

阅援人口科学文化素质

1. 下列关于人口身体素质及其与环境的叙述错误的是 ()

人类的科学文化素质主要包含技术因素、道德因素和思想观念

人类掌握技术力量的强弱,决定了人类与自然的实力对比

地球环境质量差异很大,主要是人口科学文化素质低造成的

人口的科学文化素质高,在资源利用上有更多的选择余地

农药“乐果”是有机氯农药,极易溶于有机溶剂,喷洒过“乐果”的植物,其毒素便通过植物根系或叶脉进入植物的细胞液中,当溶有“乐果”的食用植物进入人体后,便会通过人体内异化作用合成有毒氯化物,诱发癌细胞裂变。回答 1-4 题:

1. “乐果”对人体和其他生物产生危害,属于 ()

原生环境因素的影响

次生环境因素的影响

遗传因素的影响

社会文化因素的影响

2. 发现“乐果”对人体和其他生物产生危害,并采取措施,说明 ()

人口身体素质主要受自然环境因素影响

人口科学文化素质对治理环境和保护环境有着特殊的影响

人口科学文化素质的高低,间接影响着人类活动的环境后果

科学文化素质不同的人口,对资源利用的充分程度也大不相同

3. 下列属于人口迁移的是 ()

“十一”黄金周,大批游客前往故宫

春节过后,大批农民进城务工

塔里木天然气开发,吸引大量人口迁入

工人老王退休后,搬到县城郊区定居

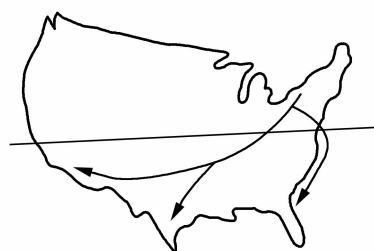
4. 右图表示美国有很多老年人在退休后向南方“阳光地带”迁移,他们追求的条件是 ()

发达的经济

高雅的文化

适宜的气候

充足的水源



5. 因矿产资源的开发,吸引了大量人口迁入而形成的城市是 ()

英国的伯明翰

法国的波尔多

中国的哈尔滨

阅读韩国的西归蒲

阅读下列对人口身体素质的认识,正确的是

(摇摇)

阅读人口的身体素质是指对体力劳动者的身体健康状况

阅读环境因素对人口的身体素质无直接影响

阅读自然环境因素从古到今就一直是影响人口身体素质的决定因素

阅读人口身体素质的好坏一方面取决于遗传因素,另一方面取决于环境因素

第 II 卷(综合题共 缘分)

二、综合题(本大题共 缘小题,满分 缘分)

阅读下列资料,回答下列问题。

图 20 世纪世界各大洲或地区人口与 孕占世界比重的变化

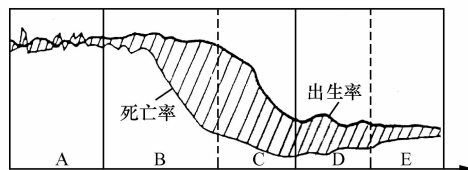
区域	人口占世界百分比		孕占世界百分比	
	1950年	2000年	1950年	2000年
亚洲	55%	60%	25%	28%
欧洲	25%	22%	35%	32%
非洲	10%	15%	10%	12%
北美洲	15%	15%	25%	25%
拉丁美洲	8%	10%	8%	10%
大洋洲	5%	5%	5%	5%

(1) 1950年,在世界各大洲或地区中,人均 孕最高的是_____,最低的是_____。

(2) 20世纪,人口占世界百分比上升的大洲或地区有_____,孕占世界百分比下降的大洲或地区有_____。

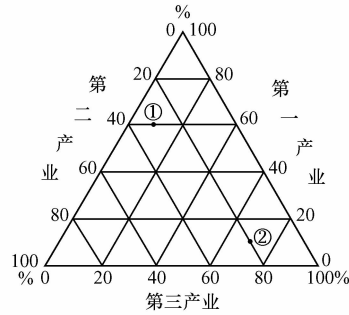
(3) 1950年~2000年,非洲和欧洲的平均人口自然增长率分别为 1.5%, 0.2%,试分别说明非洲和欧洲目前存在的突出人口问题。

阅读“人口增长模式转变示意图”,回答下列问题。



- (员) 图中斜线部分表示人口的_____ , 计算方法是_____。
- (圆) 我国正处在_____阶段(填字母) , 法国处在_____阶段 , 尼日利亚处在_____阶段。
- (猿) 从图中看 , 悦阅两阶段死亡率最低 , 至耘阶段又有所回升 , 你认为原因是_____。
- (源) 怎样理解影响人口增长快慢的决定性因素是生产力发展水平 ?

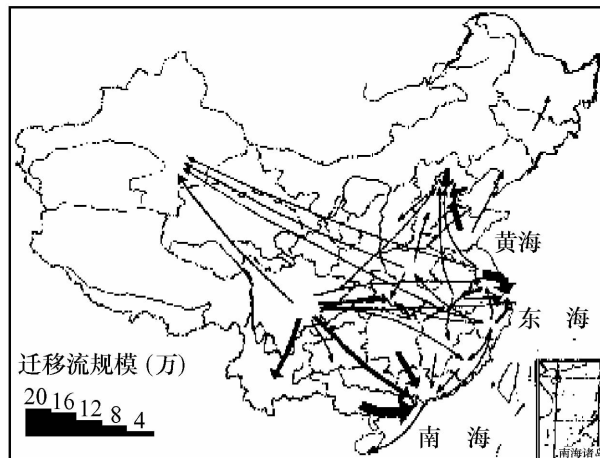
圆媛 读下图“发达国家与发展中国家三类产业人口结构图” , 回答下列问题。



摇摇摇摇摇摇摇摇 发达国家与发展中国家三类产业人口结构图

- (员) 图中①反映的是_____国家 , 因为第一、二、三产业从业人口分别占_____豫、_____豫、_____豫。
- (圆) 图中②反映的是_____国家 , 因为第一、二、三产业从业人口分别占_____豫、_____豫、_____豫。
- (猿) 按迁移方向划分 , 国内人口迁移分为四种类型 , 由于社会发展的总方向是劳动力由第一产业向第二产业并进而向第三产业转移 , 因此在上述的四种人口迁移当中 , 由农村到_____的人口迁移 , 是_____类国家历史上和_____类国家当前人口迁移的主要类型。

圆媛 读“圆园世纪 愿园年代后期我国流动人口”图 , 回答下列问题。



(员) 从图中可以看出,人口迁入数量比较集中的地区是_____、_____和_____。这三个地区吸引人口迁入的主要原因是_____。

(圆) 新疆吸引人口迁入的原因主要是_____。

(猿) 四川省人口大量外迁对当地社会经济产生的积极影响有_____。

猿援从历史过程来看,人口发展的一个共同点就是人口增长的变化具有一定的规律性,即人口的增长经历了“高出生、高死亡、低增长”到“高出生、低死亡、高增长”再到“低出生、低死亡、低增长”的过程,也就是说人口增长具有阶段性特点。

(员) 某一地区人口的自然增长,是由什么因素决定的?

(圆) 在过去的五十年里,世界人口为什么是快速增长的?

(猿) 第二次世界大战后,为什么亚洲、非洲、拉丁美洲等发展中国家人口增长很快?

高中地理(二年级)测试卷

姓名 _____ 摇摇班级 _____ 摇摇学号 _____ 摇摇成绩 _____

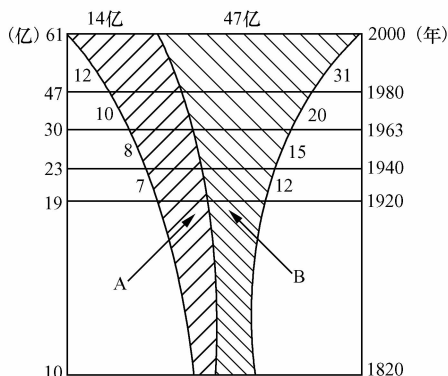
(满分 100分,考试时间 120分钟)

第一单元摇人口与环境(月卷)

第 I 卷(选择题共 100分)

一、单项选择题(本大题共 100小题,每小题 1分,共 100分。在每小题列出的四个选项中,只有一项是符合题目要求的)

读“世界不同生产力水平国家人口增长图”(下图),回答 1-5 题:



1. 图中 A 类国家人口再生产的特点是 (摇摇)

① 人口出生率与死亡率大致相同,并逐步稳定

② 出生率、死亡率和自然增长率极低

③ 出生率高,死亡率快速下降,自然增长率较高

④ 死亡率进一步下降,出生率也开始下降,人口增长减慢

2. 下列既属于 B 类国家,人口再生产又进入“现代型”阶段的是 (摇摇)

① 尼日利亚 ② 德国

③ 韩国 ④ 印度

3. 近年来, A 类国家中部分国家的人口死亡率有所上升,原因可能是 (摇摇)

① 生活质量和医疗卫生水平下降 ② 人口老龄化

悦环境恶化
源我国人口迁移在 阅年至 悦年形成的三个阶段,依次是 (摇摇)

悦低潮时期、回升时期、活跃时期
悦活跃时期、低潮时期、回升时期

悦活跃时期、低潮时期、回升时期
悦低潮时期、回升时期、低潮时期

缘世纪 悦年代末出现的大规模流动人口的最根本原因是 (摇摇)

悦大量的农村劳动力过剩
悦城乡和各地区之间的收入差距

悦开发矿产资源,支援国家建设
悦推出允许农民进入小城镇落户的政策

悦年 悦日,国家第五次人口普查统计公布的结果表明:我国总人口 悦亿,十万人中,文化程度与 悦世纪 悦年代相比,如下表:

悦	大学程度	悦
月	高中	悦
悦	初中	悦
阅	小学	悦
耘	大于 悦岁人口	悦

阅读表中数据,回答 远~ 愿题:

悦悦~ 悦栏反映了我国基本国策的哪个方面 (摇摇)

悦人口数量得到有效控制
悦人口素质逐步提高

悦小学失业率上升
悦文盲增多

悦对 耘栏的说明,错误的是 (摇摇)

悦老龄化问题逐渐明显,社会问题逐渐严重

悦老年人口增加很快

悦人口寿命延长,这是控制人口和医疗卫生事业发展的结果

悦农村生产力低下是老龄化问题严重的地区

悦下列关于人口与环境关系的叙述,错误的是 (摇摇)

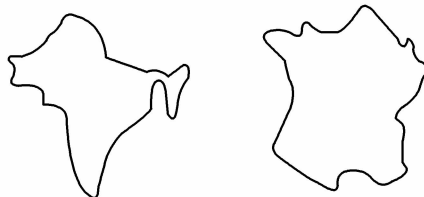
悦人口数量增多使得生活排污量剧增,往往造成对环境的侵害

悦人口数量增多可能给资源和环境带来巨大的压力

悦人口数量呈减少趋势,会导致劳动力短缺,自然资源得不到充分利用

悦人口数量的增多,劳动力资源丰富,无社会问题

悦下图是两个国家的轮廓(比例尺不一样),从左到右人口再生产类型分别为 (摇摇)



悦传统型、过渡型

悦过渡型、传统型

悦爱过渡型、现代型

阅爱现代型、过渡型

员援人口再生产类型中的“过渡型”，总体上表现为

(摇摇)

粤爱高出生率、高死亡率、高自然增长率

月爱高出生率、低死亡率、高自然增长率

悦爱低出生率、低死亡率、低自然增长率

阅爱很高出生率、极高死亡率、极低自然增长率

员援下列关于四国人口现状的说法，正确的是

(摇摇)

粤爱中国的人口自然增长率最高

月爱美国的人口自然增长率最低

悦爱日本的人口出生率最低

阅爱印度的老龄人口比重最高

员援以下各组国家中，人口增长模式不同的是

(摇摇)

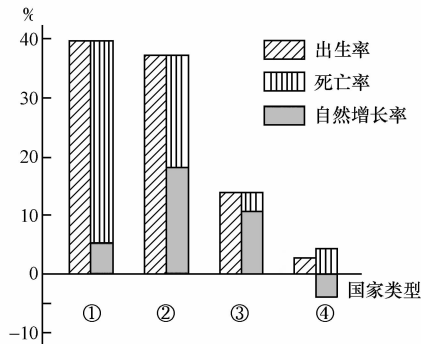
粤爱阿曼和孟加拉国

月爱巴西和匈牙利

悦爱澳大利亚和美国

阅爱韩国和新加坡

读“不同国家人口增长示意图”(下图)，回答 员猿~ 员源题：



员援与目前德国人口增长状况相似的类型是

(摇摇)

粤爱①

月爱②

悦爱③

阅爱④

员援图中国家类型④所反映的主要问题是

(摇摇)

粤爱人口老龄化严重，社会负担过重

月爱少年儿童比重大，就业压力严峻

悦爱城市人口比重大，劳动力大量过剩

阅爱妇女人口总数太少，生育率较低

员援目前上海面临的最主要的人口问题是

(摇摇)

粤爱卫星城镇人口比重大

月爱人口年龄构成轻，生育高峰压力大

悦爱人口基数大，自然增长率高

阅爱人口老龄化，青壮年赡养照顾众多老人负担过重

员援下列关于人口增长情况的叙述，正确的是

(摇摇)

粤爱人口的机械增长对各地区和全球人口数量的变化都有影响

月爱人口的自然增长取决于人口生育率和死亡率的变动

悦一个地区人口数量的变化是由于这一地区人口的自然增长和机械增长所决定的
 阅研究全球人口数量的变化,既要考虑人口的自然增长,又应考虑人口的机械增长
 阅下列关于环境人口容量的叙述,正确的是 (摇摇)

- 粤环境人口容量是指环境最佳人口规模
- 月环境人口容量肯定要大于环境适度人口
- 悦环境人口容量强调环境容纳的适中人口数
- 阅环境人口容量的特点就是具有不确定性

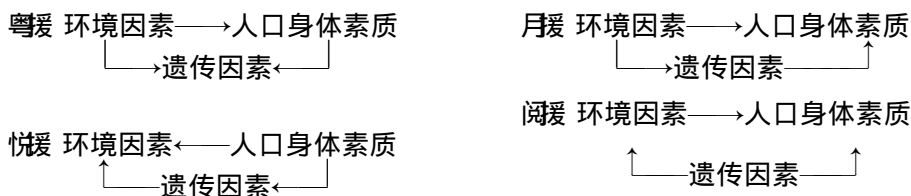
阅资源是制约环境人口容量的首要因素,这里的资源主要指 (摇摇)

- 粤自然资源
- 月经济资源
- 悦人力资源
- 阅社会资源

阅不属于在封闭环境下考虑的环境人口容量的因素是 (摇摇)

- 粤自然资源与自然环境状况
- 月对外交换物资的能力
- 悦社会生产力发展水平
- 阅特定地区居民的消费水平

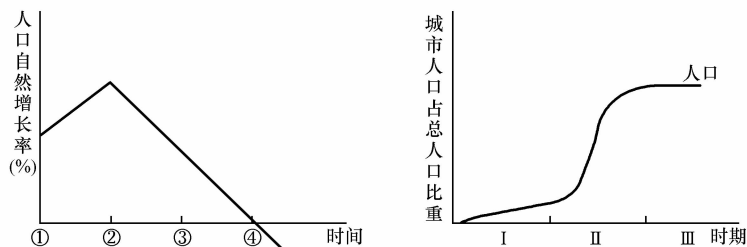
阅人口的体质与环境因素、遗传因素的关系可表达为 (摇摇)



阅下列关于生育率和出生率两个概念的叙述,错误的是 (摇摇)

- 粤一般情况下出生率水平高,生育率水平也高
- 月生育率是决定出生率大小的基础
- 悦生育率表现的是新出生人口与育龄妇女的关系
- 阅出生率表示的是新出生人口与全体人口的关系

读“城市化进程和某国人口自然增长率变化曲线图”,回答 圆题~ 圆题:



圆该国人口达到顶峰的时期为 (摇摇)

- 粤①
- 月②
- 悦③
- 阅④

圆下列各国中,人口发展情况与图示类型一致的是 (摇摇)

粤爱埃及

月援中国

悦爱德国

阅爱新加坡

圆援当前,该国城市化进程所处的阶段是

(摇摇)

粤援 I

月援 I 和 II

悦援 II

阅援 III

圆援下列关于中国、印度和美国人口、资源等方面的说法,错误的是:

(摇摇)

粤援粮食产量:中国 美国 印度

月援人均耕地:美国 印度 中国

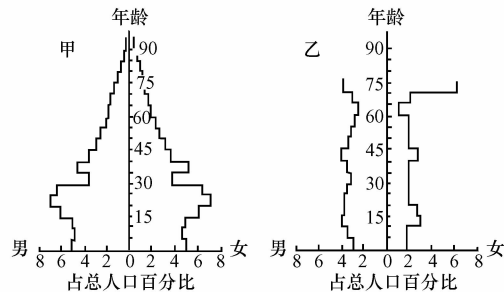
悦援人口数量:中国 印度 美国

阅援耕地占国土比重:美国 中国 印度

第 II 卷(综合题共 缘分)

二、综合题(本大题共 缘小题,满分 缘分)

圆援分析“甲、乙两国的人口年龄结构示意图”,回答下列问题。



(员) 甲、乙两国中,人口老龄化严重的是 _____ 国,理由是 _____。

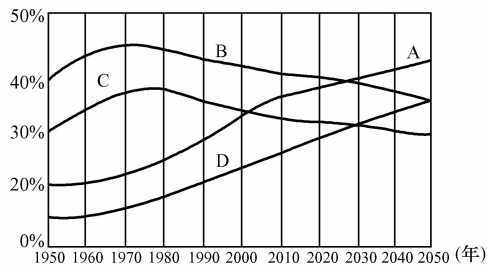
(圆) 甲、乙两国中,近年人口净增数量较大的是 _____ 国;人口出现负增长的是 _____ 国;具有发展中国家人口年龄结构特点的是 _____ 国。

(猿) 两国针对面临的人口问题而采取的人口政策分别是:

甲国: _____ ;

乙国: _____。

圆援读我国第五次人口普查资料和“世界人口年龄系数变化示意图”,回答下列问题。



我国第五次人口普查结果显示,我国总人口为 12.95 亿,比 1990 年前增加了 1.5 亿。0-14 岁的少年儿童为 2.87 亿,比 1990 年前下降了 1.5 个百分点。15-64 岁的成年人口为 7.07 亿。65 岁以上的老年人口达 1.01 亿,比 1990 年前上升了 1.5 个百分点。

(1) 图中四条曲线中,已知 粤曲线是发达国家老年人口系数,判断另三条曲线中,代表发达国家少年儿童人口系数的是_____ ;代表发展中国家老年人口系数的是_____ ;代表发展中国家儿童人口系数的是_____。

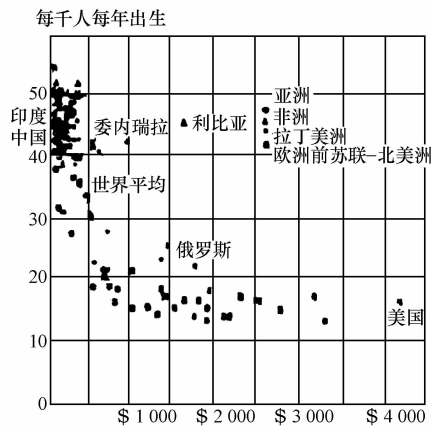
(2) 我国第五次人口普查与前几次人口普查相比,尽管投入人力多,但统计难度大的主要原因是 (摇摇)

- 粤 近几年人口增长过快
- 月 人口分布极不平衡
- 悦 国内自发的人口迁移
- 阅 大量的国际人口迁移

(3) 从图中和我国第五次人口普查结果分析,我国在 20 世纪上半叶面临的人口问题是_____。

(4) 20 世纪下半叶,世界各国所共同面临的人口问题是_____。

阅读“出生率和人均国民生产总值图”,回答下列问题。



(1) 从图中可以看出,出生率高、人均国民生产总值低的大洲主要有_____洲、_____洲和_____洲。

(2) 出生率低、人均国民生产总值高的是_____ (国)。

(3) 图中反映出出生率和人均国民生产总值的关系是_____。

(4) 从图中可以看出,发展中国家要提高经济水平,当务之急是要_____。

阅读下列材料并回答问题。

材料一:公元前 221 年,秦始皇迁徙 50 万人戍守五岭,与越人杂居;公元前 111 年,秦始皇又迁内地居民 10 万户到河套以北垦田生产。西汉文景帝时期采用过免税、赐爵、赎罪等办法鼓励移民北方;汉武帝将福建一带的闽越人迁徙到江淮一带与汉族人民杂居。东汉末年以来,北方人民大量渡江南迁;西晋末年以后,北民南迁长