



LINGSHIWU
QUANMIANJIANGJIE

零失误

ZHONGXUEJIAOCAI 中学教材 QUANMIANJIANGJIE

—— 全面讲解 ——

减少失误——最低成本的超越之道!

地理

配人教版·新课标

八年级（上）

主 编：王耀鹏 本册主编：李家红

吉林人民出版社

图书在版编目(CIP)数据

中学教材全面讲解:人教版. 八年级地理. 上/王耀鹏主编. —长春:吉林人民出版社, 2007. 4

(零失误)

ISBN 978 - 7 - 206 - 05238 - 5

I. 中…II. 王…III. 地理课—初中—教学参考资料IV. G634

中国版本图书馆 CIP 数据核字(2007)第 043952 号

策 划:吉林人民出版社综合编辑部策划室

执行策划:方春红 陈明新

零失误·中学教材全面讲解·八年级地理·上(配人教版新课标)

吉林人民出版社出版发行(中国·长春人民大街 7548 号 邮政编码:130022)

网址:www.zgjf.com.cn 电话:0431-85378008

主 编 王耀鹏

本册主编 李家红

责任编辑 张长平 王胜利

封面设计 薛雯丹 蒋 津

责任校对 李桂红

版式设计 邢 程

印刷:北京市梓耕印刷有限公司

开本:880×1230 1/32

印张:309 字数:9740 千字

标准书号:ISBN 978 - 7 - 206 - 05238 - 5

2007 年 6 月第 1 版 2007 年 6 月第 1 次印刷

全套定价:412.20 元

如发现印装质量问题,影响阅读,请与印刷厂联系调换。联系电话:(010)89579201

目录

CONTENTS

第1章 从世界看中国

计划学习能力	1
第一节 辽阔的疆域	
有效预习能力	3
课堂学习能力	3
作业管理能力	23
错题管理能力	30
第二节 众多的人口	
有效预习能力	30
课堂学习能力	31
作业管理能力	37
错题管理能力	44
第三节 多民族的大家庭	
有效预习能力	44
课堂学习能力	45
作业管理能力	50
错题管理能力	52
有效复习能力	53
考试管理能力	54

第2章 中国的自然环境

计划学习能力	61
第一节 地势和地形	
有效预习能力	63
课堂学习能力	63
作业管理能力	82
错题管理能力	89

第二节 气候多样 季风显著

有效预习能力	89
课堂学习能力	90
作业管理能力	106
错题管理能力	111
第三节 河流和湖泊	
有效预习能力	111
课堂学习能力	112
作业管理能力	127
错题管理能力	133
有效复习能力	133
考试管理能力	134

第3章 中国的自然资源

计划学习能力	146
第一节 自然资源总量丰富 人均不足	
有效预习能力	148
课堂学习能力	148
作业管理能力	153
错题管理能力	156
第二节 土地资源	
有效预习能力	156
课堂学习能力	157
作业管理能力	165
错题管理能力	170
第三节 水资源	
有效预习能力	170

课堂学习能力·····	171
作业管理能力·····	178
错题管理能力·····	183
有效复习能力·····	183
考试管理能力·····	184


第4章 中国的经济发展

计划学习能力·····	191
第一节 逐步完善的交通运输网	
有效预习能力·····	194
课堂学习能力·····	194
作业管理能力·····	204
错题管理能力·····	210
第二节 因地制宜发展农业	
有效预习能力·····	210
课堂学习能力·····	211
作业管理能力·····	222

错题管理能力·····	229
第三节 工业的分布与发展	
有效预习能力·····	229
课堂学习能力·····	230
作业管理能力·····	239
错题管理能力·····	244
有效复习能力·····	245
考试管理能力·····	246

期中综合评价(一)·····	255
期中综合评价(二)·····	263
期末综合评价(一)·····	269
期末综合评价(二)·····	276

附录 2006 年中考湖北黄冈 卷及解析·····	285
------------------------------	-----



第 1 章

从世界看中国

计划学习能力

……本章导学……



零失误学习——知识能力形成体系表

第 1 章	计划学习能力	能力	有效预习能力	课堂学习能力		作业管理能力	错题管理能力
		课节					
第 1 章	计划学习能力	第一节	预习重难点 P3	基础知识讲解 P3	1. 位置优越 P3; 2. 国土辽阔 P4; 3. 34 个省级行政区 P5	课后练习 P23	纠错反思 P30
				隐性知识挖掘 P7	读图指导 P7 材料分析 P13 问题解答 P14		
			释疑解难 P20				
			知识综合拓展 P21	学科内综合 P21			
		课堂小结 P22					
		第二节	预习重难点 P30	基础知识讲解 P31	1. 世界上人口最多的国家 P31; 2. 我国人口的分布 P31	课后练习 P37	纠错反思 P44
				隐性知识挖掘 P32	读图指导 P32 问题解答 P34		
			释疑解难 P35				
知识综合拓展 P36	学科内综合 P36						
课堂小结 P37							

能力	有效预习能力	课堂学习能力		作业管理能力	错题管理能力		
		能力	能力				
第1章	计划学习能力	第三节	预习重难点 P44	基础知识讲解 P45	1. 56 个民族 P45; 2. 民族的分布 P45	课后练习 P50	纠错反思 P52
			预习提纲 P44	隐性知识挖掘 P46	读图指导 P46 问题解答 P47		
			释疑解难 P48				
			知识综合拓展 P49	学科内综合 P49			
				跨学科综合 P49			
			课堂小结 P50				
	有效复习能力	本章知识结构 P53					
考试管理能力	考试零失误策略 P54						
	本章学习评价 P54						

本章内容综述

本章是学习中国地理的第一章,是在学习了地球、地图和世界地理基础知识后,学习中国地理的开篇。

要学好中国地理,认识和了解祖国地理全貌,首先要认识我国的位置、疆域、行政区划和居民状况等基本国情和人口政策。这是学生认识我国自然地理环境和人文地理环境的特征,进而了解人地关系的基础。

第一节为辽阔的疆域,通过位置优越、国土辽阔和 34 个省级行政区三项内容,向学生介绍我国的基本状况。第二节为众多的人口,重点说明我国是世界上人口最多的国家,介绍了我国人口的增长及分布状况。第三节为多民族的大家庭,介绍了我国 56 个民族及民族的分布和民族政策。

本章在全书中占有极其重要的地位,作为中国地理的开篇,不但突出了我国最基本的地理国情,也使学生认识到人类活动与地理环境的密切关系,树立人地协调的观点。掌握国土和居民的知识,是学习以后各章必须具备的基础知识。

第一节 辽阔的疆域

有效预习能力

…… 课前预习 ……



1 预习重难点

【预习重点】 运用地图说出我国的地理位置及其特点，记住我国的国土面积，能够在地图上查阅邻国及其濒临的海洋，能够在地图上准确找出34个省级行政区，记住简称和行政中心。

【预习难点】 我国各省级行政区的地理位置。

2 预习提纲

1. 我国的纬度位置和海陆位置有什么优越性？
2. 我国领土的东、南、西、北四个端点分别在哪儿？
3. 我国陆上相邻和隔海相望的国家有哪些？
4. 34个省级行政单位的名称及分布。

3 自学质疑

.....

.....

.....

课堂学习能力

…… 解读教材 ……



1 基础知识讲解

知识点1 位置优越

【半球位置】

从东西半球看，我国位于东半球；从南北半球看，我国位于北半球。

此为试读，需要完整PDF请访问：www.ertongbook.com

【纬度位置及优越性】

我国位于北半球,大部分位于中纬度地区,南北跨度大,大部分在温带,小部分在热带,没有寒带。气候南北差异大,多种多样的气候类型带来了自然环境的多样性,动植物资源丰富多样,为发展多种农业经济、旅游业等提供了有利条件。

【海陆位置及优越性】

我国位于世界最大的大陆——亚欧大陆的东部,世界最大的大洋——太平洋的西岸,是一个海陆兼备的国家。东临太平洋,使我国东部广大地区雨量充沛,有利于农业生产;沿海多优良港湾,便于发展海洋事业及同海外各国的交往;西部深入亚欧大陆内部,便于同中亚、西亚和欧洲各国陆上直接往来,便于对外交流与合作。

例 1 (模拟题) 关于我国地理位置的正确叙述是 ()

- A. 我国领土大部分位于低纬度,小部分位于高纬度
- B. 我国领土地跨热带、温带、寒带,气候南北差异大
- C. 我国位于北半球,在亚洲的东部,西临太平洋
- D. 从经度来看,我国全属东经度;从纬度来看,我国全属北纬度

●●● 视野拓展 ●●●

我国领土大部分在温带,热量充足,有利于农作物生长。同时,我国南北跨纬度近 50 度,故南北温差很大,喜高温和喜温凉的不同习性的农作物都可以在我国找到适合生长的地方,有利于发展农业的多种经营。

点拨 本题考查我国的地理位置。解题时,应对我国的纬度位置和海陆位置有一个正确的理解和掌握,选项 A 应是:我国领土大部分位于中纬度;选项 B 有误,因为我国领土大部分在温带,小部分在热带,没有寒带;选项 C 中,“西临太平洋”应改为“东临太平洋”或“在太平洋西岸”。故本题答案为 D。

【知识点 2】 国土辽阔

【辽阔的陆地领土】

我国陆地领土面积 960 万平方千米,居世界第三位。陆上国界线长达 20000 多千米,相邻国家有 14 个。

【领土的四个端点】

- 最北端——黑龙江省漠河以北的黑龙江主航道的中心线上(53°N)。
- 最南端——南海南沙群岛中的曾母暗沙(4°N)。
- 最东端——黑龙江与乌苏里江主航道中心线的相交处(135°E)。
- 最西端——新疆的帕米尔高原上(73°E)。

【广袤的海洋国土】

我国濒临的海洋,从北向南依次是:渤海、黄海、东海和南海,它们与太平洋连成一片。台湾岛以东直接濒临太平洋。我国领海及内水面积为 37 万平方千米,管辖的海域面积约为 300 万平方千米。

【主要岛屿】

我国大陆海岸线长 18000 千米以上,沿海分布着台湾岛、海南岛、舟山群岛和南海诸岛等岛屿。与我国隔海相望的国家有 6 个。

第1章 从世界看中国

例2 (模拟题) 以下海洋中属于我国内海的是 ()

- A. 渤海、琼州海峡
B. 东海、台湾海峡
C. 渤海、台湾海峡
D. 东海、琼州海峡

点拨 本题考查我国临海的情况,渤海位于辽东半岛和山东半岛之间,为我国的内海,琼州海峡位于海南岛和雷州半岛之间,也是我国的一个内海。此题要注意从位置上判断内海与边缘海。故本题答案为A。

知识点3 34个省级行政区

(1) 三级行政区划的划分。

为了便于行政管理,有利于经济发展和民族团结,全国的行政区域,基本分为省(自治区、直辖市)、县(自治州、自治县、市)、乡(民族乡、镇)三级。

(2) 包括23个省、5个自治区、4个直辖市、2个特别行政区。

(3) 省级行政区的名称、简称和行政中心

名称	简称	行政中心
北京市	京	北京
天津市	津	天津
河北省	冀	石家庄
山西省	晋	太原
内蒙古自治区	内蒙古	呼和浩特
辽宁省	辽	沈阳
吉林省	吉	长春
黑龙江省	黑	哈尔滨
上海市	沪	上海
江苏省	苏	南京
浙江省	浙	杭州
安徽省	皖	合肥
福建省	闽(mǐn)	福州

视野拓展

省级行政区的记忆口诀:

两湖两广两河山,

五江(疆)云贵福吉安,四西

二宁青甘陕,

内蒙古上北海天,

再加重庆港澳台。

江西省	赣(gàn)	南昌
山东省	鲁	济南
河南省	豫	郑州
重庆市	渝	重庆
湖北省	鄂	武汉
湖南省	湘	长沙
广东省	粤(yuè)	广州
广西壮族自治区	桂	南宁
海南省	琼(qióng)	海口
四川省	川或蜀(shǔ)	成都
贵州省	贵或黔(qián)	贵阳
云南省	云或滇(diān)	昆明
西藏自治区	藏	拉萨
陕西省	陕或秦	西安
甘肃省	甘或陇(lǒng)	兰州
青海省	青	西宁
宁夏回族自治区	宁	银川
新疆维吾尔自治区	新	乌鲁木齐
台湾省	台	台北
香港特别行政区	港	香港
澳门特别行政区	澳	澳门

例 3 (模拟题)北回归线穿过的省级行政单位有 ()

- A. 粤、桂、滇、琼
 B. 闽、粤、桂、台
 C. 台、粤、桂、滇
 D. 滇、琼、粤、闽

点拨 本题考查的是被北回归线穿过的省区,有四个:台湾省、广东省、广西壮族自治区、云南省。故本题答案为 C。

2 隐性知识挖掘

读图指导

一、中国在地球上的位置示意图(如图 1-1)

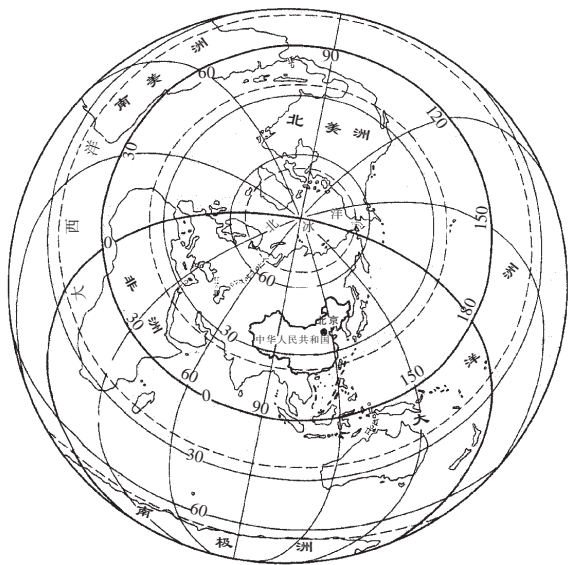


图 1-1

(一)读图要点

1. 此图显示了中国在地球上的半球位置、纬度位置和海陆位置。
2. 读图时,要在图中找到赤道、北回归线、北极圈,以及东西半球的分界线(20°W、160°E组成的经线圈)。
3. 描述一个国家的位置可以从半球位置、大洲大洋位置(即海陆位置)、纬度位置三方面来分析。

由图可知,从南北半球来看,我国位于赤道以北,为北半球,从东西半球来看,位于东半球;从大洲大洋的位置来看,中国位于亚洲的东部,太平洋的西岸;从纬度位置来看,中国领土大部分位于北回归线和北极圈之间,南部少数地区位于北回归线以南,由此判定我国领土大部分位于北温带,小部分位于热带,没有寒带。从海陆位置看,位于世界最大的大陆——亚欧大陆的东部,面临世界最大的大洋——太平洋,中国东面临海,有众多的岛屿和港湾,西部深入亚欧大陆内部,陆上与许多国家接壤。

4. 读此图的关键是要弄清东西半球和南北半球的划分界限,以及低纬、中纬、高纬的划分(南北纬 30°之间是低纬度地区,30°~60°之间是中纬度地区,60°~90°之间为高纬度地区)。

(二)练习

1. 我国位于_____东部,_____西岸,来自海洋的湿润空气使我国东部地区_____充沛,水资源比较丰富。
2. 北回归线穿过我国南部,我国大部分领土位于_____带,小部分位于_____带,我国的_____位置对气候有很大影响,适宜多种植物生长。
3. 我国在地球上位于_____ ()
 A. 北半球、西半球 B. 南半球、西半球
 C. 北半球、东半球 D. 南半球、东半球
4. 我国领土南北跨纬度很广,大部分地区属于_____ ()
 A. 热带 B. 亚热带 C. 北温带 D. 北寒带
5. 我国的海陆位置非常便于从陆上与哪些大洲的国家往来_____ ()
 A. 欧洲、大洋洲 B. 亚洲、大洋洲
 C. 北美洲、非洲 D. 亚洲、欧洲

答案速查 1. 亚洲 太平洋 降水 2. 北温 热 纬度 3. C 4. C 5. D

二、中国疆域示意图(如图 1-2)

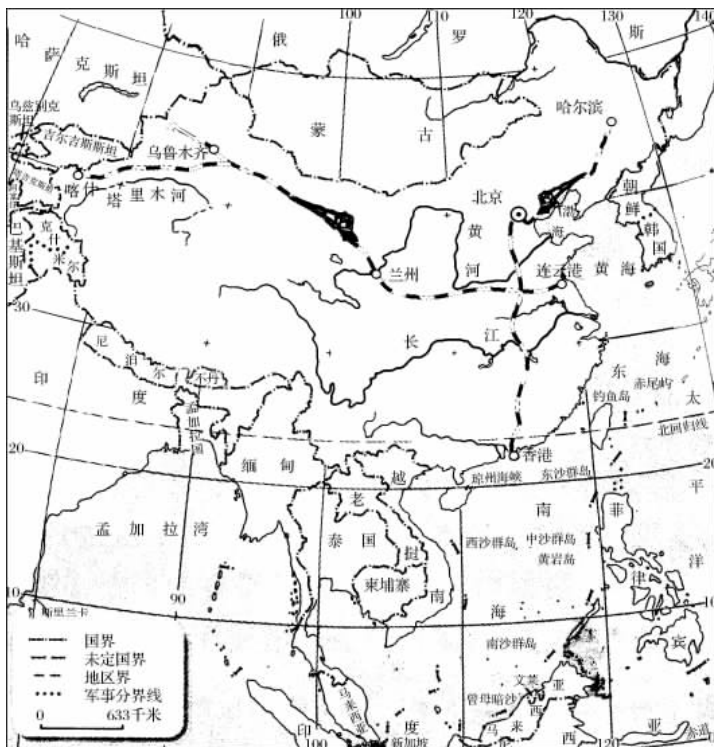


图 1-2

5. 填表题: 填出我国疆域的四至点和经纬度

	疆域的四至点	经纬度
最北端	在漠河以北_____主航道的中心线上	
最南端	在南海南沙群岛的_____	
最东端	在_____江和_____江主航道中心线的交会处	
最西端	在新疆的_____高原	

6. 读图 1-3 和图 1-4, 当北京时间 6 点时, 我国东西端的晨昏差异如何? 当我国春节时, 南北部的季节差异又怎样? 说明各自的原因。



图 1-3




图 1-4

答案速查 1. C 2. D 3. B 4. D 5.

	疆域的四至点	经纬度
最北端	在漠河以北黑龙江主航道的中心线上	53°N
最南端	在南海南沙群岛的 <u>曾母暗沙</u>	4°N
最东端	在黑龙江和乌苏里江主航道中心线的交会处	135°E
最西端	在新疆的 <u>帕米尔高原</u>	73°E

第 1 章 从世界看中国

6. 当北京时间 6 点时,我国东部的乌苏里江上早已洒满了阳光,而西部的帕米尔高原上还是星斗满天、明月高悬的深夜。因为我国领土东西跨经度 60 多度,又因地球的自转,东边地点的地方时刻要比西边地点的地方时刻早。我国东西两端点的地方时相差 4 个多小时(4 小时 8 分 40 秒)。当北京时间 6 点时,即东经 120°的地方时是 6 点时,我国最东端的地方时是 7 点,而最西端的地方时才是 2 点 52 分。从图中可看出,当我国春节时,位于北国的黑龙江是冰天雪地的景象,而南国的海南岛已是春耕大忙时期,因为我国南北跨纬度近 50 度,因此南北气候差异大,形成了不同的自然和人文景观。

三、中国政区图(如图 1-5)

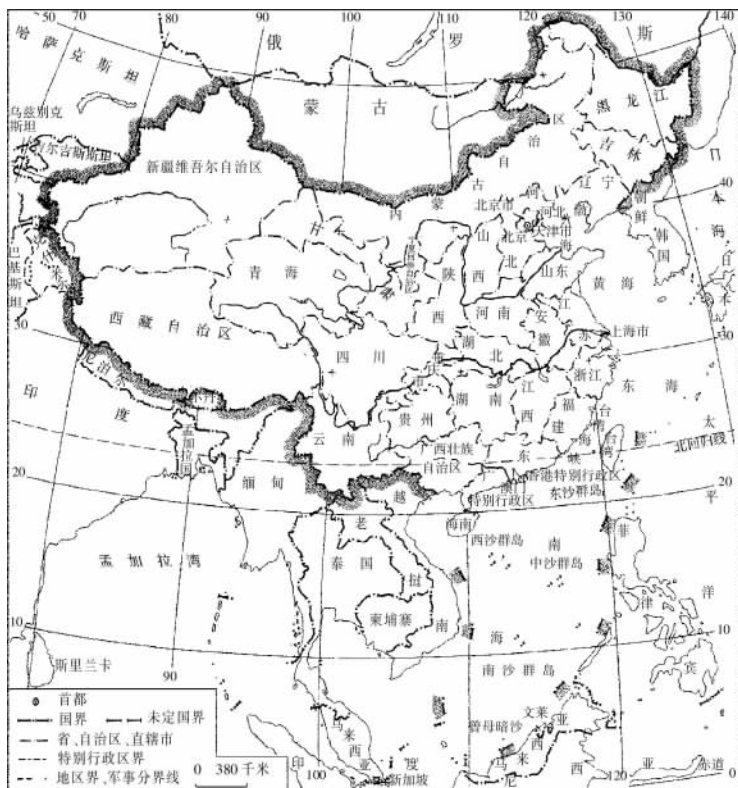


图 1-5

(一)读图要点

1. 本图直观显示了我国省级行政区划的名称和分布位置。
2. 明确我国 34 个省级行政区划包括 23 个省、5 个自治区(内蒙古自治区、新疆维吾尔自治区、宁夏回族自治区、西藏自治区和广西壮族自治区)、4 个直辖市(北京、

天津、上海、重庆)和2个特别行政区(香港和澳门),北京是我国的首都,台湾是我国的一个省,我国已对香港和澳门恢复行使主权,并设立了特别行政区。

3. 由于名称很多,可按方位记忆省级行政区的位置:

(1) 可将我国省级行政单位分成7部分:位于东北部的黑龙江省、吉林省、辽宁省;位于北部边疆的内蒙古自治区;位于黄河中下游的河北省、河南省、山西省、山东省、北京市、天津市;位于长江中下游的湖北省、湖南省、江西省、安徽省、江苏省、上海市;位于南部沿海的广东省、福建省、广西壮族自治区、海南省、台湾省、香港特别行政区、澳门特别行政区;位于西南的四川省、贵州省、云南省、西藏自治区、重庆市;位于西北的陕西省、甘肃省、青海省、宁夏回族自治区、新疆维吾尔自治区。

(2) 还可以大陆沿海的省市区为线索记忆:辽宁省、河北省、天津市、山东省、江苏省、上海市、浙江省、福建省、广东省、广西壮族自治区。

(3) 按逆时针方向依次有陆上邻国的省级行政区名称:辽宁省、吉林省、黑龙江省、内蒙古自治区、甘肃省、新疆维吾尔自治区、西藏自治区、云南省、广西壮族自治区共9个。

(4) 以北回归线穿过的台湾省、广东省、广西壮族自治区、云南省为线索熟悉位置。

(5) 长江干流依次流经的省级行政区:青海省、四川省、西藏自治区、云南省、重庆市、湖北省、湖南省、江西省、安徽省、江苏省、上海市共11个。

(6) 黄河干流依次流经的省级行政区:青海省、四川省、甘肃省、宁夏回族自治区、内蒙古自治区、陕西省、山西省、河南省、山东省共9个。

(二) 练习

1. 我国疆域辽阔,为了便于行政管理,有利于经济发展和民族团结,全国的行政区域,基本可以分为_____、_____、_____三级。

2. 目前,我国共有_____个省级行政单位,包括_____个省、_____个自治区、_____个直辖市和_____个特别行政区。

3. 我国东部沿海的省区从北到南依次是_____。

4. 我国位置最东的省级行政区是 ()

- A. 台湾省
- B. 黑龙江省
- C. 江苏省
- D. 吉林省

5. 北回归线从东到西穿过的省区有 ()

- A. 云南、广西、广东、台湾
- B. 台湾、广东、广西、云南
- C. 台湾、广西、广东、云南
- D. 云南、广东、广西、台湾

6. 我国邻国最多的省区是 ()

- A. 新疆维吾尔自治区
- B. 云南省
- C. 西藏自治区
- D. 黑龙江

7. 我国全部属于热带气候的省级行政区是 ()

- A. 广东
- B. 广西
- C. 云南
- D. 海南

8. 我国面积最大的省级行政区是 ()

- A. 内蒙古自治区
- B. 西藏自治区

第1章 从世界看中国

- C. 四川省
D. 新疆维吾尔自治区
9. 下列省区中, 不与吉林省相邻的是 ()
A. 黑龙江省
B. 河北省
C. 辽宁省
D. 内蒙古自治区
10. 读图 1-6 所示几个省的轮廓, 写出它们的名称。

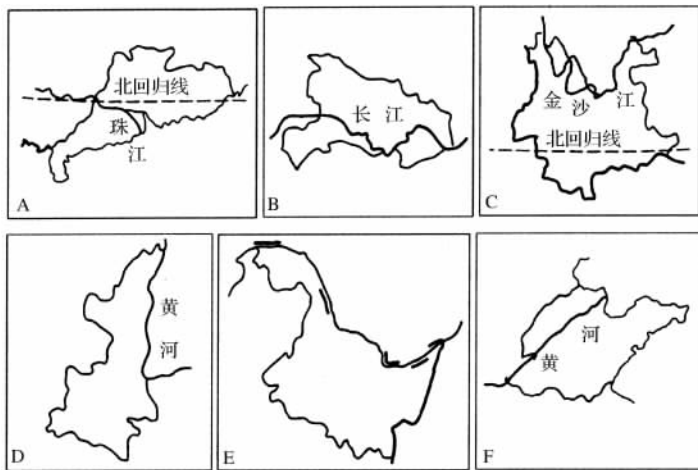


图 1-6

- (1) A 省名称 _____, 简称 _____;
(2) B 省名称 _____, 简称 _____;
(3) C 省名称 _____, 简称 _____;
(4) D 省名称 _____, 简称 _____;
(5) E 省名称 _____, 简称 _____;
(6) F 省名称 _____, 简称 _____。

答案速查 1. 省(自治区、直辖市) 县(自治州、自治县、市) 乡(民族乡、镇)

2. 34 23 5 4 2 3. 辽宁省、河北省、天津市、山东省、江苏省、上海市、浙江省、福建省、广东省、广西壮族自治区 4. B 5. B 6. A 7. D 8. D 9. B 10. (1) 广东省 粤 (2) 湖北省 鄂 (3) 云南省 云或滇 (4) 陕西省 陕或秦 (5) 黑龙江省 黑 (6) 山东省 鲁

材料分析

美丽富饶的祖国海洋(课本第 5 页)

这段材料说明了我国是为数不多的海洋大国之一, 有着美丽的海洋环境和富饶的海洋资源。这段文字的主要知识点包括: 我国最大的盐场——长芦盐场, 我国最大的渔场——舟山渔场, 台湾海峡属于东海等。其中隐含的信息有:

(1) 关于内海和领海, 内海有自然地理和政治地理两个范畴的概念。自然地理

此为试读, 需要完整PDF请访问: www.ertongbook.com