

全国各类成人高考高中起点（升专、本科）统一考试

历史地理综合科标准预测试卷（一）

（考试时间 120分钟）

题号	一	二	总分	
题分	80	80	核分人	
得分			复查人	

得分	评卷人	复查人

一、选择题：本大题共 20 小题，每小题 4 分，满分 80 分，在每小题列出的四个选项中只有一项是符合题目要求的。

1. 下列文半坡氏族遗址反映了_____流域母系氏族公社繁荣阶段的情景。 ()

① 长江

② 珠江

③ 淮河

④ 黄河

2. 我国奴隶社会的国家土地公有制是 ()

① 均田制

② 行省制

③ 井田制

④ 分封制

3. 成语“风声鹤唳”、“草木皆兵”源自于 ()

① 楚汉战争

② 淝水之战

③ 官渡之战

④ 赤壁之战

4. 为了对全国进行有效统治，建立行省制度的封建王朝是 ()

① 秦朝

② 隋朝

③ 宋朝

④ 元朝

5. 清朝雍正帝时，对税制进行改革，实行了 ()

① 摊丁入亩

② 防田均税法

③ 租庸调制

④ 一条鞭法

1. 规定割九龙司地方一区给英国的不平等条约是 ()

粤《南京条约》 月《天津条约》

悦《北京条约》 阅《辛丑条约》

2. 我国历史上第一个全国性的统一的资产阶级革命政党是 ()

粤兴中会 月华兴会

悦光复会 阅同盟会

3. 下列事件发生的先后顺序是 ()

①护法运动 ②“二次革命” ③张勋复辟 ④护国运动

粤①②③④ 月①③④

悦④③① 阅③①④

4. 新文化运动中在中国大地上，第一次举起了社会主义大旗的是 ()

粤陈独秀 月李大钊

悦毛泽东 阅胡适

5. 中国共产党从幼稚走向成熟的标志是 ()

粤“八七”会议 月洛川会议

悦瓦窑堡会议 阅遵义会议

6. 1940年春，取得抗战以来最大胜利的是 ()

粤台儿庄大捷 月平型关大捷

悦百团大战 阅太原会战

7. 我国进入社会主义初级阶段的标志是 ()

粤中华人民共和国的成立 月国民经济的恢复

悦三大改造的完成 阅十一届人大的召开

8. 为后来粉碎“四人帮”奠定了群众基础的是 ()

粤“四五”运动 月二月抗争

悦 一月革命 ”

阅 九一三 ” 事件

员 17 世纪欧洲资本主义的最初萌芽，首先出现于

()

粤 英国

月 意大利

悦 法国

阅 葡萄牙

员 19 世纪中期亚洲民族解放运动具有

()

粤 反对帝国主义的性质

月 反对资本主义的性质

悦 反对侵略的性质

阅 反对殖民主义和封建主义的性质

员 规定日本窃取中国的领土须归还中国的会议是

()

粤 德黑兰会议

月 开罗会议

悦 雅尔塔会议

阅 波茨坦会议

员 《华沙公约》签订的时间是

()

粤 1955 年

月 1956 年

悦 1957 年

阅 1958 年

员 20 世纪 60 年代中期到 70 年代初期，美苏争夺世界霸权的斗争中证明当时的战略优势在美国方面的事件是

()

粤 “ 古巴导弹危机 ”

月 1959 年赫鲁晓夫访美

悦 “ 柏林墙 ” 的修筑

阅 苏联承认联邦德国

员 “ 非洲独立年 ” 指的是

()

粤 1959 年

月 1958 年

悦 1960 年

阅 1961 年

员 苏联完全解体的时间是

()

粤 20 世纪 80 年代中期

月 1991 年下半年

悦 1991 年初

阅 1991 年底

员 太阳系九大行星中卫星最多的是

()

粤 木星

月 土星

悦 天王星

阅 海王星

圆 下列有关板块构造学说的叙述中错误的是 ()

粤 关于地壳水平运动的新假说

月 全球岩石圈分为六大板块

悦 板块内部地壳比较稳定，而板块边缘是地壳比较活跃的地带

阅 六大板块中，每一个板块都包括陆地和海洋

圆 下列有关气温的叙述中正确的是 ()

粤 气温年较差随纬度升高而变小

月 等温线愈密，表示气温的水平变化愈小

悦 1月，全球最低气温并不在北极

阅 吹气出现逆温现象时气温直减率为正值

圆 对西欧、北欧气候的影响最大的洋流是 ()

粤 亲潮

月 湾流

悦 黑潮

阅 本格拉寒流

圆 一种被称为萨王纳的植被类型，分布在 ()

粤 热带草原带，以南非大陆最为典型

月 亚热带荒漠草原带

悦 亚热带森林带

阅 热带、亚热带荒漠带，非洲西南部和南美洲部分地区为常见

圆 亚洲的主要地形是 ()

粤 山地和平原

月 平原和丘陵

悦 山地和高原

阅 平原和高原

圆 关于非洲气候的叙述，正确的是 ()

粤 只有北侧有地中海气候

月 干旱区、半干旱区面积将近全洲面积的一半

悦 缺少热带草原气候

阅 赤道两侧都是热带雨林气候

1. 下列欧洲的半岛不属于地中海气候的是 ()

A. 伊比利亚半岛

B. 亚平宁半岛

C. 巴尔干半岛

D. 斯堪的纳维亚半岛

2. 北美洲的五大湖中最大的湖泊是 ()

A. 苏必利尔湖

B. 伊利湖

C. 安大略湖

D. 密执安(密歇根)湖

3. 下列比例尺中最大的是 ()

A. $1:1000000$

B. $1:100000$

C. 图上 1 厘米代表实地距离 100 千米

D. $1:2000000$

4. 关于澳大利亚的叙述, 正确的是 ()

A. 气候类型多样, 并呈半环状分布

B. 地形具有东西纵列的结构

C. 海岸线曲折, 海湾多

D. 坎贝尔礁位于大陆西岸附近水域

5. 世界上最重要的航海通道是 ()

A. 霍尔木兹海峡

B. 英吉利海峡

C. 马六甲海峡

D. 土耳其海峡

6. 我国绝大部分岛屿分布在 ()

A. 渤海和黄海

B. 黄海和东海

C. 东海和南海

D. 黄海和南海

7. 我国四大盆地中, 面积最大的是 ()

A. 四川盆地

B. 柴达木盆地

C. 准噶尔盆地

D. 塔里木盆地

8. 下述关于季风对我国气候的影响, 正确的是 ()

A. 夏季风使我国南北普遍高温

B. 冬季风加剧了北方严寒, 使南北温差增大

悦季风交替季节是我国主要降水季节

阅我国各地夏季都吹东南风，冬季都吹西北风

猿下列关于我国外流河主要特点的叙述，错误的是 ()

粤受季风气候的影响，河水多来源于大气降水

月流量季节变化和年际变化明显

悦汛期长短与水位高低与雨季的迟早、长短和降水量多少有直接关系

阅外流河只分布在季风区

猿仅次于长江，居于全国第二位的航道是 ()

粤黄河航道

月松花江航道

悦珠江航道

阅京杭运河航道

猿我国山脉南北走向的是 ()

粤横断山 贺兰山

月天山 阴山

悦长白山 武夷山

阅阿尔泰山 祁连山

猿西北地区发展生产、进行国土整治的重点工作是 ()

粤建设人工草场、大力发展畜牧业

月植树种草、治理沙漠、固定沙丘

悦改造盐碱滩、改造贫瘠土壤

阅兴修水利、引水灌田、发展耕作业

猿我国实施西部大开发战略的根本目的在于 ()

粤加强基础设施和改善生态环境

月加强西部地区的资源开发利用

悦缩小东西部差别促进地区协调发展

阅解决西部地区的农业生态问题

得 分	评卷人	复查人

二、非选择题：本大题共 远小题，满分 苑分。

源阅读以下材料：

材料 员：民族主义，并非是遇着不同族的人便要排斥他……

民权主义，就是政治革命的根本。……

民生主义，欧美为甚不能解决社会问题？……

摘自孙中山《在东京（民报）创刊周年庆祝大会的演说》

材料 圆：（一）民族主义。国民党之民族主义，有两方面之意义：一则中国民族自求解放；二则中国境内各民族一律平等。……

（二）民权主义。……凡真正反对帝国主义之个人及团体，均得享有一切自由及权利……

（三）民生主义。国民党之民生主义，其重要之原则不外二者：一曰平均地权，二曰节制资本……

摘自《中国国民党第一次全国代表大会宣言》

材料 猿：中国共产党是中国无产阶级政党。他的目的是要组织无产阶级，用阶级斗争的手段，建立劳农专政的政治，铲除私有财产制度，渐次达到一个共产主义的社会。……

摘自《中国共产党第二次全国代表大会宣言》

请回答：

（员）材料 员所指的是孙中山从哪一个政党的政治纲领阐发而来的？该政治纲领的内容是什么？

(圆) 材料圆在实际上确立了哪三大政策? 国民党一大有什么历史意义?

(猿) 从材料猿和材料圆中根据所学知识指出中国共产党革命纲领同新三民主义的主要区别。

源阅读以下材料

材料 员: 棉纺工业出现(后)……曼彻斯特(英国地名)才变成城市。……沃斯利运河的挖掘使曼彻斯特居民有可能买到廉价的煤,默西运河的挖掘使它同利物浦(英国港口城市)的贸易往来更加方便和更有规律。……当机械化终于出现的时候,……人口增加以明显的速度加快。曼彻斯特在 1795 年有 5 万居民; 1851 年有 250 万居民。……人口增加主要是迁移的结果。许多工人是从邻近诸郡来的,是被棉纺工业中较高的工资吸引来的。

摘自保尔·芒图《十八世纪产业革命》

材料 圆“从手工工场向工厂过渡,标志着技术的根本变革,……而来的必然是:社会生产关系的最剧烈的破坏,参加生产者的各种集团之间的彻底分裂,与传统的完全决裂,资本主义一切黑暗面的加剧和扩大,以及资本主义的使劳动大量社会化。”

(摘自《列宁全集》第 猿卷)

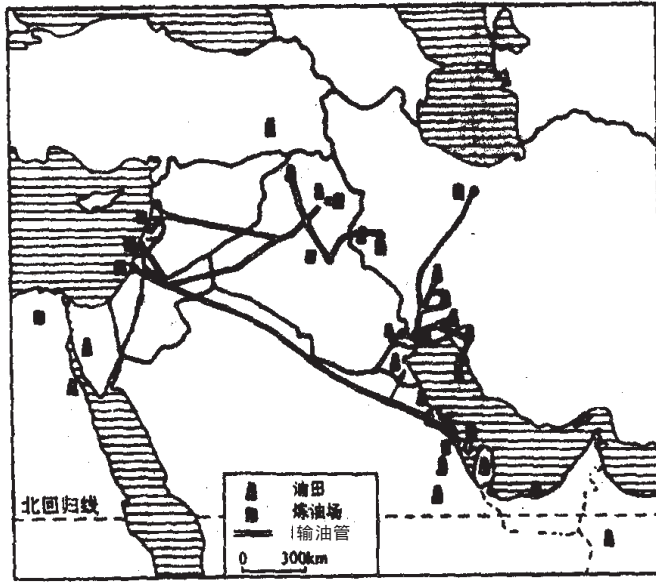
请回答:

(员) 材料 员所指的情形历史上称为什么?英国是什么时候完成这一过程的?对英国有何影响?

(圆) 据材料 圆请指出这一过程对世界历史发展的影响。

源题简述“长期共存、互相监督”这一方针的提出与发展。

读图，分析回答：



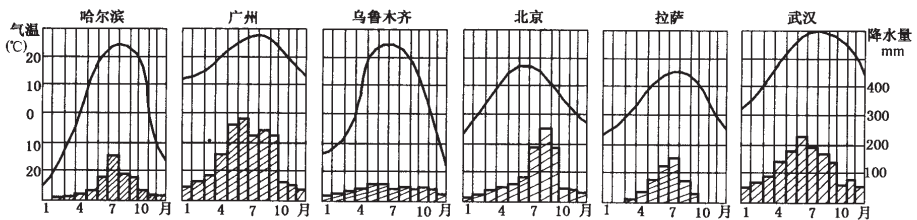
(员) 西亚地理位置十分重要被称为“_____”

(圆) 西面有_____运河，它沟通_____海和_____海，北面有_____海峡，是_____地区通向_____海的门户。南面有_____湾和_____海峡。

(猿) 西亚的石油分布以_____湾为中心，向北延伸至_____北部、_____东北部和_____东南部，向东南延伸到_____。

西亚的石油资源不仅储量大，而且还具有_____等优点。

读图，分析回答：



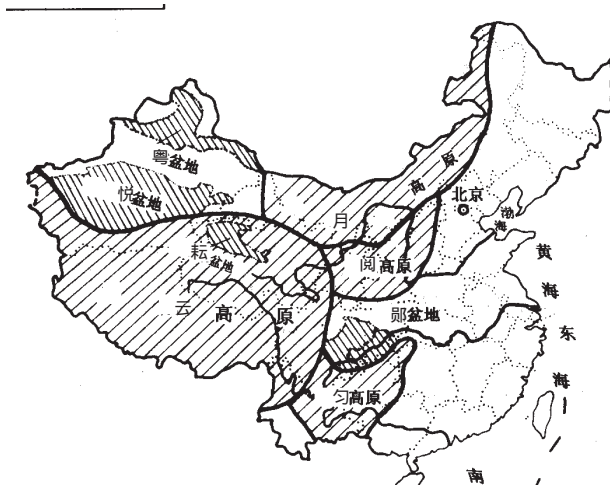
(员) 我国年降水量空间分布的规律是：从_____向_____递减。

(圆) 我国降水的季节分配特征是：南方雨季开始_____，结束_____，雨季

_____，集中在_____月到_____月；北方雨季开始_____，结束_____，雨季_____，集中在_____、_____月。全国大部分地区_____多雨，_____少雨。

(猿) 我国降水主要是由于_____活动影响形成的。发源于_____洋热带海面的_____和_____附近_____洋上的_____把温暖湿润的空气吹送到我国大陆上，成为我国_____季降水的主要水汽来源。

源 读图，分析回答：



(员) 填出图中我国高原和盆地的名称 粤_____月_____悦_____阅_____耘
_____云_____郾_____匀_____

(圆) 匀多典型的_____地貌，水土流失严重的是_____。

(猿) 面积最大的盆地是_____，地势最高的盆地是_____。

全国各类成人高考高中起点（升专、本科）统一考试

历史地理综合科标准预测试卷（二）

（考试时间 120分钟）

题号	一	二	总分	
题分	80	80	核分人	
得分			复查人	

得分	评卷人	复查人

一、选择题：本大题共 20 小题，每小题 4 分，满分 80 分，在每小题列出的四个选项中只有一项是符合题目要求的。

1. 下列文化遗址中，反映黄河流域氏族情况的是 ()

粤 队汶口文化遗址

月 山顶洞人遗址

悦 阿姆渡遗址

阅 半坡遗址

2. 我国历史上用木炭冶炼出生铁始于 ()

粤 商朝

月 西周

悦 春秋后期

阅 战国时期

3. 战国时，在成都附近修建了防洪灌溉工程都江堰的是 ()

粤 杜诗

月 王景

悦 李冰

阅 史禄

4. 司马迁的《史记》成为我国历代王朝编写史书的典范，其体裁是 ()

粤 典制体

月 纪传体

悦 编年体

阅 记事本末体

5. 东汉末年“挟天子以令诸侯”被曹操劫持的是 ()

粤 汉文帝

月 光武帝

悦 汉景帝

阅 汉献帝

1. 我国现存的一部最早、最完整的农书是 ()

粤《齐民要术》 月《天工开物》

悦《千金方》 阅《农政全书》

2. 被称为“房谋杜断”的房玄龄、杜如晦是_____时期的宰相。 ()

粤文景之治 月光武中兴

悦贞观之治 阅开元盛世

3. 进攻北宋与北宋达成“澶渊之盟”的少数民族政权是 ()

粤西夏 月辽

悦金 阅蒙古

4. 西藏成为中央政府的正式行政区是在 ()

粤西汉 月隋朝

悦唐朝 阅元朝

5. 用科举制选拔官吏，规定只在四书五经范围内命题被称为八股文始于 ()

粤隋朝 月唐朝

悦宋朝 阅明朝

6. 第一次鸦片战争期间，清军将领陈化成牺牲于 ()

粤定海之战 月虎门之战

悦吴淞口之战 阅基隆战役

7. 从 19 世纪 50 年代末到 80 年代，沙俄割去我国领土最多的不平等条约是 ()

粤中俄《爱琿条约》 月中俄《北京条约》

悦《中俄勘分西北界约记》 阅《中俄改订条约》

8. 《新学伪经考》和《孔子改制考》是谁的最有代表性的维新变法的理论著作？ ()

粤梁启超 月康有为

悦谭嗣同 阅刘光第

1. 1901年最畅销的书籍是 1901年邹容在上海出版的 ()

粤《猛回头》

月《警世钟》

悦《革命军》

阅《驳康有为论革命书》

2. 1915年，孙中山发表《讨袁宣言》进行了 ()

粤“二次革命”

月护国运动

悦护法运动

阅保路运动

3. 1924年标志着国共两党合作的实现，革命统一战线的正式建立的是 ()

粤国民党一大

月国民党二大

悦中共二大

阅中共三大

4. 1949年中国人民民主革命胜利的标志是 ()

粤三大战役的胜利

月人民解放军占领南京

悦中国人民政治协商会议召开

阅中华人民共和国成立

5. 1950年使新中国人民民主专政的政权更加巩固，被称为建国初期三大运动的不包括 ()

粤抗美援朝

月土地改革

悦镇压反革命

阅整风运动

6. 1492年受西班牙国王之命，率船队作环球试航的是 ()

粤迪亚士

月哥伦布

悦达·伽马

阅麦哲伦

7. 1936年标志着社会主义制度在苏联确立的宪法颁布的时间是 ()

粤1936年

月1936年

悦1936年

阅1936年

8. 1959年太阳_____增多时会干扰地球上的大气环流，使全球性天气与气候发生异常。 ()

粤黑子 耀斑

月日珥 太阳风

悦耀斑 日珥

阅黑子 太阳风

圆下列地质作用中，属外力作用表现形式的是

()

粤地震

月变质作用

悦成岩作用

阅地壳运动

圆在气压带和风带分布图上，有两支冷暖性质不同的气流相遇的地带出现在

()

粤极地附近

月南北纬 30°附近

悦南北纬 60°附近

阅赤道附近

圆下列关于海水表层温度的叙述，错误的是

()

粤海水表层温度也因纬度和季节而不同

月赤道海区海水表层温度最高

悦全球海洋表层最高水温在赤道以北的热赤道上

阅北半球海洋水温略高于南半球

圆拉丁美洲指的是

()

粤南美洲

月墨西哥湾沿岸地区

悦美国、墨西哥和中美洲

阅美国以南的美洲地区

圆世界最深的湖泊是

()

粤苏必利尔湖

月死海

悦坦噶尼喀湖

阅贝加尔湖

圆关于非洲居民的叙述，正确的是

()

粤白种人主要是欧洲白人移民及其后裔

月白种人主要分布于撒哈拉沙漠以南地区

悦黑种人主要分布于撒哈拉沙漠以南地区

阅黄种人主要分布于非洲西部

圆关于欧洲地形的叙述，正确的是

()

- 粤 欧洲地势低平，以平原为主
 月 山地主要分布在北部和东部
- 悦 有小面积冰川地形
 阅 海岸线平直，海湾、半岛少
- 圆 对北美洲的气候具有较突出影响的因素是 ()
- 粤 大气环流
 月 地理位置
 悦 地表形态
 阅 洋流
- 猿 在图幅大小相同的条件下，下列说法正确的是 ()
- 粤 大比例尺的地图，反映在图幅中的地理事物的内容越详尽
 月 小比例尺的地图，图幅包含地理事物的内容越详尽
 悦 比例尺越大，图幅包括的范围越大
 阅 比例尺越小，图幅包括的范围越小
- 猿 关于南极洲的叙述，不正确的是 ()
- 粤 世界最干燥的一洲
 月 世界最高的大洲
 悦 风暴最多、风力最大的一洲
 阅 具有世界最大的铁矿和煤矿
- 猿 目前世界上最繁忙的航海线是 ()
- 粤 南北美航线
 月 北大西洋航线
 悦 亚欧航线
 阅 波斯湾对外航线
- 猿 与我国西南部接壤的国家是 ()
- 粤 阿富汗 印度
 月 巴基斯坦 印度
 悦 尼泊尔 不丹
 阅 阿富汗 巴基斯坦
- 猿 下列山脉位于两个高原之间的是 ()
- 粤 祁连山脉
 月 大兴安岭
 悦 天山山脉
 阅 巫山山脉
- 猿 冬季我国南北气温差别大的根本原因是 ()
- 粤 地势高低不同
 月 海陆位置不同
 悦 冬季风的影响
 阅 纬度位置的不同
- 猿 下述关于我国内流河的主要特点，错误的是 ()
- 粤 处于非季风区，受干旱气候的影响
 月 最终都流入内陆湖泊
 悦 流量大小、流程长短与气温高低及冰雪消融量关系密切
 阅 多数为季节性河流
- 猿 下述关于我国气候的叙述不正确的是 ()
- 粤 吐鲁番盆地的托克逊是我国的“旱极”