

# 新课标山东省中考模拟试题

# 历史

本书编写组 编写

山东友谊出版社





## 说 明

为满足我省广大参加中考学生的需要,我社聘请了省内部分有多年命题经验及对中考命题颇有研究的专家,根据考试要求和我省中考的实际情况,编写了这套新课标中考模拟试题,包括政治、语文、数学、英语、物理、化学、历史、地理、生物九个学科,共九册,供参加中考的学生参考使用。

这套模拟试题,以全日制义务教育各科课程标准和现行教材为依据,力求体现教育部关于中考命题改革的指导意见的精神,题型灵活多样,难度比例适中,针对性和实用性较强,旨在帮助中考学生在系统掌握基础知识和基本技能的基础上,做到举一反三,触类旁通,抓住重点,提高效率。

书中的缺点错误,望批评指正。

山东友谊出版社  
二〇〇九年 元月





# 目录

员	中国古代史模拟试题一
源	中国古代史模拟试题二
苑	中国古代史模拟试题三
员	中国古代史模拟试题四
苑	中国古代史模拟试题五
苑	中国近现代史模拟试题一
苑	中国近现代史模拟试题二
苑	中国近现代史模拟试题三
苑	中国近现代史模拟试题四
獭	世界古代史模拟试题
獭	世界近现代史模拟试题一
獭	世界近现代史模拟试题二
獭	世界近现代史模拟试题三
獭	世界近现代史模拟试题四
獭	综合模拟试题一
獭	综合模拟试题二
獭	综合模拟试题三
獭	综合模拟试题四
獭	参考答案

# 中国古代史模拟试题一

## ——先秦部分

### 一、选择题(每小题 1 分,共 15 分。)

我们都是龙的传人,我们的祖先是由猿变来的。根据所学知识回答 1—5 题。

1. 人和动物共同生活在一个地球上,人和动物的根本区别就在于 ( )

粤 不会使用工具 月 不会使用火 悦 不会制造工具 阅 不会打猎

2. 天侨居在世界各地的华人都自豪地称自己是 ( ) 子孙。

粤 盘古 月 崤尤 悦 炎皇 阅 炎黄

从夏朝我国开始进入奴隶社会,商是我国奴隶社会的发展阶段,西周是奴隶社会的兴盛时期,春秋是奴隶社会的瓦解时期,战国是封建社会的开始时期。根据所学知识回答 6—10 题。

3. 我国最早出现的国家政权是 ( )

粤 夏朝 月 商朝 悦 殷 阅 周朝

4. 我国是世界上最早发明瓷的国家,早在哪一时期就已经开始烧制原始的青瓷?

( )

粤 夏朝 月 商朝 悦 周朝 阅 秦朝

5. 春秋时期的第一个霸主是 ( )

粤 管仲 月 楚庄王 悦 晋文公 阅 齐桓公

6. 被世界和平理事会定为世界文化名人的是 ( )

粤 孔子 月 孟子 悦 屈原 阅 韩非

7. 今天,我们要想了解两千多年前孔子的言行,可以查找的一部重要古书是

( )

粤 《论语》 月 《春秋》 悦 《国语》 阅 《老子》

8. 根据你的理解,春秋战国时期的“百家争鸣”是指当时 ( )

粤 社会经济的繁荣 月 著书立说的人多

悦 学术思想的繁荣 阅 喜欢辩论的人多

9. “斧斤以时入山林,材木不可胜用也”。提出不要过分捕捞鱼鳖,要按时令进山伐树这一保护生态环境观点的是 ( )

粤 孔子 月 老子 悦 孟子 阅 墨子

10. 长江流域气候湿润,草木茂盛,虫兽较多,在这里的远古居民最合适的房屋样

式是 ( )

粤 高楼大厦      月 栅栏式房屋      悦 地穴房屋      阅 洞式房屋

你知道禹是通过什么方式当上部落首领的吗？ ( )

粤 力夺权      月 鞋袭      悦 禅让      阅 举

人们常用“酒池肉林”来形容荒淫、奢侈的生活，与这个典故有关的暴君是 ( )

粤 桀      月 启      悦 汤      阅 纣

战国时，一个商人到当时秦国的蜀地做生意，他看到了一个著名的水利工程，这个工程是 ( )

粤 渠      月 渠      悦 国渠      阅 江堰

你生病看过中医吗？那些中医大都会看看你的气色，听听你的声音，问问你的病情，按按你的脉搏，这种诊断疾病的方法是谁最早使用的？ ( )

粤 鹊      月 仲景      悦 佗      阅 时珍

美国五角大楼的官员们常把一部中国古代兵书摆在桌上，进行学习，这是世界上最早的一部兵书，它是 ( )

粤 《道德经》      月 《论语》      悦 《孙子兵法》      阅 《孙膑兵法》

## 二、非选择题(共 分)

阅读《简约主义的先秦史》：

盘古说：我开；共工说：我撞；女娲说：我补；夸父说：我追；精卫说：我填；后羿说：我射；仓颉说：我造；神农说：我尝；燧人说：我钻；有巢说：我搭；黄帝说：我们怎么搞？尧说：我让；舜说：我也让；禹说：我还是让；启说：让让让，让你个头啊，也不看看人家受得了受不了！

鲧说：我堵；禹说：我疏；盘庚说：我迁；伯夷说：我采；叔齐说：我饿；子牙说：我钓；武王说：我伐；穆王说：我游；幽王说：我点；褒姒——倾国一笑。

干将说：我铸；鲁班说：我锯；专诸说：我砍；荆轲说：我刺；嬴政说：没刺着！

孙子说：我谋；孔子说：我仁；孟子说：我义；老子说：无为；庄子说：自在；公孙龙说：我辨；韩非子说：把这些人给我统统抓起来！

所以都没有了！

请回答：

(员文中包含了有关我国历史的许多传说故事和史实。你知道多少？请写在下面。(分))

(圆哪一个给你的印象最深刻？为什么？(分))



阅读下列材料：

材料一 秦孝公的“求贤令”：

“三晋功夺我先君河西地，诸侯卑秦，丑莫大焉。……宾客郡臣有能出其计强秦者，吾且尊官，与之分土。”

材料二 商鞅舌战守旧群臣图



回答：

(员概括材料一所表达的观点。(圆分)

(圆求贤令引来了著名的变法改革家商鞅。你认为在上图中商鞅会怎样说?(源分)

(猿商鞅变法的主要内容有哪些?(源分)

(源这次变法是成功了还是失败了?为什么?(缘分)

题春秋战国时期，为什么会出现“百家争鸣”的现象?你认为哪一家的观点最具有现实意义?试论述其现实意义。(员分)

# 中国古代史模拟试题二

## ——秦汉、三国、魏晋南北朝部分

### 一、选择题(每小题 1 分,共 15 分。)

秦汉时期是我国历史上的第一次大统一时期,根据相关知识回答 1—15 题。

1. 秦朝的中央政府中分管军事的是 ( )

阅丞相 阅太尉 阅御史大夫 阅郡守

2. 战国“百家争鸣”到西汉“独尊儒术”的转变体现了 ( )

- ①中央集权的强化 ②思想控制的加强  
③大一统局面的形成 ④儒家以外学派的消亡

3. 东汉南阳太守杜诗发明水排的用途是 ( )

阅鼓风冶铁 阅纺纱织布 阅水灌溉 阅排水防涝

4. 西汉时自请嫁给匈奴单于的是 ( )

阅苏施 阅貂蝉 阅貂君 阅貂姬

5. 我国今天在新疆地区发现的楼兰古国遗址,在汉朝时属于什么地区? ( )

阅西域 阅吐蕃 阅安息 阅大秦

6. 秦汉时期不仅政治统一,而且还创造了昌盛的秦汉文化,根据相关知识回答 7—15 题。

7. 一个东汉的地主会计算自家的田亩面积,他的知识可能会来自下列的哪本书? ( )

阅《缀术》 阅《九章算术》 阅《伤寒杂病论》 阅《道德经》

8. 科技高度发达的今天,哪里发生地震,人们会很快知道,而东汉的人是怎样知道地震发生的方向呢? ( )

阅马传报 阅烽火台传报 阅地球仪显示 阅动仪显示

9. 判断下列事件,哪一个不可能出现在司马迁所写的《史记》中? ( )

阅长野之战 阅鞞鞅变法 阅楚汉之争 阅赤壁之战

10. 三国两晋南北朝时期是我国封建经济发展和民族大融合时期,根据相关知识回答 11—15 题。

11. 赤壁之战袁绍十万大军却输给了只有三四万人的曹操。愿年后,曹操二十多万大军输给了只有五万人的孙刘联军,这其中相同的原因是 ( )

12. 三国两晋南北朝时期是我国封建经济发展和民族大融合时期,根据相关知识回答 13—15 题。

13. 赤壁之战袁绍十万大军却输给了只有三四万人的曹操。愿年后,曹操二十多万大军输给了只有五万人的孙刘联军,这其中相同的原因是 ( )

14. 三国两晋南北朝时期是我国封建经济发展和民族大融合时期,根据相关知识回答 15 题。

15. 赤壁之战袁绍十万大军却输给了只有三四万人的曹操。愿年后,曹操二十多万大军输给了只有五万人的孙刘联军,这其中相同的原因是 ( )

粤新傲轻敌 月禾意为之 悦藉助东风 阅新习水战  
 员有材料说一国“海船大的长 圆余丈,高出水面 圆丈,可载六七百人,装载物  
 资可达 圆吨以上。”拥有该海船的只能是三国中的 ( )

粤魏国 月蜀国 悦秦国 阅晋国

员有个成语叫“司马昭之心,路人皆知”。你知道这个司马昭的儿子司马炎后来  
 夺权建立了什么王朝吗? ( )

粤魏国 月晋国 悦秦晋 阅秦朝

员打仗兵多一定会赢吗?那可不一定。下面给出的战役,只有一个没能以少胜  
 多,请把它找出来。 ( )

粤淝水之战 月赤壁之战 悦淝水之战 阅秦平之战

员孝文帝“诏不得以北俗之语言于朝廷,若有违者,免所居官”,意思是 ( )

粤一定要说鲜卑语 月在朝廷中要说汉语  
 悦不许在家中说鲜卑语 阅任何时候都要说汉语

员我国现存的第一部完整的农业科学著作是 ( )

粤《缀术》 月《水经注》 悦《九章算术》 阅《齐民要术》

员今天,山西大同是煤都,河南洛阳牡丹红。可别忘了,大同的云冈和洛阳的龙  
 门还有着历史上辉煌的 ( )

粤石碑艺术 月书法艺术 悦石窟艺术 阅道教艺术

## 二、非选择题(共 猿分)

员下面是汉代丝绸之路图



丝绸之路

请回答:

(员你能写出它所经过的路线吗?(猿分))

(圆)在当代西部大开发的战略中,针对当地的自然环境,怎样充分利用名胜古迹、风土人情和土特产开发丝绸之路的旅游资源?请你为此提一条建议。(圆分)

圆鲁迅先生曾说“我们讲到曹操,很容易就联想起《三国演义》,更而想起戏台上那一位白面的奸臣,但这不是观察曹操的真正方法。……其实曹操是一个很有本事的人,至少是一个英雄。”

回答:

(员)鲁迅先生为何说曹操是一位很有本事的人?(缘分)

(圆)你知道为什么戏曲里把曹操塑造成一个白脸奸臣吗?(缘分)

圆魏孝文帝是北魏著名的政治家,他改革的主要内容是什么?有何影响(圆分)

# 中国古代史模拟试题三

## ——隋唐部分

### 一、选择题(每小题 5 分,共 50 分。)

隋朝结束了三国两晋南北朝时期的分裂局面,再现统一,隋文帝杨坚为此做出了重大贡献,而他的次子杨广昏庸骄奢,断送了江山,请根据所学内容回答 1-5 题。

1. 隋朝能够统一全国的客观条件是 ( )

粤 南北经济的发展和民族大融合 月 杨坚夺取北周政权建立隋朝

悦 隋朝开创三省六部制和科举制 阅 大运河沟通了南北交通

2. 隋朝灭亡的主要原因是 ( )

粤 土地兼并 月 皇帝昏庸无能 悦 酷吏宦官专权 阅 奢侈腐化,滥用民力

3. 隋朝与秦朝的相似之处有 ( )

① 结束长期分裂割据局面,实现全国统一

② 创立过对后世有深远影响的政治制度

③ 修建过大规模工程

④ 短暂统一,二世而亡

粤 ①②

月 ①②③

悦 ③④

阅 ②③④

唐朝前期,封建统治者励精图治,屡次出现“治世”局面,而到唐玄宗后期,政治开始腐败,唐朝由强盛转向衰落。请根据所学回答 6-10 题。

6. 促使唐太宗认识到“君民是舟水关系”的最主要因素是 ( )

粤 隋亡之鉴 月 君自知之明 悦 爱民如子 阅 树立权威

7. 魏征政启开元,治宏贞观”是对谁的统治的评价? ( )

粤 隋文帝 月 唐太宗 悦 武则天 阅 唐玄宗

8. 唐朝著名诗人杜甫的“忆昔开元全盛日,小邑犹藏万家室”描绘的盛世局面是 ( )

粤 贞观之治 月 开元之治 悦 开元皇之治 阅 光武中兴

9. 科举制度正式形成是在 ( )

粤 隋炀帝时 月 唐太宗时 悦 武则天时 阅 唐玄宗时

“五十六个民族,五十六朵花”,中华民族自古是一家。唐朝时,我国边疆各族与中原的联系更加密切,统一的多民族国家日臻巩固。请根据所学回答 11-13 题。

愿唐太宗说：“自古皆贵中华，贱夷狄，朕独爱之如一”体现了他的什么民族政策 ( )

粤民族分裂 月民族歧视 悦民族平等 阅民族和亲  
怨唐朝时生活在我国青藏高原的少数民族是 ( )

粤和亲 月吐蕃 悦南诏 阅契丹  
隋唐对外交往比较活跃，与亚洲以至非洲、欧洲的一些国家都有往来，正所谓“海内存知己”。请根据所学回答 员原问题。

员读《大唐西域记》一书的作者是 ( )

粤僧一行 月裴成恩 悦玄奘 阅鉴真  
员读对中日文化交流做出突出贡献的是 ( )

粤玄奘 月鉴真 悦王昭君 阅文成公主  
员读中国境内出土的“和同开宝”是 ( )

粤唐朝货币 月朝鲜货币 悦日本货币 阅印度货币  
隋唐时期是中国的隆盛时代，国家的统一，经济的繁荣，促进了文化事业的蓬勃发展，请根据所学回答 员原问题。

员读下面说法不正确的是 ( )

粤隋朝工匠李春设计建造的赵州桥是世上现存最古老的一座石拱桥  
月唐朝印制的《金刚经》是世上现存最早的雕版印刷品

悦颜真卿是继王羲之之后，我国书法史上最有大成就的大书法家  
阅丝绸之路上的敦煌莫高窟的大部分石窟是魏晋时开凿的

员读我国四大发明中，隋唐时就有的发明有 ( )

①造纸术 ②活字印刷术 ③火药 ④司南  
粤② 月②③ 悦③④ 阅④

员读隋唐是我国封建社会的 ( )

粤发展时期 月繁荣发展时期 悦形成时期 阅分裂时期  
二、非选择题(共 猿分)

员读阅读下列材料：

材料一：“孤帆远影碧空尽，惟见长江天际流。”“黄河落天走东海，万里写入胸怀间。”

材料二：“国破山河在，城春草木深。”“剑外忽传收蓟北，初闻涕泪满衣裳。”

回答：

(员材料一诗句的作者是谁？他被人称为什么？(圆分)

(圆材料二的诗句的作者是谁？他被人称为什么？(圆分)

(猿材料一和材料二中的诗各反映出诗人的什么样的诗风?(源分)

(源“诗”“联”讲究对仗工整,意境深远,现在给你一上句,请对出下一句。(圆分)

扫千年旧习, \_\_\_\_\_

祖国山河好, \_\_\_\_\_

猿读下列材料:

外甥是先皇帝舅宿亲,又蒙降金城公主,遂和同为一家。天下百姓,普皆安乐。

——尺带珠丹给唐朝皇帝的上书

回答:

(圆尺带珠丹是哪个民族的首领?这个民族的最高首领被称为什么?(圆分)

(圆尺带珠丹因为什么而与唐朝皇帝之间成为“舅宿亲”?(圆分)

(猿上述事件有什么重要作用?(源分)

(源你认为当前为了国家的稳定和统一,应坚持什么样的民族政策?(源分)

猿读史料,回答问题:

有一次,唐太宗见到新科进士们从金殿大门鱼贯而出,非常兴奋地说:“天下英雄,入吾彀(彀)中矣”。有人写诗说:“太宗皇帝真长策,赚得英雄尽白头!”

(圆上述文字描绘的是一种什么制度?(圆分)

(圆这种制度形成在何时?何时得到完善?(圆分)

(源上文中说唐太宗“非常兴奋”,为什么?(4分)

(源通过看课外书、电视、电影,你知道这种制度在唐朝以后的发展又有何变化吗(4分)?

(缘这种制度到何时才被废除?(4分)

(远这种制度延续了一千多年,你认为它产生了哪些影响?(4分)

# 中国古代史模拟试题四

## ——五代、宋元部分

### 一、选择题(每小题 1 分,共 15 分。)

两宋时期,若干少数民族政权与汉族中央王朝在我国境内长期并立,历史进程在和战交错的复杂场景中曲折展现。请根据所学知识回答 1-15 题。

1. 选出下列与其他选项不同类的一项 ( )

契丹 阿保机      辽 耶律      大理 段思平      西夏 李元昊

2. 下列政权按照建立的先后顺序排列正确的是 ( )

契丹、西夏、北宋、金      辽、北宋、西夏、金

大理、西夏、北宋、辽、金      辽、北宋、西夏、金

3. 辽、宋夏、宋金议和的“宋”是指历史上的 ( )

契丹指北宋      辽指南宋

大理指南宋与辽,宋夏指北宋与夏,宋金指南宋与金

辽指北宋与辽,宋夏指北宋与西夏,宋金指南宋与金

4. 关于岳飞抗金和文天祥抗元的叙述,正确的是 ( )

岳飞、文天祥是民族英雄

岳飞是南宋抗金将领、文天祥是南宋抗元将领,他们的斗争是正义的

岳飞和文天祥阻碍了社会的进步和历史的发展

南宋政权的存在多亏了岳飞的抗金和文天祥的抗元斗争

两宋时我国封建经济继续发展,取决于统治区域相对安定,生产技术不断进步和经济重心的南移,两宋时的社会风貌呈现出万千气象。请根据所学知识回答 16-20 题。

16. 占城稻是从哪里引进的? ( )

越南      朝鲜      新加坡      美洲

17. 历史上南方农业超过北方的原因是 ( )

①南方战乱较少      ②中原人南迁

③南方自然条件好      ④南方人聪明

⑤南方人不受剥削,生产积极性高

②③④⑤      ②③④      ②③      ③

18. 宋朝管理海外贸易的机构是 ( )

粤 韶 舶 司                  月 建 三 行                  悦 寔 政 院                  阅 鄯 护 府  
愿 此 宋 时 生 活 在 东 京 的 某 商 人 很 可 能 遇 到 下 列 哪 些 问 题 ?                  (     )

- ① 用 煤 作 为 燃 料 做 饭                  ② 赶 夜 市  
③ 去 “ 瓦 子 ” 娱 乐                  ④ 普 遍 使 用 “ 交 子 ”

粤 援 ② ③                  月 援 ③ ④                  悦 援 ④                  阅 援 ④

元 朝 时 , 统 一 的 多 民 族 国 家 的 基 业 进 一 步 发 展 , 又 结 束 了 长 期 的 民 族 政 权 并 立 的 局 面 , 成 为 继 秦 、 西 晋 、 隋 以 后 我 国 封 建 历 史 上 又 一 次 大 统 一 的 时 期 , 请 根 据 所 学 知 识 回 答 怨 寔 原 题 。

怨 寔 朝 在 中 国 历 史 上 的 贡 献 有                  (     )

- ① 实 现 了 统 一                  ② 促 进 了 民 族 融 合  
③ 行 省 制 度 对 后 世 影 响 深 远                  ④ 经 济 继 续 发 展

粤 援 ②                  月 援 ② ③                  悦 援 ② ④                  阅 援 ② ③ ④

愿 西 藏 正 式 成 为 中 国 的 一 个 行 政 区 域 是 在                  (     )

粤 秦 朝                  月 隋 朝                  悦 唐 朝                  阅 元 朝

愿 铁 木 真 的 历 史 功 绩 是                  (     )

粤 统 一 中 国                  月 建 立 蒙 古 政 权                  悦 建 立 元 朝                  阅 推 行 重 农 政 策

宋 元 时 期 , 我 国 文 化 事 业 蓬 勃 发 展 , 科 技 发 展 出 现 了 高 峰 , 史 学 、 文 学 和 艺 术 方 面 也 取 得 突 出 成 就 , 请 根 据 所 学 知 识 回 答 愿 原 题 。

愿 活 字 印 刷 术 发 明 在                  (     )

粤 唐 朝                  月 汉 代                  悦 北 宋                  阅 南 宋

愿 有 关 《 资 治 通 鉴 》 的 叙 述 , 正 确 的 选 项 是                  (     )

- ① 北 宋 司 马 光 主 持 编 写 的                  ② 是 一 部 编 年 体 通 史  
③ 是 一 部 纪 传 体 通 史                  ④ 西 汉 司 马 迁 编 写

粤 援 ②                  月 援 ④                  悦 援 ③                  阅 援 ④

愿 辽 夏 金 三 个 政 权 的 相 似 之 处 是                  (     )

- ① 受 汉 文 化 影 响 逐 渐 实 现 封 建 化                  ② 与 宋 议 和 , 接 受 “ 岁 币 ”  
③ 都 是 少 数 民 族 政 权                  ④ 都 是 被 蒙 古 族 灭 亡

粤 援 ③ ④                  月 援 ② ③                  悦 援 ② ③ ④                  阅 援 ③ ④

愿 我 国 今 天 的 首 都 北 京 在 五 代 、 辽 、 宋 、 夏 、 金 、 元 时 期 , 曾 有 过 下 列 名 称 , 按 时 间 先 后 顺 序 排 列 为                  (     )


- ① 燕 京    ② 大 都    ③ 幽 州    ④ 南 京    ⑤ 中 都

粤 援 ④ ① ⑤ ②                  月 援 ② ③ ④ ⑤                  悦 援 ④ ③ ② ①                  阅 援 ③ ④ ⑤ ②

二、非选择题(共 猿分)

愿 结 合 下 图 , 根 据 所 学 历 史 回 答 :

(员 这 种 纸 币 的 名 称 是 什 么 ? 首 先 出 现 在 何 时 何 地 ? (猿 分))



(圆)南宋时纸币与什么并行使用?(圆分)

(猿)纸币出现的主要原因是什么?(圆分)

(源)纸币的出现有何意义?(圆分)

阅读下列材料：

南宋与金订立和议,规定:东起淮水、西至大散关以北的土地永归金朝统治;南宋向金称臣;南宋向金每年进南银 圆万两,绢 圆万匹。当时正值宋高宗绍兴年间,史称“绍兴和议”。

回答：

(员)绍兴和议发生在哪一年?当时的南宋宰相是谁?(圆分)

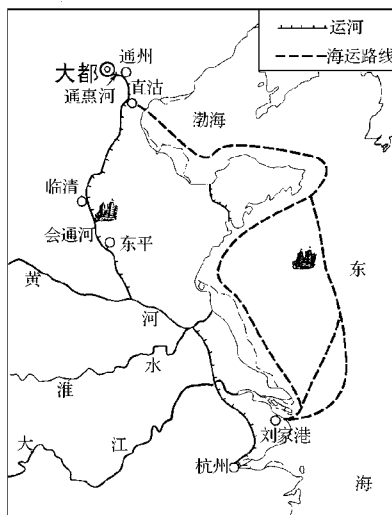
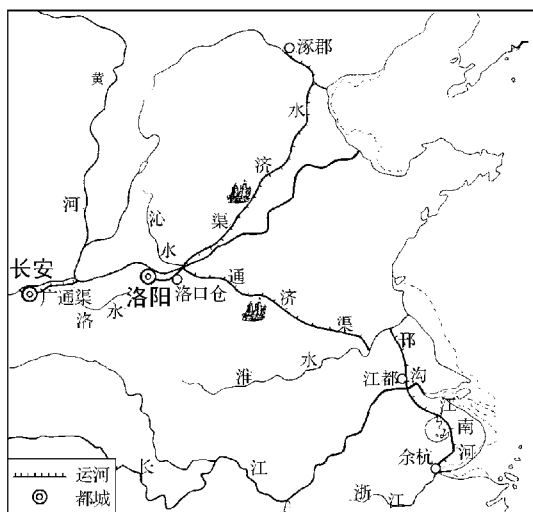
(圆)你认为南宋政府杀害岳飞、与金议和的原因有哪些?(圆分)

(猿)这次和议产生了怎样的历史影响?(圆分)

(源请你画出这次议和后的形势简图。(猿分)

题图 结合所学知识回答：

材料一：



材料二 清朝以后,大运河的大部分河段河道淤塞,失去了往日的繁忙景象。新中国成立后,经过长时间的勘测、规划、研究,我国政府酝酿形成了南水北调的战略构想,即从长江的上游、中游和下游,以西、中、东三条路线分别向西北地区、华北平原中西部和华北平原东部地区供水。这就是人们所说的南水北调的西线工程、中线工程和东线工程。

回答：

(员在隋朝大运河各段中,连通黄河和淮水的一段叫什么?(圆分)

(圆隋朝大运河开凿的历史影响是什么?(源分)