

电子图书



信息技术的结晶

人类文明的载体

网络的基本资源

1952 年试题

一、在下面各题的几个答案中，选择一个正确的答案。（答时在正确的答案下画一横线。）（每题 1 分。）

(1) (开城，平壤，元山，汉城) 是朝鲜民主主义人民共和国的临时首都。

(2) 地球水陆分布极不平均，大约水的总面积占全球面积的 $(\frac{1}{2}, \frac{3}{5}, \frac{3}{4}, \frac{1}{3})$

(3) 中国最高的高原是 (康藏高原，黄土高原，云贵高原。)

(4) 第一次国内革命战争后，红色的中国首都设在 (井冈山，延安，古田，瑞金。)

(5) 形成四季的最根本的原因是 (地轴和地球轨道面作 $23^{\circ}30'$ 的倾斜，地球轨道作椭圆形因而有近日点和远日点，太阳的直射和斜射。)

(6) 苏联在太平洋沿岸最大的不冻深水港是：(阿扬港，海参崴，鄂霍次克，埃尔曼。)

(7) 引黄济卫工程的目的是 (防止黄河的洪水，灌溉平原省的农田和增加卫河水量以利航行，发电供应平原省工业上的需要。)

(8) 我国华东最大的渔场在：(崇明岛附近，舟山群岛一带，山东半岛和辽东半岛之间，海南岛附近。)

(9) 布拉格是：(罗马尼亚，波兰，捷克，匈牙利) 的首都。

(10) 在世界第二次大战中苏联所以能战胜希特勒法西斯匪徒最基本的原因是由于：(工业发达，社会主义制度的优越性，领土广大人口众多。)

二、填空题 (每题 1 分)

(1) 亚洲最高的山峰是 ()，在 () 南部境内。

(2) 地球每 () 小时自转一周，地球的自转产生了 ()；地球每 () 天绕日公转一周，地球的公转形成了 ()。

(3) 开世界和平会议的石德哥尔摩是：() 的京城。

(4) 中国共有 () 省，() 行署，() 自治区，省份中 () 省为最大，() 省为最小。

(5) 中朝边境间有 ()、() 两条大河，在 () 江上有 () 发电厂被美帝国主义非法轰炸。

(6) 红军长征自江西出发经 ()，()，()，()，()，()，()，()，到达 ()。

(7) 成渝铁路全长 500 余公里，它的起点是 ()，终点是 ()，在 () 渡过沱江大桥。

(8) 石漫滩水库在 ()，可灌 () 流域耕地九万亩，润河集蓄洪分水闸在 () 境内，可控制 () 干流七十二亿多立方公尺的洪水。

(9) 欧洲的第一产石油的国家是 ()，第二产石油的国家是 ()。

(10) 我国的桐油产于：()，()，()，()，()。

三、简答下列各题：(每题 10 分)

(1) 荆江过去何以成灾？荆江分洪工程的胜利完成解决了什么问题？

(2) 伏尔加河与顿河间的运河通航后，怎样解决了苏联欧洲部分的运输

问题和各水道干线沟通问题？
(3) 简述中国季风的成因及季风和中国气候的关系？

1952年试题答案及评分标准

一、选择题（每题1分）

平壤； 3/4； 康藏高原； 瑞金； 地轴和地球轨道面作 23° 30' 的倾斜； 海参崴； 灌溉平原省的农田和增加卫河水量以利航行； 舟山群岛一带； 捷克； 社会主义制度的优越性；

二、填空题（每题1分）

（珠穆朗玛峰）（西藏），（24）（昼夜） $(365\frac{1}{4})$ ，（四季）（瑞典），（29）省，（8）行署，（2）自治区，（新疆）省最大，（台湾）省最小，（鸭绿江），（图们江），在（鸭绿江）上有（水丰）发电厂，经（广东）、（湖南）、（广西）、（贵州）、（云南）、（西康）、（四川）、（甘肃）到达（陕北），（成都），（重庆），在（内江），在（河南省），可灌（淮河）……在（皖北），……（淮河）（苏联）（罗马尼亚）（四川），（湖南），（广西），（贵州），（云南）

三、（1）荆江是长江中游的一段，从湖北的枝江到湖南的城陵矶这一段是长江的险要地带，江流特别弯曲，河床淤塞得很高，甚至比北岸的平地还高，这里全靠荆江大堤以拦长江洪水，但因洞庭湖本身的淤塞，在每年夏秋长江涨水便不能容纳，而国民党反动政府不给人民办好事，以致常将荆江大堤冲毁，危害湖北江陵和监利附近一带人民的生命财产。在人民政府的领导下，荆江灾害已全部克服，一方面修固荆江大堤，一方面在荆江以西太平口与藕池口之间的低地蓄洪以备宣泄长江的洪水，从此荆江水灾基本上被克服了，这充分说明了人民政府是全心全意为人民服务的政府。

（2）1. 建筑新的水道干线，将使得大量货物的长距离运输要比其他各种运输廉价得多，顿尼兹的煤和五金，顿河和北高加索的粮食将通过水路，供给沿着伏尔加河的各个地区，同时从伏尔加河到顿河也将运输木材供给顿巴斯、顿河至黑海沿岸地区以及北高加索的西部地区。

2. 将白海、波罗的海、里海、亚速海和黑海连接起来，水陆运输面便大起来，为沿岸各地区发展创造条件。

3. 苏联的首都莫斯科将成为五个海的海港。

（3）中国正处在地球上的季风带，季风是由于中国背靠世界最大的欧亚大陆，面临世界最大的太平洋而形成的。因为大陆吸热放热均快，海洋吸热放热均慢的特性，夏季大陆为低压中心，海洋为高压中心，所以多东南风和南风，冬季大陆上为高压中心、海洋为低压中心，所以多西北风和北风，季风生成是由于这两个大的气压中心的相互关系，超过了行星风的影响。

由于夏季多东南风和南风，使大部雨量集中在夏季，冬季多西北风和北风，使中国北部在冬季特别寒冷。

1953 年试题

一、填写下面句子中的空白：（每小题 2 分，共 20 分）

- (1) 日食时__球位于太阳和__球的中间；
月食时__球位于太阳和__球的中间。
- (2) 回归线是____度的__线
极圈是____度的__线
- (3) 我国土壤分布，大致以秦岭和淮河为界限分成南北两部，南部多__
土，北部多____土。
- (4) 我国目前正在修筑两条很重要的铁路：一条是向西北伸展的__铁
路，一条是联结西南区和西北区的____铁路。
- (5) 现在我国最大的钢铁工业中心是____，最大的煤矿工业在____，
最大的天然石油产地是____，最大的纺织工业中心是_____。
- (6) 下面四个地区，各属于哪一个大洲：
喀什米尔（ ）， 克里米亚（ ）
阿拉斯加（ ）， 苏门答腊（ ）
- (7) 现在苏联的煤矿工业主要分布在四个地区： _____， _____，
_____， _____。
- (8) 美国的工业（特别是重要的机器制造工业）绝大部分集中在美国的
部和__地区。
- (9) 在美帝国主义控制下的拉丁美洲，有丰富的热带农产品，其中巴西
的____和古巴的____在世界上有很重要的经济地位。
- (10) 英帝国主义以马来西亚的____和____换取美元。

二、简答下面各题：（每题 10 分，共 30 分）

- (1) 苏联在工业的配置上，有哪些主要原则？（指出原则，不必解释。）
- (2) 我们为什么以东北区做为新中国工业化的基地？（指出要点，不必
详细解释。）
- (3) 根据下表扼要指出我国西北地区总的气候特点。

		喀 什	迪 化	敦 煌	兰 州	银 川
温度	一月	-5.6	-15.0	-6.3	-6.8	-9.7
(摄氏)	七月	26.7	22.2	27.3	22.7	23.3
年雨量(立方公厘)		86	137	32	308	148

1953 年试题答案及评分标准

一、填空共十题，每题两分（共二十分）。

每题填两个空者，每填对一空给一分。

每题填四个空者，每填对一空给半分。（0.5 分）

- (1) 日食时月球位于太阳和地球的中间；

月食时地球位于太阳和月球的中间。

(2) 回归线是二十三度半的纬线；

极圈是六十六度半的纬线。

【注】在填写二十三度半的空内，如果写为 $23\frac{1}{2}$ 或 23.5 亦可，

在填写六十六度半的空内，如果写为 $66\frac{1}{2}$ 或 66.5 亦可。

(3) 我国土壤分布，大致以秦岭和淮河为界限，分成南北两部，南部多淋余土，北部多钙质土。

【注】南部多红土，北部多黄土亦可。

(4) 我国目前正在修筑两条很重要的铁路，一条是向西北伸展的兰新铁路，一条是联结西南区和西北区的宝成铁路。

(5) 现在我国最大的钢铁工业中心是鞍山，最大的煤矿工业在抚顺，最大的天然石油产地在玉门，最大的纺织工业中心是上海。

(6) 下面四个地区，各属于哪一个大洲：

喀什米尔（亚洲） 克里米亚（欧洲）

阿拉斯加（北美洲） 苏门答腊（亚洲）

【注】1. 不答洲名，而写国家名称者，一律无分。

2. 在第一个括号内填写“美洲”者，一律记分。

(7) 现在苏联的煤矿工业主要分布在四个地区：顿巴斯，库兹巴斯，卡拉干达，莫斯科。

(8) 美国的工业（特别是重要的机器制造工业）绝大部分集中在美国的东北部和大湖地区。

【注】1. 在填写东北的空内，如果只写东或北，一律无分。

2. 在填写大湖的空内，如果写为五大湖或滨湖，一律记分。

(9) 在美帝国主义控制下的拉丁美洲，有丰富的热带农产品，其中巴西的咖啡和古巴的糖在世界上有很重要的经济地位。

【注】：在填写糖的空内，如果写为甘蔗一律记分。

(10) 英帝国主义以马来亚的橡胶和锡换取美元。

【注】：橡胶写为树胶一律记分。

二、简答共三题，每题十分（共三十分）

【注意】答案中画有横线的表示答案要点。

(1) 苏联工业配置的主要原则有五：

工业接近原料产地和消费区

消灭城乡间的对立

消灭边区（少数民族）的落后性

综合地发展经济

巩固国防力量

【记分标准】1. 五项原则，每项两分。

2. 能指出五项原则的答案，不论繁简，记分一致。

3. 如答案叙述较多，语意含糊，可以现用高中外国经济地理课本上册第 32 页和 33 页的课文为标准衡量。

(2) 我们把东北区作为新中国工业化的基地，主要因为东北区具备了较其他各区为优越的各种条件。

有强大的工业（特别是重工业）基础。如钢铁工业和化学工业占全国一半以上，煤、电力和机器制造占全国极大的比重，并且社会主义性质的国营工业居绝对优势。

有极丰富的自然资源（如黑色和有色金属矿产，煤，油页岩和水力等动力资源；森林）、粮食和工业原料。

有便利的交通运输网（铁路和公路交错衔接），并有内河和海上舰艇之利，使本区内部各地，以及和其他地区密切联系起来，促进经济发展。

是较老的革命根据地，全区解放较早，在支援解放战争中就逐渐地恢复和发展了经济，这比其他地区先进了一步。

靠近苏联，并有铁路直接相通，极便于取得苏联在物质上和技术上的帮助。又靠近中央所在地，极便于中央的直接领导。

【记分标准】1. 根据答案指出的五方面的条件，每一方面的条件平均为两分。

2. 本题答案应指出地理条件和历史条件。如果偏缺了其中的一方面，应对答对的部分按照第1项所列的记分原则，记以恰当的分数。不要因学生缺乏全面观点而全部否定其认识。

(3) 根据表中所列的数字，看出我国西北地区总的气候特点是温差大，雨量少，大陆性气候。

【记分标准】1. 只答温差大，雨量少，或只指出大陆性气候，均记九分。

2. 如果答冬冷夏热，干燥少雨，记九分。

3. 如果不能指出1、2两项所示的特点，而是脱离表中所列的项目、数字，泛加叙述，或脱离本题要求（西北地区总的气候特点），作省区间或都市间气温和年雨的比较，全是不妥当的，原则上一律不予记分。

1954 年试题

一、填空题：（每 1 空白 1 分，共 40 分）。

1. 赤道周长约_____；地球总面积约_____。
2. 本初子午线是_____度的经线；赤道是_____度的纬线。
3. 沿海地带通常因为海陆气温昼夜不同、气压变化的结果，在白天多吹_____，夜晚多吹_____。
4. 四季形成的基本原因有两个：一个是_____，一个是_____。
5. 全球共分为_____标准时区；我国的首都北京（东经 116°）在东_____区。
6. 官厅水库在_____省，这个水库完成后，可使_____河下游地区免除水灾。
7. 内蒙古自治区的居民以_____族和_____族占多数，目前在这个自治区的国民经济中_____业和_____业占主要地位。
8. 我国四大棉产区是_____、_____、_____、_____。
9. 对我国实现社会主义工业化起着重大作用的鞍山，已完工的三大工程是_____、_____和_____，完全是高度机械化和_____化。
10. 我国榨油（食油）工业的原料，东北以_____为主，山东省以_____为主，江南以_____为主，西北区以_____为主。
11. 密西西比河流入_____洋的_____湾，雅鲁藏布江流入_____洋的_____湾。
12. 在欧洲石油产量最大的国家除苏联外就是_____国，其主要石油工业中心是_____。
13. 在第二次世界大战后，英国反动统治者追随美帝国主义扩军备战政策的结果，使得_____工业有所发展，而_____工业反为落后。
14. 在英帝国主义者操纵下的印度的工业，比较发展的是_____工业和_____工业，最落后的是机器制造业。
15. 种族歧视是美国社会制度中重大罪恶之一，主要的牺牲者是_____人和_____人。

二、填图和识图：（每题 5 分，共 20 分）

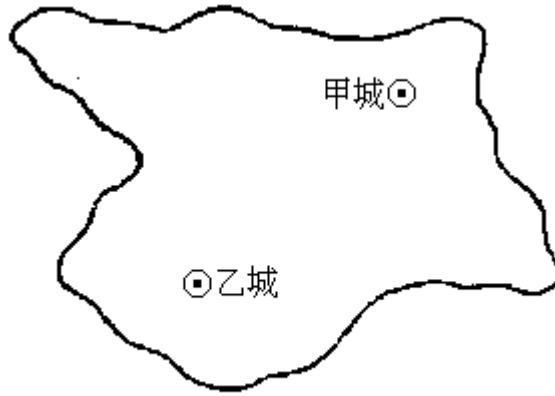
1. 用下列图例，在中国空白图内把目前出产铁、钨、锑、锡和天然石油最多的地方各填示一处。



2. 在欧洲空白图内填示出波兰、捷克斯洛伐克、瑞士、瑞典和冰岛五个国家。

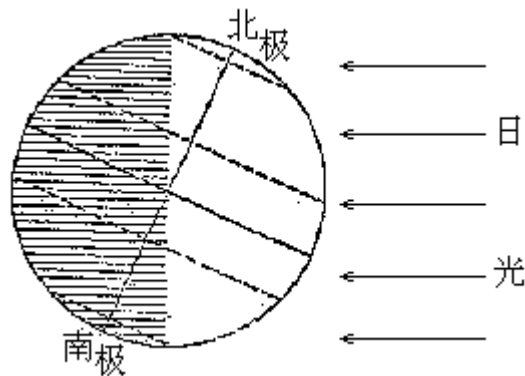


3. 从下图中量得甲乙两城间的直线距离为四公分。你根据图上的比例尺计算出两城间实际地面的直线距离，并指出乙城在甲城的哪一方向。



比例尺 1:18000000

4. 根据下图答复右列五个问题



太阳直射点正在地球上的什么地带？

苏联正在什么季节？

澳大利亚正在什么季节？

中国正在几月？

非洲各地正在几月？

三、简答题：（每题 10 分，共 40 分）（下列各题用背面白纸作答，题次不必按顺序，但要注明每题号码，白纸不够时可向监试员要，并在右上角注明报名号）。

1. 中国地理位置的优越性。
2. 新中国棉纺织工业的配置和旧中国比较有什么显著的改变？
3. 东南亚诸国在经济地理上的特点及其目前的政治形势。
4. 苏联怎样发展了乌拉尔 - 库兹巴斯的黑色金属冶炼工业？

1955 年试题

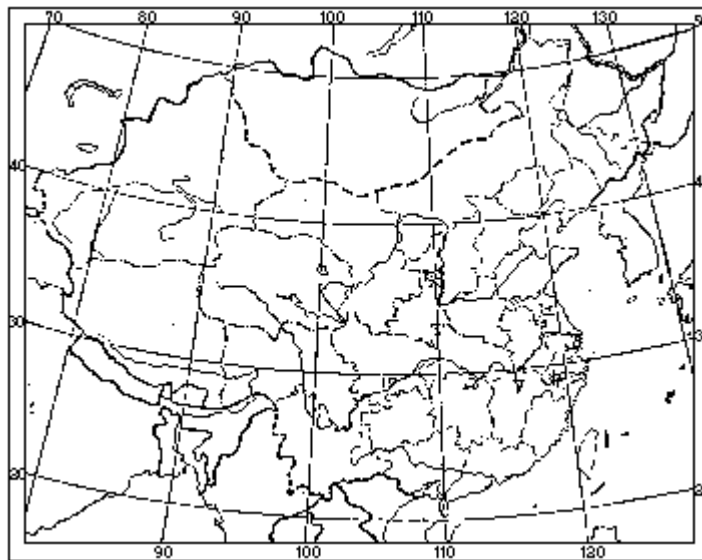
一、填空题：（每一空白 1 分，共 25 分）。

1. 我国最大的钨矿产地在_____，最大的锑矿在_____。
2. 目前我国产量最大的铁矿是_____，次大的是_____。
3. 我国天然橡胶的主要产地是_____省。主要的花生产地是_____省。
4. 对中蒙苏的联系上起着重大作用的_____铁路，南起_____，北至_____。
5. 我国最大的渔场是_____，我国最大的盐场是_____。
6. 我国最大的纺织工业中心是_____，_____和_____。
7. 苏联的主要煤产区是_____，_____。
8. 苏联现有的水电站以_____为最大，已开始建设而尚未完成的有和_____两个世界上最大的水电站。
9. 罗马尼亚主要矿产是_____，产在_____。
10. 法国的铁主要产在_____区，德国的煤主要产在_____区。
11. 英国第一进口港是_____，第一出口港是_____。

二、填图：（每一地名 2 分，共 30 分）

1. 在中国空白图内：

用※号指示出目前最大的三个水力发电站的所在地点；把北回归线所经过的各省名称，填在各省界线之内。



2. 在东半球空白图内，画一条从我国塘沽新港经过印度洋到达莫斯科的最近航线。并把沿途所经过的四个海峡，以及两条运河和两条河流的名称，用下列代表地名的数字，填在适当的地点。

_____海峡， _____海峡， _____海峡 _____海峡，
_____运河， _____运河， _____河， _____河。



三、简答题（每题 15 分，共 45 分）、（下列各题用背面白纸作答，题次不必按顺序，但要注明每题号码，白纸不够时可向监试员要，并在右上角注明报名号）。

1. 为什么计划把大冶和包头建立为我国新的钢铁工业基地？
2. 分别说明兰州 - 乌鲁木齐 - 阿拉木图铁路和康藏、青藏两公路（说明起止点）修筑的意义。
3. 欧洲有哪几个人民民主国家？并举例说明它们之间经济合作的情况。

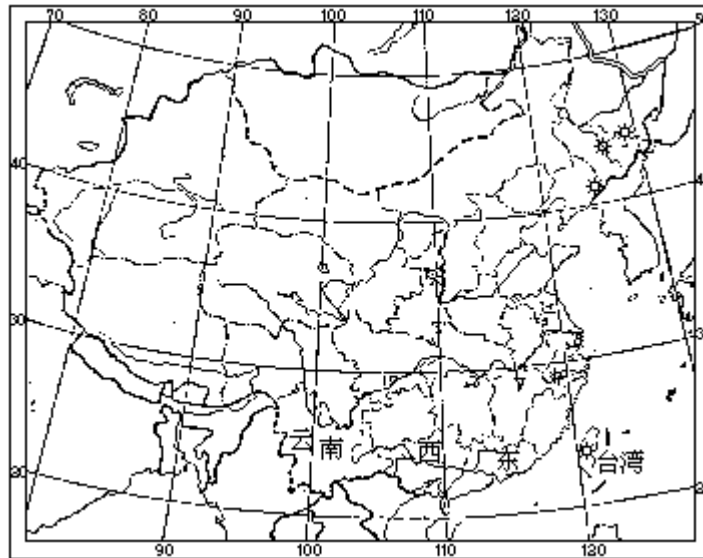
1955 年试题答案及评分标准

一、填空题：（每一空白 1 分，共 25 分）。

1. 赣南（或大庾） 湘中（或锡矿山或新化县）
2. 鞍山 龙烟（或宣化）
3. 广东省 山东省
4. 集二 集宁 二连
5. 舟山渔场 长芦盐场
6. 上海 青岛和天津
7. 顿巴斯（或卡拉干达） 库兹巴斯（或莫斯科）
8. 第聂伯河水电站 斯大林格勒水电站和古比雪夫水电站
9. 石油 普罗什的
10. 洛林 鲁尔
11. 伦敦 利物浦

二、填图

1. 水丰水电站、小丰满水电站、镜泊湖水电站、日月潭水电站（任答三个）。
台湾、广东、广西、云南。



2. 台湾海峡， 马六甲海峡， 达达尼尔海峡， 波斯普鲁斯海峡， 列宁伏尔加·顿运河（或列宁运河）， 苏伊士运河， 顿河， 伏尔加河



三、（每题 15 分，共 45 分）（东北区本届高中毕业生只做两题，中国地理题 25 分，外国地理题 20 分，共 45 分）

1. 因： 工业化需要大量钢铁，单靠鞍山等地钢铁是不够的。故有必要建立新的钢铁基地； 大冶和包头在国防上比较安全，阶近有丰富的铁矿，交通方便； 这两个基地建成后，大冶可以支援南方广大地区的工业建设，包头可以支援华北和大西北的工业建设。

2. 兰州 - 乌鲁木齐 - 阿拉木图铁路修筑意义：使我国和苏联及欧洲人民民主国家交通上更为便捷；使新疆和内地交通方便，促使新疆有可能大规模地开发资源，发展经济；可使大规模开采河西的石油。康藏公路（雅安或康定至拉萨）和青藏公路（西宁至拉萨）修筑的意义：打破了西藏到内地交通上的障碍；使全国对西藏经济上的援助大大方便起来，加速西藏经济的发展，从而加强了民族间的团结；巩固了西藏地区的国防。

3. 答案见高中课本外国经济地理上册（1954年版）75页。

1955 年试题副题

一、填空题：（每 1 空白 1 分，共 25 分）。

1. 北极圈是北纬____（度、分）的纬线圈，北回归线是北纬____（度、分）的纬线圈。
2. 我国少数民族中的傣族主要居住在____，高山族居住在____。
3. 我国现在开采量最大的锡矿是____，开采量最大的天然石油矿是____。
4. 我国台湾的农作物中，粮食作物以____为主，技术作物以____为主。
5. 我国人造石油工业所用的原料主要是____和____；规模最大的人造石油工厂在____。
6. 为了开发青康藏大高原的资源，提高藏族人民生活水平，巩固西南国防，在青康藏大高原上修筑了____和____两条公路。
7. 我国的蚕丝主要产在____；甜菜主要产在____。
8. 苏联对外贸易的主要海港，在黑海是____，在波罗的海是____，在巴伦支海是____。
9. 匈牙利最著名的矿藏是____，波兰最著名的矿藏是____和____。
10. 印度共和国的棉纺织工业中心是____，黄麻工业中心是____。
11. 在太平洋中部的____群岛是美国的主要战略据点，地当____三洲的要冲。

二、填图：（每个地名 2 分，共 30 分）

1. 在中国空白图内适当的位置上填出：（中国空白图，与正题同，此处略）

黄土分布的三个主要省份；

我国四个主要的产丝省份；

我国目前四个较大的机器制造工业中心是：(1)____(2)____(3)____(4)____，并将上列所代表地名的数字，填在图中的适当地点。

2. 在东半球空白图内，画出一条从我国塘沽新港经印度洋到达苏联西部最大海港列宁格勒的最近航线，并将沿途所经过的任何三个海峡和一条运河的名称，填在适当的位置上。

____海峡，____海峡，____海峡，____运河。

并将上述所代表地名的数字，填在图中适当的地点。（东半球空白图，与正题同，此处略）

三、简答题（每题 15 分，共 45 分）。下列各题用背面白纸作答，题次不必按顺序，但要注明每题号码，白纸不够时可向监试员要，并在右上角注明报名号）。

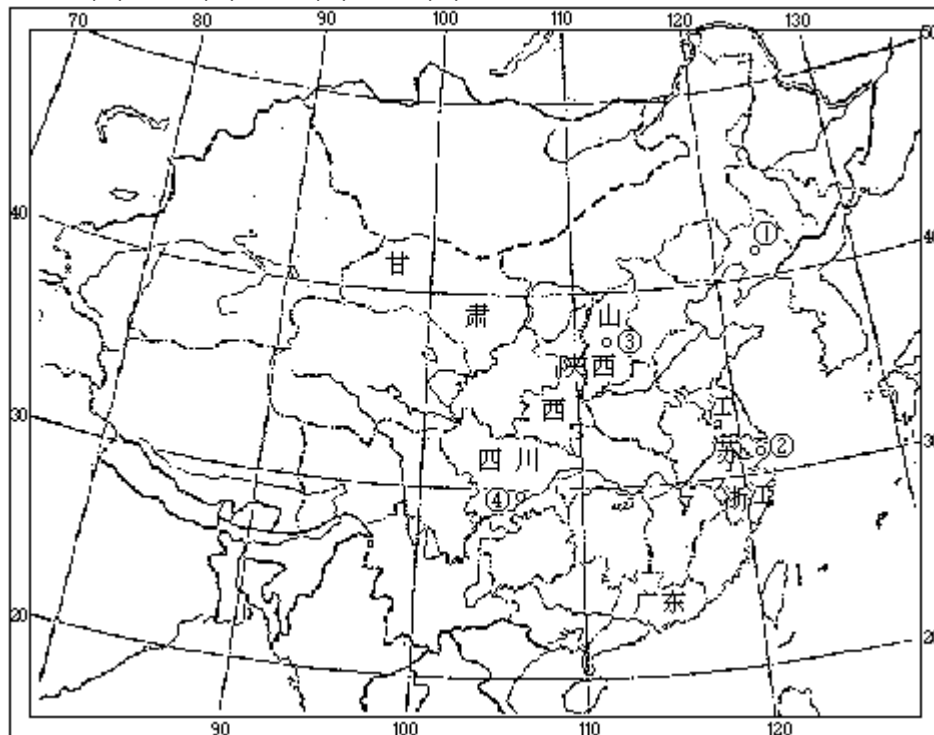
1. 试从我国森林情况，说明大力造林在经济建设上的重要性。
2. 说明下列都市的位置及其经济特点：
甲：哈尔滨 乙：石家庄 丙：包头
3. 美国有哪些主要属地？对美帝国主义的作用怎样？

一、填空题：（每1空白1分，共25分）。

1. 66° 33' 23° 30'
2. 云南省西南部 台湾山地
3. 个旧锡矿 玉门油矿
4. 稻米 甘蔗
5. 油页岩 煤 抚顺
6. 康藏公路 青藏公路
7. 太湖流域 东北区的北部（或黑龙江省和吉林省）
8. 敖得萨（或巴统） 列宁格勒 摩尔曼斯克
9. 铁矾土 煤 岩盐
10. 孟买（或阿麦达巴德） 加尔各答
11. 夏威夷群岛 亚、澳、美

二、填图

1. 山西、陕西、甘肃；
浙江、江苏、四川、广东；
(1)沈阳(2)上海(3)太原(4)重庆



2. 台湾海峡， 马六甲海峡， 直布罗陀海峡或英吉利海峡， 苏伊士运河。（任答三个）。



三、（每题 15 分，共 45 分）（东北地区本届高中毕业生只做两题，中国地理题 25 分，外国地理题 20 分，共 45 分）

1. 答案要点： 旧中国遗留下来的森林很少，林地面积占全国领土面积的比重微小（5%），木材蓄积量也不丰富，不能满足经济建设对木材日益增长的需要；且天然林绝大部分分布在东北、内蒙、西南等边远地区，不是在全国均衡分布；因而不能调节气候，促使农业经常遭受各种水旱风沙灾害。 我国经济建设需大量森林；工业建设需大量建筑用材，采矿需大量矿柱，许多工业如造纸、人造丝等工业须以木材作原料，交通建设也需大量木材；因森林可以调节气候，为了保证农业生产的丰收，农业建设也需大量森林；为美化环境卫生，也需大量森林。 我国有大量适宜于造林的荒山荒地。

（参阅高中课本中国经济地理上册 82 - 87 页）

2. 答案见高中课本中国经济地理
甲：哈尔滨（下册 48 - 49 页）
乙：石家庄（下册 13 页）
丙：包头（下册 23 页）
3. 答案要点： 主要属地—阿拉斯加和阿留申群岛；巴拿马运河及沿河两岸地带；夏威夷群岛； 上述属地的位置； 上述属地对美帝的作用。（参阅高中课本外国经济地理上册 1954 年版 132 页）