
课标王——A+优化作业本配套新课标

七年级地理
(上册·配湘教版)

严查盗版,奖励举报 (010)68001964

举报(订货)热线: (010)68001963

课标王——A⁺优化作业本配套新课标·七年级地理(上册·配湘教版)

责任编辑 关铁宁

封面设计 孙明晓

责任校对 陈洁美

版式设计 洪 铭

出版者 吉林人民出版社 中国·长春人民大街 4646 号 邮编 :130021)

网 址 www.jlpph.com

发 行 者 各地新华书店

制 版 北京佳佳图文制作中心

印 刷 者 河北衡水蓝天印刷有限责任公司

开 本 787 × 1092 1/16

印 张 3.875

字 数 69 千字

版 次 2004 年 7 月第 2 版第 1 次印刷

印 数 20000

标准书号 ISBN 7 - 206 - 03266 - 4/G · 872

定 价 4.00 元

如图书有印装质量问题,请与承印工厂调换。



目 录

第一章 让我们走进地理	(1)	期中检测题	(27)
第一节 我们身边的地理知识	(1)	第四章 世界的气候	(30)
第二节 我们怎样学地理	(3)	第一节 天气和气候	(30)
第二章 地球的面貌	(5)	第二节 气温和降水	(32)
第一节 认识地球	(5)	第三节 影响气候的主要因素	(34)
第二节 世界的海陆分布	(7)	第四节 世界主要气候类型	(36)
第三节 世界的地形	(9)	第四单元自主性评价	(38)
第四节 海陆变迁	(10)	第五章 世界的发展差异	(40)
第一、二单元自主性评价	(13)	第一节 发展中国家与发达国家	(40)
第三章 世界的居民	(16)	第二节 国际合作	(42)
第一节 世界的人口	(16)	第三节 重要的国际组织	(44)
第二节 世界的人种	(19)	第五单元自主性评价	(45)
第三节 世界的语言和宗教	(21)	期末检测题	(48)
第四节 世界的聚落	(23)	参考答案	
第三单元自主性评价	(25)		



第一章 让我们走进地理

第一节 我们身边的地理知识

课时作业

课堂快餐

一、选择题

- 现代“地理”一词英文正确的拼写是 ()
A. geo B. geographica
C. geography D. geographi
- “早穿皮袄午穿纱,抱着火炉吃西瓜”反映的是 ()
A. 地形特征 B. 气候特征
C. 植被特征 D. 水文特征
- 下列活动中,不必利用地理知识的是 ()
A. 确定方位 B. 交通线路的选择
C. 编制城市规划 D. 体育锻炼
- 能看到惊险斗牛场面的地方是 ()
A. 西伯利亚 B. 南美
C. 非洲 D. 西班牙
- “橘生淮南则为橘,生于淮北则为枳”反映的是 ()
A. 气候与农业 B. 地形与农业
C. 气候与工业 D. 地形与工业
- “一年里为什么会有春夏秋冬四季的变化?”产生这种现象的原因是 ()
A. 地球的运动 B. 昼夜的变化
C. 人口的迁移 D. 地形的变迁
- 以下反映南美风土人情的活动是 ()
A. 足球比赛和狂欢节 B. 斗牛比赛
C. 端午节的赛龙舟 D. 傣族的泼水节

- 与草原关系不密切的活动是 ()
A. 生产皮毛产品 B. 放牧牛羊
C. 乳制品的开发与生产 D. 建设水电站

二、填空题

- 通过学习地理,我们能进一步熟悉我们生活的_____在日常生活中懂得确认_____知道_____变化,广泛了解世界各地的基本情况和_____,进而提高对生活的适应能力。
- 农业生产必须_____,兴建工业企业要考虑到_____,能源、_____,市场和_____条件。
- 在解决全球性的资源、_____,环境问题,编制城市规划,防御_____,促进区域_____等方面,地理学具有不可替代的作用。

探险营地

三、选择题

- 地理在呈现世界千姿百态的自然风光的同时,又给我们展示了各地风土人情的绚丽画卷。以下属于风土人情的是 ()
- 碧波荡漾
 - 万顷梯田
 - 白雪皑皑
 - 泼水节

四、资料分析题

藏族服饰的最基本特征是肥腰、长袖、大襟、右衽、长裙、长靴、编发、金银珠玉饰品等。藏族是青藏高原的土著居民与古羌人的一部分融合而成的,他们都生活在地势高,气候寒冷,自然条件恶劣的世界屋



脊上,以牧业、农业为主,这就决定了藏族居民们服装的基本特征是厚重保温又宽大暖和的肥腰、长袖、长裙。为了适应逐水草而居的牧业生产的流动性,逐渐形成了大襟、束腰,在胸前留一个突出的空隙(酷似袋子)这样外出时可存放酥油、糌粑、茶叶、饭碗、甚至可以放幼儿,天热或劳作时,根据需要可袒露右臂或双臂,将袖系于腰间,调节体温,需要时再穿上,不必全部脱穿,非常便当,夜晚睡觉,解开腰带,脱下双袖,铺一半盖一半,成了一个暖和的大睡袋,可谓一物多用。

以上资料说明地理与什么的关系?

五、综合分析题

1. 列举我国部分少数民族的风土人情。
2. 举例说明学好地理知识对我们日常生活有哪些影响。





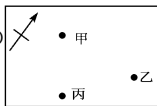
第二节 我们怎样学地理

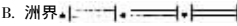

课时作业

课堂快餐

一、选择题

- 指示正北方的星星是 ()
A. 太阳 B. 月球
C. 北极星 D. 火星
- 绘一张学校平面图,采用下面哪种比例尺比较恰当 ()
A. 1:10000
B. 图上1cm代表实际距离1.5km
C. 一百万分之一
D. 
- 右图方向判断正确的是 ()
A. 甲在乙的南方
B. 甲在乙的东方
C. 丙在乙的西南方
D. 丙在甲的西北方
- 比例尺是指 ()
A. 实地距离比图上距离缩小的程度。
B. 比例尺的公式是:比例尺=实地距离/图上距离。
C. 图上距离与实地距离之比。
D. 1:100 000 000 表示图上1厘米代表实地10千米。
- 下面比例尺中最大的是 ()
A. 1:30 000
B.  300千米
C. 1:3 000 000
D. 图上1厘米代表实地距离3千米
- 在下列4幅地图的比例尺中,当图幅大小相等时,哪幅图表示的地区范围大、内容简单()
A. 1:10 000 B. 1:1 000
C. 1:100 000 D. 1:100
- 没有指向标的地图,判断方向的方法是 ()
A. 上北下南、左东右西。



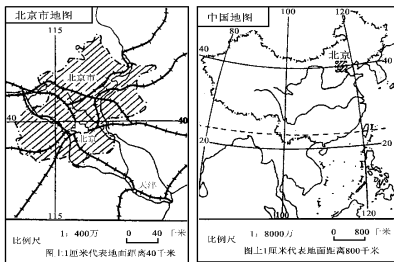
- 在室外时,手持地图,面朝南,背朝北。
C. 上北下南、左西右东。
D. 用指南针定向。
- 地图上指向标的箭头通常指向 ()
A. 东方 B. 西方
C. 北方 D. 南方
- 某人面向北极星,他的左手所指方向为 ()
A. 东方 B. 西方
C. 北方 D. 南方
- 下面4个图例中错误的是 ()
A. 山峰▲
B. 洲界
C. 首都◎
D. 长城
- 探究地理事物的特征与成因采用的思考方法是 ()
A. 看电视节目
B. 到图书馆检索地理信息
C. 访问互联网
D. 对比、分析与综合
- 野外旅行不一定要准备的是 ()
A. 随身听 B. 地图
C. 照相机 D. 笔记本

二、填空题

- 用绘制平面图的方法,把地球表面某一区域的景观,按一定比例缩小,并用_____画在平面上,注上必要的_____,就成为一幅地图。
- 各种地图都具备_____、比例尺、图例、_____等要素。
- 比例尺有3种表示方法,分别是:_____式、_____式和_____式。
- 地图上表示各种_____的_____叫做图例。
- 要多角度地观察、认识某些地理事物和现象。既要看到它们_____的一面,又要看到它们_____的一面,并且能够产生一些联想和_____。

三、读图题

1. 读北京市地图和中国地图,回答:



(1) 图中有_____种比例尺,各属于何种形式?

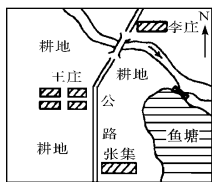
_____。
_____。

(2) 北京到天津的图上距离是_____厘米,根据比例尺可以算出北京到天津的实地距离是_____千米。

(3) 天津在北京的_____方向。

(4) 比较两幅图的比例尺:_____地图大,_____地图小,表示的地理事物_____地图详细、_____地图简略。

2. 读“王庄村平面图”,回答下列问题:



(1) 从张集骑车去王庄再去李庄,前进中方向有何变化?

_____。

(2) 小河从什么方向流来,向什么方向流去?

_____。

(3) 假使张集到王庄的公路实地长3千米,这张地图的比例尺应当是_____。

3. 收看电视台播报的天气预报,辨认晴、阴、雪、雾天的图例,并把它们画出来。

四、连线题

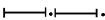
重要城市



国界



铁路



运河




等高线



探险营地

五、综合题

1. 用太阳和手表确定南北方向。



2. 野外旅行的内容有哪些?野外旅行前要作好哪些准备?



第二章 地球的面貌

第一节 认识地球

课时作业

课堂快餐

一、选择题

- 通过精确测量发现,地球是一个 ()
 - 正圆形球体
 - 纺锤形球状
 - 不规则球体
 - 规则球体
- 首次完成环球航行的探险家是 ()
 - 达·伽马
 - 哥伦布
 - 爱迪生
 - 麦哲伦
- 下列关于地球大小的叙述错误的是 ()
 - 地球的表面积约 5.1 亿平方千米。
 - 地球的平均半径约 6371 千米。
 - 地球的赤道半径比极半径长 21 千米。
 - 地球的赤道周长约 4 万里。
- 自西向东转动地球仪,其转动方向正确的是 ()
 - 从北极上空看,地球仪按顺时针方向旋转。
 - 从南极上空看,地球仪按逆时针方向旋转。
 - 从北极上空看,地球仪按逆时针方向旋转。
- 关于纬线的叙述错误的是 ()
 - 所有的纬线圈都是圆。
 - 地球仪上有无数条纬线。
 - 纬线指示的是东西方向。
 - 所有的纬线长度都相等。
- 下列备选答案中关于地球形状的认识,正确的是 ()
 - 大陆漂移说
 - 盖天说
 - 浑天说
 - 大地球形说
- 下列四幅图中 P 点既位于北半球、东半球,又位于中纬度地区的是 ()

A

B

C

D

 - 本初子午线的度数正确的是 ()
 - 180°
 - 160°
 - 20°
 - 0°
 - 东西半球的分界线是 ()
 - 0°和 180°经线
 - 20°E 和 160°W 经线
 - 30°W 和 150°E 经线
 - 20°W 和 160°E 经线
 - 下列说法正确的是 ()
 - 从赤道向北,纬线的度数增大,向南,纬线的度数减小。
 - 从本初子午线向东,经线的度数减小。
 - 从 180°经线向东,经线的度数增大。
 - 东经和西经最大度数都是 180°
 - 新西兰的房屋哪一面朝阳? ()
 - 北
 - 南
 - 西
 - 东
 - 地球公转的轨道面与赤道面的夹角是 ()
 - 30°
 - 23.5°
 - 66.5°
 - 90°



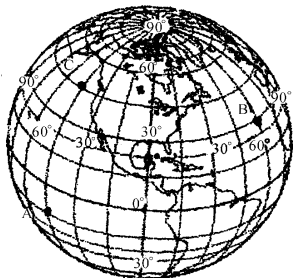
探险营地

二、判断题

1. 南极和北极是穿过地心的直线与地球表面相交的两点。 ()
2. 地球上也存在数轴 赤道 南、北回归线。 ()
3. 地球仪上每条纬线都存在另一条与之度数、长度均相同的纬线。 ()
4. 地球仪上长度最长的纬线是赤道。 ()
5. 我国大部分地区位于中纬度地区。 ()
6. 地球仪上每条经线都存在与之长度相等、度数相同的另一条经线。 ()
7. 地球上有 360 条经线和 90 条纬线。 ()
8. 地球上东西半球的划分采用 20°W 和 160°E 的经线的原因是避免了把非洲和欧洲的一些国家分在两个半球上。 ()
9. 所有的西经都位于西半球,所有的东经都位于东半球。 ()
10. 地球仪上的经线圈与赤道等长。 ()

三、综合题

1. 读下图,回答下列问题。



- (1) 写出 A、B、C 各点的经纬度。

A. _____、_____

B. _____、_____

C. _____、_____

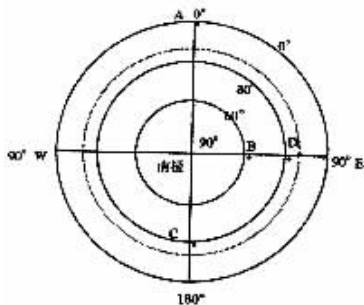
- (2) 辨别方向

B 点在 A 点的 _____ 方。

C 点在 A 点的 _____ 方。

C 点在 B 点的 _____ 方。

2. 读右图,回答下列问题。



- (1) 写出 A、B、C、D 各点的经纬度。

A. _____、_____

B. _____、_____

C. _____、_____

D. _____、_____

- (2) 辨别方向

A 点在 B 点的 _____ 方。

D 点在 A 点的 _____ 方。

D 点在 B 点的 _____ 方。

- (3) 飞机从 A 点沿 0° 经线和 180° 经线飞到 C 点,飞机的航向是怎样的?

3. 读教材 P32 ~ 45,判断下列城市位于哪一个半球?哪一个地区(高中低纬度地区)?

	纽约	基多	开普敦	悉尼	上海
东、西半球					
南、北半球					
高、中、低纬度地区					



第二节 世界的海陆分布

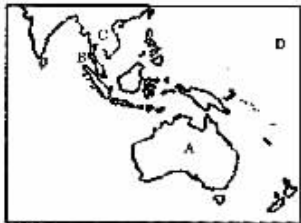
课时作业

课堂快餐

一、选择题

- 在宇宙中看地球更像一个“水球”原因是 ()
 - 地球表面全部是海洋
 - 地球被水汽所包围
 - 地球上大约七分是水
 - 地球上没有水
- 关于世界海陆分布的说法正确的是 ()
 - 陆地主要集中在南半球。
 - 北半球的陆地面积小于海洋面积。
 - 南极地区以海洋为主。
 - 北极地区以陆地为主。

- 读图,在下面示意图中地理事物的名称表示不正确的是 ()



- 岛屿
 - 海峡
 - 半岛
 - 大洋
- 世界各大洲中,四周全被大洋环绕的是 ()
 - 亚洲
 - 非洲
 - 南美洲
 - 南极洲
 - 北美洲和南美洲的分界线是 ()
 - 苏伊士运河
 - 乌拉尔山
 - 土耳其海峡
 - 巴拿马运河
 - 世界面积最小的大洋是 ()
 - 太平洋
 - 大西洋

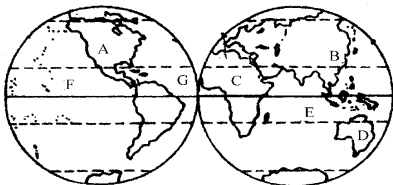
- 印度洋
 - 北冰洋
- 下列说法错误的是 ()
 - 洋是海洋的主体,一般离大陆较远。
 - 海是海洋的边缘部分,其面积和深度均比洋大。
 - 海峡是沟通两个海域之间宽度较窄的水道。
 - 海洋中面积较小的陆地称为岛屿。
 - 只分布在东半球的海洋是 ()
 - 太平洋
 - 大西洋
 - 印度洋
 - 北冰洋
 - 七大洲中,纬度位置最南的是 ()
 - 亚洲
 - 非洲
 - 大洋洲
 - 南极洲
 - 下列各大洲按面积大小排序正确的是 ()
 - 北美洲、亚洲、南极洲
 - 非洲、南极洲、欧洲
 - 南极洲、南美洲、大洋洲
 - 北美洲、非洲、大洋洲
 - 下列关于洲界线的说法不正确的是 ()
 - 大高加索山脉是亚洲与非洲的分界线
 - 巴拿马运河是南北美洲分界线
 - 乌拉尔山脉、乌拉尔河是亚洲与欧洲的分界线
 - 土耳其海峡是亚洲与欧洲的分界线
 - 四大洋中面积最大,几乎占了全球海洋面积一半的是 ()
 - 大西洋
 - 太平洋
 - 印度洋
 - 北冰洋
 - 南北回归线都没有穿过的大洲是 ()
 - 欧洲、南极洲
 - 大洋洲、南美洲
 - 南、北美洲
 - 亚洲、欧洲
 - 被北美洲、亚洲和欧洲围绕的大洋是 ()
 - 太平洋
 - 大西洋
 - 印度洋
 - 北冰洋
 - 下列大洲中,赤道、南回归线和北回归线都穿过的大洲有 ()
 - 亚洲
 - 欧洲
 - 非洲
 - 南美洲



探险营地

二、读图题

读地球东、西半球图,回答:



1. 图中大陆 A 是 _____, B 是 _____。
2. 图中大洲 B 是 _____, C 是 _____, D 是 _____。
3. 图中大洋 E 是 _____, F 是 _____, G 是 _____。
4. 用红笔在图中画出亚洲、欧洲和非洲三洲分界线,南、北美洲分界线,北美洲与亚洲分界线。
5. 主要分布在东半球的大洲有: _____、_____、_____、_____,主要分布在西半球的大洲有: _____和 _____。
6. 全部或大部分在北半球的大洲是 _____、_____、_____,全部或大部分在南半球的大洲是: _____、_____、_____。
7. 被赤道穿过的大洲为: _____。

8. 直接濒临三个大洋的洲有哪些: _____。

三、简答题

1. 有人说:地球上海洋是相通的。你赞成这种说法吗?如果这种说法正确的话,请找出大洋之间相连接的海峡。

_____。
2. 为何世界最冷的地方在南极地区,而不是在北极地区?

_____。
3. 分别说出太平洋、北冰洋沿岸各有哪些大洲?

_____。
4. 赤道横穿哪些大洲的大陆?

_____。

5. 填表。

项目	两侧的大洲	沟通的海洋
运河		
巴拿马运河		
苏伊士运河		



第三节 世界的地形

课时作业

课堂快餐

一、填空题

- 在阅读等高线地图时,应根据等高线的_____、_____及等高线的_____来判明地势的起伏和地形的形态特征。
- _____是指地表某一地点高出另一地点的垂直距离。
_____是指地球表面某一点高出海平面的垂直距离。
- 世界上最大的平原是_____,最大的盆地是_____,最高的高原是_____,最大的高原是_____,世界上最长的山脉是_____,世界上最深的海沟是_____。
- 在分层设色地形图上,蓝色一般表示_____,绿色一般表示_____,高山顶上的积雪和冰川雪地带用_____(颜色)表示。
- 世界的陆地地形主要有_____,_____,_____,_____。

二、选择题

- “会当凌绝顶,一览众山小”指的是()
A. 绝对高度 B. 相对高度
C. 海拔 D. 平均高度
- 在分层设色地形图中,高山上的积雪、冰川用哪种颜色?()
A. 绿色 B. 蓝色
C. 白色或浅紫色 D. 黄色
- 下列说法正确的是()
A. 平原是地面起伏小,海拔一般在 50 米以下的

地形。

- B. 丘陵是地面崎岖不平,海拔多在 500 米以上的地形。
- C. 高原是海拔较高,边缘相对比较平缓的地形。
- D. 盆地是四周多被山地或高原环绕,中部相对低平的地形。
- 在等高线地形图中()
A. 若中心数据大于边缘数据,则该地形为盆地。
B. 若中心数据小于边缘数据,则该地形为山地。
C. 等高线密集地表示该地坡度较陡。
D. 等高线密集地表示该地坡度较缓。
- 地处环太平洋沿岸山脉带的山脉有() (多选)
A. 安第斯山 B. 喜马拉雅山
C. 落基山 D. 平原
- 我国青藏高原平均海拔约()米。
A. 6000 B. 4500
C. 3000 D. 1500
- 世界上海拔最低的大洲是()
A. 南极洲 B. 北美洲
C. 欧洲 D. 南美洲
- 等高线地图上的不同高度的等高线如在一地重合,则该地为()
A. 鞍部 B. 山峰
C. 陡崖 D. 山谷
- 陆地上高峻的山脉主要位于()
A. 环太平洋沿岸、美洲西岸山脉
B. 亚欧大陆南部、非洲北部
C. 亚欧大陆南部及非洲北部、环太平洋沿岸



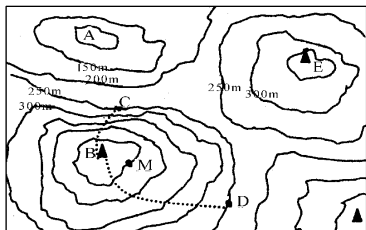
- D. 太平洋东岸、太平洋西岸
10. 靠近大陆的海底地形是 ()
- A. 大陆坡 B. 大陆架
- C. 洋盆 D. 海沟
11. 在同一幅等高线图上 ()
- A. 等高线越稀疏,表示地形起伏越大
- B. 等高线越密集,表示地形越平坦
- C. 相邻两条等高线的数值差(即等高距)相等
- D. 闭合等高线的中心肯定是盆地

探险营地

三、读图题(相邻等高线之间海拔相差50米)

1. A、B 分别表示哪种地形。A. _____
- B. _____
2. E 在 A 的 _____ 方。

3. 估计 D 点的海拔是 _____ 米; D 两点的相对高度是 _____ ;估计 B 山顶的绝对高度是 _____ 。
4. 沿曲线 CB、DB 两条路线上山, _____ 线更佳,因为 _____ 。



第四节 海陆变迁

课时作业

课堂快餐

一、单项选择题

1. 下列说法不正确的是 ()
- A. 地表形态的变化需要经历漫长的时间,不可能短时间内改变
- B. 喜马拉雅山地层中发现的海洋生物化石说明这里曾经是海洋
- C. 沧海桑田的变化是地壳运动长期作用的结果
- D. 岩层在运动过程中会引起地震
2. 下列名称中,属于大洲分界线的是 ()
- A. 科第勒拉山系
- B. 阿尔卑斯山系
- C. 喜马拉雅山系
- D. 高加索山脉
3. 魏格纳提出的大陆漂移学说认为“泛大陆”破裂

- 并漂移开始于 ()
- A. 2000 万年前 B. 200 万年前
- C. 2 亿年前 D. 4 亿年前
4. 下列现象不可信的是 ()
- A. 地球表面时时刻刻地运动和变化之中
- B. 喜马拉雅山上能找到海洋生物化石
- C. 太平洋在不断扩大
- D. 我国是个多地震国家
5. 以下名称中,属于六大板块之一的是 ()
- A. 太平洋板块 B. 印度板块
- C. 北美洲板块 D. 南美洲板块
6. 关于大陆漂移假说的叙述,正确的是 ()
- A. 大陆漂移假说是由德国科学家魏格纳在 19 世纪提出来的
- B. 魏格纳最早从太平洋两岸大陆轮廓的相似性得出灵感,而提出大陆漂移假说的
- C. 大陆漂移假说一提出就得到广大科学家的一致认可
- D. 大陆漂移假说以为,两亿年前地球上的大陆



开始破裂,各大陆逐渐漂移成为现今的海陆分布状况

7. 关于板块学说的正确叙述是 ()
 - A. 地壳被分割为六大板块
 - B. 所有的板块中既有大陆,也有海洋
 - C. 海洋与陆地的相对位置是不变的
 - D. 板块内部比较稳定,板块边界地壳活跃
8. 世界上有的地方成为高山,有的地方成为谷地,主要是由于 ()
 - A. 外力作用的结果
 - B. 地壳运动的结果
 - C. 地震作用的结果
 - D. 火山喷发的结果
9. 喜马拉雅山系是由以下哪两大板块挤压形成的 ()
 - A. 南美洲板块和北美洲板块
 - B. 大洋洲板块和南极洲板块
 - C. 印度洋板块和亚欧板块
 - D. 亚欧板块和太平洋板块
10. 马来群岛多火山地震的原因是 ()
 - A. 位于亚欧板块与太平洋板块的交界处
 - B. 位于亚欧板块与印度洋板块的交界处
 - C. 位于印度洋板块与太平洋板块的交界处
 - D. 位于亚欧板块、印度洋板块、太平洋板块的交界处
11. 下列说法正确的是 ()
 - A. 地球上的火山与地震,绝大多数分布在海洋与陆地的交界线上
 - B. 环太平洋沿岸山脉带以及横贯亚欧大陆南部和非洲西北部的山脉带是世界地震、火山活动最剧烈的地带
 - C. 由于大洋中脊的板块张裂作用,太平洋的面积正在逐渐扩大
 - D. 大陆板块与大洋板块相撞处,大陆板块俯冲到大洋板块之下,往往会形成海沟
12. 下列关于海底地形的叙述正确的是 ()
 - A. 大陆架是陆地向海洋自然延伸的部分,一般坡度较缓,水深通常在 200 米以内
 - B. 大陆坡是大陆架向外倾斜的缓坡,水深一般在 200 米以内
 - C. 海沟是海洋底部最深的地方,是板块张裂的断层地带
 - D. 大洋中脊是大陆板块与大洋板块挤压剧烈的地带,火山活动强烈

13. 有关太平洋板块的说法,正确的是 ()
 - A. 全部是大洋
 - B. 全部是大陆
 - C. 是由陆地和海洋共同组成的
 - D. 大部分是陆地,小部分是海洋
14. 有关大西洋的说法,正确的是 ()
 - A. 是世界第三大洋
 - B. 面积约占全球海洋面积的一半
 - C. 是由板块张裂形成
 - D. 全部分布在北半球
15. 板块与板块交界的地带,地壳活跃频繁,但不可能直接引发以下现象是 ()
 - A. 地壳褶皱抬升,形成山脉
 - B. 泥石流
 - C. 火山
 - D. 地震

二、读图题

1. 读图分析



- (1) 图中两个大洲分别是_____、_____。
 - (2) 图中大陆漂移的证据是:_____。
 - (3) 由此可以推断,大西洋曾经_____。
 - (4) 这一论点是由_____首先提出的。
2. 煤炭是由森林转化而来的,而森林是在比较温暖湿润的陆地上生长的。但科学家们在南极大陆

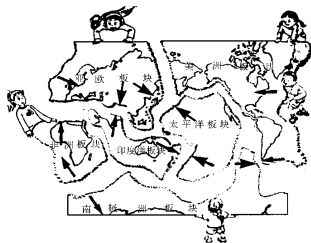


的地层中发现了大量的煤炭资源,你能解释这个“怪”现象吗?你还能列举其他相关的例子吗?

探险营地

三、综合题

读“板块构造示意图”,完成下列题目要求:



板块构造示意图

1. 全球共有_____大板块,其中_____板块几乎全部是海洋;
2. 从图中看,板块交界处有_____和_____两种活动方式;
3. 海底地形中的海沟在_____板块周围分布较多,其形成的主要原因是板块间_____活动形式。
4. 喜马拉雅山脉在_____板块上。请用简要语言描述其形成原因:_____
5. 如果要你设计安排如图拼图游戏活动,你安排_____个小朋友用力拉,安排_____个小朋友用力推。

第一、二章自主性评价

姓名：

时间 40 分钟

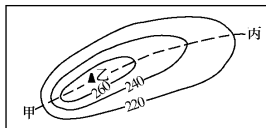
满分 100 分

评分：

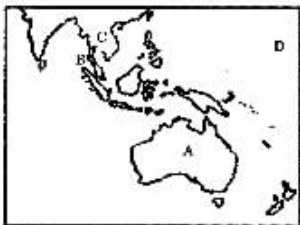
一、选择题(36分)

- 在 1:30000000 的地图上,量得甲乙两地距离为 4 厘米,则甲乙两地的实地距离是 ()
A. 12 千米 B. 120 千米
C. 1200 千米 D. 750 千米
- 下列各大洲中,地跨南北半球的大洲有 ()
A. 欧洲、大洋洲
B. 大洋洲、北美洲
C. 非洲、南美洲
D. 欧洲、南美洲
- 按照全球板块的划分,澳大利亚大陆位于 ()
A. 太平洋板块 B. 印度洋板块
C. 南极洲板块 D. 美洲板块
- 一架飞机从北京起飞,一直朝正南方向飞行,最终可以 ()
A. 到达北极点 B. 到达北京
C. 绕地球一周 D. 到达南极点
- 严格地说,地球的形状是一个 ()
A. 正球体
B. 椭球体
C. 两极稍鼓、赤道略扁的球体
D. 两极稍扁、赤道略鼓的球体
- 地球上东、西两个半球的分界线是 ()
A. 0°经线,180°经线
B. 20°E,160°W
C. 20°W,160°W
D. 20°W,160°E
- 下列四地中,既在西半球又在南半球,而且属于低纬度地区的是 ()
A. 170°E,20°S
B. 10°E,40°N
C. 10°W,10°S
D. 120°W,0°
- 下列有关经线与纬线的叙述,正确的是 ()
A. 所有经线的长度相等,并指示东西方向
B. 所有纬线圈长度不相等,都指示南北方向
C. 每一条经线指示南北方向,并都是一个圆
D. 每一条纬线都是圆,并指示东西方向

- 海岸线最为曲折的大洲是 ()
A. 欧洲 B. 大洋洲
C. 亚洲 D. 非洲
- 七大洲中,地形以平原为主的是 ()
A. 欧洲 B. 大洋洲
C. 亚洲 D. 非洲
- “坐地日行八万里,巡天遥看一千河”适用于 ()
A. 160°W,1°S B. 110°W,20°N
C. 20°E,25°N D. 70°W,40°S
- 赤道上每间隔一个经度大约为 ()
A. 400 千米 B. 111 千米
C. 360 千米 D. 270 千米
- 如图,从甲地经乙地到达丙地,沿途的情况是 ()



- 先上陡坡,后下缓坡
 - 先下缓坡,后上陡坡
 - 先上缓坡,后下缓坡
 - 先下陡坡,后上缓坡
- 在下面示意图中地球事物的名称表达,不正确的是 ()



- 岛屿
- 海峡
- 半岛
- 大洋

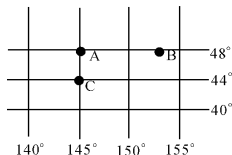


15. 关于经纬线的说法正确的是 ()
- 沿任何一条经线北行, 均能回到原地。
 - 通过地球表面任何一点都只有一条经线。
 - 全球所有的经线都不等长。
 - 除赤道和极点以外, 相同纬度的纬线都有两条。

16. 自西向东转动地球仪, 其转动方向正确的是 ()

- 从北极上空看, 地球仪按顺时针方向旋转。
- 从南极上空看, 地球仪按逆时针方向旋转。
- 从北极上空看, 地球仪按顺时针方向旋转。

17. 读下图, 下列根据经纬度判断方向有原则错误的是 ()



- 向右数值增大为东经, 即为东方。
- 向左数值减小为西经, 即为西方。
- 向上数值增大为北纬, 即为北方。
- 向下数值增大为南纬, 即为南方。

18. 有关板块的叙述, 正确的是 ()

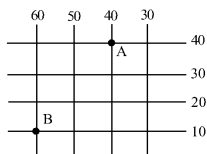
- 六大板块中, 印度洋板块和太平洋板块属大洋板块。
- 海沟为板块张裂的结果。
- 两大陆板块碰撞处常形成巨大的褶皱山脉。
- 海岭是两板块碰撞的结果, 属生长边界。

二、填空题(10分)

- 地球上跨经度最广的大洲是_____, 面积最小的大洋是_____。
- 在等高线地形图上, 等高线密集的地方, 表示坡度_____; 等高线稀疏的地方, 表示坡度_____。
- 被亚洲、欧洲、北美洲包围的大洋是_____, 被太平洋、印度洋、大西洋包围的大洲是_____。
- 五种基本地形中, 平原和高原的共同特点是_____, 山地和丘陵的共同特点是_____。
- 四大洋中最深的海洋是_____, 最浅的海洋是_____。

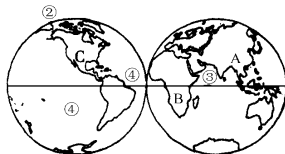
三、读图题(39分)

24. 读右图回答问题。(6分)



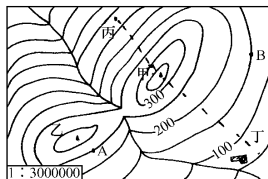
- 从东西半球看, A点位于____、____半球。
- B点的经纬度经度_____, 纬度_____。
- 在A、B两点中, 位于低纬度地区的是_____点。
- A点在B点的_____方。

25. 读右图, 回答问题。(10分)



- 写出图中字母代表的大洲名称
A _____ B _____
C _____
- 写出图中数字代码的大洋名称
① _____ ② _____
③ _____ ④ _____
- 赤道所穿过的大洲有 ()
A. 非洲 B. 亚洲 C. 南美洲
D. 大洋洲 E. 欧洲
- 如果两图为东、西两个半球的话, 左图为_____半球, 右图为_____半球。

26. 读右图, 回答。(7分)



- 山顶甲位于山顶乙的_____方。
- AB的相对高度为_____米。