

课标王——A+优化作业本配套新课标

八年级地理

（上册·配湘教版）

严查盗版,奖励举报 (010)68001964

举报(订货)热线: (010)68001963

课标王——A⁺优化作业本配套新课标·八年级地理(上册·配湘教版)

责任编辑 关铁宁

封面设计 孙明晓

责任校对 陈洁美

版式设计 洪 铭

出版者 吉林人民出版社(中国·长春人民大街4646号 邮编:130021)

网 址 www.jlpph.com

发 行 者 各地新华书店

制 版 北京佳佳图文制作中心

印 刷 者 河北衡水蓝天印刷有限责任公司

开 本 787×1092 1/16

印 张 3.375

字 数 58千字

版 次 2004年7月第2版第1次印刷

印 数 20000

标准书号 ISBN 7-206-03277-X/G·884

定 价 3.80元

如图书有印装质量问题,请与承印工厂调换。



目 录

第一章 中国的疆域和人口	1
第一节 中国的疆域	1
第二节 中国的行政区划	2
第三节 中国的人口	4
第四节 中国的民族	6
第一章自主性评价	8
第二章 中国的自然环境	10
第一节 中国的地形	10
第二节 中国的气候	12
第三节 中国的河流	14
第二章自主性评价	17
期中检测题	19
第三章 中国的自然资源	22
第一节 自然资源的概况	22
第二节 中国的土地资源	24
第三节 中国的水资源	26
第四节 中国的海洋资源	27
第三章自主性评价	30
第四章 中国的区域差异	32
第一节 秦岭—淮河线	32
第二节 北方地区和南方地区	33
第三节 青藏地区和西北地区	35
第四章自主性评价	37
期末检测题	39
参考答案及点拨(后附单册)	



第一章 中国的疆域和人口

第一节 中国的疆域

课时作业

课堂快餐

一、选择题

- 对我国疆域的叙述正确的是 ()
 - 我国位于北半球、西半球
 - 我国位于亚欧大陆的东部,东临大西洋
 - 我国既有辽阔的陆地国土,又有广袤的海域
 - 钓鱼岛、赤尾屿及南海诸岛一直是祖国领土不可分割的一部分
- 我国领土南北跨度大,绝大部分位于五带中的 ()
 - 热带
 - 北温带
 - 南温带
 - 南寒带
- “北京时间”是指 ()
 - 北京所在地的地方时
 - 北京所在地的东八区的区时
 - 北京所在地的东九区的区时
 - 北京地区单独使用的时间
- 我国的领海,是指从海岸基线向海上延伸 ()
 - 14 海里
 - 20 海里
 - 24 海里
 - 12 海里
- 下列一组国家均为我国陆上邻国的是 ()
 - 越南、蒙古、乌兹别克斯坦
 - 印度、缅甸、阿富汗
 - 泰国、俄罗斯、朝鲜
 - 韩国、老挝、哈萨克斯坦
- 我国的内海有 ()
 - 渤海和琼州海峡
 - 渤海和黄海
 - 东海和台湾海峡
 - 南海和琼州海峡
- 我国东部濒临的海洋,从北到南依次是 ()
 - 黄海、东海、渤海、南海
 - 渤海、东海、黄海、南海

C. 南海、东海、黄海、渤海

D. 渤海、黄海、东海、南海

8. 对我国领土四端的叙述,正确的是 ()

A. 最北端在黑龙江江主航道中心线上

B. 最南端在曾母暗沙

C. 最东端在黑龙江与乌苏里江主航道汇合处

D. 最西端在青藏高原

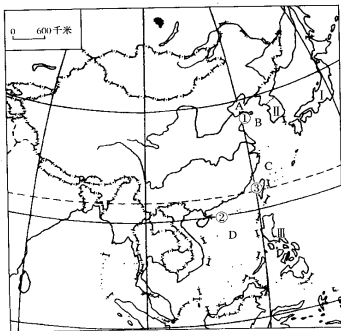
二、填空题

- 我们的祖国位于_____洲的_____部, _____洋的西岸。从东、西半球看,我国位于_____半球;从南北半球看,我国位于_____半球。
- 我国陆地面积达_____平方千米,在世界各国中仅次于_____、_____,位居第三位。
- 我国领土所跨的经度,从西到东有_____度,分属于_____个时区。
- 我国的大陆海岸线长_____千米,沿海分布有众多的岛屿,最大的岛屿是_____岛,其次为_____岛,另有_____群岛和南沙诸岛。

探险营地

三、读图填充题

读下图填充。





(1)在图中正确位置填写:太平洋、印度洋、亚洲、日本海

(2)填写我国所濒临的海洋:

A _____ B _____

C _____ D _____

(3)填写我国的主要半岛、海峡和岛屿:

① _____ ② _____ ③ _____

(4)填写与我国隔海相望的国家:

I _____ II _____ III _____

四、分析说明题

用纬度位置和海陆位置分别说明我国地理位置对发展农业生产、对外交往合作、发展海洋事业等方面的重要性。

第二节 中国的行政区划

课时作业

课堂快餐

一、选择题

- 有关我国行政区的叙述正确的是 ()
 - 我国的行政区域基本分为省、县、乡三级
 - 我国省级行政单位中有 4 个自治区、5 个直辖市
 - 我国纬度位置最北、最南的省级行政区分别为黑龙江省、广东省
 - 自治区、自治州、自治县是我国少数民族的自治地方
- 北回归线穿过的省区,自西向东依次是 ()
 - 西藏、云南、贵州、广东
 - 台湾、福建、广东、广西
 - 云南、广西、广东、台湾
 - 云南、福建、广东、台湾
- 以下与湖南省相邻的省是 ()
 - 河南省
 - 湖北省
 - 四川省
 - 福建省
- 跨经度最广的省级行政单位是 ()
 - 内蒙古自治区

面的重要性。

B. 广西壮族自治区

C. 四川省

D. 黑龙江省

5. 湖北、湖南两省中的“湖”是指 ()

A. 洞庭湖

B. 鄱阳湖

C. 洪泽湖

D. 太湖

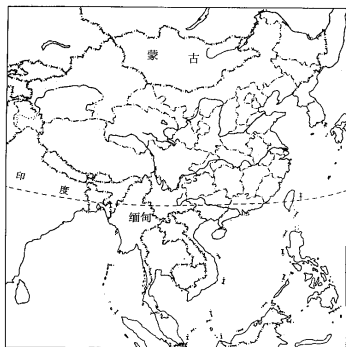
二、填空题

- 我国现行的行政区划基本上划分为_____、_____、_____三级。
- 我国共有_____个省级行政单位,包括_____个省、_____个自治区、_____个直辖市和_____两个特别行政区。
- _____是我国不可分割的神圣领土,_____是我们伟大祖国的首都。
- 我国各省级行政区中,面积最大的是_____,位置最北的是_____。
- 我国的直辖市有_____市、_____市、_____市和_____市。

探险营地

三、读图填空题

- 将下列省级行政单位的序号填在空白行政区图中。



(1)省:A.湖南省、B.河南省、C.甘肃省、D.江苏省、E.河北省、F.辽宁省

(2)自治区:G.内蒙古自治区、H.新疆维吾尔自治区、I.西藏自治区、J.宁夏回族自治区、K.广西壮族自治区

(3)直辖市:L.北京市、M.天津市、N.上海市、O.重庆市

2.在中国省级行政单位简称“三字经”中。

(1)京津沪是指_____、_____、_____。

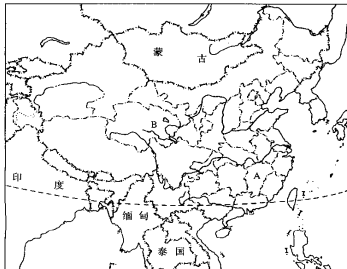
(2)冀鲁豫是指_____、_____、_____。

(3)川滇黔是指_____、_____、_____。

(4)湘鄂赣是指_____、_____、_____。

四、读图分析题

读下图回答。



1.北回归线自东向西穿越过的省级行政单位有:

_____、_____、_____。

2.长江干流依次流经的省级行政单位是:_____

_____。黄河发源于_____省,在_____省注入_____海,长江和黄河共同流经的省级行政区是_____。

五、连线题

将下列省级行政单位与其轮廓特征用线相连。

- | | |
|----------|---------|
| A. 天鹅 | a. 山西省 |
| B. 孔雀 | b. 湖北省 |
| C. 象鼻 | c. 广东省 |
| D. 大盖帽 | d. 云南省 |
| E. 平行四边形 | e. 黑龙江省 |
| F. 女孩头 | f. 山东省 |
| G. 海龟 | g. 湖南省 |

六、猜谜语(省级行政单位或行政中心)

1. 银河渡口_____

2. 双喜临门_____

3. 两个胖子在一起_____

4. 船出长江口_____

第三节 中国的人口

课时作业

课堂快餐

一、选择题

- 世界上人口最多的国家是 ()
A. 印度 B. 俄罗斯
C. 美国 D. 中国
- 在我国各省级行政区中,人口最多的是 ()
A. 河北省 B. 湖南省
C. 河南省 D. 江西省
- 在我国各省级行政区中,人口最少的是 ()
A. 北京市
B. 西藏自治区
C. 海南省
D. 澳门特别行政区
- 在我国各省级行政区中,人口超过 9000 万的有 ()
A. 江苏省、山东省
B. 山东省、河南省
C. 广东省、四川省
D. 河北省、河南省
- 我国人口分布最为稠密的地区是 ()
A. 东南部 B. 西南部
C. 东北部 D. 西北部
- 下列关于我国人口的地理分布特点叙述错误的是 ()
A. 东部地区人口多,西部地区人口少
B. 沿海、沿河、沿湖地区人口多,干旱荒漠地区人口少
C. 平原、盆地人口多,山地、高原人口少
D. 城镇密集、工业发达的地区人口多,偏僻的农业、牧业地区人口少
- 建国后到 70 年代,我国人口迅猛增长的主要原

因是 ()

- 国家实行大规模的经济建设需要大量劳动力,鼓励人口增长
- 多子多福的观念和农村经济的迅速发展
- 工业发展快,城市化迅速,拉动了人口增长
- 政治上独立,经济和卫生事业迅速发展,死亡率下降

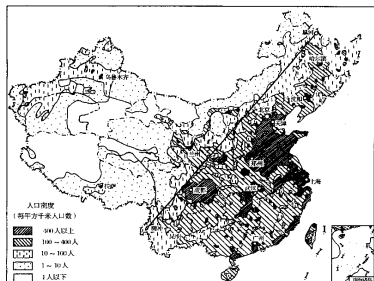
二、填空题

- 根据 2000 年全国第五次人口普查结果,我国总人口为 _____ 亿,约占世界人口总数的 _____。
- 中国人口的地理分布特点是经济和交通发达的地区人口 _____,经济落后、交通闭塞的地区人口 _____。汉族地区人口 _____,大部分少数民族地区人口 _____。
- 2000 年我国城镇人口约为 _____ 亿,占我国总人口的 _____。
- 自 20 世纪 70 年代初期我国大力推行 _____ 政策以来,我国大约少生了近 _____ 亿人,人口过快增长的势头得到有效遏制。

探险营地

三、读图分析题

- 读下图答题。





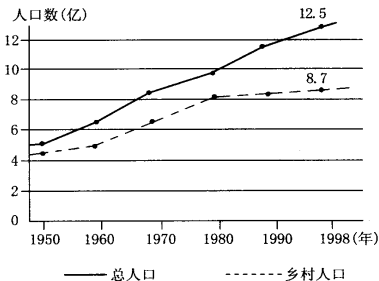
(1)由图上可以看出,从_____省的_____到_____省的_____划一条直线,此线东南人口_____,此线西北人口_____。

(2)从图上可以看出,上海的人口密度是_____人/平方千米以上,成都的人口密度是_____人/平方千米以上,拉萨的人口密度是_____人/平方千米。

2. 阅读下面材料,分析回答问题:

材料一 尽管从1973年中国实行计划生育以来已累计少出生人口3亿以上,但按照目前的人口基数和人口出生比率,预计到2010年将突破14亿,直到2050年达到16亿时我国人口才有可能实现零增长。如此巨大的人口数量以及今后较长一个时期内的人口增长趋势,无疑对我国的环境、资源和经济发展构成严重的威胁和压力。

材料二 新中国人口增长示意图



(1)目前,我国人口的突出特点是_____。

(2)到1998年,我国城市人口占总人口的比重约为_____,与世界经济发达国家相比,这个比重是较_____(低、高)的。

(3)我国耕地面积居世界第四位,但人均耕地面积只有世界平均水平的1/3,其原因是_____。

(4)为了促使人口的增长同_____的发展和_____、_____条件相适应,我国政府把_____作为一项长期的基本国策。

四、连线题

1. 将下列少数民族乐器与相应的少数民族用直线连接起来。

长鼓	藏族
马头琴	傣族
冬不拉	苗族、侗族
两面鼓	壮族
合欢箫	蒙古族
神鼓	哈萨克族
芦笙	朝鲜族

2. 将下列少数民族传统节日与相应的少数民族用直线连接起来。

那达慕大会	傣族
赛龙舟	蒙古族
泼水节	汉族

3. 将下列少数民族的照片与其民族名称用线相连。



土家族



维吾尔族



藏族



朝鲜族



蒙古族



汉族

第一章自主性评价

姓名： _____ 时间：45 分钟 _____ 满分：100 分 _____ 评分： _____

一、选择题(每题 2 分,共 30 分)

- 从东西半球和南北半球看,我国位于 ()
 - 东半球、北半球
 - 西半球、北半球
 - 西半球、南半球
 - 东半球、南半球
- 我国的内海有 ()
 - 渤海和琼州海峡
 - 渤海和黄海
 - 东海和台湾海峡
 - 南海和琼州海峡
- 我国沿海诸省自北向南依次为 ()
 - 辽宁、山东、江苏、浙江
 - 浙江、福建、山东、台湾
 - 辽宁、山西、福建、台湾
 - 河北、江苏、上海、广东
- 跨经度最广的省级行政单位是 ()
 - 内蒙古自治区
 - 广西壮族自治区
 - 四川省
 - 黑龙江省
- 在我国各省级行政区中,人口超过 9000 万的有 ()
 - 江苏省、山东省
 - 山东省、河南省
 - 广东省、四川省
 - 河北省、河南省
- 我国人口分布最为稠密的地区是 ()
 - 东南部
 - 西南部
 - 东北部
 - 西北部
- 在各民族中,人口最多的是 ()
 - 汉族
 - 壮族
 - 傣族
 - 回族
- 回族群众大多信仰 ()
 - 基督教
 - 佛教
 - 伊斯兰教
 - 喇嘛教
- 关于我国濒临海洋的叙述不正确的是 ()
 - 台湾东临太平洋、西临东海
 - 我国的领海是指从海岸基线向海上延伸到 12 海里的水域
 - 渤海和位于雷州半岛与海南岛之间的琼州海峡是我国的内海
 - 我国大陆海岸线长达 2 万多千米
- 下列国家中都是我国海上邻国的是 ()
 - 日本、朝鲜、韩国
 - 越南、菲律宾、马来西亚
 - 印度尼西亚、文莱、菲律宾
 - 日本、越南、文莱
- 我国人口地理的重要分界线是 ()
 - 秦岭—淮河一线
 - 大兴安岭—太行山一线
 - 黑河—腾冲一线
 - 横断山—祁连山一线
- 目前我国人口增长的状况是 ()
 - 高出生率、高死亡率、低自然增长率
 - 高出生率、低死亡率、高自然增长率
 - 低出生率、高死亡率、低自然增长率
 - 低出生率、低死亡率、低自然增长率
- 我国面积最广的省级行政区是 ()
 - 海南省
 - 西藏自治区
 - 新疆维吾尔自治区
 - 内蒙古自治区
- 北回归线穿过的省区自东向西依次为 ()
 - 台湾省、广东省、广西壮族自治区、云南省
 - 云南省、广西壮族自治区、海南省、台湾省
 - 福建省、广东省、云南省、贵州省
 - 云南省、广西壮族自治区、广东省、台湾省
- 我国全部属于热带的省级行政区是 ()
 - 台湾省
 - 广东省

C. 云南省

D. 海南省

二、填空题(每空2分,共22分)

- 我国领土的最北端在 _____, 最南端在 _____, 最东端在 _____, 最西端在 _____。
- 我国陆上国界漫长, 达 _____ 千米, 有 _____ 个陆地相邻的国家, 其中面积最大的是 _____。
- 你的户口所在地是 _____ 省(自治区、直辖市)、 _____ 县(市、区)、 _____ 乡(镇)。

三、连线题

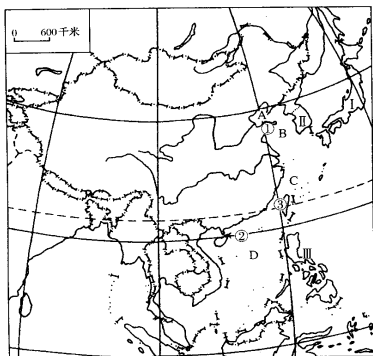
读下列四省级行政区图, 连线。(8分)



- | | | |
|---|--------|----------------|
| ① | A. 广东 | a. 分布的少数民族种数最多 |
| ② | B. 湖北 | b. 纬度位置最北 |
| ③ | C. 黑龙江 | c. 长江干流横贯其中 |
| ④ | D. 云南 | d. 濒临南海 |

四、读图分析题

1. 读下图填空。(28分)



(1) 在图中正确位置填写: 太平洋、印度洋、亚洲、日本海

(2) 填写我国所濒临的海洋:

- A _____ B _____
C _____ D _____

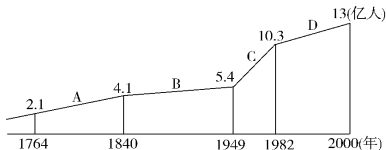
(3) 填写我国的主要半岛、海峡和岛屿:

- ① _____ ② _____
③ _____

(4) 填写与我国隔海相望的国家:

- I _____ II _____
III _____

2. 读中国人口增长图, 回答:(12分)



(1) A、B 阶段人口增长十分缓慢的原因是 ()

- ① 国家贫穷落后, 社会动荡
- ② 社会医疗保障条件差
- ③ 出生率高, 死亡率也高
- ④ 隐瞒人口的现象普遍

A. ①②③ B. ②③④

C. ①③④ D. ①②③④

(2) C 阶段人口迅猛增长的主要原因是 ()

- A. 国家实行鼓励人口增长的政策
- B. 多子多福的观念仍然支配着人们的生育观
- C. 经济飞速发展, 劳动力需求增多
- D. 经济和卫生事业发展, 死亡率降低

(3) 我国当前实行的人口政策是 ()

- A. 计划生育, 防止男女性别比例失调
- B. 计划生育, 调整全国人口分布不均状况
- C. 控制人口增长, 提高人口素质
- D. 实行计划生育, 控制人口的数量, 提高人口的素质



第二章 中国的自然环境

第一节 中国的地形

课时作业

课堂快餐

一、选择题

- 我国地势的特点是 ()
A. 东高西低 B. 南高北低
C. 北高南低 D. 西高东低
- 构成我国地形分布骨架的是 ()
A. 河流 B. 山脉
C. 高原 D. 盆地
- 下列地形区中,主要位于我国地势第二级阶梯的是 ()
A. 长江中下游平原 D. 江南丘陵
C. 柴达木盆地 D. 准噶尔盆地
- 我国素有“世界屋脊”之称的是 ()
A. 青藏高原 B. 喜马拉雅山
C. 珠穆朗玛峰 D. 乔戈里峰
- 我国拥有最大沙漠的盆地是 ()
A. 柴达木盆地 B. 塔里木盆地
C. 准噶尔盆地 D. 四川盆地
- 位于我国地势第二、第三级阶梯分界线上的山脉是 ()
A. 昆仑山 D. 长白山
C. 横断山脉 D. 巫山
- 下列地区与所在省区组合正确的一组是 ()
A. 黄山—山东 B. 华山—山西
C. 衡山—湖南 D. 泰山—陕西
- 能够“开着汽车追黄羊”的高原是 ()
A. 青藏高原 B. 内蒙古高原
C. 黄土高原 D. 云贵高原
- 下列说法不正确的是 ()
A. 平原海拔多在 200 米以下
B. 丘陵是指海拔 200 米以上的高地
C. 山地是指海拔 500 米以上起伏很大的高地

- D. 高原是指海拔 500 米以上顶部平缓的高地
- 世界第一高峰珠穆朗玛峰位于我国和下列哪个国家的边境 ()
A. 越南 B. 哈萨克斯坦
C. 尼泊尔 D. 印度

二、连线题

- 把下列高原的与它们各自的地形特点,用直线相连。

青藏高原	地势平坦
内蒙古高原	地面崎岖
黄土高原	千沟万壑
云贵高原	雪山连绵

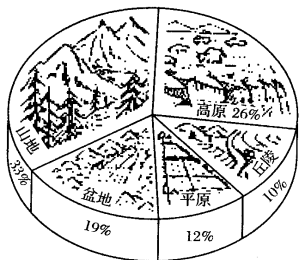
- 把下列盆地的名称与它们各自的特征,用直线相连。

塔里木盆地	又称“紫色盆地”,物产丰富
准噶尔盆地	矿产资源丰富,号称“聚宝盆”
四川盆地	面积广大,分布有我国最大的沙漠
柴达木盆地	纬度位置偏高,能受到西风湿润气流的影响

探险营地

三、选择题

- 读下图我国各类地形面积比例示意图,下列关于我国地形特征的说法正确的是 ()
A. 地形多种多样,山地面积广大
B. 地形多种多样,高原面积广大
C. 地形多种多样,平原面积广大
D. 地形多种多样,山区面积广大



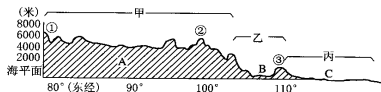
- 昆仑山的走向为 ()
 - 东西走向
 - 南北走向
 - 弧形山脉
 - 东南—西北走向
- 海拔在 1000 米左右,地面坦荡,一望无际的高原是 ()
 - 青藏高原
 - 黄土高原
 - 云贵高原
 - 内蒙古高原
- 云贵高原为我国的地势的 ()
 - 第一级阶梯
 - 第二级阶梯
 - 第三级阶梯
 - 第四级阶梯
- 塔里木盆地和准噶尔盆地的分界是 ()
 - 昆仑山脉
 - 天山山脉
 - 阴山山脉
 - 大兴安岭
- 东岳泰山位于我国哪个省 ()
 - 福建
 - 安徽
 - 四川
 - 山东
- 下列关于我国地形对环境影响的正确叙述是 ()
 - 西高东低的地势,使海洋气流能深入大陆,季风区广大
 - 地势阶梯分界线附近的河流落差大,水能丰富
 - 地形类型多样造成平原面积小,耕地少
 - 山区面积广,有利于多种作物生长
- “高亢低瞰山成浪,个个峰蒙白玉中。大地苍茫如锦绣,宝藏开采骑新民。”这在描写 ()
 - 蒙古族为主的内蒙古高原
 - 彝族为主的云贵高原
 - 回族为主的黄土高原
 - 藏族为主的青藏高原
- “人家半凿山腰住,车马多从头顶过”是对我国哪

一地区的描写?

- 内蒙古高原
- 黄土高原
- 云贵高原
- 青藏高原

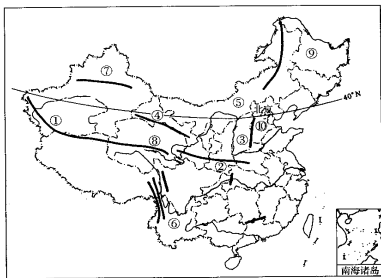
二、综合题

1. 读中国沿北纬 32° 地形剖面图,填写下列内容:



- 甲位于地势第 _____ 阶梯,①为 _____ 山脉,②为 _____ 山脉,A 为 _____ 高原。
- 乙位于地势第 _____ 阶梯,③为 _____ 山脉,B 为 _____ 盆地。
- 丙位于地势第 _____ 阶梯,C 为 _____ 平原。

2. 读中国山脉分布示意图,完成下列要求。



- 写出下列数码代表的山脉名称: ① _____, ② _____, 它们的走向为 _____;
- ③ 与 ■ 以 _____ 山脉为界;
- ⑦ 是 _____ 盆地,其南北两侧的山脉分别是 _____ 和 _____;
- ④ 为 _____ 省和 _____ 省的界山;
- 我国一、二级阶梯的界山的号码是 _____、_____ 和 _____;
- 纬度位置最低的盆地是 _____ (写出名称)。
- 三面环山,一面临海的平原是 _____ (写出名称)。

第二节 中国的气候

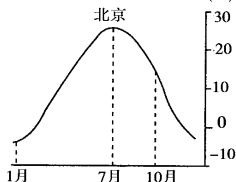
课时作业

课堂快餐

一、选择题

1. 读北京气温曲线图, 思考一年中最高和最低的月平均气温分别出现在 ()

气温年变化曲线图



- A. 7月、1月
B. 8月、1月
C. 7月、2月
D. 8月、2月
2. 我国冬季和夏季气温最低处分别是 ()
- A. 漠河镇、哈尔滨
B. 漠河镇、吐鲁番盆地
C. 青藏高原、漠河镇
D. 漠河镇、青藏高原
3. 下列各城市中, 气温年较差最大的是 ()
- A. 广州
B. 上海
C. 北京
D. 哈尔滨
4. 我国1月平均气温图中, 秦岭—淮河一线大约是 ()
- A. 0°C等温线
B. -4°C等温线
C. 4°C等温线
D. 8°C等温线
5. 我国年降水分布图中, 秦岭—淮河一线大约与下列哪条等降水量线一致 ()
- A. 800mm等降水量线
B. 400mm等降水量线
C. 200mm等降水量线
D. 50mm等降水量线
6. 我国降水总的分布趋势是 ()
- A. 从南向北逐渐减少
B. 从东向西逐渐减少
C. 从西向东逐渐减少

- D. 从东南向西北逐渐减少
7. 下列说法不正确的是 ()
- A. 青藏高原是独特的高原气候区
B. 东北平原位于温带季风气候区
C. 长江中下游平原位于热带季风气候区
D. 柴达木盆地位于温带大陆性气候区
8. 下列城市中不受季风影响的是 ()
- A. 武汉
B. 台北
C. 拉萨
D. 昆明
9. 下列地区中不属于热带的是 ()
- A. 西双版纳
B. 雷州半岛
C. 海南岛
D. 大兴安岭
10. 下列有关寒潮的说法不正确的是 ()
- A. 寒潮是下半年影响我国的主要灾害性天气
B. 寒潮出现时会产生急剧降温、霜冻、大风
C. 入侵南方的强寒潮, 常使长江以南地区的农作物遭受不同程度的冻害
D. 在干燥地区, 寒潮还会进一步引起“沙尘暴”天气
11. 古人说: “羌笛何须怨杨柳, 春风不度玉门关”是指这里 ()
- A. 不受夏季风影响
B. 夏季风来得迟
C. 年降水量稀少
D. 雨季来得迟
12. 造成我国1998年长江流域特大水灾的主要原因是 ()
- A. 冬季风势力过强, 降水过多
B. 冬季风势力过弱, 降水过少
C. 夏季风过强, 北方旱, 南方涝
D. 夏季风进退规律反常
13. 我国能够大量引进国外优良的动植物品种, 并能找到适合的生长地区, 是因为 ()
- A. 国土广大
B. 平原面积辽阔
C. 地形复杂多样
D. 气候复杂多样
14. 天气预报中说今天将有寒潮到来, 你将作的准备是 ()
- A. 多穿御寒的衣服
B. 带好防雨用具
C. 带好雨伞预防冰雹



- D. 减少御寒衣物
15. 我国东北地区的水稻种植历史悠久,主要得益于那里的气候 ()
 A. 终年降水丰沛
 B. 雨热同季
 C. 年温差过大
 D. 夏季时间短
16. 你知道“早穿皮袄午穿纱,围着火炉吃西瓜”反映的生活特征出现在 ()
 A. 湖北省
 B. 台湾省
 C. 新疆维吾尔自治区
 D. 西藏自治区
17. 我国冬季南北温差很大,这是由于 ()
 ①北方正午太阳高度角低
 ②南方白昼长,北方白昼短
 ③寒冷的冬季风对北方的影响大
 ④北方地势比南方高
 A. ①②
 B. ②③
 C. ①④
 D. ①②③
18. 关于夏季风移动特点与降水特征关系的叙述,正确的是 ()
 A. 夏季风势力强,向北推进慢,形成“南旱北涝”
 B. 夏季风势力强,向北推进快,形成“南涝北旱”
 C. 夏季风势力弱,向北推进慢,形成“南涝北旱”
 D. 夏季风势力弱,向北推进快,形成“南旱北涝”
19. 季风气候对我国的影晌是 ()
 A. 使全国各地风向冬季为西北风,夏季为东南风
 B. 使全国大部分地区降水集中于夏季
 C. 使全国夏季普遍高温
 D. 在冬季,加剧了北方寒冷,使南北温差增大
20. 下列诗句或民谣中,反映温带大陆性气候特点的有 ()
 A. 北风卷地白草折,胡天八月即飞雪
 B. 黄梅时节家家雨,青草池塘处处蛙
 C. 窗含西岭千秋雪,门泊东吴万里船
 D. 早穿皮袄午穿纱,围着火炉吃西瓜
21. 关于沙尘暴的叙述不正确的是 ()
 A. 沙尘暴多出现在我国北方和西北地区
 B. 沙尘暴多形成于气候干旱的春季

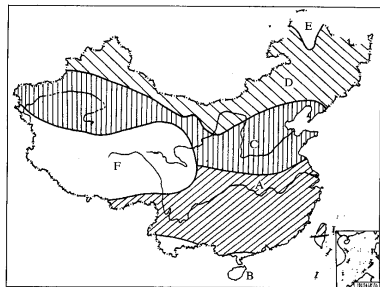
C. 植被稀少、沙质土壤是形成沙尘暴的地表条件

D. 北京、天津等地的沙尘暴源地是黄土高原

探险营地

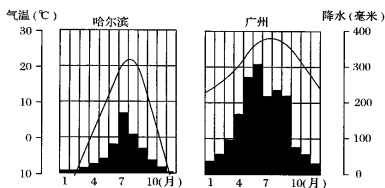
二、综合题

1. 读我国温度带图,完成下表。



温度带	分布范围	耕作制度	主要作物
寒温带	_____省和_____区的最北部	一年一熟	马铃薯
中温带	_____带以南,长城以北及新疆的_____盆地	一年一熟	春小麦、大豆
暖温带	_____带以南,_____一线以北的地区用新疆的_____盆地		冬小麦、棉花
亚热带	_____以南,_____以东的绝大部分地区	一年二至三熟	水稻、油菜籽
热带	_____省及_____省南部	一年三熟	甘蔗、水稻
青藏高原高寒地区	_____区_____省及四川省_____部	一年一熟	青稞、春小麦

2. 读下面哈尔滨、广州气温曲线和降水柱状图, 回答。



- (1) 填出图中哈尔滨和广州两地的气温表格:

地点	1月平均气温(°C)	7月平均气温(°C)	气温年较差(°C)
哈尔滨			
广州			

- (2) 哈尔滨与广州两地中, 降水量最多的是 _____, 其月降水量在 100 毫米以上的多雨月有 _____ 个月。降水量最少的是 _____ 地, 其月降水量在 100 毫米以上的多雨月有 _____ 个月。
- (3) 哈尔滨与广州两地中, 纬度位置较高的是 _____ 地, 作出判断的依据是 _____。

第三节 中国的河流

课时作业

课堂快餐

一、选择题

- 关于我国河流的叙述, 正确的是 ()
 - 我国大多数河流自西向东流入太平洋
 - 东部地区的河流冬季普遍有结冰现象
 - 西北广大地区的河流均为内流河
 - 外流区的河流, 越往北去汛期越长
- 关于我国外流河水文特征的叙述, 正确的是 ()
 - 长江和黄河的含沙量均大, 汛期均长
 - 珠江比黄河流程短, 但汛期却长
 - 海河的水含沙量大, 汛期长, 冬季结冰
 - 东北的辽河, 是我国结冰期最长的河流
- 下列河流中, 注入印度洋的有 ()
 - 黑龙江
 - 黄河
 - 珠江
 - 雅鲁藏布江
- 关于长江的叙述, 正确的有 ()
 - 长江流域全属于我国的季风区
 - 长江流域全属于我国的外流区域
 - 长江干流不流经我国的云贵高原
 - 长江西源东流, 最后注入黄海
- 下列湖泊, 位于内流区域的有 ()
 - 青海湖
 - 太湖
 - 洪泽湖
 - 洞庭湖
- “万里长江, 险在荆江”的主要原因是 ()
 - 支流多
 - 流域广
 - 无湖泊调节洪水
 - 河段特别弯曲
- 关于长江有关叙述错误的是 ()
 - 长江洪水对中下游平原地区危害最为严重
 - 荆江河段有长江的“地上河”之称
 - 长江源自唐古拉山, 干流流经 11 个省, 最终注入南海
 - 自古以来, 长江就是我国东西运输的大动脉
- 郑州以下, 黄河流域特别狭小又无支流的原因是 ()
 - 河流因引黄灌溉水量减少
 - 流经平原、气候干旱
 - 地面植被稀少, 蒸发旺盛
 - 河床比堤外地面高
- 关于黄河的说法, 正确的是 ()
 - 黄河是我国第二大河
 - 黄河流经我国的第一、二、三级阶梯
 - 黄河流经四川盆地和云贵高原
 - 黄河冬季无结冰期
- 黄河、长江都流经的省级行政区和地形区有 ()
 - 青海、西藏和青藏高原
 - 四川、甘肃和四川盆地
 - 青海、四川和青藏高原
 - 青海、甘肃和黄土高原
- 我国外流河和内流河的丰水期都在夏季的原因