

第一章知能闯关卷(一)	(1)	第四章知能闯关卷(二)	(49)
第一章知能闯关卷(二)	(5)	第四章考题荟萃卷	(53)
第一章考题荟萃卷	(9)	第五章知能闯关卷(一)	(57)
第二章知能闯关卷(一)	(13)	第五章知能闯关卷(二)	(61)
第二章知能闯关卷(二)	(17)	第五章考题荟萃卷	(65)
第二章考题荟萃卷	(21)	第六章知能闯关卷(一)	(69)
第三章知能闯关卷(一)	(25)	第六章知能闯关卷(二)	(73)
第三章知能闯关卷(二)	(29)	第六章考题荟萃卷	(77)
第三章考题荟萃卷	(33)	期末测试卷(一)	(81)
期中测试卷	(37)	期末测试卷(二)	(89)
第四章知能闯关卷(一)	(45)	参考答案	(97)

第一章知能闯关卷(一)

(时间:90分钟 满分:100分)

题号	一	二	总分
得分			

第 I 卷 (选择题 共 72 分)

一、选择题(每小题 4 分,共 72 分)

1. 一个地区人口的自然增长,是由_____决定的 ()

- A. 出生率 B. 死亡率 C. 出生率和死亡率 D. 迁移人口数

图 1 为人口出生率和死亡率统计图,甲、乙、丙、丁分别表示不同的国家。读图完成 2~3 题。

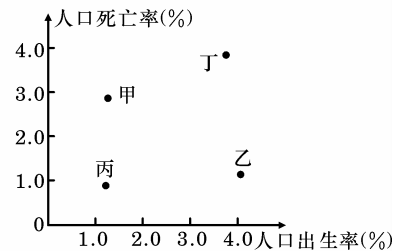


图 1

2. 人口增长模式属于传统型的国家是 ()

- A. 甲 B. 乙
C. 丙 D. 丁

3. 与我国现阶段人口增长特点相似的国家是 ()

- A. 甲 B. 乙
C. 丙 D. 丁

4. 下列关于农村与城市环境人口容量的比较,正确的是 ()

- A. 农村大于城市 B. 农村小于城市 C. 农村与城市一样 D. 无法判断

读图 2 甲、乙两类国家城市人口比重变化图,据此回答 5~6 题。

5. 表示发展中国家城市人口的图例是 ()

- A. ① B. ② C. ③ D. ④

6. 发达国家城市人口增长速度最快的时期是 ()

- A. 1920~1940 年 B. 1940~1960 年 C. 1960~1980 年 D. 1980~2000 年

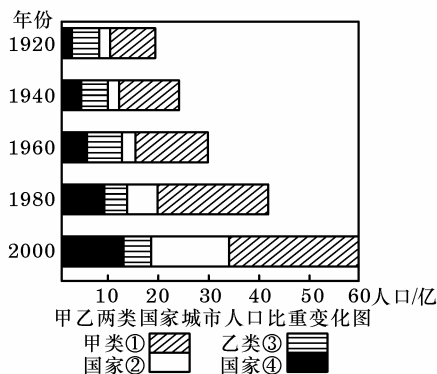


图 2

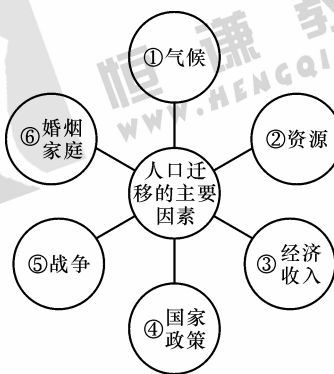


图 3

人口迁移受许多因素影响,有些来自迁出地,有些来自迁入地,还有些是中间障碍因素。图 3 为影响人口迁移

的主要因素示意图,完成 7~9 题。

7. 我国东南沿海地区吸引大量民工迁入的主要原因是 ()
 A. ① B. ② C. ③ D. ⑥
8. 近年来,伊拉克居民大量外迁的主要原因是 ()
 A. ① B. ② C. ④ D. ⑤
9. 导致美国老年人口从东北部向西部、南部迁移的主要原因是 ()
 A. ① B. ② C. ④ D. ⑥

深圳市位于珠江口北岸,广深铁路的终点,改革开放以来,城市经济发展很快,现已成为以工业为主、工贸结合,旅游、农、林、牧、渔并举的外向型综合港口城市。回答 10~11 题。

10. 当分析深圳市人口数量变化时,应重点分析其 ()
 A. 人口迁移 B. 人口出生率 C. 人口的自然增长率 D. 人口死亡率
11. 通过人口普查发现,深圳市人口死亡率低于全国城市的平均水平,其原因是 ()
 A. 营养好 B. 女性的比例高,寿命长
 C. 人口的自然增长 D. 人口年龄结构轻

读图 4,回答 12~13 题。

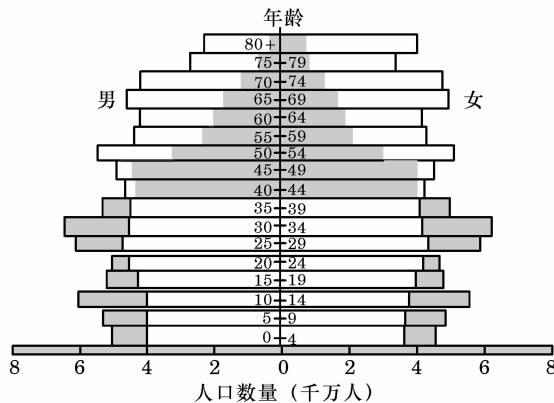


图 4 2000 年(灰色轮廓)和 2050 年(白色轮廓)中国人口的年龄性别结构

12. 2000 年与 2050 年中国人口的年龄性别结构的共同特点是 ()
 ①人口总量庞大 ②人口老龄化十分严重 ③少年人口男性多于女性 ④老年人口女性多于男性
 A. ①② B. ③④ C. ①②③ D. ①②③④
13. 据图判断,到 2050 年我国的人口状况是 ()
 A. 60 岁以上老年人口数量将达到约 4 亿 B. 将面临青壮年劳动力就业困难
 C. 出生率降至零,导致人口负增长 D. 青壮年劳动力社会负担减轻
14. 读下表判断,下列有关甲、乙、丙、丁四地人口增长的说法正确的是 ()

我国 2002 年全国及部分省市人口自然变动情况表

地区	总人数(万人)	出生率(‰)	死亡率(‰)
全国	128 453	12.86	6.41
甲	1 625	5.41	5.95
乙	4 647	9.98	6.19
丙	4 333	17.90	7.30
丁	4 222	14.74	6.02

- A. 丙地人口自然增长率明显高于全国平均值
- B. 甲地人口再生产状况与巴西相近
- C. 乙地人口增长模式为现代型
- D. 丁地人口老龄化现象明显

15. 图 5 是我国第五次人口普查中四个省份的有关人口数据统计分析图。读图判断①、②、③、④所代表的省份依次是 ()

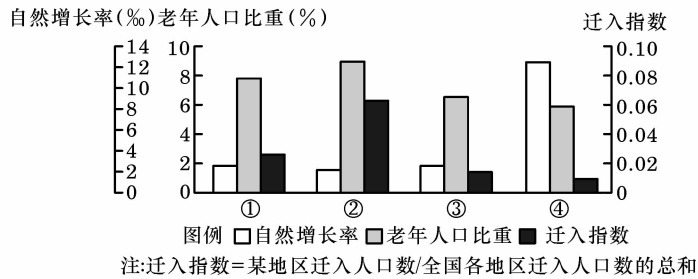


图 5

- A. 辽宁、江苏、湖北、贵州
- B. 贵州、湖北、江苏、辽宁
- C. 江苏、辽宁、贵州、湖北
- D. 湖北、江苏、辽宁、贵州

16. 图 6 为某国人口自然增长率随时间变化示意图, 下列说法正确的是 ()

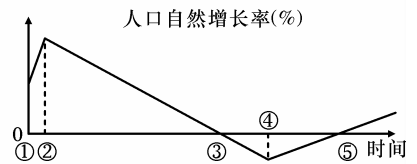


图 6

- A. ②时是经济水平最高的时期
- B. ③到⑤期间, 人口的数量不断减少
- C. ④时人口变化幅度最小, 人口总量稳定
- D. ①到⑤期间, ④时人口问题最不突出

17. 下列叙述正确的是 ()

- A. 总人口数量是制约环境人口容量的首要因素
- B. 无论在什么条件下, 环境人口容量都不可能扩大
- C. 在一定条件下, 环境人口容量是有可能扩大的
- D. 我国人口合理容量应控制在 16 亿人左右

18. 图 7 为 1978~2004 年我国人口总量及人口自然增长率示意图。下列相关叙述正确的是 ()

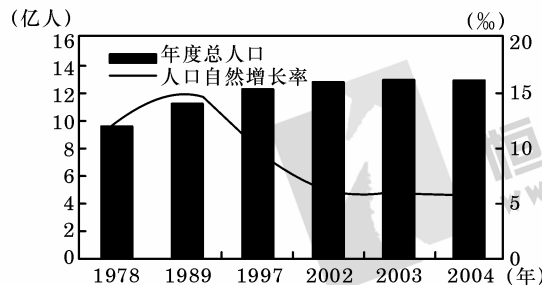


图 7

- ①我国人口自然增长率与人口总量同期达到最高峰
 - ②我国人口自然增长率最高的年份正值生育率的高峰
 - ③1978~2004 年, 我国人口增长以机械增长为主
 - ④1978~2004 年, 我国人口增长以自然增长为主
- A. ①② B. ②③ C. ③④ D. ②④

第 II 卷（综合题 共 28 分）

二、综合题(共 28 分)

19. 根据材料回答问题。(14 分)

材料一 我国部分省区老年人口比重及人口承载状况(实际人口密度与理论承载密度之比)

省(区)	沪	苏	津	粤	辽	鄂	豫	贵	甘	内蒙	青
老年人口比重	12.8	8.5	8	7.5	6.8	6.5	6.9	5.1	5	5	3
人口承载状况	0.2-0.8	0.3-1	0.5-1	0.2-0.7	0.7-1.3	0.9-2	>2	>2	>2	>2	>2

(1) 上述哪些省区已进入老龄化社会,并分析这些地区老龄化产生的原因。

(2) 从表中看出哪两个省区的人口负担最轻,试分析其主要原因。

材料二 我国东、中、西部第四次和第五次人口普查有关人口密度的统计图(图 8)

(3) 据图 8 分析我国人口分布的特点,十年间其发展的趋向是什么,并分析其原因。

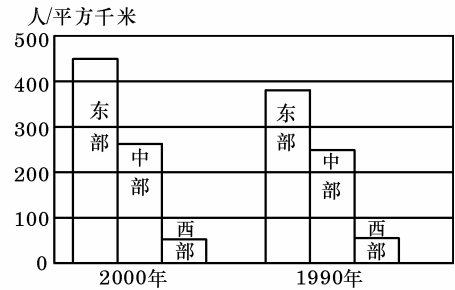


图 8

20. 图 9 为 2006 年上海市人口金字塔图,图 10 为 1955~2000 年上海

外来流动人口规模变化图(资料来自上海人口普查报告 2007 年 5 月 16 日发布),读图回答问题。(14 分)

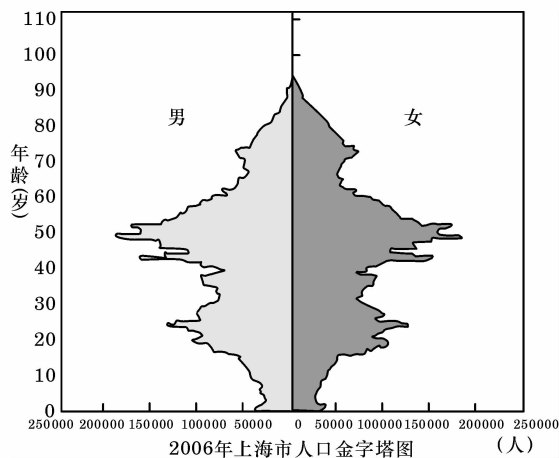


图 9

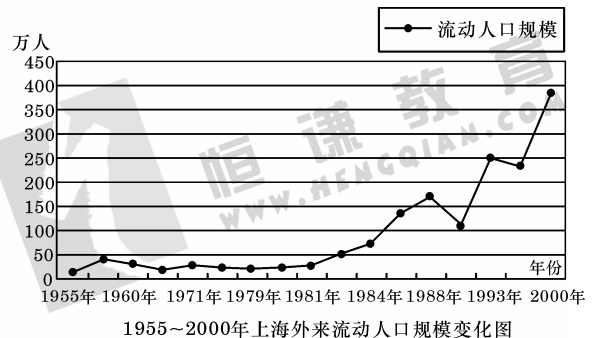


图 10

(1) 上海人口年龄构成的特点及面临的问题。

(2) 图 10 显示流入上海人口数量显著增加。请简要分析其原因及给上海市带来的问题。

第一章知能闯关卷(二)

(时间:90分钟 满分:100分)

题号	一	二	总分
得分			

第 I 卷 (选择题 共 72 分)

一、选择题(每小题 4 分,共 72 分)

1. “传统型”人口增长模式的特点是 ()
 - A. 高出生率,高死亡率,低自然增长率
 - B. 高出生率,低死亡率,高自然增长率
 - C. 低出生率,低死亡率,低自然增长率
 - D. 极高的死亡率和出生率,极低的自然增长率
 2. 影响人口迁移主要的、经常起作用的因素是 ()
 - A. 经济因素
 - B. 气候因素
 - C. 战争因素
 - D. 交通和通讯因素
 3. 制约环境人口容量的主要因素是 ()
 - A. 科技发展水平
 - B. 人口的文化水平
 - C. 人口的消费水平
 - D. 资源
 4. 美国有很多老年人在退休后向南方“阳光地带”迁移,主要原因是 ()
 - A. 美国政府政策措施影响的结果
 - B. 南方经济比北方发达,生活水平高
 - C. 南方地势低平,交通便利
 - D. 南方地区阳光充足、环境污染少,气候条件好
- 读全球女性生育率图(图 1),回答 5~6 题。

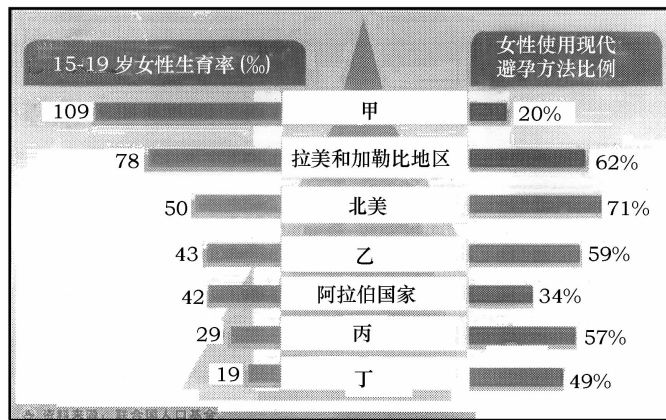


图 1

5. 图中甲最可能代表的地区 ()
 - A. 亚洲
 - B. 非洲
 - C. 大洋洲
 - D. 欧洲
 6. 图中丁所在区域的人口增长模式是 ()
 - A. 原始型
 - B. 传统型
 - C. 过渡型
 - D. 现代型
- 图 2 为甲、乙、丙、丁四个城市某年人口变化图。读图,回答 7~8 题。
7. 若四个城市人口规模相当,按自然增长率由低到高排序为 ()
 - A. 乙丁甲丙
 - B. 乙甲丁丙
 - C. 甲丙乙丁
 - D. 丙甲丁乙
 8. 四个城市中人口老龄化趋势显著的有 ()

A. 甲乙

B. 丙丁

C. 乙丁

D. 甲丙

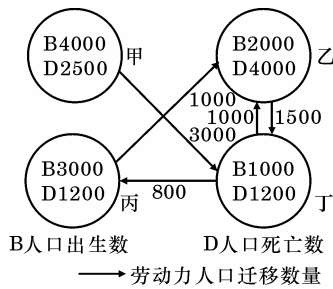


图 2

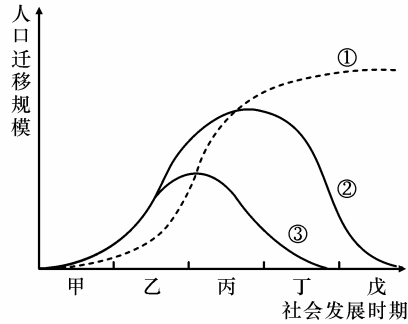


图 3

图 3 为社会发展不同时期的人口迁移规模示意图,①为城市间人口迁移;②为城乡间人口迁移;③为开拓式人口迁移(与土地扩张相伴的人口迁移)。读图回答 9~10 题。

9. 人口迁移类型与其主要成因的正确组合是 ()

- A. ①——耕地面积的变化
- B. ②——经济全球化
- C. ②——城乡经济差异
- D. ③——城市环境污染日益严重

10. 目前发达国家人口迁移特征处于 ()

- A. 甲时期
- B. 乙时期
- C. 丙时期
- D. 丁时期

2007 年 12 月 28 日,中华人民共和国与马拉维共和国在北京签署《中华人民共和国和马拉维共和国关于两国建立外交关系的联合公报》。同时,马拉维共和国政府已经公开宣布和台湾方面“断交”。回答下题。

11. 有关马拉维的人口增长情况可能是 ()

- A. 人口老龄化比较严重
- B. 人口自然增长率高,人口增长快
- C. 人口增长已进入“现代型”
- D. 是非洲唯一人口超过一亿的国家

读台湾省人口金字塔图(图 4),完成 12~13 题。

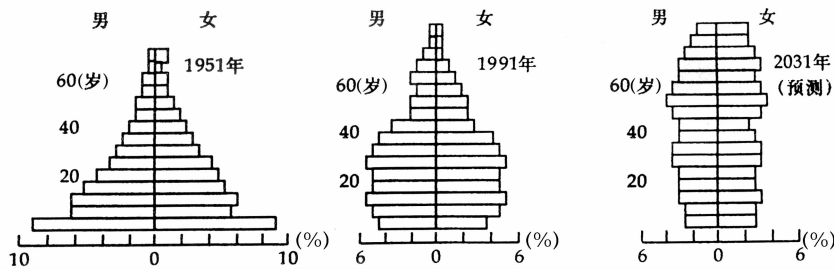


图 4

12. 图示过程能够明显反映台湾省

- A. 人口出生率不断下降
- B. 人口死亡率不断下降
- C. 人口死亡率不断上升
- D. 人口自然增长率不断上升

13. 预测到 2031 年台湾省面临的主要人口问题是 ()

- A. 人口增长速度快
- B. 人口老龄化程度高
- C. 就业压力太大
- D. 性别结构严重失衡

读中国老年人口数量及比量图(图 5),回答 14~15 题。

14. 中国人口迅速老龄化的主要原因是 ()

- A. 城市化速度加快
- B. 国内人口的大规模迁移
- C. 区域经济发展的不平衡

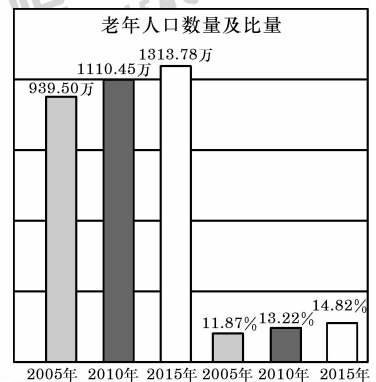


图 5

D. 出生率迅速下降

15. 中国人口老龄化的特点是 ()

- ①老年人口基数大 ②老年人口增长速度快 ③地区老龄化程度差异较小 ④人口老龄化与社会经济发展水平基本适应

- A. ①② B. ①④ C. ②③ D. ②④

读木桶效应(组成木桶的木板如果长短不齐,那么这只木桶的盛水量,不取决于最长的那一块木板,而是取决于最短的)图6,回答16~17题。




图6

16. 以某地的四类要素测得的各自所能供养的人口数量分别为:8 000、10 000、6 000、4 500,则该地的环境人口容量为 ()

- A. 8 000 B. 10 000 C. 6 000 D. 4 500

17. 本世纪初中国的人口数量(用 a 表示)、中国的合理人口容量(用 b 表示)、中国的环境人口容量(用 c 表示)三者的关系,正确的是 ()

- A. $a < b < c$ B. $c < b < a$
C. $b < a < c$ D. $a < c < b$

18. 人口金字塔是表示一个国家或地区人口年龄、性别构成的图表。阅读下列四国人口金字塔图,根据年龄构成和第二次世界大战等因素判断,表示德国人口构成的是 ()

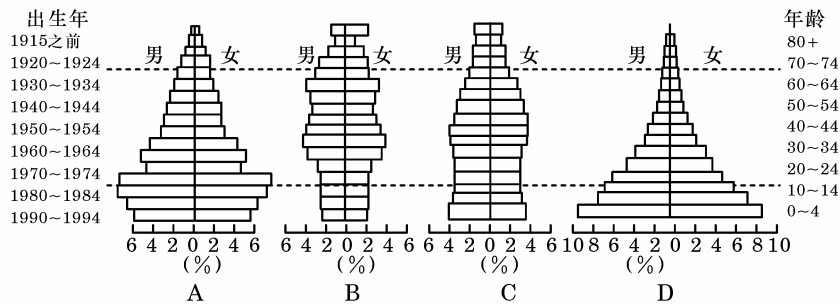


图7

第Ⅱ卷 (综合题 共28分)

二、综合题(共28分)

19. 读图8,回答下列问题。(13分)

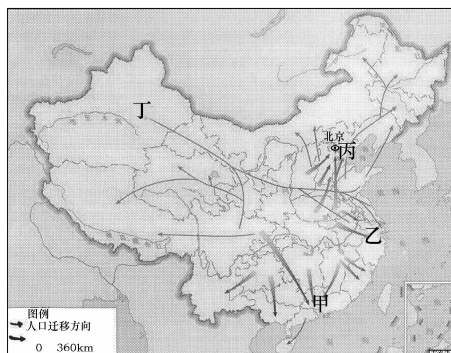


图8

(1)图中显示安徽省属于人口_____ (迁入、迁出)省。

(2)丁表示_____时期的人口迁移,此时期人口迁移的特点是_____,原因是_____。

_____。
 (3)甲、乙、丙表示_____ (时期)的人口迁移,此时期人口迁移的特点是_____,原因是_____。

(4)按照人口迁移的类型,它属于_____。

(5)下列因素分别属于甲和丁时期人口迁移的主要因素的是 ()

- A. 国家政策 B. 战争 C. 经济因素 D. 社会变革

20. 资料:1989年4月11日,我国人口已达到11亿。1995年2月15日零时,北京妇产科医院一男婴儿出生,宣告我国第12亿个公民的到来。2005年1月6日为我国13亿人口日(以上资料不包括港、澳、台)。推迟13亿人口日为我国争取更多时间优化发展目标和减小了人口基数大带来的惯性作用,意义重大。目前,中国的人口问题主要是人口基数过大。现在是人口低增长率和高增长量并存的时期。性别比是维持社会稳定的重要标准之一,正常的性别比一般应为106(男:女=106:100)读以上资料及图9,回答下列问题。(15分)

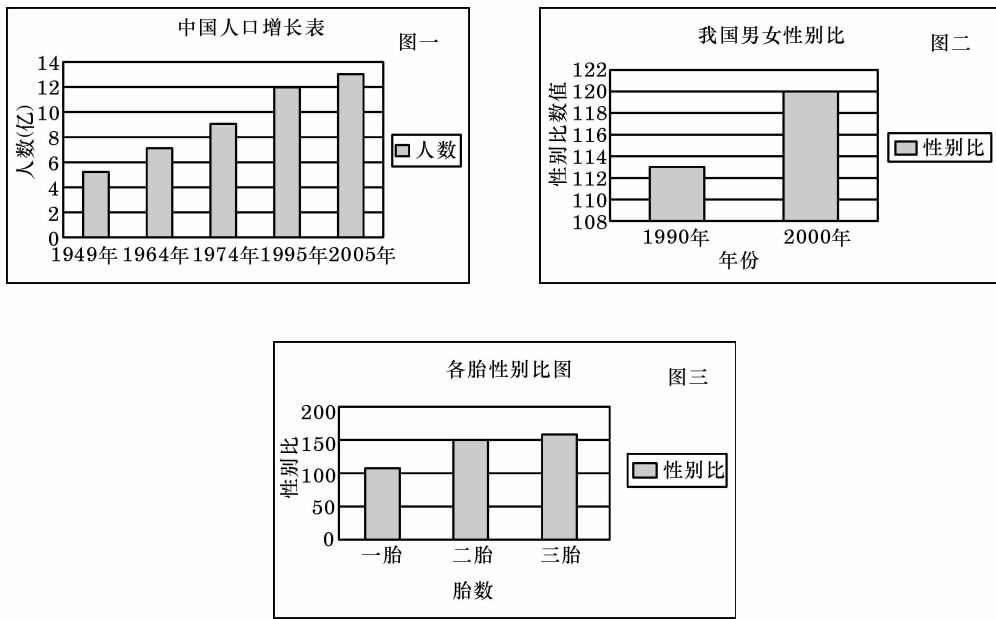


图9

(1)根据资料和图一分析,我国从人口11亿增长到12亿共花了约_____年时间,按此速度计算我国13亿人口日约出现在_____年,目前13亿人口日的到来比原来预计的要延缓约_____年。

(2)从1974年到1995年,每增加1亿人口约需_____年时间,从1995年到2005年约需_____年时间。从1964年到2005年的人口增长可以看出我国每增长1亿人口需要的时间逐渐_____ ()

- A. 延长 B. 缩短 C. 不变 D. 时长时短

(3)推迟13亿人口日对于我国发展具有的意义是_____。

(4)图二中,1990年的性别比是_____。分析图二,该图所显示的主要信息是:_____。
 _____。这种现象对社会产生的影响是_____。

(5)读图三,分析该图显示的主要信息是:_____ ,出现这种现象主要原因是_____。

- A. 从发展中国家向发达国家迁移
 B. 从北半球向南半球迁移
 C. 从西半球向东半球迁移
 D. 从内陆国家向沿海国家迁移
6. 移民外迁的主要动因是寻求 ()
- A. 更高的社会地位
 B. 更多的休闲时间
 C. 更高的收入
 D. 更优的自然环境

(2007·广东地理)读某省人口出生率、死亡率变化图(图2)和人口年龄结构变化图(图3),回答7~8题。

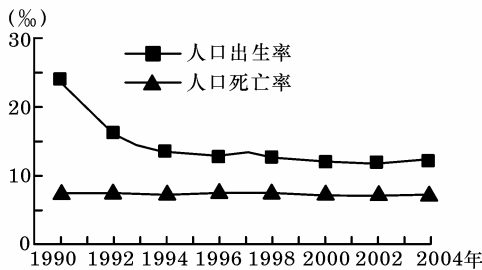


图2

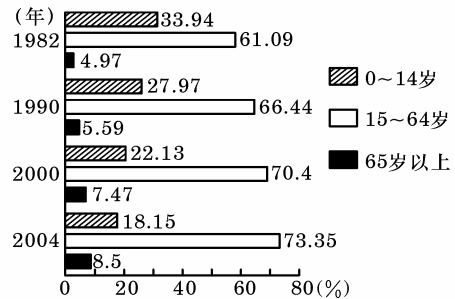


图3

7. 目前该省人口增长的特点是 ()
- A. 总量呈下降态势
 B. 总量仍呈增长态势
 C. 总量呈零增长态势
 D. 增长模式没有变化
8. 按联合国标准,如一地区 ≥ 60 岁人口占总人口比例达10%或 ≥ 65 岁人口达7%,则视为进入老龄化社会。该省开始进入老龄化社会的时间在 ()
- A. 1990年以前
 B. 1990~2000年之间
 C. 2000~2004年之间
 D. 2004年以后

9. (2007·广东文基)图4反映了我国人口学历与平均预期寿命的关系。从中可知 ()

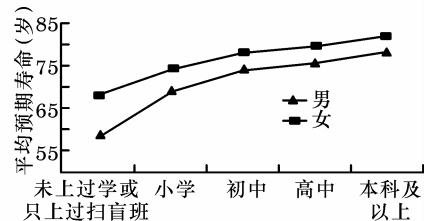


图4

- A. 相同学历段女性比男性的平均预期寿命短
 B. 高学历段男女平均预期寿命的差距大于低学历段
 C. 受教育程度越高,平均预期寿命越长
 D. 各学历段男女平均预期寿命的差异没有变化

(2008·全国I)下表为我国某城市人口资料。读下表完成

10~11题。

	1982年	1990年	2000年
总人口(万人)	35	167	701
0~14岁(%)	35.27	14.63	8.5
15~64岁(%)	58.36	83.15	90.39
65岁及以上(%)	6.37	2.22	1.11

10. 该城市自1982年至2000年 ()
- A. 人口自然增长率很高,人口增长迅速
 B. 人口出生率增高,人口老龄化问题得到缓解
 C. 人口出生率大幅度降低,人口死亡率大幅度增高
 D. 人口增长率很高,有大量青壮年人口迁入
11. 该城市是 ()
- A. 南京
 B. 深圳
 C. 西安
 D. 沈阳

12. (2008·上海文综)人口老龄化是社会进步、生活质量提高的结果。世界上一般以老年人口(即65岁及其以上)占总人口的7%以上称为老龄化。图5是我国部分省级行政区老年人口比重的示意图,图中已经进入老龄化的有 ()
- A. 2个 B. 3个 C. 4个 D. 5个

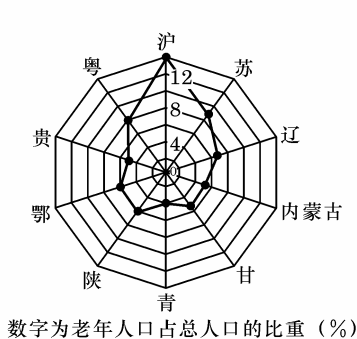


图5

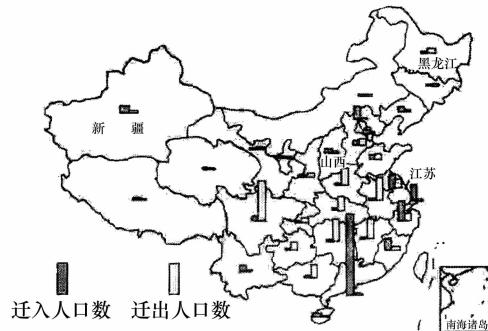


图6

(2008·江苏地理)图6为2000年我国部分省级行政区人口迁移示意图。人口净迁入区是指迁入人口数大于迁出人口数的区域;反之,为人口净迁出区。读图回答13~14题。

13. (双选)关于我国不同地区人口迁移情况的叙述正确的是 ()
- A. 西南地区为人口净迁出区 B. 西北地区为人口净迁出区
- C. 东南沿海地区为人口主要迁入区 D. 东北地区为人口主要迁出区
14. (双选)主要因资源开发而引起人口净迁入的省级行政区有 ()
- A. 山西 B. 江苏 C. 新疆 D. 黑龙江

(2007·江苏地理)图7为我国城乡15~64岁各种受教育水平人口比重图。回答15~16题。

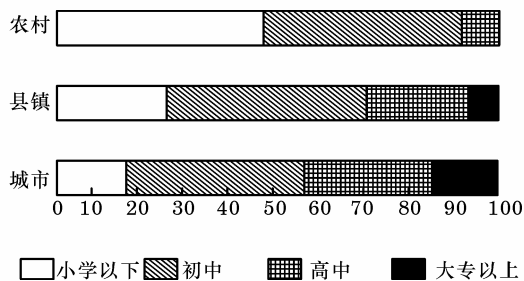


图7

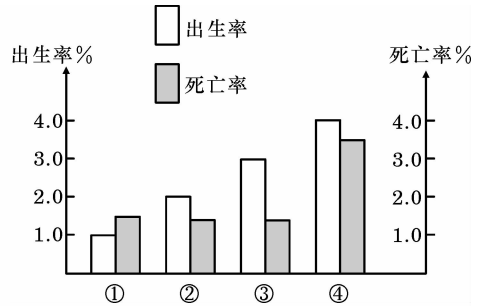
15. (双选)城乡人口受教育程度差异的特征有 ()
- A. 农村人口中文盲人口占一半以上
- B. 城市人口以高中及其以上文化程度为主
- C. 县镇人口中初中文化程度的人口比重大于城市
- D. 农村人口以初中及其以下文化程度为主
16. (双选)提高农村人口素质对新农村建设的影响有 ()
- A. 有利于农业现代化水平提高 B. 有利于农村劳动力数量增加
- C. 有利于耕地面积大幅度增加 D. 有利于农村剩余劳动力转移

图8为四个国家的人口出生率和死亡率图,读图完成17~18题。

17. ④国目前人口增长属于下列哪一阶段 ()
- A. 原始低增长阶段 B. 加速增长阶段
- C. 增长减缓阶段 D. 低速增长阶段

18. 缓解①国人口问题的主要途径是 ()

- A. 开发劳务市场
- B. 实行计划生育
- C. 鼓励生育和适当移民
- D. 加大教育投入



第 II 卷 (综合题 共 28 分)

二、综合题(共 28 分)

19. (2009·北京东城区模拟) 阅读材料,回答问题。(10 分)

美国国土面积 9 629 091 平方千米,大部分地区属于大陆性气候,南部属亚热带气候。人口 3 亿零 315 万(2008 年 1 月 1 日),白人占 75%,拉美裔占 12.5%,黑人占 12.3%,亚裔占 3.6%,华人约 243 万,占 0.9%。美国历来被人们看成是移民国家,而且继续以每年 100 多万的数量吸引来自世界各国的移民,移民被吸引到这些州,完全是因为它们提供了较多就业机会。美国成为移民最多的国家之一的主要影响因素是_____ ,并简述对环境人口容量影响最大的因素。

图 8

20. (2008·上海地理) 人口流动和人口增长会对一个地区社会经济发展产生很大影响。读图 9 回答问题。(18 分)

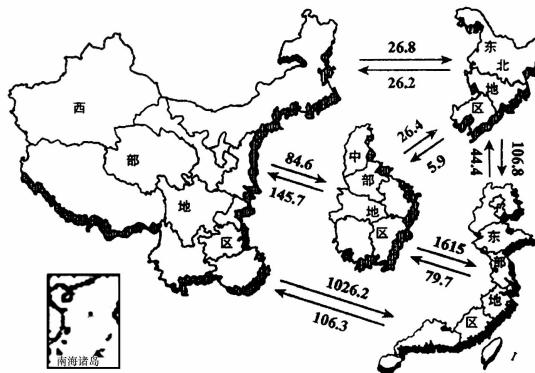


图 9 我国四大地区之间人口流动示意图(单位:万人 2000 年)

为推进区域经济均衡发展,国务院将我国分为中部、东北部、西部、东部四大地区,并提出了“中部崛起”、“东北振兴”、“西部开发”和“东部新跨越”的战略决策。

- (1) 在四大地区中,人口净流入量最大的是_____地区,人口净流出量最大的是_____地区。在四大地区中,相互之间人口流动总量最小的是_____地区与_____地区。
- (2) 从四大地区人口流向看,_____地区与_____地区向_____地区的流动成为区际人口流动的主流,从流入区产业结构特点分析,其主要原因是:_____。

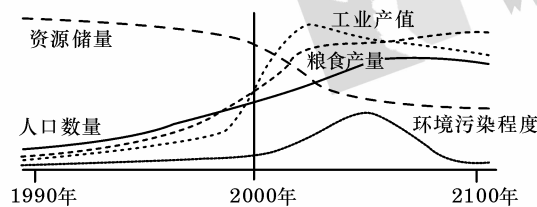


图 10 人口数量变化与环境诸要素相互关系模式图

(3) 图 10 反映的是人口与环境发展的一种关系模式。读图分析人口数量变化与环境诸要素的相互关系,并运用可持续发展观点对“如何协调人口与环境的关系”提出自己的看法。

第二章知能闯关卷(一)

(时间:90分钟 满分:100分)

题号	一	二	总分
得分			

第 I 卷 (选择题 共 72 分)

一、选择题(每小题 4 分,共 72 分)

1. 判断城市化水平高低的主要依据是 ()
 - A. 城市的豪华程度
 - B. 城市历史长短
 - C. 城市人口多少
 - D. 城市人口占总人口比重
2. 图 1 为世界四个大洲或地区 1970~2050 年城市和乡村人口比重变化趋势图。图中四地以发达国家为主的是 ()

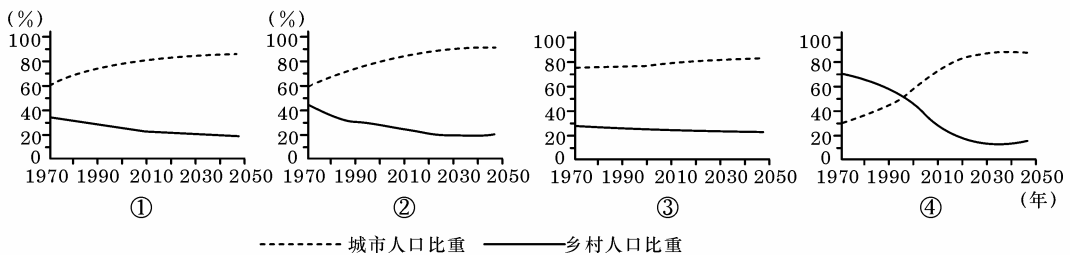
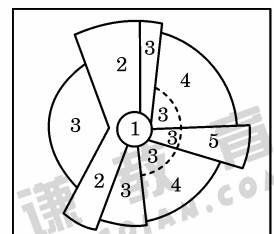


图 1

- A. ①② B. ②③ C. ①③ D. ③④

图 2 为城市内部地域结构模型。读图回答 3~5 题。

3. 城市用地主要考虑的因素是 ()
 - A. 地租与劳动力资源
 - B. 市场与租金
 - C. 市场与环境
 - D. 地租与环境
4. 高级住宅区向外延伸依赖的主要条件是 ()
 - A. 高速交通运输线
 - B. 洁净优美的环境
 - C. 良好的治安条件
 - D. 郊区廉价的地租
5. 与工业区在地域分布上相互排斥的城市功能区是 ()
 - ①中心商务区 ②低级住宅区 ③中级住宅区 ④高级住宅区
 - A. ①和② B. ②和③ C. ③和④ D. ①和④
6. (双选)上海浦东新区建设,打破了“城市化地区”与“非城市化地区”的概念,绿色与灰色区域并存穿插,把城市绿化与综合农业开发相结合。将“城市化地区”穿插在“非城市化地区”内的主要目的是 ()
 - A. 增加城市后备用地
 - B. 有效利用地形
 - C. 使交通更加便捷
 - D. 改善和美化城市环境



1.中心商业区 2.工业区
3.低级住宅区 4.中级住宅区
5.高级住宅区

图 2 扇形模型

图 3 和图 4 是我国城市化发展阶段示意图,回答 7~8 题。

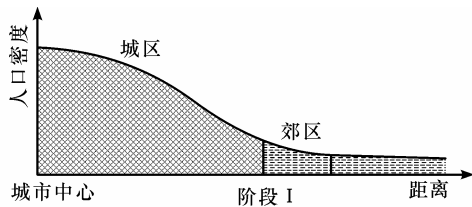


图 3

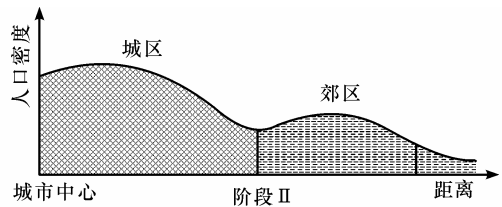


图 4

7. (双选)目前,我国城市化进程正处于 ()
- A. 大城市化 B. 郊区城市化 C. 逆城市化 D. 再城市化
8. (双选)阶段 II 中,城市中心人口密度下降的主要原因有 ()
- A. 交通通达性差 B. 地价昂贵 C. 污染严重 D. 远离商业中心
- 国际上两类城市化扩容模式,一类是以美国、加拿大、澳大利亚为代表的“外延式”,该模式建筑密度较低,主要在二维空间内扩大城市空间容量;另一类是以日本、新加坡和中国香港为代表的“内含式”,该模式既保持城区较高的建筑密度,又充分开发利用地下空间。据此判断 9~10 题。
9. 相对于“内含式”而言,美国、加拿大、澳大利亚之所以采用“外延式”的城市扩容模式,其直接原因是 ()
- A. 城市化水平高 B. 人口数量多 C. 人口密度小 D. 经济发展水平快
10. 若在我国的城市发展中也采用“外延式”的城市扩容模式,则 ()
- A. 城市中心区萎缩加剧 B. 就业困难,失业人数增多
- C. 土地资源利用率降低 D. 交通拥挤、居住条件差
11. 图 5 是商业、工业、居住和农业等四种活动的付租能力随距离递减示意图,下列叙述正确的是 ()
- A. 活动 A 的区位有不断向城市外缘移动的趋势
- B. 活动 B 是城市中最广泛的土地利用方式
- C. 活动 C 对交通的依赖性较大,往往安排在市中心
- D. 活动 D 不受自然条件影响

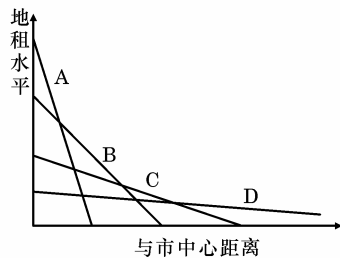


图 5

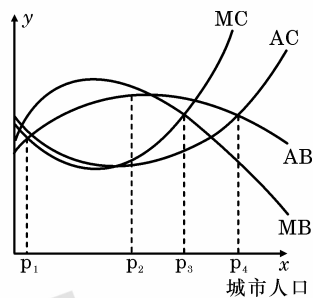


图 6

- 图 6 是巴顿给出的城市规模的费用/效益曲线图。图中四条曲线的含义分别是,MB:城市每增加一个单位成员对应的城市效益的增加量,MC:城市每增加一个单位成员对应的城市费用增加量,AB:城市中人均平均效益,AC:城市人平均生活费用。分析回答 12~13 题。
12. (双选)图中分别表示不同含义的“最佳人口规模”。其中,对现有居民来说最合适和对决策者来说最合适(假如决策者仅仅考虑最大的城市总效益——社会效益)的最小城市规模分别是 ()
- A. P_1 B. P_2 C. P_3 D. P_4
13. (双选)我国学者研究后发现:①在我国统计所有的城市,随着城市规模的扩大,城市的人均效益逐级提高;②单独考虑每个城市的发展过程,并没有发现随着城市的规模扩大就出现城市人均效益增加的情况。你认为我国城市发展的对策应该是 ()
- A. 大力发展特大城市 B. 大力促进城市规模扩大
- C. 不能仅仅考虑城市规模来制订城市发展的政策 D. 针对影响城市经济发展的具体因素促进城市经济发展

图7中①为某市同一地区不同时期地价曲线图,②为该市城市规模的变化图。读图回答14~15题。

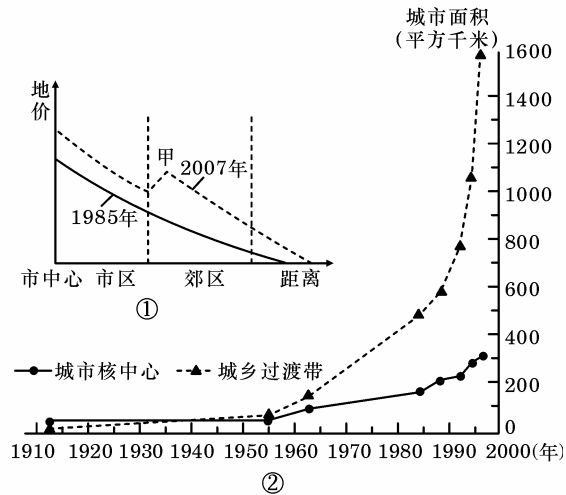


图7

14. 图①中地价变化的原因和图②可代表的国家类型分别是 ()
- A. 交通的通达度提高、发达国家
B. 交通的通达度提高、发展中国家
C. 城市规模变小、发达国家
D. 城市规模变小、发展中国家
15. 图②反映了该市 ()
- A. 城市化水平比较高,城市人口比重的增长趋缓,甚至停滞
B. 城市化水平比较低、发展缓慢
C. 许多人和企业从市区迁往郊区,出现了郊区城市化现象
D. 城市核心区规模减小,出现逆城市化现象

为进一步提高京津冀及环渤海地区的国际竞争力,促进区域经济协调发展,国务院已对《天津市城市总体规划(2005~2020年)》做出批复。在未来15年时间里,作为环渤海地区经济中心的天津市,要以滨海新区的发展为重点,逐步建设成为国际港口城市、北方经济中心和生态城市。据此回答16~18题。

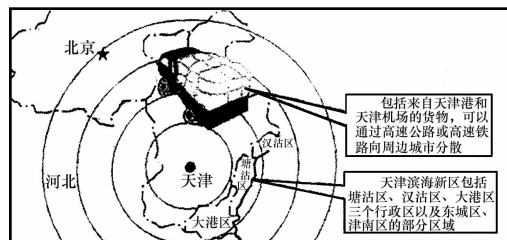


图8

16. 天津建设物流中心相对于北京的优势区位是 ()
- A. 铁路枢纽
B. 航空港
C. 海港
D. 高速公路
17. 规划到2020年,滨海新区常住人口规模为300万,城镇人口规模为290万,城镇建设用地规模510平方千米。下列属于滨海新区作用的是 ()
- A. 缓解天津市用地紧张的状况
B. 成为区域发展新的经济增长极
C. 聚集天津市区人口
D. 充分发挥海河的水运功能
18. 将天津市逐步建设成为经济繁荣、社会文明、科教发达、设施完善、环境优美的国际港口城市、北方经济中心和生态城市。此前北京市被定位为“国家首都、国际城市、文化名城、宜居城市”,并没有提及所谓的“经济中心”。这意味着 ()

- A. 天津取代北京成为北方经济中心
 B. 北京、天津将走向一体化
 C. 京津冀发展开始注重分工和协调发展
 D. 天津服务范围超过了北京

第 II 卷 (综合题 共 28 分)

二、综合题(共 28 分)

19. 图 9 是世界局部地区图,读图回答问题。(13 分)

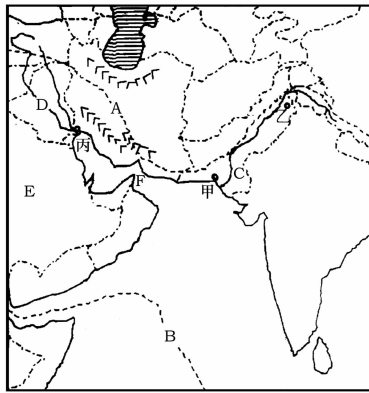


图 9

- (1) 该地区地形上共同特点是_____ (地形) 为主, 字母 A、C、E 处气候类型相同的是_____。
 简述地形对 A 国气候的影响: _____。
 (2) 试从自然条件分析, 图中 C、D 均为世界最早出现城市的地区的原因。

20. 城市化是现代化的必经之路, 不同地区、不同国家的城市化发展呈现出不同的特点。阅读下列材料, 回答问题。(15 分)

材料一 英、美城镇人口占总人口比重表(%)

	1800 年	1850 年	1890 年	1920 年
英国	21	39	62	65
美国	4	12	35	51

- (1) 在城镇人口变化过程中, 英、美的优势体现在哪里? 其历史原因有哪些?

材料二 与其他地区相比, 中国的城市化具有自身的特点(见图 10)。2006 年中国城镇人口占全国总人口的比重为 43.9%。从城市规模看, 特大城市发展最快、中等城市次之。小城市发展缓慢。

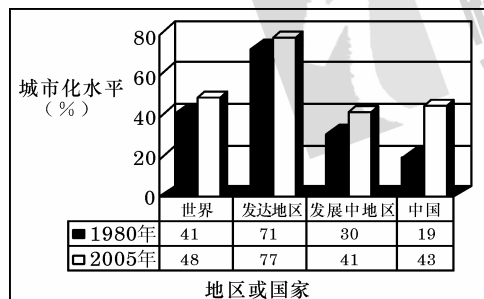


图 10

- (2) 根据材料二, 说明 1980 年以来中国城市化的主要特点, 并指出这种城市化特点可能导致的城市化问题。