



恒谦教育
www.hengqian.com

北京教育出版社恒谦教育研究院研究成果

图书在版编目(CIP)数据

金版高效速练: 人教版. 高中地理. 2: 必修/方可主编.
—3版. —西安: 陕西人民教育出版社, 2008.1
ISBN 978-7-5419-9502-6

I. 金... II. 方... III. 地理课—高中—习题
IV. G634

中国版本图书馆CIP数据核字(2007)第206139号

金版高效速练

高中地理(必修2)
适用于人教版

*

陕西人民教育出版社出版发行
(西安长安南路181号)

新华书店经销

*

880×1230 16开本 10.25印张 231 000字
2008年1月第3版 2008年1月第1次印刷
ISBN 978-7-5419-9502-6
定价: 16.80元



Contents

· 目录 ·

第 1 章 人口的变化

课时 1 人口的数量变化	(1)
课时 2 人口的空间变化	(8)
课时 3 人口的合理容量	(14)
第 1 章 综合测试	(20)

第 2 章 城市与城市化

课时 4 城市内部空间结构	(24)
课时 5 不同等级城市的服务功能	(32)
课时 6 城市化	(38)
第 2 章 综合测试	(45)

第 3 章 农业地域的形成与发展

课时 7 农业的区位选择	(49)
课时 8 以种植业为主的农业地域类型	(55)
课时 9 以畜牧业为主的农业地域类型	(61)
第 3 章 综合测试	(66)
期中测试	(69)

第4章 工业地域的形成与发展

课时 10	工业的区位因素与区位选择	(73)
课时 11	工业地域的形成	(80)
课时 12	传统工业区与新工业区	(87)
第4章	综合测试	(94)

第5章 交通运输布局及其影响

课时 13	交通运输方式和布局	(98)
课时 14	交通运输布局变化的影响	(105)
第5章	综合测试	(111)

第6章 人类与地理环境的协调发展

课时 15	人地关系思想的演变	(114)
课时 16	中国的可持续发展实践	(121)
第6章	综合测试	(128)
期末测试	(132)
参考答案	(1~18)

www.hengxin.com

札记

课堂基础巩固 **练**

★★★

(时间:20分钟 满分:45分)

一、选择题(每小题4分,共32分)

- 下列国家中,人口数量呈负增长的是 ()
A. 中国 B. 德国
C. 尼日利亚 D. 印度尼西亚
- “传统型”人口增长模式的特点是 ()
A. 高出生率,高死亡率,低自然增长率
B. 高出生率,低死亡率,高自然增长率
C. 低出生率,低死亡率,低自然增长率
D. 极高的死亡率和出生率,极高的自然增长率
- 人口增长模式决定于 ()
A. 人口出生率、人口死亡率、人口总数
B. 人口出生率、人口死亡率、社会生产力
C. 人口出生率、人口死亡率、人口自然增长率
D. 人口出生率、人口总数、社会生产力
- 人口增长模式类型中,原始型和传统型的相同之处是 ()
A. 高出生率 B. 高自然增长率
C. 低出生率 D. 低死亡率

读某四国人口出生率和死亡率示意图(图1-1-1),回答5~8题。

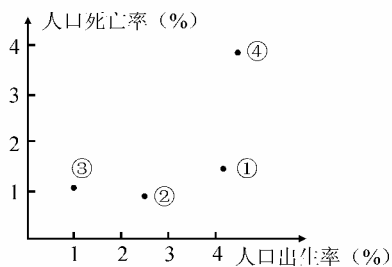


图1-1-1

- 四国人口增长模式属于现代型的是 ()
A. ① B. ②
C. ③ D. ④
- 图中四个国家中,人口自然增长率最高的是 ()
A. ④ B. ③
C. ② D. ①
- 若图中序号表示在人类社会的历史发展中先后出现的人口增长模式类型,下列排序正确的是 ()
A. ①②③④ B. ④③②①
C. ④①②③ D. ③②①④
- 图中四国中,可能是巴基斯坦的是 ()
A. ① B. ②
C. ③ D. ④

二、综合题(共13分)

9. 读下表回答。

年代	世界人口数
公元1950年	25.2亿
公元1960年	30.2亿
公元1970年	33.5亿
公元1980年	44.5亿
公元1990年	53.0亿
公元1999年	60.2亿

(1)表中数据反映了什么现象?为什么会出现这种情况?

(2)目前,世界人口增长模式所处的阶段与表中反映的情况是否矛盾?为什么?

典例剖析示范



典例1 图1-1-2反映四个国家的人口出生率和死亡率,其中②代表的国家可能是 ()

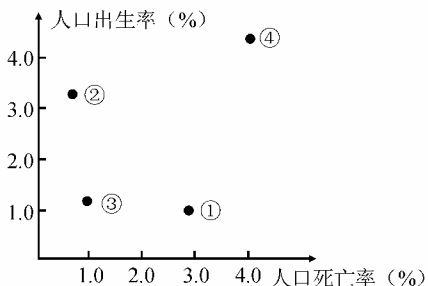


图1-1-2

- A. 中国
- B. 韩国
- C. 美国
- D. 尼日利亚

剖析 美国是发达国家,人口增长模式应为低出生率、低死亡率、低自然增长率的“现代型”,中国虽然是发展中国家,但我国由于大力开展计划生育工作,人口增长模式已基本实现了从“传统型”向“现代型”的转变,韩国、新加坡、古巴等国由于经济发展较快,已进入或正要进入“现代型”。而非洲的大多数国家,由于生产力水平较低,经济欠发达,人口增长模式还处于“传统型”。

解答 D

变式1 据图1-1-3判断①②③④四点中,表示发达国家人口增长状况的可能是 ()

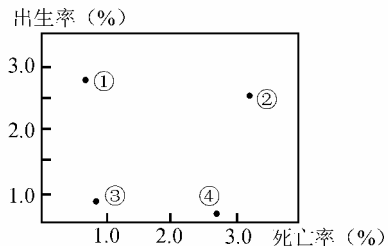


图1-1-3

- A. ①
- B. ②
- C. ③
- D. ④

典例2 读芬兰1785~1976年人口自然增长的转变表,回答下列问题。 ()

年份	出生率(%)	死亡率(%)	自然增长率(%)
1785~1970	3.8	3.2	0.6
1825~1830	3.8	2.4	1.4
1910~1915	2.9	1.7	1.2
1970~1976	1.3	1.0	0.3

(1)前工业化时期,芬兰人口增长以_____出生率、_____死亡率和_____自然增长率为特征,人口增

长模式呈_____型。

(2)工业化开始后,芬兰人口的死亡率有了明显的_____,人口增长以_____出生率、_____死亡率和_____自然增长率为特征,人口增长模式呈_____型。

(3)随着工业化的发展,社会经济、文化教育得到了很大的发展,传统的_____也得到了较大改变,加之_____提高,避孕节育措施的日益普及,使得_____大大下降。

(4)20世纪70年代以后,芬兰的人口出生率、死亡率和自然增长率不断_____,人口增长模式开始进入_____型。

剖析 历史发展表明,人口增长模式是从高出生率、高死亡率和低自然增长率的原始型向高出生率、低死亡率和高自然增长率的原始型,继而向低出生率、低死亡率和高自然增长率的现代型逐步过渡。发达国家前工业化时期,人口增长模式呈原始型,工业化开始后,随着生产力的提高,使人们逐步摆脱了完全依赖自然环境的状况,人们的营养水平不断提高。保障生命的各种条件,特别是医疗卫生条件得到改善,也就是说人们的生存环境发生了很大的变化,这些都是死亡率下降的必要条件,所以工业革命后,人口快速增加主要与死亡率的下降有关。第二次世界大战后,随着工业化的发展,由于生产力水平的提高,社会福利提高,生育观念改变,避孕节育措施的普及,带来了生育率的下降。生育率是出生率的基础,一般情况下生育率水平高,出生率也高,反之亦然,而人口自然增长率等于人口出生率减去人口死亡率。所以,到了20世纪70年代以后,芬兰人口增长模式向低出生率、低死亡率和低自然增长率的现代型转变。

解答 (1)高 高 低 原始 (2)下降 高 低 高 传统 (3)生育观念 社会福利 生育率

(4)降低 现代

变式2 读“芬兰人口自然增长的转变表”,回答下列问题。 ()

人口阶段	年份	人口指标		
		出生率(%)	死亡率(%)	自然增长率(%)
A	1785~1790	3.8	3.2	0.6
B	1825~1830	3.8	2.4	1.4
C	1910~1915	2.9	1.7	1.2
D	1970~1976	1.3	1.0	0.3

(1)A阶段人口增长模式以_____、_____、_____为特征,人口增长模式处于_____型。

(2)B和C阶段人口增长模式以_____、_____、_____为特征,人口增长模式处于_____型。

札记

_____为特征,人口增长模式处于_____型。其原因是_____。

(3)D阶段人口增长模式以_____、_____为特征,人口增长模式处于_____型。

课后强化提升



★★★★

(时间:60分钟 满分:60分)

一、选择题(每小题2分,共30分)

图1-1-4为甲、乙两国人口变化曲线,读图1-1-4和图1-1-5,完成1~3题。

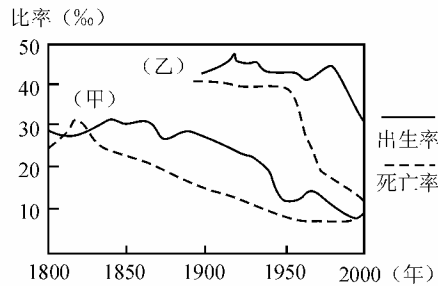


图1-1-4

1. 下列有关甲、乙两国人口增长模式的叙述,正确的是 ()

- A. 1900~1950年两国人口增长模式皆为现代型
- B. 1850~1950年两国人口增长模式皆为传统型
- C. 1950~2000年乙国人口增长模式为原始型
- D. 20世纪末甲国的人口增长模式已是现代型

2. 从图中可以看出,人口增长模式的转变开始于 ()

- A. 出生率的下降
- B. 死亡率的下降
- C. 自然增长率下降
- D. 自然增长率上升

3. 图1-1-5所示国家中,目前人口增长模式与乙国2000年人口增长模式一致的是 ()



图1-1-5

4. 以高出生率、低死亡率和高自然增长率为特征的人口增长模式类型是 ()

- A. 现代型
- B. 传统型向现代型的过渡阶段
- C. 原始型
- D. 传统型

5. 目前我国已基本实现了人口增长模式从传统型向现代型的转变,主要是由于 ()

- A. 生产力水平的提高
- B. 文化观念的转变
- C. 国家政策的调节
- D. 自然环境的变化

6. 人口增长模式由原始型到传统型的转变是从 ()

- A. 出生率的下降开始的
- B. 出生率的上升开始的
- C. 死亡率的下降开始的
- D. 人口自然增长率的上升开始的

7. 人口过亿的国家仍实行鼓励生育政策的国家是 ()

- A. 印度
- B. 中国
- C. 日本
- D. 新加坡

8. 通过人口普查发现,深圳市人口的死亡率低于全国城市平均水平,其原因是 ()

- A. 营养好
- B. 女性比例高,寿命长
- C. 人口结构年轻
- D. 文化教育水平高

读“年龄金字塔图”(图1-1-6),回答9~10题。

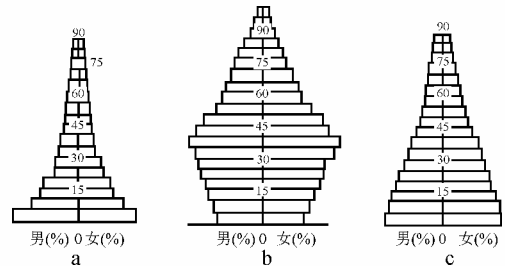


图1-1-6

9. 图中,属于现代型的是 ()

- A. a
- B. b
- C. c
- D. 都不是

10. 下列国家中,属于b图所示类型的是 ()

- A. 尼日利亚
- B. 德国
- C. 埃及
- D. 印度

11. 据我国第五次人口普查,全国共有12.95亿人(不包括台湾、香港和澳门),图1-1-7中“*”表示人口年龄构成状况,其中0~14岁人口的比重约是 ()

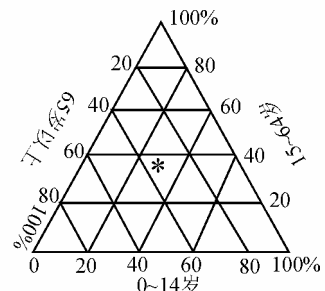


图1-1-7

- A. 93% B. 30%
C. 13% D. 60%

下表为2002年我国四个地区的相关数据。据此回答12~13题。

地区	总人口(万人)	死亡率(%)	自然增长率(%)	国内生产总值(亿元)
①	9 613	0.638	0.603	6 163.2
②	1 625	0.595	-0.054	5 408.8
③	3 837	0.721	1.075	1 180.0
④	267	0.607	1.276	159.7

12. 四个地区中人口老龄化趋势最严重的是 ()
A. ① B. ② C. ③ D. ④
13. 四个地区中经济发展水平最高的是 ()
A. ① B. ② C. ③ D. ④

下图为甲、乙两国人口增长模式转变图(图1-1-8)。据此回答14~15题。

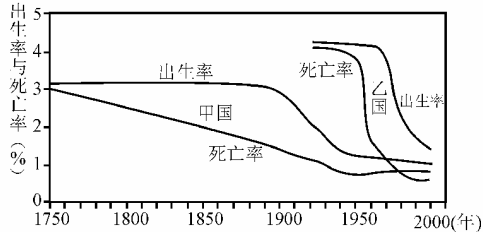


图1-1-8

14. 目前与甲国1890~1920年人口增长模式类型相同的国家是 ()
A. 韩国 B. 德国
C. 新西兰 D. 埃及
15. 乙国1970年以后人口出生率迅速下降的主要原因可能是 ()
A. 自然灾害频繁,饥荒严重
B. 政局动荡,长期战乱
C. 政府宏观调控力度大
D. 抚养孩子成本上升,夫妇不愿多生孩子

二、综合题(共30分)

16. 读“人口增长模式示意图”(图1-1-9),完成下列要求。(8分)

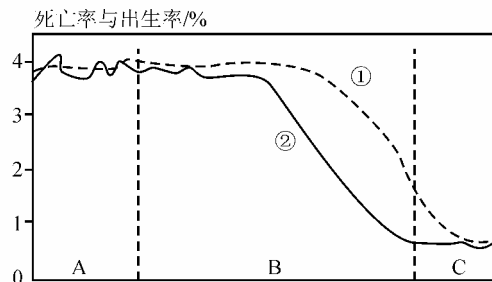


图1-1-9

- (1) 判断曲线①、②表示人口出生率的是_____。
- (2) 图中A段人口的出生率_____、死亡率_____

_____、自然增长率_____，属于人口增长模式的“_____”。

(3) 图中B段人口的出生率_____、死亡率_____、自然增长率_____，人口增长模式为“_____”。

(4) 图中C段人口的出生率、死亡率和自然增长率都_____，属于人口增长模式的“_____”，人口年龄结构呈现_____。

17. 读1995~1997年统计的世界和部分国家人口增长模式数据表,回答下列问题。(12分)

地区	人口出生率(%)	人口死亡率(%)	人口自然增长率(%)
全世界	2.4	0.9	1.5
A国	0.9	1.1	
B国	1.5	0.6	0.9
C国	3.7	0.6	3.1

- (1) 计算A国人口自然增长率并填入表中。
- (2) 若表中三个国家分别是肯尼亚、德国、韩国,根据数据所示,B国是_____。
- (3) 由表中数据可以看出,世界人口增长模式处于_____。
- (4) 按人口增长模式转变的发展进程,将C国的名称填入图1-1-10的相应括号中。

死亡率与出生率/%

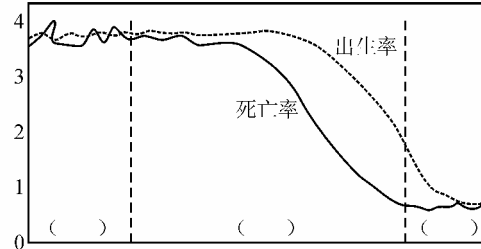


图1-1-10

- (5) 从图中可以看出,人口增长模式转变的发展进程表现为:首先是_____率下降,其次是_____率下降,最后导致_____率的下降。
- (6) 现代型人口增长模式的人口死亡率反而比转变前有所上升,其一般原因是_____。

18. 根据“A、B两国的人口金字塔图”(图1-1-11),回答下列问题。(10分)

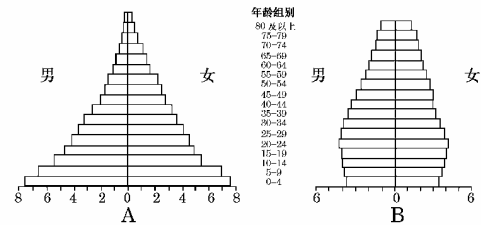


图1-1-11

- (1) 儿童占有较高人口百分比的是_____国;老人占有较高百分比的是_____国。
- (2) 若A国的人口仍无控制地迅速增长,20年后,



札记

该国将面临的主要问题主要有：①_____；②_____。

(3)若B国人口按现在趋势发展，该国的就业人口

主要从事_____产业的工作。若干年后该国面临的问题主要有：①_____；②_____。

热点考题回放

考题 (2007·广东地理)读“某省人口出生率、死亡率变化图”(图1-1-12)和“人口年龄结构变化图”(图1-1-13),回答(1)~(2)题。

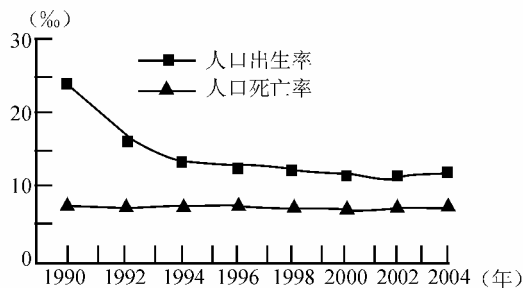


图 1-1-12

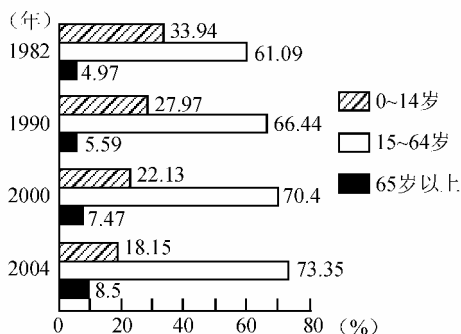


图 1-1-13

(1)目前该省人口增长的特点是 ()

- A. 总量呈下降态势
- B. 总量仍呈增长态势
- C. 总量呈零增长态势
- D. 增长模式没有变化

(2)按联合国标准,如一地区 ≥ 60 岁人口占总人口比例达10%或 ≥ 65 岁的人口达7%,则可视为进入老龄化社会。该省开始进入老龄化社会的时间在 ()

- A. 1990年以前
- B. 1990~2000年之间
- C. 2000~2004年之间
- D. 2004年以后

分析 从图1-1-12中看出,该省人口出生率从1990年的接近25%下降到2004年的10%多一点,下降幅度较大,而人口死亡率几乎没有变化,说明人口增长模式已由传统型转化为现代型,但出生率仍然高于死亡率,人口总量仍然呈增长态势。该省在1990年时65岁以上人口占5.59%,尚未进入老龄化社会,在2000年65岁以上人口达到了7.47%,说明已经进入老龄化社会。因此,该省进入老龄化社会的时间就在1990~2000年之间。该组题难度不大,主要考查读图分析能力以及考生对人口增长模式的了解,基础性较强。

答案 (1)B (2)B

课时考点探究

(时间:20分钟 满分:20分)

(2007·厦门模拟)图1-1-14是“PPE怪圈”,是指贫困(Poverty)、人口(Population)和环境(Environment)之间形成的一种互为因果的关系。回答1~2题。

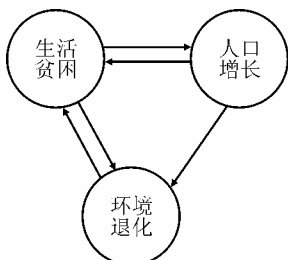


图 1-1-14

1. (5分)图1-1-15中的a、b、c、d四点所代表的人口增长状况中,最有可能产生“PPE怪圈”的是 ()

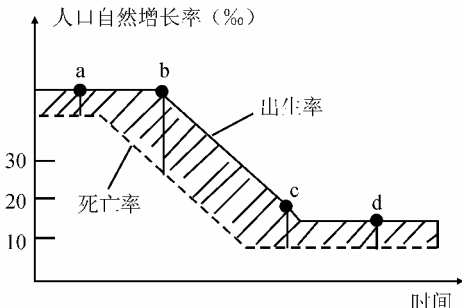


图 1-1-15

札记

课时 2 人口的空间变化

课时基础知识



知识点导练

1. 一个地区人口数量的变化,包括_____和_____。

2. 人口迁移就是人的_____在国际或本国范围内发生改变。人口迁移按照是否跨越国界可分为_____和_____。

3. 19 世纪以前,国际人口迁移总特点是以_____、_____为主。如 15~16 世纪,欧洲进行殖民主义扩张,引发了 7 000 多万欧洲人迁移到以_____洲和_____洲为主的国家和地区。这些人口迁移在客观上开发了_____、传播了_____文明,也改变了人种的空间分布。

4. 二战后,国际人口迁移表现出新的特点:人口从_____国家流向_____国家;_____减少,_____人口增多。这一阶段,欧洲由人口_____区变为人口_____区,主要原因是_____;拉丁美洲则由人口_____区变为_____区,大量人口流向_____、_____和_____国家。20 世纪 70 年代以来,_____和_____石油输出国也从境外招募了大批外籍工人,原因是_____。

5. 从历史和现实人口迁移的发生原因中不难发现,影响人口迁移的主要因素有两个方面:一是_____;二是_____。人口是否从一地迁到另一地,要看_____区是否有吸引力,而这种吸引力可能因_____或者个人的_____的变化而变化。

6. 社会经济发展对人口迁移的影响是多方面的,其中_____、交通和通信、_____及婚姻家庭等是主要的因素。

7. 影响人口迁移的诸因素中,_____因素往往起着重要作用。

重难点导学

1. 人口的迁移

(1) 人口迁移的定义

人口迁移就是人的居住地在国际或本国范围内发生改变。

(2) 人口迁移的分类

① 划分依据

是否跨越国界线。

② 分类

国际人口迁移和国内人口迁移。

(3) 判断人口是否发生迁移的标准

① 人口居住地的变化是否跨越一定的行政区域界线。

② 人口居住地的改变是永久性的或长期的。

2. 我国的几次人口迁移

阶段	历史上我国的人口迁移	新中国成立后至 20 世纪 80 年代中期	20 世纪 80 年代中期以来
特点	人口频繁地迁移	迁移规模比较小,频率比较低	流动人口大量增加
迁移方向	秦汉开始:黄河中下游平原→长江流域和珠江流域;“安史之乱”:人口分布中心由黄河流域转移到长江流域;“靖康之难”:人口继续南迁	净迁出地区有辽、鲁、沪、川等省市,西藏为迁入和迁出持平地区,其余地区为人口净迁入地	从农村到城市;从内地省、自治区到沿海城市和工矿区
原因	戍边、流放、逃难、避税和经商、移民支边、战争、自然灾害等	受国家政策和户籍管理制度影响较大	各地之间巨大的收入差异;农村中存在大量剩余劳动力;政策允许农民进入城镇落户

3. 影响人口迁移的因素

(1) 主要因素

① 自然环境和社会经济环境的变化。

② 个人对生活或职业需求的变化。

(2) 其他因素

战争、宗教、社会变革、国家政策、生态环境变化,以及个人动机和需求等。

对该部分内容的学习,要注意以下三点:

(1) 影响人口迁移的因素是多方面的,人口是否发生迁移,要看迁入区是否有吸引力。

(2) 不同历史时期,影响人口迁移的因素会存在差异。

(3) 经济因素是影响人口迁移经常起作用的最主要的因素。

课堂基础巩固



(时间:20分钟 满分:45分)

一、选择题(每小题4分,共32分)

- 19世纪以前,国际人口迁移的总体特点是 ()
 - 从新大陆移向旧大陆
 - 以集团性、大批的移民为主
 - 从发展中国家流向发达国家
 - 定居移民减少,短期流动工人增加
- 我国“十一黄金周”,大批国内外游客前往四川九寨沟,这种现象属于 ()
 - 国际人口迁移
 - 国内人口迁移
 - 省际人口迁移
 - 人口流动
- 下列各组国家中,都属于典型移民国家的是 ()
 - 美国、德国
 - 南非、埃及
 - 日本、澳大利亚
 - 加拿大、新西兰
- 第二次世界大战后,国际人口迁移的特点是 ()

①从旧大陆迁往新大陆 ②从发展中国家迁往发达国家 ③从已开发国家迁往未开发国家 ④定居移民减少,短期流动的人口增多

 - ①②
 - ①④
 - ①③
 - ②④
- 新中国成立后到20世纪80年代中期,我国人口迁移和流动量较少的原因是 ()

①国家实行计划经济 ②经济发展速度快,各地区生活水平相差不大 ③交通条件落后 ④国家实行严格的户籍管理制度

 - ①④
 - ①②
 - ②③
 - ③④

- 近年来,我国人口迁移不仅数量增加,频率加快,空间范围也在不断扩大,这在很大程度上得益于 ()
 - 自然环境的变化
 - 经济重心的改变
 - 交通条件的日益便利
 - 文化教育事业的发展
- 影响人口迁移主要的、经常起作用的因素是 ()
 - 经济因素
 - 气候因素
 - 战争因素
 - 交通和通信因素
- 20世纪80年代,深圳、珠海等经济特区的设立,导致人口大量迁入,其主要原因是 ()
 - 深圳、珠海经济条件的改善
 - 深圳、珠海文化教育事业的发展
 - 深圳、珠海交通和通信事业的发展
 - 深圳、珠海自然条件的改善

二、综合题(共13分)

9. 读图1-2-1,分析回答下列问题。

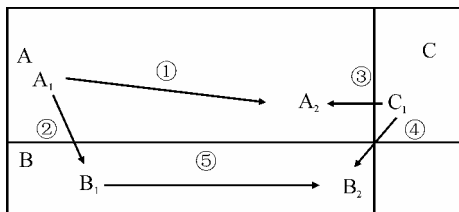


图1-2-1

- (1)图中ABC表示三个不同的国家,则表示国际人口迁移的是_____。可能表示国内人口迁移的是_____。
- (2)人口迁移的意义有哪些?

典例剖析示范



典例1 读“二战前后人口迁移模式图”

(图1-2-2),完成下列问题。

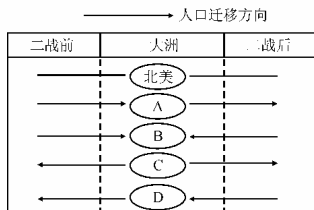


图1-2-2

- (1)在北美两侧横线上加绘两个箭头,表示其二战前后人口迁移的方向。
- (2)图中字母所代表的大洲分别是:A _____, B _____, C _____, D _____。

剖析 世界人口迁移在二战前后有明显的差异,二战前主要受地理大发现与新航线的开辟以及资本主义的发展与殖民主义的扩张的影响,人口主要从旧大陆迁入新大陆。二战后,人口迁移主要受经济因素的

札记

影响,从落后地区迁往发达地区。

解答 (1)图略(北美在战前和战后均为人口迁入区) (2)拉丁美洲 大洋洲 非洲 欧洲

变式 1 二战前后,人口迁移流向有反向变化的大洲是 ()

- ①北美洲 ②欧洲 ③拉丁美洲 ④大洋洲
A. ①② B. ③④ C. ①④ D. ②③

典例 2 读“世界部分地区人口迁移示意图”(图 1-2-3)(19 世纪以前),回答下列问题。

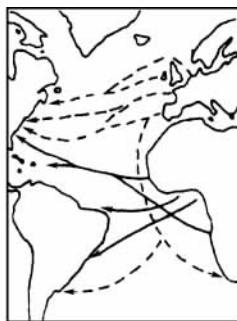


图 1-2-3

- (1)当时人口迁出的地区主要是_____洲的_____、_____和_____等国和_____洲。
(2)当时国际人口迁移的特点是_____。
(3)当时国际人口迁移的流向为_____。
(4)分析引起当时人口迁移的主要社会经济原因:
①_____;②_____;
③_____;④_____。
(5)战后国际人口迁移的特点(流向)与战前是否相同?为什么?

剖析 本题主要考查人口迁移的地区、特点、因素等。19 世纪以前,人口迁出的地区主要是欧洲和非洲。当时国际人口迁移的特点是:以集团性、大批的移民为主;当时国际人口迁移的流向为:由旧大陆迁入新大陆,由已开发国家迁入未开发国家;当时人口迁移的主要社会经济原因有:新大陆的发现、新航线的开辟、资本主义经济的发展、殖民主义扩张。战后国际人口迁移的特点与战前是不同的,战后迁移特点由发展中国家迁往发达国家。因为发达国家社会经济发达,人力

资源相对不足,发展中国家人口迁入可谋求更好的就业机会,获得更高的经济收入,以提高自己的生活水平。

解答 (1)欧 西班牙、葡萄牙、荷兰、法国、英国、德国、意大利(任写三个) 非 (2)以集团性、大批的移民为主。(3)由旧大陆迁入新大陆;由已开发国家迁入未开发国家 (4)新大陆的发现 新航线的开辟 资本主义经济的发展 殖民主义扩张 (5)不同。战后迁移特点为由发展中国家迁往发达国家。因为发达国家社会经济发达,人力资源相对不足,发展中国家人口迁入可谋求更好的就业机会,获得更高的经济收入,以提高自己的生活水平。

变式 2 读“1949 年以来我国国内人口迁移的主要流向”(图 1-2-4),回答下列问题。

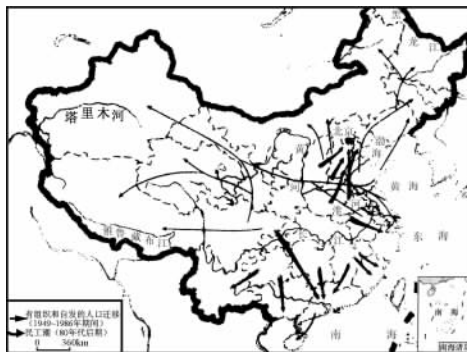


图 1-2-4 1949 年以来我国国内人口迁移的主要流向

- (1)从图中看出,人口迁入数量最多的地区是_____、_____、_____。
(2)新疆吸引人口迁入的主要原因是_____。
(3)四川人口大量外迁对本省产生的积极影响是_____。
(4)这一时期人口迁移的特点主要表现为_____的大量增加,人口迁移的主要目的是为了_____和_____。
(5)90 年代以来重庆、湖北出现了新的迁移“民工潮”,其原因是_____。

课后强化提升



(时间:60 分钟 满分:60 分)

一、选择题(每小题 3 分,共 36 分)

1. 有关人口迁移概念的理解,正确的说法是 ()
A. 凡是人口在两个地区间的空间移动,均称为人口迁移
B. 参与国际旅游的游客属于人口迁移

- C. 我国大学生赴美国留学属于人口迁移
D. 空间移动距离在 100 千米以上的属于人口迁移

我国人口形势严峻,为了摸清全国人口状况,国家组织进行了第五次人口普查。这次普查除了投入更多的人力、物力外,国务院还强调对各外资企业、三资企

业和娱乐场所要认真清查登记。据此回答下题

2. 第五次人口普查与前几次人口普查相比, 尽管投入人力多, 但统计难度大的主要原因是 ()
- A. 近几年人口增长过快
B. 人口分布极不平衡
C. 国内自发的人口迁移
D. 大量的国际人口迁移
3. 20世纪80年代中期以来我国人口迁移的特点是 ()
- A. 从城市迁往农村
B. 规模小、频率低
C. 由内地迁往边疆
D. 流动人口大量增加
4. 近年来我国东部大城市出现的“民工潮”现象, 表明 ()
- ①乡村城镇化速度加快 ②农村剩余劳动力就地转化不足 ③大城市人口老龄化问题严重 ④地区间经济发展的不平衡
- A. ①④ B. ③
C. ②④ D. ①③④
5. 20世纪末因战争而引起大规模人口迁移的一组国家是 ()
- A. 伊拉克、古巴、科威特
B. 古巴、海地、巴拿马
C. 卢旺达、刚果
D. 印度、巴基斯坦、孟加拉国
6. 阿拉伯联合酋长国、科威特外来人口已超过本国人口, 其主要原因是 ()
- A. 本国人口稀少, 缺少劳动力
B. 经济发展水平高, 能提供较多的就业机会
C. 石油收入大增, 经济发展快, 吸引大批外籍工人
D. 人口老龄化现象严重, 需青壮年劳力从事脏累工作
7. 随着我国西部大开发的实施, 很多人向西部迁移, 这种局面形成的主要原因是 ()
- A. 水源条件的改善
B. 民族政策的改变
C. 交通和通信的进步
D. 经济布局的改变
8. 近年来, 我国出现“民工潮”的主要原因是 ()
- A. 城市和沿海地区经济的迅速发展, 我国农村出现大量剩余劳动力
B. 东南部劳动力不足
C. 我国农村人口密度大
D. 东南部沿海地区气候条件优越, 更适宜人类生存与居住

图 1-2-5 中人口迁移率指人口迁移数与总人口

比例, 正值为迁入。读图 1-2-5, 回答 9~10 题。

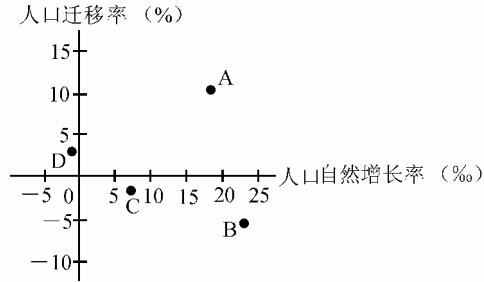


图 1-2-5

9. 图中四个地区人口增长速度最快和最慢的分别是 ()
- A. A、C B. B、D
C. C、D D. A、D
10. 如果 A 至 D 各代表一个国家, 则下面四组国家中最可能的是 ()
- A. 埃塞俄比亚、沙特阿拉伯、德国、日本
B. 美国、德国、阿根廷、埃及
C. 日本、中国、越南、匈牙利
D. 科威特、索马里、葡萄牙、德国

下表是我国第五次人口普查时“某市迁入人口年龄及性别统计表”。据此回答 11~12 题。

年龄段(岁)	0~14	15~29	30~44	45~59	≥60
男性人口(万人)	5.04	25.14	14.68	4.94	1.76
女性人口(万人)	3.84	37.10	11.63	4.01	1.78

11. 该市迁入人口的特征有 ()
- A. 男性人口多于女性人口
B. 人口迁移主要受经济因素影响
C. 以老年人口为主
D. 与该市原有人口年龄构成相似
12. 迁入人口对该市的影响有 ()
- A. 缓和了当地就业紧张局面
B. 制约了该市的经济发展
C. 减少了该市的被抚养人口
D. 加大了城市基础设施的压力

二、综合题(共 24 分)

13. 读“1984 年到 1995 年我国流动人口数量的变动柱状图”(图 1-2-6), 回答下列问题。(8 分)

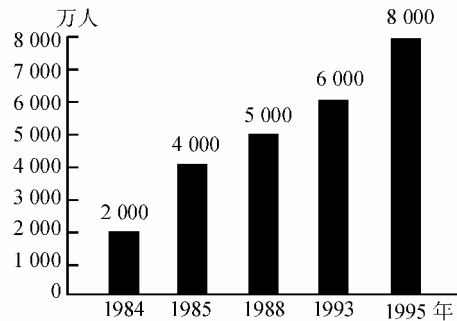


图 1-2-6



札记

(1)从图中看,这一时期流动人口数量呈_____的趋势。

(2)这一时期人口流动的主要方向是:

①_____;②_____。

(3)这一时期的人口流动主要是_____性的,迁移和流动的目的主要是_____和_____。

(4)这一时期原为人口净迁出的_____省和_____市,开始变为净_____省市。

14. 读下表,回答下列问题。(10分)

1985年7月至1990年6月我国人口迁移的原因总结:

原因分类	占迁移人口的比重(%)	性别比	原因分类	占迁移人口的比重(%)	性别比
经济性原因	56.2	217.3	家庭性原因	34.5	39.0
a. 工作调动	11.5	268.4	f. 投亲靠友	9.9	75.9
b. 分配录用	5.9	243.5	g. 随迁家属	10.4	67.4
c. 务工经商	24.3	223.8	h. 婚姻迁入	14.62	9.7
d. 学习培训	12.9	149.7	其他原因	9.3	215.0
e. 退休离职	1.6	603.9	合计	100	123.1

(注:性别比是指平均每100个女性所相应的男性人口数量。如大于100,表明男性人数多于女性;若小于100,则说明男性人数少于女性。)

(1)表中所列影响人口迁移的各种因素中,经济因素占迁移人口的比重是_____。其中又以_____人员比例最高,且该时期的人口流动与以前主要受_____影响不同,主要是_____。

(2)表中人口迁移的其他原因还包括_____和_____等。

(3)在所有经济性人口迁移中,就性别而言,_____性人口数超过_____性人口数;在家庭人口迁移中,_____性人口数超过_____性人口数。这是由于男性与女性在社会生活中的_____不同造成的。

15. 图1-2-7是影响人口迁移诸因素的知识体系结构框图。据图回答下列问题。(6分)

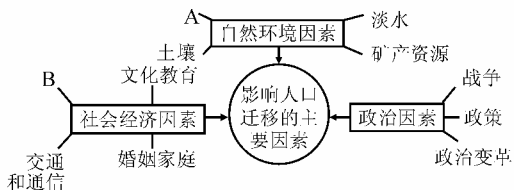


图1-2-7

(1)填出影响人口迁移的因素名称:A _____, B _____。

(2)影响人口迁移的最主要因素是 ()

- A. 政治因素
- B. 自然环境因素
- C. 社会经济因素
- D. 政策和矿产资源

(3)中国宋朝首都由开封迁往临安,北方农民南迁给南方带来了先进生产技术,引起这种人口迁移的主要因素是 ()

- A. 环境的变化
- B. 交通的发展
- C. 政治中心的改变
- D. 矿产资源的开发

热点考题回放

考题 (2007·山东文综)图1-2-8是我国第五次人口普查中四个省份的有关人口数据统计分析图。读图判断①、②、③、④所代表的省份依次是 ()

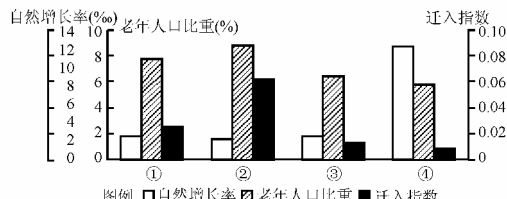


图1-2-8

- A. 辽宁、江苏、湖北、贵州
- B. 贵州、湖北、江苏、辽宁

- C. 江苏、辽宁、贵州、湖北
- D. 湖北、江苏、辽宁、贵州

分析 根据柱状图内容以及结合我国各省的情况即可选出正确答案,辽宁省与江苏省位于沿海地区,近几年人口迁入指数较高,尤其是江苏省,由于乡镇企业发展吸引了大批外来务工人员;同时,这两省经济较为发达,老年人口比重也相对较高。湖北省位于中部地区,经济有待发展。贵州省位于我国西部地区,经济相对落后,人口自然增长率较高。做这类题目关键是掌握相应的知识,加以分析即可知选项。

答案 A

课时考点探究



(时间:20分钟 满分:20分)



读“不同城市间人口流动趋势示意图”(图1-2-9),回答下列1~2题。

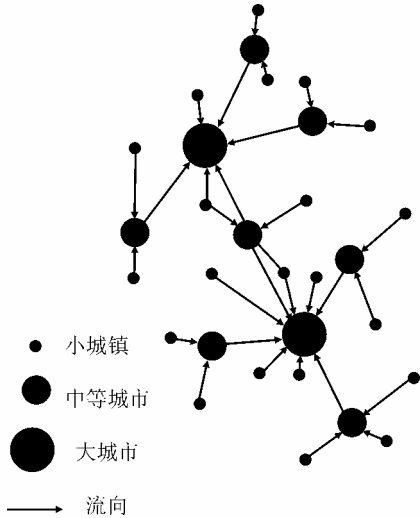


图 1-2-9

1. (5分)符合图中所示人口流动趋势的国家和地区是 ()

- A. 20世纪60年代的中国
- B. 20世纪80年代的美国
- C. 20世纪90年代的欧洲
- D. 20世纪90年代的中国

2. (5分)引发图中所示的城市人口流动的最主要原因是 ()

- A. 政治因素
- B. 环境因素
- C. 经济因素
- D. 文化因素

3. (10分)(2007·福州模拟)读图1-2-10并联系相关知识,回答下列问题。

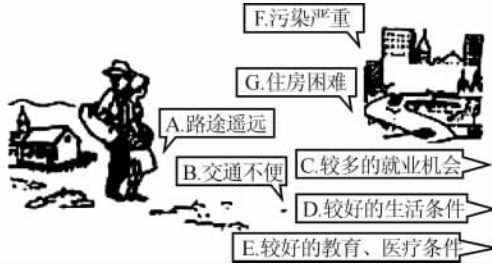


图 1-2-10

(1)图中字母代表的内容,属于迁入区拉力的是 (填字母),属于迁入区阻力的是 (填字母)。

(2)近年来,我国东部大城市出现了“民工潮”现象,表明 ()

- ①乡村城镇化速度加快
- ②农村剩余劳动力就地转化不足
- ③大城市人口老龄化问题严重
- ④地区间经济发展不平衡

- A. ③
- B. ①④
- C. ②④
- D. ①③④

(3)简述现阶段我国人口大规模流动的主要原因和直接结果。

知识点导练答案对照

1. 人口自然增减 人口迁移
2. 居住地 国际人口迁移 国内人口迁移
3. 集团性 大批的移民 美 大洋 新大陆 工业
4. 发展中 发达 定居移民 短期流动 迁出 迁入 西欧经济发展较快,吸引了大量移民 迁入 迁出 美国 加拿大 西欧 西亚 北非 石油的大量开发,需要大量的劳动力,而当地劳动力不足
5. 自然环境和社会经济环境的变化 个人对生活或职业需求的变化 迁入 环境 价值观
6. 经济发展 文化教育
7. 经济

札记

课时3 人口的合理容量

课时基础知识



知识点导练

1. 理论研究和现实问题都表明,环境对人口的容量是有限度的,这种限度可以用_____来表示。

2. 一般地说,环境承载力是指环境_____,所以,_____是衡量环境承载力的重要指标。

3. 环境人口容量的定义是:一个国家或地区的环境人口容量,是在_____的时期内,利用_____,智力和技术等条件,在保证符合_____的物质生活水平条件下,该国家或地区所能_____的人口数量。

4. 环境人口容量的大小受到许多因素的制约。其中资源、科技发展水平以及_____和_____水平,对环境人口容量的影响最大。

5. _____主要研究“地球最多能养活多少人”。

6. _____主要研究“地球上适合养活多少人”。

7. 在环境人口容量的估计中,假定条件不同,不同的人有不同的估计结果。这表明环境人口容量具有_____的特点。

8. 就整个世界来说,要消除贫困并保持人口的合理容量,一方面国际社会要倡导各国政府,尤其是发展中国家要_____;另一方面,还要建立_____,保证大多数人拥有不断追求高水平生活质量的平等权利。

9. 现实中的人类社会,已经出现了_____,_____和_____等人口问题,并由人口问题进一步引发了严重的_____问题和_____问题。

重难点导学

1. 环境人口容量的制约因素

(1)制约环境人口容量的因素

①资源:是制约环境人口容量的主要因素;

②科技发展水平:随社会的发展而不断提高,影响人类对资源利用的深度和广度;

③人口的生活和文化消费水平:不同的历史时期和不同的地域范围内,人口的生活和文化消费水平可能存在较大差异。

(2)主要制约因素与环境人口容量的关系

①正相关:资源的数量、科技发展水平、区域开放程度等;

②负相关:生活消费水平、环境污染、生态破坏等。

2. 环境人口容量的估计

(1)差异的原因

假定条件不同,估计方法不同。

(2)三种观点

①乐观者:未来世界的人口,不会达到环境人口容量的最大值。

②悲观者:目前世界人口太多,已经大大超过了地球的环境人口容量。

③介于乐观者和悲观者之间:地球的环境人口容量在100亿左右。

3. 人口合理容量

(1)定义

是指按照合理的生活方式,保障健康的生活水平,同时又不妨碍未来人口生活质量的前提下,一个国家或地区最适宜的人口数量。

(2)意义

对于制定一个地区或一个国家的人口战略和人口政策有着重要的意义,进而影响区域的经济社会发展战略。

课堂基础巩固



★★★

(时间:20分钟 满分:45分)

一、选择题(每小题4分,共32分)

1. 衡量环境承载力的重要指标是 ()

- A. 人口数量 B. 人口素质
C. 人口年龄构成 D. 人口性别比例

2. 制约环境人口容量的主要因素是 ()

- A. 科技发展水平 B. 人口的文化水平
C. 人口的消费水平 D. 资源