



Contents  
• 目录 •

第 6 章 我们生活的大洲——亚洲

第一节 自然环境 .....	( 1 )
第二节 人文环境 .....	( 5 )
第 6 章 综合闯关卷(A) .....	(10)
第 6 章 综合闯关卷(B) .....	(13)

第 7 章 我们邻近的国家和地区

第一节 日 本 .....	(17)
第二节 东南亚 .....	(21)
第三节 印 度 .....	(26)
第四节 俄罗斯 .....	(30)
第 7 章 综合闯关卷(A) .....	(35)
第 7 章 综合闯关卷(B) .....	(39)
期中测试卷 .....	(43)

第 8 章 东半球其他的国家和地区

第一节 中 东 .....	(48)
第二节 欧洲西部 .....	(53)

第三节 撒哈拉以南的非洲 .....	(57)
第四节 澳大利亚 .....	(61)
第8章 综合闯关卷(A) .....	(66)
第8章 综合闯关卷(B) .....	(70)

## 第9章 西半球的国家

第一节 美国 .....	(74)
第二节 巴西 .....	(78)

## 第10章 极地地区

第10章 极地地区 .....	(83)
第9~10章 综合闯关卷(A) .....	(87)
第9~10章 综合闯关卷(B) .....	(91)
期末测试卷 .....	(95)
参考答案及点拨 .....	(1~14)



# 第6章

## 我们生活的大洲——亚洲

### 第一节 自然环境

本节重难点提示及高效解题要诀:

1. 重难点提示:

(1) 本节重点是亚洲的地理位置、濒临的海洋、相邻的大洲及分界线;亚洲的地形、地势特点;亚洲复杂的气候特征及其影响。对应三星级练习题中的第3、4、11、15题,四星级练习题中的第16、17题。

(2) 本节难点是为什么说亚洲是世界第一大洲。对应四星级练习题中的第4、9题。

(3) 本节常考点是亚洲的地形、地势特点。对应五星级练习题中的第2题。

2. 高效解题要诀:

(1) 通过读图、填图练习掌握亚洲的地理位置、范围、濒临的海洋、相邻的大洲及分界线、主要国家及其首都等。

(2) 利用“亚洲地形、地势图”直观理解亚洲的地形、地势特点。

(3) 搜集相关资料,了解亚洲的“世界地理之最”,体会亚洲是世界第一大洲的说法。

### 课堂基础巩固 练 ★★★

(时间:30分钟 满分:30分)

- 世界上面积最大的洲是 ( )  
A. 非洲                      B. 亚洲                      C. 北美洲                      D. 南美洲
- 亚洲的主体部分位于 ( )  
A. 西半球、北半球      B. 西半球、南半球      C. 东半球、北半球      D. 东半球、南半球
- 有关亚洲的叙述,正确的是 ( )  
A. 绝大部分位于西半球  
B. 以热带草原气候为主,跨纬度最广的大洲  
C. 西亚联系亚、欧、非三大洲,沟通大西洋和印度洋,处在重要的交通位置上,而且西亚波斯湾沿岸地区,地下埋藏着丰富的石油  
D. 亚洲东部和南部是热带雨林气候
- 亚洲的地形特点是以 ( )  
A. 高原、山地为主      B. 丘陵为主                      C. 平原为主                      D. 盆地为主
- 白令海峡是\_\_\_\_\_的分界线 ( )  
A. 亚洲与欧洲              B. 亚洲与北美洲              C. 亚洲与非洲                      D. 亚洲与大洋洲

札记

6. 亚洲最大的平原是 ( )  
A. 东北平原 B. 华北平原 C. 印度河平原 D. 西西伯利亚平原
7. 亚洲分布范围最广的气候类型是 ( )  
A. 热带季风气候 B. 温带季风气候 C. 温带大陆性气候 D. 热带雨林气候
8. 下列国家地处东亚的是 ( )  
A. 韩国 B. 伊朗 C. 印度 D. 俄罗斯
9. 世界上最大的群岛是 ( )  
A. 西印度群岛 B. 马来群岛 C. 菲律宾群岛 D. 日本群岛
10. 中国位于 ( )  
A. 东亚 B. 东南亚 C. 南亚 D. 北亚
11. 亚洲西北以\_\_\_\_\_山脉、\_\_\_\_\_河、\_\_\_\_\_海、大高加索山脉、\_\_\_\_\_海和\_\_\_\_\_海峡与欧洲为界。
12. 通常,人们按地理方位,把亚洲分为东亚、\_\_\_\_、\_\_\_\_、西亚、\_\_\_\_和中亚 6 个地区。
13. 亚洲河流众多,它们发源于中部山地、高原,呈\_\_\_\_\_状流向周边的海洋;\_\_\_\_\_是亚洲最长的河流,位居世界第\_\_\_\_\_位;亚洲河流分布特点是由其\_\_\_\_\_的地势决定的。
14. 亚洲是世界上季风气候最显著的地区,主要的季风气候类型有\_\_\_\_、\_\_\_\_和\_\_\_\_\_。
15. 亚洲的气候具有复杂多样、\_\_\_\_\_气候显著和\_\_\_\_\_气候分布广的特点。

### 课后强化提升 练 ★★★★★

(时间:45 分钟 满分:60 分)

#### 一、选择题

1. 亚洲与非洲的分界线是 ( )  
A. 乌拉尔山脉、乌拉尔河、里海、大高加索山脉 B. 巴拿马运河  
C. 苏伊士运河 D. 土耳其海峡
2. 世界上最大的半岛及其所在的大洲搭配正确的是 ( )  
A. 阿拉伯半岛——亚洲 B. 斯堪的纳维亚半岛——欧洲  
C. 印度半岛——亚洲 D. 中南半岛——亚洲
3. 我国东部和东南部夏季降水的多少主要受 ( )  
A. 冬季风的影响 B. 夏季风的影响 C. 东北风的影响 D. 西北风的影响
4. 关于亚洲的叙述,不正确的是 ( )  
A. 世界上面积最大的大洲 B. 世界上东西距离最长的大洲  
C. 世界上跨纬度最广的大洲 D. 世界上跨经度最广的大洲
5. 发源于亚洲中部青藏高原,向东流入太平洋的亚洲最长的河流是 ( )  
A. 长江 B. 黄河 C. 尼罗河 D. 亚马孙河

歌曲《亚洲雄风》描述了我们美丽的亚洲:“我们亚洲,山是高昂的头;我们亚洲,河像热血流;我们亚洲,树都根连根;我们亚洲,云也手握手!莽原缠玉带,田野织彩绸,亚洲风乍起,亚洲雄风震天吼!我们亚洲,江山多俊秀;我们亚洲,物产也富有;我们亚洲,人民最勤劳;我们亚洲,健儿更风流!四海会宾客,五洲交朋友,亚洲风乍起,亚洲雄风震天吼!啦……亚洲雄风震天吼!”

据此,完成 6~8 题。

6. “我们亚洲,山是高昂的头。”亚洲不仅有世界上最高的大高原,还有世界上最高大的山脉和山峰。从分布来看,这些高原、山地主要位于亚洲的 ( )



- A. 东部                      B. 南部                      C. 西部                      D. 中部
7. “我们亚洲,河像热血流。”亚洲的地形特点影响着其河流的分布,下列对亚洲河流流向的描述,比较合理的是 ( )
- A. 浩浩荡荡地向南注入印度洋                      B. 默默地流入北冰洋
- C. 滚滚向东流入太平洋                      D. 从亚洲的中部呈放射状流向周边的海洋
8. “莽原缠玉带。”亚洲河流众多,下列对亚洲一些河流的叙述,错误的是 ( )
- A. 亚洲第一长河——长江发源于青藏高原,向东流入太平洋
- B. 湄公河、恒河、印度河都是自北向南流入印度洋
- C. 叶尼塞河、鄂毕河向北注入北冰洋
- D. 黄河、黑龙江,最后都注入太平洋
9. 中学生李林到亚洲各地旅游,他说看到了世界陆地的最低处和最深的湖,这“最低处”和“最深的湖”分别是指 ( )
- A. 里海湖面,死海湖面                      B. 死海湖面,里海
- C. 死海湖面,贝加尔湖                      D. 里海湖面,贝加尔湖
10. 阿拉伯半岛气候干燥的原因是 ( )
- ①地面沙漠广布    ②海洋水汽影响小    ③地势低,平原分布广    ④气温高,蒸发量大
- A. ①②                      B. ③④                      C. ①③                      D. ②④
11. 亚洲东部季风气候显著的主要原因是 ( )
- A. 经度跨度大                      B. 地形类型多种多样                      C. 纬度跨度大                      D. 海陆差异大
12. 亚洲有“地球之巅”珠穆朗玛峰和世界陆地表面最低处——死海湖面,说明亚洲的地形具有什么特征 ( )
- A. 平均海拔高                      B. 平均海拔低                      C. 地形复杂多样                      D. 地势起伏大,高低悬殊
13. 世界上跨经度最广、东西距离最长的大洲组合,正确的是 ( )
- ①亚洲    ②南极洲    ③非洲    ④北美洲    ⑤大洋洲    ⑥南美洲
- A. ③⑥                      B. ②①                      C. ④⑤                      D. ②⑥
14. 亚洲地域辽阔,气候类型复杂多样,惟一没有的气候类型是 ( )
- A. 温带季风气候                      B. 热带季风气候                      C. 温带海洋性气候                      D. 温带大陆性气候
15. 下列大洲中,地跨寒、温、热三带的是 ( )
- A. 亚洲                      B. 非洲                      C. 欧洲                      D. 南美洲

二、综合题

16. 读图 6-1-1,按要求完成下列内容。

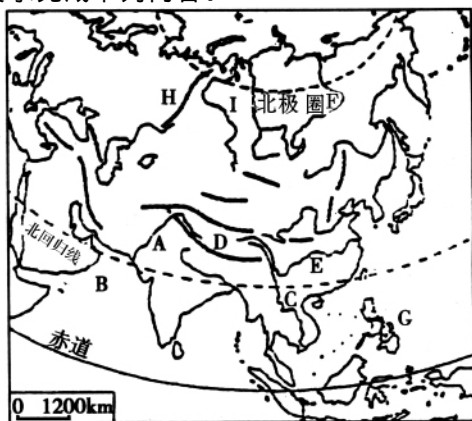


图 6-1-1



(1)填写图中字母所代表的地理事物的名称。

A \_\_\_\_\_ 平原, B \_\_\_\_\_ 海, C \_\_\_\_\_ 河, D \_\_\_\_\_ 高原, E \_\_\_\_\_ 江, F \_\_\_\_\_ 河, G \_\_\_\_\_ 群岛, I \_\_\_\_\_ 平原, H \_\_\_\_\_ 山脉。

(2)从图中可以看出,亚洲的海陆位置特点是:北、东、南三面 \_\_\_\_\_, 西部以 \_\_\_\_\_ 山脉(填代号)、 \_\_\_\_\_ 河、 \_\_\_\_\_ 海、 \_\_\_\_\_ 山脉、黑海、土耳其海峡与 \_\_\_\_\_ 洲为界。

(3)从图中分析出亚洲的纬度位置和所跨的温度带。

(4)F 河流的东侧是 \_\_\_\_\_ 山地, 西侧是 \_\_\_\_\_ 高原。D 南部的山脉是 \_\_\_\_\_。亚洲的地形以 \_\_\_\_\_ 为主, 地势特点是 \_\_\_\_\_, 因此, 河流多发源于中部的 \_\_\_\_\_, 呈 \_\_\_\_\_ 状流向周边的海洋。

17. 读“亚洲气候类型图”(图 6-1-2), 完成下列问题。

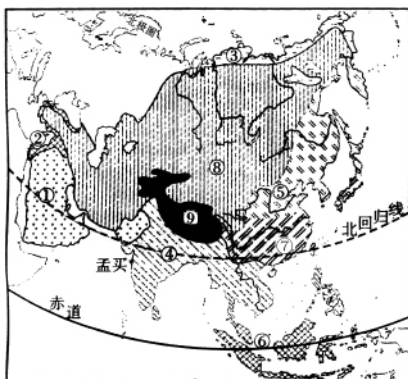


图 6-1-2

(1)亚洲各种气候类型中, 序号 \_\_\_\_\_ 所代表的 \_\_\_\_\_ 气候类型分布面积最广。

(2)由于亚洲中部 \_\_\_\_\_, 形成序号 ⑨ 所代表的高原山地气候。

(3)我国东南沿海地区与阿拉伯半岛同一纬度, 都有北回归线穿过, 可是阿拉伯半岛是炎热干燥的热带沙漠气候, 而我国东南沿海地区却是夏季炎热多雨、冬季低温少雨的 \_\_\_\_\_ 气候类型, 原因是 \_\_\_\_\_。

(4)关于亚洲气候复杂多样原因的叙述, 错误的是 ( )

- A. 南北跨纬度大, 东西离海远近差异大
- B. 河湖众多, 增加了气候的复杂性
- C. 植被类型多, 增加了气候的复杂性
- D. 地形复杂并且起伏大, 增加了气候的复杂性

(5)序号 ⑥ 所代表的气候类型, 其气候特征是 ( )

- A. 炎热干燥
- B. 全年高温, 旱雨两季
- C. 终年高温多雨
- D. 冬冷夏热, 降水稀少

经典考题综合 练 ★★★★★

(时间: 15 分钟 满分: 15 分)

1. (2007·株洲)“我们亚洲, 山是高昂的头, 我们亚洲, 河像热血流……”听到这首《亚洲雄风》的歌曲, 我们的脑海中会涌现出亚洲山河的壮丽画卷。下列有关亚洲景观的描述, 正确的是 ( )



- A. 青藏高原是世界上最高的高原
  - B. 喜马拉雅山是最长的山脉
  - C. 长江是世界第一长河
  - D. 贝加尔湖是世界上面积最大的淡水湖
2. (2007·福州)关于亚洲地势、地形、河流的叙述,正确的是 ( )
- A. 地形以平原为主,地势平坦,河流稀少
  - B. 地势中部低、四周高,河流多为内流河
  - C. 地势中部高、四周低,河流由中部向四周呈放射状分布
  - D. 地形以高原为主,地势东高西低,河流短急

## 第二节 人文环境

### 本节重难点提示及高效解题要诀:

#### 1. 重难点提示:

(1)本节重点是亚洲人口增长的特点及多样的地域文化。对应三星级练习题中的第10题,四星级练习题中的第1、5、6题。

(2)本节难点是亚洲各国经济发展的差异及原因。对应三星级练习题中的第15题,四星级练习题中的第3、10题。

(3)本节常考点是亚洲是世界上人口最多、面积最大的大洲,亚洲各国经济发展水平的差异。对应五星级练习题中的第1、3、4题。

#### 2. 高效解题要诀:

(1)通过阅读图表、图片等资料证实亚洲是世界上人口最多的大洲。

(2)通过图片、资料等了解亚洲多种多样的地域文化特点,初步学会分析不同地域文化产生的自然环境背景。

### 课堂基础巩固练 ★★★

(时间:30分钟 满分:30分)

- 1. 世界上人口最多的大洲是 ( )
- A. 亚洲      B. 欧洲      C. 非洲      D. 北美洲
- 2. 亚洲人口最多的民族是 ( )
- A. 汉族      B. 朝鲜族      C. 俄罗斯族      D. 蒙古族
- 3. 世界上人口自然增长率最高和最低的两个大洲分别是 ( )
- A. 非洲、亚洲      B. 非洲、欧洲      C. 亚洲、欧洲      D. 拉丁美洲、欧洲
- 4. 亚洲民族数量约占世界总数的 ( )
- A. 八分之一      B. 四分之一      C. 二分之一      D. 三分之一
- 5. 位于亚洲的发达国家是 ( )
- A. 中国      B. 美国      C. 印度      D. 日本
- 6. 亚洲人类文明的发祥地之一美索不达米亚平原位于 ( )
- A. 东亚      B. 南亚      C. 西亚      D. 中亚
- 7. 造成世界,特别是亚洲环境问题的根本所在是 ( )

札记

- A. 资源短缺 B. 人口众多 C. 经济落后 D. 生态平衡被破坏
8. 亚洲地域辽阔,历史悠久,世界四大文明古国中有三个出现在亚洲。它们分别是 ( )
- A. 古埃及、古巴比伦、古希腊 B. 古希腊、古中国、古印度
- C. 古中国、古巴比伦、古希腊 D. 古中国、古巴比伦、古印度
9. 2000年,亚洲人口达到 ( )
- A. 13亿 B. 60亿 C. 36.8亿 D. 35亿
10. 亚洲有大小民族1000个左右,不同地区的民族,创造了不同的文化。旗袍、和服分别是下列哪两个国家的民族服饰 ( )
- A. 韩国、日本 B. 中国、印度 C. 日本、印度 D. 中国、日本
11. 2000年,世界人口为\_\_亿,其中亚洲约有\_\_亿人口。2003年亚洲有\_\_个国家人口超过1亿。
12. 2000~2005年世界各大洲按平均人口自然增长率的高低排序为:\_\_\_\_洲、拉丁美洲、\_\_\_\_洲、大洋洲、北美洲、\_\_\_\_洲。
13. 亚洲的三个人类文明的发祥地是:中国的\_\_\_\_地区,南亚的\_\_\_\_流域和西亚的\_\_\_\_平原(又称两河流域)。
14. 人们把社会生产的各部门划分为三类产业。\_\_\_\_是第一产业;工业和\_\_\_\_为第二产业;\_\_\_\_部门和\_\_\_\_部门为第三产业。一般说来,经济落后的国家以\_\_\_\_为主;现在世界上发达国家,大多数\_\_\_\_比重很小,\_\_\_\_比重最大。
15. 亚洲地域辽阔,经济发展不平衡,少数国家属于\_\_\_\_国家,大部分国家属于\_\_\_\_国家。

### 课后强化提升 练 ★★★★★

(时间:45分钟 满分:60分)

#### 一、选择题

1. 关于亚洲人口的叙述,正确的是 ( )
- A. 人口稠密地区都分布在发展中国家 B. 亚洲的各大平原都是人口稠密区
- C. 亚洲是世界人口自然增长率最高的大洲 D. 亚洲人口占世界人口的一半以上
2. 2000~2005年世界平均人口自然增长率为 ( )
- A. 0.13% B. 1.3% C. 13% D. 130%
3. 亚洲国家中,第三产业所占比重最大的国家是 ( )
- A. 中国 B. 日本 C. 印度 D. 泰国
4. 2003年世界人口超过1亿的国家有 ( )
- A. 11个 B. 8个 C. 6个 D. 12个
5. 亚洲面积辽阔,山河壮美,拥有丰富多彩的地域文化,下面不属于亚洲地域文化的有 ( )
- A. 印度河流域文化 B. 华夏文化 C. 玛雅文化 D. 阿拉伯文化
6. 下列关于人口增长速度的叙述,正确的是 ( )
- A. 非洲的人口自然增长率最低,欧洲的人口自然增长率最高
- B. 发展中国家和发达国家的人口增长速度相差不大
- C. 一般来说,发达国家人口增长慢,发展中国家人口增长快
- D. 18世纪以前和以后人口增长没有什么明显的变化

40多年前,地处阿拉伯半岛的某国还是“骑在骆驼背上的游牧国家”,从事游牧的人口约占全国人口的一半,他们饲养单峰骆驼、绵羊、山羊和马,该国的粮食几乎靠进口。然而,自从发现大油田后,该国利用开采石油所获得的大量财富,大力发展农业生产,兴修水利,淡化海水,应用高效节水技术,把昔日黄沙滚滚的土地变成了绿洲良田,已有耕地 260 多万公顷。

根据材料,回答 7~9 题。

7. 该国是阿拉伯半岛上国土面积最大的国家,该国是 ( )  
 A. 伊拉克 B. 阿拉伯联合酋长国 C. 埃及 D. 沙特阿拉伯
8. 这个国家居民的服装适应当地的气候条件,多为 ( )  
 A. 西装 B. 皮袄 C. 宽大长袍 D. 和服
9. 如果在这个国家兴修农田,那么最适宜种植的粮食作物是 ( )  
 A. 水稻 B. 小麦 C. 青稞 D. 甜菜
10. 关于亚洲经济发展状况的叙述,正确的是 ( )  
 A. 经济发展不平衡,地区差异大  
 B. 除日本外,大多数国家属于发达国家  
 C. 发展中国家之间经济发展差异不大  
 D. 中国已步入发达国家行列
11. 关于亚洲人口问题的说法,正确的是 ( )  
 A. 亚洲人口众多,经济发展迅速,大部分国家为发达国家  
 B. 亚洲人口众多,人口自然增长率居世界第一位  
 C. 亚洲人口众多,但面积广大,所以人口密度最小  
 D. 亚洲人口众多,劳动力资源充足
12. 下列国家,20 世纪 70 年代以来,大力发展出口加工工业,经济发展较快的是 ( )  
 A. 沙特阿拉伯 B. 韩国 C. 以色列 D. 中国
13. 下列人口超过 1 亿的国家中全属于亚洲的是 ( )  
 A. 中国、日本、孟加拉国、俄罗斯 B. 印度、巴基斯坦、日本、孟加拉国  
 C. 印度尼西亚、中国、日本、美国 D. 印度、巴基斯坦、日本、尼日利亚

## 二、综合题

14. 读材料,回答问题

在古代东方,大河流域因适宜于人类生产和生活而成为上古文明的摇篮,埃及、两河流域、印度和中国四大上古文明,无一不由大河滋养孕育而生。

- (1) 上述四大上古文明,位于亚洲的有 ( )  
 A. 1 个 B. 2 个 C. 3 个 D. 4 个

- (2) 文明发祥地之一的“两河流域”中的“两河”是指 ( )

①恒河 ②印度河 ③长江 ④黄河 ⑤底格里斯河 ⑥幼发拉底河 ⑦尼罗河

- A. ①② B. ③④ C. ⑤⑥ D. ⑥⑦

(3) 图 6-2-1 是“世界三大文明发祥地示意图”,根据所学的有关地理知识,完成表格中的内容并回答问题。



图 6-2-1





序号	名称	地区(按亚洲地理方位)	主要气候类型	目前所在主要的国家	人种
A					
B					
C					

上述三个地区之所以能成为人类文明发祥地的主要原因是：\_\_\_\_\_

15. 亚洲人口众多,增长速度快,对资源和环境产生了沉重的压力,阅读下面材料,填图6-2-2并回答问题。

人口增长了,要求生产更多的粮食。为了满足人口最基本的粮食需求,亚洲的一些国家,一方面在山坡和干旱地带垦荒种粮,加重水土流失和土地沙化;另一方面,在土地上连续耕种,使土地得不到休耕,土壤肥力逐渐下降。结果,粮食的产量下降。然而为了生存,人们又进一步垦殖,形成恶性循环。

- (1)A. 要求增产粮食
- B. 开垦坡地和干旱地带
- C. 粮食产量下降
- D. 水土流失和土地沙化加重
- E. 恶性循环
- F. 土壤肥力下降



图 6-2-2

(2)解决上述人口增长过快的措施是：

### 经典考题综合练 ★★★★★

(时间:15分钟 满分:15分)

- (2007·福州)世界上面积最大、人口最多的大洲是 ( )  
 A. 亚洲      B. 欧洲      C. 北美洲      D. 大洋洲
- (2007·株洲)宗教是人类社会中一种重要的文化现象。世界三大宗教都起源于 ( )  
 A. 亚洲      B. 欧洲      C. 非洲      D. 北美洲



札记

## 第6章

## 综合闯关卷(A)

班级 \_\_\_\_\_ 姓名 \_\_\_\_\_ 得分 \_\_\_\_\_ (时间:90分钟 满分:100分)

## 一、选择题(20×3分=60分)

- 有关亚洲经济的描述,正确的是 ( )
  - 亚洲经济基础薄弱,所有国家均为发展中国家
  - 亚洲大多数国家过去长期受殖民统治,经济总体落后
  - 亚洲经济基础雄厚,大多数国家为发达国家
  - 亚洲经济发展迅速,尤其是新加坡,已发展成为亚洲最发达的国家
- 下列分界线中,不属于亚洲和欧洲分界线的是 ( )
  - 乌拉尔山脉
  - 白令海峡
  - 大高加索山脉
  - 土耳其海峡
- 亚洲东部濒临的大洋是 ( )
  - 大西洋
  - 印度洋
  - 太平洋
  - 北冰洋
- 亚洲具备寒、温、热三带的多种气候类型的主要原因是 ( )
  - 地形复杂多样
  - 东西跨经度广
  - 南北跨纬度大
  - 季风环流显著
- 暑假里,有四位同学分别到亚洲四个不同的地点旅行。下面是他们描述的旅行见闻,其中最不可信的是 ( )
  - 在世界最大的半岛上,我乘着雪橇逛街景
  - 我坐在去乌兰巴托的火车上,见到了一望无际的大草原
  - 我不会游泳,可在死海中我没有带救生圈却畅游了大半天
  - 在沙特阿拉伯,一些旅店把床铺安排在屋顶上
- 印度位于 ( )
  - 东亚
  - 东南亚
  - 南亚
  - 中亚
- 关于亚洲自然地理特征的叙述,正确的是 ( )
  - 跨经度最广,东西距离最长
  - 湖泊众多,拥有世界上面积最大的淡水湖
  - 东部和南部夏季的降水与夏季风的强弱有着密切的关系
  - 中部地区受地形因素的影响,形成典型的温带大陆性气候
- 哈尔滨与乌兰巴托的纬度基本相同,但哈尔滨的降水比乌兰巴托多,主要原因是 ( )
  - 海陆位置
  - 纬度位置
  - 地形
  - 洋流
- 下列国家中,第一产业比重最低的是 ( )
  - 日本
  - 印度
  - 泰国
  - 缅甸
- 亚洲各国经济发展水平不同,与下面哪个因素无关 ( )
  - 自然条件
  - 社会条件
  - 历史条件
  - 人种不同
- 亚洲流入太平洋的河流有 ( )
  - 鄂毕河、叶尼塞河
  - 黄河、长江
  - 恒河、印度河
  - 伊洛瓦底江、塔里木河
- 亚洲人口最多的国家是 ( )
  - 印度
  - 中国
  - 美国
  - 巴基斯坦



13. 受季风影响最显著、最典型的地区是 ( )  
 A. 亚洲的东部和南部 B. 欧洲的南部和西部  
 C. 亚洲的南部和西部 D. 非洲的北部和西部
14. 分布在亚洲南部中南半岛和印度半岛的气候类型是 ( )  
 A. 热带草原气候  
 B. 热带季风气候  
 C. 温带季风气候  
 D. 亚热带季风气候
15. 世界上最长的河流和亚洲最长的河流分别是 ( )  
 A. 尼罗河、长江 B. 尼罗河、恒河 C. 亚马孙河、长江 D. 亚马孙河、恒河
16. 关于亚洲的叙述错误的是 ( )  
 A. 亚洲地跨热带、温带和寒带 B. 亚洲的西南以苏伊士运河与非洲为界  
 C. 亚洲拥有世界上面积最大的高原 D. 亚洲东临太平洋,南临印度洋
17. 如果沿北回归线从东向西穿越亚洲,所经过地区的气候类型依次为 ( )  
 A. 热带季风气候、热带雨林气候、热带沙漠气候  
 B. 亚热带季风气候、热带季风气候、热带沙漠气候  
 C. 地中海气候、热带草原气候、热带沙漠气候  
 D. 地中海气候、亚热带季风气候、热带沙漠气候
18. 影响亚洲大江大河流向的最主要因素是 ( )  
 A. 气候 B. 纬度位置 C. 地形 D. 海陆位置
19. 与亚洲仅以海峡相隔的大洲是 ( )  
 A. 非洲 B. 欧洲 C. 大洋洲 D. 北美洲
20. 在亚洲的东部和南部,容易出现的自然灾害为 ( )  
 A. 寒潮 B. 旱涝 C. 霜冻 D. 泥石流

二、综合题(共40分)

21. 读图6-1,并对照亚洲地形图,回答下列问题。(10分)




图6-1 亚洲大陆沿87°E的地形剖面图

- (1)A是\_\_\_\_\_山脉,B是\_\_\_\_\_山脉,C是\_\_\_\_\_山脉。  
 (2)B和C之间的地形区是\_\_\_\_\_,属于\_\_\_\_\_气候类型。  
 (3)D处的河流是\_\_\_\_\_江,其流域夏季水量大增的原因是\_\_\_\_\_。

22. 读图6-2,回答下列各题。(12分)

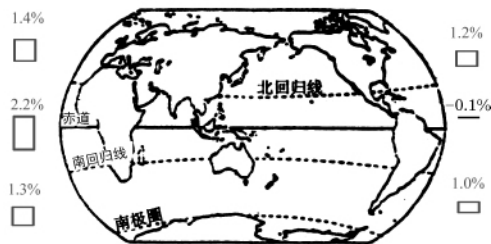


图6-2

札记

(1)将各大洲(2000~2005)年平均人口自然增长率柱状图用直线指向世界七大洲图中相应的位置。

(2)人口数量最多的大洲是\_\_\_\_\_,最少的大洲是\_\_\_\_\_(南极洲除外)。

(3)人口自然增长率最高的大洲是\_\_\_\_\_,人口自然增长率最低的大洲是\_\_\_\_\_。

(4)世界年平均人口自然增长率为1.3%,高于世界平均水平的大洲是\_\_\_\_\_和\_\_\_\_\_,与世界平均水平一样的是\_\_\_\_\_,低于世界平均水平的大洲是\_\_\_\_\_,其中\_\_\_\_\_的人口自然增长率为负增长。

23. 根据图6-3“亚洲气候类型图”,回答问题。(18分)

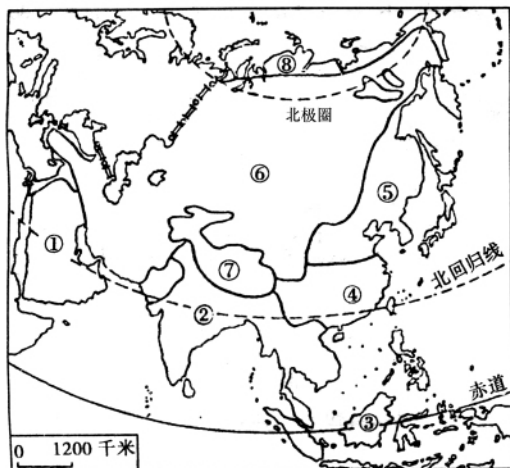


图 6-3

(1)从图中可以看出,亚洲分布最广的是\_\_\_\_\_气候;我国华南大部分地区属于\_\_\_\_\_气候;世界第二人口大国以\_\_\_\_\_气候为主。

(2)图中⑦表示\_\_\_\_\_气候,该地区有世界最高大的山脉是\_\_\_\_\_,其主峰是\_\_\_\_\_,为世界最高峰。

(3)图中③表示\_\_\_\_\_气候,该气候的主要特征是\_\_\_\_\_,在亚洲主要分布在\_\_\_\_\_。

(4)填写字母代表的气候类型名称。

②\_\_\_\_\_, ⑤\_\_\_\_\_。

⑧\_\_\_\_\_。

(5)受纬度位置和\_\_\_\_\_位置的影响,亚洲的气候具有\_\_\_\_\_、季风气候显著和\_\_\_\_\_气候分布广的特点。

(6)“亚洲气候类型图”中北回归线经过的地区气候类型自西向东依次为\_\_\_\_\_、\_\_\_\_\_和\_\_\_\_\_。

## 第6章

## 综合闯关卷(B)

札记

班级\_\_\_\_\_ 姓名\_\_\_\_\_ 得分\_\_\_\_\_ (时间:90分钟 满分:100分)

## 一、选择题(20×3分=60分)

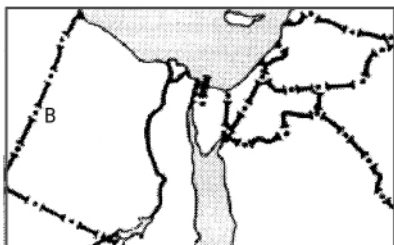
1. 亚洲经济最发达的国家是 ( )  
A. 中国      B. 新加坡      C. 日本      D. 韩国
2. 亚洲地势中部高耸,四周较为低平,因此发源于中部山地、高原的河流流向是 ( )  
A. 自西向东流入海洋      B. 自南向北流入海洋  
C. 自东向西流入海洋      D. 呈放射状流向周边海洋
3. 下列地区中,容易发生旱涝灾害的是 ( )  
A. 亚洲北部      B. 亚洲西部  
C. 亚洲中部      D. 亚洲东部和南部
4. 有关亚洲的叙述正确的是 ( )  
A. 亚洲位于西半球,是世界最大的洲  
B. 亚洲是跨纬度范围最广的大洲  
C. 亚洲气候单一,地形复杂  
D. 亚洲有世界最高峰,也有世界最长的河
5. 人口数量位居世界第一位的大洲的人口自然增长率位居 ( )  
A. 第一位      B. 第二位      C. 第三位      D. 第四位
6. 下列国家,人口超过1亿,地狭人稠,具有海洋性季风特征气候的是 ( )  
A. 朝鲜      B. 马来西亚      C. 印度尼西亚      D. 日本
7. 关于亚洲周边地区地理特点的叙述,正确的是 ( )  
A. 南部三大半岛以阿拉伯半岛为最大  
B. 亚洲最大岛屿是日本的本州岛  
C. 东部三大群岛以日本群岛为最大  
D. 南部重要海峡是白令海峡
8. 亚洲大小民族、种族共有1 000个左右,约占世界总数的一半。不同的民族都有自己的民风、民俗。下面关于亚洲居民生活的自然条件、民族习俗叙述不正确的是 ( )  
A. 日本多地震,故到处是可抗震建筑  
B. 沙特阿拉伯的贝都因人,住帐篷、穿宽袍、过着游牧生活  
C. 生活在恒河三角洲的居民住木屋,身着毛皮服装  
D. 印度尼西亚的加里曼丹岛气候湿热,居民居住的高脚屋长达200米
9. 关于温带大陆性气候的叙述正确的是 ( )  
A. 夏季高温,冬季寒冷,年降水量少,夏季较多  
B. 全年寒冷干燥  
C. 夏季炎热多雨,冬季寒冷干燥  
D. 夏季高温少雨,冬季低温多雨
10. 下列半岛气候最干旱的是 ( )  
A. 印度半岛      B. 中南半岛      C. 阿拉伯半岛      D. 朝鲜半岛

札记

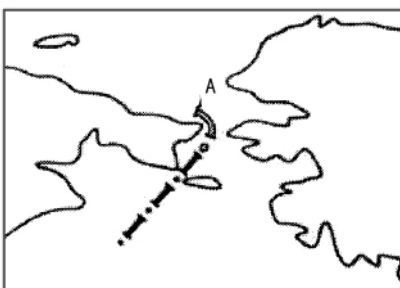
11. 西亚很多国家比较富裕是因为这里 ( )  
 A. 自然条件优越 B. 人口增长慢  
 C. 出口加工工业发达 D. 石油资源丰富
12. 西亚的许多民居都是平顶的,主要原因是 ( )  
 A. 气温高 B. 降水较少 C. 人们的风俗 D. 风力较大
13. 下列地区人口稠密的是 ( )  
 A. 中亚 B. 北亚 C. 南亚 D. 西亚
14. 世界上最深的湖泊贝加尔湖位于哪一国家境内 ( )  
 A. 蒙古 B. 中国 C. 哈萨克斯坦 D. 俄罗斯
15. 人口在 1 亿以上,热带季风气候显著的国家是 ( )  
 A. 印度 B. 印度尼西亚 C. 日本 D. 巴基斯坦
16. 下列平原中,年平均气温最低的是 ( )  
 A. 恒河平原 B. 长江中下游平原  
 C. 华北平原 D. 西西伯利亚平原
17. 亚洲南北跨越的纬度大约是 ( )  
 A.  $90^{\circ}$ 左右 B.  $80^{\circ}$  C.  $70^{\circ}$  D. 小于  $60^{\circ}$
18. 青藏高原夏季气温比长江中下游低得多,其主要原因是 ( )  
 A. 纬度位置的影响 B. 地势高低的影响  
 C. 海陆位置的影响 D. 河流多少的影响
19. 下列河流中注入太平洋的是 ( )  
 A. 叶尼塞河 B. 恒河  
 C. 湄公河 D. 印度河
20. 温带季风气候与亚热带季风气候的区别主要表现在 ( )  
 A. 降水的季节分配方面 B. 风向的季节变化方面  
 C. 1 月平均气温高低方面 D. 7 月平均气温高低方面

二、综合题(共 40 分)

21. 读图 6-4,回答问题。(16 分)



甲



乙

图 6-4



- (1)甲、乙两图中 A 图例表示 \_\_\_\_\_, B 图例表示 \_\_\_\_\_。
- (2)甲图反映的是 \_\_\_\_\_ 洲与 \_\_\_\_\_ 洲的分界线;乙图反映的是 \_\_\_\_\_ 洲与 \_\_\_\_\_ 洲的分界线。
- (3)甲图中两洲的分界线 \_\_\_\_\_ 运河沟通了 \_\_\_\_\_ 海和 \_\_\_\_\_ 海,连接了 \_\_\_\_\_ 洋与 \_\_\_\_\_ 洋,是世界著名的运河之一。
- (4)乙图中两洲的分界线 \_\_\_\_\_ 海峡连接了 \_\_\_\_\_ 洋与 \_\_\_\_\_ 洋,东临 \_\_\_\_\_ 国,西临 \_\_\_\_\_ 国,该海峡位于 \_\_\_\_\_ (东、西)半球,是亚洲的最东端。
- (5)甲、乙两图中大洲的界线相比,纬度高的是 \_\_\_\_\_,航运繁忙的是 \_\_\_\_\_。
- (6)说说运河与海峡有什么区别。

22. 读“A、B、C、D 四地气温、降水图”(图 6-5),回答下列问题。(10 分)

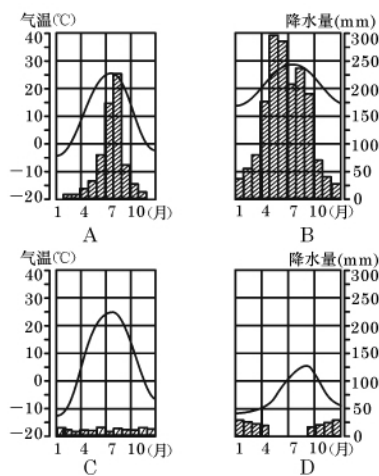


图 6-5

- (1)图 6-5 中表示中亚某城市气温降水变化的为 \_\_\_\_\_ 图,该气候的特点为 \_\_\_\_\_,此气候类型为 \_\_\_\_\_。
- (2)中亚地区以该气候为主的根本原因是 \_\_\_\_\_ ( )
  - A. 高原沙漠广布
  - B. 深居亚欧大陆内部
  - C. 植被以草原荒漠为主
  - D. 降水稀少
- (3)A 地气候特征是:夏季 \_\_\_\_\_,冬季 \_\_\_\_\_,它属于 \_\_\_\_\_ (气候类型)。
- (4)B 地气候特征是:夏季 \_\_\_\_\_,冬季 \_\_\_\_\_,它属于 \_\_\_\_\_ (气候类型)。
- (5)A、B 两地气候的共同特征是 \_\_\_\_\_ ( )
  - A. 高温期与多雨期一致
  - B. 高温期与多雨期不一致
  - C. 1 月平均气温都在 0°C 以上
  - D. 各月降水差异小