

____月____日 星期____ 天气____



格言名句

有志者事竟成。

——范晔

一、填空：

1. _____年，北周外戚杨坚夺取政权，建立____朝，定都_____。

2. _____在位时，开通了纵贯南北的大运河，隋运河以_____为中心，北达_____，南至_____，全长两千多公里，是世界上最长的运河。

二、动脑筋：

1. 有人说隋炀帝为看琼花开通纵贯南北的大运河，这个说法对不对？谈谈你的想法。

2. 隋唐时，一个家住江都（今扬州）的人，如果要去涿郡（今北京），他怎样去既省时又省力，请你帮他想个办法。（画个路线图更好）

三、考考你：

诗一：千里长河一旦开，亡隋波浪九天来。锦帆未落干戈起，惆怅龙舟更不回。

——胡曾

诗二：汴水通淮利最多，生人为害亦相和。东南四十三州地，取尽膏脂是此河。

——李敬方

诗三：尽道隋亡为此河，至今千里赖通波。若无水殿龙舟事，共禹论功不较多。

——皮日休

1. 想一想：以上三首诗都是对哪条河的评价？

2. 你认为哪位的评价恰当？为什么？

知识窗

你知道隋朝大运河是怎样开凿出来的吗？

隋朝大运河是世界上的伟大工程之一。大运河不仅长度居世界第一，而且河道的水深和宽度及通航能力也是最大的。大运河绝大多数河段都是在已有的天然河道和古运河的基础上，有计划加以疏浚、改建和扩展的，新开凿的河段只是其中一部分。它的修建，体现了我国古代劳动人民的聪明才智和创造力。和我国古老的长城一样，大运河千百年来饮誉世界。

____月____日 星期____ 天气____



格言名句

满招损，谦受益。

——《尚书》

一、选择：

1. 唐太宗和汉文帝的共同之处是：

①重视农业生产 ②减轻农民赋役 ③善于纳谏 ④提倡节俭

A. ①② B. ①②③ C. ②③④ D. ①②④

2. 唐太宗时名相辈出，有名的宰相是：

- A. 姚崇、宋璟 B. 张玄素、杜如晦
C. 房玄龄、杜如晦 D. 房玄龄、魏征

3. 武则天去世后之所以立“无字牌”，是因为：

- A. 她是一位女皇帝 B. 让后人评述其功过
C. 她自认为无功可写 D. 功劳太多写不完

4. 郭沫若评价武则天的统治是：

- A. 贞观之治 B. 开元之治
C. 政启开元，治宏贞观 D. 开皇之治

二、填空

下图人物是_____，他作为皇帝，认识到人民群众力量的伟大，曾说过_____。他在位期间，政治清明，经济发展较快，历史上称当时的统治为_____。



三、猜猜看：

一次，唐太宗正在玩一只漂亮的鸟，望见一位大臣走来，忙把鸟儿藏在怀里。其实，这位大臣已经看见了，有意说个没完。唐太宗只好静听，那只鸟儿竟闷死了。后来，这位大臣病逝，唐太宗悲伤地说：“以人为镜，可以明得失。现在他死了，我失去了一面镜子”。

1. 你知道故事里的这位大臣是谁吗？

2. 唐太宗为什么把他比做“镜子”？

故事会

武则天爱才

初唐诗人四杰中骆宾王，为徐敬业写《讨武曌檄》（武则天称帝后以“曌”字为名），对她攻击谩骂，写得痛快淋漓。武则天阅读檄文，看到“一杯（用手捧）之土未乾，六尺之孤安在”（指高宗坟土未干，中宗已遭废除）时，问是何人所写，对方说“骆宾王”，她说：“人有如此才，而未遇到被识拔的机会，这是宰相之过也！”武则天选官虽滥，但只要发现不称职的，就立刻废除甚至诛杀。贤相狄仁杰就是她选用的。开元年间的名臣姚崇、宋璟、张九龄都是武则天时提拔上来的。

____月____日 星期____ 天气____



格言名句

俭，德之共也；侈，恶之大也。

——《左传》

一、选择：

1. 史书称谁的统治前期“贞观之风，一时复振”：
A. 唐太宗 B. 武则天 C. 唐玄宗 D. 唐高祖
2. 唐太宗、武则天、唐玄宗都共同注意的问题是：
A. 轻徭薄赋 B. 重用人才 C. 减轻刑罚 D. 善于纳谏
3. 唐朝时在全国范围盛行：
A. 饮酒之风 B. 饮茶之风 C. 饮可乐之风 D. 饮啤酒之风
4. 唐朝由盛而衰的转折点是：
A. 安史之乱 B. 唐末农民起义 C. 宦官专权 D. 藩镇割据

5. 陆游《老学庵笔记》说：“亳州轻纱，举之若无，裁以为衣，真若烟雾”。这说明唐朝时哪门技术高超？

- A. 棉织技术 B. 丝织技术 C. 毛织技术 D. 麻织技术

6. 被誉为国际性大城市的都市是：

- A. 洛阳 B. 扬州 C. 成都 D. 长安

7. 属于唐时农民改进的农具是：

- A. 筒车 B. 曲辕犁 C. 耨车 D. 翻车

二、动脑筋：

史书记载：“水激轮转，从筒兜（dōu）水，次第下倾于岸上……以灌稻田日夜不息，绝胜人力。”

1. 猜一猜：这是用来干什么的？叫什么名字？出现在何时？

2. 它最大的优点是什么？

3. 请你简单地画一个它的模型图。

三、小测试：

忆 昔

忆昔开元全盛日，小邑犹藏万家室。

稻米流脂粟米白，公私仓廩俱丰实。

九州道路无豺狼，远行不劳吉日出。

你知道这是谁写的诗吗？它描写的是什么时期的景象？

知识窗

茶的历史

我国是茶的故乡，是世界上种茶、制茶、饮茶最早的国家。茶最初被当作一种药材，在长期的医药实践中，人们认识到茶不仅可以治病，而且味道清香，可以清热解渴，是一种很好的饮料。西汉时，完成了从药用到饮料的过渡，当时已有煮茶、卖茶的记载。东汉医学家华佗说：“苦茶久食益意思。”三国时，江南一带已形成饮茶习惯。魏晋南北朝时，茶被用来招待客人。唐朝时，饮茶之风从南方传入北方，渐成为各族人民日常生活之必需。在一些城市，已经出现专门卖茶的茶馆。从唐代开始我国的茶叶相继输往世界各国。至今各国语言中茶字语音，无不源出于我国的茶字，可见茶是我们祖先对人类饮料的一大贡献。唐朝的陆羽所著《茶经》是世界上第一部茶书，从宋代起，他被人称为“茶神”了。

____月____日 星期____ 天气____



格言名句

身教重于言教。

——魏源

一、选择：

1. 科举制的方法是：

- A. 从高门权贵的子弟中选拔官员
- B. 从高门权贵且有才学的子弟中选拔官员
- C. 无论门第高低，只要有真才实学的即可推荐为官
- D. 用考试的办法选拔官员

2. 科举制正式形成于：

- A. 唐朝 B. 隋朝 C. 南朝 D. 北朝

3. 科举制影响很大，下列说法正确的有：

- ①在封建社会延续了 1300 多年 ②是世界上最早的考试制度
③影响到英国的考试制度 ④日本、新罗都沿袭其选官

- A. ②③④ B. ①②③ C. ①③④ D. ①②③④

4. 唐朝完善科举制的关键人物是：

- A. 唐太宗、唐高宗、唐玄宗 B. 唐高祖、唐太宗、武则天
C. 唐太宗、武则天、唐玄宗 D. 唐高宗、武则天、唐玄宗

5. “天下英雄，入吾彀（gòu）中矣”，“太宗皇帝真长策，赚得英雄尽白头”，这两则

材料都与下列哪个制度有关：

- A. 三省制 B. 分封制 C. 郡县制 D. 科举制

二、连线：

扩建校舍，增加学员

唐玄宗

殿 试

武则天

诗 赋

唐太宗

三、议一议：

甲：我认为通过科举考试选拔出来的官（人）都是有才识的，没有通过科举考试的人都是没有真才实学，他们将一事无成。

乙：不一定，像杜甫科举考试就落榜了，你能说他一事无成吗？

请谈谈你的看法。（可结合现实）

新视窗

科举制的弊端

一是科举制度的施行为士子敞开宦门，使大批知识分子醉心于举业，不愿从事冷静的学术研究和深入的思考，不愿从事对国民生计有实用价值的科学技术研究；二是推动知识分子与统治者合流，削弱其独立意识与批判精神，逐渐沦为封建统治者的附庸。

____月____日 星期____ 天气____



格言名句

精诚所至，金石为开。

——王充

一、选择：

- 唐朝被北方各族和西域首领尊奉为“天可汗”的皇帝是：
A. 唐高祖 B. 唐太宗 C. 唐高宗 D. 唐玄宗
- 唐朝设置管辖西域的最高行政和军事机构是：
①安西都护府 ②北庭都护府 ③西域都护府 ④黑水都督府
A. ①② B. ②③ C. ②④ D. ③④
- 松赞干布和文成公主的最重要贡献是：
A. 发展了吐蕃的经济文化 B. 实现了唐蕃之间的长久和平
C. 加速了汉藏两族之间的融合进程 D. 加强了汉藏两族之间的团结友谊
- 9世纪中期，政权瓦解，部众大部分西迁至今甘肃、新疆等地的少数民族是：
A. 吐蕃 B. 南诏 C. 回鹘(hú) D. 靺鞨

二、连线：

1. 把下面古代民族与现代民族祖先连接。


回纥	藏族
南诏	彝族、白族
吐蕃	维吾尔族

2. 把唐玄宗册封过的首领与其对应连接。

回纥	云南王
南诏	渤海郡王
靺鞨	怀仁可汗

三、猜猜看：

这幅画叫什么？谁画的？描写了什么情景？结果怎样？



四、小测试：

1. 今天你若去西藏，你应该从何处寻找当年文成公主入吐蕃的历史痕迹？

2. 这些古迹在什么地方？叫什么？



____月____日 星期____ 天气____



格言名句

业精于勤，荒于嬉；行成于思，毁于随。

——韩愈

一、选择：

1. 今天的朝鲜半岛，唐朝时称为：

- A. 天竺 B. 波斯 C. 大食 D. 新罗

2. 隋唐时，中日交往的著名人物是：

- A. 玄奘 B. 戒日王 C. 鉴真 D. 崔致远

3. 日本受唐朝文化影响很大，包括：

- ①仿照唐制进行政治改革 ②参照汉字创制日本文字
③学习改进饮茶方法，形成茶道 ④建筑、铸钱都与唐朝相仿

- A. ①②③ B. ②③④ C. ①③④ D. ①②③④

4. 唐朝在世界上享有很高声望，当时各国称中国人为：

- A. 汉人 B. 唐人 C. 中国人 D. 东方人

5. 唐朝进口的货物中，以哪国的货物居多：

- A. 新罗 B. 日本 C. 天竺 D. 大食

二、填空：

图中人物是高僧_____，他西游_____取经，还以亲身见闻写成《_____》一书，吴承恩根据其史实写成《_____》，家喻户晓。



三、动脑筋：

1. 判断：A 为_____（国）的开元通宝，B 为_____（国）的和同开珖。

2. 为什么这两枚钱币如此相似？



3. 中国古钱为什么多是图 A 的形状？

A

B

新视窗

波斯、大食和唐朝通好

隋唐时候，西亚的主要国家先有波斯（今伊朗），后有 大食（唐人称阿拉伯为大食）。唐长安城里的外国人，以波斯人为多，波斯富商遍布各地，有的长期留居中国。大食商人从陆路和海路来到中国，定居于广州、扬州、长安的很多，在广州，大食人建立了伊斯兰教礼拜寺（清真寺）。中国的造纸、纺织等技术传入大食，又通过大食传入非洲、欧洲等国。大食习俗，对中国也有影响，唐朝盛行的抓饭、烧饼，就来自大食。

____月____日 星期____ 天气____



格言名句

男儿须读五车书。

——杜甫

一、填空：

1. 隋朝杰出的工匠_____设计并主持建造的_____，是世界上最古老的一座_____桥。

2. 唐都城_____规划整齐，是当时世界上最大的城市。

3. 中国最早发明了印刷术。唐印制的《_____》，是现存世界上最早的、标有确切日期的_____印刷品。

二、连线：

李 白	野火烧不尽，春风吹又生。
杜 甫	飞流直下三千尺，疑是银河落九天。
白居易	国破山河在，城春草木深。

三、动脑筋：

我国唐代成就最高、影响最大的诗人有哪些？你最喜欢哪位？他的诗有何特色？

四、实验园地：

唐朝是我国古代诗歌发展史上的黄金时代。现在收集在《全唐诗》一书中的有两千三百多位诗人的四万八千九百余首诗歌。李白存诗九百多首；杜甫存诗一千四百多首；白居易存诗近三千首。在假期里，请你再多学几首唐诗，把新学的诗摘抄一首。

知识窗

雕版印刷的发明

根据《隋书》和《北齐书》等文献的记载来看，雕版印刷发明于隋代的可能性比较大，史学界一般认为应该出现在隋唐之际，距今已有一千三百多年的历史。

雕版印刷用的版料，一般选用纹质细密坚实的枣木、梨木等。方法是先把字写在薄而透明的纸上，字面朝下贴到版上，用刀把字刻出来；然后在刻成的版上加墨，把纸张盖在版上，用刷子轻匀地揩拭，揭下来，文字就转印到纸上成为正字。虽然刻字费工，但由于木刻工艺简单，费用低廉，印刷便捷，一个熟练工匠，一天可印两千张。

____月____日 星期____天气____



格言名句

学而不思则罔，思而不学则殆。

——孔子

一、选择：

1. 继王羲之之后，我国书法史上最有成就的书法家是：
A. 颜真卿 B. 柳公权 C. 欧阳询 D. 怀素
2. 石窟艺术在隋唐时大为发展，最著名的是：
A. 洛阳龙门石窟 B. 大同云冈石窟 C. 敦煌莫高窟
3. 宋朝人将哪两位的楷书用作印刷字体，称之为“宋体字”：
A. 王羲之、颜真卿 B. 颜真卿、柳公权
C. 欧阳询、柳公权 D. 王羲之、欧阳询

二、连线：

	李 白	医 圣
汉	杜 甫	画 圣
东晋	王羲之	书 圣
唐	吴道子	诗 仙
	张仲景	诗 圣

三、动脑筋：

莫高窟堪称世界最大的艺术宝库之一，其间大量的壁画、塑像和佛经的艺术价值极高，使文化界多了一门学问——敦煌学。

有人说敦煌在中国，敦煌学在国外，你同意这种观点吗？为什么？

四、实验园地：动动手

请你写几个“颜体”字，写几个“柳体”字。

你知道吗

飞 天

飞天是正在飞翔的神，梵语称之为提婆。由于提婆有天的意思，所以汉译为飞天。一些佛教作品描写飞天往往出现在乐鼓齐鸣、天花乱坠的佛说法的庄严时刻。据说她们居住在风光明媚的天宫十座山中，不食酒肉，专采百花香露，散天雨花，放百花香。敦煌莫高窟在现存的 492 个洞窟中，二百七十多个洞窟绘有飞天，总计四千五百余身。

____月____日 星期____ 天气____



格言名句

三军易得，一将难求。

——《三国演义》

一、选择：

1. 澶州之战中，力劝皇帝御驾亲征的大臣是：
A. 岳飞 B. 秦桧 C. 寇准 D. 石守信
2. 宋高宗和秦桧陷害岳飞的动机是：
A. 主张妥协投降 B. 怕岳飞威胁自己的地位
C. 卖国求荣 D. 议和求生存
3. 北宋和南宋对少数民族政权采取的措施中，相似的一项是：
A. 割地求和、划界管辖 B. 对少数民族政权称臣
C. 向少数民族政权送岁币 D. 在边境地区设榷场

4. 澶渊之盟双方是：

- A. 北宋与西夏 B. 北宋与辽 C. 南宋与金 D. 南宋与西夏

二、填空：

1. 960年，后周大将_____在_____发动兵变。他建立了宋朝。宋朝，史称_____，以_____为东京，作为都城。

2. 1127年，_____登上皇位，称宋高宗，定都_____，史称南宋。

三、连线：

- | | |
|--------|---------|
| 1. 阿保机 | 西夏 |
| 阿骨打 | 契丹（后为辽） |
| 元昊 | 金 |

2. 政权	古代地名	今地名
辽	兴庆	杭州
北宋	临安	巴林左旗
西夏	上京	银川
金	东京	北京
南宋	中都	开封

四、动脑筋：

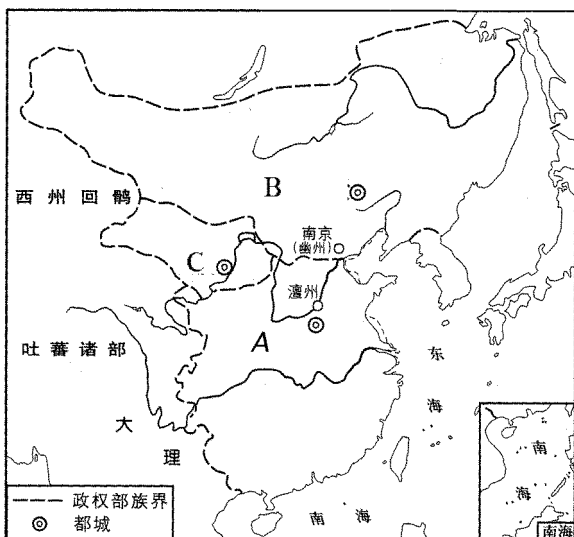
1. 在图中分别填出辽、北宋、西夏的名称。

- A. B.
C.

2. 填出北宋的都城。

3. 图中这些政权他们的范围分别

相当于我们今天的哪些地方？



故事会

请你给这个小故事写个标题：

宋太祖规定，禁军（皇帝的亲军）要轮流驻防京师。频繁的调动，造成“兵不识将，将不知兵”的现象。

宋朝以前，宰相、大臣可以和皇帝对坐议事。宋太祖有一次上朝，宰相范质等仍然坐着。宋太祖说：“我眼花，你们把文书拿近来让我看”。范质等起身呈递文书，回到原处，发现座位已被撤走。从此，宰相、大臣只能站着同皇帝议事。

____月____日 星期____ 天气____



格言名句

先天下之忧而忧，后天下之乐而乐。

——范仲淹

一、选择：

1. 江南地区的农业发展较快，逐渐超过北方的原因是：

- ①南方战乱较少，社会相对安定 ②中原人南迁，带来先进的技术和劳动力
③南方自然条件优越

A. ①②③ B. ①② C. ②③ D. ①③

2. 宋朝手工业中居当时世界首位的是：

A. 丝织业 B. 制瓷业 C. 造船业 D. 棉织业

3. 宋代闻名于世的大商港是：

A. 广州、泉州 B. 广州、临安 C. 泉州、临安 D. 广州、扬州

4. 人口多达百万，店铺林立，“买卖昼夜不绝”，是指哪个都市？

- A. 东京 B. 广州 C. 临安 D. 洛阳

5. 哪个朝代的海外贸易超过了前代：

- A. 唐 B. 隋 C. 宋 D. 五代十国

6. 经济重心南移最后完成是在：

- A. 唐朝中后期 B. 五代 C. 北宋 D. 南宋

7. “苏湖熟，天下足”的谚语反映了：

- A. 南宋经济继续发展
B. 南宋水田增加
C. 苏州、湖州等地稻米产量增大，举足轻重
D. 太湖流域推广占城稻取得成果

二、动脑筋：

《宋史》说：国家根本，仰给东南。


1. 你怎样理解这句话的含义？

2. 出现这种现象的原因是什么？

三、小测试：

这是宋代市场上流通的_____，

叫_____，最早出现在_____地区。



新视窗

瓷器与“China”

景德镇原名昌南镇，五代时开始烧制瓷器。昌南镇有优质的制瓷原料，交通方便。北宋时，从全国各地来了不少工匠，使这里的制瓷业迅速兴起。南宋时，这里有瓷窑三百座，工匠注意吸收各地名窑长处，大大提高了瓷器的质量和工艺水平，除部分上供外，大量远