



横线以内禁止答题

姓名 _____

班级 _____

年级 _____

学校 _____

雪 _____

乡 _____

雪 _____

县 _____

横线以内禁止答题

初中部分

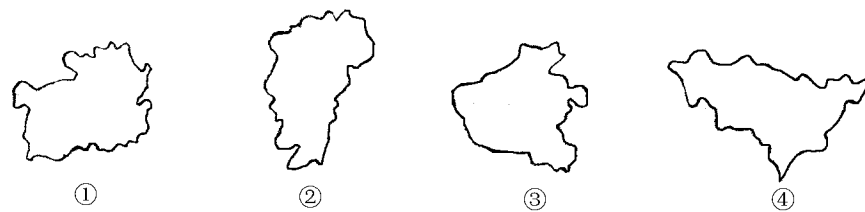
中国地理(一)

一、单项选择题(每题1分)

1. 我国陆上邻国最多的省区是()

- 粤 云南
- 桂 西藏
- 豫 新疆
- 蒙 内蒙古

2. 下面是四个省级行政区的轮廓图(图1),将其按东北、黄河中下游、长江中下游、西南的顺序排列,其序号正确的一组是()



- 粤 ②③④①
- 桂 ①③②①
- 豫 ③①②④
- 蒙 ③①④②

图1

3. 关于我国人口的叙述,不正确的是()

- 粤 我国总人口已超过10亿,是世界上人口最多的国家
- 桂 我国东部人口密度大。特别是沿海各省,每平方千米达300-400人
- 豫 我国人口的分布,东南多、西南少
- 蒙 随着国家经济的发展,我国城镇人口将不断增长,城市化水平不断提高

4. 有关我国民族的叙述,错误的是()

- 粤 我国是一个统一的多民族的社会主义国家,由汉、蒙古等56个民族组成
- 桂 我国少数民族中人口最多的是满族,有1.2亿多人
- 豫 汉族主要集中在东部和中部,各少数民族主要分布在西南、西北和东北等边疆地区
- 蒙 各民族大杂居、小聚居

5. 关于我国地势三级阶梯的说法,正确的是()

- 粤 平均海拔最高的一级阶梯位于我国最西部
- 桂 我国的四大盆地都处于第二级阶梯
- 豫 大兴安岭—太行山—巫山—雪峰山一线以西的第一、二阶梯主要地形为高山、高原和盆地
- 蒙 第三级阶梯海拔在500米以下,主要是广阔的冲积平原

6. 下列各组山脉中,既是地形区界线,又是两侧省区界线的是()

- 粤 太行山、祁连山
- 桂 巫山、阴山
- 豫 大兴安岭、巫山
- 蒙 昆仑山、秦岭

7. 有关我国三大平原的叙述,正确的是()

- 粤 东北平原是我国面积最大的平原,地表以肥沃的黑土著称
- 桂 华北平原主要是黄河挟带泥沙冲积而成,地势平坦,一望无际
- 豫 长江中下游平原地势低平,海拔在50米以下
- 蒙 我国三大平原农业开发历史悠久,人口稠密,经济发达

8. 下列地区与其所在温度带及适宜栽培的农作物的组合,正确的一组是()

- 粤 寒温带——大兴安岭北部——春小麦、马铃薯
- 桂 中温带——松嫩平原——冬小麦、大豆
- 豫 暖温带——河套平原——冬小麦、玉米
- 蒙 亚热带——海南岛——水稻、天然橡胶

9. 关于我国降水的叙述,正确的是()

- 粤 西北非季风区降水稀少,都属于干旱地区
- 桂 东南沿海地区深受湿润的东南季风的影响,年降水量大多在1600毫米以上
- 豫 盛夏7月下旬到8月份,长江中下游地区、黄河中下游地区同时出现伏旱
- 蒙 我国各地降水的年际变化大,主要是由于有些年份冬季风进退的规律反常所造成

10. 关于我国气候特征具有的优越性的叙述,正确的是()

- 粤 夏季,我国北方绝大部分地区普遍高温,广大的北方地区都能种植棉花、谷子、甜菜等喜温作物
- 桂 夏热是我国气候资源的一大优势,对农作物、森林、牧草的生长都十分有利
- 豫 世界上北纬16°-35°的纬度带上,大都是干旱的沙漠或荒漠,而处于同一纬度带上的我国江南地区为降水丰沛的“鱼米之乡”,主要受惠于雨热同期的季风气候
- 蒙 我国气候复杂多样,世界上的农作物和动植物都能在我国找到适合生长的地区

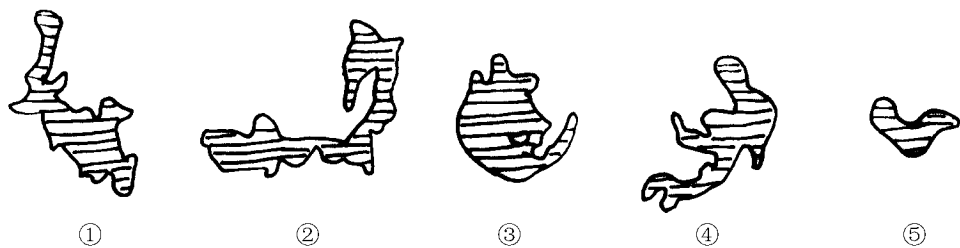
11. 对我国影响最大的气候灾害是()

- 粤 洪涝和干旱
- 桂 寒潮和台风
- 豫 暴雨和霜冻
- 蒙 冰雹和干热风

12. 下列是我国五大淡水湖的形状轮廓图(图2),将其按鄱阳湖、洞庭湖、太湖、洪泽



湖、巢湖的顺序排列,正确的一组是()



图圆

- 粤 ④⑤①②
- 闽 ①③④⑤
- 湘 ⑤④③①②
- 阅 ①②③④⑤

长江和黄河上游河段的共同特点是()

- 粤 多峡谷、落差大
- 闽 支流众多
- 湘 水能开发程度高
- 阅 都有比较长的河段四季通航

关于我国自然资源基本国情的说法,正确的是()

- 粤 我国是世界资源大国,许多自然资源数量居世界首位
- 闽 我国许多资源不仅数量大,而且种类多
- 湘 我国自然资源数量有限,因而得到较好的保护
- 阅 我国人均资源占有量相当于世界平均水平

有关我国各类资源开发利用的叙述,正确的是()

- 粤 即将上马的南水北调工程,将解决我国北方缺水问题
- 闽 目前,我国水能已开发利用的地区,集中在长江、黄河和雅鲁藏布江的上游
- 湘 不合理地开垦荒坡地,造成的水土流失问题主要存在于北方黄土高原地区
- 阅 我国在矿产资源的开采中存在乱采滥挖、破坏环境、浪费严重等主要问题

有关长芦盐场的说法,正确的是()

- 粤 盐场位于渤海沿岸的平坦海滩上
- 闽 雨季前的两三个月,天晴风多,气温较高,蒸发旺盛,非常有利于晒盐
- 湘 海盐生产仍然是手工操作
- 阅 出产海盐就近运往北京加工

二、综合题(28分)

读“中国与世界大国的面积和人口比较图”(图猿)和“我国人口的增长图”(图源),分析回答下列问题:



人口数:(亿人)

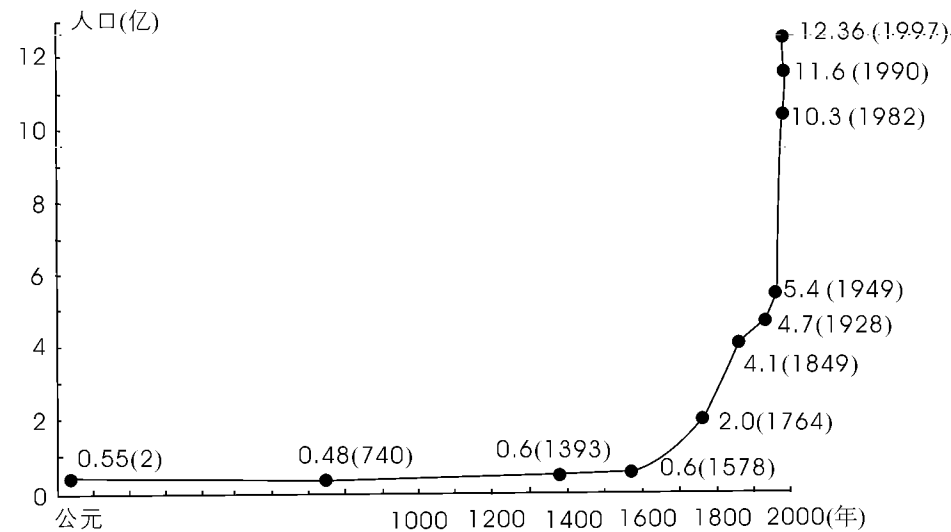


图猿

(猿图猿中的序号代表的国家分别是:①_____;②_____;③_____.其中人口密度最低的是_____;中国与其他国家相比人口密度_____。

(圆图中国与其他世界大国相比在人地关系方面存在的明显劣势是:_____。

(猿分析图源中,新中国成立以来我国人口增长的特点_____.目前,我国人地矛盾的主要表现是:_____。




图源


(源据上述分析中可以看出:解决我国人地关系方面的矛盾,关键是要解决_____问题,实行_____是惟一途径。

读“我国主要地形分布略图”(图缘),填图回答下列问题:

横线以内禁止答题



横线以内禁止答题



横线以内禁止答题



横线以内禁止答题

线

订

横线以内禁止答题

紫

上

横线以内禁止答题

(员将图中序号所代表的山脉名称 填在空格内:

- ① _____;
- ② _____;
- ③ _____;
- ④ _____;
- ⑤ _____;
- ⑥ _____;
- ⑦ _____;
- ⑧ _____。



图缘

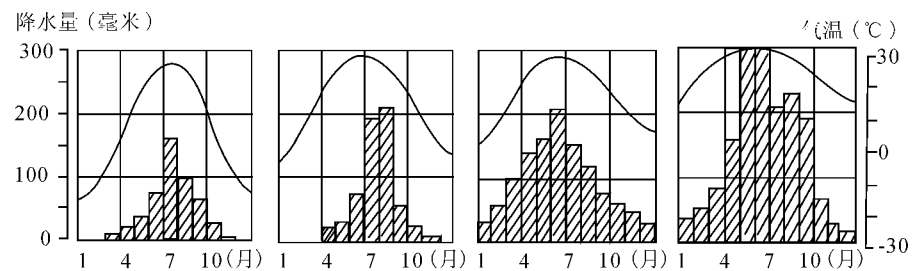
(圆下列字母

母分别代表我国主要地形区 将其填注在图上: 鄂唯噶尔盆地; 月塔里木盆地; 愧青藏高原; 阅云贵高原; 耘四川盆地; 纛内蒙古高原; 贞东北平原; 纛华北平原。

(猿将图中①②③所代表的山脉东西两侧的地形区名称填在下表中:

两侧地形 山脉序号	东 侧	西 侧
①		
②		
③		

员读我国四城市气温曲线和降水量年变化柱状图(图远) 分析并回答下列问题:



图远



(员图中四城市指哈尔滨、北京、武汉、广州。判断图上序号所代表的城市名称①_____ ;②_____ ;③_____ ;④_____。

(圆员月份 图中四城市由南向北气温变化的规律是_____。苑月份四城市气温由南向北气温变化的规律是:_____。

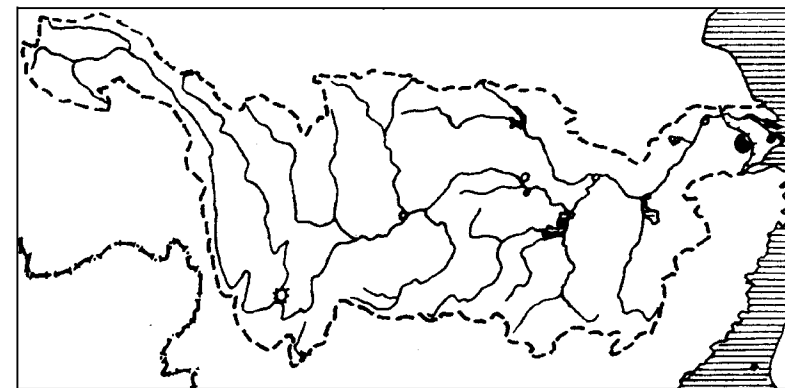
(猿四城市气温年较差最大的是_____ ,最小的是_____ ;它们的气温年较差分别为_____ 度和_____ 度。

(源如果把月平均降水量超过 员圆毫米的月份看做降水较多的月份 那么四城市降水较多的月份分别是:①_____ ;②_____ ;③_____ ;④_____。比较四城市降水量的年变化 共同点是:_____。明显差异为_____。

(缘以图中我国东部地区四城市降水量年变化为典型代表 分析我国东部各地雨季开始和结束的迟早与夏季风进退规律之间的关系_____。

员读长江流域水系图(图苑) 回答下列问题:

(员长江的主要支流中, _____江的下游建有目前全国最大的 _____水电站; _____上游建的 _____水利枢纽将是未来南水北调的水源地;中游南岸的 _____注入洞庭湖, _____注入鄱阳湖。



图苑

(圆在图中用符号 隔分隔出长江的荆江段 联系相关知识分析“千里长江 险在荆江”这句话中“险”的缘由:_____。



_____。

(猿在图中用“口”符号标出三峡水利枢纽工程的位置。分析该工程建成后将产生的巨大综合效益。

_____。

(源长江被人们誉为“黄金水道”,干流自_____以下四季通航。试分析长江航线水运优越的自然条件_____

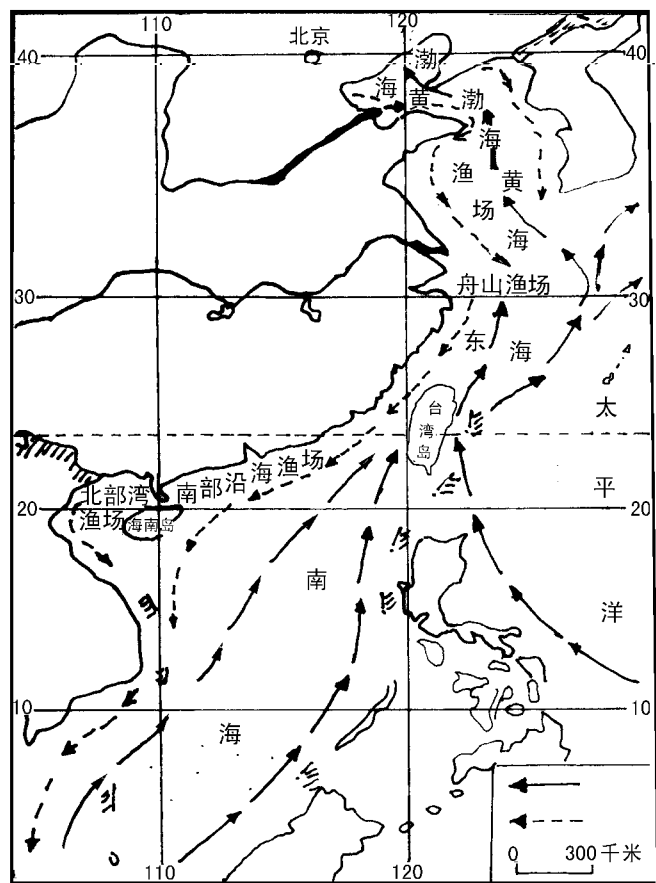
(缘在“保护母亲河”行动中,我们在长江流域应采取怎样的措施。

_____。

圆读“我国近海主要渔场和海流分布示意图”(图愿),回答下列问题:

(员在图右下方标注洋流名称(寒流、暖流)

(圆我国_____海,素有“天然鱼仓”之称,这里的_____,每年都有几次大的渔汛,产量很高,形成该渔场的主要原因是:



图愿




_____。

(猿我国近海许多鱼类及水产品种几近灭绝,为了可持续地利用近海鱼类及水产品种,在开发利用方面我们应采取的措施是:_____


圆根据秦岭—淮河一线南北的地理差异,完成下表。

项 目	秦岭—淮河一线以南	秦岭—淮河一线以北
一日平均气温		
温度带		
年降水量		
干湿地区		
耕地制度		
复种制度		
主要农作物		
河流水文特征		

横线以内禁止答题



横线以内禁止答题



横线以内禁止答题



横线以内禁止答题

姓名 _____

班级 _____

年级 _____

学校 _____

学号 _____

县 _____

横线以内禁止答题

中国地理(二)

一、单项选择题(每题分)

1. 下列农作物与其在我国主要分布地区的组合,正确的是()
- 粤 冬小麦——华北平原 月 棉花——松嫩平原
- 悦 甘蔗——长江中下游地区 阅 油菜——华北平原
2. 有关我国优良畜种的说法,正确的是()
- 粤 在河马、三河牛主要产在内蒙古中部草原
- 月 滩羊是宁夏著名的优良畜种
- 悦 牦牛可以引进到我国北方牧区放养
- 阅 新疆细毛羊难以引进到我国其他牧区
3. 下列各组城市属于我国内地新建的工业中心的是()
- 粤 大庆、沈阳 月 西安、兰州
- 悦 重庆、昆明 阅 哈尔滨、大连
4. 有关我国主要工业基地的叙述,正确的是()
- 粤 辽中南地区的工业城市大连以钢铁、机械工业为主
- 月 京津唐地区工业发展条件好,轻重工业都很发达
- 悦 沪宁杭地区的主要工业城市重工业发达
- 阅 珠江三角洲地区仍然以劳动密集型工业作为发展方向
5. 陇海铁路与我国南北铁路干线交会的铁路枢纽是()
- 粤 株洲、郑州 月 宝鸡、徐州
- 悦 兰州、柳州 阅 商丘、南昌
6. 现在我国公路交通发展非常迅速。主要原因是()
- 粤 公路运输速度快,运价低廉
- 月 公路运输机动灵活,而且适宜长距离运输
- 悦 我国经济发展迅速,商品运输量日益增长
- 阅 修公路,工程技术难度小,造价低
7. 在下列各组内河港口城市中,分别位于长江干流的上、中、下游岸边,并至少有两条铁路联系的城市是()
- 粤 宜宾、九江、南通 月 重庆、芜湖、南通
- 悦 宜昌、武汉、张家港 阅 重庆、武汉、南京
8. 下列旅游景点与其所在地,组合正确的是()

- 粤 天涯海角——海南
- 月 长江三峡——四川、湖北
- 悦 承德避暑山庄——北京
- 阅 龙门石窟——山西
9. 有关北方地区黑土地的叙述,正确的是()
- 粤 东北平原北部的土壤中富含腐殖质,以肥沃黑土著称,被称为“黑土地”
- 月 黑土地是我国春小麦、棉花、大豆、花生的主要产区
- 悦 黑土地的大规模开垦较早,如今已成为“北大仓”
- 阅 黑土地上的三江平原,沼泽将会被疏干,开垦成耕地
10. 对黄河中下游地区农业生产危害最大的是()
- 粤 春旱 月 盐碱 悦 洪涝 阅 夏旱
11. 下列有关首都北京的说法,有误的是()
- 粤 北京是全国政治、文化中心和国际交往城市
- 月 北京有 3000 多年的历史,元、明、清等几个王朝在此建都,文物古迹众多
- 悦 今后要扩大工业建设规模,重点发展钢铁、机械等工业
- 阅 控制城市中心区人口规模,避免城市职能过于集中
12. 南方地区出产的多种亚热带和热带水果中,分布最广,产量最大的是()
- 粤 香蕉 月 菠萝 悦 荔枝 阅 柑橘
13. 下列关于北方、南方人民生活方面的叙述,正确的是()
- 粤 现在南北方居民多以大米为主食
- 月 黄土高原的居民,以面食为主
- 悦 北方的房屋都注意防湿、保温
- 阅 南方旧式民居的建筑材料多用砖瓦、竹木,注意通风散热
14. 西北地区的主要自然特征是()
- 粤 地表沙漠、戈壁广布 月 大部分地区干旱、少雨
- 悦 植被稀疏,以荒漠为主 阅 河流稀少,绝大部分是内流河
15. 有关青藏地区农牧业的叙述,正确的是()
- 粤 青藏高原放牧的主要牲畜有牦牛、细毛羊等
- 月 当地适宜生长的作物有青稞、大豆、甜菜等
- 悦 高原上大气洁净、太阳辐射强、降水较多,对农牧业发展有利
- 阅 雅鲁藏布江谷地、湟水谷地是高原上的重要农业区
16. 关于我国四个地区能源和矿产资源的叙述,正确的是()
- 粤 北方地区的煤、石油、有色金属矿在全国占优势
- 月 南方地区的水能资源、铁矿资源在全国占重要地位



青藏高原的地热能、太阳能等新能源非常丰富

西北地区的能源资源探明的不多,所需能源须从外调入

有关港、澳、台的叙述,错误的是()

20世纪70年代以来,台湾重点发展出口加工工业,形成“进口—加工—出口”型的经济

台湾西部人口稠密,经济发达

对外贸易是香港经济的重要支柱,而加工工业相对薄弱

香港、澳门的旅游业都很发达

二、综合题(20分)

读“我国主要商品粮基地分布图”(图1),回答下列问题:

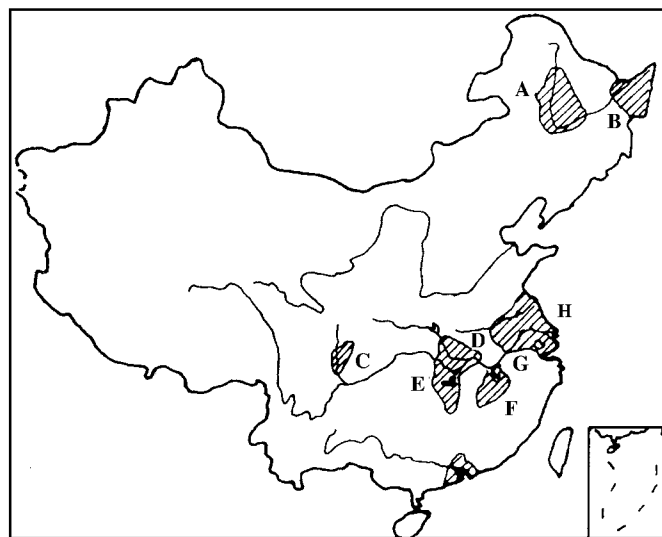


图1

(将图中的字母所代表的商品粮基地名称填写在下面空格内:

东北平原: A, B; 四川盆地: C; 长江中下游平原: D, E, F, G, H

长江、淮河之间: D

。

南部沿海的 商品粮基地,近 多年来外向型经济高速发展,占地多,直接影响 。

现在,当地农业以国际市场需求为导向,多种植 和 ,以及发展养殖业 和 ,成为我国重要的农产品出口基地。

东北平原的商品粮基地,粮食单产较低,而粮食总产量,商品率高。该基地今后发



展的方向是: _____。

(随着西部开发步伐的加快,西北的 _____ 地

区应加快商品粮基地建设,保证商品粮供应。

读“我国主要旅游点示意图”(图2),回答以下问题:

(将下列旅游景点的序号填注在图中相应的符号旁边。

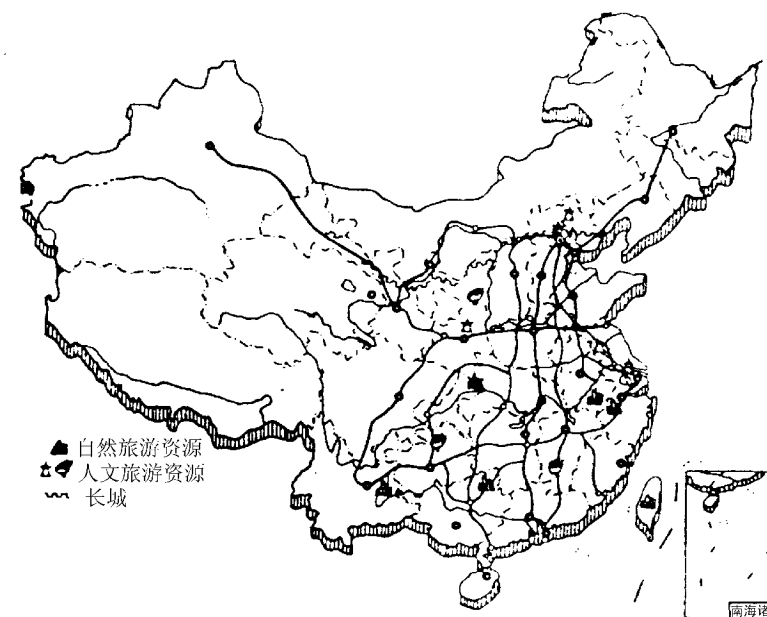



图2

- ①北京故宫;②八达岭长城;③避暑山庄;④延安;⑤秦始皇陵兵马俑;⑥长江三峡;⑦遵义;⑧云南石林;⑨桂林山水;⑩井冈山;⑪黄山;⑫杭州西湖;⑬苏州园林;⑭日月潭;⑮天涯海角


(某入境旅游团从深圳出发,去杭州、上海、北京、敦煌、西安、昆明、成都、桂林等地观光,最后回到广州。请帮助他们设计安排一条合理的路线,用彩色笔在图中画出,并说明交通运输方式。

_____。

横线以内禁止答题



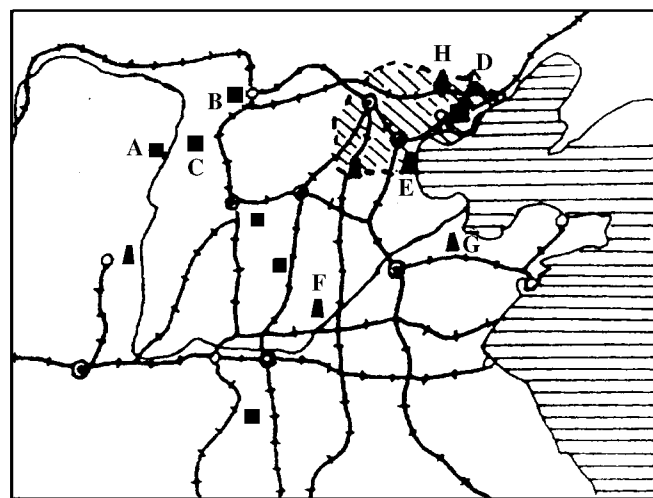
横线以内禁止答题



横线以内禁止答题



读图 黄河中下游地区矿产、城市和铁路分布图(图猿),回答下列问题:



图猿

(员将图中字母代表的矿产地名称填在下面空格内。煤矿:粤鄂_____ ;月鄂_____ ;水鄂_____ ;滇鄂_____ 。油田:冀鄂_____ ;辽鄂_____ ;滇鄂_____ 。铁矿:云鄂_____ 。

(圆图中的_____省是全国最大的煤炭能源基地,这里产的煤已通过_____运输,调往_____地区。另外,还可将煤炭转换成_____输出,减轻了铁路运输的压力。

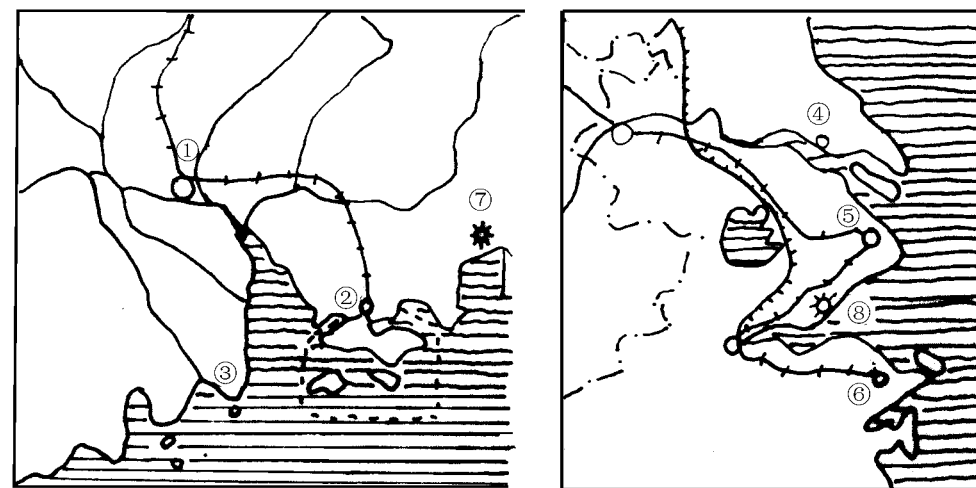
(猿在图中合适位置填出北京、天津、唐山三个工业城市的名称。分析京津唐工业基地形成的条件。

(源图中纺织工业发达的城市有_____,_____,_____,_____,_____,_____,_____。这些城市纺织工业布局的主要条件是:_____。

(缘黄河中下游地区目前面临的_____问题,已严重制约并威胁工农业的可持续发展。解决的主要途径是:_____。



读图 粤月两图(图源),分析回答以下问题:



图源

(员粤图表示的是_____ ;月图表示的是_____。

(圆将图中序号代表的地名填写在下面的空格中。

对外开放港口城市、经济特区:①_____ ;②_____ ;③_____ ;④_____

⑤_____ ;⑥_____ 。核电站:⑦_____ ;⑧_____。

(猿粤图中的工业基地是以_____为主的综合性工业基地,该基地发展的有利条件是:_____。

图中的工业基地以_____,_____,_____为中心,是我国最大的_____

工业基地,今后重点发展的工业部门是:_____。

(源比较粤月两图表示的地区农业生产的差异(复种制度、主要农产品)。

粤鄂_____ ;

月鄂_____。

读图 我国荒漠化地区分布示意图(图缘),回答下列问题:

(员甲沙漠的名称是:_____ ,乙沙漠所在的省区:_____。

横线以内禁止答题

线

订

横线以内禁止答题

浆

上

横线以内禁止答题

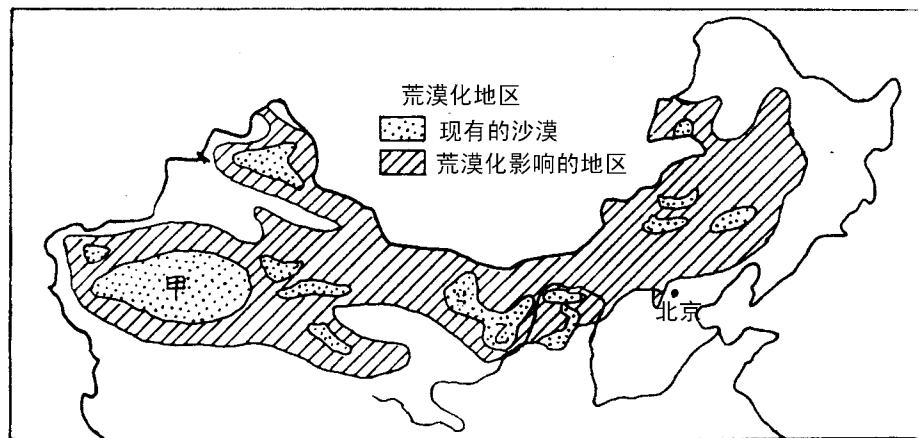


图5

(圆)从图中可以发现 我国荒漠化地区主要分布在_____

_____ ;受到荒漠化严重威胁的地区有_____

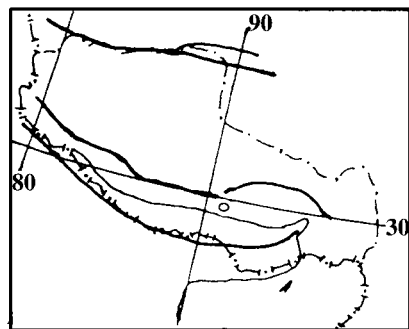
_____ 。分析造成日益严重的土地荒漠化的主要原因_____

_____ 。

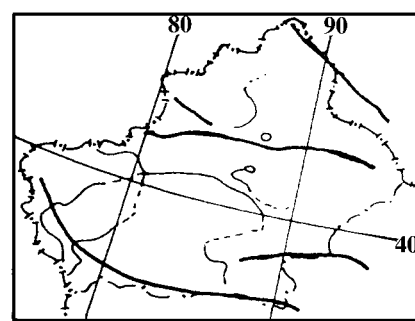
(猿)每年春季,我国北方出现沙尘暴天气,这表明北方地区生态环境_____ ,荒漠化速度在_____ ,面对狂虐的沙尘暴和不断扩大的荒漠化土地,我们应立即采取的措施有_____

_____ 。

(猿)读 粤 月 两图(图 远)。(员)判断其表示的自治区名称(圆)填表比较两个自治区的有关地理内容。



A



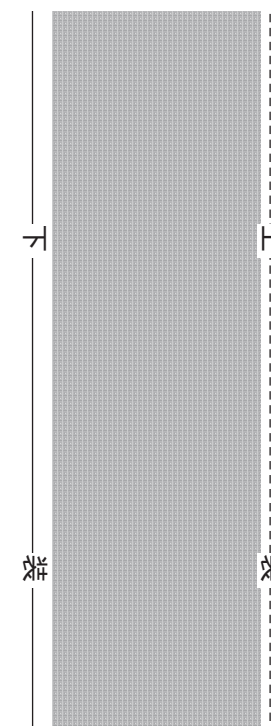
B

图远




民族自治区 地理内容	粤表示的	月表示的
主要地形区		
气候类型及特征		
农牧业类型		
发展交通的限制 条件		

横线以内禁止答题



横线以内禁止答题



横线以内禁止答题



横线以内禁止答题

姓名 _____

班级 _____

年级 _____

学校 _____

乡 _____

县 _____

中国地理(三)

一、单项选择题(每题分)

下列各组图幅大小相同的地图中,其比例尺由大到小正确排列的是()

- ①北京市图、浙江省图、云南省图、西藏自治区图
- ②新疆自治区图、四川省图、河北省图、天津市图
- ③海南省图、台湾省图、山西省图、青海省图
- ④上海市图、天津市图、海南省图、北京市图

粤①② 月③④ 悦①③ 阅④

下列对外开放的港口城市中,位于商品棉产区的是()

- 粤广州和北海 月大连和青岛 悦温州和福州 阅南通和张家港

下列几条运油路中,符合“管道—海运—内河”联运的是()

- 粤大庆—大连—上海—张家港 月大庆—秦皇岛—北京—石家庄
- 悦东营—青岛—南京—上海 阅东濮—南京—九江

有关我国气候特点的叙述,正确的是()

- 粤四川盆地由于地形的影响,积温和无霜期均高于(或长于)同纬度的长江中下游地区
- 月青藏高原由于地势高,是我国冬季平均气温最低的地区
- 悦山地迎风坡可以抬升气流,降水一定多于平原地区
- 阅我国是世界上惟一具有三种季风气候的国家

第二座亚欧大陆桥在我国境内可以通过()

- 粤地势的三级阶梯 月三个温度带 悦三类干湿地区 阅三个特大城市

有关季风对我国气候影响的叙述,正确的是()

- 粤我国各地夏季都吹东南风,冬季都吹西北风
- 月季风的交替季节是我国的主要降水季节
- 悦冬季风势力强,在我国各地都比夏季风控制时间长
- 阅长江流域和黄河流域的水旱灾害主要是由各年夏季风强弱不同引起的

有关我国气候的叙述,正确的是()

- 粤干旱地区跨中温带、暖温带和青藏高原区
- 月把受东南季风和西南季风影响都不明显的地区称为非季风区,因此季风区范围内无干旱地区
- 悦湿润地区的年降水量都在 800mm 以上
- 阅我国各地日平均气温 $\geq 10^{\circ}\text{C}$ 的天数不一样,主要是受海陆位置的影响

横线以内禁止答题

关于我国各区域资源的叙述,正确的是()

- ①黄河中下游地区是我国煤、铁、石油有色金属产量最多的地区
- ②渤海、黄海沿岸是我国海盐产量最多的地区
- ③从长江源头至河口,长江流域土地资源分布顺序依次为:高山寒漠、草地、林地、耕地
- ④我国水能资源主要分布在西南、中南、华东地区

粤①② 月③④ 悦①③ 阅④

下列各组铁路交会处的城市,按顺序排列正确的是()

- ①同蒲线与陇海线 ②川黔与湘黔线 ③湘桂线与京广线 ④京沪线与淮南线
- 粤①西安 ②贵阳 ③株洲 ④合肥 月①孟塬 ②贵阳 ③株洲 ④徐州
- 悦①洛阳 ②贵阳 ③衡阳 ④徐州 阅①孟塬 ②贵阳 ③衡阳 ④蚌埠

关于我国以下源城市地理现象的描述,正确的是()

- 粤某市濒临黄海,有南北向输油管道和高速公路通过港区,它是我国纬度最高的不冻港
- 月某市濒临黄河,有南北向铁路穿过,它是我国新兴的钢铁和钒、钛工业基地
- 悦某市濒临长江,有东西向铁路大动脉通过,附近茫茫大草原上盛产稀土金属矿
- 阅某市坐落在盆地边缘,地势高,气压常年偏低,目前是某铁路终点站,盆地矿产资源丰富,它已成为新兴工业交通城市

下列有关“北京时间”的叙述,正确的是()

- ①北京时间就是北京所在的那条经线的地方时
- ②北京时间就是北京所在时区中央经线的地方时
- ③与北京时间相差 1 点钟时区的中央经线是东经 105 度和西经 105 度
- ④当伦敦(零度经线)地方时为中午 12 点时,北京时间是上午 8 点

粤①② 月③④ 悦①③ 阅④

关于日期和时间的叙述,正确的是()

- 粤太阳直射 0 度经线时,全球日期相同 月太阳直射 180 度经线时,全球日期相同
- 悦太阳直射西经 180 度时,东经 180 度为 0 时 阅太阳直射东经 180 度时,西经 180 度为上午 12 时

关于地图比例尺的叙述,正确的有()

- 粤比例尺越小的地图表示的实际面积越小
- 月 1:100000 的面积,在 1:1000000 的地图上正好为 1:100000
- 悦 1:100000 的面积,在 1:1000000 的地图上正好为 1:100000
- 阅 1:100000 的距离,在 1:1000000 的地图上,长度为 1:100000

下列我国源矿区的矿种,依次为煤、铁、铅锌、铜矿是()

- 粤神木、阜新、锡铁山、德兴 月唯噶尔、攀枝花、水口山、东川
- 悦开州、迁安、锡矿山、铜陵 阅伊敏河、庐江、锡铁山、大冶



1. 阴山山脉是()

- ①我国地势第二级阶梯和第三级阶梯的分界线
- ②季风区和非季风区分界线的一部分
- ③内流区域和外流区域分界线的一部分
- ④暖温带和中温带分界线的一部分

粤② 月③ 悦③ 阅④

2. 京包线、京沪线、京哈线、同蒲线、石太线附近的煤矿依次是()

- 粤 霍林河、开滦、兖州、平朔、大同
- 月 准噶尔、兖州、开滦、平朔、阳泉
- 悦 准噶尔、兖州、伊敏河、平朔、阳泉
- 阅 准噶尔、平顶山、开滦、大同、阳泉

3. 下面 源组选项中,都不临江的省会是()

- 粤 杭州、广州、福州
- 月 南京、合肥、南昌
- 悦 长沙、武汉、广州
- 阅 贵阳、南京、郑州

4. 同我国隔海相望的国家从北到南依次是()

- 粤 菲律宾、日本、马来西亚、文莱、印度尼西亚
- 月 日本、菲律宾、泰国、马来西亚、文莱
- 悦 日本、马来西亚、印度尼西亚、文莱、菲律宾
- 阅 日本、菲律宾、马来西亚、文莱、印度尼西亚

5. 我国新增加的人口超过百万的 猿个少数民族 其聚居地纬度从高到低依次是()

- 粤 哈萨克族、高山族、黎族
- 月 哈萨克族、傣族、黎族
- 悦 哈萨克族、黎族、傣族
- 阅 哈尼族、苗族、侗族

6. 由于地球近似圆球,在不考虑地形影响的条件下,地面甲、乙两点之间最短的航空线应该是()

- ①从各种地图上看,甲、乙两点最短航线必定在甲、乙两点间的直线上
- ②如果甲、乙在同一经度,则最短航线在此经线上空
- ③如果甲、乙在同一纬度,则最短航线在此纬线上空
- ④不管甲、乙位于何处,其间最短航线都必须经过南北极圈上空

粤② 月③ 悦③ 阅④

7. 在图 员中,若 粤地为 源点时,月地可能是()

- ①当日零点或昨日 源点
- ②当日 源点或明日零点
- ③当日 远点或明日 远点
- ④当日 源点或明日 源点

粤② 月③ 悦③ 阅④

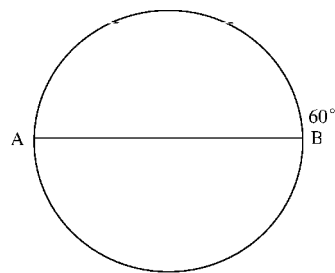


图 员



8. 下面是长江流域主要水电站、名山、钢铁工业基地以及对外贸易港分布图(图 圆)。

下列选项中排序与图序相符的是()

- 粤①水电站 ②名山
- ③对外贸易港 ④钢铁工业基地

业基地

月①水电站 ②名山

- ③钢铁工业基地 ④对外贸易港

贸易港

悦①名山 ②水电站

- ③钢铁工业基地 ④对外贸易港

阅①名山 ②水电站 ③对外贸易港 ④钢铁工业基地

9. 下列统计图(图 猿)显示建国以来公路、铁路、水运、航空等通车、通航里程变化,下列选项中,排序与图序相符的是()

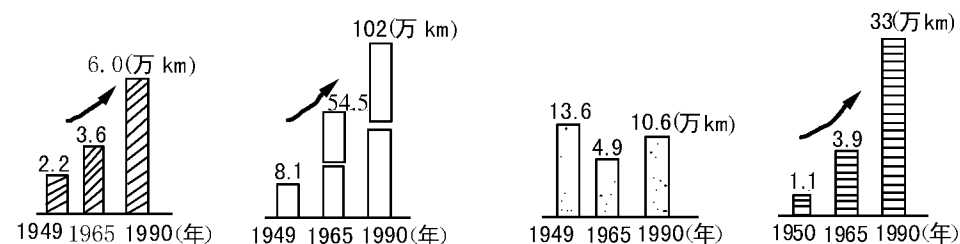


图 猿

粤公路、铁路、水运、航空

月铁路、水运、航空、公路

悦水运、航空、公路、铁路

阅铁路、公路、水运、航空

10. 以下三幅图中会出现降水天气的地点是()

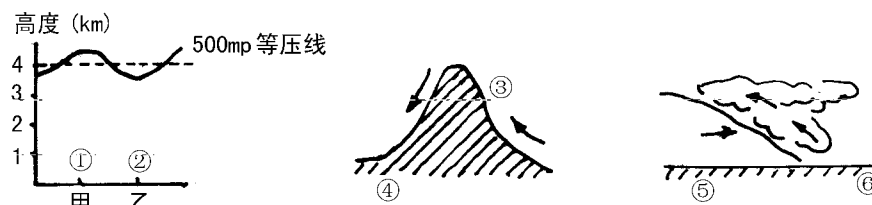


图 源

粤③⑤

月④⑥

悦③⑤

阅③⑥

二、综合题(苑分)

11. 读图 缘回答下列问题:

横线以内禁止答题

横线以内禁止答题

横线以内禁止答题



横线以内禁止答题

订 线

横线以内禁止答题

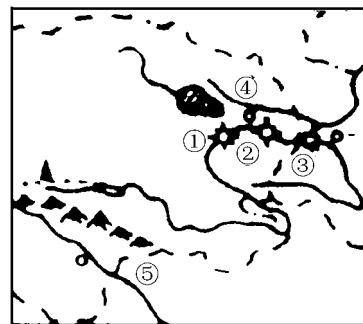
订 线

横线以内禁止答题

- (员当 粤 月两地一年之中正值多雨的月份 , 阅地的天气是_____。
- (圆当 悦地第一次出现多雨期时 , 月地的天气是_____。
- (猿粤 阅两地畜牧业在生产方式上存在着明显差异 , 粤地_____, 阅地_____。
- (源粤 月 悦 阅四区 , 解放后人口大量迁出的地区是_____。



图缘



图远



图苑

圆阅读我国某地区示意图(图远) , 回答下列问题 :

(员写出图中已建成或正在建设的水电站名称 :

①_____ ; ②_____ ; ③_____。

(圆写出河流名称 : ④_____ ; ⑤_____。

(猿图中两条大河上游的分水岭是 : _____。

圆阅读图苑回答下列问题 :

(员图中 远个城市从位置和规模来看共同的特点

是 : _____。

(圆从气候条件来分析 , 这 远个城市相同的特点是 : _____。最显著的差异是 : _____。

(猿在图中适当位置上绘出阴山、太行山、秦岭、南岭等山脉。

圆阅读图愿回答下列问题 :

(员填出下列序号所代表的矿产地名称 : ①_____ 煤矿 , ②_____ 煤矿 , ③_____

煤矿 , ④_____ 煤矿 , ⑤_____ 煤矿 , ⑥_____ 煤矿。

(圆写出下列地理事物名称 : ⑦_____ , ⑧_____。

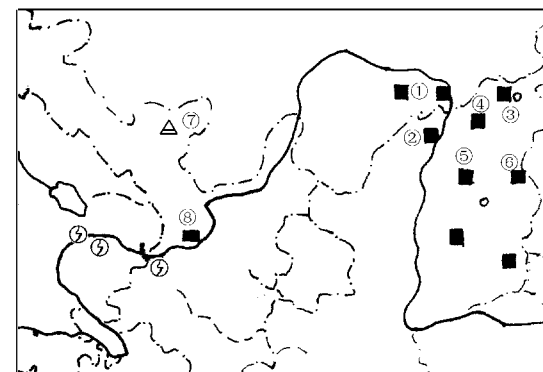


(猿图示范围内跨我国_____ 温度带 , _____ 类干湿地区。

(源我国重要的地理界线经过图示范围内 , 请写出 源条经过图示范围的地理界线。

①_____ , ②_____

_____, ③_____ , ④_____



图愿

圆阅读图怨回答下列问题 :

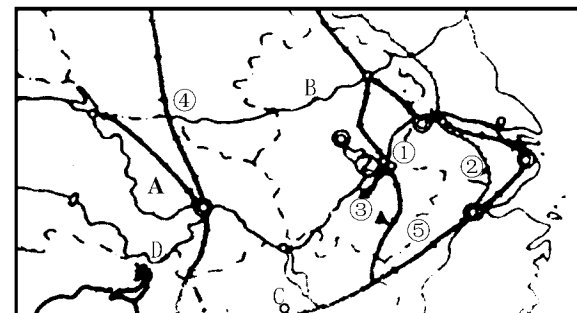
(员图中 粤河是 : _____ , 月

河是 : _____。

(圆写出图中数码代表的地理名称 :

①_____ 城市 , ②_____ 港口 ,

③_____ 矿产地 , ④_____



图怨

铁路线 , ⑤_____ 铁路线。

(猿按流域而言 , 图中所示地区的主体部分所属的两大流域是 : _____ 流域 , 该流域内的河流径流变化大的主要原因是 : _____。该流域内的降水类型主要属于_____。

猿队秦皇岛乘船沿海岸线航行 , 最后到达北海市 , 回答下列问题 :

(员沿途海岸上最大的盐场是_____ 盐场 , 形成的原因是_____。

(圆沿途海岸上重要的棉纺织工业基地是 : _____、_____、_____、_____。

(猿在黄海南部 , 与该船航向一致的海流是_____。

(源沿途经过海水最浅的陆缘海是_____ 经过省级行政区最多的海是 : _____。



读图回答下列问题：

(员填空：粤 市，月 钢铁基地，悦 化工基地，阅 电站，云 江。

(圆 经济开发区，它的建立将进一步推动

和 的经济发展。

读“三河”流域调水示意图(图 员)和南水北调路线示意图

(图 员)完成下列问题：

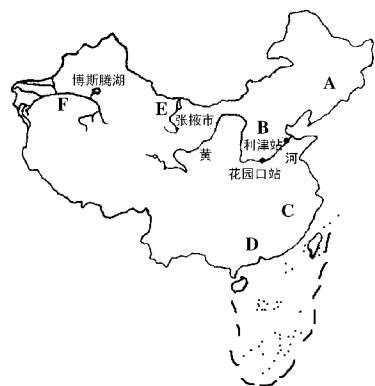


图 员

(员在图 员中，粤 月 悦 阅 中供水相当紧张的地区是 。

(圆 年我国对“三河”进行了统一调水，这三条河是 耘 、云 和黄河。

(猿 耘 河发源于 山北麓，流经甘肃省重要的粮食基地 。这次 耘 河分省调水十分有利于我国 (自治区)林草的恢复和生长，改善当地的生态环境。云 河的主要补给水源是 ，由于 等原因使该河下游绿洲不断消失，生态环境急剧恶化。

(源 年尽管黄河流域遭遇了百年不遇的大旱，但经统一调水，使黄河全年畅流，但要根本上解决黄河断流问题，必须坚持 尽快实施 。

(缘 我国水资源空间分布特点是 。

(远 为了改变我国水资源的空间分布不均和华北地区供水紧张的情况，因此调节跨流域的径流量非常必要，如图 员中的① 、② 、③ 、④ 跨流域调水工程，缓解了某些城市水资源不足的问题。

(苑 为了从根本上解决我国水资源空间分布不均的问题，跨入新世纪我国将建设南水北调工程，把长江流域的水调到 和 。

(愿 南水北调工程有东、中、西三条调水路线：

粤 东线调水路线：长江至⑤ 河至 (城市)

月 中线调水线路：长江至⑥ 水库至 (城市)

悦 西线调水线路：⑦ 江和⑧ 江至

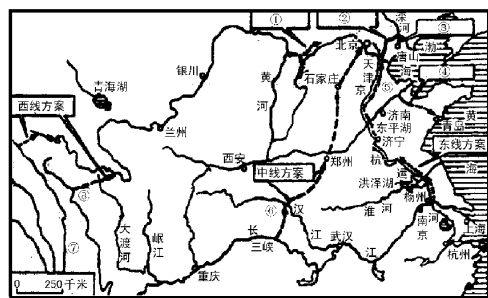


图 员



读“我国西部地区略图”(图 员)回答下列问题：

(员 写出字母所表示的地理事物名称：① 将建设的能源输送工程的起点 粤 是 ；② “神舟号”载人飞船发射基地 月 是 ；③ 新开发的大型油田 悦 是 ；④ 年初我国考古探险队所走路线 阅 称“ ”。

(圆 ① 湖泊曾是我国最大的湖泊，但现在干涸了，其主要原因是 ，公元 年，这里附近楼兰古国最后一批居民迁往他乡，楼兰古国消亡的主要自然原因是 。

(猿 世界第一大峡谷位于图中的(数字代号) 河上，该河水力资源丰富的原因是 。

(源 西部地区包括 个省、市、自治区，针对西部地区的自然生态环境状况，在实施西部开发战略时应注意什么问题：

读图回答下列问题：

(员 写出图中字母处所代表的矿产地、水电站名称：粤 月 悦 云 运 。

(圆 填出有关城市的名称及其重要的工业部门。

代码	阅	耘	匀
城市名称			
工业部门			

(猿 城市 郎 中著名的名胜古迹有 。

(源 你认为从 阅 到 郎 修建铁路的大致走向应该是 ，需克服的主要自然障碍是 。

读图回答下列问题：

(员 按照水循环类型图中所示主要为 水循环；① 处的岩浆岩可转化为② 处的 岩。

(圆 若城市 粤 地下水过度抽取，将会引起 ，而 月 处大陆架上一般有丰富的 海洋资源。

(猿 悦 阅 两处有可能为理想储油构造的是 ，而 耘 处最容易发生的地质灾害是 。

(源 ③ 处海底地形名称是 ，图中所示两个专属经济区的范围 是正确的。

(缘 若此处表示的是浙江省沿海地区，这一地区最频繁的气象灾害是 ，它是大气运动最常见的一种形式 。

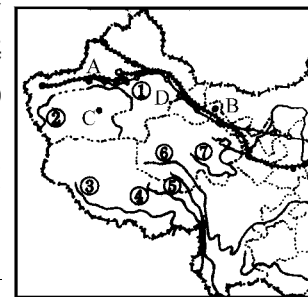


图 员

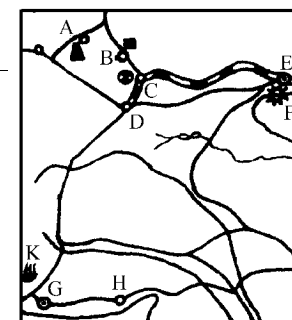


图 员

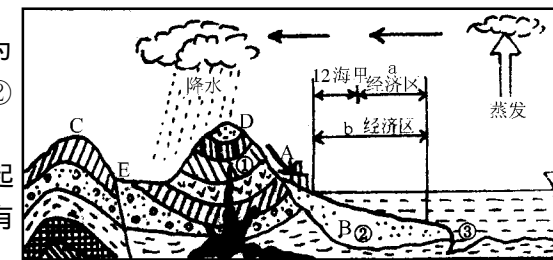


图 员

横线以内禁止答题

横线以内禁止答题

横线以内禁止答题



横线以内禁止答题

姓名 _____

班级 _____

年级 _____

学校 _____

县 _____

横线以内禁止答题

世界地理(一)

一、单项选择题(10分)

1. 有关赤道的论述,不正确的是()

- 粤 赤道地区终年高温多雨,只有对流雨,没有气旋雨
- 月 经线和纬线只在赤道垂直相交
- 悦 赤道是最长的纬线圈,将地球分为东、西两半球
- 阅 赤道上的方向是相对方向

2. 1492年,葡萄牙航海家麦哲伦率船队从西班牙向西出发,进行首次环球航行,于1522年回到西班牙。试问他们沿途经过的海域依次为()

- 粤 大西洋—印度洋—太平洋
- 月 火地岛—菲律宾群岛—好望角
- 悦 太平洋—大西洋—印度洋
- 阅 好望角—火地岛—菲律宾群岛

3. 如果地轴和地球公转面的夹角变大,则地球表面()

- 粤 热带和寒带的面积减小,温带面积增加
- 月 出现极昼、极夜的范围增加
- 悦 热带雨林自然带的面积扩大
- 阅 全球自然环境没有任何变化

4. 图中,月点位于北极点和悦点的什么方向()

- 粤 月点位于北极点的南方和悦点的西方
- 月 月点位于北极点的南方和悦点的东方
- 悦 月点位于北极点的北方和悦点的东方

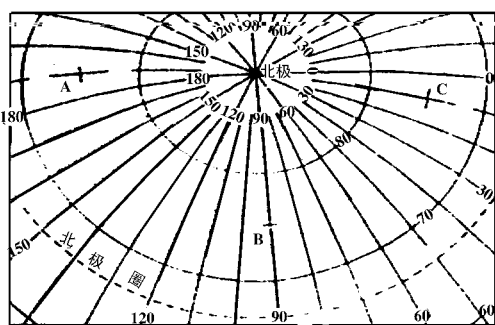
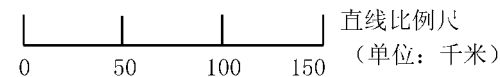


图1

5. 月点位于北极点的北方和悦点的西北方

6. 下列关于地图三要素的论述,完全正确的是()

- 粤 比例尺有多种表示方法,都是实地距离与图上距离的比
- 月 比例尺为1:500000的地图所表示的范围,大于下面直线比例尺所表示的地图
- 悦 地图上的方向总是“上北下南,左西右东”



7. 常用图例可加文字说明,叫注记

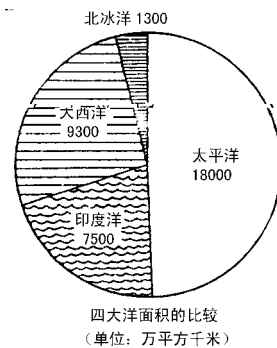


图2

8. 读“四大洋面积比较图”(图2),找出下列选项中错误的观点()

- 粤 太平洋板块以海洋为主,其范围包括面积最大的太平洋海域
- 月 大西洋以大洋中脊为生长点,面积正在不断扩大
- 悦 北冰洋被冰雪覆盖,仅有白令海峡与太平洋相通
- 阅 北印度洋洋流属于特殊的季风洋流

9. 由气压带风带季节移动形成的一组气候类型是()

- 粤 热带草原气候、地中海气候
- 月 热带季风气候、亚热带季风气候
- 悦 温带季风气候、温带海洋气候
- 阅 温带沙漠气候、热带沙漠气候

10. 天气预报:月日是晴天,悦日是阴天。那么这两天白天和夜间的气温相比()

- 粤 月日白天 > 悦日白天 > 悦日夜间 > 月日夜间
- 月 月日白天 > 悦日白天 > 悦日夜间 > 月日夜间
- 悦 悦日白天 > 月日白天 > 月日夜间 > 悦日夜间
- 阅 月日白天 > 悦日白天 > 悦日夜间 > 月日夜间

11. 当地球公转速度最大时()

- 粤 我国北方地区农民正在抢种小麦
- 月 大西洋进入地中海的船只顺风漂流
- 悦 那不勒斯海岸阳光明媚



阅读恒河流域进入汛期

阅读地跨亚欧两洲,区域划分属于亚洲的国家是()

阅读俄罗斯 阅读土耳其 阅读埃及 阅读白俄罗斯

阅读对于地球陆地生物来说,水循环具有特别重要的意义——更新水资源()

阅读海上内循环的水循环量最大,所以意义最大

阅读内陆循环只发生在内流区,对外流区水资源影响不大

阅读海陆间循环有四个环节,被称为“大循环”,意义重大

阅读冰川是固态水,不参与水循环,无法直接使用

阅读人口问题是当今世界首要问题之一,分析下列说法,完全正确的是()

阅读亚洲东部和东南部,欧洲及北美洲东部,是人口最稠密的地区

阅读发达国家人口增长慢,城市人口增长速度快

阅读发展中国家政治独立,经济发展,人口高速增长,巴西和阿根廷人口超过 1 亿

阅读人口增长必须与社会经济相适应,同资源利用和环境保护相协调

阅读明代郑和七下西洋,到达今天的南亚和非洲东海岸。船队冬季出发,夏季返航,其原因是()

阅读阿利用冬季风作为动力 阅读阿利用洋流

阅读与明政府禁海令有关 阅读避开倭寇的袭击

阅读自古长安西风雨”所说的降水类型是()

阅读对流雨 阅读台风雨 阅读锋面雨 阅读地形雨

阅读世界各发达国家能源供应能够自给的国家有()

阅读英国和加拿大 阅读美国和俄罗斯

阅读法国和德国 阅读澳大利亚和巴西

阅读近几世纪,近年代以来,中东波斯湾地区冲突不断升级,你认为矛盾产生的根本原因是()

阅读历史原因形成的民族矛盾

阅读地区经济发展的不平衡

阅读该地区国家之间领土纠纷

阅读工业大国妄图控制地区石油经济

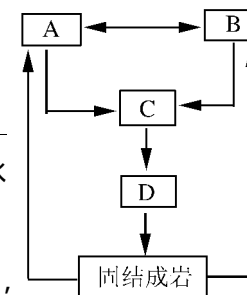


二、综合题(28分)

阅读“外力作用五种形式示意图”(图猿),回答下列问题:

(1)黄河发源地在_____山,从源头到河口外力作用以_____ (字母)为主。河水落差大,水能丰富。我国建成投产的水电站在甘肃省是_____、青海省是_____。

(2)孟津以下_____ (字母)作用突出,黄河被称为“悬河”,成为_____河和_____河的分水岭。



图猿

阅读“欧亚大陆部分自然带模式图”(图源),回答下列问题:

(1)图中 粤月悦阅耘合称_____。

(2)气候类型不同而自然带相似的是:_____和_____ (字母)。

(3)南半球缺失的自然带是:_____ (字母)。

(4)图中阴影区域,其气候类型的成因有两个,与月气候区相同的成因是:_____ ;另一成因是:_____ ,与_____ (字母)气候区相同。

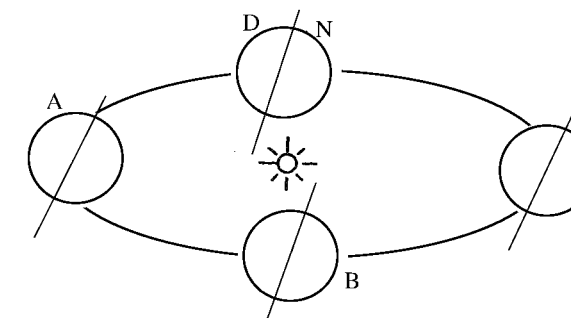
阅读“地球公转示意图”(图缘),回答下列问题:

(1)在图上标明地球的公转、自转方向。画出 粤点的昼夜半球示意图。

(2)图中夏至日是:_____ (字母),这天正午 粤时悉尼奥运会场旗杆的影子长度_____ ,方向_____。

(3)图中地球的公转速度由慢—快—慢的点是:_____ (字母),此时,日地距离_____ 亿千米(大于或小于)。

阅读 7 月 20 日西安市天气预报,预计:今天白天到夜间晴天,最高气温 猿益,最低气温 圆益。21 日白天晴间多云,午后有短时雷雨大风,最高气温 猿益。”根据以上天气预报,分析回答:



图缘

横线以内禁止答题

横线以内禁止答题

横线以内禁止答题

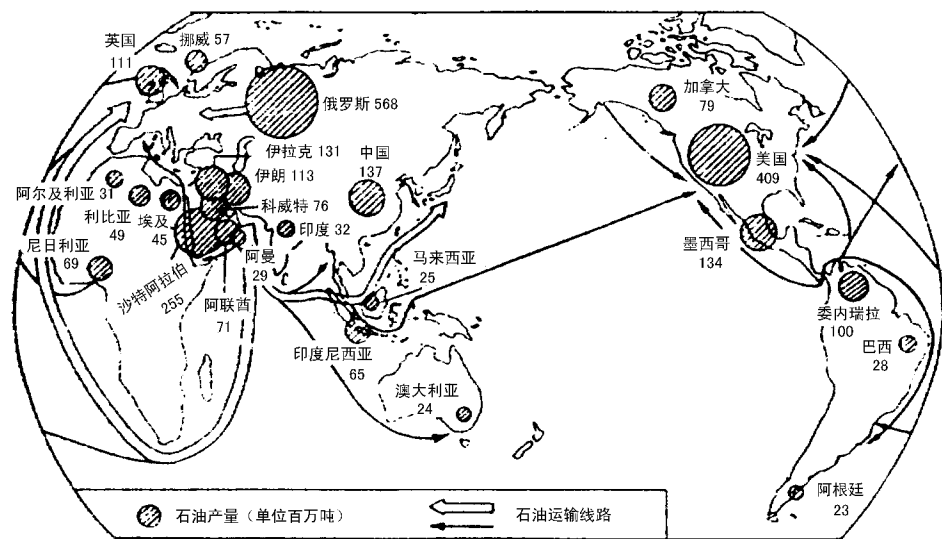
横线以内禁止答题

(员) 远日最高气温应出现在_____时,最低气温出现在_____时。

(圆) 苑日午后的雷雨属于_____降水,历时_____,强度_____,范围_____。

(猿) 试分析 苑日最低温度应_____ (高或低) 原因:_____。

阅读图 远,回答下列问题:



图远

(员) _____ 沿岸是世界上最大的石油输出地区,主要输往西欧、_____ 和_____。

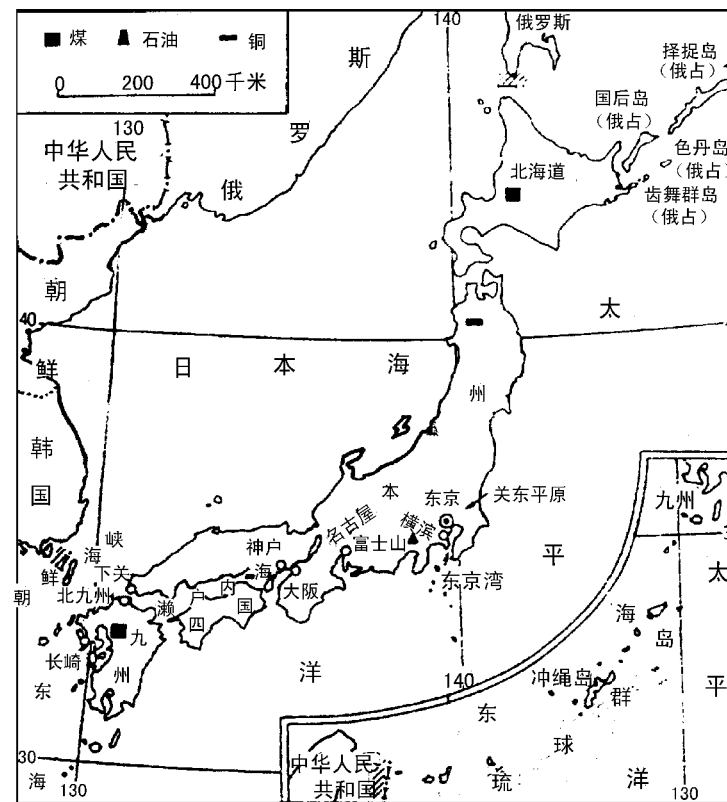
(圆) 世纪 年代以来,世界工业大国喊出“能源危机”的口号,其实质是:_____。

(猿) 石油主要形成于_____ 和_____ 的沉积盆地,看一个国家石油资源丰富程度,要看沉积岩分布的_____,以及地质史上_____。

读图 苑回答下列问题:

(员) 日本位于_____ 板块和_____ 板块的边界,多火山地震,富士山就是一座著名的_____。

(圆) 日本海洋渔业发达,拥有世界闻名的_____ 渔场,该渔场是由_____ 形成的,与北美洲的_____ 渔场和欧洲的_____ 渔场成因相同。



图苑

(猿) 正午太阳高度最大时,一架飞机从北京机场起飞两小时后降落在东京机场,请问此时东京时间为_____。此时,下列说法正确的是()

东京正是太阳辐射最强时

东京正是地面辐射最强时

北京正是地面辐射最强时

北京正是大气辐射最强时

图 8 为太平洋部分海区 月等温线分布示意图,分析判断:

(员) 如果两条曲线分别代表 月和 月等温线,请标示其相应位置。

(圆) 图中箭头所示为_____ (洋流),它对沿岸的气候影响主要是起到_____ 的作用,形成_____ 沿海地区的_____ 自然带。

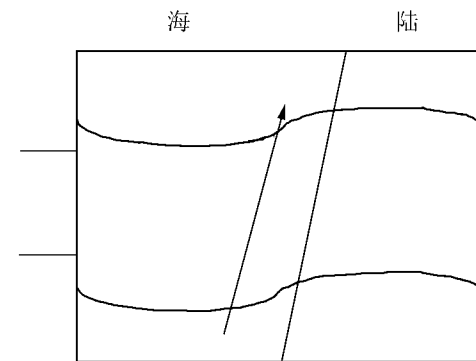


图 8

横线以内禁止答题

订 线

订 线

横线以内禁止答题

订 线

订 线

横线以内禁止答题



世界地理(二)

一、单项选择题(10分)

1. 已经形成比较完整的工业体系的发展中国家是()

粤 阿根廷和巴西

月 印度、巴西和中国

悦 埃及和印度

阅 澳大利亚、阿根廷和印度

2. 南亚夏季盛行西南季风,降水量丰富,但巴基斯坦境内却形成塔尔沙漠,根本原因为()

粤 巴基斯坦是内陆国家,距离海洋较远

月 受寒流影响,降水量偏低

悦 终年受副热带高压控制,降水量少

阅 巴基斯坦位于伊朗高原背风坡的雨影区,降水稀少

3. 有一封信邀请你去过“绿色的圣诞节”,并将品尝到柑橘、葡萄和油橄榄。这封信可能来自下列哪些国家()

粤 法国或德国

月 美国或英国

悦 南非或澳大利亚

阅 巴西或阿根廷

4. 欧洲西部以温带海洋性气候为主,与下列说法无关的是()

粤 受地中海的影响很大

月 与北大西洋暖流密切相关

悦 地处西风带

阅 阿尔卑斯山呈东西走向

5. 有关世界海水盐度分布规律的论述,完全正确的是()

粤 赤道地区降水量大于蒸发量,盐度低于副热带地区



月 大洋东部海水盐度一定大于大洋西部

悦 死海是世界上海水盐度最高的海域

阅 海水盐度分布规律与温度分布规律完全一致

6. 东非大裂谷()

粤 位于非洲板块和印度洋板块的边界

月 火山、地震频繁,是世界火山地震带之一

悦 南起赞比西河口,北到红海南端

阅 属于地堑构造

7. 1906年12月31日,旧金山发生了里氏7级地震,此时在港口船上的人感受如何()

粤 先上下颠簸,后左右摇晃

月 先左右摇晃,后上下颠簸

悦 只有上下颠簸,没有左右摇晃

阅 只有左右摇晃,没有上下颠簸

8. 从南极长城站出发,沿地球自转方向,环绕南极洲,依次进入()

粤 大西洋、印度洋、太平洋

月 印度洋、太平洋、大西洋

悦 大西洋、太平洋、印度洋

阅 太平洋、印度洋、大西洋

9. 由于地转偏向力的影响,伏尔加河两岸受河水冲刷程度不同,一般来说()

粤 东岸冲刷强烈

月 西岸冲刷强烈

悦 南岸冲刷强烈

阅 东西两岸冲刷程度几乎相同

10. 世界农业发展水平的差距很大,主要表现在()


粤 欧洲国家农业人口少,耕地面积小,粮食主要依赖进口

月 以巴西和阿根廷为代表的拉美国家,热带经济作物出口量大,粮食需要进口


悦 北美洲各国农业生产机械化程度高,出现专业化生产

阅 日本是工业大国,农业生产受到自然环境限制,粮食总产和单产均较低

横线以内禁止答题



横线以内禁止答题



横线以内禁止答题



横线以内禁止答题

阅读战后,由于世界各国生产发展的不平衡,世界人口迁移的变化有()

- 阅读拉丁美洲仍保持二战前的人口迁出状态
- 阅读随着石油工业的发展,伊朗、科威特等国外来人口已超过本国人口
- 阅读欧洲内部的移民也很活跃,南欧各国人口向经济发达的西欧迁移
- 阅读人口迁移,缓和迁出国人口压力,促进经济发展,有利无弊

阅读关于巴西的叙述,正确的是()

- 阅读铁矿的探明量世界第一
- 阅读首都里约热内卢是巴西政治经济中心和最大的港口城市
- 阅读开发巴那拉河的水能资源,建成投产伊泰普水电站
- 阅读历史上曾经是英国殖民地,目前通用语言是英语

阅读诗句“坐地日行八万里,巡天遥看一千河”的内容最吻合的城市是()

- 阅读伦敦
- 阅读悉尼
- 阅读北京
- 阅读新加坡

阅读两河流域解决农业用水问题,行之有效且利于环境保护的方法是()

- 阅读直接利用工业和生活废水灌溉
- 阅读推广应用喷灌、滴灌,发展节水农业
- 阅读加大地下水的开采
- 阅读减小耕地面积

阅读当整个东半球被阳光照耀时()

- 阅读伦敦的地方时为远点
- 阅读西安地区气温接近日最高点
- 阅读澳大利亚昼长夜短
- 阅读华盛顿正午太阳高度达到最大值

阅读世界上第一个受到光化学烟雾毒害的城市是美国洛杉矶,下列分析与此无关的是()

- 阅读市内车流量巨大
- 阅读属于地中海气候,夏季晴朗少雨
- 阅读三面环山,一面临海
- 阅读洛杉矶所在地加利福尼亚州是美国人口最多的地区

横线以内禁止答题

横线以内禁止答题

横线以内禁止答题



二、综合题(28分)

阅读“尼罗河和埃及地图”(图1),回答下列问题:

(1)尼罗河全长_____多千米,是世界第一长河。

(2)其主要支流_____流经东非_____气候区,降水季节性强,因此尼罗河每年定期泛滥,古代埃及人根据河水的变化,制定了最早的_____与公转周期_____非常接近。后发展为今天的公元纪年。

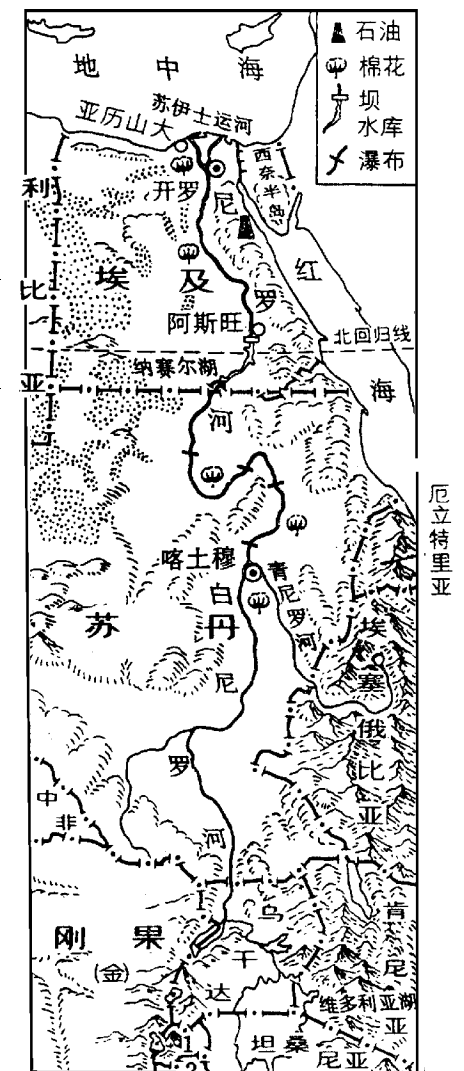


图1 尼罗河和埃及地图

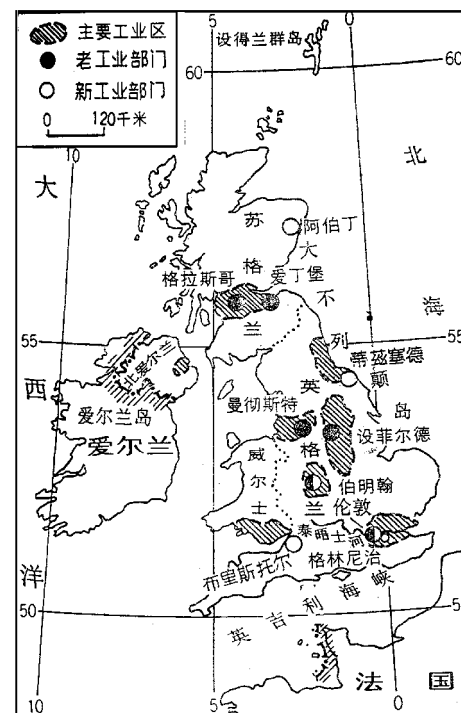


图2 英国工业分布图

(3)19世纪50年代,埃及在_____修建水库大坝之后,由于海水的作用,尼罗河三角洲不断退缩。埃及政府正在积极采取措施。

阅读“英国工业分布图”(图2),回答下列问题:
(4)1769年,英国瓦特发明了_____。英国率先进入工业革命,依靠本国的煤矿资源,形成以_____为中心的钢铁工业区,工业布局属于_____。