

中学实用参考手册

高中历史辅导与测试

(十二)

主编：卢炳瑞

延边大学出版社

图书在版编目(CIP)数据

中学实用参考手册 / 卢炳瑞主编. - 延吉:
延边大学出版社, 2004.11
ISBN 7-5634-2925-5
. 中... . 卢... . 中学-教学
参考资料-丛书 . G633

中学实用参考手册·高中历史辅导与测试(十二)

作 者: 卢炳瑞

排版设计: 盛世文化传播(北京)有限公司

出版发行: 延边大学出版社

社 址: 延吉市公园街 105 号

邮政编码: 133002

印 刷: 北京忠信诚印刷厂

开 本: 880×1230mm 1/32

总 印 张: 575 字数: 4 900 千字

版 次: 2004 年 11 月第一版

2004 年 11 月第一次印刷

印 数: 1-1 000 册

书 号: ISBN 7-5634-2925-5 / G.026

总 定 价: 1656.00 本册定价: 18.00

目 录

2002 年福州市高中毕业班质量检查文科综合能力测试.....	1
2003 年顺德市高三历史水平测试题	31
中国历代民族关系和对外关系史.....	51
中国古代科技文化史	78
列强对近代中国的侵略与掠夺	100
近代前期中国人民的抗争与救国探索.....	121
中国近代化(现代化)的发展历程.....	140
中共党史.....	165
2001 年历史高考模拟试题(一)	185
2001 年历史高考模拟试题(二)	203

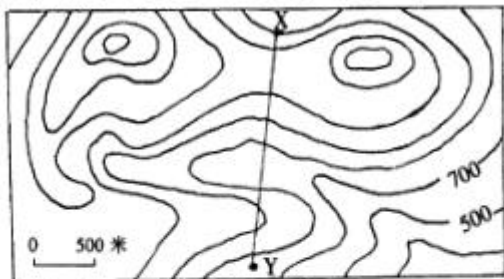
2002 年福州市高中毕业班质量检查文科 综合能力测试

满分 300 分。考试时间 150 分钟。

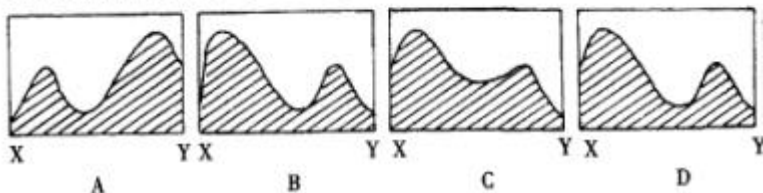
第 卷(选择题,共 140 分)

一、本卷共 35 小题,每小题 4 分,共计 140 分。
在每小题列出的四个选项中,只有一项是符合题目要

下图为北纬 48°与东经 122°交汇附近的等高线图。据图回答 1—2 题。



1. 下列四幅地形剖面图中与 X 至 Y 剖面相吻合的是



求的。

2. 如果图中所示的谷地有一河流经过,那么有关

该河的叙述，正确的是

春季有凌汛

一年有两个汛期

冬季有较长的结冰期

夏季因气温高，山地冰雪大量消融，为一年中径流量最大的时节

河水既参与海陆间循环，又参与了内陆循环

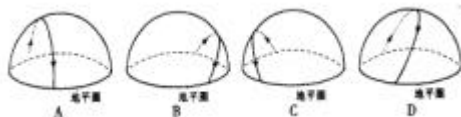
A、

B、

C、

D、

3.当长江口水域盐度达一年中最小值时，该地太阳在天空中运动的轨迹，最符合下列四幅图中的



错误！未定义书签。

读西亚地区略图，回答4—5题。

错误！未定义书签。

4.有关西亚地区自然条件的叙述，正确的是

A、被“五海”所围绕，受海洋影响明显，气候温暖湿润

B、地形以高原为主，地势较平坦，发展种植业的条件优越

C、居民均为白色人种，均为阿拉伯人，故有“阿拉伯世界”之称

D、气候炎热干燥，淡水资源短缺，农业以畜牧业占重要地位

5.有关本区国家的叙述，正确的是

A、图中 是土耳其，它是一个跨洲的国家，有世界著名的跨洲城市

B、图中 是西奈半岛，它属于沙特阿拉伯

C、图中 是阿富汗，首都是德黑兰

D、图中 是阿拉伯联合酋长国，该国有世界著名的宗教城市

读 20 世纪 50-90 年代，亚洲出口型劳动密集型工



业分布变化图，完成 6—7 题。

—— 劳动密集型产品输出方向

6.日本 20 世纪 60-90 年代，主要投资地区及其原



因是

A、在东亚、东南亚投资，因该地有充足的廉价劳动力

B、在东亚、东南亚投资，因该地气候适宜，河流众多

C、在美国投资，因日本有计划地将工业布局格局从“临海型”转向“临空型”

D、在美国投资，因美国有丰富的煤、铁、石油资源，可减少原料、燃料的进口量

7.亚洲劳动密集型产品销往日本和美国，主要原因是

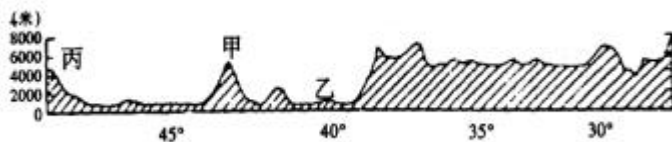
A、产销两地相隔较近，可利用便利的海洋运输

B、日本和美国劳动力的工资水平较高

C、亚洲人口多、有广阔的市场

D、日本和美国交通发达，有利于劳动密集型产品输入

下图是沿东经 87.50 经线的我国地形剖面图，据图回答 8-9 题。



8.该剖面经过地区自然环境的叙述，正确的是
A、甲山南坡为向阳坡，热量条件优于北坡，因而林带分布上限高于北坡

B、乙地河流径流季节变化大，年际变化小
C、该地南部由于地势较高，冬、夏季风不易到达

D、丙山区盛产石油、黄金等矿产
9.该剖面经过地区经济发展的叙述，正确的是
A、能源资源丰富，如北部地区的化石能源，南部河谷地区的水能资源

B、乙地区由于热量充足，灌溉条件好，是种植棉花、小麦、柑橘的理想地区

C、由于地形和气候的影响，山地畜牧业和河谷农业为该地北部的农业特色

D、共同面临土地的荒漠化和土壤的盐碱化等环境问题

从汉朝起新疆就是中国疆土的一部分。自 1990 年至 2001 年，一小撮狂热的新疆分裂分子和宗教极端分子，与境外“东突”恐怖势力相勾结，在中国新疆境内制造了至少 200 余起恐怖暴力事件，造成各民族群众、基层干部、宗教人士等 162 人丧生，440 多人受伤。根据相关知识，回答 10—11 题。

10. 下列关于中央政权对新疆实行有效管辖的史实，正确的是

公元前 60 年西汉政府设置西域都护

唐朝设置安西、北庭都护府

元朝设行省和宣政院

清朝设伊犁将军

A、

B、

C、

D、

11. ”东突“恐怖势力制造的恐怖暴力事件说明

A、必须坚持”两个文明“一起抓

B、必须坚持人民民主专政

C、必须坚持民族平等、团结、共同繁荣

D、必须反对大汉族主义和地方民族主义

2002 年 1 月 1 日起欧元正式流通。2002 年 3 月 1 日所有欧元区国家的货币退出流通，欧元成为欧元区国家的法定货币。根据相关知识，回答 12 — 13 题。

12. 有关欧洲的叙述，正确的是

A、各国均为发达国家，工业在国民经济中占绝对优势

B、人口密度大，劳动力充足，工业多以劳动密

集型为主

C、欧洲西部分布面积最大的植被是温带混交林和温带落叶阔叶林

D、是世界各大洲中自然资源最贫乏的洲，故成为世界最主要的原料、燃料输入区

13.下列有关欧洲货币变化的表述，正确的是世界上最早出现纸币的地区 十六世纪大量贵金属流入，金银价值下降 十九世纪英镑居世界货币统治地位 鲁尔危机造成德国马克狂跌

A、

B、

C、

D、

台湾自古就是中国的领土，根据相关历史知识，回答 14 — 15 题。

14.清政府于 1684 年和 1885 年先后在台湾设立府、省行政机构的根本目的是

A、巩固海防以维护国家统一

B、加速台湾地区经济发展

C、加强台湾与大陆的联系

D、防止西方殖民者侵扰台湾

15.2002 年 2 月，美国总统布什访华，重申美国

政府遵守美中三个联合公报，下列关于上海联合公报的表述中，正确的是

A、美国承认中华人民共和国政府是中国唯一合法政府

B、美中从对抗关系转变为战略伙伴关系

C、美国承认只有一个中国，台湾是中国的一部分

D、美国同意在台湾问题上“断交、撤军、废约”三原则

关税问题涉及到国家的主权，与对外贸易有密切的联系，根据相关知识，回答 16—20 题。

16.我国古代设置机构以征收海外贸易之关税始于

A、汉朝

B、唐朝

C、北宋

D、南宋

17.《南京条约》中“关税协定”条款的签订，表明

A、外国侵略者直接控制了中国海关

B、中国丧失了关税自主权

C、中国海关由中英共同管理

- D、中国降低关税以适应英国侵略者的需要
- 18.外国侵略者控制中国海关,最直接有利于列强
- A、对华商品输出
 - B、对华资本输出
 - C、在中国修路开矿
 - D、控制中国经济命脉
- 19.国民政府统治初期,发起“改订新约运动”,其结果最符合实际的是
- A、中国实际上取得了关税自主权
 - B、中国实际上取得了与列强对等的关税权
 - C、美国争得了在华的外交优势
 - D、结束了外国人盘踞中国海关总税务司的状况
- 20.当前我国连续主动降低关税水平是 我国适应加入 WTO 的需要 我国参与经济全球化的必要前提 我国发展对外贸易的客观原因 我国承担 WTO 成员关税义务的要求
- A、
 - B、
 - C、
 - D、

中国近现代史上曾出现多次思想解放运动,根据相关历史知识,回答 21—22 题。

21.中国近代前期的两次思想解放运动的实质是

- A、资本主义思想同封建主义思想的交锋
- B、资产阶级内部不同道路的论战
- C、资产阶级不同派别的交锋
- D、资产阶级改良主义道路同无产阶级革命道路的较量

22.延安整风运动和关于真理标准问题的讨论是中国共产党历史上的两次思想解放运动，这里的“思想解放”指的是

- A、思想上清算了的“左”的和右的错误
- B、为中国革命和建设的胜利奠定了思想基础
- C、打破了教条主义的思想束缚
- D、重新确立了马克思主义思想路线

1688年政变以来，英国议会与政党政治发生了很大变化，根据相关历史知识，回答题。

23.有人说英国的革命实际上是议会的变革，“革命前是国王的议会，革命后是议会的国王”。这实际上表明

- A、革命前后国王的地位没有发生变化，议会代表的阶级利益发生了变化
- B、革命前后议会和国王共同掌握国家大权，议会监督国王

C、革命前后议会与国王不仅互换了位置，而且发生了质变

D、革命只改变了形式，本质未变

24. 下列关于 1832 年英国议会改革的叙述，正确的是 改革的根本原因是工业革命 工业资产阶级经济实力强大，强烈要求参与政权管理 工业资产阶级在国会取得了优势，扩大了资产阶级民主 改革冲击维也纳体系，使神圣同盟最终破裂

A、

B、

C、

D、

江泽民同志指出：“从世界近现代史上看，不少……国家，能在不太长的时间内实现经济起飞，虽然有着各不相同的具体条件和有利因素，但重视教育，善于采用先进的科学技术，则是其共同特点。”根据相关历史知识，回答 25 — 26 题。

25. 17 — 18 世纪，重视教育促使国力迅速增强的改革有

路易十四改革

彼得一世改革

腓特烈二世改革

特蕾西亚女皇改革
亚历山大二世改革
明治维新

- A、
- B、
- C、
- D、

26. 下列有关二战后联邦德国和日本经济起飞的共同因素的表述，不正确的是

- A、二战后国民经济非军事化，政府得以集中财力物力进行经济建设
- B、大力发展科技、教育事业，培养人材
- C、美国在经济上的援助和扶植
- D、制定外向型经济发展战略

27. 2001年11月25日，美国先进细胞技术公司宣布该公司首次利用克隆技术培育出人体胚胎细胞。虽然国际上普遍对克隆人即生殖性克隆持反对态度，但对治疗性克隆，也就是利用克隆技术获得人类于细胞以用于对病变组织和器官进行替代治疗，则基本认同。这表明人们在利用科学技术的时候

- A、应该抓住事物的主要矛盾，也不忽视对次要矛盾的解决

- B、科学技术的性质是由矛盾的主要方面决定的
- C、要坚持用矛盾的分析方法分析事物
- D、对最新科技成果的认识和接受还需要一个过程

目前在我国农村，农民收入增长缓慢、增产不增收已经成为制约我国农业发展和扩大内需的瓶颈。因此如何加快我国农业发展，应对“入世”的挑战已成为当务之急。”多予、少取、放活“，这是中央农村工作会议提出的当前增加农民收入总的指导思想和新的思路。多予，就是要增加对农业和农村的投入。少取，就是要切实减轻农民负担。放活，就是要把农民群众的积极性、主动性、创造性发挥出来，进一步活跃农村经济，拓宽农民的增收渠道。请根据材料回答（28-30题）。

28.中央农村工作会议对增加农民收入予以高度重视体现了

- A、中国共产党和中国政府始终代表中国最先进生产力和最广大人民群众的利益
- B、中国共产党是通过制定路线、方针来实现对国家的政治领导
- C、农民问题已经成为中国实现现代化要解决的主要问题

D、物质文明与精神文明两手抓，两手都要硬

29.目前中国农业面临着三个主要问题，一是如何进一步提高农民收入；二是如何进一步调整农村产业结构；三是如何应对加入 WTO 后的国际竞争。从增加农民收入着手解决中国

目前农业存在的问题的新思路，坚持了

A、从全局问题入手带动局部问题解决的哲学思维

B、抓住和下大力气解决复杂事物主要矛盾的辩证思维

C、中国政府有能力自行解决中国问题的政治学思维

D、农业是国民经济基础的经济学思维

30.下大力气增加农民收入，这对扩大国内需求，促进农业生产和国民经济的发展具有及其重要的意义。这体现的道理是

A、农民生活水平的提高主要依靠农业生产的发展

B、农业生产的发展主要依靠国内需求的提高

C、生活消费和需求对生产具有反作用

D、农民群众是农业生产实践的主体

2002年1月日，我国铁路价格听证会在北京铁道