

中学实用参考手册

# 高中历史辅导与测试

(三十四)

主编：卢炳瑞

延边大学出版社

## 图书在版编目(CIP)数据

中学实用参考手册 / 卢炳瑞主编. - 延吉:  
延边大学出版社, 2004.11  
ISBN 7-5634-2925-5  
. 中... . 卢... . 中学-教学  
参考资料-丛书 . G633

中学实用参考手册·高中历史辅导与测试(三十四)

---

作 者: 卢炳瑞

排版设计: 盛世文化传播(北京)有限公司

---

出版发行: 延边大学出版社

社 址: 延吉市公园街 105 号

邮政编码: 133002

---

印 刷: 北京忠信诚印刷厂

开 本: 880×1230mm 1/32

总 印 张: 575 字数: 4 900 千字

版 次: 2004 年 11 月第一版

2004 年 11 月第一次印刷

印 数: 1-1 000 册

书 号: ISBN 7-5634-2925-5 / G.026

总 定 价: 1656.00 本册定价: 18.00

# 目 录

福州市 2003 年高中毕业班质量检查文科综合能力测试.....	1
2003 年福建省达标中学高中毕业班质量检查文科综合能力测试.....	28
2002 年福州市高中毕业班质量检查文科综合能力测试.....	54
2003 年顺德市高三历史水平测试题 .....	84
2003 年潍坊市高三历史联考试卷.....	104
高考历史仿真试题(二).....	119
高考历史仿真试题(三).....	140
2003 年高考历史仿真试题(四).....	160
2001 年高考历史模拟试卷 .....	181

## 福州市 2003 年高中毕业班质量检查文科综合能力测试

完卷时间：150 分钟；满分：300 分

第 卷(选择题，共 140 分)

一、本卷共 35 题，每小题 4 分，共计 140 分。  
在每小题列出的四个选项中，只有一项是最符合题目要求的。

北京时间 2002 年 12 月 30 日零时四十分，从酒泉卫星发射中心发射升空的“神舟”四号飞船，在完成预定空间科学和技术试验任务后，于北京时间 2003 年 1 月 5 日 19 时 16 分，在内蒙古中部草原准确着陆。请根据材料回答 1—6 题。

1.当“神舟”四号飞船着陆时

A、地球上大约四分之三地方为 2003 年 1 月 5 日

B、太阳直射点向南移动

C、一艘从仰光航行至科伦坡的海轮上，人们见到国旗向西南飘扬、旗杆的影子朝向东北

D、北极地区发生极昼，南极地区发生极夜

2.下列有关“神舟”四号飞船升空地和着陆地的说法，正确的是

A、两地均位于我国非季风区的中温带，农业生

产结构相同

B、位于祁连山的飞船升空地，降水多于位于地势平坦的内蒙古中部着陆地

C、飞船升空的时刻接近当地一天中气温最低的时刻

D、在飞船空中运行期间飞船升空地和着陆地的白昼均比西昌短

3. “神舟”四号飞船着陆地选在内蒙古中部草原的有利条件是

A、该地是蒙古族的聚居地，在该地降落有利于民族团结

B、该地人口密度较大，便于发动人们寻找飞船的返回舱

C、该地靠近京津唐科技发达的地区，便于组织科技人员及时分析飞船返回的信息

D、该地属于大草原区，地面平坦开阔，区内没有大河，有利于返回舱安全回收

4. “神舟”四号飞船成功发射、准确着陆，这表明

A、规律认识和利用的程度取决于主观能动性发挥的程度

B、人能够认识利用规律为人类服务

C、人们揭示了事物的本质规律，办事情就能获得成功

D、本质总是通过现象表现出来

5.我国的航天事业凝聚了航天人几十年的艰辛创业和无私的默默奉献，他们的崇高精神激励着人们在社会主义现代化建设中不断进取，开拓创新。这表明

A、正确的意识是我们想问题办事情的出发点

B、符合规律的个人活动对社会发展起决定作用

C、意识对物质具有反作用

D、新生事物是不可战胜的

6.我国航天事业的发展引起了世界各国的瞩目，因为这意味着

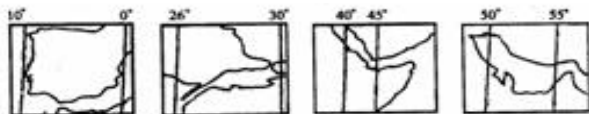
A、我国拥有日益广阔的市场

B、一个多极化的世界格局开始形成

C、我国市场经济健康有序发展

D、我国的综合国力进一步增强

读下图回答 7—8 题：



7.密度流最明显的海峡是：

- A、
- B、
- C、
- D、

8.夏季受副高控制，冬季盛行西风同时又是洲界的海峡有：

- A、
- B、
- C、
- D、

某日一位来自 R 城的游客在北京一宾馆住宿，此时 R 城的日期和区时与北京都不同(见下图)。回答 9-10 题。



R 城时间



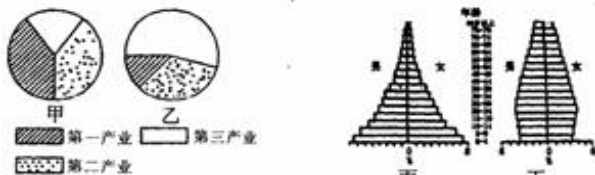
北京时间

- 9.据图推测 R 城的位置在
- A、东半球、东时区
  - B、东半球、西时区
  - C、西半球、西时区
  - D、西半球、东时区

10. 与 R 城经度距离最近的海湾是


- A、波斯湾
- B、几内亚湾
- C、孟加拉湾
- D、墨西哥湾

11. 下列各国与“产业结构图”和“人口年龄结构图”所示的特征相吻合的是



- A、美国——甲——丁
- B、印度——甲——丙
- C、德国——乙——丙
- D、巴西——乙——丁

读我国四个地区气温示意图和降水量柱状图，回答 12—13 题。



12.四个地区中复种指数最高和农业生产易受干旱、寒潮影响的地区分别是

- A、
- B、
- C、
- D、

13.一般情况下四个地区均不适宜种植的农作物是

- A、水稻
- B、小麦
- C、甘蔗
- D、甜菜

秦统一后，我国统一多民族的国家不断巩固和发展。结合相关知识回答 14-16 题。

14.下列边疆地区归属中央政权管辖的先后顺序是

黑龙江流域    河套地区    新疆地区    西藏地区

- A、
- B、
- C、
- D、

15.唐至元朝我国居民的迁移促进了民族大融合，下列表述正确的是 大批东南地区居民迁居西北边疆少数民族大量内迁 黄河流域居民迁往江南许多中原百姓迁往边疆地区

- A、
- B、
- C、
- D、

16.下列史实 ,最突出地反映了中华民族有巨大凝聚力 and 向心力的是

- A、 土尔扈特部回归祖国
- B、 中央设置宣政院
- C、 戚继光驱逐倭寇
- D、 郑成功收复台湾和台湾府的设置

中国共产党始终代表中国先进生产力的发展要求，代表中国先进文化的前进方向，代表中国最广大人民的根本利益。结合相关知识回答 17-19 题。

17.1937 年 7 月 15 日，中国共产党在“国共合作宣言”中郑重承诺“取消一切推翻国民党政权的暴动政策，及赤化运动，停止以暴力没收地主土地的政策。取消现在的苏维埃政府，……”上述材料说明了当时中国共产党

- A、不再照搬苏联的经验
- B、转变了对国民党认识
- C、改变斗争目标
- D、以民族利益为重

18.最早提出在中国实现社会主义工业化目标的党的会议是

- A、“七大”
- B、七届二中全会
- C、“八大”
- D、十一届三中全会

19.大革命失败后,以毛泽东为代表的共产党人开创了农村包围城市的中国革命道路;“文革”结束后,以邓小平为代表的共产党人开创了中国特色的社会主义建设道路。两者本质上的相同之处为

- A、先从农村着手
- B、从中国国情出发
- C、走社会主义道路是历史的必然
- D、达到的目的一样

20世纪七八十年代以来,亚洲的一些国家和地区经济发展引人注目,为世界经济注入活力。根据相关知识回答20—22题。

20.下列成就中,我国改革开放以来取得的是

第一颗人造卫星发射成功  
宝山钢铁公司建成投产  
京九铁路建成通车  
大庆油田建成投产  
葛洲坝水利枢纽工程建成  
大亚湾核电站兴建

- A、
- B、
- C、
- D、

21.下列对七八十年代新加坡和韩国经济发展经验的认识，不正确的是

- A、要制定适合本国国情的经济发展战略
- B、经济发展必须面向国际市场
- C、坚持大力发展劳动密集型产业
- D、要大力发展科学技术和教育事业

22.在中国经济发展中，借鉴了包括新加坡、韩国在内的许多国家的成功经验。之所以能借鉴别国成功的经验，是由于

- A、实践是检验认识正确与否的唯一标准
- B、矛盾的普遍性和特殊性是相互联结的
- C、认识了事物的本质和规律，能更好地指导实

践

D、整体和部分既相互区别又相互联系

为适应经济发展的需要，资本主义国家的职能不断地调整。根据相关知识回答：23—25

23.英国资本主义从工场手工业向机器大生产转变时期，资本主义国家的职能包括

健全法治，限制君主特权

国家减少对经济的干预

保护资产阶级的私有制财产与利益

加强对外扩张以获取更多的原料和市场

A、

B、

C、

D、

24.第二次世界大战后，西欧各国政府职能的调节，包括

加强政府对经济的宏观管理

不同程度地推行国有化政策

进行一些社会改革，缓和社会矛盾

开始推行外向型经济发展战略

A、

B、

C、

D、

25.资本主义国家职能不断调整的原因在于

A、国家国体的变化

B、国家政体的变化

C、国家机关的变化

D、统治阶级利益的变化

拿破仑和希特勒企图独霸欧洲，结果都失败了；而二战后，欧洲却出现了走向统一的趋势。结合相关知识回答 26-27 题。

26.下列关于拿破仑和希特勒失败共同原因的表述，不正确的是

A、侵略引起欧洲各国人民的广泛反抗

B、军事征服缺乏坚实的经济基础和民族意识

C、违背历史潮流，阻碍社会进步

D、英国参与的军事同盟力量的强大和反对

27.欧洲共同体和欧洲联盟的建立的共同点不是武力征服的结果，而是欧洲霸权丧失的产物

是两极格局形成和美苏争霸激化的产物

是经济政治联盟

反映了欧洲统一和世界经济区域集团化趋势

的增强 反映了世界格局的多极化趋势

- A、
- B、
- C、
- D、

2000 年开始，我国政府先在安徽全省进行试点，而后在江苏、河北、内蒙、吉林等省份推广的农村税费改革，使 6.2 亿农民的负担比改革前下降了 30% 多，合计 300 多亿元人民币。据此回答 28—29 题；

28.我国目前所进行的农村税费改革有利于

- 扩大国内需求，拉动经济增长
- 减轻农民负担，巩固农业的基础地位
- 农民减少税收支出，提高生活水平
- 规范农村税费制度，推进依法治国 巩固乡镇企业在国民经济中的支柱地位

- A、
- B、
- C、
- D、

29.农村税费改革是贯彻“三个代表”重要思想的具体体现。这主要是由于

- A、 税费改革促进了农村先进文化发展

- B、税费改革是当前我国农村的中心工作
- C、税费改革是国家宏观调控的重要举措
- D、税费改革维护了最广大农民群众利益

党的十六大提出了 2020 年在中国实现全面小康社会的奋斗目标。请根据所学知识回答 30—31 题。

30.这一奋斗目标之所以由中国共产党全国代表大会提出，是因为

- A、中国共产党是中国社会主义建设事业的领导核心
- B、中国共产党全国代表大会是我国最高权力机关
- C、我国的国家职能主要由中共中央、国务院履行
- D、我国的人民代表大会制度尚未完善

31.十一届三中全会以后，中国共产党根据国情提出了用二十年的时间使人民生活总体上达到小康水平；党的十六大，提出再用二十年时间，在中国全面实现小康社会的奋斗目标。这体现了中国共产党在制定路线、方针、政策时坚持了

- A、集体主义的政治原则和道德准则
- B、唯物主义和辩证法的统一
- C、理想总是会转化为现实的坚定信念

D、密切联系人民群众的优良传统作风

2003年1月，国务院办公厅发出《关于做好农民工进城务工就业管理和服务工作的通知》明确要求：要切实解决拖欠和克扣农民工工资问题，用人单位必须以法定货币形式支付农民工工资，不得以任何名目拖欠和克扣。据此回答32—33题。

32.必须切实解决拖欠和克扣农民工工资的问题，因为企业拖欠和克扣农民工工资

- A、属于不正当竞争行为
- B、侵犯了劳动者享有的基本权利
- C、违背了我国的社会保障制度
- D、侵犯了消费者享有的公平交易的权利

33.我国政府重视做好农民进城务工的管理和服务工作，这表明

- A、国家鼓励农民工进城务工以弥补城市劳动力总体不足
  - B、进城务工是解决农民收入增长缓慢问题的根本途径
  - C、在市场经济中，政府履行组织和领导经济建设的国家职能
  - D、我国把农业摆在国民经济发展的首位
- 《孙子兵法》云：“投入亡地然后存，陷入死地