

前言

QIAN YAN

《高中总复习优化设计》一直是按“1+2”模式编写的,即一册《优化设计》学生用书,附编一册学生训练用书的《优化训练》,共配编一册供教师使用的“教师用书”。这种延续了几年的“1+2”模式发挥了积极的作用,得到广大读者的充分肯定与认同。但是,同时也有不少读者指出,处于从属地位的《优化训练》题型比较单一,功能不够完备,难以很好地适应高考改革对于备考训练的要求。这一意见引起了我们的极大重视。经过深入研究和反复论证,我们决定将从属于《优化设计》的《优化训练》分离出来,专题策划,独立编写,形成一个科学完备的训练体系。这就成了今天与广大读者见面的《高中总复习优化训练》“1+1”系列。

那么,《高中总复习优化训练》继承了《高中总复习优化设计》的哪些传统优势,自身又发展了什么样的新特色呢?

《高中总复习优化训练》继承了《高中总复习优化设计》新颖、优化、科学、实用的传统优势:

新颖:反映“3+X”考试的最新信息,从新颖、别致的角度,精选基础性、综合性、多元性的例题和试题,体现培养创新思维和实践能力的要求。

优化:放眼整体,全程优化,创造性地设计各分册的内容框架。既考虑本学科的系统完整,又兼顾跨学科的综合沟通。

科学:在对近年来高考总复习实践进行深入分析研究的基础上,全面吸收率先实行综合考试地区的高考备考成功经验,内容设置、体例编排更为科学,体现了最

新复习导向。

实用:作为专项的、独立的训练用书,从方式、内容、时间控制等多角度进行综合设计、优化取舍,更适合教师整体操作、学生个体使用。

《高中总复习优化训练》新的策划理念与编写特色:

着眼点前瞻性性与着手点准确性的有机结合。着眼点的前瞻性追求的是与高考改革方向的一致。着手点的准确性追求的是对高考命题意图的准确把握。二者的有机结合体现在题型与内含、题量与时限、思维与方法、机智与技巧等方面的配置、照应体系上。优化训练在对能力的检测中体现对基础的巩固,在基础层级、学科内综合训练中蕴含着高层级能力、跨学科综合应用能力要求。

《高中总复习优化训练》以一周1次或2次45分钟的[基础训练]为最频繁、最基础性设置,涵盖学科单元或单元组合的主干知识;以一周1次或两周1次90分钟的[综合训练]为中量级、提高性设置,凸现每章或每编重点、要点,演练学科内综合;以一月1次或数月1次高考时限的[模拟训练]为适量级、应用性设置,展现学科间辐射、交汇现象,体验和提升应用能力。这种以“基础练”、“综合练”、“模拟练”为结构板块,以日练、周练、月练为延伸链条,以45分钟、90分钟、高考时限为旋升半径的备考练习体系,包揽了内容与形式、要求与方法、时间与思维的练习三大要素,形成了一个以适应综合考试为目的的“三维”综合练习体系。

地理学科是文科综合和文理综合的考试科目。综合能力测试的根本特点是基础性,进行综合的突出特点是联系实际。文科综合和文理综合试题讲求“能力立意”或“问题立意”,多以当前重大热点、社会现实问题为背景,材料、图表、数据信息量大,设问“入手容易深入难”,应答主观性试题鼓励创新。因此,地理学科的基本事实、观点、方法仍是复习重点,甚至由于试题多以现实问题作背景,在一定程度上淡化了核心、主干和重点内容,曾被列为所谓非重点的内容也会因与现实问题有关联而应予充分重视。复习的广度比深度显得更重要。学科能力是综合能力的基础,同时学科能力也要向综合能力提升。这就要求我们在复习中强调将学科知识、技能与社会现实联系起来,更加注重对创新思维与应用能力的训练,对学科思想的

综合应用。

本书是以“ 试验修订教材 ”为蓝本编写的。本书对教材进行了整合 ,整体上分为 39 个复习单元。基本上 1 或 2 个“ 复习单元 ”设置 1 套“ 基础训练 ”,总数为 17 套的“ 基础训练 ”涵盖了中学阶段所涉及的地理学科主干知识、观点和方法 ,适用于随堂或小型集中练习。2 个或 3 个“ 复习单元 ”设置 1 套“ 综合训练 ”,总数为 11 套的“ 综合训练 ”,重点对学科内知识主干进行综合训练 ,适用于集中练习或阶段测试。“ 世界地理 ”、“ 中国地理 ”、“ 初中地理 ”、“ 高中地理上册 ”、“ 高中地理下册 ”以及“ 高中地理 ”均各设置 1 套“ 模拟训练 ”,还设置了 2 套“ 综合模拟训练 ”。总数为 8 套的“ 模拟训练 ”,以最新高考试卷试题结构、顺序为模板 ,密切联系社会现实 ,体现时代特色 ,强化基础 ,突出能力 ,体现学科间综合应用 ,适用于阶段性检测或模拟考试。全书训练类型齐全 ,梯度清晰 ,功能完备 ,实用、方便。

为了帮助教师充分把握本书的设计思想和意图 ,促进对本书的有效使用 ,本书配有《教师用书》,《教师用书》对本书中试题进行了详细解析及思路点拨 ,并附有大量备课资料和必要的教学建议 ,内容更加丰富全面 ,将会使教师的教学指导与备课更加得心应手。

本书编者身处中学地理教学、教研第一线 ,投身实践 ,潜心研究 ,精心设计 ,集全国各地先进经验于本书 ,希望能给广大师生高三总复习提供有效、有益的参考。受编者水平和编写时间所限 ,书中难免有疏忽与不妥 ,敬请广大读者批评赐教。

编 者

2002 年 6 月


 MU
 LU
 目
 录

基础训练 1 世界地理概况	(001)	基础训练 12 地球的海洋环境	(059)
基础训练 2 亚洲和非洲	(003)	基础训练 13 地球的陆地环境	(061)
综合训练(一).....	(005)	综合训练(七)	(063)
基础训练 3 欧洲和北美洲	(009)	综合训练(八)	(067)
基础训练 4 南美洲、大洋洲和南极洲	(011)	高中地理上册模拟训练(四).....	(071)
综合训练(二).....	(013)	基础训练 14 人类的生产活动与地理环境	(075)
世界地理模拟训练(一).....	(017)	基础训练 15 人类的居住地与地理环境	(077)
基础训练 5 中国的疆域、行政区划、人口和民族	(021)	综合训练(九)	(079)
基础训练 6 中国的地形	(023)	基础训练 16 人类活动的地域联系	(083)
基础训练 7 中国的气候	(025)	基础训练 17 全球环境问题和可持续发展	(085)
基础训练 8 中国的河流、湖泊和海洋	(027)	综合训练(十)	(087)
基础训练 9 中国的交通、商业和旅游业	(029)	综合训练(十一)	(091)
综合训练(三).....	(031)	高中地理下册模拟训练(五).....	(095)
综合训练(四).....	(035)	高中地理模拟训练(六).....	(099)
综合训练(五).....	(039)	综合模拟训练(七)	(103)
中国地理模拟训练(二).....	(043)	综合模拟训练(八)	(107)
初中地理模拟训练(三).....	(047)	参考答案.....	(111)
基础训练 10 地球的宇宙环境	(051)		
基础训练 11 地球的大气环境	(053)		
综合训练(六).....	(055)		



基础训练 1 世界地理概况

一、选择题

- ⇒1. 临三个大洋而且跨经度最广的地域单元是 …………… ()
- A. 南极洲
B. 北美洲
C. 澳大利亚大陆
D. 亚欧大陆
- ⇒2. 半岛是指 …………… ()
- A. 海洋伸进陆地的部分
B. 陆地伸进海洋的部分
C. 陆地被海洋分割的部分
D. 陆地被海洋包围的部分
- ⇒3. 下列有关运河和海峡的叙述中, 错误的是 …………… ()
- A. 苏伊士运河沟通红海和地中海
B. 麦哲伦海峡分隔南美大陆和火地岛
C. 基尔运河连接北海和波罗的海
D. 巴拿马运河连接太平洋和墨西哥湾
- ⇒4. 下列哪个大洲既位于北半球又位于西半球 …………… ()
- A. 亚洲
B. 非洲
C. 北美洲
D. 南美洲
- ⇒5. 赤道穿过的大洲中, 大陆面积最大的是 …………… ()

- A. 亚洲
B. 非洲
C. 大洋洲
D. 南美洲
- ⇒6. 四大洋中, 跨经度最多的是 …………… ()
- A. 太平洋
B. 大西洋
C. 印度洋
D. 北冰洋
- ⇒7. 下列各组大洲中, 大陆均为北回归线穿过的是 …………… ()
- A. 亚洲、欧洲、南美洲
B. 亚洲、欧洲、北美洲
C. 非洲、亚洲、北美洲
D. 非洲、大洋洲、北美洲
- ⇒8. 属于纵贯南北美洲西部山系的山脉是 …………… ()
- A. 阿尔卑斯山和落基山脉
B. 落基山脉和安第斯山脉
C. 喜马拉雅山脉和阿尔卑斯山脉
D. 喜马拉雅山脉和安第斯山脉
- ⇒9. 南极洲和北冰洋自然地理环境的相同点是 …………… ()
- A. 世界上最小的大洲和大洋
B. 极圈内均有极昼和极夜现象出现
C. 分别是世界 7 月、1 月世界最冷的地方
D. 都有企鹅、海豹和磷虾
- ⇒10. 跨两大洲、临三大洋的国家是 …………… ()
- A. 巴拿马
B. 埃及
C. 美国

- D. 印度尼西亚
- ⇒11. 关于大洲大洋的正确叙述是 …………… ()
- A. 墨西哥以南的美洲地区称拉丁美洲
B. 亚洲和欧洲合称亚欧大陆
C. 位于太平洋的马里亚纳海沟是世界上最深的海沟
D. 北冰洋全部在北极圈内
- ⇒12. 亚洲与欧洲的分界线是 …………… ()
- A. 巴拿马运河
B. 苏伊士运河
C. 乌拉尔山、乌拉尔河
D. 高加索山脉
- ⇒13. 地形可分为西部、中部、东部三大地形区的大洲有 …………… ()
- A. 亚洲
B. 北美洲
C. 南美洲
D. 大洋洲
- ⇒14. 有关大洲地形的叙述, 正确的是 …………… ()
- A. 欧洲地形以平原为主, 是世界上海拔最低的一个洲
B. 亚洲中部高、四周低, 平原多分布在大陆周围
C. 非洲被称为“高原大陆”, 是世界上海拔最高的一个洲
D. 南北美洲的地形东部高山、西部高原、中部平原
- ⇒15. 关于地表形态特征的叙述, 正确的是 …………… ()
- A. 地面平坦或起伏较小的地形是平原
B. 海拔在 500M 以上, 地面峰峦起伏, 坡度陡峻的是山地地形

- C. 地面有起伏,但海拔较低,坡度和缓的地形是高原
- D. 周围高,中间低,四周有山岭环绕的地形是盆地
- ⇒16. 关于世界人口增长和分布的正确叙述是 …… ()
- A. 世界每增加 1 亿人口所需的时间越来越短
- B. 进入 21 世纪,世界人口因普通实行计划生育而停止增长
- C. 从社会经济角度的角度,一个国家或地区的人口发展越慢越好
- D. 西欧平原和德干高原都是人口稠密区

二、综合题

⇒17. 读图 1—1,完成下列要求

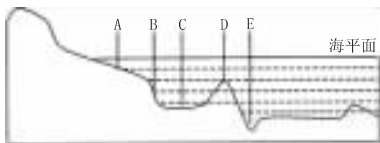


图 1—1

图中代号相应的海底地形名称是

- A _____, B _____,
- C _____, D _____,
- E _____。

⇒18. 读“人类对地球形状认识过程图”并回答

古代凭直觉臆断 麦哲伦环球航行证明 近代精确测量发现



图 1—2

(1)人们的认识过程是_____。

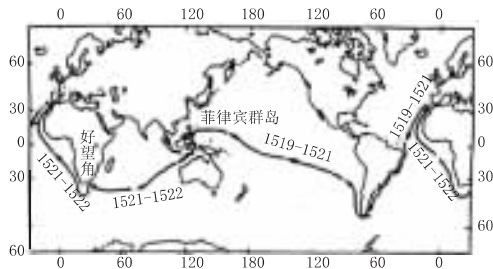


图 1—3

(2)麦哲伦是_____ (国家)的航海家。读“航线图”回答:_____年他的船队从_____出发,渡过_____洋,绕过_____洲南端,进入_____洋;后又穿过_____海峡和印度洋,绕过非洲南端_____角返回,成功地绕地球一周。

(3)早在_____年,著名的航海探险家_____就进行了一次横渡大西洋的远航。他从_____出发一直西行,目的是去_____、_____等东方国家寻找_____、_____、_____。他坚信地圆说,认为目的地虽在欧洲东方,一直向_____航行也可到达,结果成功地发现了美洲大陆。有趣的是第一次航行,共用了 37 天到达美洲,次年再去美洲,仅用了 20 天就到达了。原来,第一次是逆着_____ (填洋流名称)航行的;第二次是顺着_____和_____航行的,因而时间缩短了许多。此后,欧洲人就经常利用后一条航线去美洲经商。

⇒19. 将下列三组相关的知识用直线连接起来

- A. 基督教 ① 庙宇 a. 教徒称穆斯林

- B. 伊斯兰教 ② 教堂 b. 主要分布于亚洲
- C. 佛教 ③ 清真寺 c. 教徒分布最广



基础训练 2 亚洲和非洲

一、选择题

- ⇒1. 亚洲流经国家最多的河流是 …………… ()
- A. 印度河
B. 黑龙江
C. 湄公河
D. 幼发拉底河
- ⇒2. 日本气候与同纬度大陆相比 …………… ()
- A. 冬季温和、夏季高温、降水较多
B. 冬季凉爽、夏季温暖、降水较多
C. 冬季温暖、夏季炎热、降水较多
D. 冬季温和、夏季凉爽、降水较多
- ⇒3. 新加坡与日本两国在经济上的相似之处是 …………… ()
- A. 经济发展与对外贸易关系不大
B. 经济发展严重依赖对外贸易
C. 都是农产品出口大国
D. 都是矿产品出口大国
- ⇒4. 关于日本农业的正确叙述是 …………… ()
- A. 农民多采用大型农业机械
B. 精耕细作,单位面积产量高
C. 侧重发展水利,合理施用化肥
D. 小麦、玉米是其主要粮食作物
- ⇒5. 关于东亚区域地理特征的正确叙述是 …………… ()

- A. 地势较为平坦,以平原为主
B. 季风气候显著
C. 沿海与内陆经济差异不明显
D. 居民主要为黄色人种
- ⇒6. 关于印度的正确叙述是 …………… ()
- A. 居民绝大部分为黄色人种
B. 是亚洲耕地面积最大的国家
C. 加尔各答是印度最大的海港和城市
D. 钢铁工业集中分布于德干高原的东北部
- ⇒7. 有关中亚地区的正确叙述是 …………… ()
- A. 中亚地区除了西临里海外,其他三面距海均很远,深居内陆
B. 中亚的东南紧接海拔 5000 米左右的帕米尔高原,地势东南高,西北低
C. 气候冬冷夏热,降水很少,形成大面积的沙漠
D. 由于干旱少雨,河流多是内流河,湖泊面积较小
- ⇒8. 东非大裂谷经过的地形区有 …………… ()
- A. 刚果盆地
B. 东非高原
C. 埃塞俄比亚高原
D. 南非高原
- ⇒9. 非洲气候的突出特点是 …………… ()
- A. 以赤道为轴,气候带呈南北对称分布
B. 热带草原气候分布最广
C. 年平均气温在 20℃ 左右
D. 终年炎热干燥
- ⇒10. 非洲的热带草原动物有 …………… ()
- A. 大象
B. 河马
C. 长颈鹿
D. 斑马

二、综合题

⇒11. 读图 2—1 回答下列问题

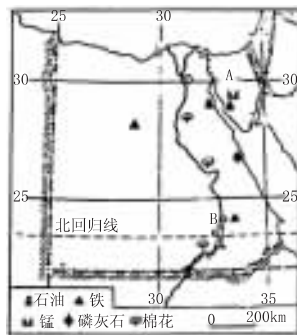


图 2—1

- (1) A 为 _____ 运河,它沟通了 _____ 海和 _____ 海,联结了 _____ 洋和 _____ 洋。
- (2) B 为 _____ 水坝,它的建成不仅扩大了农田 _____,还提供了大量的 _____,促进了埃及经济发展。
- (3) 埃及农业生产的特色,是以 _____ 农业为主,是世界著名的 _____ 生产国,该种物产主要分布在 _____ 地区。
- (4) 埃及的四大经济支柱是 _____。
- (5) 埃及的首都为 _____,最大港口城市是 _____。

⇒12. 读 2—2 东亚部分地区图回答

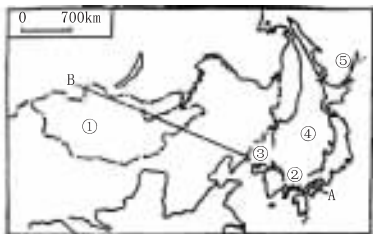


图 2—2

(1) 将图中各数码所代表的地理事物名称填在下面的横线上:

① 为 _____ 国

② 的西侧为 _____, 东侧为 _____ 国

③ 为 _____ 国 ④ 为 _____ 海 ⑤ 为 _____ 洋

(2) 从 A 至 B, 从沿海到内陆, 降水特点是由 _____ 向 _____ 递减。东部沿海受 _____ 风影响, 比同纬度其他地区获得较多的 _____, 自古以来就是著名的 _____ 区。

(3) 西部内陆地区地处亚欧大陆的內部, 距 _____ 较远, 气候 _____, _____ 在经济中占有重点地位。

⇒ 13. 读图 2—3 回答下列问题

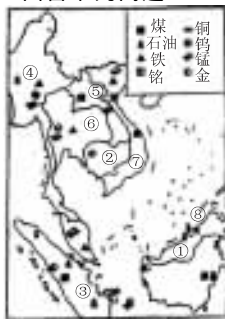


图 2—3

(1) 填出图中下列号码所在的国家名称:

① _____, ② _____, ⑥ _____, ⑦ _____。

(2) 产锡、油棕、天然橡胶最多的国家是 _____。

(3) 产稻米最多的国家是 _____。

(4) 信仰佛教较多的国家是 _____, 信仰伊斯兰教较多的国家是 _____。

(5) 新加坡是怎样因地制宜发展经济的?
_____。

⇒ 14. 读图 2—4 回答问题

(1) 填出下列国家的图上代号和名称:

西亚面积最大的国家 _____, 北非面积最大的国家 _____, 地跨亚、非两洲的国家 _____, 地跨亚、欧两洲的国家 _____。



图 2—4

(2) 关于西亚和北非的正确叙述是

- A. 居民都属阿拉伯人, 信奉伊斯兰教
- B. 地形以高原为主, 有广阔的沙漠
- C. 石油资源丰富, 农业生产需要灌溉
- D. 石油输出都经苏伊士运河运往西欧、北美或日本

(3) 关于沙特阿拉伯的正确叙述是

- A. 沙特阿拉伯是西亚面积最大、人口最多的国家

B. 由于气候极端干旱, 没有河流和湖泊

C. 石油储量占世界总储量的 1/4 以上

D. 首都利雅得是全国政治、商业、文教和交通中心



综合训练(一)

(时间:90分钟 满分:100分)

一、选择题(每题1.5分,共48分)

- ⇒1. 有关日本、蒙古、朝鲜三个国家的比较,正确的是 …………… ()
- A. 处于火山、地震活动带
B. 都属于单一民族的国家
C. 气候受海洋的影响较大
D. 民族工业的发展在国民经济中占重要地位
- ⇒2. 下列和我国接界的国家中,居民大多数信奉伊斯兰教的是 …………… ()
- A. 巴基斯坦和阿富汗
B. 印度和巴基斯坦
C. 尼泊尔和不丹
D. 巴基斯坦
- ⇒3. 南亚优质黄麻的主要分布地区是 …… ()
- A. 德干高原的西北部
B. 恒河三角洲
C. 半岛东北部、沿海地区
D. 布拉马普特拉河上游山坡
- ⇒4. 下列国家不属于中亚国家的是 …… ()
- A. 哈萨克斯坦
B. 塔吉克斯坦
C. 土库曼斯坦
D. 土耳其
- ⇒5. 被伊斯兰教、基督教、犹太教都看成做圣城的是 …………… ()

- A. 麦加城
B. 耶路撒冷
C. 麦地耶
D. 吉达
- ⇒6. 非洲热带草原的代表动物有 …………… ()
- A. 长颈鹿、斑马
B. 大猩猩、河马
C. 大袋鼠、鸭嘴兽
D. 非洲象、鸵鸟
- ⇒7. 撒哈拉以南的非洲,储量、产量都占世界第一位的矿产是 …………… ()
- A. 金刚石、铜
B. 铁、铝土
C. 黄金、金刚石
D. 铝土、黄金
- ⇒8. 撒哈拉以南的非洲主要的热带经济作物是 …………… ()
- A. 橡胶、黄麻
B. 大豆、油棕
C. 棉花、蕉麻
D. 咖啡、可可
- ⇒9. 刚果盆地的成因是 …………… ()
- A. 地壳运动断裂形成的
B. 内陆湖湖水外泻形成的
C. 风力侵蚀作用形成的
D. 冰川侵蚀作用形成的
- ⇒10. 划分五带的主要依据是 …………… ()
- A. 有无太阳的直射和斜射
B. 有无明显的季节变化
C. 获得太阳光热的多少

- D. 有无极昼、极夜和极光现象
- ⇒11. 关于东南亚的叙述,正确的是 …… ()
- A. 是世界上最大的石油和锡的产地
B. 是世界上最大的小麦产地
C. 处于亚欧大陆和澳大利亚大陆、印度洋和太平洋的“十字路口”上
D. 是世界上天然橡胶、油棕、椰子等热带经济作物的重要产地
- ⇒12. 关于东非大裂谷的叙述,正确的是 …… ()
- A. 南起赞比西河口,北经红海,一直延伸到西亚的死海附近
B. 两岸悬崖壁立,附近有许多死火山和活火山
C. 谷底湖泊连串,有世界最深最大的湖泊——坦噶尼喀湖
D. 东非裂谷带形成时间久,现在不再继续扩大
- ⇒13. 关于印度尼西亚的叙述,正确的是 …… ()
- A. 世界最大的群岛国家,也是东南亚面积最大的国家
B. 人口有1.7亿,其中1/3的人口集中在爪哇岛上
C. 东南亚最大的石油生产国和输出国
D. 首都雅加达位于苏门答腊岛的西北岸,是东南亚最大的城市
- ⇒14. 当非洲南部地中海气候区处在干燥的季节时,应是 …………… ()
- A. 南亚盛行东北季风
B. 北非地中海沿岸也处在干燥的季节
C. 尼罗河正是流量大增的季节
D. 日本群岛是降水稀少的季节
- ⇒15. 关于西亚和北非的叙述,正确的是 …… ()

- A. 两地居民主要是阿拉伯人
- B. 两地大部分是平原
- C. 两地居民大多信仰伊斯兰教
- D. 两地的国家属“阿拉伯国家”

⇒16. 东亚东部 …………… ()

- A. 大陆性气候显著,经济以畜牧业为主
- B. 海洋性气候显著,工农业发达
- C. 季风性气候显著,雨热同期,农业较发达
- D. 有世界著名的临海型工业区和沿海工业地带,形成东亚工业区域

⇒17. 世界上穆斯林人口最多的国家是 …… ()

- A. 泰国
- B. 马来西亚
- C. 菲律宾
- D. 印度尼西亚

⇒18. 新加坡发展经济的有利条件及原因 …… ()

- A. 农业发达,粮食生产自给有余
- B. 对外开放,发展出口加工工业
- C. 位置优越,港口优良,交通便利
- D. 利用劳动力资源丰富的优势,大力出口初级产品,发展对外贸易

⇒19. 中南半岛上的地形分布特点是 …… ()

- A. 以高原为主的地形
- B. 以平原为主的地形
- C. 以山地为主的地形
- D. 山河相间、纵列分布

⇒20. 关于西亚石油的叙述,正确的是 …… ()

- A. 西亚各国均以石油为经济主要支柱
- B. 世界石油生产最大的国家在西亚

- C. 西亚是日本最重要的石油供应地区
- D. 波斯湾沿岸的石油均由油船运出霍尔木兹海峡

⇒21. 中亚面积最大的国家是 …………… ()

- A. 乌兹别克斯坦
- B. 哈萨克斯坦
- C. 土库曼斯坦
- D. 吉尔吉斯斯坦

⇒22. 中亚的气候类型主要是 …………… ()

- A. 热带雨林气候
- B. 热带季风气候
- C. 温带大陆性气候
- D. 温带季风气候

⇒23. 中亚最大的城市是 …………… ()

- A. 阿拉木图
- B. 塔什干
- C. 卡拉干达
- D. 杜尚别

⇒24. 中南半岛上,濒临印度洋,既是海港,又是首都的城市是 …………… ()

- A. 雅加达
- B. 仰光
- C. 曼谷
- D. 孟买

⇒25. 中亚离海最近的地方是 …………… ()

- A. 土库曼斯坦的南部
- B. 哈萨克斯坦的北部
- C. 哈萨克斯坦的东部
- D. 土库曼斯坦的西部

⇒26. 关于印度的叙述,正确的是 …………… ()

- A. 印度的矿产主要分布在德干高原的西北部
- B. 印度是亚洲耕地面积最大的国家,水稻的产量居世界首位
- C. 印度的经济作物有棉花、茶、黄麻等
- D. 印度已成为发达国家

⇒27. 南亚主要农业区和人口密集区是 …… ()

- A. 北部山地
- B. 中部平原
- C. 南部高原
- D. 海上岛屿

⇒28. 世界上水能蕴藏量最丰富的河流是 …………… ()

- A. 尼日尔河
- B. 刚果河
- C. 尼罗河
- D. 赞比西河

⇒29. 目前撒哈拉以南非洲面临的主要问题为 …… ()

- A. 干旱、能源和资源问题
- B. 人口、粮食和环境问题
- C. 人口、粮食和能源问题
- D. 宗教、资源和环境问题

⇒30. 原产于非洲的农产有 …………… ()

- A. 咖啡、可可
- B. 枣椰、油棕
- C. 香蕉、剑麻
- D. 丁香、棉花

⇒31. 澳大利亚大陆上动物演化缓慢的证据是——至今生活着 …………… ()

- A. 有袋类动物和卵生哺乳动物



- B. 水生哺乳动物和陆地哺乳动物
- C. 水中有袋类动物和不能飞行的鸟类
- D. 食蚊兽、鸸鹋和企鹅及古老动物

⇒32. 巴西各地人口分布的差别很大,90%以上的人口分布在..... ()

- A. 东南部沿海地区
- B. 北部广大的平原地区
- C. 中南部广阔的高原地区
- D. 各大中城市地区

二、综合题(共 52 分)

⇒33. 将下列国家与其首都及所属类型连起来(7 分)

- ① 巴基斯坦 A. 科伦坡 I 内陆国
- ② 斯里兰卡 B. 伊斯兰堡 II 岛国
- ③ 印度 C. 达卡 III 临海国
- ④ 孟加拉国 D. 新德里
- ⑤ 不丹 E. 延布
- ⑥ 尼泊尔 F. 马累
- ⑦ 马尔代夫 G. 加德满都

⇒34. 读 3—1 东西半球图,回答下列问题(9 分)

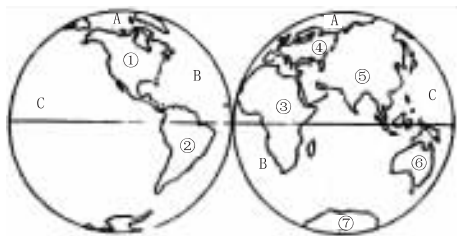


图 3—1

(1)将图中数字所代表的大洲的名称填写在下面的空格内。

- ① _____ ② _____
- ③ _____ ④ _____
- ⑤ _____ ⑥ _____
- ⑦ _____

(2)将图中字母所代表的大洋的名称填写在下列的空格内。

- A _____ B _____
- C _____ D _____

(3)七大洲中面积最大的是_____,同为一个大陆的大洲是_____和_____。

(4)四大洋中面积最小的是_____,介于五大洲之间的大洋是_____和_____,跨经度最多的大洋是_____。

(5)按南北半球来说,海洋面积广阔的是_____半球。

(6)我国位于_____洲。

⇒35. 把图 3—2 中标注字母的山脉、河流、海湾、岛屿等名称填在下面空格内(9 分)

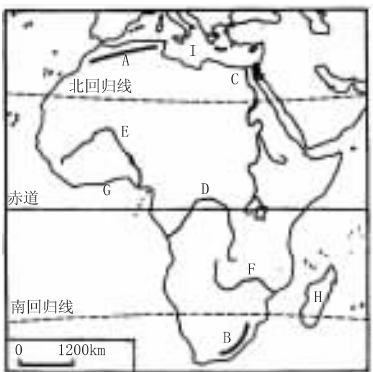


图 3—2

- A _____ 山脉;
- B _____ 山脉;
- C _____ 河;
- D _____ 河;
- E _____ 河;
- F _____ 河;
- G _____ 湾;
- H _____ 岛;
- I _____ 海。

⇒36. 读“部分国家对外贸易示意图 3—3”和“非洲矿产分布图 3—4”,回答(9 分)

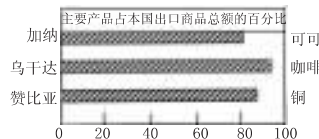


图 3—3

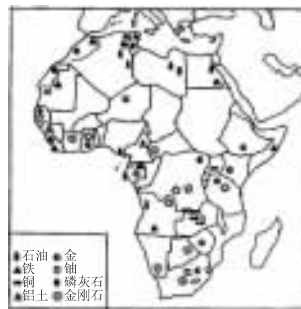


图 3—4

(1)世界上出产黄金最多的国家是_____,出产金刚石最多的国家是_____,重要的铜矿生产国是_____。

(2) 撒哈拉以南的非洲许多国家多以出口 _____ 级产品为主。

(3) 撒哈拉以南的非洲许多国家矿产资源和热带经济作物种植面积广大。为什么经济仍然很落后,试从社会因素进行综合分析。 _____

⇒ 37. 图 3—5 是奴隶贩子“三角贸易”路线图,读后请回答问题(9分)

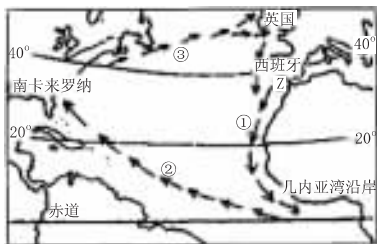


图 3—5

(1) 贩卖黑人奴隶是欧洲殖民者的一桩血腥罪行,从 _____ 世纪初开始,这种罪恶的奴隶贸易前后延续了 _____ 年之久,非洲丧失的精壮人口不下 _____ 亿。

(2) 先后进行奴隶贩卖的欧洲殖民国家是 _____ ()

- A. 英国、西班牙、葡萄牙、法国
- B. 葡萄牙、西班牙、英国、法国
- C. 西班牙、葡萄牙、法国、英国
- D. 英国、法国、西班牙、葡萄牙

(3) 欧洲奴隶贩子从事贩卖奴隶的活动,多采取三角航程:图中①为出程,②为中程,③为归程。当时乘帆船来往一次约半年时间,可以做

三笔生意,发三笔横财,真是一本万利而又充满血腥的买卖。但是三角航线的选择是很科学和合理的,请用风向和洋流的知识解释其理由:

① 出程: _____。

② 中程: _____。

③ 归程: _____。

(4) 图中 Z 是 _____ 海峡,它界于 _____ 洲和 _____ 洲的两大陆之间,沟通 _____ 洋及其 _____ 海,是重要的国际海上交通要塞。

⇒ 38. 读下面世界石油污染水域图(图 3—6)和摘自《中国环境报》的两段材料,回答问题(9分)



图 3—6

材料一:一油轮在①处搁浅造成近万吨原油泄漏,污染了印度尼西亚、马来西亚和新加坡附近的海域和海岸,导致大量鱼类死亡。

材料二:南非两个岛的近 20 万只非洲企鹅因沾上被油轮泄漏的石油而面临生命危险。

(1) 材料上所说的石油泄漏事故发生在由世界石油主要供应地驶向主要消费地的两条石油运输线上,这个石油供应地是 _____,并用字母“A”在图上标出它的位置。

(2) 由石油供应地 A 向东经过①处附近的 _____ 海峡,运送的石油主要供应 _____。

(3) 如石油泄漏事故 1 月发生在印度半岛南端附近的海域,在洋流的作用下,水面上的油膜将向偏 _____ 方向漂流。在泄油区鱼类迅速死亡,其原因是 _____。



基础训练 3 欧洲和北美洲

一、选择题

- ⇒1. 美国与中国的自然环境相似之处有 … ()
- A. 都有寒潮、台风、梅雨等天气现象
B. 平原都分布在东部沿海地区
C. 气候的大陆特征都比较明显
D. 主要河流都是自西向东流
- ⇒2. 关于欧洲人口的正确叙述是 … ()
- A. 本地区由于经济发达,是世界人口密度最大的地区之一
B. 本区的人口自然增长率随着经济的发展在逐年增长
C. 本区人口最稠密的地区在地中海沿岸地区
D. 本区人种最复杂
- ⇒3. 欧洲西部著名的旅游胜地正确的是 … ()
- A. 古斗兽场——西班牙马德里
B. 音乐之都——法国巴黎
C. 艾菲尔铁塔——英国伦敦
D. 巴台农神庙——希腊雅典
- ⇒4. 世界上耕地面积最大的国家是 … ()
- A. 中国
B. 俄罗斯
C. 加拿大
D. 美国
- ⇒5. 世界上最大的淡水湖是 … ()

- A. 里海
B. 鄱阳湖
C. 苏必利尔湖
D. 贝加尔湖

- ⇒6. 关于欧洲气候的正确叙述是 … ()
- A. 北冰洋沿岸冬季严寒,为极地气候
B. 南部地中海沿岸,冬季温凉干燥,夏季炎热多雨,为地中海气候
C. 西部沿海降水丰富,且多集中在夏季,季节变化明显
D. 东部距海较远,降水量自西向东递减,温差增加,为温带大陆性气候
- ⇒7. 关于欧洲西部气候的正确叙述是 … ()
- A. 深受大西洋的影响,气候温和湿润
B. 具有明显的季风气候特征
C. 自西向东由海洋性气候向大陆性气候过渡
D. 自西向东由季风气候向温和的温带大陆性气候过渡
- ⇒8. 关于北美洲地形的正确叙述是 … ()
- A. 西部高大的山系由几条平行山脉组成,山间有宽广的高原和盆地
B. 科迪勒拉山系的形成是美洲板块与亚洲板块碰撞的结果
C. 中部大平原是由密西西比河冲积而成的,地势起伏很小
D. 美加两国交界处,有世界上最大的淡水湖群
- ⇒9. 关于美国自然条件的正确叙述是 … ()
- A. 三面濒临海洋,沿海多优良港湾,海上航运便利
B. 大部分地区位于北温带,温度适中,冬不冷

夏不热

- C. 密西西比河和五大湖为灌溉、航运和发电提供了有利条件
D. 平原面积广大,约占全国面积的 2/3 以上
- ⇒10. 美国在北纬 35°以南布局棉花带的原因是 … ()
- A. 雨量充沛
B. 纬度较低
C. 地广人稀,便于机械化作业
D. 热量充足,无霜期长

二、综合题

- ⇒11. 在世界贸易中,美国是世界上输出_____数量最多、产值最大的国家,同时也是进口_____、_____和纺织品等工业产品最多的国家,它的进口往往大于出口。
- ⇒12. 读 4—1 北美洲冬季的气流图,按要求回答
- (1)图中①是_____风,带来_____空气。由于_____山脉阻挡,使其影响仅限于_____海岸的狭长地带。该地区属_____气候。
- ②是由高压吹来的_____风,影响_____海岸。

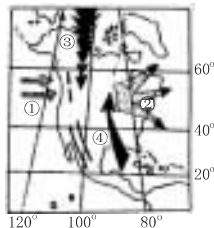


图 4—1

③是强烈的极地冷空气南下,它可使北美洲
 _____ 广大地区气温 _____。

④是从 _____ 湾吹来得暖湿空气,有时带来
 短期的反常 _____ 天气,它们是由于中部平
 原 _____ 造成的。

(2)北美大陆与亚欧大陆所处的纬度位置和海
 陆位置基本一致,但北美大陆东部海岸地区缺
 少 _____ 气候,其原因是 _____

(3)北美洲的气候使得棉花分布较广,美国的
 棉花分布在 _____,而我国的棉花主要分
 布在 _____ 和 _____ 流域。

⇒13. 读 4—2 俄罗斯示意图,回答下列问题

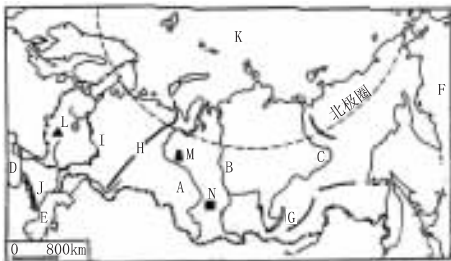


图 4—2

(1)填出下列名称

- A _____ 河、
- B _____ 河、
- C _____ 河、
- D _____ 海、
- E _____ 海、
- F _____ 洋、

- G _____ 湖、
- H _____ 山脉、
- I _____ 河、
- J _____ 山脉、
- K _____ 洋、
- L _____ 铁矿、
- M _____ 油田、
- N _____ 煤矿

(2)俄罗斯的老工业区 _____、_____, 新工
 业区 _____、_____;

(3)北冰洋沿岸的港口城市(约 69°N) _____, 成
 为终年不冻港的原因是 _____。

⇒14. 分析下列问题

(1)美国“硅谷”形成的最重要的因素 _____

(2)列举与圣弗朗西斯科所处自然带相同的两
 座城市 _____。

(3)关于美国的叙述,正确的是

- A. 地跨两大洲,濒临三大洋
- B. 西部地形以山地为主,东部以平原、低矮高
 原为主
- C. 石油生产量少,是世界上进口石油最多的
 国家
- D. 粮棉出口量均居世界第一位

(4)中国的西部开发与美国的西进运动的不同
 之处是 ()

- ①是否促进经济的发展
- ②是否走可持续发展的道路
- ③是否利用西部资源和开拓市场
- ④是否重视各民族共同繁荣

- A. ①②
- B. ②③
- C. ②④
- D. ③④



基础训练 4 南美洲、大洋洲和南极洲

一、选择题

- ⇒1. 当我国大部分地区盛行冬季风的时候,巴西高原的季节和昼夜长短情况是 …………… ()
- A. 正值旱季,昼长夜短
B. 正值雨季,昼短夜长
C. 正值雨季,昼长夜短
D. 正值旱季,昼短夜长
- ⇒2. 关于拉丁美洲地形叙述,不正确的有 …………… ()
- A. 拉丁美洲东部平原和高原相间分布
B. 巴西高原是世界上面积最大、地势最高的高原
C. 亚马孙平原是世界上面积最大的平原
D. 安第斯山是落基山向南的延伸
- ⇒3. 属于拉丁美洲的经济作物和粮食作物是 …………… ()
- A. 小麦和水稻 B. 可可和烟草
C. 咖啡和玉米 D. 甘蔗和香蕉
- ⇒4. 巴西境内广阔的热带雨林正在遭受人们严重破坏的主要表现是 …………… ()
- A. 辟林放牧 B. 掠夺式的迁移农业
C. 自然起火 D. 外国公司滥伐森林
- ⇒5. 拉丁美洲没有 …………… ()
- A. 地中海气候 B. 寒带气候
C. 温带沙漠气候 D. 热带季风气候
- ⇒6. 大洋洲东部位于太平洋上的三大群岛自西向东依次排列,正确的是 …………… ()
- A. 密克罗尼西亚、玻利尼西亚、美拉尼西亚
B. 美拉尼西亚、玻利尼西亚、密克罗尼西亚
C. 美拉尼西亚、密克罗尼西亚、玻利尼西亚
D. 玻利尼西亚、密克罗尼西亚、美拉尼西亚
- ⇒7. 关于澳大利亚的叙述,正确的有 …………… ()
- A. 大洋洲中面积最大、人口最多的国家
B. 全国最大的城市是堪培拉
C. 世界上惟一的独占有一个大陆的国家
D. 西部是南北纵贯的大分水岭,中部是平原,东部是广阔低矮的高原
- ⇒8. 澳大利亚大陆沙漠和半沙漠分布很广的原因是 …………… ()
- A. 东南信风由大陆吹向海洋
B. 西部高原地势较高,阻碍西风气流深入
C. 东部大分水岭阻碍湿润气流深入
D. 广大地区受副热带高压带控制
- ⇒9. 澳大利亚的资源中,世界著名的是 …………… ()
- A. 袋鼠、鸸鹋 B. 铁、煤
C. 煤、石油 D. 桉树、樟树
- ⇒10. 关于澳大利亚经济的叙述,正确的是 …………… ()
- A. 羊毛出口量居世界前列
B. 农牧产品出口收入大于工矿产品的出口收入
C. 南半球发达的资本主义国家
D. 大部分工业分布在中部平原
- ⇒11. 世界上产羊毛最多的国家是 …………… ()
- A. 阿根廷 B. 新西兰
C. 澳大利亚 D. 南非
- ⇒12. 南极洲最丰富的矿产资源是 …………… ()
- A. 铁和锰 B. 铁和铜
C. 煤和铁 D. 石油和煤
- ⇒13. 关于南极洲的正确叙述是 …………… ()
- A. 全部在南极圈内
B. 是平均海拔最高的大洲
C. 是跨经度最多的大洲
D. 特有动物有磷虾、企鹅、北极熊等
- ⇒14. 关于南极洲的正确叙述是 …………… ()
- A. 南极考察最好时间是每年 6~9 月
B. 中国中山站濒临太平洋
C. 长城站是中国建在有极昼极夜现象地方的第一个科学考察站
D. 《南极条约》规定南极利用将只限于和平目的
- ⇒15. 关于南极洲与北冰洋的正确叙述是 …………… ()
- A. 南极洲全部是陆地,北冰洋全部是海洋
B. 风向都是逆时针方向
C. 都受极地高压带的控制
D. 都有极昼极夜现象且出现的日期相同
- ⇒16. 一艘海轮从印度出发沿途考察澳大利亚和巴西两国,最后到达阿根廷,按最短航线依次经过的海洋和海峡是 …………… ()
- A. 印度洋—马六甲海峡—太平洋—巴拿马运河—大西洋
B. 太平洋—马六甲海峡—印度洋—直布罗陀海峡—大西洋
C. 印度洋—莫桑比克海峡—太平洋—德雷克海峡—大西洋

D. 印度洋—直布罗陀海峡—大西洋—麦哲伦海峡—太平洋

⇒17. 在南极洲进行科学考察的最好季节是 …………… ()

- A. 澳大利亚西南城市珀斯炎热干燥
- B. 我国北方受亚洲高压控制
- C. 巴西高原南部草木枯黄
- D. 北印度洋洋流自西向东流

⇒18. 一条考察船由长城站出发到乌斯怀亚港补充给养后, 航行到中山站, 经威德尔海回到长城站, 考察船绕南极一圈 …………… ()

- A. 向东航行
- B. 向西航行
- C. 依次经过太平洋、印度洋、大西洋
- D. 依次经过太平洋、大西洋、印度洋

⇒19. 关于拉丁美洲气候的叙述, 正确的是 …………… ()

- A. 本大洲气候以湿热为主, 干旱气候区、寒带气候区面积小
- B. 本大洲有世界上面积最大的热带雨林气候区
- C. 本大洲 40°S 以南的东海岸的气候类型为温带季风气候
- D. 本大洲气候的形成受海陆分布的影响比较显著

⇒20. 拉丁美洲居民中, 人数最多的是 …………… ()

- A. 白种人
- B. 黑种人
- C. 黄种人
- D. 混血人种

⇒21. 南美洲主要的小麦输出国是 …………… ()

- A. 阿根廷
- B. 巴西

- C. 智利
- D. 委内瑞拉

⇒22. 目前巴西农产品中, 产量占世界首位的有 …………… ()

- A. 香蕉、剑麻
- B. 可可、咖啡
- C. 大豆、甘蔗
- D. 香蕉、柑橘

二、综合题

⇒23. 读图 5—1, 完成下列要求

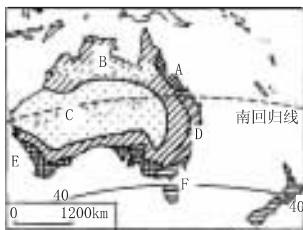


图 5—1

(1) 写出字母代表的气候名称:

A _____ B _____ C _____
D _____ E _____ F _____

(2) 据气候分布分析, 该区降水量分布是从 _____ 三面向 _____ 呈 _____ 状递减, 植被由 _____ 逐渐过渡为 _____、_____。

(3) 这块大陆四面环海, 但大部分地区气候炎热干燥, 中部和西部沙漠半沙漠分布很广的原因是 _____。

⇒24. 读图 5—2, 并回答

(1) 写出图中南美洲西海岸有北到南用 A、B、C、D 所代表的植被类型的名称:

A. _____ B. _____
C. _____ D. _____

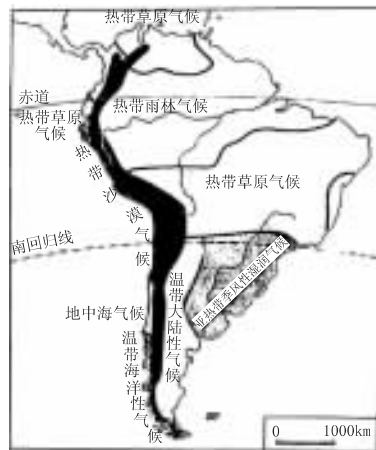


图 5—2

(2) 拉丁美洲西海岸与北美洲西海岸相比, 拉丁美洲缺少哪几种气候类型? 简述其原因: _____

_____。

(3) 简述图中热带沙漠气候带特别狭长的原因: _____

_____。



综合训练(二)

(时间:90分钟 满分:100分)

一、选择题(每题1分,共33分)

- ⇒1. 欧洲西部的典型气候类型是 …………… ()
 A. 温带海洋性气候
 B. 温带大陆性气候
 C. 地中海气候
 D. 热带雨林气候
- ⇒2. 有关美国西部的叙述,正确的是 …………… ()
 A. 是美国最发达的地区
 B. 加利福尼亚州是西部经济最发达的地区
 C. 旧金山是西部最大城市的最大港口
 D. 洛杉矶附近的“硅谷”是新兴电子工业中心
- ⇒3. 下列国家中既有北回归线穿过,又有北极圈穿过的是 …………… ()
 A. 俄罗斯 B. 美国
 C. 英国 D. 加拿大
- ⇒4. 拉丁美洲主要的粮食作物是 …………… ()
 A. 水稻 B. 小麦 C. 玉米 D. 谷子
- ⇒5. 下列从东京到纽约的航空线,哪条最近 …………… ()
 A. 东京——北京——莫斯科——纽约
 B. 东京——火奴鲁鲁——旧金山——纽约
 C. 东京——开罗——纽约
 D. 东京——越过北冰洋——纽约
- ⇒6. 下列城市中既是首都、最大城市,又是最大海港

- 的是 …………… ()
 A. 柏林 B. 伦敦 C. 汉堡 D. 巴黎
- ⇒7. 世界上著名的尼亚加拉瀑布位于 …………… ()
 A. 苏必利尔湖与伊利湖之间
 B. 密歇根湖与休伦湖之间
 C. 休伦湖与伊利湖之间
 D. 伊利湖与安大略湖之间
- ⇒8. 在俄罗斯的主要工业区中,临近秋明油田的是 …………… ()
 A. 圣彼得堡工业区
 B. 莫斯科工业区
 C. 乌拉尔工业区
 D. 新西伯利亚工业区
- ⇒9. 下列与德国相邻的国家是 …………… ()
 A. 波兰、荷兰、法国
 B. 意大利、罗马尼亚、法国
 C. 捷克、荷兰、罗马尼亚
 D. 丹麦、波兰、意大利
- ⇒10. 夏威夷群岛属于 …………… ()
 A. 美拉尼西亚 B. 密克罗尼西亚
 C. 波利尼西亚 D. 西印度群岛
- ⇒11. 南极洲的标志动物 …………… ()
 A. 巨嘴鸟 B. 蓝鲸 C. 海豹 D. 企鹅
- ⇒12. 地球上淡水资源最丰富的大陆是 …………… ()
 A. 亚欧大陆 B. 非洲大陆
 C. 南极洲大陆 D. 美洲大陆
- ⇒13. 长城站在北京的 …………… ()
 A. 正南 B. 东南 C. 西南 D. 东北
- ⇒14. 铀矿储量和羊毛产量均居世界首位的国家 …………… ()

- A. 美国 B. 加拿大
 C. 澳大利亚 D. 南非
- ⇒15. 新西兰多火山地震,主要因为处于 …………… ()
 A. 印度洋板块与亚欧板块交界处
 B. 亚欧板块与太平洋板块交界处
 C. 太平洋板块与南极洲板块交界处
 D. 印度洋板块与太平洋板块交界处
- ⇒16. 南极洲 …………… ()
 A. 全部在南极圈内
 B. 以平原为主的冰雪大陆
 C. 跨经、纬度最多的一洲
 D. 淡水资源最丰富的一洲
- ⇒17. 属于大洋洲的岛屿是 …………… ()
 A. 苏门答腊岛 B. 苏拉威西岛
 C. 新几内亚岛 D. 马达加斯加岛
- ⇒18. 澳大利亚 …………… ()
 A. 煤、铁、石油的出口在世界占重要地位
 B. 农、林、牧、渔业都发达
 C. 工矿业发达
 D. 羊毛、小麦的出口是国民经济支柱
- ⇒19. 澳大利亚 …………… ()
 A. 湿润和干旱气候分布几乎各占一半
 B. 纬度地带分布规律表现明显
 C. 干热气候类型所占比重很大
 D. 气候带、植物带呈环状分布
- ⇒20. 关于北美气候的叙述,正确的是 …………… ()
 A. 大西洋沿岸受西风影响,形成温带海洋性气候
 B. 气候类型多样,但缺乏热带雨林和热带草原气候
 C. 墨西哥湾沿岸形成地中海气候

- D. 西部高山区都是多雨的湿润区
- ⇒21. 关于美国自然资源的叙述,错误的是 ()
- ()
- A. 美国因石油资源贫乏,成为世界进口石油最多的国家
- B. 密西西比河是北美第一、世界第四长河
- C. 美国森林资源丰富,以亚寒带针叶林为主
- D. 铁矿储量丰富,但仍要进口大量钢铁
- ⇒22. 下列关于欧洲旅游胜地的说法,正确的是 ... ()
- ()
- A. 希腊雅典的古斗兽场
- B. 意大利水城威尼斯
- C. 法国艾菲尔铁塔
- D. 英国的凯旋门
- ⇒23. 关于俄罗斯地形的叙述,正确的是 ... ()
- A. 以平原和高原为主
- B. 主要山脉有乌拉尔山脉和阿尔卑斯山脉
- C. 平原有东欧平原、西西伯利亚平原
- D. 最大的高原是东西伯利亚高原
- ⇒24. 欧洲地形受冰川侵蚀作用影响的表现是 ()
- ()
- A. 平原成波状起伏,有低缓的波状丘陵
- B. 斯堪的纳维亚半岛的峡湾
- C. 阿尔卑斯山脉多湖泊
- D. 平原上受冰川侵蚀,呈平坦广阔
- ⇒25. 拉丁美洲赤道穿过的国家是 ()
- A. 巴西 B. 秘鲁
- C. 厄瓜多尔 D. 巴拿马
- ⇒26. 波德平原波状起伏的最主要原因是 ()
- ()

- A. 河流冲积、切割作用的结果
- B. 人类长期垦殖、耕作的结果
- C. 地壳运动的结果
- D. 冰川作用的结果
- ⇒27. 关于德国的叙述正确的有 ()
- A. 工业部门比较齐全,工业分布在全国较为平衡
- B. 德国的经济实力在欧洲仅次于英国居第二位
- C. 埃森的钢铁工业在布局上属“煤铁复合体”
- D. 首都柏林位于易北河畔,是全国最大城市和港口
- ⇒28. 下列各国的首都为温带海洋性气候的是 ()
- ()
- A. 英国和法国
- B. 德国和法国
- C. 德国和俄罗斯
- D. 南斯拉夫和俄罗斯
- ⇒29. 在下列 4 个欧洲国家首都中,最早迎来旭日东升的是 ()
- A. 伦敦 B. 巴黎
- C. 华沙 D. 莫斯科
- ⇒30. 关于欧洲农业的叙述正确的是 ()
- A. 地中海沿岸是法国最重要的农业区
- B. 波河平原热量充足、降水丰富,是意大利最重要的农产区
- C. 丹麦有发达的乳肉畜牧业和家禽饲养,农产品多销往国外
- D. 德国南部的河谷地带盛产葡萄、烟草、柑桔等农产品
- ⇒31. 都是俄罗斯邻国的选项是 ()

- A. 波兰、芬兰、立陶宛
- B. 中国、乌兹别克斯坦、芬兰
- C. 瑞典、乌克兰、白俄罗斯
- D. 哈萨克斯坦、朝鲜、阿塞拜疆
- ⇒32. 北美洲形成以温带大陆性气候为主的气候类型,主要原因有 ()
- A. 大部分地处北温带
- B. 大陆形状北宽南窄
- C. 三大地形区南北纵列分布
- D. 太平洋沿岸的北部位于西风带
- ⇒33. 关于美国自然条件的叙述,正确的是 ()
- ()
- A. 美国都地处温带(南部为亚热带)
- B. 平原面积比较狭小,耕地较少
- C. 密西西比河连接五大湖,构成巨大的内河航运网
- D. 煤、石油、铁、铜资源丰富

二、综合题(共 67 分)

- ⇒34. 把下列相关联的事物连在一起(6 分)
- (1)意大利 A. 巴黎 甲、观赏花卉、风车
- (2)荷兰 B. 罗马 乙、古斗兽场、水城威尼斯
- (3)法国 C. 鹿特丹 丙、艾菲尔铁塔
- (4)瑞士 D. 奥斯陆 丁、手表、湖光山色
- (5)挪威 E. 伯尔尼 戊、峡湾、午夜太阳
- (6)希腊 F. 雅典 己、巴台农神庙
- ⇒35. 读图 6—1 填注标注字母的岛屿、半岛、山脉、河流、内海名称(7 分)