

前言

QIAN YAN

《高中总复习优化设计》一直是按“1+2”模式编写的,即一册《优化设计》学生用书,附编一册学生训练用书的《优化训练》,共配编一册供教师使用的“教师用书”。这种延续了几年的“1+2”模式发挥了积极的作用,得到广大读者的充分肯定与认同。但是,同时也有不少读者指出,处于从属地位的《优化训练》题型比较单一,功能不够完备,难以很好地适应高考改革对于备考训练的要求。这一意见引起了我们的极大重视。经过深入研究和反复论证,我们决定将从属于《优化设计》的《优化训练》分离出来,专题策划,独立编写,形成一个科学完备的训练体系。这就成了今天与广大读者见面的《高中总复习优化训练》“1+1”系列。

那么《高中总复习优化训练》继承了《高中总复习优化设计》的哪些传统优势,自身又发展了什么样的新特色呢?

《高中总复习优化训练》继承了《高中总复习优化设计》新颖、优化、科学、实用的传统优势:

新颖:反映“3+X”考试的最新信息,从新颖、别致的角度,精选基础性、综合性、多元性的例题和试题,体现培养创新思维和实践能力的要求。

优化:放眼整体,全程优化,创造性地设计各分册的内容框架。既考虑本学科的系统完整,又兼顾跨学科的综合沟通。

科学:在对近年来高考总复习实践进行深入分析研究的基础上,全面吸收率先实行综合考试地区的高考备考成功经验,内容设置、体例编排更为科学,体现了最新复习导向。

实用:作为专项的、独立的训练用书,从方式、内容、时间控制等多角度进行综合设计、优化取舍,更适合教师整体操作、学生个体使用。

《高中总复习优化训练》新的策划理念与编写特色:

着眼前瞻性与着手点准确性的有机结合。着眼点的前瞻性追求的是与高考改革方向的一致。着手点的准确性追求的是对高考命题意图的准确把握。二者的有机结合体现在题型与内含、题量与时限、思维与方法、机智与技巧等方面的配置、照应体系上。优化训练在对能力的检测中体现对基础的巩固,在基础层级、学科内综合训练中蕴含着高层级能力、跨学科综合应用能力要求。

《高中总复习优化训练》以一周1次或2次45分钟的[基础训练]为最频繁、最基础性设置,涵盖学科单元或单元组合的主干知识;以一周1次或两周1次90分钟的[综合训练]为中量级、提高性设置,凸现每章或每编重点、要点,演练学科内综合;以一月1次或数月1次高考时限的[模拟训练]为适量级、应用性设置,展现学科间辐射、交汇现象,体验和提升应用能力。这种以“基础练”、“综合练”、“模拟练”为结构板块,以日练、周练、月练为延伸链条,以45分钟、90分钟、高考时限为旋升半径的备考练习体系,包揽了内容与形式、要求与方法、时间与思维的练习三大要素,形成了一个以适应综合考试为目的的“三维”综合练习体系。

地理学科是文科综合和文理综合的考试科目。综合能力测试的根本特点是基础性,进行综合的突出特点是联系实际。文科综合和文理综合试题讲求“能力立意”或“问题立意”,多以当前重大热点、社会现实问题为背景,材料、图表、数据信息量大,设问“入手容易深入难”,应答主观性试题鼓励创新。因此,地理学科的基本事实、观点、方法仍是复习重点,甚至由于试题多以现实问题作背景,在一定程度上淡化了核心、主干和重点内容,曾被列为所谓非重点的内容也会因与现实问题有关联而应予充分重视。复习的广度比深度显得更重要。学科能力是综合能力的基础,同时学科能力也要向综合能力提升。这就要求我们在复习中强调将学科知识、技能与社会现实联系起来,更加注重对创新思维与应用能力的训练,对学科思想的综合应用。

本书是以“试验修订教材”为蓝本编写的。本书对教材进行了整合,整体上分为39个复习单元。基本上1或2个“复习单元”设置1套“基础训练”,总数为17套的“基础训练”涵盖了中学阶段所涉及的地理学科主干知识、观点和方法,适用于随堂或小型集中练习。2个或3个“复习单元”设置1套“综合训练”,总数为11套的“综合训练”,重点对学科内知识主干进行综合训练,适用于集中练习或阶段测试。“世界地理”、“中国地理”、“初中地理”、“高中地理上册”、“高中地理下册”以及“高中地理”均各设置1套“模拟训练”,还设置了2套“综合模拟训练”。总数为8套的“模拟训练”,以最新高考试卷试题结构、顺序为模板,密切联系社会现实,体现时代特色,强化基础,突出能力,体现学科间综合应用,适用于阶段性检测或模拟考试。全书训练类型齐全,梯度清晰,功能完备,实用、方便。

本书是为了帮助教师把握《高中总复习优化训练》的设计思想和意图,促进对该书的有效使用而专门编写的。本书对《高中总复习优化训练》中试题进行了详细解析及思路点拨,并附有大量备课资料和必要的教学建议,内容更加丰富全面,将会使教师的教学指导与备课更加得心应手。

本书编者身处中学地理教学、教研第一线,投身实践,潜心研究,精心设计,集全国各地先进经验于本书,希望能给广大师生高三总复习提供有效、有益的参考。受编者水平和编写时间所限,书中难免有疏忽与不妥,敬请广大读者批评赐教。

编者

2002年6月



基础训练 1 世界地理概况	(001)
基础训练 2 亚洲和非洲	(004)
综合训练(一)	(007)
基础训练 3 欧洲和北美洲	(012)
基础训练 4 南美洲、大洋洲和南极洲	(015)
综合训练(二)	(018)
世界地理模拟训练(一)	(023)
基础训练 5 中国的疆域、行政区划、人口和民族	(028)
基础训练 6 中国的地形	(031)
基础训练 7 中国的气候	(034)
基础训练 8 中国的河流、湖泊和海洋	(037)
基础训练 9 中国的交通、商业和旅游业	(040)
综合训练(三)	(043)
综合训练(四)	(049)
综合训练(五)	(054)
中国地理模拟训练(二)	(058)
初中地理模拟训练(三)	(064)
基础训练 10 地球的宇宙环境	(070)
基础训练 11 地球的大气环境	(073)
综合训练(六)	(076)
基础训练 12 地球的海洋环境	(081)
基础训练 13 地球的陆地环境	(084)
综合训练(七)	(086)
综合训练(八)	(091)
高中地理上册模拟训练(四)	(096)
基础训练 14 人类的生产活动与地理环境	(103)
基础训练 15 人类的居住地与地理环境	(107)
综合训练(九)	(110)
基础训练 16 人类活动的地域联系	(114)
基础训练 17 全球环境问题和可持续发展	(117)
综合训练(十)	(120)
综合训练(十一)	(125)
高中地理下册模拟训练(五)	(130)
高中地理模拟训练(六)	(137)
综合模拟训练(七)	(143)
综合模拟训练(八)	(148)

基础训练 1 世界地理概况

一、选择题

⇒1. 临三个大洋而且跨经度最广的地域单元是
..... ()

- A. 南极洲 B. 北美洲
C. 澳大利亚大陆 D. 亚欧大陆

解析:亚欧大陆临 4 个大洋,北美洲和南极洲临 3 个大洋,澳大利亚大陆临 2 个大洋,南极洲跨了东西经度各 180°。

答案:A

⇒2. 半岛是指 ()

- A. 海洋伸进陆地的部分
B. 陆地伸进海洋的部分
C. 陆地被海洋分割的部分
D. 陆地被海洋包围的部分

解析:面积广大的陆地叫大陆,面积较小的陆地叫岛屿。陆地伸进海洋的部分称为半岛。大陆和附近的岛屿合起来叫做大洲。

答案:B

⇒3. 下列有关运河和海峡的叙述中,错误的是
..... ()

- A. 苏伊士运河沟通红海和地中海
B. 麦哲伦海峡分隔南美大陆和火地岛
C. 基尔运河连接北海和波罗的海
D. 巴拿马运河连接太平洋和墨西哥湾

解析:巴拿马运河连接了太平洋和加勒比海。

答案:D

⇒4. 下列哪个大洲既位于北半球又位于西半球
..... ()

- A. 亚洲 B. 非洲
C. 北美洲 D. 南美洲

答案:C

⇒5. 赤道穿过的大洲中,大陆面积最大的是
..... ()

- A. 亚洲 B. 非洲
C. 大洋洲 D. 南美洲

解析:赤道穿过的大洲有:非洲、亚洲、大洋洲、南美洲,其中面积最大的是亚洲。

答案:A

⇒6. 四大洋中,跨经度最多的是 ()

- A. 太平洋 B. 大西洋
C. 印度洋 D. 北冰洋

答案:D

⇒7. 下列各组大洲中,大陆均为北回归线穿过的是
..... ()

- A. 亚洲、欧洲、南美洲
B. 亚洲、欧洲、北美洲

C. 非洲、亚洲、北美洲

D. 非洲、大洋洲、北美洲

解析:北回归线穿过的大洲有:非洲、亚洲、大洋洲、北美洲,大洋洲的大陆部分不被北回归线穿过。

答案:C

⇒8. 属于纵贯南北美洲西部山系的山脉是 ()

- A. 阿尔卑斯山和落基山脉
B. 落基山脉和安第斯山脉
C. 喜马拉雅山脉和阿尔卑斯山脉
D. 喜马拉雅山脉和安第斯山脉

解析:纵贯美洲西部的山脉是北美洲的落基山脉和南美洲的安第斯山脉。

答案:B

⇒9. 南极洲和北冰洋自然地理环境的相同点是
..... ()

- A. 世界上最小的大洲和大洋
B. 极圈内均有极昼和极夜现象出现
C. 分别是世界 7 月、1 月世界最冷的地方
D. 都有企鹅、海豹和磷虾

解析:世界上最小的大洲是欧洲,北极圈是北冰洋和大西洋的分界线,南极大陆有部分地区在南极圈以北。7 月份世界最冷的地方在南极洲,1 月份世界最冷的地方并不在北冰洋,而在西伯利亚地区。企鹅、海豹和磷虾都是南极海域及沿岸地区的动物。

答案:B

⇒10. 跨两大洲、临三大洋的国家是 ()

- A. 巴拿马 B. 埃及
C. 美国 D. 印度尼西亚

解析:下列国家均跨两个大洲。北美洲的夏威夷群岛跨北美洲和大洋洲,但临三个大洋的只有美国。

答案:C

⇒11. 关于大洲大洋的正确叙述是 ()

- A. 墨西哥以南的美洲地区称拉丁美洲
B. 亚洲和欧洲合称亚欧大陆
C. 位于太平洋的马里亚纳海沟是世界上最深的海沟
D. 北冰洋全部在北极圈内

答案:CD

⇒12. 亚洲与欧洲的分界线是 ()

- A. 巴拿马运河
B. 苏伊士运河
C. 乌拉尔山、乌拉尔河

备
课
札
记



备
课
札
记

D. 高加索山脉

答案:CD

⇒13. 地形可分为西部、中部、东部三大地形区的大洲有 ()

- A. 亚洲 B. 北美洲
- C. 南美洲 D. 大洋洲

解析:亚洲是高原和山地为主的地形,北美洲西部是落基山脉为主的山地,中部是广阔的平原,东部是低缓的阿巴拉契亚山脉和拉布拉多高原;大洋洲澳大利亚大陆上东部是大分水岭为主的山地,中部是大自流盆地,西部是低缓的高原;南美洲西部是高大的安第斯山脉,东部是高原和平原南北相间分布的地形。

答案:BD

⇒14. 有关大洲地形的叙述,正确的是 ()

- A. 欧洲地形以平原为主,是世界上海拔最低的一个洲
- B. 亚洲中部高、四周低,平原多分布在大陆周围
- C. 非洲被称为“高原大陆”,是世界上海拔最高的一个洲
- D. 南北美洲的地形东部高山、西部高原、中部平原

答案:AB

⇒15. 关于地表形态特征的叙述,正确的是 ()

- A. 地面平坦或起伏较小的地形是平原
- B. 海拔在 500M 以上,地面峰峦起伏,坡度陡峻的是山地地形
- C. 地面有起伏,但海拔较低,坡度和缓的地形是高原
- D. 周围高,中间低,四周有山岭环绕的地形是盆地

解析:平原平坦广阔,海拔很低,一般在 200m 以下。高原地势较高,地面坦荡或起伏不大,边缘陡峻。

答案:BD

⇒16. 关于世界人口增长和分布的正确叙述是 ()

- A. 世界每增加 1 亿人口所需的时间越来越短
- B. 进入 21 世纪,世界人口因普通实行计划生育而停止增长
- C. 从社会经济角度的角度,一个国家或地区的人口发展越慢越好
- D. 西欧平原和德干高原都是人口稠密区

解析:(1)世界人口增长的总趋势是古代增长缓慢,近代快,而且是越来越快,世界每增加 1 亿人口所需的时间越来越短。(2)虽然 70 年代以来,由于实行计划生育,世

界人口的自然增长率有下降的趋势。但从全球看,因人口发展的地区不平衡,使全世界人口总数仍在持续增长;(3)人是生产者,也是消费者,人作为消费者是绝对的,而作为生产者则只有当人长成为劳动力,并获得一定生产资料时才是劳动者。人口增长过快了,人口数量的增长与物质资料的生产不相适应,会影响经济的发展、社会安定和人民生活水平的提高;然而,人口增长过慢了,有的地区甚至出现负增长,又会出现劳动力不足、人口老龄化问题。所以,人口的增长受环境承载力和生产发展条件的限制,既不是越快越好,也不是越慢越好。(4)世界人口分布不平衡,西欧平原(西欧地区)和德干高原(即南亚地区),都是世界人口稠密区。

答案:AD

二、综合题

⇒17. 读图 1—1,完成下列要求

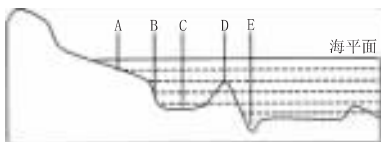


图 1—1

图中代号相应的海底地形名称是

A _____, B _____, C _____, D _____, E _____。

解析:该题考查了各种海底地形的分布状况。

答案: A——大陆架 B——大陆坡 C——海盆 D——海底山岭 E——海沟

⇒18. 读“人类对地球形状认识过程图”并回答

古代凭直觉臆断 麦哲伦环球航行证明 近代精确测量发现



图 1—2

(1)人们的认识过程是 _____。

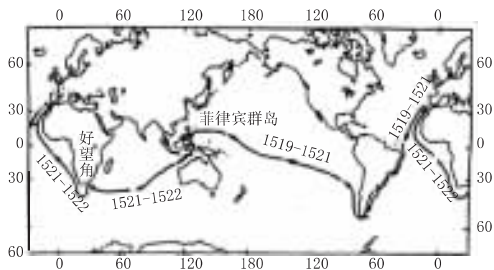


图 1—3

(2)麦哲伦是 _____ (国家)的航海家。读“航线图”回答: _____ 年他的船队从 _____ 出发,渡过 _____ 洋,绕过 _____ 洲南端,进入 _____ 洋;后又穿过

基础训练 2 亚洲和非洲

一、选择题

⇒1. 亚洲流经国家最多的河流是 …………… ()

- A. 印度河 B. 黑龙江
C. 湄公河 D. 幼发拉底河

解析:此题是一道考查综合分析能力的选择题。亚洲的大河众多,而且呈放射状从亚洲中部流向三个大洋。但是符合题意的河流,不一定是亚洲最长的河流,它必须具备两个条件:一是流经国家分布较多的地区;二是流经气候较湿润的地区。比较四条河流流经地区的地理特点,符合题意的是湄公河,它先后流经 5 个国家。

答案:C

⇒2. 日本气候与同纬度大陆相比 …………… ()

- A. 冬季温和、夏季高温、降水较多
B. 冬季凉爽、夏季温暖、降水较多
C. 冬季温暖、夏季炎热、降水较多
D. 冬季温和、夏季凉爽、降水较多

答案:D

⇒3. 新加坡与日本两国在经济上的相似之处是 …………… ()

- A. 经济发展与对外贸易关系不大
B. 经济发展严重依赖对外贸易
C. 都是农产品出口大国
D. 都是矿产品出口大国

解析:本题没有考核新加坡或日本的具体经济发展内容,而是要求考生在学习过两国地理的基础上将它们进行比较,是在原有知识基础上的升级。可采用排除法选择,对比四选项很显然 A、C、D 三项与日本的基本情况都不符合。

答案:B

⇒4. 关于日本农业的正确叙述是 …………… ()

- A. 农民多采用大型农业机械
B. 精耕细作,单位面积产量高
C. 侧重发展水利,合理施用化肥
D. 小麦、玉米是其主要粮食作物

解析:日本的农业虽在其国民经济中不占重要地位,但是并不落后,现代化水平高,其渔业在世界是占重要地位。分析日本农业时,既要看到它的自然条件,如山地多平地少,耕地比重小,不可能使用大型农业机械,季风气候又使其水热季节分配不均,特别北部冬季气温低等不利条件;同时又要看到它具有夏季高温多雨、雨热同季、四周水域宽广的良好自然条件以及人口条件和社会经济

条件。要考虑到它是如何扬长避短发展农业的。

答案:BC

⇒5. 关于东亚区域地理特征的正确叙述是 …………… ()

- A. 地势较为平坦,以平原为主
B. 季风气候显著
C. 沿海与内陆经济差异不明显
D. 居民主要为黄色人种

答案:BD

⇒6. 关于印度的正确叙述是 …………… ()

- A. 居民绝大部分为黄色人种
B. 是亚洲耕地面积最大的国家
C. 加尔各答是印度最大的海港和城市
D. 钢铁工业集中分布于德干高原的东北部

答案:BD

⇒7. 有关中亚地区的正确叙述是 …………… ()

- A. 中亚地区除了西临里海外,其他三面距海均很远,深居内陆
B. 中亚的东南紧接海拔 5000 米左右的帕米尔高原,地势东南高,西北低
C. 气候冬冷夏热,降水很少,形成大面积的沙漠
D. 由于干旱少雨,河流多是内流河,湖泊面积较小

解析:本题主要考查考生对中亚地理环境的熟悉与掌握程度。回忆中亚地形图,明确中亚四周的大致界线,与哪些重要的地理事物相邻,平原、高原和山地是怎样分布的。里海是世界上最大的湖泊,中亚最低的地方在西南部。由于其深居内陆,气候干旱,地面形成草原和荒漠广布,河流多为内流河,除里海外湖泊面积大多较小。

答案:CD

⇒8. 东非大裂谷经过的地形区有 …………… ()

- A. 刚果盆地 B. 东非高原
C. 埃塞俄比亚高原 D. 南非高原

答案:BC

⇒9. 非洲气候的突出特点是 …………… ()

- A. 以赤道为轴,气候带呈南北对称分布
B. 热带草原气候分布最广
C. 年平均气温在 20℃ 左右
D. 终年炎热干燥

解析:非洲有“热带大陆”之称,其气候特点是气温高、干燥地区广,气候类型是带状南北对称分布。



答案:AB

⇒10. 非洲的热带草原动物有 …………… ()

- A. 大象
- B. 河马
- C. 长颈鹿
- D. 斑马

答案:CD

二、综合题

⇒11. 读图 2—1 回答下列问题

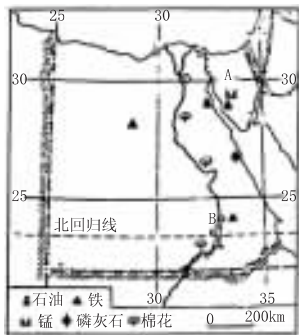


图 2—1

(1)A 为 _____ 运河,它沟通了 _____ 海和 _____ 海,联结了 _____ 洋和 _____ 洋。

(2)B 为 _____ 水坝,它的建成不仅扩大了农田 _____,还提供了大量的 _____,促进了埃及经济发展。

(3)埃及农业生产的特色,是以 _____ 农业为主,是世界著名的 _____ 生产国,该种物产主要分布在 _____ 地区。

(4)埃及的四大经济支柱是 _____。

(5)埃及的首都为 _____,最大港口城市是 _____。

答案:(1)苏伊士 红 地中 印度 大西

(2)阿斯旺 灌溉用水 电力

(3)灌溉 长绒棉 尼罗河谷地和三角洲

(4)石油、运河、旅游业、侨汇

(5)开罗 亚历山大

⇒12. 读 2—2 东亚部分地区图回答

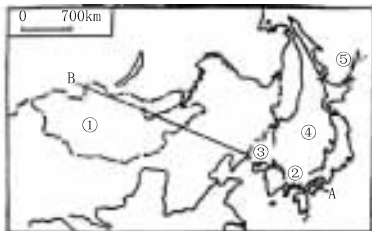


图 2—2

(1)将图中各数码所代表的地理事物名称填在下面的横线上:

①为 _____ 国,②的西侧为 _____,东侧为 _____ 国,③为 _____ 国,④为 _____ 海,⑤为 _____ 洋。

(2)从 A 至 B,从沿海到内陆,降水特点是由 _____ 向 _____ 递减。东部沿海受

_____ 风影响,比同纬度其他地区获得较多的 _____,自古以来就是著名的 _____ 区。

(3)西部内陆地区地处亚欧大陆的内部,距 _____ 较远,气候 _____, _____ 在经济中占有重点地位。

答案:(1)蒙古 韩国 日本 朝鲜 日本 太平

(2)东南 西北 季(夏季) 降水 农业

(3)海洋 干燥 畜牧业

⇒13. 读图 2—3 回答下列问题



图 2—3

(1)填出图中下列号码所在的国家名称:

① _____, ② _____, ⑥ _____, ⑦ _____。

(2)产锡、油棕、天然橡胶最多的国家是 _____。

(3)产稻米最多的国家是 _____。

(4)信仰佛教较多的国家是 _____,信仰伊斯兰教较多的国家是 _____。

(5)新加坡是怎样因地制宜发展经济的?

_____。

解析:首先要认清图上的国家和图例代表的物产,然后根据题目的要求逐项回答。新加坡虽然地少人多缺乏资源,但其位置优越有良港,周围国家物产丰富,因此可扬长避短、因地制宜地发展经济。

答案:(1)马来西亚 柬埔寨 泰国 越南

(2)马来西亚 (3)泰国

(4)柬埔寨、缅甸、泰国 马来西亚、印度尼西亚

(5)新加坡利用地处物产富饶的中心地区和优越的海峡位置,以及优良的港口条件,先后发展了转口贸易、外贸和航运业,对外开放,吸引外资,引进先进技术、进口原料,发挥本国技术力量,发展本国工业;发挥本国风光美、交通便利、服务周到的长处,迅速发展旅游业。

⇒14. 读图 2—4 回答问题

(1)填出下列国家的图上代号和名称:

西亚面积最大的国家 _____,北非面积最大的国家 _____,地跨亚、非两洲的国

备课札记



家 _____, 地跨亚、欧两洲的国家 _____。

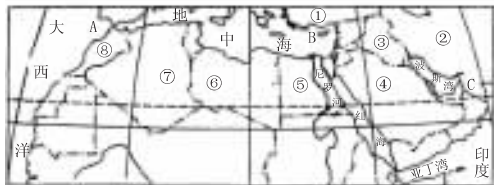


图 2—4

- (2)关于西亚和北非的正确叙述是
- A. 居民都属阿拉伯人,信奉伊斯兰教
 - B. 地形以高原为主,有广阔的沙漠
 - C. 石油资源丰富,农业生产需要灌溉
 - D. 石油输出都经苏伊士运河运往西欧、北美或日本

(3)关于沙特阿拉伯的正确叙述是

- A. 沙特阿拉伯是西亚面积最大、人口最多的国家
- B. 由于气候极端干旱,没有河流和湖泊
- C. 石油储量占世界总储量的 1/4 以上
- D. 首都利雅得是全国政治、商业、文教和交通中心

解析:要仔细阅读西亚和北非的空白图,在辨认各国地理位置和轮廓大小的基础上回答;解答选择题时,要细心审阅各选项的叙述是否与所学知识相符,若不相符,要明白其错在哪里,然后一一回答。

答案:(1)④ 沙特阿拉伯 ⑦ 阿尔及利亚
⑤ 埃及 ① 土耳其 (2)BC (3)CD

备
课
札
记



随感录



综合训练(一)

(时间:90分钟 满分:100分)

一、选择题(单选题或双选题,每题1.5分,共48分)

⇒1. 有关日本、蒙古、朝鲜三个国家的比较,正确的是……………()

- A. 处于火山、地震活动带
B. 都属于单一民族的国家
C. 气候受海洋的影响较大
D. 民族工业的发展在国民经济中占重要地位

解析:三个东亚国家各有特色。日本是群岛国家,气候受海洋影响较大,地处亚欧板块与太平洋板块交界处,地壳活动剧烈。朝鲜和蒙古都为发展中国家,朝鲜是沿海国家,蒙古是世界上仅次于哈萨克斯坦的第二大内陆国。

答案:B

⇒2. 下列和我国接界的国家中,居民大多数信奉伊斯兰教的是……………()

- A. 巴基斯坦和阿富汗 B. 印度和巴基斯坦
C. 尼泊尔和不丹 D. 巴基斯坦

答案:D

⇒3. 南亚优质黄麻的主要分布地区是……………()

- A. 德干高原的西北部
B. 恒河三角洲
C. 半岛东北部、沿海地区
D. 布拉马普特拉河上游山坡

解析:印度农作物的分布受水热条件的影响具有明显的地带性:小麦主要在恒河平原中上游,黄麻主要在恒河三角洲,茶叶主要分布在布拉马普特拉河的山坡,棉花主要分布在德干高原的西北,水稻主要分布在德干高原的东西两侧。

答案:B

⇒4. 下列国家不属于中亚国家的是……()

- A. 哈萨克斯坦 B. 塔吉克斯坦
C. 土库曼斯坦 D. 土耳其

答案:D

⇒5. 被伊斯兰教、基督教、犹太教都看成做圣城的是……………()

- A. 麦加城 B. 耶路撒冷
C. 麦地耶 D. 吉达

答案:B

⇒6. 非洲热带草原的代表动物有……()

- A. 长颈鹿、斑马 B. 大猩猩、河马
C. 袋鼠、鸭嘴兽 D. 非洲象、鸵鸟

答案:A

⇒7. 撒哈拉以南的非洲,储量、产量都占世界第一位的矿产是……………()

- A. 金刚石、铜 B. 铁、铝土
C. 黄金、金刚石 D. 铝土、黄金

答案:C

⇒8. 撒哈拉以南的非洲主要的热带经济作物是……………()

- A. 橡胶、黄麻 B. 大豆、油棕
C. 棉花、蕉麻 D. 咖啡、可可

答案:D

⇒9. 刚果盆地的成因是……………()

- A. 地壳运动断裂形成的
B. 内陆湖湖水外泻形成的
C. 风力侵蚀作用形成的
D. 冰川侵蚀作用形成的

解析:刚果盆地主要是内外力共同作用下的产物,地壳上升,河流下切,湖水外泄形成的。

答案:B

⇒10. 划分五带的主要依据是……………()

- A. 有无太阳的直射和斜射
B. 有无明显的季节变化
C. 获得太阳光热的多少
D. 有无极昼、极夜和极光现象

解析:地球上的五带是由于黄赤交角的影响,地球公转中形成的,是地球上的热量带,热带有直射,寒带有极昼极夜,温带终年斜射,无极昼、极夜。

答案:C

⇒11. 关于东南亚的叙述,正确的是……()

- A. 是世界上最大的石油和锡的产地
B. 是世界上最大的小麦产地
C. 处于亚欧大陆和澳大利亚大陆、印度洋和太平洋的“十字路口”上
D. 是世界上天然橡胶、油棕、椰子等热带经济作物的重要产地

答案:CD

⇒12. 关于东非大裂谷的叙述,正确的是……………()

- A. 南起赞比西河口,北经红海,一直延伸到西亚的死海附近
B. 两岸悬崖壁立,附近有许多死火山和活火山
C. 谷底湖泊连串,有世界最深最大的湖泊——坦噶尼喀湖
D. 东非裂谷带形成时间久,现在不再继续扩大

备
课
札
记



备
课
札
记

解析:东非大裂谷的范围是:东非大裂谷南起赞比西河的下游谷地,向北延伸到马拉维湖北部,并在此分为东西两条。东面的一条是主裂谷,穿越坦桑尼亚中部的埃亚西湖、纳特龙湖等,经肯尼亚北部的图尔卡纳湖以及埃塞俄比亚高原中部的阿巴亚湖、兹怀湖等,继续向北直抵红海和亚西湾,全长 5000 多公里。西面从飞机上看乞力马扎罗山的雪峰的一条经坦噶尼喀湖、基伍湖、爱德华湖、艾尔伯特湖等一直到苏丹境内的白尼罗河促进,全长 1700 多公里。由于这条大裂谷在地理上已经实际超过东非的范围,一直延伸到死海地区,因此也有人将其称之为“非洲——阿拉伯裂谷系统”。

答案:AB

- ⇒13. 关于印度尼西亚的叙述,正确的是 …………… ()
- A. 世界最大的群岛国家,也是东南亚面积最大的国家
 - B. 人口有 1.7 亿,其中 1/3 的人口集中在爪哇岛上
 - C. 东南亚最大的石油生产国和输出国
 - D. 首都雅加达位于苏门答腊岛的西北岸,是东南亚最大的城市

答案:AC

- ⇒14. 当非洲南部地中海气候区处在干燥的季节时,应是 …………… ()
- A. 南亚盛行东北季风
 - B. 北非地中海沿岸也处在干燥的季节
 - C. 尼罗河正是流量大增的季节
 - D. 日本群岛是降水稀少的季节

解析:非洲南部的地中海气候区为干燥季节时,北半球正值冬季,南亚受东北季风的影响,地中海沿岸正值温和多雨的湿季,尼罗河的主要补给水源是热带草原地区的降水,此时正值枯水期,日本群岛是季风气候区,降水集中于夏季,冬季稀少。

答案:AD

- ⇒15. 关于西亚和北非的叙述,正确的是 …………… ()
- A. 两地居民主要是阿拉伯人
 - B. 两地大部分是平原
 - C. 两地居民大多信仰伊斯兰教
 - D. 两地的国家属“阿拉伯国家”

答案:AC

- ⇒16. 东亚东部 …………… ()
- A. 大陆性气候显著,经济以畜牧业为主
 - B. 海洋性气候显著,工农业发达
 - C. 季风性气候显著,雨热同期,农业较发达
 - D. 有世界著名的临海型工业区和沿海工业地带,形成东亚工业区域

答案:CD

- ⇒17. 世界上穆斯林人口最多的国家是 …………… ()
- A. 泰国
 - B. 马来西亚
 - C. 菲律宾
 - D. 印度尼西亚

答案:D

- ⇒18. 新加坡发展经济的有利条件及原因为 …………… ()
- A. 农业发达,粮食生产自给有余
 - B. 对外开放,发展出口加工工业
 - C. 位置优越,港口优良,交通便利
 - D. 利用劳动力资源丰富的优势,大力出口初级产品,发展对外贸易

答案:BC

- ⇒19. 中南半岛上的地形分布特点是 …………… ()
- A. 以高原为主的地形
 - B. 以平原为主的地形
 - C. 以山地为主的地形
 - D. 山河相间,纵列分布

答案:D

- ⇒20. 关于西亚石油的叙述,正确的是 …………… ()
- A. 西亚各国均以石油为经济主要支柱
 - B. 世界石油生产最大的国家在西亚
 - C. 西亚是日本最重要的石油供应地区
 - D. 波斯湾沿岸的石油均由油船运出霍尔木兹海峡

解析:世界上产油最多的国家是沙特阿拉伯,波斯湾沿岸的石油,除由油船运出外,还有管道运输。

答案:BC

- ⇒21. 中亚面积最大的国家是 …………… ()
- A. 乌兹别克斯坦
 - B. 哈萨克斯坦
 - C. 土库曼斯坦
 - D. 吉尔吉斯斯坦

答案:B

- ⇒22. 中亚的气候类型主要是 …………… ()
- A. 热带雨林气候
 - B. 热带季风气候
 - C. 温带大陆性气候
 - D. 温带季风气候

答案:C

- ⇒23. 中亚最大的城市是 …………… ()
- A. 阿拉木图
 - B. 塔什干
 - C. 卡拉干达
 - D. 杜尚别

答案:B

- ⇒24. 中南半岛上,濒临印度洋,既是海港,又是首都的城市是 …………… ()
- A. 雅加达
 - B. 仰光
 - C. 曼谷
 - D. 孟买

答案:C

- ⇒25. 中亚离海最近的地方是 …………… ()
- A. 土库曼斯坦的南部
 - B. 哈萨克斯坦的北部
 - C. 哈萨克斯坦的东部





D. 土库曼斯坦的西部

答案:D

⇒26. 关于印度的叙述,正确的是 …… ()

- A. 印度的矿产主要分布在德干高原的西北部
- B. 印度是亚洲耕地面积最大的国家,水稻的产量居世界首位
- C. 印度的经济作物有棉花、茶、黄麻等
- D. 印度已成为发达国家

答案:C

⇒27. 南亚主要农业区和人口密集区是 ……

…………… ()

- A. 北部山地
- B. 中部平原
- C. 南部高原
- D. 海上岛屿

答案:B

⇒28. 世界上水能蕴藏量最丰富的河流是 ……

…………… ()

- A. 尼日尔河
- B. 刚果河
- C. 尼罗河
- D. 赞比西河

解析:世界上水力资源最丰富的河流是刚果河,最长的河流是尼罗河,流量最大、流域面积最大的是亚马孙河,流经国家最多的河流是多瑙河。

答案:B

⇒29. 目前撒哈拉以南非洲面临的主要问题为

…………… ()

- A. 干旱、能源和资源问题
- B. 人口、粮食和环境问题
- C. 人口、粮食和能源问题
- D. 宗教、资源和环境问题

答案:B

⇒30. 原产于非洲的农产有 …… ()

- A. 咖啡、可可
- B. 枣椰、油棕
- C. 香蕉、剑麻
- D. 丁香、棉花

答案:B

⇒31. 澳大利亚大陆上动物演化缓慢的证据是——至今生活着 …… ()

- A. 有袋类动物和卵生哺乳动物
- B. 水生哺乳动物和陆地哺乳动物
- C. 水中有袋类动物和不能飞行的鸟类
- D. 食蚁兽、鸸鹋和企鹅及古老动物

解析:本题从一个新的角度考察澳大利亚的动物,要与有关动物进化方面的生物知识结合起来考虑。

答案:A

⇒32. 巴西各地人口分布的差别很大,90%以上的人口分布在 …… ()

- A. 东南部沿海地区
- B. 北部广大的平原地区
- C. 中南部广阔的高原地区
- D. 各大中城市地区

解析:本题主要考查考生对巴西人口分布

状况的理解和记忆情况。试题内容看起来比较简单,但它却内含着对巴西的自然环境与经济发展情况的理解。我们回忆巴西的自然环境特点,可知其东部沿海地区,特别是东南沿海一带,气候温和湿润,地势开阔平坦,海陆交通便利,许多大城市都集中在这一地区。巴西的东部沿海一带,也是其农矿产品的主要分布地区,如咖啡、可可、甘蔗、剑麻等多分布在这里,在距内地不远处,还有丰富的铁、锰矿产分布,因而东部沿海地区是巴西经济发达地区,也是它的人口集中分布地区。

答案:A

二、综合题(共 52 分)

⇒33. 将下列国家与其首都及所属类型连起来(7分)

- ①巴基斯坦 A. 科伦坡 I 内陆国
- ②斯里兰卡 B. 伊斯兰堡 II 岛国
- ③印度 C. 达卡 III 临海国
- ④孟加拉国 D. 新德里
- ⑤不丹 E. 延布
- ⑥尼泊尔 F. 马累
- ⑦马尔代夫 G. 加德满都

解析:对照地图册找出下列国家的位置及首都,并看海陆位置。

答案:略

⇒34. 读东西半球图,回答下列问题(9分)

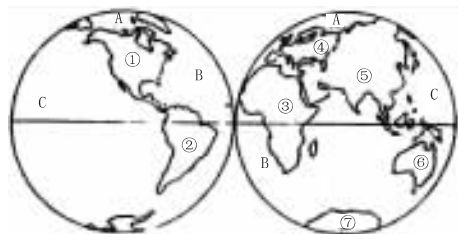


图 3—1

(1)将图中数字所代表的大洲的名称填写在下面的空格内。

- ① _____ ② _____ ③ _____
- ④ _____ ⑤ _____ ⑥ _____
- ⑦ _____

(2)将图中字母所代表的大洋的名称填写在下列的空格内。

- A _____ B _____ C _____
- D _____

(3)七大洲中面积最大的是 _____, 同为一个大陆的大洲是 _____ 和 _____。

(4)四大洋中面积最小的是 _____, 介于五大洲之间的大洋是 _____ 和 _____, 跨经度最多的大洋是 _____。

(5)按南北半球来说,海洋面积广阔的是 _____ 半球。

备
课
札
记



- (6) 我国位于_____洲。
 答案:(1)北美洲 南美洲 非洲 欧洲
 亚洲 大洋洲 南极洲
 (2)北冰洋 大西洋 太平洋 印度洋
 (3)亚洲 亚洲 欧洲
 (4)北冰洋 太平洋 大西洋 北冰洋
 (5)南 (6)亚

⇒35. 把图 3—2 中标注字母的山脉、河流、海湾、岛屿等名称填在下面空格内(9分)

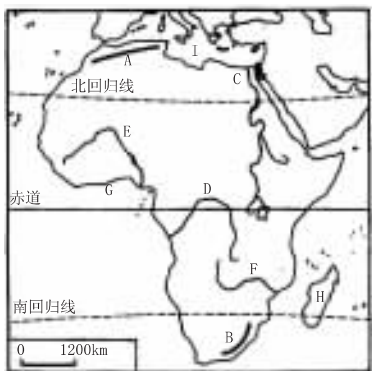


图 3—2

- A _____ 山脉; B _____ 山脉; C _____ 河;
 D _____ 河; E _____ 河; F _____ 河;
 G _____ 湾; H _____ 岛; I _____ 海。

答案:A. 阿特拉斯 B. 德拉肯斯 C. 尼罗 D. 刚果 E. 尼日尔 F. 赞比西 G. 几内亚 H. 马达加斯加 I. 地中海

⇒36. 读“部分国家对外贸易示意图 3—3”和“非洲矿产分布图 3—4”, 回答(9分)

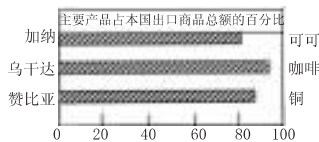


图 3—3

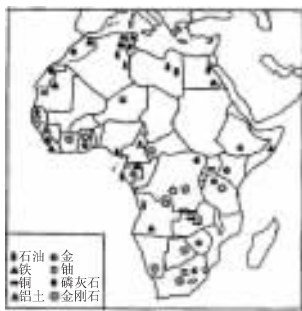


图 3—4

- (1) 世界上出产黄金最多的国家是_____, 出产金刚石最多的国家是_____, 重要的铜矿生产国是_____。
 (2) 撒哈拉以南的非洲许多国家多以出口_____级产品为主。
 (3) 撒哈拉以南的非洲许多国家矿产资源和热带经济作物种植面积广大。为什么经

济仍然很落后, 试从社会因素进行综合分析。_____

答案:(1)南非 博茨瓦纳 赞比亚 (2)初 (3)殖民统治带来巨大的灾难, 旧的经济秩序还没有彻底改变。工业生产技术落后, 许多国家是单一矿产品出口国, 在国际贸易中处于不利地位。人口包袱沉重, 影响经济的发展。

⇒37. 图 3—5 是奴隶贩子“三角贸易”路线图, 读后请回答问题(9分)

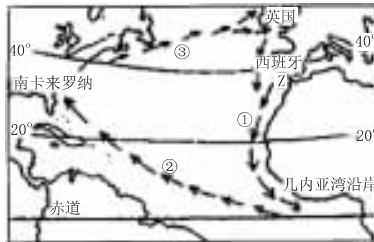


图 3—5

(1) 贩卖黑人奴隶是欧洲殖民者的一桩血腥罪行, 从_____世纪初开始, 这种罪恶的奴隶贸易前后延续了_____年之久, 非洲丧失的精壮人口不下_____亿。

(2) 先后进行奴隶贩卖的欧洲殖民国家是_____ ()

- A. 英国、西班牙、葡萄牙、法国
 B. 葡萄牙、西班牙、英国、法国
 C. 西班牙、葡萄牙、法国、英国
 D. 英国、法国、西班牙、葡萄牙

(3) 欧洲奴隶贩子从事贩卖奴隶的活动, 多采取三角航程; 图中①为出程, ②为中程, ③为归程。当时乘帆船来往一次约半年时间, 可以做三笔生意, 发三笔横财, 真是一本万利而又充满血腥的买卖。但是三角航线的选择是很科学和合理的, 请用风向和洋流的知识解释其理由:

- ①出程: _____。
 ②中程: _____。
 ③归程: _____。

(4) 图中 Z 是_____海峡, 它界于_____洲和_____洲的两大陆之间, 沟通_____洋及其_____海, 是重要的国际海上交通要塞。

解析: 在人类历史上, 没有什么比贩卖人口更为耻辱的了, 但是, 在西方资本主义发展历史上, 公开的奴隶贸易竟然延续了长达四百年的历史! 奴隶贸易发生在资本主义进行原始积累的时候。资本主义的发展, 使资产阶级需要大批的廉价劳动力和巨额的财富或货币资本。要达到这个目的, 资本家除了残酷压榨、剥削工人外, 就是掠夺

备
课
札
记



海外殖民地的大量财产。后来,美洲被发现,英国等殖民主义国家又把美洲作为巨额财富的来源地。大量土著居民如印第安人被成批地赶往矿井,当他们被榨干最后一滴血汗时,他们又被成批成批地埋于废弃的矿井之中。就这样,他们在用生命为资本家积累着一枚枚硬币。土著居民因过重的劳动而过早的结束了一个个生命,这样资本家的劳动力来源就难以得到保证,因此,他们把目光转移到了贫瘠而落后的非洲。把非洲黑奴贩卖到美洲,可以得到几十倍甚至上百倍的利益,所以,不少资本家纷纷把精力投入到贩奴活动中。西班牙、荷兰、英国、法国,尤其是最先垄断奴隶贸易的葡萄牙,都在贩奴运动中发了横财,为本国的资本主义发展准备了十分充足的条件。所以有人说,一个个黑奴的躯体就是一块块砖,无数黑奴的血肉就是无数的钢筋水泥,极度繁荣的欧美城市伦敦、阿姆斯特丹、马德里、纽约等,都是靠这些砖块一层层垒起来,靠这些钢筋水泥一点点浇灌而成的。

答案:(1)16 400 1 (2)B (3)①从欧洲沿海港口至非洲几内亚湾沿岸,借助东北信风的风力,顺加那利寒流而下 ②从非洲至北美洲,借助东北信风,顺北赤道暖流,既顺风又顺水 ③从北美洲返回欧洲,借助西风和北大西洋暖流,既顺风又顺水。

(4)直布罗陀 欧 非 大西 地中

→38. 读下面世界石油污染水域图(图 3—6)和摘自《中国环境报》的两段材料,回答问题(9分)



图 3—6

材料一:一油轮在①处搁浅造成近万吨原油泄漏,污染了印度尼西亚、马来西亚和新加坡附近的海域和海岸,导致大量鱼类死亡。

材料二:南非两个岛的近 20 万只非洲企鹅因沾上被油轮泄漏的石油而面临生命危险。

(1)材料上所说的石油泄漏事故发生在由世界石油主要供应地驶向主要消费地的两条石油运输线上,这个石油供应地是 _____

_____,并用字母“A”在图上标出它的位置。

(2)由石油供应地 A 向东经过①处附近的海峡,运送的石油主要供应 _____。

(3)如石油泄漏事故 1 月发生在印度半岛南端附近的海域,在洋流的作用下,水面上的油膜将向偏 _____ 方向漂流。在泄油区鱼类迅速死亡,其原因是 _____。

答案:(1)中东波斯湾沿岸 标注略

(2)马六甲 日本 (3)西 因油膜覆盖,海水中缺氧,鱼类窒息而死;海水严重污染,使鱼类中毒死亡

备
课
札
记



随感录



基础训练 3 欧洲和北美洲

 备
课
札
记

一、选择题

⇒1. 美国与中国的自然环境相似之处有 ……………
…………… ()

- A. 都有寒潮、台风、梅雨等天气现象
- B. 平原都分布在东部沿海地区
- C. 气候的大陆特征都比较明显
- D. 主要河流都是自西向东流

解析:美国和中国的大部分地区都位于北温带,大陆性气候特征比较明显,但形成的原因有较大差异,我国西部距海洋较远,难以受到海洋气团的调节,而美国则是由于三大地形的影响,而使大陆性气候特征明显。

答案:C

⇒2. 关于欧洲人口的正确叙述是 …………… ()

- A. 本地区由于经济发达,是世界人口密度最大的地区之一
- B. 本区的人口自然增长率随着经济的发展在逐年增长
- C. 本区人口最稠密的地区在地中海沿岸地区
- D. 本区人种最复杂

解析:西欧是资本主义发展最早和商业活动频繁的工业带,是人口密集区之一。由于社会经济、文化、教育等原因,这里人口增长缓慢,有些国家人口已停止增长或负增长,西欧以白种人为主。

答案:A

⇒3. 欧洲西部著名的旅游胜地正确的是 ……………
…………… ()

- A. 古斗兽场——西班牙马德里
- B. 音乐之都——法国巴黎
- C. 艾菲尔铁塔——英国伦敦
- D. 巴台农神庙——希腊雅典

解析:罗马城有科罗西姆大斗兽场、大竞技场等古代建筑和名胜古迹,巴黎的艾菲尔铁塔是城市的标志,城内还有巴黎圣母院、卢浮宫、爱丽舍宫、凡尔赛宫、凯旋门等。音乐之都都是奥地利的维也纳。巴台农神庙是古希腊神庙中最为精美、最为著名的一座。

答案:D

⇒4. 世界上耕地面积最大的国家是 …… ()

- A. 中国
- B. 俄罗斯
- C. 加拿大
- D. 美国

答案:B

⇒5. 世界上最大的淡水湖是 …………… ()

- A. 里海
- B. 鄱阳湖
- C. 苏必利尔湖
- D. 贝加尔湖

解析:黑海是世界上最大的咸水湖,贝加尔湖是最深的湖泊,苏必利尔湖是世界最大的淡水湖群中面积最大的,也是世界上面积最大的淡水湖。

答案:C

⇒6. 关于欧洲气候的正确叙述是 …… ()

- A. 北冰洋沿岸冬季严寒,为极地气候
- B. 南部地中海沿岸,冬季温凉干燥,夏季炎热多雨,为地中海气候
- C. 西部沿海降水丰富,且多集中在夏季,季节变化明显
- D. 东部距海较远,降水量自西向东递减,温差增加,为温带大陆性气候

答案:AD

⇒7. 关于欧洲西部气候的正确叙述是 ……………
…………… ()

- A. 深受大西洋的影响,气候温和湿润
- B. 具有明显的季风气候特征
- C. 自西向东由海洋性气候向大陆性气候过渡
- D. 自西向东由季风气候向温和的温带大陆性气候过渡

解析:欧洲西部大致介于北纬 $36^{\circ} \sim 72^{\circ}$ 之间,大部分地区位于北温带,在北纬 $40^{\circ} \sim 60^{\circ}$ 的地方全年盛行西风。特别是欧洲西面濒临辽阔的大西洋,沿海又常年有北大西洋暖流经过。再加上平原地形广大,地势低平,山脉多东西走向,西风很容易把温暖湿润的空气吹送到大陆内部。所以,欧洲西部的气候深受大西洋的影响,海洋性气候特征显著。与同纬度的亚洲大陆相比,欧洲的冬季比较温和,夏季比较凉爽,降水较多,而且季节分配比较均匀。但是,由于欧洲西部各地纬度不同,距海远近也不一样,所以各地的气候也有很大差别,气温由南向北递减,降水量由西向东递减。西部海洋性气候显著,向东逐渐过渡为温带大陆性气候。

答案:AC

⇒8. 关于北美洲地形的正确叙述是 …… ()

- A. 西部高大的山系由几条平行山脉组成,山间有宽广的高原和盆地
- B. 科迪勒拉山系的形成是美洲板块与亚洲板块碰撞的结果
- C. 中部大平原是由密西西比河冲积而成的,地势起伏很小
- D. 美加两国交界处,有世界上最大的淡水湖群



答案:AD

⇒9. 关于美国自然条件的正确叙述是 ……………

…………… ()

- A. 三面濒临海洋,沿海多优良港湾,海上航运便利
- B. 大部分地区位于北温带,温度适中,冬不冷夏不热
- C. 密西西比河和五大湖为灌溉、航运和发电提供了有利条件
- D. 平原面积广大,约占全国面积的 2/3 以上

解析:美国是以温带大陆气候为主的气候,大部分地区冬季寒冷干燥,夏季高温少雨。

答案:AC

⇒10. 美国在北纬 35°以南布局棉花带的原因是 ……………

…………… ()

- A. 雨量充沛
- B. 纬度较低
- C. 地广人稀,便于机械化作业
- D. 热量充足,无霜期长

解析:影响棉花生长的条件主要是热量条件,另外收摘期天气晴朗也是保证棉花丰产、丰收的重要条件。

答案:BD

二、综合题

⇒11. 在世界贸易中,美国是世界上输出 _____

数量最多、产值最大的国家,同时也是进口 _____、_____、_____ 和纺织品等工业产品最多的国家,它的进口往往大于出口。

解析:本题主要考核考生对美国工农业生产高度发达状况的熟悉程度,通过它既向外输出大量的工农业产品,同时又需要大量进口某些工业产品的情况,理解美国在外贸上存在进口大于出口的经济问题。首先要明确美国工农业生产很发达,是世界上输出工农业产品数量最多、产值最大的国家,这里并没有要求回答具体输出什么产品;其次是说明美国在对外贸易中,需要大量进口纺织等工业产品,不需要涉及进口农产品的问题,而要具体回答进口哪些工业产品。美国进口的工业产品主要是小汽车、钢铁、石油和纺织品等,而且往往是进口大于出口,这也是美国经济中的一个重要问题。

答案:工农业产品 小汽车 钢铁 石油

⇒12. 读北美洲冬季的气流图,按要求回答

(1)图中①是 _____ 风,带来 _____ 空气。由于 _____ 山脉阻挡,使其影响仅限于 _____ 海岸的狭长地带。该地区属 _____ 气候。

②是由高压吹来的 _____ 风,影响 _____

_____ 海岸。

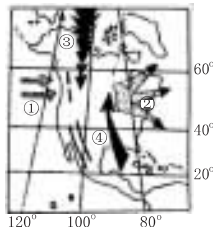


图 4—1

③是强烈的极地冷空气南下,它可使北美洲 _____ 广大地区气温 _____。

④是从 _____ 湾吹来得暖湿空气,有时带来短期的反常 _____ 天气,它们是由于中部平原 _____ 造成的。

(2)北美大陆与亚欧大陆所处的纬度位置和海陆位置基本一致,但北美大陆东部海岸地区缺少 _____ 气候,其原因是 _____。

(3)北美洲的气候使得棉花分布较广,美国的棉花分布在 _____,而我国的棉花主要分布在 _____ 和 _____ 流域。

答案:(1)①西 湿润 海岸 西北 温带海洋性 ②干冷 东 ③中部 急速下降

④墨西哥 温暖 地势低平 (2)温带季风 北美大陆东部的地形为高原,使得南方来的暖空气只能从中部平原地区北上

(3)北纬 35°以南的地区 黄河流域 长江

⇒13. 读俄罗斯示意图,回答下列问题

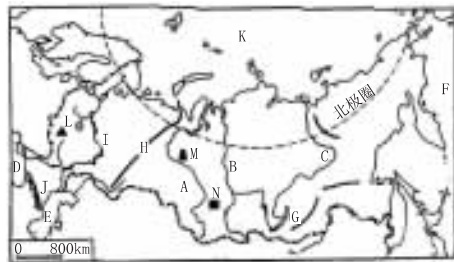


图 4—2

(1)填出下列名称

- A _____ 河、B _____ 河、C _____ 河、
- D _____ 海、E _____ 海、F _____ 洋、
- G _____ 湖、H _____ 山脉、I _____ 河、
- J _____ 山脉、K _____ 洋、L _____ 铁矿、M _____ 油田、N _____ 煤矿

(2)俄罗斯的老工业区 _____、_____, 新工业区 _____、_____;

(3)北冰洋沿岸的港口城市(约 69°N) _____, 成为终年不冻港的原因是 _____。

答案:(1)鄂毕 叶尼塞 勒拿 黑里 太平 贝加尔 乌拉尔 伏尔加 高加索 北冰 库尔斯克 秋明 库兹巴斯

(2)莫斯科 圣彼得堡 乌拉尔 新西伯利亚

备课札记



(3) 摩尔曼斯克 受北大西洋暖流的影响

⇒14. 分析下列问题

(1) 美国“硅谷”形成的最重要的因素 _____。

(2) 列举与圣弗朗西斯科所处自然带相同的两座城市 _____。

(3) 关于美国的叙述, 正确的是

- A. 地跨两大洲, 濒临三大洋
- B. 西部地形以山地为主, 东部以平原、低矮高原为主
- C. 石油生产量少, 是世界上进口石油最多

的国家

D. 粮棉出口量均居世界第一位

(4) 中国的西部开发与美国的西进运动的不同之处是 ()

- ① 是否促进经济的发展
- ② 是否走可持续发展的道路
- ③ 是否利用西部资源和开拓市场
- ④ 是否重视各民族共同繁荣

A. ①② B. ②③ C. ②④ D. ③④

答案: (1) 人才和交通 (2) 伊斯坦布尔、开普敦、罗马等 (3) A (4) C

备
课
札
记



随感录

Large area of horizontal dotted lines for writing notes.

