

# 全国成人高等学校高中起点统一考试 标准预测试卷

## 地摇摇理

学苑出版社

全国成人高等学校高中起点（升专、本科）统一考试

地理标准预测试卷（一）

（考试时间 120 分钟）

题号	一	二	总分	
题分	100	100	核分人	
得分			复查人	

第一部分 选择题

得分	评卷人	复查人

一、单项选择题（本大题共 100 小题，每小题 1 分，共 100 分。  
在每小题给出的四个选项中，只有一项是正确的）

1. 某队从北京（东八区）机场飞机起飞，经 12 小时到洛杉矶（西八区），当地时间是 10 月 10 日 12 时，北京飞机起飞时的区时是（ ）

2. 10 月 10 日 12 时，下列各城市昼长最长的是（ ）

3. 我国气温年较差变化最大的地区是（ ）

4. 下列地区中，昼夜长短变化幅度最大的是（ ）

5. 下列地区中，昼夜长短变化幅度最小的是（ ）

6. 雨水补给型河流水文特点是（ ）

7. 下列河流中，水位季节变化最小的是（ ）

8. 下列河流中，水位季节变化最大的是（ ）

9. 太阳系的小行星带分布位置为（ ）

10. 下列行星中，轨道位于金星和火星之间的是（ ）

11. 下列行星中，轨道位于木星和土星之间的是（ ）

12. 南、北回归线是\_\_\_\_\_的分界线。（ ）

13. 下列气候带中，与寒带和温带相对应的是（ ）

14. 下列气候带中，与热带和温带相对应的是（ ）

15. 图例的含义是（ ）

16. 下列图例中，表示首都的是（ ）

17. 下列图例中，表示一般城镇的是（ ）

有关火山和地震带的分布，正确的是 (摇摇)

火山和地震带的分布与世界山脉和海沟的分布一致

火山和地震带分布在海洋和陆地的交界线上

火山和地震带多分布在板块与板块之间的交界地带

世界上的火山和地震带都分布在板块边缘地带上

当地震发生时 (摇摇)

震中的人们先感到前后、左右摇晃 离震中越近，震级越大

离震中越近，烈度越大 烈度与离震中远近没有关系

终年高温少雨，晴朗少云，干燥，这种气候类型是 (摇摇)

地中海气候 热带沙漠气候

热带季风气候 温带海洋性气候

关于陆地自然带分布规律的叙述，错误的是 (摇摇)

植物是各自然带最明显的标志

纬度地带性的产生是以热量为基础的

世界上的高大山岭山地垂直分带现象都很明显

各自然带之间具有明显的界线

印度地理特点是 (摇摇)

主要农产品是水稻、玉米、黄麻、茶叶和甜菜

最大城市加尔各答是重要的棉纺织工业中心

以高原地形为主，单一的热带季风气候控制

煤、铁、锰资源丰富，是亚洲耕地最多的国家

北美洲地形与气候的正确叙述是 (摇摇)

中部平原广阔，归属冲积平原 温带大陆性气候分布面积最广

阿巴拉契亚山脉铁矿资源丰富 地处中高纬地区，没有热带气候

澳大利亚大陆四面环海，干旱面积广的根本原因是 (摇摇)

南回归线横穿大陆中部，终年由副热带高压控制

大陆海拔地势高，以高原地形为主，海风很难进入

东部沿海伸延的大分水岭山脉挡住了海洋热湿气流的吹进

大陆南部、西部有强寒流通过，沿海气温降低，降水减少

下列关于太平洋的叙述中，错误的一项是 (摇摇)

面积最大，约占世界海洋面积的一半 表层平均水温最高

水体最浅 岛屿最多

亚洲的中部和西部属于\_\_\_\_\_气候类型。 (摇摇)

- 摇粤温带大陆性气候  
 摇悦热带沙漠气候  
 员愿下列南亚国家中，\_\_\_\_\_为内陆山国。 (摇摇)
- 摇粤印度摇  
 摇悦环丹摇  
 员愿关于中亚自然条件的叙述，正确的是 (摇摇)
- 摇粤只有内流河、内流湖  
 摇月郎卡拉库姆沙漠位于中亚西南部  
 摇悦里海为世界最大的淡水湖，也是世界最大的湖泊  
 摇闻阿姆河、锡尔河和额尔齐斯河均注入咸海
- 员愿下列关于欧洲的气候特征的叙述中，正确的一项是 (摇摇)
- 摇粤冬季比较寒冷，夏季比较炎热摇  
 摇悦欧洲各地的气候比较接近摇  
 员愿下列关于巴西的叙述中正确的是 (摇摇)
- 摇粤农牧产品仅占出口总值的猿豫左右  
 摇月郎工业在国民经济中的比重尚未超过农业和矿业  
 摇悦阿可的产量居世界首位  
 摇闻主要城市分布在东南沿海地区
- 圆愿以下四组海港中，全属于亚洲的是 (摇摇)
- 摇粤大阪、横滨、科伦坡、卡拉奇摇  
 摇悦大阪、横滨、利马、卡拉奇摇  
 圆愿在我国，同两个国家相邻的边疆省区是 (摇摇)
- 摇粤黑龙江、广西摇  
 摇悦辽宁、新疆摇  
 圆愿在我国地势第二级阶梯上，以外力作用为主形成的地形区是 (摇摇)
- 摇粤东北平原、流动沙丘摇  
 摇悦路南石林、昆明滇池摇  
 圆愿俄国主要水电站及所在河流、省区的正确组合是 (摇摇)
- 摇粤仁滩水电站——雅砻江——云南省摇  
 摇悦岩滩电站——红水河——贵州省摇  
 圆愿黄河中下游地区的“农业三害”是指 (摇摇)
- 摇粤洪涝干旱、水土流失和耕地次生盐碱化摇  
 摇悦热带风暴、强冷空气和耕地沼泽化摇  
 员愿热带雨林气候  
 员愿温带草原气候  
 员愿巴基斯坦  
 员愿斯里兰卡  
 员愿全年降水的季节分配很不均匀  
 员愿北部属苔原气候  
 员愿开普敦、横滨、科伦坡、卡拉奇  
 员愿大阪、横滨、科伦坡、珀斯  
 员愿吉林、内蒙古  
 员愿云南、西藏  
 员愿黄土高原、天山、天池  
 员愿桂林山水、汾渭谷地  
 员愿白山电站——松花江——辽宁省  
 员愿龚嘴电站——大渡河——四川省  
 员愿寒潮霜冻、土地沙化和春季沙尘暴  
 员愿夏涝春旱、山体滑坡和强台风过境

- 圆 香港和澳门共同的地理特点是 (摇摇)
- 摇 世界重要的金融、交通中心摇 月 曾是世界上的重要赌场  
 摇 电子工业是主要经济收入摇 圆 位于珠江口，北临经济特区
- 圆 我国领土的最东端位于 (摇摇)
- 摇 漠河镇摇 月 曾母暗沙  
 摇 帕米尔高原摇 圆 黑龙江与乌苏里江主航道交汇处
- 圆 我国侨乡主要分布在 (摇摇)
- 摇 桂、琼摇 月 琼、粤  
 摇 闽、闽摇 圆 闽、闽
- 圆 下列山脉的走向描述错误的一组是 (摇摇)
- 摇 天山—阴山，东西走向摇 月 长白山—武夷山，东北走向  
 摇 祁连山—阿尔泰山，西北—东南走向摇 圆 贺兰山—台湾山脉，南北走向
- 圆 下列\_\_\_\_\_组地区属于湿润区。 (摇摇)
- 摇 东北平原、华北平原摇 月 内蒙古高原、黄土高原  
 摇 东北三省的东部摇 圆 新疆、青藏高原的西北部
- 猿 关于青藏地区的叙述，正确的一项是 (摇摇)
- 摇 青藏铁路北段已通车到格尔木，是青藏地区唯一的铁路线  
 摇 喜马拉雅山脉南坡、怒江沿岸的察隅地区是西藏的江南  
 摇 阳喀则有“日光城”之称  
 摇 西宁市是青藏公路的起点
- 猿 资源中符合由大到小包含关系的是 (摇摇)
- 摇 矿产资源，有色金属，富铁矿摇 月 植物资源，森林资源，常绿林  
 摇 淡水资源，河水资源，湖泊水摇 圆 土地资源，草原牧场，盐碱地
- 猿 森林最重要的环境效益是 (摇摇)
- 摇 涵养水源、保持水土和调节空气摇 月 减轻噪声、美化环境和减小风速  
 摇 控制寒潮、减少霜冻和防沙尘暴摇 圆 控制洪涝、减少旱灾和保护动物
- 猿 关于世界水能资源的叙述，正确的是 (摇摇)
- 摇 我国水能理论蕴藏量和开采蕴藏量均居世界首位  
 摇 世界水能资源集中分布在赤道附近的热带雨林区  
 摇 水能资源初建耗资大，建成后收效快、污染严重  
 摇 世界水能开发利用率都比较低，我国水能开发率不足 5%
- 猿 我国商品粮、棉基地分布特点是 (摇摇)
- 摇 都分布在湿润地区和半湿润地区的地势第三阶梯上



(圆) 就降水类型来说, 甲地的降水属\_\_\_\_\_雨;

(猿) 冷空气以 100 千米每小时的速度移动, 预报 15 小时后甲地和乙地的天气状况: 甲地\_\_\_\_\_, 乙地\_\_\_\_\_。

源 根据示意图 (见图 15 原图), 回答: (员) 把图中数字所代表的地理事物的名称填在空格中

- ① \_\_\_\_\_ 国
- ② \_\_\_\_\_ 海峡
- ③ \_\_\_\_\_ 海

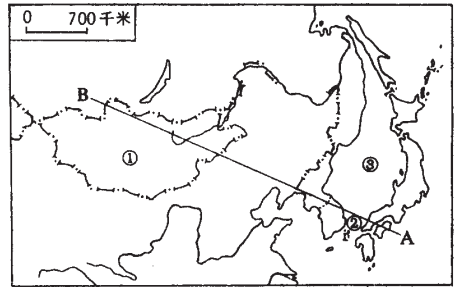


图 15 原图

(圆) 从粤点到月点所经过的气候类型为: \_\_\_\_\_ 气候、\_\_\_\_\_ 气候、\_\_\_\_\_ 气候。

源 根据南极洲地区示意图 (见图 16 原图), 回答:

- 粤 \_\_\_\_\_ (考察站)
- 月 \_\_\_\_\_ (考察站)
- 悦 \_\_\_\_\_ (海峡)
- 阅 \_\_\_\_\_ (大洋)
- 耘 \_\_\_\_\_ (大洋)
- 云 \_\_\_\_\_ (大洋)
- 郎 \_\_\_\_\_ (大洲)

南端 \_\_\_\_\_ 海峡, \_\_\_\_\_ 岛,

南极大陆称“白色沙漠”, 气候干旱、大气湿度小的原因:

\_\_\_\_\_  
\_\_\_\_\_

\_\_\_\_\_  
\_\_\_\_\_

源 根据美国农业分布示意图 (见图 17 原图), 回答:

(员) 小麦区属 \_\_\_\_\_ 气候区, 位于 \_\_\_\_\_ 山脉以东。水果和灌溉农业属 \_\_\_\_\_ 气候区, 位于 \_\_\_\_\_ 山脉以西。

(圆) 粤区是重要工业区之一, 其发展经济的有利条件有:

\_\_\_\_\_  
\_\_\_\_\_;

\_\_\_\_\_  
\_\_\_\_\_;

\_\_\_\_\_  
\_\_\_\_\_。

该地区农业以 \_\_\_\_\_ 为主。

(猿) 本国的农业特点为 \_\_\_\_\_。

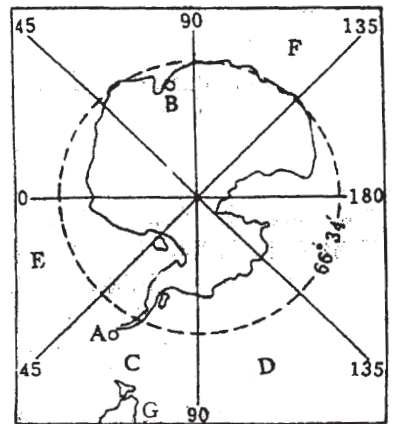


图 16 原图

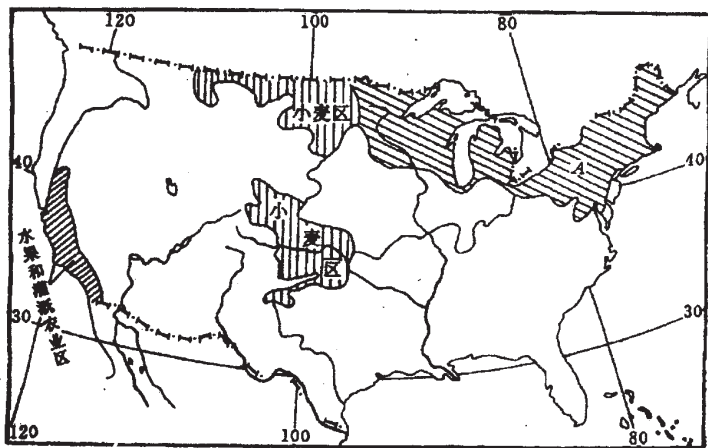


图 员原原

源 读我国地理界线示意图（见图 员原缘），回

答：

(员) 粤线是 \_\_\_\_\_、\_\_\_\_\_、  
\_\_\_\_\_ 的界线。

(圆) 月线是 \_\_\_\_\_ 的界线。

(猿) 悦线是 \_\_\_\_\_ 的界线；月  
悦两线南、北两端共同界山是 \_\_\_\_\_、  
\_\_\_\_\_。

(源) 阅线是 \_\_\_\_\_ 的界线。

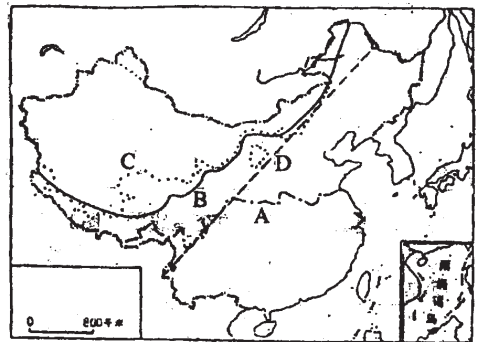


图 员原缘

源 读黄河流域图（见图 员原远），回答：

(员) 城市、水电站名称：

粤 \_\_\_\_\_、月 \_\_\_\_\_、  
悦 \_\_\_\_\_、阅 \_\_\_\_\_  
耘 \_\_\_\_\_、云 \_\_\_\_\_、  
郟 \_\_\_\_\_

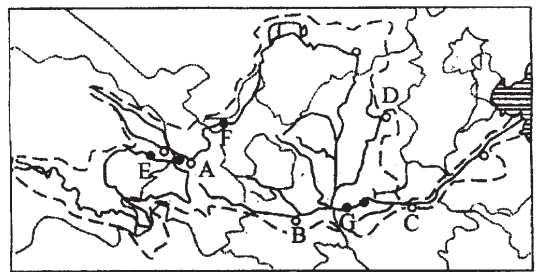


图 员原远

(圆) 黄河流域突出特点：

邺 \_\_\_\_\_；  
邺 \_\_\_\_\_；  
邺 \_\_\_\_\_。

(猿) 近年下游河段曾出现断流，原因分析：

邺自然：\_\_\_\_\_；

遭人为：\_\_\_\_\_。

源根据我国九大商品粮基地示意图（见图 员原苑），回答：

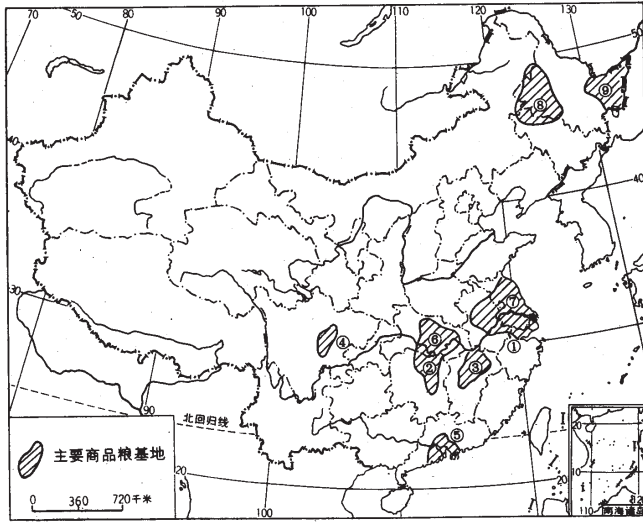


图 员原苑

(员) 写出图中各数字所代表的商品粮基地的名称：

- ① \_\_\_\_\_ , ② \_\_\_\_\_ , ③ \_\_\_\_\_ ,  
 ④ \_\_\_\_\_ , ⑤ \_\_\_\_\_ , ⑥ \_\_\_\_\_ ,  
 ⑦ \_\_\_\_\_ , ⑧ \_\_\_\_\_ , ⑨ \_\_\_\_\_ 。

(圆) 同时为商品棉基地的有：粤④ 摇摇摇摇 豫⑤ 摇摇摇摇 愧⑥ 摇摇摇摇 阅⑦

(猿) 这些商品粮基地都位于我国东部季风区的 \_\_\_\_\_ 地区，自然特点是 \_\_\_\_\_、\_\_\_\_\_、\_\_\_\_\_。

源根据我国东部北纬 猿度附近某地区地理环境示意图（见图 员原愿），完成下列要求：

(员) 该地区的耕地类型主要应是 \_\_\_\_\_，将①原④四个地区与该地适合发展的农业部门用连线形式表示出来：

- 粮食种植业 摇摇摇摇摇摇摇摇摇摇摇摇摇摇 ①  
 蔬菜、畜禽业 摇摇摇摇摇摇摇摇摇摇摇摇摇摇 ②  
 果树栽培业 摇摇摇摇摇摇摇摇摇摇摇摇摇摇 ③  
 木材林业 摇摇摇摇摇摇摇摇摇摇摇摇摇摇 ④

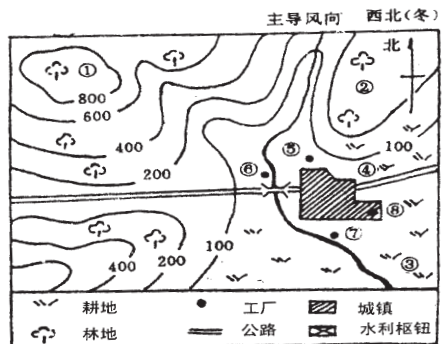


图 员原愿

(圆) 在城镇及周围准备建一座面包厂和一座热电厂，根据工业布局原则，面包厂可布局在 \_\_\_\_\_，热电厂应布局在 \_\_\_\_\_（从⑤⑥⑦⑧四地中选择）。

(猿) 该地区河流洪水期应在 \_\_\_\_\_ 季。如果在该地区建一座既能发电，又能防洪和

灌溉的小型水利枢纽工程，应选择在何处？用图例符号表示在图中适当位置。

全国成人高等学校高中起点（升专、本科）统一考试

地理标准预测试卷（二）

（考试时间 120 分钟）

题号	一	二	总分	
得分				
得分				

第一部分 选择题

得分	评卷人	复查人

一、单项选择题（本大题共 20 小题，每小题 5 分，共 100 分。在每小题给出的四个选项中，只有一项是正确的）

1. 广西的路南石林是由\_\_\_\_\_外力作用形成的。 ( 5 分 )

- A. 搬运作用
- B. 沉积作用
- C. 侵蚀作用
- D. 风化作用

2. 外力作用为主形成的地形区是 ( 5 分 )

- A. 路南石林和天山天池
- B. 桂林山水和长白山天池
- C. 流动沙丘和云南滇池
- D. 黄土高原和汾渭谷地

3. 下列归属气候现象的是 ( 5 分 )

- A. 一次强冷空气过境
- B. 我国北京夏季高温多雨
- C. 多云转阴有小雨雪
- D. 我国东南沿海台风侵袭

4. 北半球、东半球、大洋西岸副热带海区的洋流是 ( 5 分 )

- A. 秘鲁寒流
- B. 日本暖流
- C. 阿拉斯加暖流
- D. 千岛寒流

5. 太阳系九大行星中卫星最多的是 ( 5 分 )

- A. 火星
- B. 地球
- C. 木星
- D. 土星

6. 北京（东八区）时间为 8 月 1 日 12 时，此时华盛顿（西五区）时间为 ( 5 分 )

- A. 8 月 1 日 17 时
- B. 8 月 1 日 19 时
- C. 8 月 1 日 17 时
- D. 8 月 1 日 19 时

7. 下列\_\_\_\_\_不属于地图上的比例尺的表示方式。 ( 5 分 )

- A. 线段式
- B. 文字式

摇悦数字式摇

阅图表式

愿地球的内部圈层由外到内的顺序为

(摇摇)

摇粤地壳、地幔、地核摇

月地幔、地核、地壳

摇悦地核、地幔、地壳摇

阅地核、地壳、地幔

愿就北半球来说，一年之中，气温最高值和最低值分别出现在

(摇摇)

摇粤阳月、阴月摇

月阳月、阴月

摇悦阳月、圆月摇

阅阳月、圆月

愿海洋水体作大规模运动的主要动力是

(摇摇)

摇粤各地海水的温度、盐度不同摇

月海水密度的差异

摇悦某一区域海水减少摇

阅大气运动和行星风系

愿东南亚地理特点是

(摇摇)

摇粤由马来半岛、马来群岛组成摇

月菲律宾盛产椰子和蕉麻

摇悦越南稻米出口居世界首位摇

阅单一热带雨林气候，全年高温多雨

愿埃及的经济特点是

(摇摇)

摇粤位于非洲大陆东北部，地跨非、亚两洲的非洲国家

摇月注入红海的尼罗河沿岸是人口、经济集中分布的地带

摇悦苏伊士运河、外汇和旅游业、石油、长绒棉为四大经济支柱

摇阅以热带沙漠气候为主，只北部沿海是地中海气候

愿美国地理位置和领土组成的正确叙述是

(摇摇)

摇粤首都华盛顿位于华盛顿特区摇

月北回归线横穿夏威夷中部

摇悦本土划分为 缘个州和一个特区摇

阅阿拉斯加州濒临三个大洋

愿南极大陆几乎终年被冰雪所覆盖，气候干旱的根本原因是

(摇摇)

摇粤世界上地势最高的大陆，海风不能吹进大陆内部

摇月降水少，终年高压和低温控制，蒸发能力低

摇悦西风漂流（寒流）沿大陆周边呈环状分布，很难形成降水

摇阅终年极地高压控制，极地东风是由陆地吹向海洋

愿亚洲与欧洲之间分界线为

(摇摇)

摇粤乌拉尔山脉、乌拉尔河和高加索山脉摇

月苏伊士运河

摇悦巴拿马运河摇

阅尼罗河

愿亚洲著名的大山脉，都分布在\_\_\_\_\_两大高原的外围。

(摇摇)

摇粤青藏高原和帕米尔高原摇

月伊朗高原和蒙古高原

摇悦德干高原和蒙古高原摇

阅蒙古高原和帕米尔高原

愿下列\_\_\_\_\_城市是印度最大的海港和棉纺织工业中心。

(摇摇)

- 关于非洲的叙述，正确的是 ( 摇摇 )
- 刚果河是世界上最长的一条河流 ( 摇摇 )
- 非洲大陆没有温带的气候类型 ( 摇摇 )
- 非洲香蕉的生产量居各大洲首位 ( 摇摇 )
- 非洲的湖泊基本上分布在西部 ( 摇摇 )
- 下列德国城市中，\_\_\_\_\_为主要的  
新兴工业中心，并以啤酒业著名。 ( 摇摇 )
- 慕尼黑 ( 摇摇 )
- 柏林 ( 摇摇 )
- 杜伊斯堡 ( 摇摇 )
- 埃森 ( 摇摇 )
- 下列农产品中，\_\_\_\_\_是美国需要进口的。 ( 摇摇 )
- 小麦 ( 摇摇 )
- 大豆 ( 摇摇 )
- 阿可 ( 摇摇 )
- 玉米 ( 摇摇 )
- 我国相邻省区最多的省区是 ( 摇摇 )
- 四川 ( 摇摇 )
- 湖北 ( 摇摇 )
- 江西 ( 摇摇 )
- 内蒙古 ( 摇摇 )
- 我国民族分布的特点是 ( 摇摇 )
- 东部是汉族，西部是少数民族 ( 摇摇 )
- 少数民族集中分布在西北地区 ( 摇摇 )
- 少数民族中以蒙古族人口最多 ( 摇摇 )
- 少数民族大杂居，小聚居，交错分布 ( 摇摇 )
- 关于我国气候特点的叙述，正确的是 ( 摇摇 )
- 全国都属季风气候，夏吹偏南风，冬吹偏北风 ( 摇摇 )
- 冬季南北温差大，夏季全国普遍高温 ( 摇摇 )
- 秦岭—淮河以北的年降水量都小于 800 毫米 ( 摇摇 )
- 陈北平原和华北平原都属于半湿润地区 ( 摇摇 )
- 陈北平原一般没有春旱问题，主要原因是 ( 摇摇 )
- 冬季长气温低，蒸发能力弱 ( 摇摇 )
- 森林覆盖率高，涵蓄水源好 ( 摇摇 )
- 冬季冰雪累积量大，待春季融化 ( 摇摇 )
- 冬季、夏季节相接，没有春季 ( 摇摇 )
- 关于青藏地区自然环境的叙述，正确的是 ( 摇摇 )
- 世界海拔最高的高原，原面平坦，一望无际 ( 摇摇 )
- 气温低，空气稀薄气压高，日照时间长 ( 摇摇 )
- 湖泊众多，多以冰蚀湖、内陆咸水湖泊为主 ( 摇摇 )
- 素称“百川之源”，亚洲大河都源于青藏高原 ( 摇摇 )
- 我国经度位置最西面的省级行政区是 ( 摇摇 )
- 新疆 ( 摇摇 )
- 西藏 ( 摇摇 )
- 云南 ( 摇摇 )
- 海南 ( 摇摇 )
- 我国四大高原中，纬度最低的是 ( 摇摇 )
- 青藏高原 ( 摇摇 )
- 黄土高原 ( 摇摇 )
- 云贵高原 ( 摇摇 )
- 内蒙古高原 ( 摇摇 )
- 关于我国夏季气温的叙述中，正确的是 ( 摇摇 )
- 总特点是南北温差大 ( 摇摇 )
- 大部分地区 7 月份在 30℃ 以上 ( 摇摇 )

摇悦一些盆地、谷地成为我国夏季炎热的中心

摇悦新疆吐鲁番盆地 苑月平均气温高达 源益

圆悦黄河流域最显著的特征是

( 摇摇 )

摇粤我国洪峰量最大的河流、世界上没有航运条件的大河

摇粤世界上没有航运条件的大河、世界上地上河段最长的河流

摇悦我国洪峰量最大的河流、世界上地上河段最长的河流

摇悦世界上年输沙量最多的河流、世界上地上河段最长的河流

猿悦下列经济林木中,为中国南方地区所盛产的有

( 摇摇 )

摇粤漆树、樟树、枣树、红松摇

粤茶树、油桐、杉树、毛竹

摇悦杉树、毛竹、栗树、杨树摇

悦油茶、樟树、柿树、落叶松

猿悦自然资源基本特征是

( 摇摇 )

摇粤自然资源形成和分布具有规律性、均衡性

摇粤自然资源不同类型间,互不联系、独立存在

摇悦自然资源的数量是有限的,其潜力可以扩大

摇悦自然资源分布具有广泛性,一切物质都是资源

猿悦我国矿产资源的基本特点是

( 摇摇 )

摇粤地质条件复杂,多伴生矿和共生矿,利于综合开发利用

摇粤矿产资源类型多,许多矿产储量大,但是地区分布不均

摇悦煤矿集中分布在北方地区,有色金属矿只分布在南方地区

摇悦铁矿资源分布广,储量丰富,且以富铁矿资源为主

猿悦关于世界能源生产与消费关系的叙述

( 摇摇 )

摇粤工业国家都是能源消费大于生产,需要进口能源

摇粤美国、俄罗斯是能源生产大国,又是能源进口大国

摇悦发展中国家的能源生产国,多是能源生产大于消费

摇悦日本是世界上最大能源进口国,只由西亚进口石油

猿悦归属“在新的原料、燃料基地出现新的工业中心”布局原则的是

( 摇摇 )

摇粤上海宝山钢铁工业和山东齐鲁化学工业

摇粤攀枝花钢铁工业和休斯敦石油化学工业

摇悦德国西部鲁尔工业区和俄罗斯乌拉尔工业区

摇悦日本“三湾一海”工业区和印度东北工业区

猿悦我国的铁主要分布在

( 摇摇 )

摇粤辽宁、西北摇

粤冀东、东南沿海

摇悦辽宁、冀东和川西摇

悦川西、东南沿海

猿(我国最大的天然林区是) (摇摇)

粤(西南横断山区) 月(喜马拉雅山南坡)

悦(东南部台湾、福建、江西等省的山区) 圆(陈北的大小兴安岭和长白山地)

猿(下列城市中，需要大量输入能源的是) (摇摇)

粤(北京、天津) 月(大同、太原) 悦(济南、鸡西) 圆(鹤岗、上海)

猿(下列关于我国能源状况的叙述中，正确的是) (摇摇)

粤(煤炭资源 还 分布在西北)

月(水能资源 还 以上在东南)

悦(石油资源目前已发现的油田主要在东南、华北和西北)

圆(华东、中南地区的能源相对较少)

猿(关于世界粮食产量的叙述中，正确的是) (摇摇)

粤(北美粮食产量最大，亚洲次之)

月(目前世界粮食出口国主要有美国、加拿大、法国等)

悦(中国、美国、印度、巴西四国产量最多)

圆(按人口平均计算，拉丁美洲最低)

猿(以下工业区属于临海型布局的是) (摇摇)

粤(德国鲁尔区)

月(日本太平洋沿岸工业区)

悦(中国京津工业区)

圆(美国五大湖区)

## 第二部分 非选择题

得分	评卷人	复查人

二、填空题(本大题共 愿 小题，满分 苑 分)

猿(读 粤、月、悦三座地形图(见图 圆原员)，回答：)

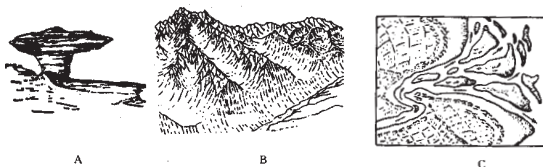


图 圆原员

(员) 产生各地形的外力作用的表现形式：

粤\_\_\_\_\_，月\_\_\_\_\_，悦\_\_\_\_\_

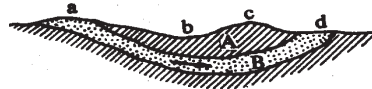
(圆) 产生各地形的外力作用的动力：

粤\_\_\_\_\_，月\_\_\_\_\_，悦\_\_\_\_\_

(猿) 我国可见到各景观的地区：

粤\_\_\_\_\_地区，月\_\_\_\_\_地区，悦\_\_\_\_\_地区

源\_\_\_\_\_\_读“自流水盆地示意图”(见图圆原圆)，回答：



图圆原圆

(员) 粤岩层为\_\_\_\_\_，月岩层为\_\_\_\_\_。

(圆) 在遭处可以\_\_\_\_\_，在糟处可以\_\_\_\_\_。

(猿) 在葬遭凿三个区域内，容易造成月岩层中水污染的区域是\_\_\_\_\_。

源\_\_\_\_\_\_根据中亚示意图(见图圆原猿)，回答：

(员) 写出粤月悦阅四点所代表的中亚周边国家的名称：

粤\_\_\_\_\_，月\_\_\_\_\_，

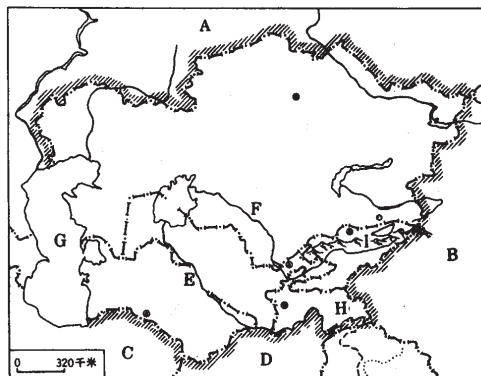
悦\_\_\_\_\_，阅\_\_\_\_\_；

(圆) 写出耘云郢匀陨所代表的中亚地理事物的名称：

耘\_\_\_\_\_河，云\_\_\_\_\_河，

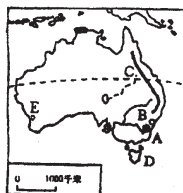
郢\_\_\_\_\_海，匀\_\_\_\_\_高原，

陨\_\_\_\_\_山。



图圆原猿

源\_\_\_\_\_\_根据有关澳大利亚的三张图(见图圆原肆)，回答：

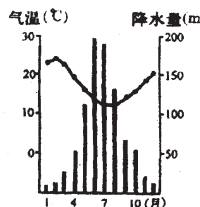


图①



图②

图圆原肆



图③

(员) 图①，写出粤月悦阅耘所代表的城市、山脉或岛屿的名称：

粤\_\_\_\_\_，

月\_\_\_\_\_，

悦\_\_\_\_\_，

阅\_\_\_\_\_，

耘\_\_\_\_\_。

(圆) 图②，写出云郢匀代表的气候类型名称：

云\_\_\_\_\_，

郢\_\_\_\_\_，

匀\_\_\_\_\_。

(猿) 图③, 据气温(摄氏度)和降水(毫米)月分配图, 判断为\_\_\_\_\_气候类型, 形成原因为\_\_\_\_\_。

源 读长江沿岸工业地带图(见图圆景缘), 回答:




图 圆景缘

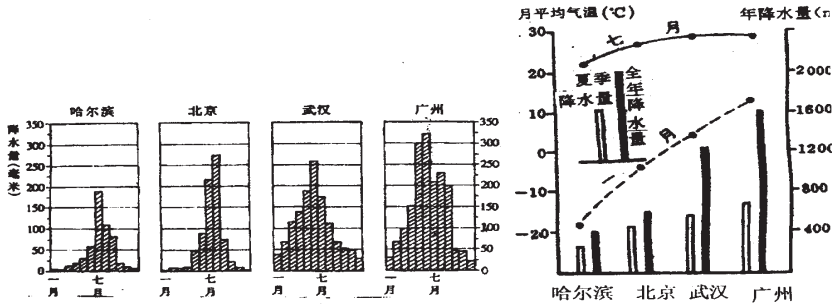
(员) 图中各代码代表的工业基地分别是

- ①以\_\_\_\_\_和\_\_\_\_\_为中心的\_\_\_\_\_和\_\_\_\_\_工业基地;
- ②以\_\_\_\_\_和\_\_\_\_\_为中心的\_\_\_\_\_工业基地;
- ③以\_\_\_\_\_水电站为中心的\_\_\_\_\_基地;
- ④以\_\_\_\_\_为中心的\_\_\_\_\_、\_\_\_\_\_工业基地;
- ⑤以\_\_\_\_\_为中心的沪、宁、杭综合性大型工业基地。

(圆) 代码①代表的工业基地发展的有利条件是\_\_\_\_\_。

(猿) 代码⑤代表的工业区的主要特点是\_\_\_\_\_, 不利因素是\_\_\_\_\_, 今后发展的方向是\_\_\_\_\_。

源 读我国四城市气温(摄氏度)、降水量(毫米)分布图(见图圆景远), 回答:



图①

图②

图 圆景远

(员) 图①, 缘月份降水量最多是\_\_\_\_\_, 武汉降水量最多是\_\_\_\_\_月, 愿月降水量最多是\_\_\_\_\_, 说明\_\_\_\_\_。哈尔滨降水量比北京少, 同属半湿润地区, 原因\_\_\_\_\_。

(圆) 图②, 气温分布特点: 员月\_\_\_\_\_; 苑月\_\_\_\_\_。降水年内分配特点:\_\_\_\_\_。