

茂名市高考模拟考试

本试卷分第 I 卷(选择题)和第 II 卷(非选择题)两部分,共 150 分,考试时间 120 分钟。

第 I 卷(选择题共 70 分)

一、选择题

(一)单项选择题(共 40 分),本题共 20 小题,每小题 2 分,在每小题给出的四个选项中只有一项是符合题目要求的。

1. 感受“一场秋雨一场寒”最明显的城市是 ()

A 昆明 B 西安 C 武汉 D 拉萨

2. 有关地壳的叙述,正确的是()

- A 地壳表层可能有较老的化石
- B 地质作用只影响地壳内部
- C 太古代和元古代形成的地壳较少
- D 地壳组成物质分布均匀

3. 衡量现代城市环境质量高低的重要标志是 ()

- A 经济发展水平的高低
- B 高层建筑的数量和质量
- C 城市绿地面积的多少
- D 城市卫生状况和文明程度

4. 泥石流、滑坡不会出现在()

- A 副热带高压带地区
- B 平原为主的广大地区
- C 森林茂密的山地
- D 极地地区

5. 有助于促进我国农产品市场开拓的最重要措施是()

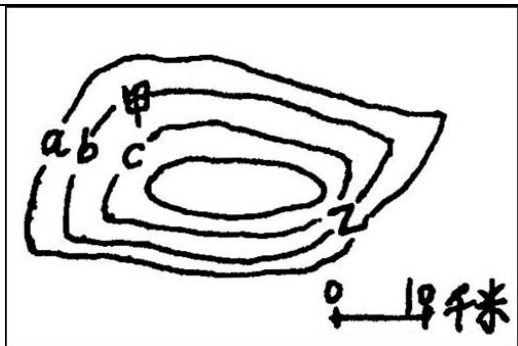
- A 进行农业区划
- B 加强水利建设
- C 建立商品农业生产基地
- D 退耕还林还草

6. 现代铁路建设中，影响铁路走向最重要的区位因素是()

- A 地形
- B 气候
- C 技术
- D 经济

读右边等值线示意图，分析回答 7-8 题。

7. 甲地与乙地相比，下列关系成立的是()

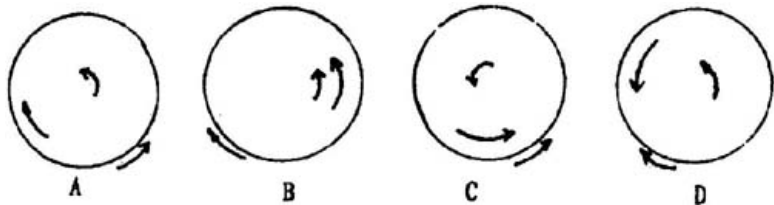


- A 气压: 甲<乙 B 气温: 甲>乙
 C 降水: 甲<乙 D 坡度: 甲<乙

8. 若此等值线为等温线, 且 $a < b < c$, 则等值线中心的地理事物不可能是()

- A 高大山岭 B 特大城市
 C 大型湖泊 D 低压中心

9. 各图中箭头从外向内依次表示: 地球自转方向、中低纬和中高纬海区的洋流流向, 正确的一幅是()



10. 西亚地区()

- A 所有国家的气候夏季都比冬季降水多
- B 非阿拉伯国家数目占比例少
- C 目前都是为了水资源而发生民族纷争
- D 是美国进口石油的唯一地区

11. 关于宁夏平原与河套平原的叙述，正确的是
()

- A 都分布于黄河上游地区
- B 都处于暖温带、干旱区
- C 都有丰富的煤炭、石油资源
- D 当地居民都信奉回教

12. 下列关于西欧工业区的叙述，正确的是()

- A 是目前世界最大的工业区
- B 属于“临海型”工业区
- C 是随北美工业区的形成而形成的工业区
- D 近代殖民扩张为该区工业发展提供了条件

13. 下列关于自然资源的叙述中，正确的是()

- A 太空资源都属于可再生资源
- B 海洋资源的数量是有限的
- C 地面资源是人类可直接从自然中获得的唯一的

资源

D 地下资源都属于非可再生资源

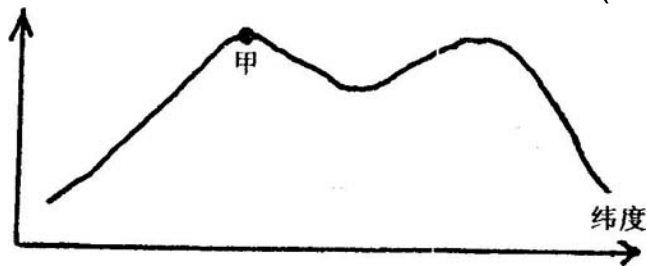
14. 下列国家中，以英裔为主体民族的是()

A 巴西、南非 B 澳大利亚、美国

C 墨西哥、加拿大 D 印度和阿根廷

右边是某地理要素随纬度变化情况示意图，分析回答 15-16 题

15. 若表示地面以下常温层的深度随纬度变化的曲线，则下列地区最有可能与甲点相符的是()



A 黄河三角洲 B 刚果盆地

C 爪哇岛 D 鄂毕河入海口

16. 若表示地球表面山地雪线高度随纬度变化曲线，则甲点所在地区陆地水平自然带的名称是()

A 热带雨林带 B 热带荒漠带

C 温带落叶阔叶林带 D 亚寒带针叶林带

17. 北半球某城市距离赤道 1887 千米，当这个城

市的正午太阳高度达一年中最低值时，北半球中纬度数与正午太阳高度数相同的地方是()

- A $23^{\circ}26' N$ B $33^{\circ}17' N$
 C $45^{\circ} N$ D $56^{\circ}43' N$

读某地对流层气温垂直分布状况图，完成 18~19 小题:



18. 该地可能是()
- A 长白山地 B 华北平原
 C 四川盆地 D 青藏高原

19. 如果该气象是由于地面辐射引起的，那么该现象消失的时间将是()

- A 日落后 B 日出后
 C 日出前 D 日落前一二小时

20. 挪威、瑞典等国家酸雨污染严重，形成这些

国家酸雨的污染物主要来源于()

- A 南欧 B 西欧 C 中欧 D 东欧

(二)双项选择题: 本题共 10 小题, 每小题 3 分, 共 30 分, 在每小题给出的四个选项中, 有两项是符合题目要求的, 每小题全对者得 3 分, 只选一项, 且选对者得 1 分, 其余情况均不得分。

21. 澳大利亚与印度的相似之处是()

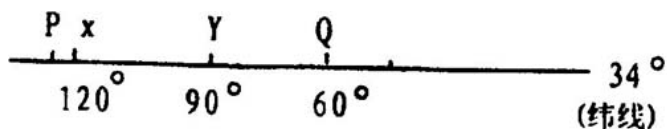
- A 经济发展严重依赖对外贸易
B 回归线穿过本土, 终年气候深受副热带高压带影响
C 英语作为官方语言
D 都是铁矿净出口国

22. 有关地形、气候和河流等自然地理条件与城市区位的叙述, 不正确的是()

- A 平原地区是城市发育的理想环境
B 我国百万人以上的大城市多位于降水量小于 400 毫米的地区
C 河流发源地和人海口位置, 都对建立城市非常有利
D 我国的大部分城市都是沿江河湖海发育壮大起

来的

下图为世界地图上的一段纬线，P点以西为海洋，Q点以东为海洋，PQ为陆地，读图判断 23—26 题。



23. 下列说法正确的有()

- A PQ段所在的陆地雏形基本上是元古代形成的
- B X地区附近的地形基本上是中生代形成的
- C PQ段所在的陆地可能找到古生代化石
- D Y地附近地区是该国水能最丰富的地区

24. 下列地区与气候配置正确的有()

- A X——热带草原气候
- B X——地中海气候
- C Y——亚热带季风性湿润气候
- D Q——温带大陆性气候

25. 下列有关该图反映的国家的工农业及城市的叙述，正确的有()

- A 该国最大城市不属于该国首都，但属于世界人

口最多的城市

B X地所在的著名城市有“硅谷”之称

C x 地所在的著名城市曾发生过世界著名的公害事件

D Y附近地区为该国著名的某种植业区位

26. 该纬线穿过的国家有()

A 阿根廷 B 阿富汗 C 伊拉克 D 智利

27. 青藏高原的农田、村镇、城市主要分布在()

A 藏北高原和昆仑山南麓

B “三江源”和雅鲁藏布江大拐弯地区

C 雅鲁藏布江谷地

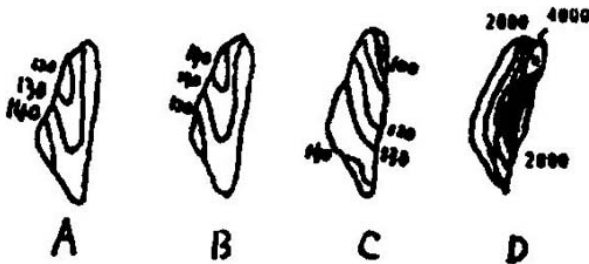
D 湟水地和黄河谷地

28. APEC 是世界上唯一有“世界三巨头”参加的国际性地区组织。下列国家中，属于“世界三巨头”的是()

A 德国 B 美国 C 英国 D 中国

台湾回归祖，实现祖国的和平统一是海峡两岸人民的共同愿望。请根据常握的台湾有关知识回答 29—30 题。

29. 下图中能正确反映台湾年太阳总辐射量(单位 $4185\text{J}/\text{cm}^2$) 和降水量(单位:毫米)的分别是图中的()



30. 下列有关台湾的叙述, 正确的是()

- A 北回归线穿过台湾海峡中的钓鱼岛
- B 大多数工业城市分布在太平洋的沿岸
- C 当前重点发展出口加工工业, 形成“进口——加工——出口”型经济
- D 居民中人口最多的民族是汉族, 他们的祖先大部分是从广东、福建迁去的。

第 卷(选择题, 共 80 分)

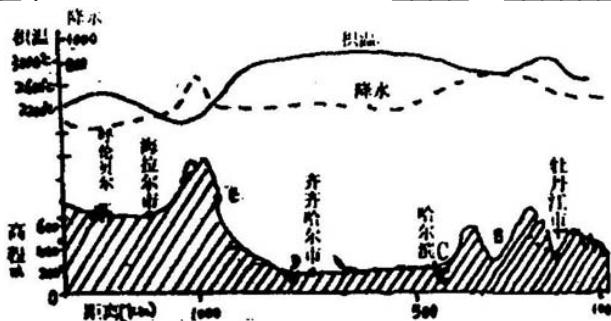
31. 读某地地形剖面对应的积温、降水量图, 回答:(12分)

(1) 图中 B 为____江, D 为____江, D、C 所在的地形区名称为_____。

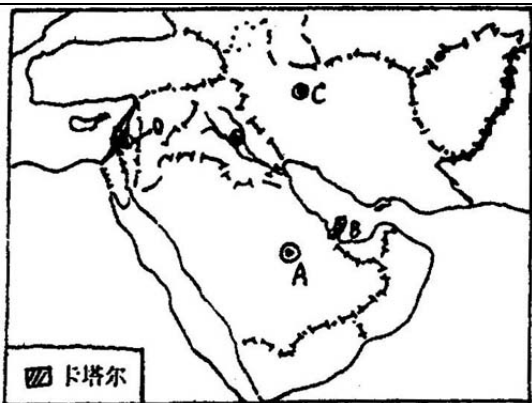
(2) 一年中 C、D 地的雨季出现在____月至____月，C、E 两地相比，降水量____比____多，原因是_____。

(3) 积温 E 比 C____，原因是____。图示地区积温范围在____~____，分布规律是_____。

(4) 该地区发展农来的有利条件是____，不利因素为____，宜种植的经济作物有____和____等。



32. 读西亚地图，完成下列问题(9分)



(1) 写出图中字母代表的首都名称
A _____ B _____ C _____ D _____

(2) 二战前，西亚地区人口数目少，密度小的原因是_____。

(3) 二战后，尤其是 70 年代以来，西亚地区人口有何变化?_____原因是_____。

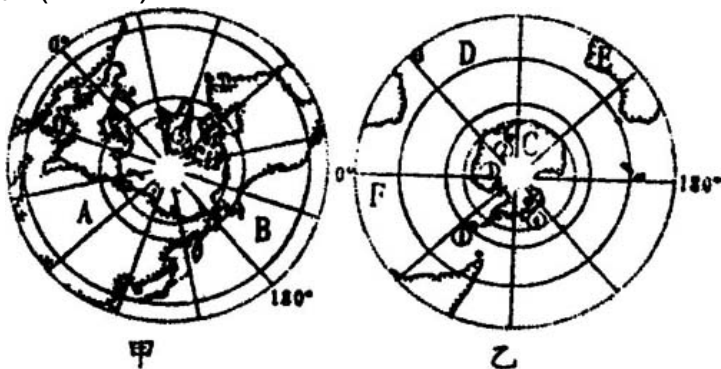
(4) 以色列气候具有_____的特点，因而该国发展了具有世界特色的_____型农业，使其成为欧洲及其附近许多国家的菜园，可见农业发展过程增加_____投入，对_____进行改造的重要性但进行改造时要注意_____。

33. 材料一: 2001 年 10 月 31 日中国第一个北极科学探险考察站的站址确定在挪威斯瓦尔巴群岛首府朗

伊尔城

材料二: 2001 年 11 月 15 日上午我国第 18 次南极科学考察队乘“雪龙”号科学考察船, 从上海浦东新华港码头扬帆启程。

根据以上两则材料, 联系所学知识回答下列有关问题。(11 分)



(1) 两幅极地地图中, 表示北极地区是 _____。

(2) 在北极地区建立科学探险考察站的目的主要是: ()

A 我国与西欧进行经济合作的需要。

B 我国加入“WTO”的需要。

C 考察该地区气候、环境、资源、生物等方面的

需要。

D 发展我国旅游业的需要。

E 开发淡水资源的需要。

(3) 全球淡水资源最丰富的地区为甲、乙两图中的____图所示的地区，____，南极代表性动物为____，两图所示地区动物种业____(多或少)，原因是____，动物具有____的生长特性。

(4) 写出图中字母所代表的大洲和大洋名称

A____ B____ C____ D____ E____ F____

(5) 图中所示的序号中属于世界最大的岛屿的是____。(填数字)

34. 甲、乙两图分别为英国和美国工业分布示意图，读图回答:(8分)

(1) 在图中工业区中用“ A ”和“ B ”分别在图中适当位置标出甲、乙两图最大的工业区。

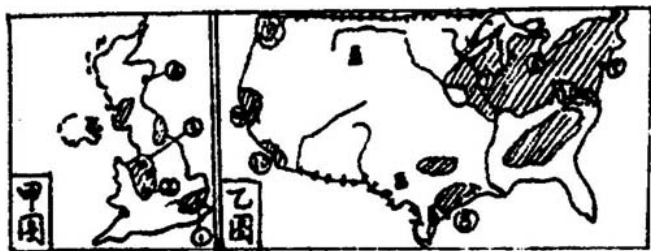
(2) 甲图中国家的石油工业基地 的名称是____，它是随着____油田的开发而形成；

乙图中国家最大的石油加工和石油化学工业中心是____(填写数字代表)。

(3) 乙图中国家著名的硅谷位于图中____(填写数

字代号) 城市附近甲图中被称为该国的“硅谷”集中在____(填写地点)中部一些城市。

(4) 甲图中钢铁工业中心 的名称是____, 在乙图 中, 属于钢铁工业中心的是____, 它与 在工业布局类型中属于____型, 按投入因素比重大小分类属于____工业, 该种工业于____(时期)开始衰落原因是_____。



● 城市、工业中心 ◐ 工业区

35. 下面甲、乙两图为我国珠江三角洲和长江三角洲位置图, 读图回答: (10分)



(1) 两图所处的工业基地特点及原因

	主要特点	主要原因
珠江三角洲 轻工业基地		
沪宁杭 工业基地		

(2) 目前，国家为了满足这个地区能源的需要，“十五”计划中的四大工程“西电东送”工程中，南通道输送到甲图地区的是来自____，中通道输送到乙图地区的是来自____。

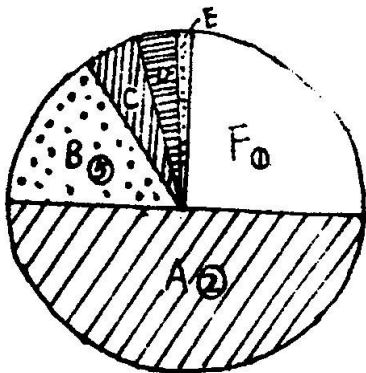
36. 读国际贸易额(出口值)六大洲所点比重扇形图(其中图中 代表人口最多的洲， 为人口第二洲， 为位于北半球和西半球的大洲)，回答下列问题(10分)

(1) 图中 A 所示的洲为____洲，目前该洲最大的贸易国是____，该洲最大的贸易集团是____，该集团理事会秘书处设在____国家的____(城市)

(2) 图中 F 所示的大洲是____，该洲外贸贸易额最大的国家是____，其次是____国。

(3) 图中 B 所示的大洲是____洲，目前核洲贸易额最大的为____，该国 2001 年秋季以来出现了

经济上的严重衰退，主要原因是_____。



37. 把图中的英文字母填入下面表格中(每个空格限填一个字母，每个字母限填一次，使城市用地的功能分区合理化)(7分)

出口加工工业区	
海滨度假村	
集装箱港口	
污水处理厂	
花卉种植场	
乳牛场	
氮肥厂	