

九年义务教育三年制、四年制初级中学

地理综合能力训练

第二册

(供一年级下学期用)

本书编写组 编

山东人民出版社

《九年义务教育初级中学各科
综合能力训练》编委会

主 任 桑爱民 阚兆成

副 主 任 孙兆汶

编 委 (按姓氏笔画排序)

齐玉和 孙兆汶 朱增兴 刘德荣

苏延欣 辛宝琦 赵水祥 桑爱民

董茂寅 阚兆成

本册主编 苏延欣 章传平

本册撰稿 李 燕 张圣君 苏延欣 夏昕宇

章传平

出版说明

根据上级教育部门的有关文件精神 and 目前初中素质教育的新形势,我们组织具有超前教改意识和丰富教学经验及命题经验的教研员和一线教师编写了这套《九年义务教育三年制、四年制初级中学各科综合能力训练》,包括语文、数学、英语、物理、化学、历史、地理、生物、政治共九科,供广大初中师生选用。

这套《训练》以最新的教学大纲和教材为依据,以培养学生的综合能力为宗旨,按照科学、精要、实用的原则,从课内到课外,从基础知识到创新、实践能力,力求对学生进行全方位的指导与训练。为此,各科的每课或章节均包括“基础知识梳理”、“重点难点点拨”、“综合能力训练”等几部分。同时,还设计了单元综合能力测试和期末综合能力测试等。该书具有理念新、范围广、综合性强、题型活、信息量大等特点,针对性和实用性都比较强。书中不足之处,欢迎广大师生批评指正。



目 录

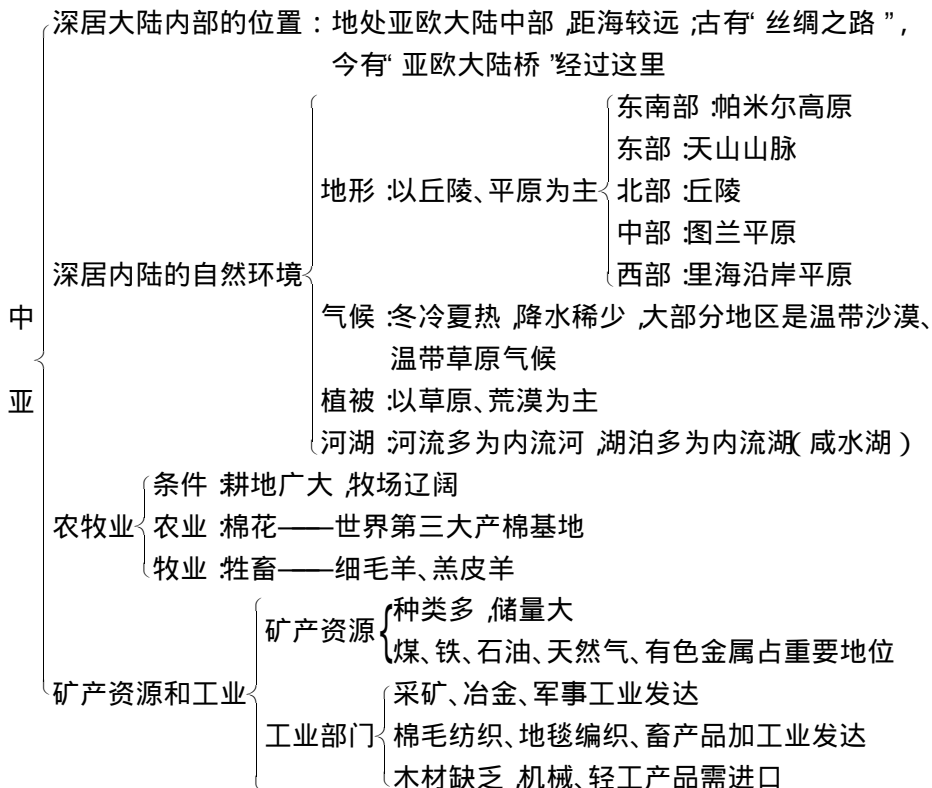
第十一章	中亚	(1)
第1节	概述	(1)
第十二章	西亚和北非	(4)
第1节	地理位置和自然环境	(4)
第2节	居民和经济	(7)
第3节	巴勒斯坦和以色列	(10)
第5节	埃及	(11)
第十三章	撒哈拉以南的非洲	(14)
第1节	自然环境	(14)
第2节	居民和经济	(17)
第3节	南非	(19)
单元综合能力测试(一)		(21)
第十四章	欧洲西部	(26)
第1节	自然环境	(26)
第2节	国家和居民	(28)
第3节	英国	(31)
第4节	法国	(33)
第5节	德国	(35)
第十五章	欧洲东部和北亚	(38)
单元综合能力测试(二)		(42)
第十六章	北美	(47)
第1节	概述	(47)
第2节	美国	(51)
第十七章	拉丁美洲	(56)

第1节 政区和自然环境	(56)
第2节 居民和经济	(60)
第3节 巴西	(63)
单元综合能力测试(三)	(66)
第十八章 大洋洲	(71)
第1节 概述	(71)
第2节 澳大利亚	(73)
第十九章 南极洲	(76)
第二十章 人类共同生活在一个地球上	(79)
单元综合能力测试(四)	(82)
期末综合能力测试	(86)
参考答案	(91)

(选学课文从略)

第十一章 中 亚

第 1 节 概 述



中亚位于亚欧大陆中部，这样深居内陆的地理位置对形成中亚地区自然方面、经济方面一系列独特的地理特征产生了重大的影响。例如，气候、水文、植被、土壤，以致于农业、牧业等等，无一不受其内陆位置直接的或间接的影响。因此，本节的重点是“深居内陆的自然环境”和“居民和经济”两个方面。由于深居内陆，距海较远，海洋上的水汽难以到达，造成中亚降水稀少，大部分为干旱、半干旱气候，植被为草原和荒漠，河流多为内流河，湖泊多为内流湖，形成了独特的内陆环境。居民部分应突出两个“多”，即“多民族，多信奉伊斯兰教”。经济部分的重点应放在灌溉农业和牧业部分及在此基础上发展起来的棉毛纺织工业；同时也应注意中亚矿产丰富及在此基础上发展起来的采矿、冶金、军事工业。本

节的难点是中亚地区人类活动与自然环境的关系。人类活动必须尊重地理事物动态发展的规律,若违背了自然规律,人类必将受到自然的惩罚,这一点从咸海水面和面积的缩小及周围生态环境的恶化得到证实,并提醒人们从中吸取经验教训。

一、填空

1. 与我国有共同边界的中亚国家是_____、_____和塔吉克斯坦。
2. 中亚具有重要的交通、战略地位。古代连接东西方的著名的“_____”经过这里,现在,从中国太平洋沿岸经过中亚直到欧洲大西洋沿岸的铁路被称为“_____”。
3. 中亚的植被以_____、荒漠为主,西南部的大沙漠之一。

二、选择

1. 中亚主要的外流河是()
A. 锡尔河 B. 阿姆河 C. 乌拉尔河 D. 额尔齐斯河
2. 中亚以什么地形为主()
A. 高原、山地 B. 丘陵、平原 C. 山地、丘陵 D. 高原、平原
3. 中亚地区农业发展的最主要制约因素是()
A. 光照 B. 地形 C. 水源 D. 热量
4. 中亚地区需要进口的工业品是()
A. 轻工业产品 B. 地毯编织品 C. 冶金工业产品 D. 军事工业产品

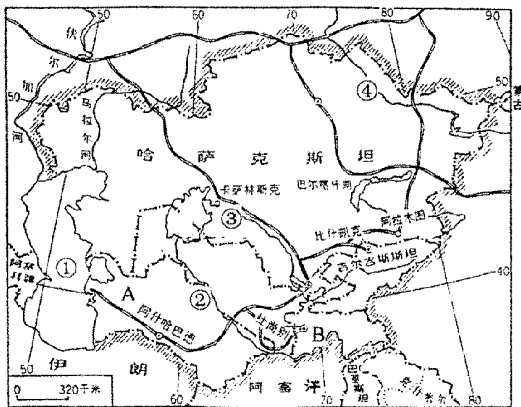
三、读图分析

读“中亚各国政区图”,回答问题:

(1)①_____海,它是世界最大的_____。

(2)②_____河,③_____河,它们都流入_____海;④_____河,它是一条_____河(内流河或外流河)。

(3)图中A国名为_____,B国名为_____。



中亚各国政区图

四、材料解析

1. 阅读“咸海的昨天、今天和明天”一文,回答问题:

昔日的咸海烟波浩渺,60年代以前面积达6.65万平方千米,曾是世界第四大湖,重要的渔产基地。

今天的咸海却是危机四起,水面逐渐缩小,已有3万多平方千米的湖底干涸成了盐土



沙漠,沿湖地区气候恶化,夏季更热,冬季更冷,风力加大,干燥加剧;湖水中盐的浓度升高,化肥、农药导致了严重的湖水污染,多种鱼类绝迹;湖区周围生态环境恶化,200万公顷农田被沙尘掩埋,大片牧场退化;当地人患红眼病、呼吸系统疾病的比例上升,癌症发病率增长了4倍……当地人民面临着严重的生存危机。

将来的咸海……

(1)材料中所说的咸海水面的缩小主要是由于_____。

(2)咸海及其周围地区环境的恶化造成了哪几方面的危害?

(3)请续写(不超过80个字)将来的咸海_____。

2. 阅读以下时事报道,回答问题:

在2001年6月15日举行的“上海合作组织”成员国元首会议上,中国、俄罗斯、哈萨克斯坦、吉尔吉斯斯坦、塔吉克斯坦、乌兹别克斯坦六国元首发表讲话。他们回顾并高度评价了元首会晤机制五年来的丰硕成果,会后他们共同签署了《上海合作组织成立宣言》和《打击恐怖主义、分裂主义和极端主义上海公约》。

(1)材料中“上海合作组织”六个成员国中,除_____、_____两国以外,其余四国均属中亚国家,其中_____与中国没有共同边界。

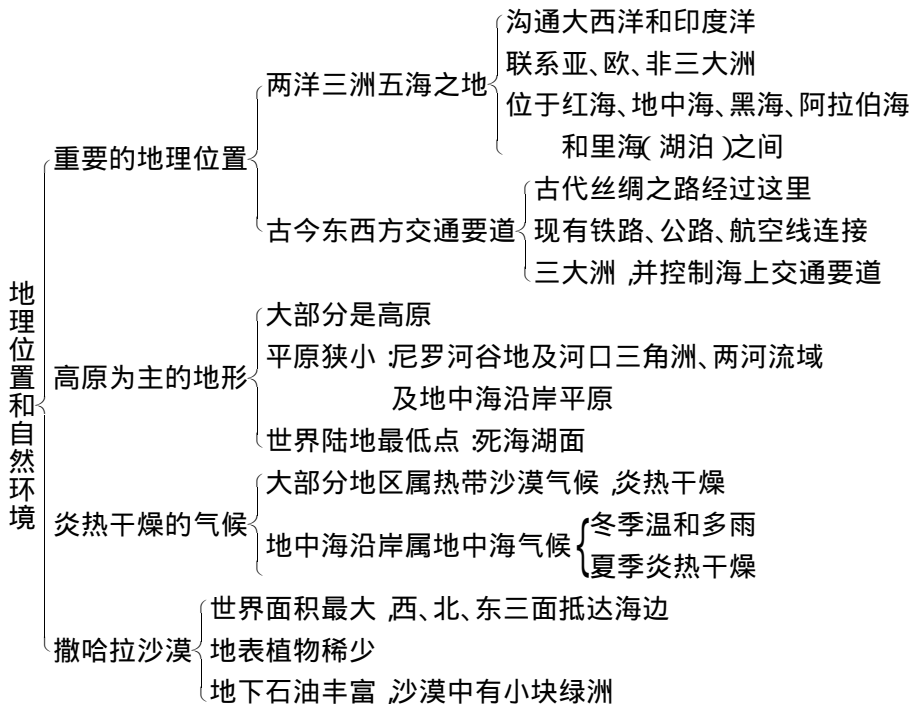
(2)上述国家中因盛产棉花而被称为“白金之国”的是_____,在中亚各国中面积最大的是_____。

五、简答

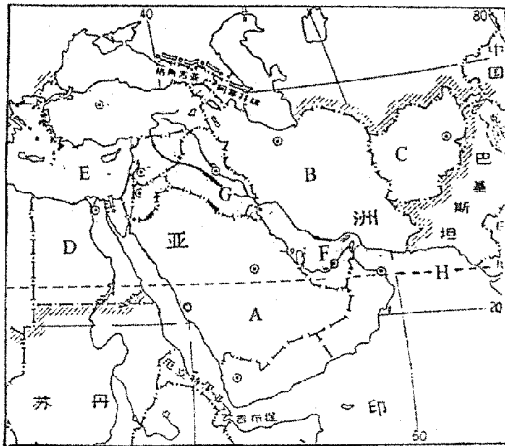
中亚的小麦、棉花、水稻种植业多沿河分布,这与当地自然条件有什么关系?

第十二章 西亚和北非

第 1 节 地理位置和自然环境



西亚、北非由于(1)共处于两洋、三洲、五海之间的交通要冲。(2)都是干旱、半干旱的自然环境。(3)传统的农牧业生产方式十分相似。(4)世界上重要的石油产区。(5)居民绝大部分信奉伊斯兰教,以阿拉伯人为主,语言、风俗习惯相同或相似等原因,合为一个区。本节的重点是关于本区在交通方面的重要地位,教材从古代的“丝绸之路”引入,着重探讨了现代交通的内容,有重点地附了“苏伊士运河”和“土耳其海峡”的图,通过读图认识本区联系两洋、三洲的枢纽地位。地形部分重点应该通过西亚北非地形图,来了解地形分布大势及各地形类型的分布。同时还应学会判读气温曲线图和降水柱状图,以识别热带沙漠气候和地中海气候。



西亚北非部分地区图

四、材料解析

阅读以下材料并回答问题：

“9.11”恐怖袭击事件后，美军终于按捺不住满腔怒火，于北京时间2001年10月8日凌晨0点27分向阿富汗塔利班及本·拉登恐怖组织射出了复仇之箭，开始对阿富汗境内的军事目标实施空袭……

1. 材料中提到的阿富汗是内陆国还是沿海国？其气候是湿润还是干燥？

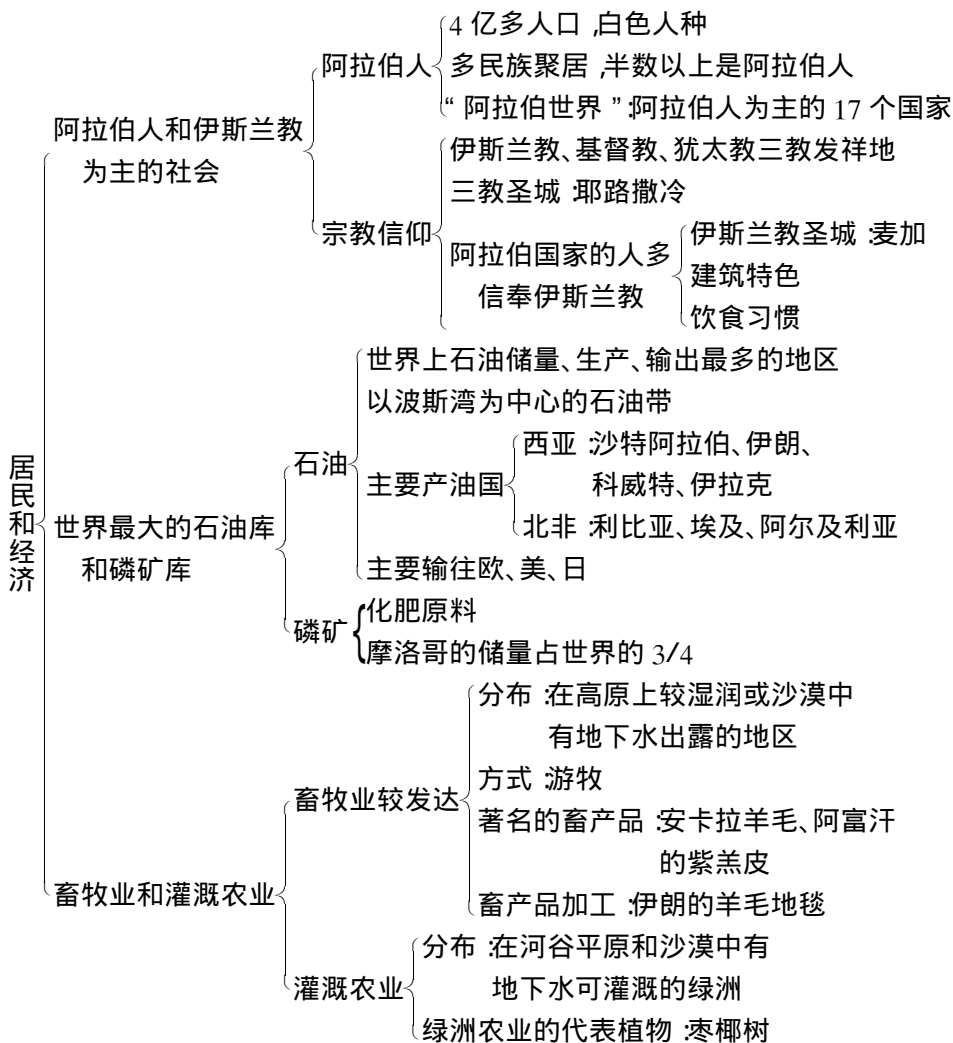
2. 本·拉登原为沙特阿拉伯富翁，沙特阿拉伯位于_____半岛上，该半岛的地形以_____为主。

五、简答

1. 西亚北非在地形、气候两方面有什么共同点？

2. 撒哈拉沙漠真的是一片完全不毛之地，没有开发利用的价值吗？

第 2 节 居民和经济



本节主要说明两方面的情况:一是资源和经济发展,其中石油资源及其在世界的地位是重点。二是西亚北非地区的民族和居民的宗教信仰,其中“阿拉伯世界”是重点。对石油资源的理解,侧重在以下几个方面(1)石油的分布地区和主要产油国家(2)本区石油特点(储量大、埋藏浅、出油多、油质好)。(3)本区石油输出量大的原因(人口少、工业不发达、本区消费少)。(4)本区石油外销的主要国家和地区,以及石油输出路线。(5)石油输出国的经济收入及其前景。关于“畜牧业和灌溉农业”部分知识,着重理解本区人民如何

在当地干旱和半干旱条件下利用水资源及地中海气候资源,发展畜牧业和畜产品加工业(如地毯),以及灌溉农业、园艺业等情况。

一、填空

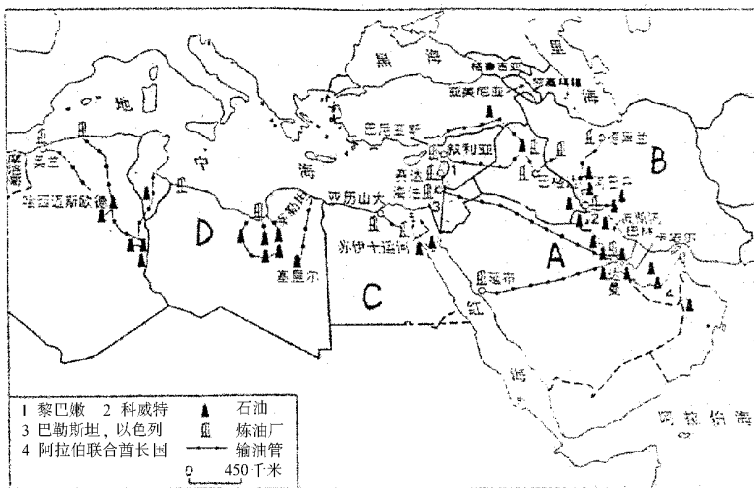
1. 西亚和北非的居民主要为_____人种,半数以上的居民是_____人。
2. 沙特阿拉伯的_____城,是_____教创始人穆罕默德的诞生地。
3. 西亚的石油储量约占世界总储量的_____,产量约占世界总产量的_____。
4. 西亚和北非著名的畜产品有土耳其的_____和阿富汗的_____。

二、选择

1. 以下宗教发祥地不在西亚和北非的是()
 - A. 基督教
 - B. 佛教
 - C. 犹太教
 - D. 伊斯兰教
2. 关于西亚、北非的石油的特点叙述错误的是()
 - A. 储量大
 - B. 油质好
 - C. 埋藏深
 - D. 出油多
3. 受气候条件的影响,西亚和北非的农业多分布在()
 - A. 地中海沿岸
 - B. 波斯湾沿岸
 - C. 河谷平原和绿洲上
 - D. 撒哈拉沙漠
4. 有关西亚和北非社会经济状况的正确叙述是()
 - A. 畜牧业比较发达
 - B. 本区各国都是石油出口国
 - C. 本区各国都有丰富的磷矿资源
 - D. 本区各国居民都信奉伊斯兰教

三、读图分析

读下图,回答:



西亚和北非的石油产区

(1)图中的石油生产国 A 是_____, B 是_____, C 是_____, D 是_____。



(2) A 国所产的石油,可以用油管输送到_____海或_____海沿岸再装上油轮运出;也可以在_____湾直接装上油轮,经过非洲南端或经红海,_____运河、地中海运往西欧北美。

四、材料解析

1. 阅读材料一,分析回答:

材料一:1965~1982年间,印度经济增长了3.8倍,日本增长了12.7倍,利比亚增长了20倍,沙特阿拉伯增长了66.5倍。

(1) 1965~1982年间,材料中提到的四国经济增长速度最快的是_____和_____。

(2) 上述两国这一时期经济快速增长的主要原因是_____。

(3) 两国目前人均收入水平比较_____,但是也必须考虑一个什么问题?_____。

2. 阅读材料二,分析回答:

材料二:枣椰树被誉为“绿色的金子”,伊拉克有枣椰树3300多万株,是世界上枣椰树最多的国家。这种树全身都是宝,其果实营养价值高,可制成各种食品,树干可做压缩木、饲料植物蛋白、酿酒的原料,树叶、枣核可用来造纸。每年9月15日为“阿拉伯枣椰节”。

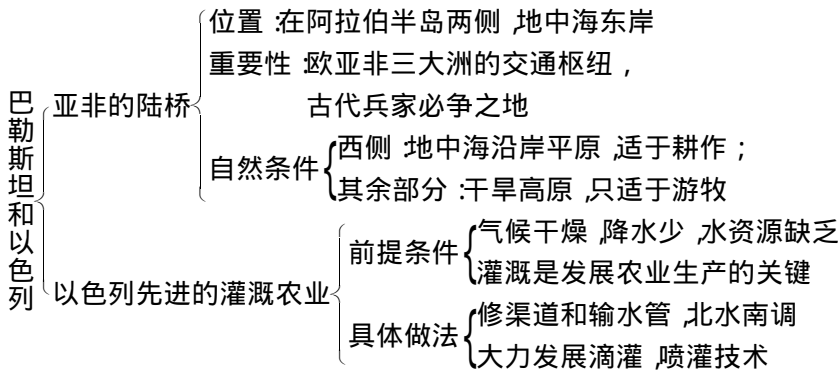
(1) 枣椰树是_____农业的代表植物,其果实叫_____,是当地人民的主要食物。

(2) 世界上枣椰树最多的国家是_____,该国最重要的自然资源的经济收入来源是_____。

五、简答

西亚和北非有哪些主要的产油国?所产原油主要输往哪里?

第 3 节 巴勒斯坦和以色列



本节主要包括两大部分内容: 亚非的陆桥和以色列先进的灌溉农业。其中“位置的重要性”和“以色列发展灌溉农业的具体做法”是本节的重点。巴勒斯坦和以色列位于阿拉伯半岛西侧, 地中海东岸, 处在欧亚非三大洲的交通枢纽地位, 是兵家必争之地, 战略地位非常重要。本地区由于气候干燥, 降水稀少, 水资源缺乏, 因此灌溉是发展农业生产的关键, 以色列发展灌溉农业的具体做法是: 修渠道和输水管道; 北水南调; 大力发展滴灌、喷灌技术等, 在荒漠上发展了灌溉农业。

一、填空

1. 巴勒斯坦地区位于_____半岛西侧, _____海东岸, 是亚非欧三大洲的交通枢纽。

2. 巴勒斯坦地区西侧地中海沿岸的地形是_____适于耕作, 其余部分是_____, 只适于游牧。

二、读图分析

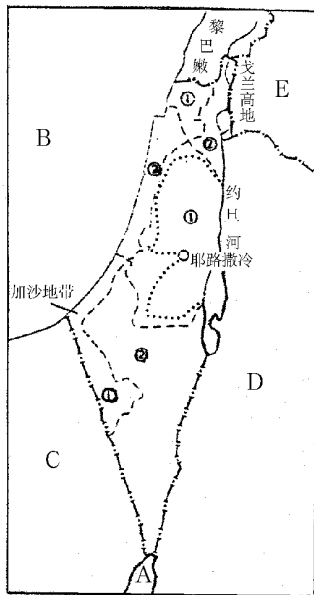
读右图, 回答问题:

(1) 图中用数字①和②标注的六块土地, 1947年联合国决议划给“阿拉伯国”的标注为_____, 划给“犹太国”的标注为_____。

(2) 图中 A 是_____海, B 是_____海。

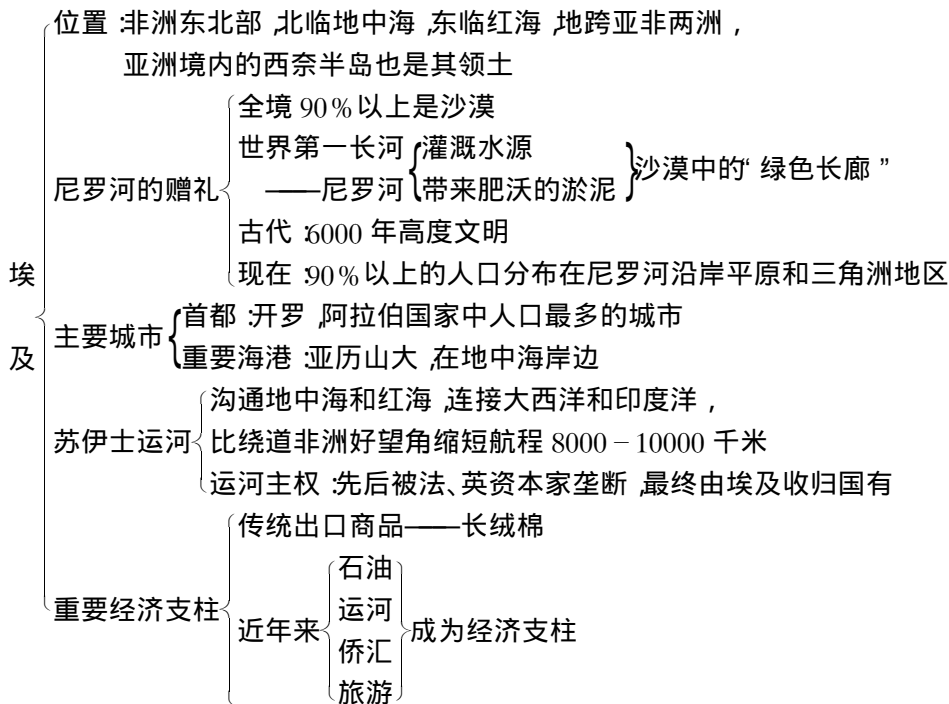
(3) 图中国家 C 是_____, D 是_____, E 是_____。

三、简答



以色列是如何利用水资源发展农业的,这对我国有什么借鉴意义?

第 5 节 埃 及



埃及是北非人口最多,历史最悠久,经济、交通地位最重要,国际影响最大的国家。本节的内容是前两节概述部分的具体反映,这两部分之间的具体联系如下:

概 述

埃 及

两洋、三洲、五海之地——地跨非、亚两洲,沟通红海和地中海。

热带沙漠气候——90% 以上是沙漠。

灌溉农业——尼罗河对埃及农业的影响。

石油宝库——石油是埃及经济支柱之一。

沙漠旅游业——旅游业也是埃及经济支柱之一。

阿拉伯人、伊斯兰教为主——阿拉伯人、伊斯兰教。

本节的重点是“尼罗河对埃及古代文明和现代经济(尤其是农业)的影响”;“苏伊士运河的航运价值”;“传统的出口商品(长绒棉)和现代经济支柱”。其中长绒棉的生长条件比较抽象,是本节的难点之一,应重点掌握。

一、填空

- 埃及位于非洲_____部,亚洲境内的_____半岛也是其领土。
- 埃及全境90%以上是_____耕地、人口、城市主要集中在狭长的_____沿岸平原及河口三角洲地区。
- 尼罗河是世界第_____长河,发源于非洲东部高原,向北流入_____海。

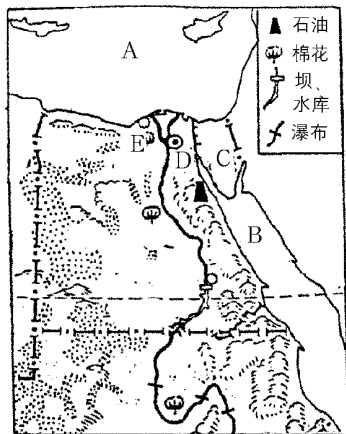
二、选择

- 阿拉伯国家中人口最多的城市是()
A. 麦加 B. 开罗 C. 巴格达 D. 利雅得
- 关于苏伊士运河的正确叙述是()
A. 英国资本家最先取得运河开凿权 B. 运河主权至今被法国垄断
C. 苏伊士运河已被埃及收归国有 D. 苏伊士运河沟通了红海和波斯湾
- 关于尼罗河的正确叙述是()
A. 世界上流量最大的河流
B. 每年6月至10月定期泛滥
C. 河水泛滥造成肥沃泥土大量流失
D. 为躲避河水泛滥,埃及人口、城市都远离尼罗河分布。
- 关于埃及经济的正确叙述是()
A. 过去埃及经济以农业为主
B. 现在埃及最主要的收入是出口长绒棉
C. 埃及石油缺乏,需要进口
D. 由于沙漠广阔,埃及旅游业很不发达

三、读图分析

读“埃及图”,回答:

- 图中A是_____海,B是_____海
- 图中虚线代表的纬线是_____线,C是_____半岛
- 图中城市D是_____,E是_____,该国人口、城市的分布有什么特点?_____。



四、材料解析

阅读以下两段材料,并回答问题:

材料一 苏伊士运河于1859~1869年凿成通航,长173千米,宽365米,深16.16米,后经过挖深整治深度达到了22米。每天通过航只100