

书 名 湖南教育版课程标准实验教科书
单元自测·地理(八年级上册)

编 者 鲁青 陈杰 韩强 冷立杰 王丽

出版发行 青岛出版社

社 址 青岛市徐州路 77 号(266071)

本社网址 <http://www.qdpub.com>

邮购电话 (0532)5814750 5814611-8662 传真 (0532)5814750

责任编辑 吴清波

装帧设计 张小玉

排 版 青岛新华出版照排公司

印 刷

出版日期 2003 年 8 月第 2 版 2003 年 8 月第 2 次印刷

开 本 16 开(787mm×1092mm)

印 张 6.25

字 数 80 千

书 号 ISBN 7-5436-0319-5/G·211

定 价 6.70 元

盗版举报电话 (0532)5814926

(青岛版图书售出后如发现倒装、错装、字迹模糊、缺页、散页等质量问题,请寄回承印厂调换。)

目 录

第一章 中国的疆域与人口	(1)
第一节 中国的疆域	(1)
第二节 中国的行政区划	(5)
第三节 中国的人口	(9)
第四节 中国的民族	(12)
单元测试题(一)	(17)
第二章 中国的自然环境	(19)
第一节 中国的地形	(19)
第二节 中国的气候	(24)
第三节 中国的河流	(29)
单元测试题(二)	(33)
第三章 中国的自然资源	(36)
第一节 自然资源的概况	(36)
第二节 中国的土地资源	(39)
第三节 中国的水资源	(43)
第四节 中国的海洋资源	(47)
单元测试题(三)	(50)
第四章 中国的区域差异	(53)
第一节 秦岭—淮河线	(53)

第二节 北方地区和南方地区	(56)
第三节 青藏地区和西北地区	(60)
单元测试题(四)	(64)
综合检测题(一)	(66)
综合检测题(二)	(73)
综合检测题(三)	(79)
参考答案	(87)

第一章 中国的疆域与人口

第一节 中国的疆域

学习建议

我们伟大的祖国,地域辽阔,自然差异明显。要学好中国地理,首先必须要了解中国的疆域,因为疆域是一个国家的空间所在,是各种地理环境特点形成的前提条件。

本节课的重点是让同学们记住我国的领土面积,掌握我国的地理位置的特点,并进一步学会评价国家地理位置的方法。

我国的地理位置可从半球位置、大洲大洋位置、经纬度位置和海陆位置四个方面来说明,并且都需要落实在地图和地球仪上。

通过“中国在世界上的位置图”的分析,我们可以看出:

我国是一个位于北半球和东半球的国家(半球位置);我国位于亚洲的东部和太平洋的西岸(海陆位置);与蒙古、日本对比可以看出,我国是一个海陆兼备的临海国,同时又是地跨热带与北温带,而没有寒带(纬度位置)的国家。

我国地理位置的特点主要体现在纬度位置和海陆位置两方面,从一定意义上说,正是海陆位置和纬度位置的特点,反映了我国地理位置的优越性。

我国既是个陆地大国,又是个海洋大国。这一点同学们完全可以通过阅读分析“中国的疆域”的图文资料,从陆疆或海岸线的长度、邻国或隔海相望的国家数、管辖的面积(领土、海域)以及经纬度的跨度或临海数总结出。独特的地理位置对我国造成的影响明显,例如南北纬度的巨大差异,使我国有多种多样的气候类型,为发展多种经济提供了有利的条件;东部濒临广阔的海洋,不仅使我国东部地区受到海洋水汽的影响,同时也便利了发展海运、发展海水养殖等;领土西部深入亚欧大陆内部,便于与众多的邻国发展边境贸易。

能力自测(A)

一、填空题



1. 我国陆地面积达_____万平方千米,仅次于____、____两国,居世界第____位。
2. 从海陆位置来看,我国位于世界最大的大陆_____大陆的____部、_____洋的西岸。
3. 从半球位置来看,我国位于____(南、北)半球和____(东、西)半球。
4. 我国的内海除_____半岛和_____半岛所环抱的渤海外,还有_____半岛和



二、选择题

1. “北京时间”是指哪个时区的区时:()。
A. 东五区 B. 东九区 C. 东八区 D. 东六区
2. 我国的领海,是指从海岸基线向海上延伸到()。
A. 25 海里的海域 B. 12 海里的海域
C. 100 海里的海域 D. 200 海里的海域
3. 辽东半岛东侧的海域是()。
A. 东海 B. 南海 C. 黄海 D. 渤海
4. 就海陆分布而言,我国属于()。
A. 内陆国 B. 半岛国家 C. 临海国 D. 岛国

能力自测(B)



一、选择题

1. 下列国家中,与我国隔黄海相望的是()。
A. 文莱 B. 日本 C. 马来西亚 D. 菲律宾
2. 与我国陆地面积差不多相等的大洲是()。
A. 欧洲 B. 南极洲 C. 非洲 D. 拉丁美洲
3. 以下不属于我国陆上邻国的是()。
A. 蒙古、朝鲜 B. 俄罗斯、阿富汗 C. 缅甸、老挝 D. 柬埔寨、泰国
4. 与我国相邻的内陆国有()。
A. 三个 B. 五个 C. 九个 D. 六个
5. 下列关于我国疆域的叙述,正确的是()。
A. 领土大部分在温带,小部分在热带和寒带
B. 领土跨 60 多个经度,占八个时区
C. 我国管辖的海域面积约 200 万平方千米
D. 位置优越、疆域广阔,为我国经济发展提供了有利的条件。
6. 下列关于我国海洋的叙述,正确的是()。
A. 沿海分布着 500 多个大小岛屿
B. 台湾岛西濒太平洋,东临东海
C. 大陆海岸线 18000 多千米,良港众多
D. 渤海、黄海、东海、南海都属于内海

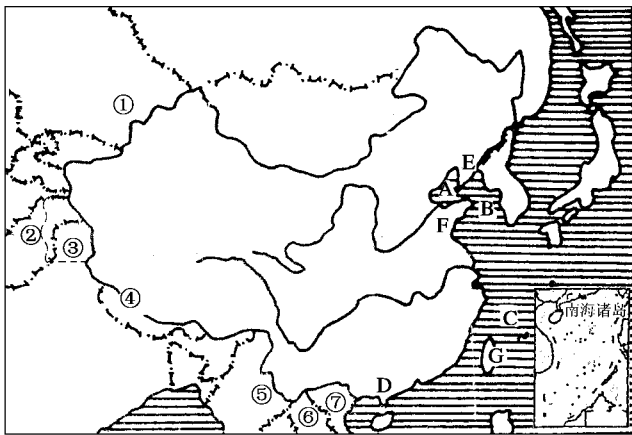


二、列举题

我国幅员辽阔，疆域广大，既临海又靠陆，请你列举我国既是一个陆地大国，又是一个海洋大国的依据。



三、读图题



1. 图中数字所代表的国家分别是：

① _____, ② _____, ③ _____, ④ _____, ⑤ _____, ⑥ _____, ⑦ _____。

2. 图中字母所代表的海洋：A 是 _____, B 是 _____, C 是 _____; 半岛和岛屿：D 是 _____, E 是 _____, F 是 _____, G 是 _____ 岛。



四、连线题

把我国领土的四端与其相应地点用直线连接起来：

- A 最北端 ①新疆帕米尔高原
B 最南端 ②曾母暗沙
C 最东端 ③漠河以北黑龙江主航道中心线
D 最西端 ④黑龙江与乌苏里江主航道中心线的相交处

知识拓宽

中国的北极村

漠河县的漠河村是中国最北端的一个小山村,由于偏远和严寒,素有“中国北极村”之称。冬季北极村的气温可低至零下 40°C 。矗立在黑龙江畔的“北极村”白色大理石碑,就是中国最北疆土的标志。北极村位于大兴安岭七星山、元宝山脚下,东西南三面环绕着苍茫而连绵的青山,北临黑龙江,对面就是俄罗斯。北极村设有哨卡,立有“神州北极”石碑。北极村胜景是夏天的“白夜”和冬天的“黑昼”。每年夏季,漠河的白天便越来越长,晚上也相应地越来越短,尤其是夏至前后半个月,每晚上只有子夜一两个钟头,天色稍微昏暗一些,随后又是艳阳高照。这种日不落现象,我们称之为“白夜”(当然真正的“白夜”必须在北极圈以内才会出现)。夏至傍晚,当“夜色”降临时,天空仍像平日有云的白天那样明亮,由深红变为淡紫的晚霞,一直在西北地平线上持续到午夜,黑夜短暂,转瞬即逝。晚霞和黎明的曙光紧紧相连。北极村冬天的白天并不白,天空灰蒙蒙,持续时间也不长,当地人称为“黑昼”。在北极村旅游有时会有“颠倒黑白”之感,其实这都是“老天爷捣的鬼”。

我国最南的天涯明珠——南沙群岛

南沙岛北起镇南礁($11^{\circ}53'N$),南至曾母暗沙($3^{\circ}50'N$),东起海马滩($117^{\circ}50'E$),西至万安滩($109^{\circ}27'E$),所占海域面积 80 万平方千米,是我国南海诸岛中分布最广、位置最南的珊瑚礁群岛。

南沙群岛资源丰富,风光秀丽,地处南海航线的要冲,是太平洋至印度洋的捷径。该群岛是我国热带经济林木资源基地之一,以麻疯桐树(又名避霜花)最为普遍。它们又是我国重要的热带海洋水产和鱼类捕捞基地,盛产海藻、海绵、海参、墨鱼、海龟、玳瑁等。这里还是海鸟的天堂。丰富的鸟粪层,不仅对改良我国南海诸岛缺磷的酸性土壤作用颇大,而且还可以从中提取咖啡因,用以制造阿斯匹林和强心剂等药物。南沙群岛海域还是我国巨大的油气宝库,目前已发现了 11 个储油盆地、50 多个油气田,总面积达 35 万平方千米,估计地质储量 137 亿至 177 亿吨,可采储油量 20 亿至 40 亿吨。

第二节 中国的行政区划

学习建议

我国有辽阔的疆域,在我国划分行政区划的目的是为了便于对各地进行行政管理和领导,利于经济发展和民族团结。

通过学习,我们可以发现,我国的行政区划划分为省、县、镇三级,与省并列的还有自治区、直辖市,与县并列的还有自治县、县级市,与镇并列的还有乡。阅读“中国的行政区划”图,我们可以知道,我国有 34 个省级行政区,它们的名称各不相同,它们在图上的位置和形状也各不相同。

34 个省级行政区的名称、简称、行政中心和位置是本节课学习的重点。内容虽然简单,但是涉及的地名众多。如何来掌握它们的名称以及它们在地图上的位置呢?在此给同学们推荐下面几种方法,不妨试一试。

1. 记忆行政区划名称的方法——民谣法:两湖两广两河山,五江二宁青陕甘,云贵西四北上天,内重台海福吉安,港澳特别行政区,一国两制已实现。

2. 利用联想法记忆我国省级行政区的轮廓特征。如黑龙江省像天鹅,陕西省向左看像半蹲的兵马俑,云南省像火鸡,甘肃省像哑铃,山西省像平行四边形,青海省像兔子,海南省像菠萝,台湾省像香蕉等。

3. 沿国界线、海岸线、河流、铁路线、经纬线等记忆我国省级行政区的位置。如由北向南读出临海的省级行政区的名称(有辽、冀、津、鲁、苏、沪、浙、闽、粤、琼、桂以及港、澳、台共 14 个省级行政区)。按逆时针方向依次指出有陆上邻国的省级行政区的名称(辽、吉、黑、内蒙古、甘、新、藏、滇、桂共 9 个省级行政区)。北回归线自西向东穿过我国的云、桂、粤、台四个省级行政区等。

当然家有电脑的同学,也可以从网上下载一幅“中国地图空白拼图”(网址:直接输入 zhongguodilijiaoxue 网站名即可)在闲余时间练习练习,对熟练掌握各个省级行政区的名称、位置是很有帮助的,不妨试一试。

能力自测(A)

一、填空题

1. 我国的行政区划,基本上划分为____、____、____三级。
2. 我国共有 34 个省级行政单位,包括____个省、____个自治区、____个直辖市和____、____两个特别行政区。
3. 我国纬度位置最低的省是____省,纬度位置最高的省是____省。
4. 我国面积最大的省级单位是____,其行政中心是_____。



二、选择题

- 我国全部属于岛屿部分的省级行政单位是()。
A. 港、台 B. 澳、琼 C. 台、琼 D. 港、澳
- 下列省级行政区中,跨经度最广的是()。
A. 新 B. 甘 C. 藏 D. 内蒙古
- 下列省区的全称与其简称及行政中心相符合的是()。
A. 湖北——豫——武汉 B. 山东——鲁——太原
C. 广西——贵——南宁 D. 广东——粤——广州
- 下列自治区中,临海的是()。
A. 新疆维吾尔自治区 B. 内蒙古自治区
C. 广西壮族自治区 D. 西藏自治区



三、连线题

- | | | | |
|---------|-----|---------|-----|
| 1. A 河北 | ① 豫 | 2. ① 广西 | A 滇 |
| B 河南 | ② 皖 | ② 江西 | B 赣 |
| C 安徽 | ③ 冀 | ③ 云南 | C 桂 |
| D 福建 | ④ 蜀 | ④ 江苏 | D 秦 |
| E 湖南 | ⑤ 闽 | ⑤ 甘肃 | E 陇 |
| F 四川 | ⑥ 湘 | ⑥ 陕西 | F 苏 |

能力自测(B)

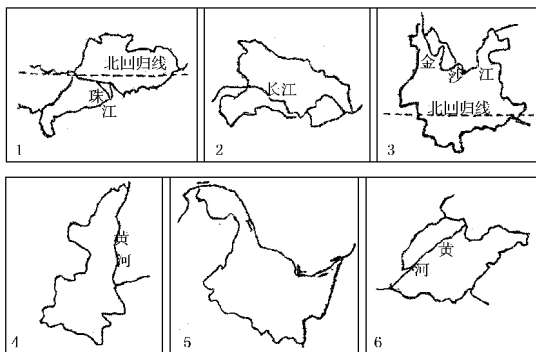


一、选择题

- 下列省区中,临海的是()。
A. 湖北省 B. 河南省 C. 江西省 D. 江苏省
- 下列省区中,邻国最多的是()。
A. 甘 B. 黑 C. 新 D. 内蒙古
- 北回归线自东向西穿过我国的省级行政区是()。
A. 台湾、福建、广东、广西 B. 台湾、海南、广东、广西
C. 广东、广西、海南、云南 D. 台湾、广东、广西、云南
- 我国下列省级行政区中,既临渤海,又临黄海的是()。
A. 河北省、江苏省 B. 辽宁省、山东省
C. 北京市、天津市 D. 河北省、辽宁省
- 我国大陆海岸线由北向南的起止点所在的省区是()。
A. 黑龙江、海南 B. 辽宁、广东



二、填表题

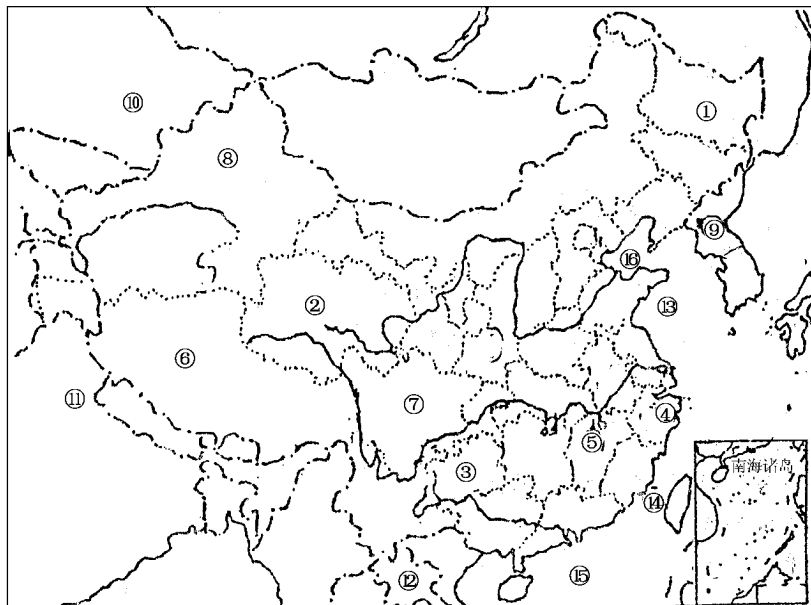


图号	1	2	3	4	5	6
省(区)名称						
省(区)简称						
行政中心						



三、读图题

读下图，填出图中数字所代表的地理事物名称。



1. 省级行政区名称：①_____ ②_____ ③_____ ④_____
2. 省级行政区简称：⑤_____ ⑥_____ ⑦_____ ⑧_____
3. 邻国名称：⑨_____ ⑩_____ ⑪_____ ⑫_____
4. 海、海峡名称：13_____ 14_____ 15_____ 16_____


知识拓宽

一、你知道吗？中国省级行政区特征集锦

1. 以山为界的省区：河北和山西(太行山)、福建和江西(武夷山)、湖北和重庆(巫山)、青海和甘肃(祁连山)、西藏和新疆(昆仑山)。
2. 以河湖名为省名的省区：黑龙江省、辽宁省(辽河宁静)、浙江省(现名钱塘江)、青海省。
3. 以山河名为简称的省区：湖南(湘江)、江西(赣江)、福建(闽江)、广西(桂江)、上海(吴淞江下游近海一段古称沪渎)、安徽(皖山现名霍山)。
4. 省名对称的省区：山东和山西(太行山)、河南和河北(黄河)、湖南和湖北(洞庭湖)、广东和广西(宋为广南东路和广南西路)。
5. 以历史名称为简称的省区：河北(冀州)、河南(豫州)、湖北(鄂州)、海南(琼州)、重庆(渝州)、陕西(秦国)、山西(晋国)、山东(鲁国)、四川(蜀国)、云南(滇国)、广东(南粤)、贵州(黔中郡)、甘肃(陇西郡)。
6. 有两个简称的省区：陕西(陕或秦)、甘肃(甘或陇)、四川(川或蜀)、云南(云或滇)、贵州(贵或黔)、上海(沪或申)。

二、对号入座

我国有很多省级行政区的轮廓与一些动物或物体的形象十分相似(如图所示)。请对照中国政区图找一找,下图所列的八个省级行政区各是哪个省区。



第三节 中国的人口

学习建议

本节教材主要讲述的是我国人口的分布特点与我国的人口政策。中国的人口是中国地理中非常重要的人文地理的基础知识,是学好中国地理,尤其是学好我国的工业、农业、交通、城市等知识以及分区地理知识的基础。

我国人口具有三大特点。

通过分析“2000年世界人口构成”饼状图和“全国省级行政单位人口数量”柱状图,可以看出我国人口数量巨大的特点,超过9000万人口的省就有9个。

通过分析我国建国以来的不同年代的人口数和绘制的我国人口增长曲线图,可以看出建国以来我国人口增长速度仍然很快的特点,但一定要注意,我国人口增长快的主要原因并不是因为我国人口自然增长率高,而是因为我国人口基数过大造成的。

通过阅读“中国的人口密度分布”图和计算人口密度对比,会发现我国人口分布疏密不均的特点。人口分布地区差异主要表现在黑龙江省的黑河至云南的腾冲这条线的东西两侧,线东南部人口稠密,线西北部人口稀疏,结合初一时所学的地理知识,不难判断出这样分布的原因是由当地的环境(气候适宜、降水多、平原、盆地多、经济状况、交通状况)决定的。

我国的人口众多、增长速度快、青少年的比重高,这对我国社会、经济、环境等方面造成巨大的压力,因此我们应该理解国家实行以控制人口数量为主要目的的计划生育政策的必要性和重要性。

能力自测(A)



一、填空题

1. 根据2000年全国第五次人口普查结果,我国总人口_____亿,在世界排第_____位。
2. 我国人口分布_____,大体从黑龙江省的_____市到云南省的_____县为界,东部人口_____,密度_____;西部人口_____,密度_____。



二、选择题

1. 我国人口最多和最少的省级行政单位分别是()。
A. 广东、澳门 B. 江苏、香港
C. 上海、香港 D. 河南、澳门
2. 据全国第五次人口普查,我国人口约占世界总人口的()。

A. 21% B. 30% C. 25% D. 16%

3. 实行计划生育以来,我国人口每年净增人数仍然很多,其主要原因是()。
- A. 人口出生率高 B. 人口基数太大
C. 人口死亡率低 D. 人口自然增长率高
4. 我国把实行计划生育作为基本国策的原因是()。
- A. 东部人口密度大,西部人口密度小 B. 农村人口多,城市人口少
C. 我国是世界上人口最多的国家 D. 人口增长过快同经济发展不相适应

能力自测(B)



一、选择题

1. 下列关于我国人口分布特点的叙述,正确的是()。
- A. 盆地少,高原多 B. 东部地区多,西部地区少
C. 西南多、东北少 D. 城市多,农村少
2. 中国人口问题的主要矛盾是()。
- A. 人口老龄化带来的社会问题 B. 人口基数大,资源、环境压力大
C. 人口过多带来的城市化问题 D. 人口地区分布不平衡
3. 2000年,由于人口增长幅度大,而一跃成为我国人口第三大省的是()。
- A. 湘 B. 沪 C. 粤 D. 苏
4. 关于我国城镇人口和农村人口的叙述,正确的是()。
- A. 我国城镇人口过多,农村人口不能再向城镇迁移
B. 近年来,城镇人口所占比例增长较快,还将继续增长
C. 城镇人口大大多于农村人口
D. 为了加快我国经济发展,应在短期内将全部农村人口变成城镇人口



二、计算题

计算一下江苏、山东、新疆、西藏四省(区)的人口密度,然后比较东部沿海两省和西部内陆两自治区人口密度的大小。

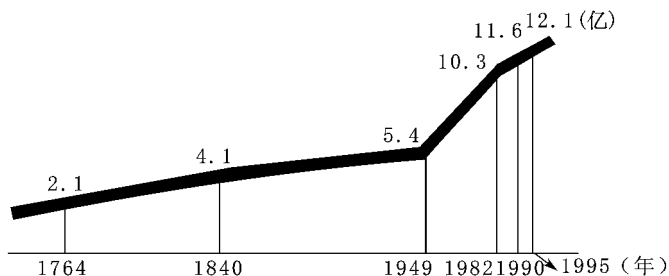
项 目	江 苏	山 东	新 疆	西 藏
面积(万平方千米)	10	15	160	120
人口(万人)	7438	9079	1925	262
人口密度(人/平方千米)				

由结果可以得出中国人口在空间上分布_____。具体来说_____部人口多,分布稠密,_____部人口少,分布稀疏。



三、读图题

下图是“我国人口增长速度折线图”,据图回答:



1. 我国人口增长速度明显加快是从_____年开始。原因是:新中国成立后_____的提高和_____的改善,人口_____率大大下降,人口_____率不断上升。

2. 人口迅速增长后,从_____年开始放慢。其主要原因是较好地实行_____政策,目的是使人口的增长能与经济的发展、_____的利用、_____的保护相适应。

知识拓宽

阅读下面几段材料,回答有关问题:

材料一:联合国教科文组织认为,人口容量是指一国或一地区在可以预见的时期内,利用该国该地区的能源及智力、技术等条件,在保证符合社会文化准则的物质生活水平条件下,所能持续供养的人口数。关于中国人口的最大容量,经各方专家测算,结论均为 16 亿人,如超过 18 亿人,将对我国可持续发展战略的实施产生破坏性影响。

材料二:计划生育有效地抑制了我国人口过快增长的势头,取得了显著的效益,并且受到世界各国的赞誉。如果按 1973 年的生育水平计算,1994 年我国人口可达 15 亿,由于实行了计划生育的政策,实际人口为 12 亿,少生了整整 3 亿人口。对于一个国家,人口多 3 亿少 3 亿(对照美国人口 2.5 亿来看),后果如何,毋须赘言。我国“九五”计划及 2010 年前景规划目标规定:人口控制在 13 亿至 15 亿之内,人口自然增长率控制在年均 1.083%,这表明我国将进入“低、低、低”现代人口再生产类型的行列。

材料三:1996 年记者在陕北黄土高原的一个穷山沟里与放羊娃有一段对话:“今年十几岁?”“16。”“怎么不上学?”“我放羊。”“你放羊是为了什么?”“挣钱。”“挣钱干什么?”“娶媳妇。”“娶了媳妇干什么?”“生娃娃。”“生下娃娃将来干啥?”“放羊。”

①读了材料一,你对我国的人口问题有什么新的认识吗?现在社会上有一种观点认为,我国的人口政策可放松放松了,你认为能放松么?

②仔细阅读材料二,思考:我国由于采取了正确的人口政策,到现在为止少生了 3 亿至 4 亿人。你认为这对我国的经济和社会带来了哪些影响?

③读了材料三之后,你有何感想?

知识拓宽

中国的人口问题

中国人口多,占世界人口 1/5 强,人口问题突出:

1. 人口多,剩余劳动力多,且人口集中在农村。
2. 近年来,农村妇女生育率又呈现上升趋势,控制人口数量的难度越来越大。
3. 人口文化素质低。

4. 农村就业压力大。预测表明,中国劳动年龄人口(15 岁至 64 岁)在 2020 年将达到高峰,约有 10 亿人。今后中国就业压力主要来自日趋增长的农村剩余劳动力。而农村剩余劳动力转移有限,大量农业劳动力滞留在日益减少的有限的耕地上,既不构成农业生产增长的有效因素,又妨碍农业劳动生产率的提高,成为农村规模化、产业化、现代化实现的沉重包袱。

5. 人口的老龄化问题严重。人口迅速增长与老龄化问题的并存,成为 21 世纪中国人口问题的焦点。与发达国家的老龄化相比,中国人口具有基数大、增长快、负担重的特点。2000 年 60 岁、65 岁以上人口增长速度分别为总人口增长速度的 2.5 倍和 2.8 倍,总和生育率下降越快,老龄化速度就越快,年龄结构就越不合理,这使中国陷入控制人口数量和防止人口老龄化的两难境地。我国在低收入条件下就进入老年社会,可以预见,未来中国老年人的生活安排将是社会的沉重负担和亟待解决的难题。

第四节 中国的民族

学习建议

我国不仅是个疆域辽阔的国家,同时是一个统一的多民族国家。

各个民族在我国所占的人数不相同,其中汉族是我国最大的民族,壮族是我国少数民族中人口最多的民族。通过搜集资料,我们知道各民族的风俗习惯各不相同。

阅读“中国民族分布”图,我们不难看出,各民族在我国的分布表现为三大特点。第一,从全国范围来看,少数民族主要分布在陆地边疆地区。第二,从地区分布来看,少数民族主要分布在西北、西南和东北地区。第三,从具体分布来看,各民族分布“大杂居,小聚居”。

尽管各个民族在我国人数不同、分布不同、风俗习惯不同,但是各民族在我国互帮互助、和睦共处,组成了祖国统一的大家庭,为我国经济发展都做出了贡献。各民族不论大小,一律平等,是我国一贯的民族政策,我们应该尊重各个民族的风俗习惯。

能力自测(A)



一、填空题

1. 我国共有_____个民族,其中人口最多的是_____。
2. 我国的少数民族主要分布在_____、_____、_____地区,汉族主要集中分布在_____地区。
3. 我国各民族的分布特点是_____、_____,相互交错分布。



二、选择题

1. 我国有 55 个少数民族,人口约占全国总人口的()。

A. 92% B. 52% C. 48% D. 8%
2. 在我国少数民族中,人口最多的是()。

A. 苗族 B. 壮族 C. 回族 D. 藏族
3. 世界上人口最多的民族是()。

A. 大和族 B. 朝鲜族 C. 汉族 D. 俄罗斯族
4. 右图反映的是哪个民族的传统节日()。

A. 土家族 B. 傣族 C. 苗族 D. 壮族



能力自测(B)



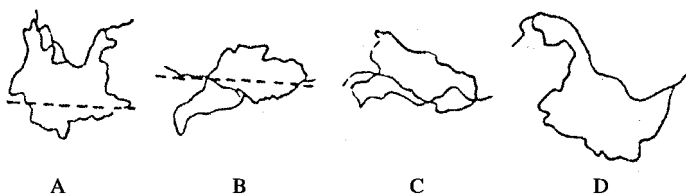
一、选择题

1. 我国少数民族主要分布在()。

A. 东南、西南、西北 B. 东北、东南、西南

C. 东北、西北、东南 D. 东北、西北、西南

2. 下列关于我国各民族分布的说法,正确的是()。
- A. 各民族大聚居、小杂居
 B. 各民族大杂居、小聚居
 C. 汉族主要分布在东部和南部
 D. 少数民族主要分布在西部和北部
3. 大多数信仰伊斯兰教的少数民族有()。
- A. 瑶族、土家族 B. 蒙古族、壮族
 C. 苗族、哈尼族 D. 回族、维吾尔族
4. 在少数民族中,主要聚居在岛屿上的有()。
- A. 布依族、傣族 B. 傣族、黎族
 C. 满族、壮族 D. 黎族、高山族
5. 下列我国的四个省区中,民族最多的是()。



二、填表题



上图是我国几个少数民族的舞蹈和体育活动,请据图填表: