

“ 云南省义务教育教学单元目标检测 ”
编委会组成人员

摇摇主编编摇易摇山

摇摇副主编摇朱维骏摇王宇伟摇李永云摇黄显松

摇摇编摇委摇(以姓氏笔画为序)

王摇琨摇牛兴旺摇叶摇森摇孙和平

许世祥摇许蕴红摇李大帅摇李光华

李德兴摇张玉庚摇杨仁忠摇和银华

赵子珍摇赵庆旺摇黄摇凡摇黄摇诚

黄摇敏摇符雪红摇普家华

摇摇本册执笔者摇罗盛祥摇荀怀京

第一单元目标检测题

得分_____ 摇_____ 年级_____ 班摇学生_____

一、判断题（正确的打√，错误的打×。每小题2分，共12分）

1. 西亚和北非大部分地区属于热带沙漠气候。（摇摇）

2. 死海湖面海拔约为 422 米，是世界陆地最低点。（摇摇）

3. 西亚以波斯为中心有一条巨大的石油带，且向南北延伸。（摇摇）

4. 石油是非可再生资源，所以应控制其开采数量。（摇摇）

5. 西亚和北非这片广大地区被叫做“阿拉伯世界”。（摇摇）

6. 撒哈拉以南的非洲是世界上黑人的故乡。（摇摇）

二、选择题（将正确答案的字母代号填入括号内。每小题2分，共18分）

1. 西亚和北非的地形大部分是（摇摇）。

A. 山地 摇摇摇摇 B. 高原

C. 盆地 摇摇摇摇 D. 丘陵

2. 西亚的石油储量约占世界石油总储量的（摇摇）。

A. 1/2 摇摇摇摇 B. 1/3 摇摇

C. 1/4 摇摇摇摇 D. 1/5 以上

3. 西亚、北非所产的石油主要输往（摇摇）。

A. 西欧、加拿大、日本 摇摇摇摇 B. 加拿大、美国、西欧

C. 西欧、美国、日本 摇摇摇摇 D. 俄罗斯、美国、日本

4. 苏伊士运河沟通的两大海是（摇摇）。

A. 地中海和红海 摇摇摇摇 B. 地中海和黑海

C. 黑海和里海 摇摇摇摇 D. 地中海和里海

5. 撒哈拉以南的非洲主要地形是（摇摇）。

A. 山地 摇摇摇摇 B. 丘陵

C. 高原 摇摇摇摇 D. 平原

6. 撒哈拉以南非洲大部分地区的气候类型，主要是（摇摇）。

A. 热带沙漠气候和热带雨林气候

B. 热带季风气候和热带沙漠气候

C. 热带雨林气候和热带季风气候

D. 热带草原气候和热带雨林气候

7. 非洲的黑人主要分布在（摇摇）。

A. 北部和中部 摇摇摇摇 B. 中部和南部

C. 北部和南部 摇摇摇摇 D. 北部

8. 1960 年 7 月，撒哈拉以南由白人统治的最后一个殖民地宣告独立的国家

是(摇摇)。

粤安哥拉摇摇摇摇摇摇 月坦桑尼亚

恍纳米比亚摇摇摇摇 阅肆巴布韦

粤下列产品中全部属初级产品的是(摇摇)。

粤咖啡豆、巧克力糖、牛肉罐头

月阿可豆、皮鞋、活牲口

恍活牲口、可可豆、咖啡豆

阅件肉罐头、巧克力糖、皮鞋

三、填空题(每空2分,共46分)

粤中国同西亚地区自古以来就有经济文化交往。我国古代的“丝绸之路”,摇摇摇摇出发,沿甘肃的摇摇摇摇和摇摇摇摇境内,再经西亚的伊朗、伊拉克、土耳其直达摇摇摇摇。

粤西亚和北非是联系亚、____、非三大洲,沟通大西洋和____洋的枢纽地位,地理位置很重要。

粤撒哈拉沙漠是世界上面积最大的沙漠,其面积约占非洲总面积的____,沙漠地下拥有丰富的_____。

粤西亚和北非是目前世界上石油储量最大,_____量和_____量都居世界第一。

粤西亚、北非的石油,一般具有摇摇摇、摇摇摇、摇摇摇、摇摇摇的特点。

粤西亚和北非主要为_____色人种,居民多信仰摇摇摇摇教。多数国家和地区的居民,主要是摇摇摇摇人,通用摇摇摇摇语。

粤陈非大裂谷南起摇摇摇摇河口,北经红海,一直延伸到_____附近。

粤第二次世界大战前,非洲只有____、摇摇摇 摇摇和摇摇摇摇三个独立国家。

四、连线题(每连对一项1分,共8分)

粤将下列相关的地理事物用直线连起来。

(员) 苏伊士运河摇摇摇摇摇摇摇摇 粤埃及

(圆) 土耳其海峡 月以色列

(猿) 节水农业广泛普及 恍沟通红海与地中海

(源) 石油、运河、侨汇、旅游 阅沟通黑海与地中海

粤将下列相互间有联系的事物用直线连起来。

(员) 麦加摇摇摇摇摇摇摇摇 粤埃及首都

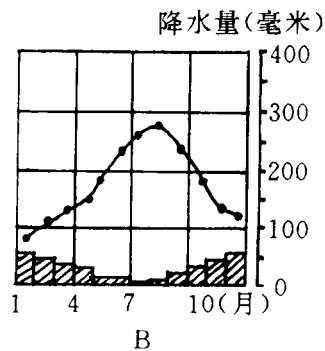
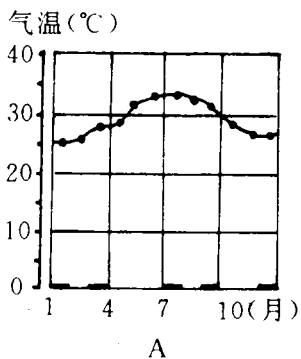
(圆) 亚历山大 月伊斯兰教圣城

(猿) 开罗 恍埃及重要海港

(源) 耶路撒冷 阅伊斯兰教、基督教、犹太教三教圣城

五、读图填充题(每空2分,共16分)

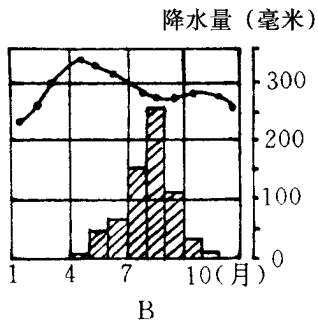
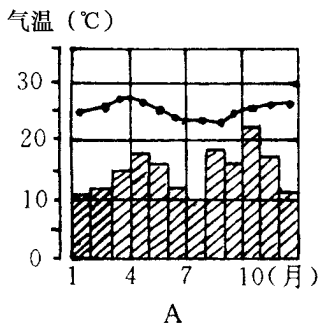
粤读下面 粤 月两地气温降水图。



(员) 粤地各月气温 (高或低), 降水 (多或少), 属 气候。

(圆) 月地夏季 , 冬季 , 属 气候。

臆读下面 粤 月两图, 根据气温和降水的变化, 判断其气候类型。



(员) 粤地属 气候。

(圆) 月地属 气候。

六、选做题 (第 1 题 5 分, 第 2 题 4 分, 第 3 题 11 分, 共 20 分)

臆回忆“世界政区图”, 按顺序写出由印度洋通往大西洋的最近便的航线所经过的海、运河和海峡的名称。

印度洋→ 海→ 海→ 运河→ 海→ 海峡→大西洋。

臆干旱两季, 热带草原的风和降水有什么不同?

臆西亚和北非的石油分布中心在哪里? 西亚有哪几个主要产油国? 所产的石油主要销往哪里?

第二单元目标检测题

得分_____ 摇_____ 年级_____ 班摇学生_____

一、判断题（正确的打√，错误的打×。每小题2分，共14分）

1. 地中海和黑海都是大西洋的内海。（摇摇）

2. 西部欧洲海岸线十分曲折。（摇摇）

3. 斯堪的纳维亚半岛西侧有许多陡峭的崖壁、幽深曲折的峡湾，这是海浪冲击而形成的。（摇摇）

4. 伏尔加河是欧洲流经国家最多的一条国际河流。（摇摇）

5. 欧洲西部是世界白种人的主要分布地区。（摇摇）

6. 在世界各地中，西部欧洲的人口自然增长率最低。（摇摇）

7. 位于不列颠群岛以东的北海是大西洋的内海。（摇摇）

二、选择题（将正确答案的字母代号填入括号内。每小题2分，共18分）

1. 欧洲西半部、南部三大半岛自西向东分别是（摇摇）。

A. 巴尔干、伊比利亚、亚平宁

B. 伊比利亚、亚平宁、巴尔干

C. 伊比利亚、巴尔干、亚平宁

D. 巴尔干、亚平宁、伊比利亚

2. 西部欧洲地形以平原和山地为主，平原主要分布在（摇摇）。

A. 北海和黑海沿岸

B. 波罗的海和黑海沿岸

C. 北海和波罗的海沿岸

D. 黑海和地中海沿岸

3. 由于距海远近和纬度高低的不同，西部欧洲各地气候有不少差异。对此，下面的叙述正确的是（摇摇）。

A. 降水量自东向西逐渐减小，年温差自东向西逐渐增大。

B. 降水量自西向东逐渐减小，年温差自西向东逐渐增大。

C. 降水量自西向东逐渐增加，年温差自东向西逐渐减小。

D. 降水量自东向西逐渐增加，年温差自西向东逐渐减小。

4. 西部欧洲的工农业生产约占世界的（摇摇）。

A. 1/4

B. 1/3

C. 1/2

D. 2/3

5. 西部欧洲对外贸易占世界总额的1/3以上，其中居第一位的是（摇摇）。

A. 英国

B. 法国

C. 荷兰

D. 德国

6. 在德国，居住在城市的人口大约在（摇摇）。

A. 1/2

B. 1/3

C. 1/4

D. 2/3

悦援殒豫以上摇摇摇摇阅援透豫以上

雍德国丰富的矿产资源是（摇摇）。

粤煤炭和石油摇摇摇摇摇摇月铁矿石和有色金属

悦钾盐和有色金属摇摇摇摇阅煤炭和钾盐

愿目前，欧洲经济实力最强的国家是（摇摇）。

粤意大利摇摇摇摇月法国

悦德国摇摇摇摇阅英国

愿欧洲地跨欧亚两洲的国家是（摇摇）。

粤乌克兰摇摇摇摇月哈萨克斯坦

悦瑞典摇摇摇摇阅俄罗斯

三、填空题（每空 2 分，共 40 分）

愿西部欧洲北部和南部山地分布较广，北部有摇摇摇摇摇摇山脉，南部有摇摇摇摇摇摇山脉，它的支脉延伸到三大半岛。

愿西部欧洲平原地形以摇摇摇摇摇摇为界，以西的叫西欧平原，以东的叫摇摇摇摇平原。

愿与欧洲东半部和中亚同纬度地区相比，西部欧洲冬季气候比较_____，夏季气候比较_____，全年降水的季节分配也比较均匀。

愿欧洲南部三大半岛沿岸，植被以摇摇摇摇摇摇为主，这里是欧洲主要的摇摇摇摇摇摇产区。

愿世界上工业化最早的国家是摇摇摇国，该国石油加工业多分布在摇摇摇摇沿海地区。欧洲最大的农产品出口国是摇摇摇国，该国最重要的工业区位于摇摇摇摇盆地。

愿俄罗斯的运输以铁路运输为主，东部有横贯东西的摇摇摇摇大铁路，为开发东部地区，又在该铁路的北面铺设了新的摇摇摇摇铁路。

愿摇摇摇摇河是欧洲最长的河流，摇摇摇摇湖是世界上最深的湖泊。

愿俄罗斯欧洲部分两大工业区是：以摇摇摇摇为中心的工业区和以摇摇摇摇为中心的工业区；亚洲部分有摇摇摇摇工业区和摇摇摇摇工业区。

四、连线题（每连对一项 1 分，共 14 分）

愿将下列国家与它们的首都用直线连起来。

(员) 法国摇摇摇摇粤柏林

(圆) 德国摇摇摇摇月莫斯科

(猿) 俄罗斯摇摇摇摇悦罗马

(源) 意大利摇摇摇摇阅巴黎

愿将下列海港同所属国家用直线连起来。

(员) 鹿特丹摇摇摇摇粤德国

(圆) 汉堡 月荷兰

(猿) 马赛 悦俄罗斯

(源) 摩尔曼斯克 阅法国

獾将下列相关的地理事物用直线连起来。

- | | |
|-----------|-------|
| (员) 巴台农神庙 | 粤 意大利 |
| (圆) 音乐之都 | 月 法国 |
| (猿) 古斗兽场 | 悦 希腊 |
| (源) 艾菲尔铁塔 | 阅 维也纳 |
| (缘) 马克思墓 | 耘 英国 |
| (远) 红场 | 云 俄罗斯 |

五、简答题(第1题8分,第2题6分,共14分)

德 德国工业的发展主要建立在哪些基础之上?其工业原来大部分集中分布在哪里?

德 简述俄罗斯工业、农业的特点。

六、选做题(第1题每空1分,第2题的第(1)题4分、第(2)题8分,共20分)

德 填空题。

(员) 地中海及其周围地区,夏季,副热带高压带向_____移动进入地中海区,在高气压_____ (上升或下沉) 气流的控制下,气候炎热干燥;冬季,西风带向_____移动进入地中海区,西风从_____洋带来温湿的空气,使气候变得温和多雨。

(圆) 英国典型的温带海洋性气候降水较多,日照较少,西部不适于摇摇摇摇作物的生长,而多汁的摇摇摇长得很好。东南部降水较少一些,日照较多,气温较高,摇摇季节较长,适宜种植小麦、摇摇摇摇等农作物。

德 简答题。

(员) 为什么说俄罗斯是欧洲国家?

(圆) 从纬度位置、海陆分布、地形和洋流等因素对气候的影响,分析西部欧洲气候的特点和形成原因。

期中检测题

得分_____ 摇_____ 年级_____ 班摇学生_____

一、判断题（正确的打√，错误的打×。每小题1分，共10分）

1. 在欧洲各地区中，欧洲西部人口自然增长率最低。（摇摇）

2. 巴以冲突一直不断。（摇摇）

3. 中亚是我国古代的“丝绸之路”和现在的“亚欧大陆桥”必经之地。（摇摇）

4. 西亚和北非大部地区属于热带草原气候。（摇摇）

5. 西亚和北非是目前世界上石油储量最大、出产和输出最多的地区。（摇摇）

6. 多瑙河是欧洲流经国家最多的一条国际河流。（摇摇）

7. 欧洲西部工农业生产约占世界的 1/3。（摇摇）

8. 法兰克福是德国最大的航空港。（摇摇）

9. 德国的新兴工业在逐步向北部发展。（摇摇）。

10. 莫斯科是俄罗斯最大的城市和最大的综合性工业中心。（摇摇）。

二、选择题（将正确答案的字母代号填入括号内。每小题2分，共20分）

1. 南非最大的港口是（摇摇）。

 A. 亚历山大 B. 开罗

 C. 开普敦 D. 马赛

2. 德国著名的新兴工业城市是（摇摇）。

 A. 中部区 B. 鲁尔区

 C. 五大湖区 D. 慕尼黑

3. 第二次世界大战前，非洲没有独立的国家是（摇摇）。

 A. 埃及 B. 苏丹

 C. 埃塞俄比亚 D. 刚比里亚

4. 苏伊士运河沟通了（摇摇）。

 A. 大西洋和太平洋 B. 印度洋和太平洋

 C. 大西洋和北冰洋 D. 印度洋和大西洋

5. 撒哈拉以南的非洲与东南亚的共同点是（摇摇）。

 A. 现代工业发达，出口工业制品

 B. 地形以山地、高原为主

 C. 多数国家出口初级产品

 D. 居民多信奉佛教

6. 撒哈拉以南的非洲，矿产资源丰富，其中储量和产量都居世界首位的是（摇摇）。

 A. 黄金、金刚石 B. 黄金、铜

 C. 金刚石、铀 D. 铜、铁

雍世界上最大的湖泊是（摇摇）。

粤死海摇摇摇摇月贝加尔加湖

愧里海摇摇摇摇阅芬必利尔湖

愿地中海气候的特点是（摇摇）。

粤夏季炎热干燥，冬季温和少雨摇摇摇摇月夏季炎热干燥，冬季温和多雨

愧夏季高温多雨，冬季温和多雨摇摇摇摇阅夏季高温多雨，冬季温和少雨

雍世界上人口自然增长率最低的地区是（摇摇）。

粤西亚摇摇摇摇月撒哈拉以南的非洲

愧拉丁美洲摇摇摇摇阅西半部欧洲

愿欧洲东部的地理范围是指（摇摇）。

粤俄罗斯联邦

月原来的整个苏联

愧波罗的海东岸到乌拉尔山脉之间的地区

阅“独立国家联合体”

三、填空题（每空 1 分，共 38 分）

愿位于非洲大陆最南端的国家是摇摇摇摇，绕道该国南端时摇摇摇摇的航线是世界最繁忙的海上航道之一。

愿西亚、北非是摇摇摇摇教、摇摇摇摇教和犹太教的发祥地。

愿西亚以摇摇摇摇为中心，有一条巨大的石油带，向南北延伸。北非的石油主要分布在摇摇摇摇。两区所产石油怨怨输往西欧、摇摇、摇摇等工业发达国家。

愿沙特阿拉伯、摇摇摇摇、科威特、摇摇摇摇是西亚主要的产油国家。摇摇、摇摇、阿尔及利亚、摇摇摇摇是北非主要的产油国家。

愿撒哈拉以南的非洲是世界上摇摇摇摇种人的故乡。目前，非洲人口的自然增长率约为愿，居世界 位。该地区应该采取的人口政策是摇摇摇摇、摇摇。

愿西亚、北非畜牧业比较发达，土耳其的摇摇摇摇羊毛，阿富汗的摇摇摇摇等畜产品都很有名。

雍摇摇河全长愿愿多千米，是世界第一长河。该河下游的三角洲盛产摇摇棉。

愿摇摇（国家）境内的苏伊士运河连接地中海和摇摇海，大大缩短了大西洋到印度洋的航程。

愿撒哈拉以南的非洲矿产资源极为丰富，南非是世界上出产摇摇最多的国家；出产铝土最多的国家是摇摇。

愿西半部欧洲地形以摇摇和山地为主，地形波状起伏，湖泊众多，这是由于摇摇作用而形成的。

愿欧洲流经国家最多的河流是摇摇河。摇摇区不仅是德国，也是欧洲和世界著名的工业区。

愿摇摇是德国最大的港口城市和造船中心。德国南部的摇摇已成为新兴工业的一个中心。

俄罗斯在北冰洋的主要海港是摩尔曼斯克，因受北大西洋暖流影响，港湾终年不冻。

俄罗斯传统上是欧洲的国家，但它的大部分领土却位于亚洲。

俄罗斯的交通以铁路为主，以莫斯科为中心的东欧平原放射状的稠密铁路网。

西西伯利亚平原和南部顿河流域是俄罗斯主要农业地带。

四、连线题（每连对一项1分，共12分）

请将下列河流与它们主要流经的地域国家用直线连起来。

- (员) 恒河 印度
- (圆) 伏尔加河 俄罗斯
- (猿) 扎伊尔河 刚果盆地
- (源) 莱茵河 德国

请将下列主要城市与其所在国家用直线连起来。

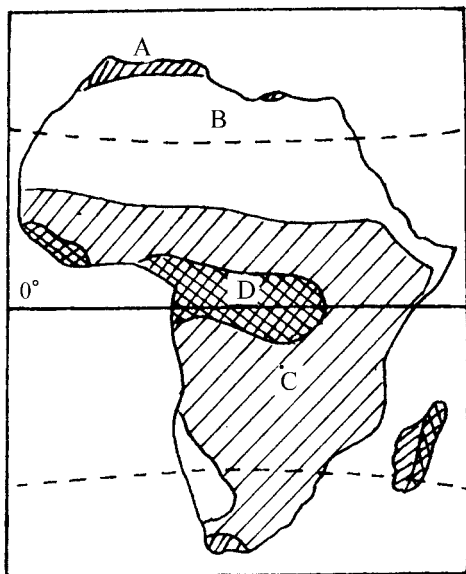
- (员) 开普敦 南非
- (圆) 科隆 德国
- (猿) 圣彼得堡 俄罗斯
- (源) 开罗 埃及

请将下列名胜与其所在城市或国家用直线连起来。

- (员) 古斗兽场 罗马
- (圆) 胡夫金字塔 埃及
- (猿) 巴台农神庙 雅典
- (源) 泰姬陵 印度

五、读图填充题（每空1分，共20分）

读下面“非洲气候类型分布略图”，在横线上填出字母所代表的气候类型名称。



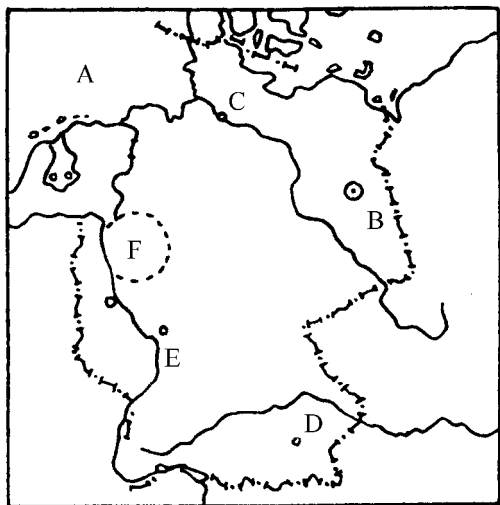
- (员) A代表地中海气候；
- 月代表热带沙漠气候；
- 悦代表热带草原气候；
- 阅代表热带雨林气候。

(圆) 非洲气候类型分布的特点是：大致呈南北对称分布，且以赤道为轴。

(猿) 整个非洲大陆的地形以高原为主。

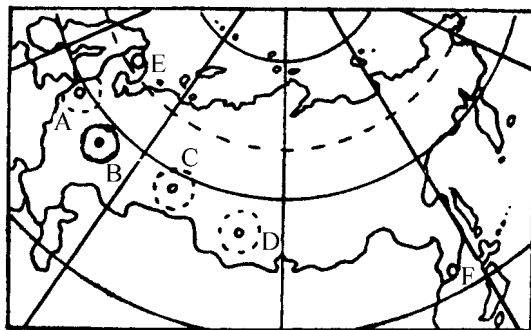
(源) 位于非洲的尼罗河是世界第一长河。

摇摇圖讀圖填注。



- 粵: 摇摇摇摇摇摇海
- 月: 摇摇摇摇摇摇 (首都)
- 悅: 摇摇摇摇摇摇 (港口)
- 閱: 摇摇摇摇摇摇 (城市)
- 耘: 摇摇摇摇摇摇 (河流)
- 云: 摇摇摇摇摇摇 (工业区)

圖讀圖填注。



- 粵: 摇摇摇摇摇摇工业区
- 月: 摇摇摇摇摇摇工业区
- 悅: 摇摇摇摇摇摇工业区
- 閱: 摇摇摇摇摇摇工业区
- 耘: 摇摇摇摇摇摇港口
- 云: 摇摇摇摇摇摇港口

第三单元目标检测题

得分_____ 摇_____ 年级_____ 班摇学生_____

一、选择题（将正确答案的字母代号填入括号内。每小题2分，共40分）

1. 关于北美的叙述，正确的是（摇摇）。

粤 有美国、加拿大、墨西哥三个国家

月 跨南、北两半球

恍 只包括美国、加拿大两国

阅 大部分地区位于热带

2. 下列说法正确的是（摇摇）。

粤 美国和加拿大的领土都有一部分进入北极圈

月 只有加拿大的一部分领土进入北极圈

恍 加拿大、美国和中国共同环抱在北冰洋周围

阅 格陵兰岛属加拿大

3. 有关北美地形的说法正确的是（摇摇）。

粤 北美西部的科迪勒拉山系，地壳较为稳定，火山、地震活动少

月 落基山脉是北美东部最主要的山脉

恍 中部平原北起北冰洋，南抵墨西哥湾

阅 东部的高原和山地，海拔都在 4000 米以上

4. 对北美五大湖的叙述，正确的是（摇摇）。

粤 五大湖的湖水通过密西西比河流入墨西哥湾

月 全部位于美国境内的是苏必利尔湖

恍 五大湖是在河流的冲刷作用下形成的

阅 五大湖是世界最大的淡水湖群

5. 有关北美居民的叙述，正确的是（摇摇）。

粤 是由一个主要的民族组成

月 是世界上许多国家的移民及其后裔的大汇集

恍 来自亚洲的黄种人，占 1/3 以上

阅 因纽特人生活在墨西哥湾沿岸

6. 现在北美社会上主要通用的语言是（摇摇）。

粤 汉语 摇摇 月 日语 摇摇 恍 拉丁语 摇摇 阅 英语

7. 有关北美气候的叙述，正确的是（摇摇）。

粤 北美四面临海，海洋性显著

月 以温带大陆性为主的气候

恍 北美的气候类型单一

阅季风气候显著

愿关于美国位置的叙述，正确的是（摇摇）。

粤本土所跨纬度，都在热带，西临大西洋，南临墨西哥湾

月本土三面濒临海洋，东临太平洋

恍本土所跨纬度，都在温带

阅本土位于东半球

愿有关美国资源的叙述，正确的是（摇摇）。

粤美国耕地面积只占世界耕地面积的缘

月美国矿产、森林、草原等自然资源缺乏

恍美国的国土面积居世界第二位

阅美国石油年产量居世界前列，可每年还要进口大量石油，美国是世界上进口石油最多的国家

愿有关美国农业的叙述，正确的是（摇摇）。

粤美国是世界上的农业大国，实行农业专门化生产

月需要进口的农产品，主要是粮食

恍美国从事农业的人口，占全国人口的一半

阅美国农业生产还没有大规模使用农业机械

愿有关美国城市的叙述，正确的是（摇摇）。

粤洛杉矶是美国最大的工商业城市

月纽约是美国人口最多的城市，联合国总部也设在此

恍芝加哥是美国最大的港口

阅休斯敦西部附近的“硅谷”，是新兴电子工业中心

愿关于拉丁美洲范围的说法，正确的是（摇摇）。

粤凡说拉丁语国家和地区

月指南美洲地区

恍包括南美洲和西印度群岛

阅指美国以南的美洲国家和地区

愿有关巴拿马运河的叙述，正确的是（摇摇）。

粤巴拿马运河连接了大西洋和印度洋

月巴拿马运河连接了太平洋和印度洋

恍巴拿马运河连接了大西洋和北冰洋

阅巴拿马运河连接了大西洋和太平洋，缩短了两大洋间的航程

愿有关巴西高原的叙述，正确的是（摇摇）。

粤巴西高原是世界上最高的高原

月巴西高原是世界上最大的高原，铁矿蕴藏丰富

恍巴西高原有大面积的热带雨林

阅巴西高原有丰富的煤矿资源

愿关于亚马孙平原的叙述，正确的是（摇摇）。

①亚马孙平原是世界最大的平原

②平原地区人口稠密

③亚马孙平原上密布着热带草原

④亚马孙平原是巴西最重要的农业区

⑤巴西农产品产量居世界首位的是()。

⑥可可咖啡大豆玉米

⑦巴西的现代工业()。

⑧发展较慢刚刚起步

⑨还很落后发展较快

⑩在自然资源或自然环境保护方面,全世界希望巴西着重保护的是()。

⑪热带草原热带雨林

⑫野生动物亚马孙河水源

⑬拉美著名的渔场是()。

⑭北海道渔场纽芬兰渔场

⑮秘鲁渔场北海渔场

⑯世界上水量最大,流域面积最广的河流是()。

⑰亚马孙河密西西比河

⑱长江黄河

二、填空题(每空1分,共20分)

①有“美洲大陆的地中海”之称的是 湖群,其中 湖是世界最大的淡水湖。

②美国旧金山附近的“ ”是世界著名的电子工业中心。

③在对外贸易方面, 国是输出工农业产品数量最多、产值最大的国家。

④在美国东北部地区, 山区有丰富的煤矿,五大湖西部有大量的 矿,全美的 、 、化学等工业大部分分布在这一地区。

⑤ 湾西北是美国主要的石油产地。 是美国西部人口最多的城市和海港。

⑥ 山南北纵长近 千米,是世界最长的山脉。

⑦ 是西印度群岛中面积最大的岛国。

⑧南美洲大陆东部,高原与平原相间排列,其中 平原是世界最大的平原。

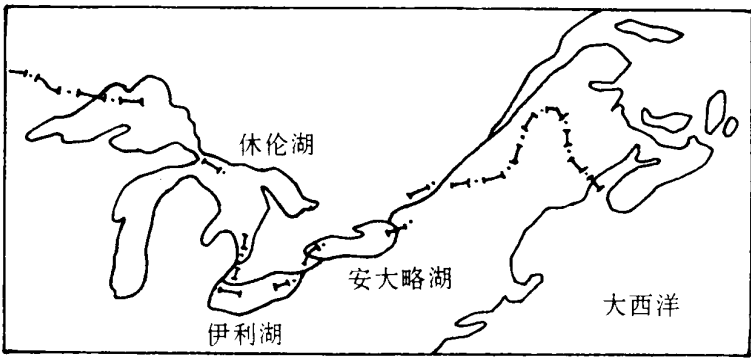
⑨目前巴西农产品中,产量占世界首位的有 、甘蔗、 、剑麻。

⑩近年,巴西在西南边境与巴拉圭合作,建成了目前世界最大的 水电站。

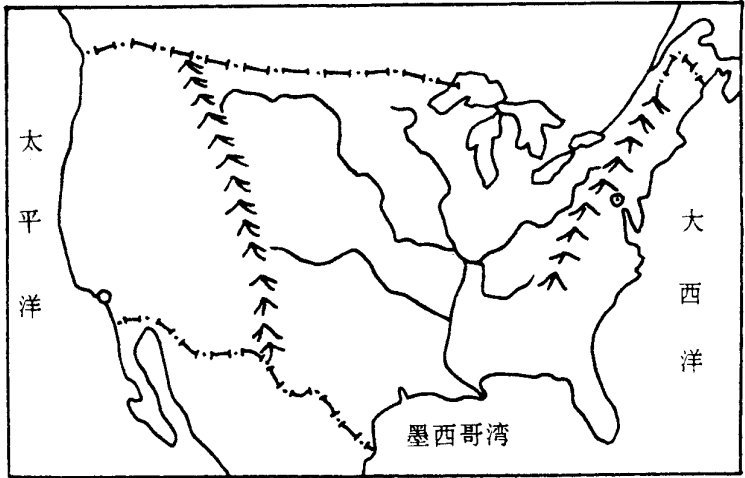
⑪美国的领土由 个州组成,位于太平洋中的是 州,位于北冰洋沿岸的是 州。美国西部经济最发达的是 州。

三、读图填充题(每小题5分,共15分)

①在图上填出:苏必利尔湖、密歇根湖、圣劳伦斯河、美国、加拿大。

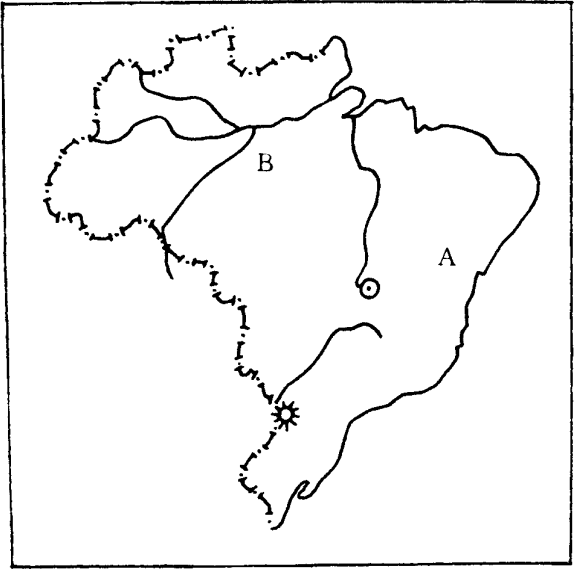


在图上填出：
落基山脉、阿巴拉契亚
山脉、密西西比河、洛
杉矶、华盛顿。



在图上填出：亚马孙河、巴
西利亚、伊泰普水电站。

粤处是气候。
月处是气候。



摇摇四、连线题（每连对一项 1 分，共 10 分）

䄂把相关的地理事物用直线连接起来。

摇摇摇摇摇摇摇摇摇摇摇摇摇摇芝加哥

巴西 旧金山

纽约

美国 圣保罗

里约热内卢

䄂把相关的地理事物用直线连接起来。

委内瑞拉近海 甘蔗

墨西哥 石油

巴西 银

智利 铁

古巴 铜

五、简答题（每小题 5 分，共 15 分）

䄂巴西有哪些大宗出口商品？

䄂美国从事农业生产的人口很少，为什么农产品产量很高？

䄂美国东北部地区发展工业有哪些有利条件？

六、选做题（20 分）

通过报刊、杂志、电视、广播等新闻媒介了解近来中美两国的贸易交往情况。

第四单元目标检测题

得分_____ 摇_____ 年级_____ 班摇学生_____

一、选择题（将正确答案的字母代号填入括号内。每小题3分，共45分）

1. 世界上面积最小的一洲是（ ）。
A. 亚洲 B. 欧洲
C. 非洲 D. 大洋洲

2. 关于南极洲的叙述，正确的是（ ）。

A. 目前，已有5个国家在南极洲建立了10多个科学考察实验站

B. 南极洲淡水资源缺乏

C. 雷鸟是南极洲特有的鸟类

D. 南极洲的平均海拔低于亚洲

3. 在南极洲的矿产资源中，储量最丰富的是（ ）。

A. 石油和煤 B. 铜和铁

C. 煤和铁 D. 铅和锌

4. 世界上惟一的独自占有一个大陆的国家是（ ）。

A. 新西兰 B. 澳大利亚

C. 日本 D. 英国

5. 关于澳大利亚地形的叙述，正确的是（ ）。

A. 东部是低矮的高原

B. 西部是南北纵贯的大分水岭

C. 中部是丘陵地区

D. 中部是平原，地下水丰富

6. 澳大利亚特有的动物是（ ）。

A. 斑马 B. 豹

C. 袋鼠 D. 熊猫

7. 关于澳大利亚人口的分布，正确的说法是（ ）。

A. 大部分分布于中部地区

B. 主要分布在东南沿海地区

C. 多分布于西部地区

D. 集中分布于东北部地区

8. 澳大利亚最大的工业中心和港口城市是（ ）。

A. 堪培拉 B. 悉尼

C. 墨尔本 D. 珀斯

9. 世界上平均海拔最高的一洲是（ ）。