

“云南省义务教育教学单元目标检测”  
编委会组成人员

摇摇主编摇编摇易摇山

摇摇副主编摇潘洪斌摇王宇伟摇李永云摇牛兴旺摇黄显松

摇摇编摇委摇(以姓氏笔画为序)

孙和平摇许蕴红摇李大帅摇李光华

李德兴摇张玉庚摇杨仁忠摇杨德法

和银华摇赵子珍摇黄摇凡摇黄摇诚

黄摇敏摇符雪红摇普家华

摇摇本册执笔者摇蒋爱东摇黄新荣

# 第一单元目标检测题

得分\_\_\_\_\_ 摇\_\_\_\_\_ 年级\_\_\_\_\_ 班摇学生\_\_\_\_\_

## 一、填空题（每空员分，共 猿分）

愿农业生产的五个部门是摇摇摇、摇摇摇、摇摇摇、摇摇摇、摇摇摇。

愿农业是我国摇摇摇摇摇摇的基础。

愿种植业受自然条件的影响很大，一方面要有适宜耕作的摇摇摇，另一方面要有可供农作物生长需要的足够的摇摇摇、摇摇摇、摇摇摇等气候条件。

愿摇摇摇摇摇摇业是我国农业生产的主要部门。

愿我国人口增长过快，耕地面积不断减少，人均粮食产量增长摇摇摇；我国又是一个摇摇摇摇摇摇频繁发生的国家，所以粮食生产是关系我国摇摇摇摇摇摇的头等大事。

愿我国种植业的发展，必须根据各地摇摇摇摇摇、摇摇摇摇摇等条件，因地制宜，使摇摇摇摇摇资源得到合理利用。

愿我国的畜牧业可以分为摇摇摇摇摇摇和摇摇摇摇摇摇两类。牧区主要分布在北方半干旱、干旱摇摇摇地区和摇摇摇高原地区。

愿历史上，我国农业生产在很大程度上处于“靠天收”的落后状况。新中国成立后，我国的农业生产开始由摇摇摇农业向摇摇摇农业转变。

愿我国的农业要抓紧摇摇摇生产，以保证人民最基本的粮食需要，同时积极发展摇摇摇摇摇，以满足人民多方面的需求。各种农产品要力争摇摇摇、摇摇摇、摇摇摇，以适应市场经济的需要。

愿我国要把农业\_\_\_\_\_化经营作为推进农业现代化的重要途径，完善农村\_\_\_\_\_化服务体系，把农产品的生产、加工、销售联系起来进行一体化经营。

## 二、选择题（把正确答案的字母代号填在括号内。每小题 圆分，共 愿分）

愿人类发展种植业最早的区域分布在（摇摇）。

愿寒带摇摇、温带和寒带摇摇、热带和寒带摇摇、温带和热带摇摇。

愿一年一熟摇摇、一年两熟摇摇、一年三熟摇摇、两年三熟摇摇。

愿下列省份为我国棉产区的是（摇摇）。

愿黑龙江摇摇、山东摇摇、西藏摇摇、内蒙古摇摇。

愿下列省份中，糖料作物以甘蔗为主的是（摇摇）。

愿黑龙江摇摇、山东摇摇、云南摇摇、甘肃摇摇。

愿我国的九大商品粮基地分布最多的区域是（摇摇）。

愿东北摇摇、西北摇摇、秦岭至淮河以南摇摇、青藏高原摇摇。

愿我国九大商品粮基地中，位置最南的是（摇摇）。

关于我国林业生产的叙述，正确的是（ ）。

- ①目前是世界上森林资源丰富的国家之一
- ②近年来，我国森林资源的采伐量超过了生长量
- ③我国已成为世界上人工造林成绩最显著的国家
- ④林业生产经营方式单一

关于我国畜牧业的叙述，正确的是（ ）。

- ①牧区主要分布在南方
- ②农耕区畜牧业在我国的畜产品生产中占主要地位
- ③牧区畜牧业不是我国国民经济中皮毛、肉奶的重要供应者
- ④牧区无需改革“靠天养畜”的生产方式和管理方式

关于水产业的叙述，正确的是（ ）。

- ①不是我国农业生产的重要组成部分
- ②我国西北部水产业发达
- ③我国发展水产事业的水域资源条件优越
- ④社会、经济、技术等因素对水产业的分布没有影响

我国正在实施的“ ”绿色工程有（ ）。

- ①“三北防护林”
- ②长江中下游防护林
- ③黄河中下游防护林
- ④山区农田防护林

三、填表题（每项 5 分，共 20 分）

| 对比项目<br>地区 | 耕地<br>(旱地或水田) | 粮食作物 | 农作物生长期天数<br>(较多或较少) |
|------------|---------------|------|---------------------|
| 秦岭至淮河以北    |               |      |                     |
| 秦岭至淮河以南    |               |      |                     |

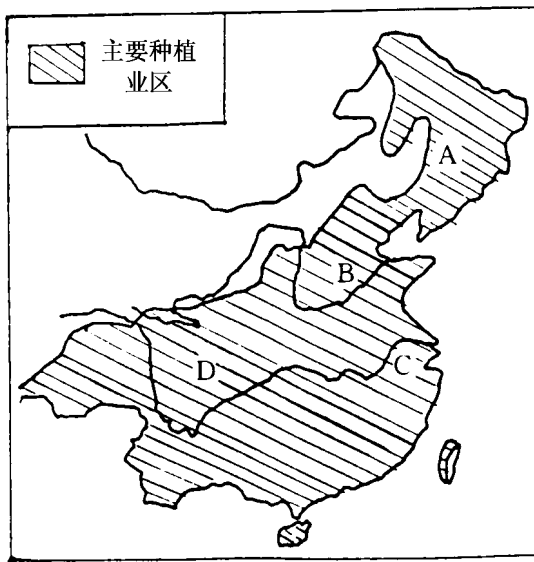
四、连线题（把下列名词与其定义用直线连接起来。每小题 5 分，共 20 分）

- ①种植业 ②是靠放牧或饲养牲畜而取得产品的生产部门
- ③林业 ④是在水域中进行天然捕捞、采集，或者人工养殖有价值的水生生物的生产部门
- ⑤畜牧业 ⑥是利用森林生长而获取产品的生产部门
- ⑦水产业 ⑧是在耕地上种植农作物的农业生产部门

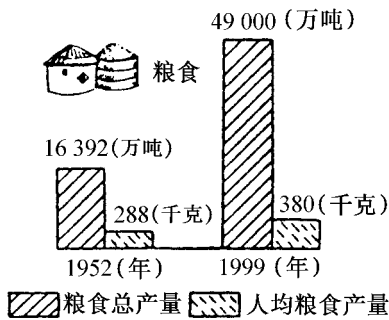
五、读图填空题（每空 5 分，共 20 分）

读下图。

图中种植业区 粤 月 悦 阅 所处的地形分别是：粤：          平原、月：          平原、悦：          平原、阅：          盆地。我国的种植业区主要分布在（干湿区）          区和          区。



阅读我国粮食总产量及其人均值的变化图。



我国粮食总产量及人均值的变化

1999年与1952年相比，粮食总产量增加了约\_\_\_\_\_倍，人均粮食产量增加了\_\_\_\_\_倍。人均粮食产量增加的倍数少于粮食总产量增加的倍数是由于\_\_\_\_\_。提高粮食产量的主要途径是：一是\_\_\_\_\_；二是\_\_\_\_\_。

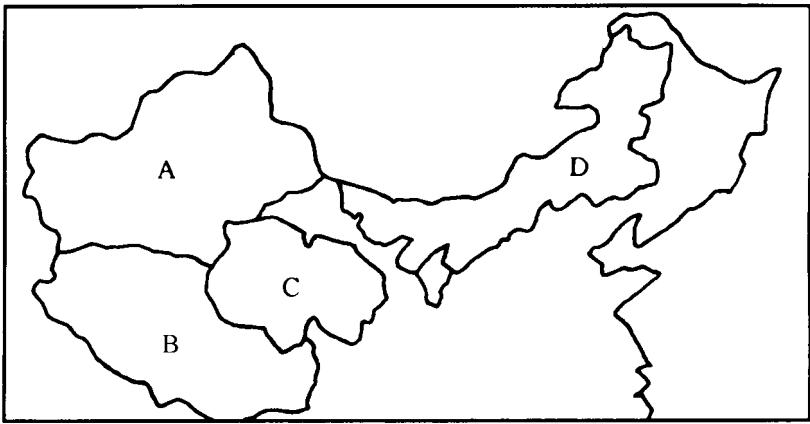
指出下图中的字母分别代表的牧区，并举出该牧区的一种主要优良畜种。

粤：\_\_\_\_\_牧区，主要优良畜种：\_\_\_\_\_。

月：\_\_\_\_\_牧区，主要优良畜种：\_\_\_\_\_。


悦：\_\_\_\_\_牧区，主要优良畜种：\_\_\_\_\_。

阅：\_\_\_\_\_牧区，主要优良畜种：\_\_\_\_\_。



阅读我国农业产值构成示意图。

在我国农业各部门中，种植业占着重要地位，这与世界发达国家农业以畜牧业为主的状况不同。此外，渔业和林业的比重太小。今后我国农业生产必须努力做到全面发展，既要保证粮食生产，又要使经济作物、畜牧、水产、林业等部门全面发展。



我国农业产值构成示意图

六、简答题（第 1 小题 2 分，第 2 小题 3 分，共 5 分）

1. 我国的九大商品粮基地是哪些？

2. 怎样实现农业的可持续发展？

七、选做题（5 分）

目前，我国为什么增加蔬菜和水果的种植面积？

# 第二单元目标检测题

得分 \_\_\_\_\_ 摇 \_\_\_\_\_ 年级 \_\_\_\_\_ 班摇学生 \_\_\_\_\_

## 一、填空题（每空 员分，共 员源分）

1. 工业是国民经济的摇摇摇摇产业。工业生产发展的水平，直接影响到摇摇摇、摇摇摇、摇摇摇和摇摇摇的现代化以及人民的生活水平。

2. 我国工业发展的特点是：有较高的摇摇摇速度，形成了独立的摇摇摇摇和日趋合理的摇摇摇。

3. 我国与联合国制订的产业分类对照，我国目前已拥有其所列的摇摇摇工业门类。

4. 黄河中游的 \_\_\_\_\_、 \_\_\_\_\_、 \_\_\_\_\_ 三个省区因煤炭储量丰富，成为我国最主要的煤炭工业基地。

5. 我国的工业部门可以划分为摇摇摇和摇摇摇两大类。

## 二、选择题（把正确答案的字母代号填在括号内。每小题 猿分，共 猿分）

1. 发展和建立新兴高新技术产业的最重要条件是（ 摇摇 ）。

- 粤 自然资源丰富 摇 摇 摇 粤 劳动力资源丰富
- 愧 科技力量雄厚 摇 摇 摇 愧 位置优越

2. 新中国成立后新建的工业中心是（ 摇摇 ）。

- 粤 大连 摇 摇 粤 西安 摇 摇 愧 上海 摇 摇 愧 广州

3. 目前，我国的核电站主要分布在（ 摇摇 ）。

- 粤 陈南 摇 摇 粤 陈北 摇 摇 愧 西南 摇 摇 愧 西北

4. 重工业是（ 摇摇 ）。

- 粤 以生产生活资料为主的工业
- 粤 以生产消费资料为主的工业
- 愧 以生产生产资料为主的工业
- 愧 以生产生活资料和生产资料为主的工业

5. 下列代表石油的图例是（ 摇摇 ）。

- A. 
- B. 
- C. 
- D. 

6. 下列不属于京津唐地区工业城市的是（ 摇摇 ）。

- 粤 抚顺 摇 摇 粤 北京 摇 摇 愧 天津 摇 摇 愧 唐山

7. 全国最大的工业城市是（ 摇摇 ）。

- 粤 北京 摇 摇 粤 上海 摇 摇 愧 天津 摇 摇 愧 广州

8. 四大工业基地中距云南最近的是（ 摇摇 ）。

- 粤 辽中南地区 摇 摇 摇 粤 京津唐地区

沪宁杭地区、珠江三角洲地区  
拥有经济特区的工业基地是（ ）。

辽中南地区、京津唐地区

沪宁杭地区、珠江三角洲地区  
珠江三角洲地区的工业主要是（ ）。

机械、冶金、化工、纺织、食品等

采煤、冶金、陶瓷等

家用电器、服装、食品、玩具制造等

钢铁、石油加工、煤炭等

三、判断题（正确的打√，错误的打×。每小题 2 分，共 10 分）

山西能源基地、西昌卫星发射基地等是新中国成立后新建设起来的工业基地。（ ）

改革开放以来，在改革开放政策的推动下，为适应社会主义商品经济的发展，乡镇企业遍地开花。（ ）

乡镇企业的发展使工业在全国范围内得到迅速的发展。（ ）

乡镇企业只是促进了农村经济的发展。（ ）

经过奋斗，我国工业与发达国家的工业水平相比，在现代化技术、经营管理、人均产量等方面，差距已很小。（ ）

我国四大工业基地都分布在沿海。（ ）

我国四大工业基地是在原有工业基地的基础上扩建起来的。（ ）

北方的煤炭资源少，但水能资源丰富，建立了许多大、中、小型水电站。（ ）

京津唐地区约 1/3 的工业集中在唐山。（ ）

珠江三角洲靠近香港和东南亚，很多地方是侨乡，为利用外资发展本区工业提供了有利条件。（ ）

从工业产品的性质看，服装工业属轻工业。（ ）

四、连线题（把下列地区与对该地区的描述用线连接起来。每小题 2 分，共 10 分）

沪宁杭地区 我国著名的重工业基地

辽中南地区 我国北方最大的综合性工业基地

珠江三角洲地区 我国最大的综合性工业基地

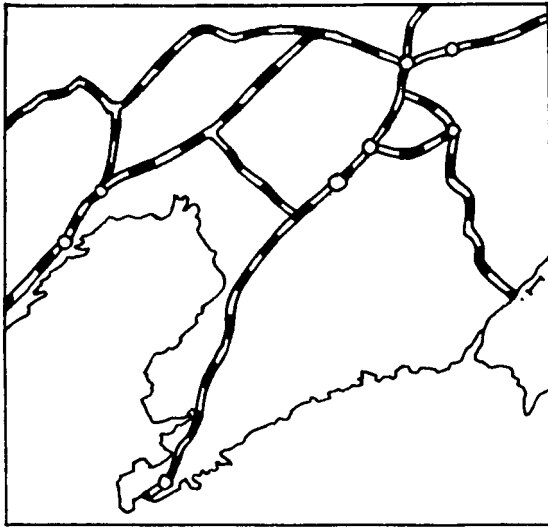
京津唐地区 以轻工业为主的综合性工业基地

五、读图填充题（第 1 题 2 分，第 2 题 3 分，共 5 分）

读辽中南地区简图。

(1) 在图上填出：沈阳、鞍山、本溪、辽阳、大连、渤海。

(2) 简要说明该地区发展工业的有利条件。



辽中南地区简图

阅读沪宁杭地区简图。

(员) 在图上填出：上海、南京、无锡、苏州、杭州、长江、东海。

(圆) 简要说明该地区发展工业的有利条件。



沪宁杭地区简图

## 六、简答题（20分）

为使我国工业进一步发展，尽快赶上世界工业发达的国家，我们要做的主要工作是哪些？

## 七、选做题（10分）

与旧中国相比，新中国的工业分布有哪些变化？

# 第三单元目标检测题

得分\_\_\_\_\_ 摇\_\_\_\_\_ 年级\_\_\_\_\_ 班摇学生\_\_\_\_\_

## 一、填空题（每空员分，共 猿分）

猿交通运输业主要是运送\_\_\_\_\_和\_\_\_\_\_，与人们的生产和生活息息相关。

圆摇摇摇摇是发展经济的“先行官”。

猿我国主要铁路干线可以分为两大组：摇摇摇干线和摇摇摇干线。

圆为便利山西煤炭外运，我国修建了摇摇摇摇铁路。

圆我国已建有摇摇摇摇摇摇线、摇摇摇摇摇摇线、摇摇摇摇摇摇线等高速公路。

圆我国航运比较发达的水系有摇摇摇、摇摇摇摇、摇摇摇及摇摇摇。

猿南昆铁路从\_\_\_\_\_南宁至\_\_\_\_\_昆明，从海拔 猿米米的\_\_\_\_\_盆地，爬上海拔 圆米米的\_\_\_\_\_高原，使西南内陆与有绵长海岸、便捷通道的\_\_\_\_\_地区联成一体。

圆我国海运分为摇摇摇航线和摇摇摇航线。

圆摇摇摇、摇摇摇、摇摇摇是我国重要的国际航空港。

圆张江航道被誉为“摇摇摇摇摇摇”，通航里程摇摇摇千米。摇摇摇航道，常年通航里程仅次于长江。

圆我国的远洋航线分为摇摇摇、摇摇摇、摇摇摇和摇摇摇航线。

## 二、选择题（把正确答案的字母代号填在括号内。每小题 圆分，共 圆分）

圆队从乌鲁木齐到北京去开会，要第二天赶到，应乘用的交通工具是（摇摇）。

圆飞机摇摇 圆火车摇摇 圆汽车摇摇 圆轮船

圆至 圆年底没有通铁路的省级行政区是（摇摇）。

圆新疆摇摇 圆西藏摇摇 圆内蒙古摇摇 圆甘肃

圆我国最重要的运输方式是（摇摇）。

圆航空摇摇 圆公路摇摇 圆铁路摇摇 圆水运

圆我国新建成的南北铁路干线是指（摇摇）。

圆南昆线摇摇 圆陇海线摇摇 圆京广线摇摇 圆京九线

圆我国内河运输的大动脉是（摇摇）。

圆长江摇摇 圆黄河摇摇 圆珠江摇摇 圆松花江

圆珠江水运的中心是（摇摇）。

圆广州摇摇 圆深圳摇摇 圆南宁摇摇 圆梧州

圆我国南方沿海航区的中心是（摇摇）。

圆厦门摇摇 圆广州摇摇 圆湛江摇摇 圆海口

圆我国远洋运输总载重吨位居世界（摇摇）。

第一位 第二位 第三位 第四位

下列关于航空运输的叙述，正确的是（ ）。

航空运输快速便捷，适于运输任何一种货物

近年来，我国的航空运输发展缓慢

新中国成立前，我国有 条航空线

我国的国际航空线可以通往亚洲、非洲、欧洲、北美洲和大洋洲的许多国家  
下列关于邮电事业的叙述，正确的是（ ）。

邮电是传递信息的惟一手段

我国的邮电事业还赶不上社会主义建设发展和国际交往的需要，仍是国家建设的重点项目

我国邮电事业在新中国成立前就很发达

邮电业不属于交通事业

三、按要求排列顺序（排列对比空运、陆运、水运三种运输方式。每小题 分，共 分）

运输价格从高到低的顺序： 。

速度从快到慢的顺序： 。

运量从大到小的顺序： 。

四、填表题（每项 分，共 分）

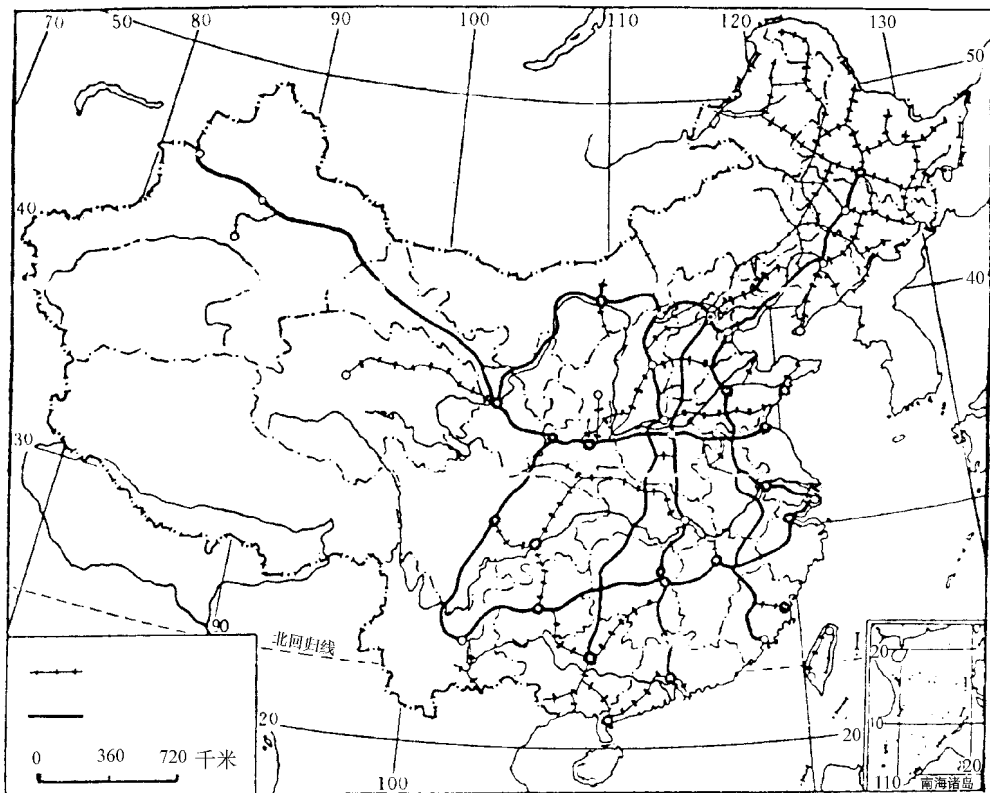
现有几种货物，要从下面的起点运到终点，用打√来表示所选择的最佳运输方式。

| 货物类别和数量 | 起点至终点     | 铁路 | 公路 | 河运 | 海运 | 航空 |
|---------|-----------|----|----|----|----|----|
| 圆箱急救药品  | 北京—拉萨     |    |    |    |    |    |
| 吨活鱼     | 密云水库—北京城区 |    |    |    |    |    |
| 吨钢材     | 上海—济南     |    |    |    |    |    |
| 万吨海盐    | 天津—上海     |    |    |    |    |    |
| 万吨大米    | 武汉—上海     |    |    |    |    |    |

五、读图填充题（每项 分，共 分）

在中国铁路主要干线填充图上填出铁路干线：京广线、京沪线、成昆线、陇海线、兰新线、贵昆线；填出重要铁路枢纽：北京、郑州、株洲、成都。

乘火车由哈尔滨到广州，经过 最近。



中国铁路主要干线填充图

图右图的数字代码所表示的港口分

别为：

- ① 摇摇摇摇摇摇摇摇
- ② 摇摇摇摇摇摇
- ③ 摇摇摇摇摇摇摇摇
- ④ 摇摇摇摇摇摇
- ⑤ 摇摇摇摇摇摇摇摇
- ⑥ 摇摇摇摇摇摇
- ⑦ 摇摇摇摇摇摇摇摇
- ⑧ 摇摇摇摇摇摇
- ⑨ 摇摇摇摇摇摇摇摇
- ⑩ 摇摇摇摇摇摇
- ⑪ 摇摇摇摇摇摇摇摇
- ⑫ 摇摇摇摇摇摇



# 期中检测题

得分\_\_\_\_\_ 摇\_\_\_\_\_ 年级\_\_\_\_\_ 班摇学生\_\_\_\_\_

## 一、填空题（每空 员分，共 圆分）

员提高粮食产量的主要途径：一是要珍惜和合理利用每一寸摇摇摇；二是要用科学方法种田，提高单位面积粮食的产量和摇摇摇。

圆在摇摇摇基地，粮食生产专业化，可以大规模使用优良种子、先进的种植技术和经营管理方法。

猿摇摇摇业是利用森林生长而获取产品的生产部门。

源我国的畜牧业可以分为牧区畜牧业和摇摇摇摇摇畜牧业。

缘摇摇摇业是国民经济的主导产业。

远我国工业与经济发达国家的工业水平相比，在摇摇摇摇摇、摇摇摇摇摇、摇摇摇摇摇等方面，差距还很明显。

苑为使我国工业进一步发展，要采取有效措施，集中足够力量，加强摇摇摇摇、摇摇摇摇等基础工业的建设。

愿我国的工业部门可以划分为摇摇摇摇摇和摇摇摇摇摇两大类。摇摇摇摇摇是以生产生活资料为主的工业。

怨新中国建立前，我国修筑的铁路只有 圆圆万千米。这些铁路大多集中在摇摇摇和摇摇摇地区。

员我国铁路南北干线与东西干线交叉或衔接处，形成许多重要的摇摇摇摇摇摇摇摇摇摇。

圆摇摇摇摇摇摇高速公路通车后，珠江三角洲地区的新鲜蔬菜、活鱼等就能在当天早晨运到香港，赶早市以优价出售。

猿我国北方沿海航区以摇摇摇、摇摇摇为中心。

## 二、选择题（把正确答案的字母代号填在括号内。每小题 员分，共 圆分）

员我国国民经济的基础是（摇摇）。

圆工业摇摇 猿农业摇摇 源交通业摇摇 缘商业

圆下列关于种植业的叙述，不正确的是（摇摇）。

圆种植业是在耕地上种植农作物的农业生产部门

猿种植业要求有适宜耕作的土地

源种植业要求有可供农作物生长需要的足够的热量、水分、光照等气候条件

缘世界上温带和热带的一些高原地区，往往成为人类发展种植业最早的区域

猿下列地区不是我国牧区主要分布地的是（摇摇）。

圆半干旱草原地区摇摇 猿干旱草原地区

源温带平原地区 缘青藏高原地区

下列关于我国林业生产的叙述，正确的是（ ）。

目前，我国是世界上森林资源丰富的国家之一。  
近年来，我国森林资源的采伐量超过了生长量。  
我国已成为世界上人工造林成绩最显著的国家。  
我国林业生产经营方式单一。

新中国成立前，我国工业（ ）。

大部分集中在内陆城市。  
大部分集中在沿海城市。  
乡镇企业发达。

目前，我国经济发展速度在世界各国中居（ ）。

第一位。  
第二位。  
第三位。  
第四位。  
我国著名的重工业基地是（ ）。

辽中南地区。  
京津唐地区。

沪宁杭地区。  
珠江三角洲地区。

我国最大的综合性工业基地是（ ）。

辽中南地区。  
京津唐地区。

沪宁杭地区。  
珠江三角洲地区。

我国最大的工业城市是（ ）。

北京。  
天津。  
上海。  
广州。

下列城市属于经济特区的是（ ）。

广州。  
深圳。  
大连。  
天津。

发展经济的“先行官”是（ ）。

工业。  
农业。  
交通业。  
商业。

下列关于公路运输的叙述，正确的是（ ）。

机动灵活。  
速度最快。  
运量最大。  
运输价格最高。  
我国目前没有通铁路的省区是（ ）。

内蒙古。  
青海。  
新疆。  
西藏。

我国最重要的运输方式是（ ）。

航空运输。  
铁路运输。  
汽车运输。  
水运。

为便利山西煤炭外运，修建了（ ）。

京九铁路。  
南昆铁路。  
大秦铁路。  
陇中铁路。

下列水系航运不发达的是（ ）。

长江。  
黄河。  
松花江。  
珠江。

既跨长江干流又跨黄河干流的铁路线是（ ）。

宝成线。  
兰新线。  
湘黔线。  
京沪线。

下列关于海洋运输的叙述，正确的是（ ）。

目前，我国是世界海运大国之一。

我国海运分为北方沿海航区和南方沿海航区。

我国南方沿海航区以上海为中心。

我国远洋运输总载重吨位居世界首位

下列城市不属于我国重要国际航空港的是（ ）。

北京 上海 广州 深圳

我国内河运输的大动脉是（ ）。

黄河 长江 珠江 松花江

三、填表题（每项 5 分，共 20 分）

填写下表我国北方和南方的主要农产品。

| 地区 \ 作物 | 粮食作物 | 油料作物 | 糖料作物 |
|---------|------|------|------|
| 北方      |      |      |      |
| 南方      |      |      |      |

现有几种货物，要从下面的起点运到终点，用打√来表示所选择的最佳运输方式。

| 货物类别和数量 | 起点至终点     | 铁路 | 公路 | 河运 | 海运 | 航空 |
|---------|-----------|----|----|----|----|----|
| 急救药品    | 北京—拉萨     |    |    |    |    |    |
| 活鱼      | 密云水库—北京城区 |    |    |    |    |    |
| 吨钢材     | 上海—济南     |    |    |    |    |    |
| 万吨海盐    | 天津—上海     |    |    |    |    |    |
| 万吨大米    | 武汉—上海     |    |    |    |    |    |

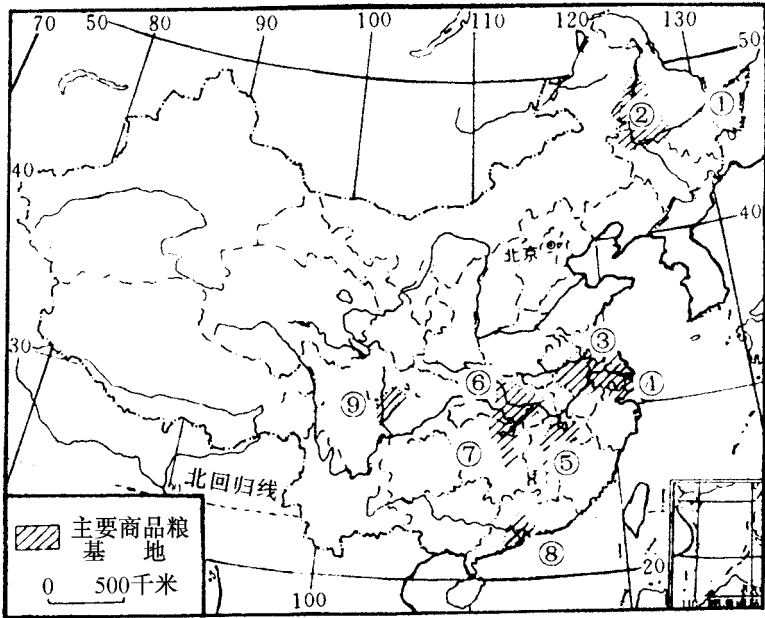
四、连线题（把我国主要牧区及其相应优良牧畜品种用直线连接起来。每小题 5 分，共 20 分）

- 新疆牧区 — 牦牛
- 西藏牧区 — 三河马、三河牛
- 青海牧区 — 细毛羊
- 内蒙古牧区

五、读图填充题（每项 5 分，共 20 分）

读我国九大商品粮基地图，图中的数字代码所表示的商品粮基地是：

- ①
- ②
- ③
- ④
- ⑤
- ⑥
- ⑦
- ⑧
- ⑨



我国九大商品粮基地图

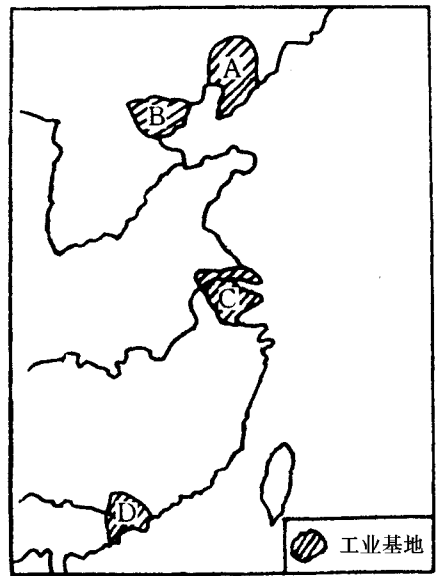
阅读我国四大工业基地分布图，图中粤、沪、粤、闽所代表的工业基地是：

粤：摇摇摇摇摇

沪：摇摇摇摇摇

粤：摇摇摇摇摇

闽：摇摇摇摇摇



我国四大工业基地分布图