



# 历史

初中三年级上学期

# 单元测试

# 卷

- 由名教师出题
- 与新教材同步

青岛出版社

书 名 人教版义务教育三年制初中教科书  
单元测试卷·历史(初中三年级上学期)

编 者 本书编写组

出版发行 青岛出版社

社 址 青岛市徐州路 77 号(266071)

本社网址 <http://www.qdpub.com>

邮购电话 13335059110 5814611-8664

传 真 (0532)5814750

责任编辑 贺中原

封面设计 张小玉

照 排 青岛新华出版照排有限公司

印 刷

出版日期 2004 年 7 月第 6 版 2004 年 7 月第 13 次印刷

开 本 8 开(787mm×1092mm)

印 张 4.5

字 数 60 千

书 号 ISBN 7-5436-0910-X/G·440

定 价 5.50 元

盗版举报电话 (0532)5814926

(青岛版图书售出后如发现印装质量问题,请寄回承印厂调换。)

# 目 录

## 世界历史第一册

单元测试题(A) .....	[ 1 ]
单元测试题(B) .....	[ 5 ]
单元测试题(C) .....	[ 9 ]
第一册期中测试题 .....	[13]
单元测试题(D) .....	[17]
单元测试题(E) .....	[21]
单元测试题(F) .....	[25]
单元测试题(G) .....	[29]
第一册综合测试题 .....	[33]

## 世界历史第二册

单元测试题(A) .....	[37]
单元测试题(B) .....	[41]
单元测试题(C) .....	[45]
单元测试题(D) .....	[49]
单元测试题(E) .....	[53]
第二册综合测试题 .....	[57]

参考答案 .....	[61]
------------	------

# 世界历史第一册

## 单元测试题(A)

(第1~4课)

### 一、选择题(1分×20)

1. 根据人类学家研究,人类约形成于多少年前? ( )  
A. 170 万年                      B. 三四百万年                      C. 70~20 万年                      D. 二三百万年
2. 古代埃及从开始统一到灭亡,先后经历了约: ( )  
A. 3000 年                      B. 2500 年                      C. 2000 年                      D. 1500 年
3. 初步统一的古埃及定都在: ( )  
A. 开罗                      B. 孟斐斯                      C. 底比斯                      D. 巴比伦
4. 古埃及被波斯所灭,其灭亡的时间相当于中国的: ( )  
A. 商朝                      B. 西周                      C. 春秋                      D. 战国
5. 现代犹太人的祖先是: ( )  
A. 苏美尔人                      B. 阿卡德人                      C. 希伯来人                      D. 腓尼基人
6. 在古代印度种姓制度中,把持军政大权的是: ( )  
A. 婆罗门                      B. 刹帝利                      C. 吠舍                      D. 首陀罗
7. 按时间顺序排列下列区域进入奴隶社会的先后顺序: ( )  
①尼罗河流域    ②黄河流域    ③印度河流域    ④两河流域  
A. ①②③④                      B. ①④③②                      C. ③②①④                      D. ①③④②
8. 佛教迅速传播的原因是: ( )  
A. 因为它宣扬“众生平等”  
B. 因为它既反对婆罗门的特殊地位,又反对奴隶制度  
C. 因为它宣扬“忍耐服从”,得到国王的支持  
D. 因为它让人消灭欲望
9. 公元前 18 世纪,统一两河流域的是: ( )  
A. 胡夫                      B. 汉谟拉比                      C. 阿育王                      D. 哈佛拉
10. 古代印度“种姓制度”中,向国家纳税、向神庙上供的等级是: ( )  
A. 婆罗门                      B. 刹帝利                      C. 吠舍                      D. 首陀罗
11. 古代印度种姓制度的四个等级中,统治阶级包括: ( )  
①婆罗门    ②刹帝利    ③吠舍    ④首陀罗  
A. ①②③                      B. ①②                      C. ①                      D. ②
12. 佛教的产生有利于哪一等级? ( )

- A. 婆罗门                      B. 刹帝利                      C. 吠舍                      D. 首陀罗

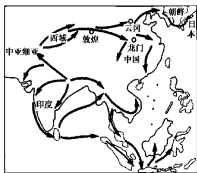
13. 排列下列事件的先后顺序: ( )

- ①古代印度产生    ②古代印度基本统一    ③佛教诞生    ④佛教外传

- A. ①②③④                      B. ①③②④                      C. ③①②④                      D. ①③④②

14. 读右图“佛教的传播”,当佛教经中亚向东传入我国时,我国正处在哪一时期? ( )

- A. 秦朝                              B. 西汉  
C. 东汉                              D. 南北朝



15. 为以后字母文字奠定了基础的是: ( )

- A. 象形文字                      B. 楔形文字  
C. 腓尼基字母                      D. 希腊字母

16. 古代埃及人使用的历法是: ( )

- A. 太阳历                      B. 太阴历                      C. 夏历                      D. 殷历

17. 通过观察月亮圆缺变化规律编制的历法是: ( )

- A. 太阳历                      B. 星期制度                      C. 太阴历                      D. 公历

18. 七天一星期的制度源于: ( )

- A. 古代西亚                      B. 古代埃及                      C. 古代印度                      D. 古代希腊

19. 世界通用的阿拉伯数字的发明者是: ( )

- A. 古埃及人                      B. 古印度人                      C. 古阿拉伯人                      D. 古西亚人

20. 世界上建立最早的统一的奴隶制国家是: ( )

- A. 古代中国                      B. 古代埃及                      C. 古代印度                      D. 古代希腊

## 二、填空题(1分×20)

1. 约公元前\_\_\_\_\_年,印度河流域开始出现奴隶制小国,公元前\_\_\_\_\_世纪,印度半岛基本统一。公元前\_\_\_\_\_世纪,佛教产生。公元前\_\_\_\_\_世纪,佛教有了更大发展,并开始向古代印度以外传播。

2. 世界上最早的奴隶制小国建立于公元前约\_\_\_\_\_年,中国第一个奴隶制国家夏朝建立于约公元前\_\_\_\_\_年。

3. 初步统一的古埃及国家建立于公元前\_\_\_\_\_年左右;古巴比伦王国国王\_\_\_\_\_于公元前\_\_\_\_\_世纪统一了两河流域,他在位期间制定了一部著名的\_\_\_\_\_。

4. 在历法方面,古代埃及人制定了世界上最早的\_\_\_\_\_;中国最早的历法称\_\_\_\_\_;古代两河流域的人们编制了\_\_\_\_\_。

5. 古代亚非居民在建筑方面有许多奇迹:埃及除金字塔外还有\_\_\_\_\_,西亚有\_\_\_\_\_,中国有\_\_\_\_\_。

6. 古代两河流域把圆周分为\_\_\_\_\_度,古代埃及人推算出圆周率为\_\_\_\_\_。

7. 古代埃及人最早使用的文字叫\_\_\_\_\_,古代西亚广泛使用\_\_\_\_\_文字。

## 三、阅读分析填表题(阅读下列历史材料,并将序号填入题后相应的表格内,共16分)

- ①象形文字                      ②木乃伊                      ③楔形文字                      ④字母文字

⑤ 六十进位法

⑥ “0”的符号

⑦ 《摩诃婆罗多》

⑧ 狮身人面像

⑨ 太阳历

⑩ 金字塔

■ 卡尔纳克神庙

■ 太阳历

■ 星期制度

■ 空中花园

■ 佛教

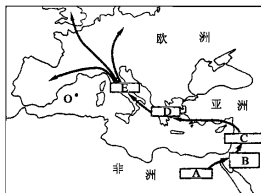
■ 《罗摩衍那》

古代埃及		古代西亚		古代印度	
------	--	------	--	------	--

#### 四、读图分析题(14分)

1. 读右图“西方字母的渊源与发展”请回答:(6分)





(1)根据古代文字的发展演变顺序,图中A、B、C、D、E所代表的文字名称分别是什么?



西方字母的渊源与发展

(2)为后来字母文字奠定基础的是图中什么字母所示文字?

2. 读下图,请回答:(8分)

			
A	B	C	D

(1)A、B、C、D所代表的世界四种古老的文字,名称分别是什么?

(2)它们分别产生于哪个国家或地区?

#### 五、列举题(18分)

1. 列举亚非文明古国所创制的四种文字及所属国家或地区。(8分)

2. 列举古代印度等级制度的四个等级及所含社会阶层。(10分)

## 六、材料解析题(12分)

阅读下面材料(下面材料源于右图文物)：

材料1：倘理发师未告之奴隶之主人而剃去其奴隶之奴隶标志者则其理发师应断指。

材料2：倘若奴隶告其主人云“你非吾之主人”，则其主人应证实其为自己的奴隶，而后其主人得割其耳。



请回答：

(1)图中所示文物的名称是什么？

(2)是谁制订的？

(3)此文物保存下来有何历史意义？

(4)以上两段材料告诉了我们什么？

# 单元测试题(B)

(第5~9课)

## 一、选择题(1分×20)

1. 斯巴达和雅典建立于: ( )  
A. 公元前12世纪  
B. 公元前8世纪  
C. 公元前6世纪  
D. 公元前5世纪
2. 雅典成为著名的奴隶制共和国是在: ( )  
A. 公元前8世纪  
B. 公元前6世纪  
C. 公元前5世纪  
D. 公元前3世纪
3. 希腊空前繁荣是在: ( )  
A. 公元前8世纪  
B. 公元前5世纪  
C. 公元前6世纪  
D. 公元前4世纪
4. 右图是雅典处于全盛时期的当政者,他是: ( )  
A. 李奥尼达  
B. 腓力二世  
C. 亚历山大  
D. 伯利克里
5. 公元前5世纪地中海的霸主是: ( )  
A. 斯巴达  
B. 雅典  
C. 腓尼基  
D. 犹太王国
6. 雅典是古代希腊最繁荣的城邦,它的繁荣主要体现在: ( )  
①经济兴旺,文化昌盛  
②称霸整个希腊  
③全体居民都能参政议政  
④广泛使用奴隶劳动  
A. ①②③④  
B. ①③④  
C. ①④  
D. ②③
7. 罗马帝国初期的200年史称: ( )  
A. “罗马和平”时期  
B. “罗马分裂”时期  
C. 罗马危机时期  
D. 罗马扩张时期
8. 公元前6世纪末,欧洲有两个重要的奴隶制共和国,它们是: ( )  
①雅典 ②斯巴达 ③罗马 ④马其顿  
A. ①③  
B. ②④  
C. ②③  
D. ③④
9. 斯巴达克起义发生在: ( )  
A. 罗马共和国时期  
B. 罗马帝国时期  
C. 西罗马帝国时期  
D. 东罗马帝国时期
10. 罗马成为地跨欧、亚、非三洲的大帝国是在: ( )  
A. 公元前1世纪  
B. 公元前2世纪  
C. 公元1世纪  
D. 公元2世纪
11. 罗马帝国建立时我国正处于: ( )



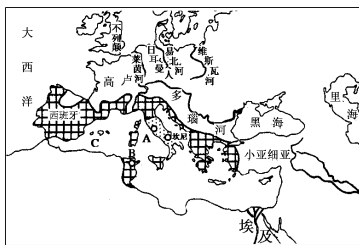
- A. 西周                      B. 秦朝                      C. 西汉                      D. 东汉
12. 曾是地中海霸主的古代国家有： ( )  
 ①希伯来王国 ②埃及 ③雅典 ④斯巴达 ⑤罗马共和国  
 A. ①②③                      B. ②④                      C. ①④⑤                      D. ③⑤
13. “罗马和平”局面出现的原因是： ( )  
 ①帝国建立后奴隶制度解体                      ②长期内战结束, 社会环境安定  
 ③大规模奴隶劳动、经济繁荣                      ④奴隶主统治加强, 压制了人民的反抗  
 A. ①④                      B. ②③                      C. ②④                      D. ①③
14. 西罗马帝国灭亡的原因是： ( )  
 ①社会危机严重 ②民族压迫深重 ③人民普遍不满 ④斯巴达克起义 ⑤外族不断入侵  
 A. ①②③⑤                      B. ①③④⑤                      C. ②③④⑤                      D. ①②③④⑤
15. 排列下列历史事件的先后顺序： ( )  
 ①凯撒夺取政权 ②斯巴达克起义 ③共和国时期结束 ④日耳曼人进攻罗马  
 ⑤罗马帝国分裂 ⑥西罗马帝国灭亡  
 A. ①②③④⑤⑥                      B. ②①③④⑤⑥  
 C. ②①③⑤④⑥                      D. ①③②④⑤⑥
16. 古希腊历史学家修昔底德的著作是： ( )  
 A. 《历史》                      B. 《罗马史》                      C. 《伯罗奔尼撒战争史》                      D. 《自然史》
17. 现在世界上最通用的字母是： ( )  
 A. 英文字母                      B. 希腊字母                      C. 拉丁字母                      D. 欧洲字母
18. 被称为“悲剧之父”和“喜剧之父”的是： ( )  
 ①希罗多德 ②亚里士多德 ③维吉尔 ④埃斯库罗斯 ⑤阿里斯多芬  
 A. ①②                      B. ③④                      C. ④⑤                      D. ③⑤
19. 西欧封建社会的最初几百年里, 经济发展缓慢, 当时中国正处于： ( )  
 A. 秦汉时期                      B. 隋唐时期                      C. 唐宋时期                      D. 宋元时期
20. 欧洲开始向封建社会过渡比中国晚了约： ( )  
 A. 800 多年                      B. 900 多年                      C. 1000 多年                      D. 1100 多年

## 二、填空题(1分×20)

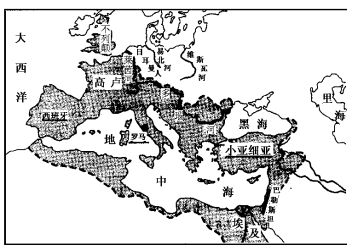
1. 公元前\_\_\_\_\_世纪后期, \_\_\_\_\_军队打败了希腊联军, 控制了希腊。不久, \_\_\_\_\_继承王位并出兵东征, 建立起地跨欧、亚、非三洲的大帝国, 首都\_\_\_\_\_。
2. 公元前5世纪和公元前2世纪, 地中海的霸主分别是\_\_\_\_\_和\_\_\_\_\_。
3. 公元前\_\_\_\_\_年, 罗马成为共和国; 公元前\_\_\_\_\_年, 屋大维独揽各项大权, 罗马进入帝国时期; \_\_\_\_\_年, 罗马帝国分裂为东西两部; \_\_\_\_\_年, 西罗马帝国灭亡。
4. \_\_\_\_\_灭亡以后, 西欧封建制度逐渐形成, 约\_\_\_\_\_世纪开始确立。当时, \_\_\_\_\_是主要财富, 西欧建立了层层分封的等级制度, 封建主靠剥削\_\_\_\_\_为生。
5. 基督教会不但直接剥削耕种教会土地的\_\_\_\_\_, 还向全体居民征收\_\_\_\_\_。11世纪, 分别以\_\_\_\_\_和\_\_\_\_\_为中心, 基督教会正式分裂为天主教和东正教。
6. 古希腊创立多学科体系的科学家是\_\_\_\_\_; 古代罗马科学家普林尼写成《\_\_\_\_\_》。

### 三、读图分析题(12分)

1.



A




B

以上是古代罗马的版图,图 A 是\_\_\_\_\_世纪时的\_\_\_\_\_国的版图,图 B 是\_\_\_\_\_世纪时的\_\_\_\_\_国的版图。\_\_\_\_\_年,帝国分裂为东、西两部分,\_\_\_\_\_年,西罗马帝国灭亡。

2. 右图人物是古希腊盲诗人\_\_\_\_\_,他著有欧洲最著名的长篇文学作品之一《\_\_\_\_\_》,罗马人\_\_\_\_\_写的《\_\_\_\_\_》也很有名。

3. 下图人物是\_\_\_\_\_,他在位时建立了地跨三洲的大帝国,都城是在\_\_\_\_\_。



### 四、列举题(27分)

1. 列举地跨欧、亚、非三洲的大帝国。(6分)
2. 列举 9 世纪时欧洲的主要封建国家。(6分)
3. 列举古代希腊、罗马的历史名著及作者。(9分)

4. 列举下列时间发生的大事:(6分)

- |            |           |
|------------|-----------|
| ①公元前 509 年 | ②公元前 73 年 |
| ③公元 395 年  | ④公元 843 年 |
| ⑤公元 1 世纪   | ⑥公元 11 世纪 |

## 五、阅读分析填表题(6分,阅读下列历史材料,并将序号填入题后相应的表格内,干扰项不得填入)

①伯利克里执政期间,奴隶主民主政治发展到古代世界的高峰 ②公元前27年,屋大维独揽各项大权 ③最早发明阿拉伯数字 ④毕达哥拉斯提出了毕达哥拉斯定理 ⑤百科全书式的学者普林尼,著有《自然史》 ⑥圆形剧场 ⑦“悲剧之父”

古希腊		古罗马	
-----	--	-----	--

## 六、材料解析题(15分)

1.(9分)阅读下面材料:

材料1:“富人进天国,比骆驼穿针眼还要难。”

材料2:耶稣曾对他的信徒说:“你们不要以为我来是叫世人太平,乃是叫地上动刀兵。”

材料3:耶稣说:“你们听见有人说,以眼还眼,以牙还牙。只是我告诉你们,不要与恶霸人作对;有人打你的右脸,连左脸也转过来给他打……你听见有人说,当爱你的邻舍,恨你的仇敌。只是我告诉你们要爱你的仇敌。”

材料4:“在世上有权柄的人,人人当服从他。因为没有权柄不是出于上帝的命令,抗拒的必自取刑罚。”

请回答:

- (1)材料1和材料2反映的是基督教会哪一时期的什么情况?
- (2)材料3和材料4反映的是基督教会的什么情况?
- (3)罗马皇帝对基督教会的态度前后有什么不同?为什么会发生改变?

2.(6分)阅读下面材料:

“我爱吾师,我更爱真理。”

请回答:

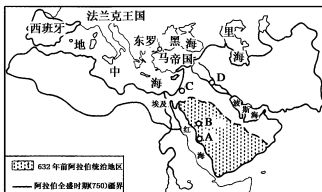
- (1)这句话是谁说的?他是哪国人?
- (2)这句话表现了作者什么高贵品质?
- (3)他的主要贡献是什么?

# 单元测试题(C)

(第 10~14 课)

## 一、选择题(1分×20)

1. 朝鲜半岛基本实现统一是在在： ( )  
A. 646 年                      B. 667 年                      C. 676 年                      D. 766 年
2. 日本进入幕府统治是在在： ( )  
A. 11 世纪末                      B. 12 世纪末                      C. 13 世纪末                      D. 14 世纪末
3. 大化改新标志着日本： ( )  
A. 由原始社会向奴隶社会过渡                      B. 由奴隶社会向封建社会过渡  
C. 由封建社会向资本主义社会过渡                      D. 由原始社会向封建社会过渡
4. 日本大化改新时中国在位的皇帝是： ( )  
A. 唐高祖                      B. 唐太宗                      C. 唐玄宗                      D. 武则天
5. 下列与大化改新无关的是： ( )  
A. 依照中国隋唐的制度                      B. 国家每 6 年按人口把田地分给农民  
C. 承认土地私有、允许买卖                      D. 改革行政制度,加强中央集权
6. 朝鲜王朝建立时我国正处在： ( )  
A. 元朝                      B. 明朝初期  
C. 明朝后期                      D. 清朝
7. 伊斯兰教最早建立政教合一政权是在在： ( )  
A. 麦加                      B. 麦地那                      C. 耶路撒冷                      D. 巴格达
8. 阿拉伯帝国强盛时期,中国正处在在： ( )  
A. 西汉                      B. 唐朝                      C. 隋朝                      D. 宋朝
9. 下图是阿拉伯全盛时期的疆界。图中 A、B、C、D 所标注的四个地点中,阿拉伯帝国的都城是： ( )



阿拉伯帝国

10. 下列哪些是地跨欧、亚、非三洲的大帝国？ ( )
- ①亚历山大帝国 ②罗马帝国 ③西罗马帝国 ④查理曼帝国  
⑤拜占廷帝国 ⑥阿拉伯帝国 ⑦奥斯曼土耳其帝国
- A. ②④⑤⑥⑦ B. ①②④⑥⑦ C. ①③⑤⑥⑦ D. ①②⑤⑥⑦
11. 迪亚士的航海成就是： ( )
- A. 到达东方的印度 B. 进入印度洋  
C. 到达美洲的古巴、海地等 D. 完成了环球航行
12. 下列航海家开始探寻新航路的先后顺序是： ( )
- ①哥伦布 ②迪亚士 ③麦哲伦 ④达·伽马
- A. ②①④③ B. ②④①③ C. ②①④③ D. ④②①③
13. 麦哲伦船队环球航行的线路是： ( )
- A. 大西洋→印度洋→太平洋→大西洋→欧洲  
B. 大西洋→北冰洋→太平洋→印度洋→欧洲  
C. 大西洋→太平洋→印度洋→地中海→欧洲  
D. 大西洋→太平洋→印度洋→大西洋→欧洲
14. 新航路的开辟对哪一洲影响巨大？ ( )
- A. 非洲 B. 亚洲 C. 欧洲 D. 美洲
15. 意大利文艺复兴兴起于： ( )
- A. 12 世纪 B. 13 世纪 C. 14 世纪 D. 15 世纪
16. 文艺复兴时期大致上相当于中国的： ( )
- A. 唐朝时期 B. 宋朝时期 C. 元朝时期 D. 明朝时期
17. 文艺复兴时代首先冲破教会禁锢的自然科学是： ( )
- A. 天文学 B. 化学 C. 医学 D. 文学
18. 文艺复兴首先在意大利兴起,其根本原因是： ( )
- A. 天主教会以罗马为中心  
B. 许多杰出人物从意大利涌现出来  
C. 文艺复兴以古希腊、罗马古典文化为武器  
D. 资本主义萌芽最早产生于意大利
19. 下列对文艺复兴的表达不正确的是： ( )
- A. 体现了“人文主义”思想  
B. 以古希腊、罗马文化为武器,向封建神学作斗争  
C. 古典文化经过教会近千年的压制又复兴了  
D. 这种文化是为资产阶级服务的
20. 14 世纪发生在意大利的事件有： ( )
- ①宗教改革运动 ②新航路的开辟 ③资本主义生产的萌芽 ④文艺复兴
- A. ①② B. ②③ C. ③④ D. ①③④

## 二、填空题(1 分×20)

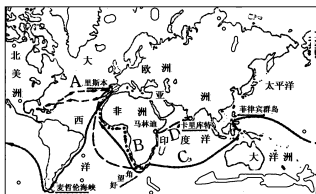
1. 7 世纪初,穆罕默德开始在\_\_\_\_\_传教,他创立的宗教是\_\_\_\_\_,其经典是《\_\_\_\_\_》。

2. 从公元前后起,统治朝鲜半岛的曾经有\_\_\_\_\_、\_\_\_\_\_、\_\_\_\_\_三个国家。
3. \_\_\_\_\_世纪末,奥斯曼土耳其建国,\_\_\_\_\_年,灭拜占廷帝国,\_\_\_\_\_世纪,成为地跨欧亚非三洲的大帝国。
4. 首先探索新航路的是\_\_\_\_\_,第一个到达美洲的航海家是\_\_\_\_\_,第一个环球航行的是\_\_\_\_\_率领的船队。
5. 文艺复兴时期第一位诗人是\_\_\_\_\_,最早明确提出以“人的学问”代替“神的学问”的是\_\_\_\_\_。
6. 拉伯雷是\_\_\_\_\_国人文主义作家,他的代表作是长篇讽刺小说《\_\_\_\_\_》。
7. 英国文艺复兴时期最杰出的戏剧家和诗人是\_\_\_\_\_;杰出的医生\_\_\_\_\_发现了心脏的功能和动脉、静脉的不同作用。
8. 15~16世纪,最热衷于寻找海外财富的两个欧洲国家是\_\_\_\_\_和\_\_\_\_\_。

### 三、材料解析题(20分)

1. (12分)读右图“新航路的开辟”,请回答:

(1)图中A、B、C、D分别是谁开辟的什么航线?



(2)新航路开辟中的“新”体现在什么地方?

(3)新航路的开辟有什么历史意义?

2. (8分)阅读下面材料:

这是一次人类从来没有经历过的最伟大的、进步的变革,是一个需要巨人而且产生了巨人——在思维能力、热情和性格方面,在多才多艺和学识渊博方面的巨人的时代。

——恩格斯

请回答:

(1)恩格斯的这段话是对什么历史事件的称颂?

(2)这一历史事件什么时间在哪里兴起?

(3)它实际上是一场什么运动?其指导思想是什么?

#### 四、列举题(共 22 分)

1. 列举 14~16 世纪,欧洲巨变的三个标志性事件。(3 分)
2. 列举地跨欧亚非三洲的大帝国。(5 分)
3. 列举文艺复兴时期四位天文学家及成就。(8 分)
4. 列举意大利文艺复兴时期“美术三杰”及代表作品。(6 分)

#### 五、阅读分析填表题(10 分,阅读下列历史材料,并将序号填入题后的相应表格内。)

①资本主义生产关系的萌芽首先在这里出现 ②迪亚士航行 ③《最后的晚餐》 ④提出“太阳中心说” ⑤《威尼斯商人》 ⑥“智力永远不停留在已经认识的真理,它将永远向前,走向未认识的真理。” ⑦发现了心脏的功能和动脉、静脉的不同作用 ⑧“人文主义之父” ⑨著名作家塞万提斯写了著名小说《堂吉诃德》 ⑩《牡丹亭》

意大利	葡萄牙	英国	西班牙	波兰	中国

#### 六、简答题(8 分)

大化改新的时间、内容和意义各是什么?

# 第一册期中测试题

## 一、选择题(1分×20)

- 世界上最早的统一的奴隶制国家是：( )  
A. 古代埃及                      B. 古代巴比伦                      C. 古代印度                      D. 古代中国
- 今天犹太人的祖先是：( )  
A. 苏美尔人                      B. 阿卡德人                      C. 希伯来人                      D. 腓尼基人
- 罗马共和国建立于：( )  
A. 公元前 5 世纪初                      B. 公元前 5 世纪末  
C. 公元前 6 世纪初                      D. 公元前 6 世纪末
- 下列国家中曾是地中海霸主的是：( )  
①古代埃及    ②古代罗马    ③古代希腊    ④雅典  
A. ①②                      B. ②③                      C. ②④                      D. ③④
- 罗马成为地跨欧、亚、非三洲的大帝国是在：( )  
A. 公元前 27 年                      B. 公元前 2 世纪  
C. 公元 1 世纪                      D. 公元 2 世纪
- 古代罗马一位百科全书式的学者是：( )  
A. 亚里士多德                      B. 毕达哥拉斯  
C. 普林尼                      D. 希罗多德
- 西欧比中国进入封建社会的时间晚了近：( )  
A. 900 年                      B. 1000 年                      C. 1100 年                      D. 1200 年
- 以下欧洲封建国家中不是由查理曼帝国分裂而来的是：( )  
A. 法兰西                      B. 英吉利                      C. 德意志                      D. 意大利
- 西欧封建社会开始确立的时间是：( )  
A. 约 8 世纪                      B. 约 9 世纪                      C. 约 10 世纪                      D. 约 11 世纪
- 基督教被定为国教的原因是：( )  
A. 基督教的救世主是耶稣                      B. 基督教领导人反对罗马的统治  
C. 基督教教义让人们忍受苦难                      D. “救世主”降临给人们带来精神寄托
- 朝鲜半岛以“朝鲜”为号开始于：( )  
A. 676 年                      B. 646 年                      C. 10 世纪                      D. 14 世纪
- 拜占廷帝国在历史上共经历了：( )  
A. 1848 年                      B. 977 年                      C. 1058 年                      D. 1929 年
- “法西斯”一词源于古代：( )  
A. 埃及                      B. 印度                      C. 罗马                      D. 希腊
- 下列不属于 7~10 世纪期间曾经在世界上存在过的帝国是：( )

- A. 唐朝帝国  
B. 奥斯曼土耳其帝国  
C. 阿拉伯帝国  
D. 查理曼帝国
15. 制作天文望远镜,证明新天文学正确性的是: ( )  
A. 哥白尼  
B. 布鲁诺  
C. 开普勒  
D. 伽利略
16. 和英国医生哈维处于同一时代的中国医学家是: ( )  
A. 孙思邈  
B. 华佗  
C. 王叔和  
D. 李时珍
17. 右图人物是文艺复兴时期英国的大戏剧家和诗人,他的作品有: ( )  
①《巨人传》 ②《神曲》 ③《威尼斯商人》 ④《哈姆雷特》  
A. ①②  
B. ②③  
C. ③④  
D. ①④
18. 下列内容属古埃及人成就是: ( )  
①象形文字 ②楔形文字 ③字母文字 ④太阳历 ⑤太阴历  
⑥星期制度 ⑦六十进位法 ⑧木乃伊 ⑨卡尔纳克神庙  
A. ③④⑧⑨  
B. ②⑤⑥⑦  
C. ①④⑧⑨  
D. ②⑤⑥⑧
19. 被誉为欧洲最重要的长篇文学作品的是: ( )  
A. 《伊尼特》  
B. 《荷马史诗》  
C. 《摩诃婆罗多》  
D. 《罗摩衍那》
20. 右图是一位多才多艺的艺术大师的自画像,他是: ( )  
A. 米开朗琪罗  
B. 达·芬奇  
C. 拉斐尔  
D. 莎士比亚



## 二、填空题(1分×15分)

- \_\_\_\_\_在位时,埃及成为地跨亚非两洲的军事帝国;公元前\_\_\_\_\_世纪,\_\_\_\_\_统一了两河流域。
- 公元前\_\_\_\_\_年,\_\_\_\_\_建立罗马帝国。朝鲜和日本历史上出现的第一个统一的国家分别是\_\_\_\_\_和\_\_\_\_\_。
- 中国资本主义萌芽的时间是\_\_\_\_\_,欧洲资本主义萌芽的时间是\_\_\_\_\_。
- 文艺复兴在意大利兴起的前提条件是\_\_\_\_\_,文艺复兴的实质是\_\_\_\_\_。《神曲》的作者是\_\_\_\_\_,“人文主义之父”是\_\_\_\_\_。
- 古代埃及建造的众多神庙中,最为宏伟壮观的是\_\_\_\_\_。古代两河流域建造的\_\_\_\_\_是古代世界奇迹之一,与埃及的金字塔齐名。

## 三、列举题(共19分)

- 列举世界三大宗教的名称、创立者及创立地点。(9分)
- 列举地跨欧、亚、非三洲的古代帝国及形成时间。(10分)