



2019年普通高等学校招生全国模拟联考

成绩

命题人 蒋国民(浙江衢州市教育局教研室 高级教师)

郑雪民(浙江衢州市二中 高级教师)

周捷宾(浙江衢州兴华中学 高级教师)

审题人 王国雄(湖北黄冈教育科学研究院 特级教师)

编 审 全国学习科学研究会考试研究部

第 I 卷(选择题,共 150 分)

一、在下列各题的四个选项中,只有一项是最符合题意的。每小题 3 分,共 150 分。

“民工荒,民工荒,企业心里真发慌”,2004年初,民工荒的问题摆在了东部沿海企业家们的面前。据此回答 1-4 题:

1.在我国东部沿海城市中,可以为入城的民工大量提供劳动就业的部门是 ()

粤 广告业 闽 金融业 浙 房屋装修业 闽 互联网服务业

2.针对民工荒问题,东部沿海企业应采取的主要对策是 ()

粤 加强宏观调控,营造良好环境 闽 扩大机器生产规模,减少使用民工
浙 改善生产条件,招收国外民工 闽 切实保障民工在企业中的合法权益

3.2004年 3 月 1 日,《中华人民共和国行政许可法》正式实施,这是我国行政审批制度改革的重要里程碑。据此回答 5-6 题:

5.行政许可法的出台从根本上是为了适应 ()

粤 经济体制改革的需要 闽 政治体制改革的需要
浙 文化体制改革的需要 闽 发展对外关系的需要

6.上述材料体现的唯物论的观点是 ()

粤 实践是认识的源泉 闽 具体问题具体分析
浙 意识具有能动作用 闽 主观必须符合客观

7.行政许可法的实施有利于:①我国政府向服务型转变 ②促进我国政府依法行政 ③加强人大行政职能 ④推动民主政治建设 ()

粤 ②③ 闽 ②④ 浙 ③④ 闽 ③④

8.上述材料体现的我国国家机构的组织活动原则是 ()

粤 依法行政原则 闽 民主集中制原则
浙 依法治国原则 闽 对人民负责原则

9.2004年 4 月 1 日,欧洲 15 个国家加入欧盟,这是欧盟历史上第五次也是规模最大的一次扩大。15 国入盟后,欧盟正式成员国达到 25 个。据此回答 10-11 题:

10.欧盟各国间的合作,体现了 ()

姓名

班级

学校



国家性质是国际关系的决定因素

国家力量是主权国家生存与发展的基础

各国都需要结盟

共同利益是国家间合作的基础

随着欧盟力量的不断加强,摆脱美国控制欧洲成为欧盟的目标,这体现了 ()

世界多极化趋势进一步发展

和平与发展是时代的主题

世界经济政治的一体化加深

综合国力是国际竞争的根本

汇率是连接国内外商品市场和金融市场的一条重要纽带,外汇因各种因素的影响不断变动,外汇的变动是一柄“双刃剑”。据此回答 1-2 题:

1. 汇率是指 ()

两国货币的价值之比

美元和欧元的比价

两种货币之间的兑换比率

国外汇储备的比例

2. 汇率变动是一柄“双刃剑”,从哲学常识的角度看,体现了 ()

矛盾具有特殊性

事物是普遍联系的

矛盾是对立统一的

事物是变化发展的

3. 保持人民币汇率基本稳定,有利于:①中国和世界经济的持续稳定发展 ②提高出口产品的质量和档次 ③扩大出口,增加贸易逆差 ④缩小国际贸易中的不等价交换 ()

选①

选②

选②③

选②③④

4. 2006 年 12 月 1 日,第七届中国艺术节在浙江省杭州市开幕,这次艺术节以“发展先进文化,振奋民族精神”为主题,以“艺术的盛会,人民的节日”为主旨。据此回答 5-6 题:

5. 社会上不良文化是未成年人犯罪的重要原因,据有关少管所调查资料反映,少年犯有 80% 以上受过不良文化的影响。为解决这一问题,要求国家首先要 ()

加强政治职能,打击青少年犯罪

加强文化职能,提供健康文明的精神产品

加强文化职能,杜绝青少年犯罪

加强公共服务职能,创造良好的生活环境

6. 我国重视发展先进文化的原因在于 ()

意识的内容来源于客观事物

正确意识对人们的实践活动有促进作用

认识的根本任务是获得理性认识

科学理论决定着客观事物的发展方向

当前,就业形势依然严峻,我国坚持劳动者自主择业,市场调节就业和政府促进就业的方针,实施积极的就业政策,努力改善创业和就业环境,鼓励企业创造更多的就业岗位。据此回答 7-8 题:

7. 党和国家千方百计促进就业和再就业,体现了:①中国共产党是中国最广大人民群众根本利益的代表 ②党和国家具有经济建设的职能 ③政府履行为社会发展创造良好环境的职能

④国家机构坚持对人民负责的原则 ()

选②③

选②④

选③④

选③④

8. “劳动者自主择业、市场调节就业、政府促进就业”的方针体现的哲理是 ()

具体问题具体分析

事物是相互联系的

悦事物都是一分为二的

阅实践是认识的来源

阅坚持上述方针,从经济学角度看:①有利于实现劳动者平等就业的权利 ②表明通过市场可以有效地调节社会资源的分配 ③能从根本上解决我国现阶段就业难的问题 ④体现了市场经济正常发展需要国家的宏观调控 ()

悦①②③

月①②④

悦③④

阅②③④

中共中央印发的《公民道德建设实施纲要》指出:“社会主义道德建设要引导人们把个人的理想与奋斗融入广大人民的共同理想和奋斗之中。”据此回答 阅问题:

阅新时期我国人民的共同理想是 ()

悦把我国建设成为富强、民主、文明的社会主义现代化国家

月消灭贫困,防止贫富两极分化,实现社会公平

悦实现小康目标,追求共同富裕

阅坚持四项基本原则,扩大对外开放

阅引导人们把个人的理想融入广大人民的共同理想之中,体现的哲理是 ()

悦个人理想总是与人民的共同理想相一致的

月个人与社会是辩证统一的关系

悦个人理想的选择必须服从共同理想的要求

阅为个人理想而奋斗就是为共同理想而奋斗

我国的回族目前只有 悦的人口聚居在宁夏和甘肃,其他人口散居在全国两千多个县市。他们都说汉语,却都称自己是回族人。据此回答 阅问题:

悦上述材料表明 ()

悦共同地域和共同经济生活是区分民族的首要的前提条件

月识别和划分民族不一定以四个特征为基本依据

悦共同语言和共同心理素质不存在,民族依然存在

阅共同心理素质有极大的稳定性,是区别民族最显著的特点

阅材料还表明我国 ()

悦坚持各民族共同繁荣的原则

月各民族形成了大杂居、小聚居的分布特点

悦各民族共同缔造了伟大祖国

阅建立平等、团结、互助的新型民族关系

据报道,赤道太平洋暖流向东扩展,东太平洋海面温度升高,热带大气海洋表现出偏暖方向发展的基本特征。我国气象专家据此预测,如果大气条件继续有利于海水增温,厄尔尼诺现象将有可能爆发。据此回答 阅问题:

阅我国气象专家,对厄尔尼诺现象的预测表明 ()

悦人们在实践基础上所形成的认识具有预见性

月意识可以脱离物质而存在

悦人具有主观能动性,能够认识和改造规律

实践是检验认识正确与否的惟一标准

目前,人们对厄尔尼诺现象的发生作出预报的能力不高,这说明 ()

人们难以认识复杂的事物

客观条件制约着人们主观能动性的发挥

意识具有能动作用

意识的反作用受物质决定作用的制约

据《经济日报》报道,各级药品监督管理部门要以新修改的《药品管理法》和《实施条例》为法律武器,进一步整顿和规范药品生产经营秩序,依法严厉打击制售假冒伪劣药品的违法活动。向全社会宣传《药品管理法》和《实施条例》,普及药品监督管理法律法规和用药知识,发动群众参与,接受群众监督,认真受理群众举报制售假冒伪劣药品违法案件。据此回答 1-4 题:

1. 全社会宣传用药知识 ()

表明消费者享有获得消费知识的权利

因为具备用药知识就能有健康的身体

是为了坚持市场经济的平等性和法制性

说明推销药品是各级药品管理部门的任务

2. 要以法律为武器整顿药品市场秩序,表明 ()

法律武器能提高药品质量

经营者只要依法经营就能有利可图

法律武器能打开药品销路

市场经济必须以健全的法制为基础

二、在下列各题的四个选项中,至少有一项是符合题意的。错选、多选,该题不给分;少选且正确的给 1 分。每小题 1 分,共 4 分。

十六大报告中指出,深化分配制度改革,建立健全同全国经济社会发展水平相适应的社会保障体系,是社会和国家长治久安的重要保证。据此回答 5-8 题:

5. 建立与社会主义市场经济相适应的社会保障制度 ()

是企业深化改革,充分发挥市场作用的必然条件

增强企业活力的客观要求

解决下岗职工出路的重要途径

维护劳动者合法权益,维护社会稳定的根本措施

6. 党和政府高度重视社会保障制度的建立和完善,这一事实体现了 ()

党全心全意为人民服务的宗旨

国家机关对人民负责的原则

中国共产党是人民群众根本利益的代表

建立和完善社会保障制度是我国现阶段的中心工作

7. 有条件的地方,探索建立农村养老保险和最低生活保障制度。为此,各级政府必须 ()

坚持一切从实际出发

具体问题具体分析

用发展的观点看问题

把握事物的因果联系

加速城市化是中国走新型工业化道路,实现未来经济高速增长的主要动力之一。据此回答 9-10 题:

9. 加快城市化步伐有利于扩大国内需求,促进农业现代化。这是因为 ()

城镇化是转移、吸纳农村富余劳动力的主要途径

城镇化有利于提高对农产品的市场需求

城镇化的推进能增加农民的收入

城镇化的发展能为农村提供大量的先进设备

我国人口数量庞大,农业人口占绝大多数,城市化水平每提高一个百分点,就意味着要有几千万农村人口转移到城市,搭上城市化的列车。这说明 ()

量变是事物变化的根据

质变的积累就会有质变的发生

事物是不断变化发展的

联系是普遍的又是客观的

一位中央领导曾经说过:“破坏资源环境就是破坏生产力,保护资源环境就是保护生产力,改善资源环境就是发展生产力。”“要促进人和自然的协调与和谐,使人们在优美的生态环境中工作和生活。”据此回答 1-3 题:

1. 促进人和自然的协调与和谐,关键是要 ()

坚持四项基本原则,坚持改革开放

积极实施可持续发展战略

正确处理经济建设同人口、资源、环境的关系

加快经济发展速度,促进经济跨越式发展

2. “破坏资源环境就是破坏生产力……”这是因为 ()

自然资源作为劳动对象,是生产力的一个基本要素

自然资源是第一生产力

自然资源、生态环境是生产力中最具有决定性的力量

自然资源和生态环境是人类社会生产的物质基础

江苏省常熟市蒋巷村党支部书记常德盛,坚定“天不能改,地一定要换”的决心,相信“穷不会生根,富不是天生”。他多年如一日,处处带头,事事争先,把过去“小雨水汪汪,大雨白茫茫”的落后乡村,改造成了环境优美、文明安全、道路通畅的农村现代化建设示范村、全国文明村镇建设先进村。据此回答 3-4 题:

3. 常德盛坚信“天不能改,地一定要换”,是因为 ()

理想信念是人生的精神支柱

精神状态决定着人们认识世界和改造世界的效果

物质和意识是辩证统一的

发挥主观能动性与尊重客观规律是辩证统一的

4. 党支部书记常德盛多年如一日,处处带头,事事争先,把过去的落后乡村改造成全国文明村镇建设先进村。这说明 ()

对人民负责是国家机关及其工作人员的行为准则

保持共产党员先进性是实践“三个代表”重要思想的重要前提

贯彻“三个代表”重要思想必须落实到具体工作中去

党为公,执政为民是共产党员先进性的体现

第 II 卷(非选择题,共 20 分)

三、简答题(第 1 小题 8 分,第 2 小题 12 分,共 20 分)

几年前,“电多了,煤足了,油够了”,到现在的大面积缺电,煤严重不足,石油需大量进口,我国已经成为世界第二大能源消耗国。专家预计到 2020 年,中国需要石油 4 亿吨,而自产仅 1 亿吨。能源已成为制约中国经济发展的重要因素。

2005 年,在多方面努力下,中俄石油管道初见眉目,中乌石油管道正式开工。

运用所学哲学知识,根据上述材料分析,我们应如何实事求是地解决能源安全问题。

随着国内外形势变化,如何科学执政、民主执政、依法执政的议题摆在了中国共产党面前。2004 年 9 月,中共十六届四中全会在京举行,审议通过了《中共中央关于加强党的执政能力建设的决定》,标志着中国共产党在把握执政规律,提高执政能力,完善执政方略,改进执政方式,巩固执政基础,完成执政使命等重大问题上表现出清醒的认识。

党的执政规律是什么?如何进一步提高党的执政能力?

四、辨析题(第 1 题 10 分,第 2 题 10 分,共 20 分)

中国《最具价值品牌》于 2005 年 10 月 1 日出炉,海尔、悦达、宝钢分列前三,海尔以 200 亿元成为中国最有价值品牌。

辨析:创名牌就是创效益。

猿猿年 怨月 猿日,中共中央总书记、国家主席胡锦涛在首都各界纪念全国人民代表大会成立五十周年大会上说,猿年来,人民代表大会制度不断得到巩固和完善,显示出强大的生命力和巨大的优越性。

辨析:只要坚持人民代表大会制度,就能不断推进社会主义民主政治进程。

五、论述题(第猿题 猿分,第猿题 猿分,共 猿分)

猿材料 员 金秋时节,秋粮丰收捷报频传。猿年我国粮食生产和农民增收出现双重转机。但浙江省衢州市的桔农却面临“丰产不丰收”的窘境。

材料 圆 猿年 猿月,国务院召开扩大会议,进一步研究“三农”问题。会议指出,要加大对农业支持力度,调整农村经济结构。

(员从经济学上看,材料 员中的“丰产不丰收”的原因是什么?(猿分)

(圆结合材料 员圆从哲学角度谈谈如何进一步提高桔农的收入?(猿分)

猿接中国国务院总理温家宝 猿在 猿年 猿月 猿日和 猿日在河内召开的第五届亚欧首脑会议上发表重要讲话 就进一步加强亚欧合作提出 猿点主张。一、坚持对话协商 增进政治互信。二、加强经济交流 促进地区经济增长和共同繁荣。三、不断拓展合作领域 促进各国经济社会协调发展。四、积级开展文明对话与文化交流 尊重和维护文化多样性。

结合上述材料 请回答：

(猿)上述材料如何体现我国的外交政策？(猿分)

(猿)运用经济常识有关知识 分析我国与亚欧国家为什么都非常重视彼此的合作？(猿分)

(猿)上述材料体现了哪些哲学道理？(猿分)



2013年普通高等学校招生全国模拟联考 (文综下)

命题人 蒋国民(浙江衢州市教育局教研室)
 郑雪民 金子兴(浙江衢州市二中 高级教师)
 傅义仙(浙江衢州市三中 高级教师)
 审题人 王国雄(湖北黄冈教育科学研究院 特级教师)
 编 审 全国学习科学研究会考试研究部

第 I 卷(选择题,共 100 分)

一、本题共 10 小题,每小题 10 分,共计 100 分。在每小题列出的四个选项中,只有一项是最符合题目要求的。

历时 16 天的 2013 中国义乌小商品博览会 12 月 15 日在义乌闭幕,本届博览会共有近 1 万家中小企业参展,总成交额 270 亿元人民币。据此回答 1-3 题:

1. 博览会的召开,既给外商搭建了一个交流平台,也为众多的中小企业带来了巨大的商机,我国中小企业迅速发展主要依靠的是 ()

粤 股权结构分散 月 经营方式灵活 悦 市场需求旺盛 阅 技术要求简单
 圆 本届义博会,从把好准入关入手,提高参展门槛,保护知识产权,从 1000 多家报名参展的企业中,筛选 100 余家符合准入条件的进入会展中心参展。这启示我们:①知识产权也是商品,具有使用价值和价值 ②企业必须加大科技开发力度,掌握具有自主知识产权的核心技术 ③产品市场份额的大小取决于该产品是否拥有自主知识产权 ④保护知识产权有利于维护公平竞争,保证正常交易秩序 ()

粤 ②③ 月 ②④ 悦 ③④ 阅 ③④
 猿 在知识经济时代,拥有知识产权的数量和质量,已经成为一个国家科技、经济实力和综合竞争力的重要指标之一。这说明 ()

粤 国际竞争的实质是拥有高科技产品的数量竞争
 月 科技创新是一个国家综合国力强弱的根本指标
 悦 知识产权在国民经济中起主导作用
 阅 知识和智力资源的创造、占有和运用是增强综合国力的重要因素

最近,东南沿海地区大面积出现的“民工荒”现象引起了社会各界的高度关注。据此回答 4-6 题:

4. 从前几年风起云涌的“民工潮”到今天的“民工荒”,这一现象说明:①事物是变化发展的,要用变化发展的观点看问题 ②要提高实践活动的自觉性和预见性,正确指导自己的实践活动 ③劳动力市场已从供过于求转为供不应求,我国就业问题得到解决 ④第三产业的发展使以制造业为基础的东南沿海失去了劳动力来源 ()

粤 ② 月 ③ 悦 ④ 阅 ④



缘一项调查显示,遭遇缺工的地区和企业,大都依靠低成本劳动力投入进行低附加值的加工生产,其主要利润来源是员工的超时工作,甚至一些企业通过拖欠工资等方式赚取利润。这一情况要求我们:①劳动者的就业环境急待改善 ②粗放型经济发展战略必须向集约型战略转变 ③对人力资源的掠夺性开发正是保持中国产品国际竞争力的制胜法宝 ④保障劳动者享有的基本权利,是充分发挥劳动者积极性的前提保证 ()

粤爱③④

月爱②③

悦爱②④

阅爱③④

远近日,致公党浙江省委向省人大常委会递交提案,建议制定《浙江省企业工资支付条例》,对拖欠克扣工资处罚力度作出明确、严厉、可操作性强的决定,切实维护劳动者特别是民工的合法权益。上述材料表明了 ()

粤民主党派在我国政治生活中发挥领导作用

月载国的国家机构应该坚持对人民负责原则和依法治国原则

悦浙江省人大常委会作为立法机关行使最高立法权

阅中国共产党是社会主义事业领导核心

伴随着共和国的风雨历程,人民代表大会制度走过了半个世纪。据此回答 苑- 怨题:

苑近年来,全国人大先后组织了多个执法检查组,对全国人大制定的有关法律的实施情况进行检查。这表明全国人大 ()

粤既是权力机关,又是执法机关

月既是权力机关又是执行机关

悦既行使立法权,又行使执法权

阅既行使立法权,又行使监督权

愿在领导干部的选拔任命上,要保障人民群众充分行使民主选举、民主决策、民主管理、民主监督的权利。这是因为 ()

粤载国人民代表大会制度实行少数服从多数原则

月爱有保障群众的民主权利,才能保证社会主义民主的政治方向

悦社会主义民主的本质是人民当家作主

阅人民代表来自人民,要对人民负责,接受群众监督

怨在我国,中共中央提出的建议要交全国人大常委会讨论,并由全国人大审议通过,这是因为:①全国人大是我国最高权力机关 ②全国人大必须听取各党派意见 ③执政党的意志要经过法定程序上升为国家意志 ④中共中央作为国家最高行政机关必须对全国人大负责并报告工作 ()

粤爱③

月爱③

悦爱④

阅爱④

作为新世纪第一次国家艺术盛会,第七届中国艺术节于 怨月 苑日至 苑日在浙江举行,集中展示了新世纪初中国文化艺术事业的最高成就和最新成果。据此回答 苑- 怨题:

苑本届艺术节来自浙江的民营企业的合作资金占了半壁江山,有力提升了企业的影响力和信誉度。这是因为他们已经认识到企业信誉是企业的一种 ()

粤价值符号

月有形资产

悦无形资产

阅投资回报

愿在市场经济发达的浙江,民营经济对浙江经济、社会、文化的发展发挥了重要的推动作用。这体现了民营经济是 ()

粤载国国民经济的支柱和主导

月载社会主义市场经济的重要组成部分

悦载国公有制的有效实现形式

阅载社会主义市场经济有益、必要的补充

怨不断吸收地方戏曲的精粹,京剧在本届艺术节上成为观众特别喜爱的剧种之一。在演员脸上涂上某种颜色以象征角色的性格和品质是京剧的特色,如红脸表示赤胆忠心、禀性耿直。这一特

色

()

粤援富于现实意义的科学准则

月援源于艺术家的主观想像

悦援源于客观存在的艺术抽象

阅援对人类性格和品质的真实反映

第 II 卷(非选择题,共 20 分)

二、非选择题

16. (10 分)党的十六届四中全会 2004 年 9 月 16 日至 19 日在京举行,全会通过了《中共中央关于加强党的执政能力建设的决定》。《决定》明确指出:提高党的执政能力,关键在于搞好党的建设,全党必须大兴求真务实之风,保持党同人民群众的血肉联系。《决定》还指出:要正确处理坚持公有制为主体和促进非公有制经济发展的关系,毫不动摇地鼓励、支持、引导非公有制经济的发展。据此回答:

(1) 中国共产党为什么如此重视党的执政能力建设?(4 分)

(2) 从认识论的角度谈谈你对求真务实的理解。(4 分)

(3) 从经济常识角度,说明在我国现阶段为什么必须毫不动摇地鼓励支持引导非公有制经济的发展?(4 分)

17. 读西南地区图,回答下列问题。(10 分)

(1) 我国西南地区列入世界自然和文化遗产名录的有:_____。(至少写出二处)

该地因冶金等重工业发达所造成的严重环境危害是_____。图中有关①②③④所代表的河流的叙述正确的是:_____ (填字母)。(4 分)

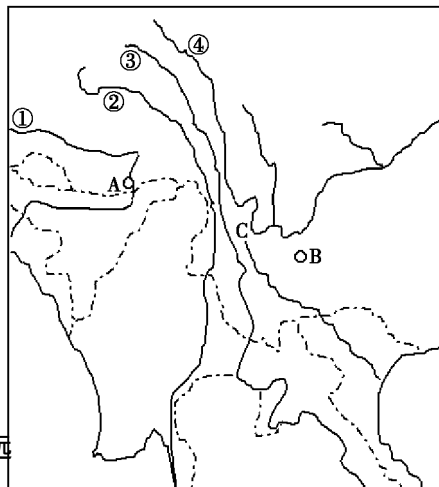
粤援)河为东南亚流经国家最多的河流

月援)③两河注入印度洋

悦援)河是我国径流量最大的河流

阅援)河为内流河

(2) 试分析悦地区农业发展的有利条件与不利条件。(4 分)



(猿)概述历代加强对西南地区有效管辖的措施。(猿分)

(源)辨析:促进该地区社会发展,就是要促进该地区 粤存的大幅增长,这一观点对吗?为什么?
(猿分)

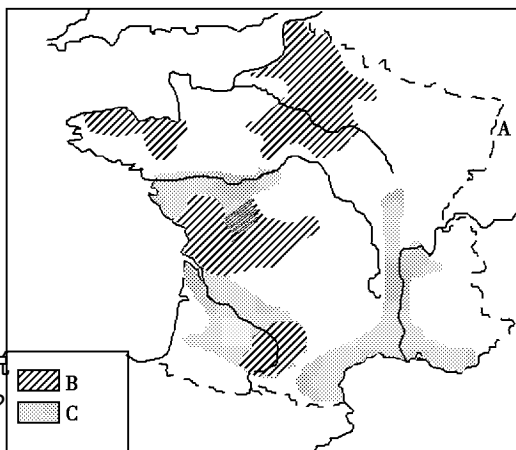
(猿)阅读下列材料。

材料 员 欧洲局部示意图。

(员)图中 粤国是欧盟重要的国家,该国是_____。
(圆分)

(圆)月悦是该国重要的粮食作物产区,结合该国的自然条件判断,月是_____区,悦是_____区。
(圆分)

(猿)2003年,欧洲夏季异常高温,给人民的生活带来了重要的影响。试分析这场高温给法国南部的 悦农作物生产带来的影响有利还是不利?为什么?
(源分)



(源)法国资产阶级过程中及拿破仑帝国时期是如何解决农民土地问题的?这对法国资产阶级革命进程及资本主义的发展有何影响?(猿分)

(缘)2004年是中法建交 源周年。法国在台湾问题上多次重申坚持一个中国的原则,中国一贯支持法国所倡导的欧盟一体化进程,希望看到一个强大繁荣的欧盟。中法在许多重大国际和地区问题上有着相同或相似的看法,主张维护世界的和平与发展。中法双方正在成熟的伙伴关系的基础上,共创中法关系新局面。

结合材料,回答上述材料是怎样体现我国对外关系的基本准则的?(猿分)

题 财政手段与货币手段对社会总需求量的调控其方式(渠道)是不一样的。货币手段主要是通过 ()

粤 货币的收入与支出来调节社会总需求

月 信用渠道,向流通中供应货币的多少来调节社会总需求

悦 扩大再生产来调节社会总需求

阅 稳健的货币政策来调节社会总需求

题 第三届亚洲政党国际会议于 2003 年 10 月 1 日在我国首都北京举行。这表明 ()

粤 在现代文明国家内,阶级是由政党来领导的

月 现代各国都由政党掌握国家政权

悦 国家之间的交流与合作一般都是通过政党来实现的

阅 我国的政党制度有着无比的优越性

题 雪域高原西藏 2003 年前三季度,农牧民人均现金收入达到 1524 元,比去年同期增长 151 元,同比增长 10%。这说明 ()

粤 国家保护少数民族的根本利益

月 我国消除了各民族间的事实上不平等

悦 少数民族地区经济发展快,人民生活水平得到了较大的提高

阅 少数民族社会发展快,人民生活水平得到了很大提高

著名的外国学者萨缪尔森说:“市场是没有心脏和头脑的,不能指望市场自身能够自觉地意识到它所带来的严重的社会不平等,更不能指望市场自身纠正这种不平等。”据此回答 题 题:

题 萨缪尔森这段著名论述说明 ()

粤 真正的市场经济决不会是温柔的

月 社会主义市场经济与资本主义市场经济没有区别

悦 市场经济法则是不可抗拒的

阅 不等价交换是市场经济的特征

题 市场是“没有心脏和头脑的”这主要说明 ()

粤 市场调节具有自发性

月 市场调节具有盲目性

悦 市场调节具有滞后性

阅 市场调节也存在着固有的弱点和缺陷

题 不能指望市场自身能够自觉地意识到它所带来的严重社会不平等,更不能指望市场自身纠正这种不平等”。这段话告诉我们 ()

粤 市场经济少不了国家的宏观调控

月 计划经济比市场经济更优越

悦 市场对实现资源的配置是弊大于利

阅 随着各类市场的出现,其弱点越来越明显

题 2003 年是中法建交 30 周年。2003 年至 2004 年,双方在各自的首都分别举行了“中国文化年活动”和“法国文化年活动”为推动两国的发展起到了积极的作用。但两国文化存在着各自民族的鲜明的特点。这是由 ()

粤 不同的自然地理环境决定的

月 不同的遗传因素所决定的

悦 不同的政治体制所决定的

阅 各自所处的自然社会环境等因素决定的

题 截止 2003 年 10 月 1 日,我国对外贸易进出口总值首次突破 1 万亿美元大关,其中出口 5040 亿美元,进口 4960 亿美元。这表明我国 2003 年对外贸易 ()

粤 技术含量高

月 对国内经济发展发挥了重要拉动作用

悦在对外贸易活动和多边贸易规则制定中占据主导地位

阅出现入超

近年来,各级政府部门无论是出台什么政策或作为重大决策等,事先都通过网络平台或召开座谈会征求意见,这种情况已越来越普遍,且形成制度。据此回答 猿苑- 猿苑题:

猿苑政府各级机关决策上网征求意见 ()

- ①表明公民直接参与国家权力的行使
- ②是社会主义政治文明的体现
- ③有利于增加国家决策的透明度和科学性
- ④是尊重公民人格表现

粤①②④ 月③③ 悦③④ 阅①④

猿愿公众通过网络就有关问题发表意见,这说明公民 ()

- 粤有发表言论的自由
- 月有集会的自由
- 悦权利是不受约束的
- 阅实行当家作主的权力


猿怨网络平台给公众参与有关事务管理带来了方便并促进了民主的发展,从哲学上看说明 ()

- 粤实践是认识发展的动力
- 月新事物具有强大的生命力
- 悦外因是事物变化发展的条件
- 阅联系是事物存在和发展的条件

看漫画回答 猿园-猿园题:

猿园右边漫画说明了 ()

- 粤知识比金钱更重要
- 月人生的真正价值在于对社会的贡献
- 悦集体利益高于一切
- 阅拜金主义腐蚀教育



开学了!

猿员依上题结论,我们应该 ()

- 粤坚持正确的价值取向
- 月面向个人主义
- 悦提倡奉献精神
- 阅加大教育投入

猿圆马克思主义理论一个最根本特征就是 ()

- 粤一切从实际出发,坚持理论和实践的统一
- 月把主观和客观联系起来
- 悦对事物本质和规律的认识
- 阅经过感性认识上升到理性认识,透过现象抓住事物的本质和规律

胡锦涛同志在中共中央政治局第十七次集体学习时强调,只有善于科学总结经验,注重认真学习经验,才能把中国特色社会主义道路坚持好、发展好。据此回答 猿猿-猿猿题:

猿猿这里强调科学总结经验,学习经验,是因为 ()

- 粤经验是从实践中来
- 月总结经验是主观能动性表现之一
- 悦科学理论对实践有指导作用
- 阅强调了直接经验和间接经验的统一

猿源坚持好、发展好中国特色社会主义道路,就必须反对 ()

- ①主观主义
- ②教条主义
- ③经验主义
- ④形而上学

粤①②③④ 月①②③ 悦③④ 阅④

二、在下列各题的四个选项中,至少有一项是符合题意的。错选、多选该题不得分,少选且正确的给分。(每小题 猿分,共 猿分)

猿缘年下半年,美元贬值,世界经济动荡。据此回答 猿缘-猿缘题:

猿缘美元贬值表现为 ()

粤单位美元可以换更多的外币

月单位美元可以换更少的外币

悦美国的劳动生产率下降

阅美国的财政赤字增加

圆在美元贬值的情况下,假定人民币既不升值也不贬值,这将会给我国经济造成的影响有()

粤我国的商品对美出口减少,美国商品对中国出口增多

月我国以美元为基础的外汇储备的购买力下降

悦我国吸引外资的能力会上升

阅我国的经济结构会趋向合理

圆一国纸币的贬值有利也有弊。对人民币而言弊大于利,因而我国坚持人民币汇率的稳定,维护国家经济安全,这种做法体现的辩证法思想有()

粤主要矛盾和次要矛盾关系的原理

月矛盾的主要方面和次要方面的原理

悦一切从实际出发,实事求是

阅一分为二的观点

圆一天,一只小螃蟹在干涸的河道上玩耍,它抬头一看,一个人正赤着双脚从河边走过,小螃蟹惊恐地跑回家对老螃蟹说:“妈妈,妈妈!我今天看到了一个怪物,他居然只用两条腿走路!”对我们人类而言,用两条腿走路是正常的,但对用八足走路的螃蟹来说却是异类。这体现的辩证法原理有()

粤矛盾的普遍性,特殊性在一定条件下相互转化

月物质决定意识

悦立场不同,人们对同一事物的看法不一样

阅实践是认识的来源,实践是检验认识的惟一标准

圆中共中央在党的十六届四中全会召开前夕,分别召开党外人士座谈会和通报会,听取各民主党派中央领导人,全国工商联领导人和无党派人士的意见,这体现了()

粤我国坚持中国共产党领导的多党合作和政治协商制度

月中国共产党坚持民主集中制和对人民负责的原则

悦中国共产党是中国人民和中华民族的先锋队,代表中国最广大人民的根本利益

阅中国共产党和各民主党派是亲密友党,各党之间的亲密合作有利于中国共产党决策的民主化、科学化

猿十六届四中全会提出要“重视县(市)党政领导班子建设。减少地方党委副书记职数,实行党委分工负责,充分发挥领导职数。”材料体现的政治学道理有()

粤民主集中制原则

月中国共产党加强党的思想建设

悦中国共产党加强党内组织领导

阅中国共产党在加强和完善党的执政能力的建设

猿下列与“四十年来画竹枝,日间挥写夜间思。去掉沉繁留清瘦,画到生时是熟时”所蕴涵哲理基本相同的是()

粤寒江雪柳日新晴,玉树琼花满日新,历经天华成此景,人间万事出艰辛

月月落乌啼霜满天,江枫渔火对愁眠,姑苏城外寒山寺,夜半钟声到客船

悦远上寒山石径斜,白云深处有人家,停车坐爱枫林晚,霜叶红于二月花

阅远看山有色,近听水无声,春去花还在,人来鸟不惊

每四年举行一次的奥运会,是当前体育赛场上最大的盛会。据此回答猿猿题:

猿历届奥运会会徽的图案虽然千差万别,但都有一个共同的标志,即相互套连的五环标志,同时

各东道国奥运城都根据自己的特点设计立体图案。奥运会会徽的上述特点体现的哲理有

()

粤 共性包含着个性

月 特殊性寓于普遍性之中

悦 不同事物的矛盾具有不同的特点

阅 特殊性离不开普遍性

猿 在雅典奥运会上,我国体育健儿取得 猿枚金牌, 员枚银牌, 员枚铜牌的优异成绩,高居奥运会金牌榜第二位,实现了历史性突破,开辟了中国体育的新纪元。中国体育取得优异成绩的外因有

()

粤 运动员的顽强拼搏,教练员的辛勤教导

月 国家对体育事业投入的增加

悦 我国综合国力增强,广大人民群众对体育事业的热爱和支持

阅 体育行业走科技化,市场化的道路

第 II 卷(非选择题,共 猿分)

三、简答题(共 圆小题,计 员分)

猿 怨分)我们这个时代是英雄辈出的时代。仅 圆年,就涌现出了任长霞、马祖光、许振超、牛玉儒等英雄人物,他们虽处在不同的工作岗位上,但有一点是共同的,这就是祖国利益、人民利益高于一切。他们为党和人民做出了巨大贡献和牺牲,党和人民也给了他们很高的荣誉。国家有关部门做出决定,号召全国人民向他们学习。

请回答:(员)人生价值两个方面在英雄人物身上是如何体现的?

(圆)简要说明人生的真正价值是什么?为什么?

(猿)国家有关部门做出决定向他们学习,体现了哪方面的国家职能并简述其理由。