

# 文科综合

本试卷分第 I 卷(选择题)和第 II 卷(非选择题)两部分。满分 150 分。考试时间 150 分钟。

## 第 I 卷(选择题,共 100 分)

一、本卷共 36 小题,每小题 3 分,共计 108 分。在每小题列出的四个选项中,选出最符合题目要求的。

当地区时 2009 年 1 月 1 日下午 1 时 30 分左右,一颗名为“深度撞击号”的太空探测器从卡拉维尔角空军航空站成功升空发射。读“卡拉维尔角的位置示意图”(图 1),做 1-3 题。

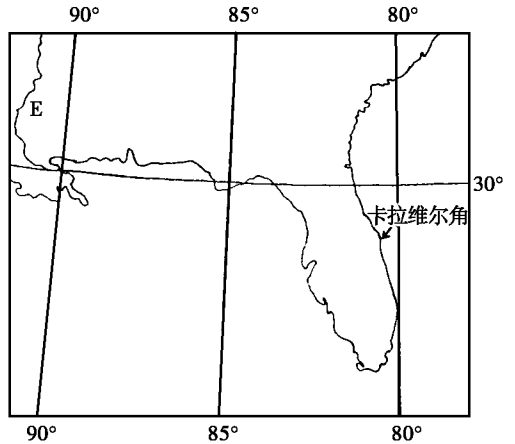


图 1

1. “深度撞击号”太空探测器成功升空发射时,北京时间 3 时 00 分约为 ( )

- A. 1 月 1 日 1 时 30 分
- B. 1 月 1 日 0 时 30 分
- C. 1 月 1 日 2 时 30 分
- D. 1 月 1 日 1 时 00 分

2. “深度撞击号”太空探测器成功升空发射时,下列现象中可能出现的是 ( )

- A. 北京的正午太阳高度达一年中的最小值
- B. 图中 湄河正值一年中的丰水期
- C. 澳大利亚正值小麦播种季节
- D. 地球的公转速度接近一年中的最大值

3. 卡拉维尔角位于图示国家的 ( )

- A. 东南部,墨西哥湾沿岸
- B. 东南部,大西洋沿岸
- C. 西南部,太平洋沿岸
- D. 西北部,加勒比海沿岸

生态足迹是人们所消耗的每种消费品的生物生产面积的总和。有效生态承载力是自然能够对人类提供的生态服务。分析表 1 中的数据,做 4-5 题:

表 1 世界上部分国家的人均生态赤字资料(单位:公顷/人)

国家	生态足迹	有效生态承载力	生态赤字	国家	生态足迹	有效生态承载力	生态赤字
新加坡	0.2	0.5	-0.3	冰岛	0.5	0.5	0
比利时	1.5	0.5	1.0	新西兰	0.5	0.5	0
美国	1.5	0.5	1.0	秘鲁	0.5	0.5	0
英国	1.5	0.5	1.0	澳大利亚	0.5	0.5	0
日本	1.5	0.5	1.0	巴西	0.5	0.5	0

4. 中国的人均生态足迹为 1.5 公顷/人,人均有效生态承载力为 0.5 公顷/人,则中国的人均生态赤字为(单位:公顷/人) ( )

- A. 1.0
- B. 1.5
- C. 2.0
- D. 2.5

5. 根据计算,1995 年全球的人均生态赤字为 0.5 公顷/人,2005 年全球的人均生态赤字为 0.5 公顷/人。下列叙述中,与这两个数据说明的问题相吻合的是 ( )

生物多样性的不断减少

人类离可持续发展的目标越来越近

当生态赤字为负值时,从国家和地区的角度看是使用了别国的资源,从全球的角度看是盗用了下一代的资源。这句话中体现出的可持续发展原则有 ( )

持续性原则和共同性原则

地球上的交通和通信越来越发达

地球的生态环境处在不断改善之中

共同性原则和公平性原则

公平性原则和持续性原则

经济性原则和持续性原则

读图做题:

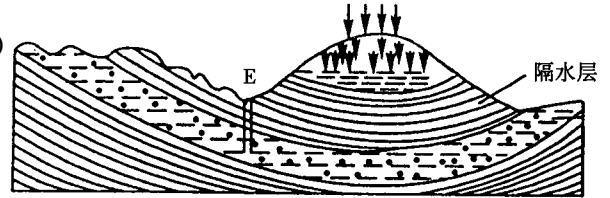
图中山岭是 ( )

槽部坚实抗侵蚀而成的向斜山

顶部坚实抗侵蚀而成的背斜山

顶部裂隙侵蚀而成的向斜山

槽部裂隙侵蚀而成的背斜山



图圆

图中耕处的井属于 ( )

潜水井

自流井

承压井

黏井

若图中的隔水层由页岩组成。按成因分类,下列岩石中与页岩属于同一类型的是 ( )

花岗岩

大理岩

石灰岩

玄武岩

工业旅游是一些工业企业利用其自身厂区、生产线、生产工具、劳动对象和产品以及独特制造工业流程、工人工作生活场景等为主要吸引物,组织有兴趣的游客参观、体验的一种别具特色的旅游项目。据此做题:

工业旅游的兴起,说明现代旅游的特点之一是 ( )

旅游主体的大众化

旅游方式的多样性

旅游内容的多样性

旅游空间的扩大化

工业旅游发源于法国,其传播到中国的过程属于文化的 ( )

传播扩散

等级扩散

刺激扩散

转移扩散

兵制是国家重要的军事制度。回答做题:

宋太祖从地方军队中挑选精壮士兵编入禁军主要是为了 ( )

加强中央集权

消灭割据政权

防御敌兵进攻

节省军费开支

下列关于北宋禁军的叙述,不正确的是 ( )

禁军的半数拱卫京城

禁军实行更戍法

禁军是国家的正规军

禁军将领由枢密院委派

洋务运动期间,中国兵制中增加了新式兵种——海军。当时洋务派在

环渤海地区建成的海军基地是图中的 ( )

②③④

②③

③

④



图猿

我们今天要建立社会主义民主与法制,可以从历史中吸取经验和教训。回答做题:

有关明朝《大明律》的叙述,不正确的是 ( )

制订于明太祖统治期间

内容中增加了经济立法

量刑“重其重罪,轻其轻罪”

涉及贪污贿赂罪的判罚

《中华民国临时约法》规定“中华民国主权,属于国民全体”的主要意义在于

体现了“人民主权”说

人民享有了更多的民主权利

确定了君主专制制度

资本主义的发展创造了条件

1954年《中华人民共和国宪法》

( )

①规定了国家的性质是人民民主专政的国家 ②确定了我国根本政治制度人民代表大会制

③体现了人民民主和社会主义两大原则 ④宣告人民政协完成历史使命

粤爱②③

月爱②④

悦爱③④

阅爱②③④

孟德斯鸠提出三权分立的主要目的是

( )

粤解决专制弊端

月实现天赋人权

悦建立平等社会

阅加强中央集权

1956年社会主义制度建立以后,探索符合中国国情的建设社会主义道路摆在中国人民面前。

回答 189 问题:

1956年中共八大确定的当时我国的主要任务是

( )

粤逐步实现社会主义改造

月开展“大跃进”运动

悦尽快建成先进的工业国

阅健全党的民主集中制

1978年十一届三中全会是共和国历史上的伟大转折,得出这一历史结论的依据是

( )

①决定把党和国家的工作重心转移到经济建设上来 ②作出了实行改革开放的伟大决策

③形成了以邓小平为核心的党的第二代领导集体 ④制定“一个中心,两个基本点”的基本路线

粤爱①②

月爱④

悦爱②③

阅爱②③④

1992年中共十四大在探索中国特色社会主义道路中作出的突出贡献是

( )

粤提出加快改革开放的步伐

月提出坚持四项基本原则

悦提出“三步走”的发展战略

阅提出建立社会主义市场经济的改革目标

世界近代时期,自然科学取得了巨大成就。回答 190 问题:

17世纪近代科学形成的标志是

( )

粤解析几何学的建立

月牛顿力学体系的建立

悦生物进化论的确立

阅原子论的创立

1919年被联合国确定为国际物理年。1687年前,对牛顿引力理论进行创新,并引发物理学思想

一场革命的科技成就是

( )

粤“量子论”的发现

月居里夫妇提炼出镭

悦电磁感应现象的发现

阅狭义相对论的提出

1995年 10月召开的中央经济工作会议指出:“必须坚持把解决好‘三农’问题作为全党工作的重中之重,任何时候都不能放松。”回答 191 问题:

1995年,国家为促进粮食增产和农民增收采取了“两减免”(免除烟草税以外的农业特产税和减免农业税)、“三补贴”(粮食补贴、良种补贴和购买农机具补贴)的惠农政策,调动了广大农民的生产积极性。1996年我国粮食产量扭转了 1959年以来下滑的局面,实现了增长;农民人均收入实际

增长 15.8%,是 1996年以来增长最快的一年。这说明

( )

粤农民负担过重是我国农业发展的最大制约因素

月发展农业生产的关键是减少农业税和增加补贴

悦分配政策的调整对经济发展有重要影响

阅农民承担的义务少了,享有的权利多了

1997年在国家实行各种支农政策、广大农民努力生产及市场粮价回升、气候较好等因素的共同作用下,

1997年,我国实现了粮食增产和农民收入较大幅度的增长。这表明

( )

①事物之间相互作用、相互影响促成事物的变化和发展 ②矛盾双方在一定条件下向自己的对立面转化

③主观能动性受客观条件和客观规律的制约 ④整体的功能大于各部分功能之和

粤爱②③④

月爱②③

悦爱②

阅爱①

1997年 12月,中央出台了《中共中央国务院关于进一步加强农村工作提高农业综合生产能力若

干政策的意见》(中央 员号文件) ,把提高农业综合生产能力放在核心位置 ,这是因为 ,提高农业综合生产能力 ( )

粤可以为社会主义现代化奠定坚实的物质技术基础

月是实现农民增收和农业长远发展的基础保障

悦有利于提高我国农业资源的人均占有量

阅是当今我国经济增长的重要驱动力

春节是中华民族的传统节日 ,每当春节来临 ,人们总是尽可能回到家中与家人团聚 ,欢度节日。因此 ,做好春运工作成为社会广泛关注的问题。回答 圆题 圆题 :

圆题一年一度的春运高峰给交通运输部门带来巨大的压力。今年春运高峰期间 ,铁路运输部门调整了部分客运车票的价格 ,有的上调幅度 员缘 ~ 圆缘。而在 圆月 愿日 ~ 苑日(除夕日到初二) ,部分地区的部分车次价格下调 员缘。车票价格调整 ( )

粤损害了消费者的公平交易权

月提高了铁路客运的服务水平

悦缓解和调整铁路的客运需求

阅解决了铁路运力不足的问题

圆题在下列各项中 ,影响春运高峰形成的因素有 ( )

① 社会经济发展水平 ② 家庭的消费水平 ③ 民族的心理素质 ④ 国家的消费政策

粤爱①②③④

月爱②③

悦爱②

阅爱④

圆题为做好 圆题年春运工作 ,一些地方政府专门成立了春运火车票预售工作领导小组 ,在总结历年春运火车票预售工作经验的基础上 ,立足本地区的实际情况 ,拟定“春运火车票预售方案草案”。这种工作方法正确处理了 ( )

粤数量与个性的关系

月整体与部分的关系

悦感性认识与理性认识的关系

阅直接经验与间接经验的关系

圆题年 员月 员日 员时 员分(北京时间) ,经历了 苑年太空飞行 ,行程 猿亿公里的“卡西尼”号飞船在抵达土星后 ,所搭载的“惠更斯”探测器脱离飞船并成功地降落在土星最大的卫星——土卫六上。回答 猿题 猿题 :

猿题“惠更斯”探测器在降落过程及降落之后 ,发回了大量的探测数据和照片 ,为科学家揭示土星及其卫星的形成及生命的起源提供了研究资料。这表明 ( )

① 感性认识是认识的起点和必经阶段 ② 认识是一个不断扩展、深化和向前推移的过程 ③ 科学实验是人类获取知识的重要实践活动 ④ 认识的发展离不开认识工具和认识手段的发展

粤爱②③④

月爱③④

悦爱④

阅爱①

猿题“卡西尼—惠更斯”探索计划由美国宇航局、欧洲航天局和意大利航天局联合实施 ,美国和 苑个欧洲国家的约 圆名科学家参加。不同国家在空间探索领域能够开展国际合作 ,是因为 ( )

粤这一研究项目可以扩展人类对宇宙的认识 月有利于合作国在这一领域科研水平的提高

悦现代科学理论来源于科学家的共同合作

阅国际合作是现代科学研究的基础

在经济全球化发展过程中 ,随着国家间经济交往的增多 ,有害生物入侵成为世界各国面临的问题。回答 猿题 猿题 :

猿题最近 ,一种原分布在南美洲国家的有害生物——红火蚁 ,在我国广东一些地区被发现。这一现象说明 ( )

粤经济全球化不利于各国的生态安全

月有害生物入侵是根本无法避免的

悦非传统安全应引起社会高度重视

阅社会公共服务是国家的重要职能

猿题在全国政协十届一次会议上 ,政协委员提出“关于加强物种引进的监管防止外来生物入侵的建议案”。议案从加强立法、宣传、研究、监管、防治等方面提出多项建议 ,以应对外来生物入侵问题。政协的这一活动是履行 ( )

粤参政议政职能

月民主监督职能

悦政治协商职能

阅公共服务职能

猿世纪 远 康年代,我国为保护滩涂,从英美等国引进大米草,经人工种植和自然繁殖,在我国沿海 康多个县市的滩涂上有分布。近年来,大米草在一些地区疯狂扩散,破坏了近海生物环境,造成沿海养殖的多种生物死亡,堵塞航道,水质下降并诱发赤潮;与沿海滩涂植物竞争生长空间,致使大片红树林消亡。这一事例说明 ( )

- ①新陈代谢是一切事物发展不可抗拒的规律 ②新事物具有强大的生命力和远大的发展前景  
③要素与系统之间的联系具有客观性 ④事物具有两面性

粤爱② 月爱④ 悦爱④ 阅爱③

猿爱马克思说:“思想根本不能实现什么东西,为了实现思想,就要有使用实践力量的人。”这句话的含义是 ( )

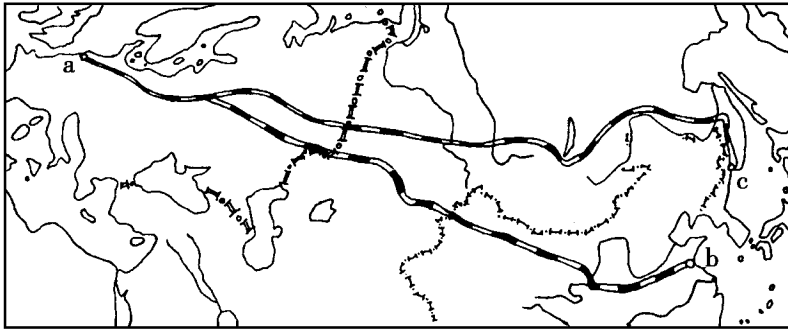
- ①思想不重要,实践才是最重要的 ②实践的目的是为了实人的思想 ③思想变为现实需要人的实践活动 ④思想联系实际才能真正变为现实

粤爱③④ 月爱③ 悦爱④ 阅爱⑤

## 第 II 卷(非选择题,共 员园分)

二、本卷共 缘小题,共 员园分。

猿爱(愿分)读“第一条和第二条亚欧大陆桥主干铁路线分布示意图”(图 源和相关资料(表 圆),完成下列要求:



图源  
表圆

	第一条亚欧大陆桥(猿)	第二条亚欧大陆桥(猿)
长度	员园园园多千米	员园园园多千米
经过的主要国家	俄罗斯、白俄罗斯、波兰、德国、荷兰	中国、哈萨克斯坦、俄罗斯、白俄罗斯、波兰、德国、荷兰
一年正常的运输期	圆园天左右	常年运营

(员)与第一条亚欧大陆桥相比,第二条亚欧大陆桥突出的区位优势有哪些?(愿分)

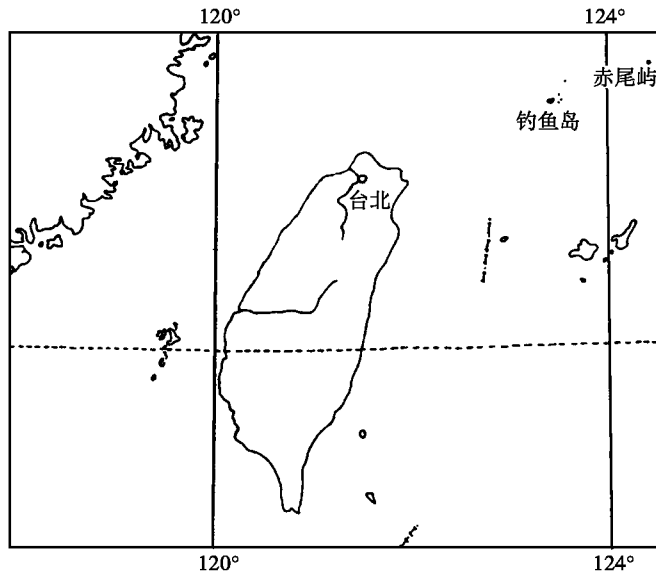
(圆)自 猿世纪 愿年代以来,以“三全”和“思念”为代表的郑州速冻食品企业迅速崛起,郑州成为全国最大的速冻食品生产基地。分析郑州成为全国最大的速冻食品生产基地的主要原因。(愿分)

(猿)水资源短缺是制约中国段大陆桥沿线地区社会经济发展的共同问题,试分析水资源短缺的主要原因。(愿分)



猿猿猿猿猿猿)台湾及其附属岛屿钓鱼岛、赤尾屿等自古就是中国的领土。据材料结合所学知识回答问题：

材料员“台湾省示意图”(图愿)



图愿

材料圆 近年来,人们发现在台湾海峡海底的某些地方,分布着古代森林的遗迹。

材料猿 员缘缘年《马关条约》签订的恶讯传到台湾,全台人民“若午夜暴闻轰雷,惊骇无人色,奔走相告,聚哭于市中,夜以继日,哭声达于四野。”全台人民发布檄文,抗议示威,“愿人人战死而失台,决不愿拱手而让台”。他们纷纷组织义军,抗击日本侵略者。在台湾人民抗日激情的影响和推动下,以台湾军务帮办刘永福为首的部分清军将士,也纷纷表示抗不奉诏,坚守台湾,与台湾人民一道抵抗日本侵略者。经历五个多月的战斗,打死打伤日军三万多人。

材料源 中国外交部发言人就发展对华关系问题,在回答记者的提问时指出:中国愿意在和平共处五项原则和互不干涉内政的基础上与世界各国建立和发展国与国之间的正常关系,但是有一个前提:有关国家必须承认世界只有一个中国和台湾是中国的一部分。如果有关国家的领导人在发展对华关系上抱有诚意的话,他就应该尊重并且接受中国政府的这一立场。

(员台湾海峡形成的主要地质作用是\_\_\_\_\_)(圆分)

(圆台北市是台湾省最大的城市,简述该城市形成和发展的区位因素。)(愿分)

(猿据材料猿概括台湾军民反割台斗争的背景及其特点。材料猿反映了台湾军民什么样的精神?)(猿分)

(源结合本题材料,根据我国的国家利益,说明我国政府在发展对外关系时,坚持“有关国家必须接受和承认‘世界只有一个中国和台湾是中国的一部分’”的立场。)(愿分)

源源源源源源)圆源源年 员月 员日~ 圆日,国家主席胡锦涛对拉美四国进行了国事访问。圆源源年 员月 圆日~ 圆月 猿日,国家副主席曾庆红对拉美五国进行了正式访问。阅读材料回答问题。

材料员“拉丁美洲示意图”(图怨)

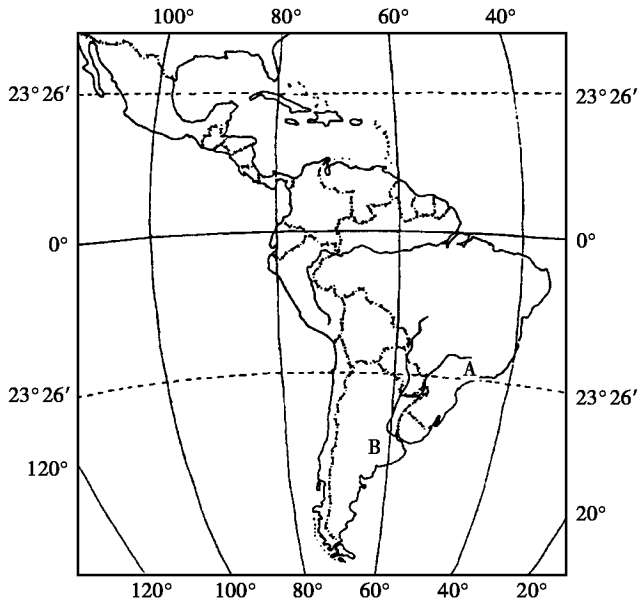


图 9

(1)分析图中 A地区人口较稠密的主要原因。(2分)

(2)图中 B地区是世界上大牧场放牧业的杰出代表,完成表 9 中的内容。(8分)

表 9

B地区大牧场放牧业的分类	按产品用途分类	
	按投入多少分类	
B地区发展大牧场放牧业的社会经济条件		

1825年西属拉美殖民地爆发了独立战争。1825年以后独立运动的重心转移到南美洲。1825年独立战争取得胜利,诞生了一系列新兴的国家。

材料 9 国家时期(统一以后)拉丁美洲的政治发展与美国的政治发展截然不同。拉丁美洲的政治趋势是政治分裂而不是政治统一。山脉和密林等障碍将一个地区同另一个地区分隔开来,交通工具的缺乏意味着这些地区同欧洲的联系常常比它们相互之间的联系更为密切。西班牙统治下的几个世纪的与世隔绝也助长了分离主义倾向,也促进了分裂。个别领导人宁愿在小国中名声显赫,而不愿在大的邦联中湮没无闻,这些人的野心也必须予以考虑。于是,西班牙最初的八个殖民地这时变成了至少 15 个独立的国家。

摘自《全球通史》

(1)西属拉美独立运动中,中美洲规模较大的起义发生在何地?南美洲独立运动中,北部和南部斗争的领导人是谁?(8分)

(2)据材料概括指出拉丁美洲独立后为什么没有像美国那样形成统一的国家,而是出现了一系列的独立国家?(8分)

材料 10 广大拉美国家属于发展中国家,资源丰富,其出产的许多原料和初级产品都是中国急需或缺少的。拉美国家拥有 40 亿多人口,市场广阔,许多国家的机器、设备等需要更新换代,一些国家缺乏资金。中国目前劳动力资源丰富,外汇储备较多,一些机器设备符合拉美国家的实际需要,特别是一些生活用品和传统商品为拉美人民所喜爱。

(3)结合材料 10 说明中国与拉美国家相互发展经贸关系的重要意义?(8分)

# 文科综合

本试卷分第 I 卷(选择题)和第 II 卷(非选择题)两部分。满分 150 分。考试时间 150 分钟。

## 第 I 卷(选择题,共 100 分)

本卷共 36 小题,每小题 3 分,共 108 分。在每小题列出的四个选项中,只有一项是最符合题目要求的

图 1 表示某时刻地球表面太阳高度分布状况(极点太阳高度为 0)。图中圆圈为等太阳高度线,自里向外依次为 20°、40°、60°、80°。读图 1 完成 1-4 题:

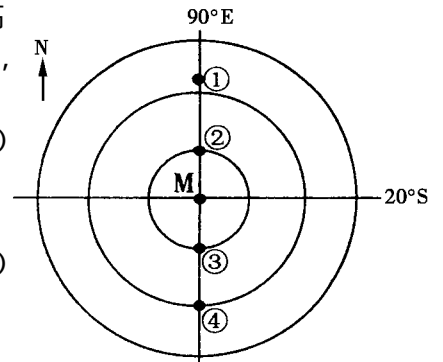


图 1

1. 此时,北京时间为 ( )

- 粤 A. 12 点
- 粤 B. 14 点
- 粤 C. 16 点
- 粤 D. 18 点

2. 图示日期前后,北京地区发生的现象,可信的是 ( )

- 粤 A. 天安门广场国旗班举行升旗仪式
- 粤 B. 海内外游客登香山观赏红叶
- 粤 C. 北大的学生在未名湖上溜冰
- 粤 D. 北京市民踊跃参加义务植树活动

3. 此时,下列地区出现的现象正确的是 ( )

- 粤 A. 悉尼、雅典、新加坡均为多雨季节
- 粤 B. 珀斯令海峡夜幕深沉、好望角夕阳似火

4. ①、②、③、④四点比较,正确的是 ( )

- 粤 A. 这一天①点比②点先看到日出
- 粤 B. 一年中,昼夜长短相差最小的是④
- 粤 C. ①点盛行西南风、③点盛行西北风
- 粤 D. ①点的自转线速度约等于②点的一半

图 2 为某种农产品生产和销售的一般过程。回答 5-7 题:

5. 阶段 I 水果和蔬菜产区形成的主要区位因素、阶段 II 水果和蔬菜产区的区位变化原因组合正确的是 ( )

- 粤 A. 地形平坦、城市规模扩大
- 粤 B. 市场区位、交通运输便捷
- 粤 C. 气候优越、城市居民收入提高
- 粤 D. 水源充足、国际市场需求扩大

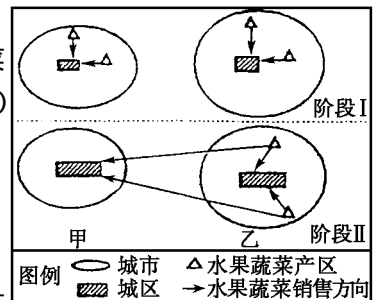


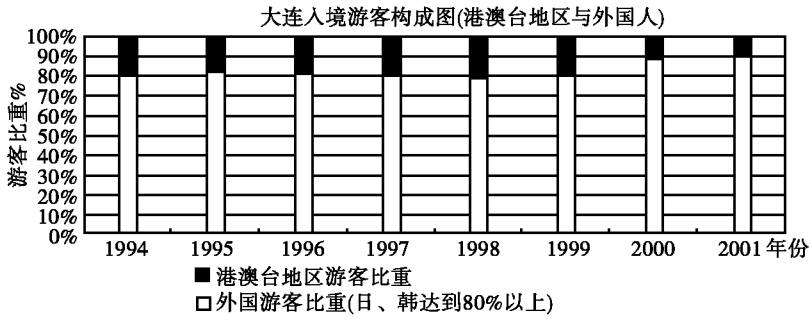
图 2

6. 若甲城市为纽约,乙城市位于中美洲,则阶段 II 运输量大的季节是纽约的 ( )

- 粤 A. 春季
- 粤 B. 夏季
- 粤 C. 秋季
- 粤 D. 冬季

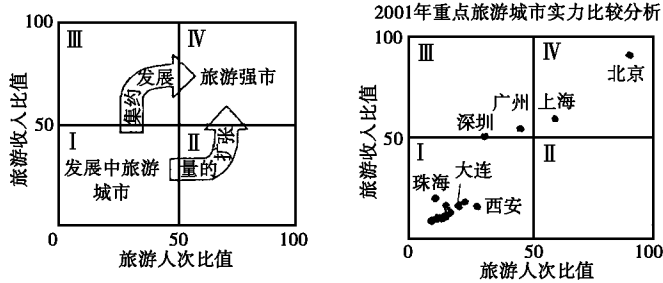
7. 图中,形成大连入境游客构成特点的最主要因素是 ( )

- 粤 A. 经济实力
- 粤 B. 风俗习惯
- 粤 C. 经济距离
- 粤 D. 历史渊源



图猿

愿毅图 源中国重点城市旅游实力比较图 ,有关图中各城市的叙述 ,正确的是 ( )

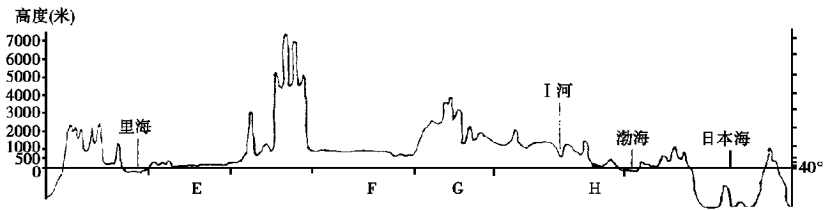


图源

粤北海、广州、深圳是发展中旅游城市  
 悦大连、西安的旅游资源类型相同

月大连旅游人次比值大于西安  
 阅北京的旅游实力是最强大的

读图 缘沿 源是亚洲东西向地形剖面图 ,完成 怨- 愿题 :



图缘

怨有关 耘地的判断正确的是 ( )

粤自然景观以草原、荒漠为主  
 悦所在国家是伊拉克

月地形以山地、丘陵为主  
 阅地表形态深受冰川作用影响

愿有关 云地的说法正确的是 ( )

粤该地有丰富的石油和铁矿资源  
 悦该地植被稀疏主要是人类活动造成的

月该地有所在国最大的内流河  
 阅该地地势低平、土壤肥沃、种植业发达

愿以下描述合理的是 ( )

粤该地的气候 ,全年温和湿润 ,湿地面积广大  
 月该河此处河段正奔流在我国地势第二级阶梯上  
 悦该地为帕米尔高原 ,是我国领土最西端  
 阅沿图中剖面线自东向西 ,降水逐渐减少

军队是保卫国家、维护政权的重要工具 ,历代统治者都非常重视。回答 愿- 愿题 :

1. 北宋建立以后集中精力解决军权问题,其首要目的是 ( )  
 A. 增强军事力量 B. 抵抗辽的进攻  
 C. 武力统一全国 D. 防止军事割据
2. 下列有关我国古代少数民族猛安谋克的叙述,不正确的是 ( )  
 A. 最初是契丹族的氏族部落组织  
 B. 对该民族社会发展起了重要作用  
 C. 随着军事扩张成为地主  
 D. 是军事组织,也是地方行政组织
3. 明朝时期,五军都督府和兵部之间的关系是 ( )  
 A. 五军都督府主管军政,兵部主管禁军  
 B. 五军都督府奉旨调兵,兵部率军作战  
 C. 前者拥有统兵权,后者拥有调兵权  
 D. 都督府相互隶属,最终由兵部统领
4. 清政府筹建近代海军的动机是 ( )  
 A. 维新变法,挽救民族严重危机  
 B. 师夷长技,维护封建专制统治  
 C. 勤精图治,洗雪甲午战败耻辱  
 D. 迎合列强,镇压中国人民反抗
5. 变法或改革推动社会进步与发展。回答 6-8 题:  
 戊戌变法和明治维新反映了世界近代历史的发展趋势。这一趋势是 ( )  
 ①逐步实现社会各方面的近代化 ②资本主义取代封建主义 ③被压迫民族争取实现民族独立 ④建立资产阶级共和国  
 A. ②④ B. ③④ C. ③④ D. ②③
6. 新中国成立初期,中央政府采取了合理调整工商业的措施,其目的是 ( )  
 A. 调动私营工商业的积极性  
 B. 稳定物价,统一财经  
 C. 完成民主革命遗留的任务  
 D. 实现向社会主义过渡
7. 建国以来,我党工作重心发生的历史性转变是 ( )  
 A. 制定了第一个五年计划  
 B. 提出要多快好省地建设社会主义  
 C. 决定实行改革开放  
 D. 开展关于真理标准问题的讨论
8. 1978年,邓小平说“改革是中国的第二次革命”,其本质含义是 ( )  
 A. 改革落后的思想观念  
 B. 把工作重心转移到经济建设上来  
 C. 解放和发展生产力  
 D. 改革不适应经济发展的环节
9. 社会生活的变化,反映着时代的变迁。回答 10-12 题:  
 导致唐朝社会出现“回鹘衣装回鹘马”现象的主要原因是 ( )  
 A. 封建专制主义中央集权制度的完善  
 B. 封建社会盛世,国内经济文化交流繁盛  
 C. 对外交通发达,政府重视对外交流  
 D. 科技领先,对周边国家有强大吸引力
10. 轮船、火车等交通工具传入中国,对中国近代社会产生的影响不包括 ( )  
 A. 客观上推动了中国的近代化  
 B. 促进了人口流动、信息交流  
 C. 便利了列强进一步掠夺中国  
 D. 延缓了中国半殖民地化进程
11. 图 1 反映的时代经济是 ( )

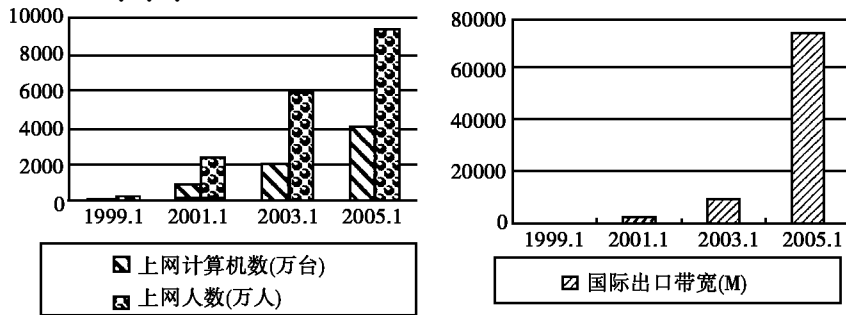


图 1

计划经济  
国家资本主义

新民主主义经济  
市场经济

下列来源于中国互联网络信息中心(中国互联网络信息中心)《中国互联网络发展状况统计报告》的数据(图苑),体现出的社会变化不包括 ( )



图苑

中国与世界的联系日益密切  
信息技术革命在中国得到迅速发展  
互联网替代了其他信息传媒  
高新技术的发展改变了人们的生活

国有煤矿的瓦斯治理是今年国家工作的一项重要内容。回答下列问题：

国务院于2005年1月14日,国务院安全生产委员会派出6个检查组奔赴全国各地,对6个主要产煤省(市、区)及中央管理的10户国有煤矿企业进行重点检查。这体现了 ( )

- ①政府履行社会管理的职能
- ②党切实保障人民群众的生命财产安全
- ③政府高度重视和落实安全生产工作
- ④党和政府的监督职能

选①④      选②③      选③      选②

瓦斯的主要成分和天然气一样,均为甲烷,是一种非常洁净、高效、优质、安全的能源。如果在煤矿开采前开发煤层气,可降低危险的瓦斯浓度,这就大大提高了煤矿生产的安全性,减少了生产成本。煤矿瓦斯能够变害为宝,说明 ( )

要用发展的观点看问题      矛盾双方在一定条件下可以转化  
要具体问题具体分析      要用联系的观点看问题

网络游戏是一个令人痴迷的虚拟世界。回答下列问题：

上海交通大学决定对10名成绩不合格的大学生进行集体劝退。许多学生家长反映,导致这些学生考试不及格直至最后退学的罪魁祸首,主要是网络游戏。“网瘾”对青少年的影响说明 ( )

- ①事物是一分为二的
- ②外因决定内因
- ③意识的能动性具有双重作用
- ④人生的全部价值在于贡献

选③      选④      选③      选③④

为使网络游戏纳入规范轨道,我国有关部门应尽早作出有关法律规定,对网络游戏进行分级,向未成年人推荐适宜的“绿色游戏”。这说明 ( )

制定相关法律就能解决网络问题      法治国的要求是德治与法治相结合  
法治国的前提条件是有法可依      法治国的本质是崇尚宪法和法律的权威

网络游戏产业是一项“朝阳”产业。在国家加强管理的同时,文化部、新闻出版总署、信息产业部等部门纷纷出台相关政策,支持和引导国内网络游戏产业的发展。我国积极发展网络游戏产业的原因是 ( )

市场经济具有盲目性、滞后性      企业高新技术的研发和应用  
我国财政支持新兴产业的发展      消费需求对生产有反作用

居住在内蒙古根河市敖鲁古雅乡的鄂温克猎民,是我国最后的狩猎民族。回答 猿猿题:  
 猿猿近年来,猎民的生存环境日益恶化。为改变现状,当地市委、市政府在广泛征求猎民意见的基础上,决定实行生态移民。移民新址选在市郊,这样既可以借助城市建立完善的设施,也能在某种程度上保证民族的文化传统。该市市委、市政府的做法共同 ( )

- ①坚持了民主集中制的原则
- ②执行了社会公共服务的职能
- ③坚持了为人民服务的思想
- ④执行了组织社会主义文化建设的职能

猿猿③                      猿猿④                      猿猿②④                      猿猿②③④

猿猿政府鼓励猎民以圈养驯鹿为主,发展鹿业养殖和鹿产品加工基地,力争把养殖业和旅游业培育成为新敖鲁古雅的主导产业。这体现了 ( )

- 猿猿市场为导向,不断提高产品质量
- 猿猿调整产业结构,大力发展商品经济
- 猿猿发展民族贸易,促进民族经济发展
- 猿猿农业产业化是我国农业发展的基础

近年来中国与拉美关系积极发展,国际合作配合良好。回答 猿猿-猿猿题:

猿猿中国现在已成为拉美第三大进口国和第四大出口国。中国从拉美主要进口矿砂、原油、大豆等大宗初级商品,而中国生产的机器、家电、纺织品等工业品则是拉美国家所需要的。中拉发展对外贸易的作用在于 ( )

- 猿猿交换使用价值
- 猿猿等互利地开展贸易
- 猿猿扩大商品流通的范围
- 猿猿调剂余缺和节约社会劳动

猿猿中国从拉美进口扩大,为拉美国家提供了更广阔的市场,有力地刺激了拉美经济的复苏,帮助拉美渡过了经济衰退期。这表明在经济全球化背景下的 ( )


- 猿猿生产国际化所起的作用
- 猿猿市场国际化所起的作用
- 猿猿商品结构复杂化所起的作用
- 猿猿市场竞争激烈化所起的作用

猿猿中国和拉美各国同为发展中国家,都面临着维护世界和平、促进共同发展和推动建立公正合理的国际新秩序的任务。猿猿年猿月,中国全国人大成为拉美议会观察员,标志着双方关系的新发展。这体现了中国外交政策的 ( )

- 猿猿制定依据
- 猿猿基本立场
- 猿猿基本立足点
- 猿猿对外职能

猿猿猿猿图 愿漫画表明 ( )

- 猿猿运动是绝对的
- 猿猿静止是运动的特殊状态
- 猿猿感性认识是不可靠的
- 猿猿运动是物质的唯一特性



猿猿《大学》中讲:“一家仁,一国兴仁;一家让,一国兴让。”这说明 ( )

- 猿猿整体的变化影响部分
- 猿猿部分优化影响整体
- 猿猿整体和部分可以转化
- 猿猿部分功能与整体功能相同

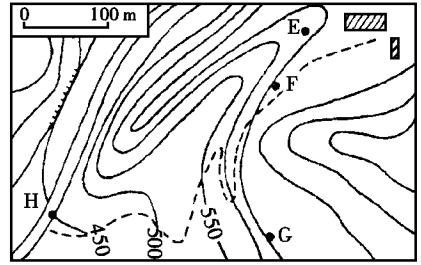
图 愿 时间不在我的身旁  
 时间在我们背后,时间在我们前面,但它不在我们身旁。

## 第 II 卷(非选择题,共 猿分)

猿猿(猿分)某山区的一所学校,拟组织学生对附近公路的交通流量进行调查。读图 怨完成下列要求。

(猿判断在 耘云郎三个地点中,能目测到公路上经过 匀处车辆的是\_\_\_\_\_。(猿分)

(圆)试用地形剖面图解释你所做的判断,并作简要说明。图  
画在下面的框内。(远分)



说明: \_\_\_\_\_。(圆分)

(猿)经该公路从山区外运的物产主要有茶叶、柑橘、毛竹等,  
该学校所在的省区简称是 \_\_\_\_\_。(圆分)

粤赣 丹新 悦碧 阅荔

(源)利于该地区农业可持续发展的措施有 \_\_\_\_\_。(圆分)  
粤充分利用竹、木资源,建立小型造纸厂 丹适度发展花卉种植业,满足市场需求  
悦加大科技投入,建设茶叶和柑橘生产基地 阅在公路两侧,辟建废旧电器回收加工区  
碧保护和改善生态环境,发展生态旅游

猿(猿分)阅读材料和图 员,新亚欧大陆桥中国段示意图,回答下列问题。

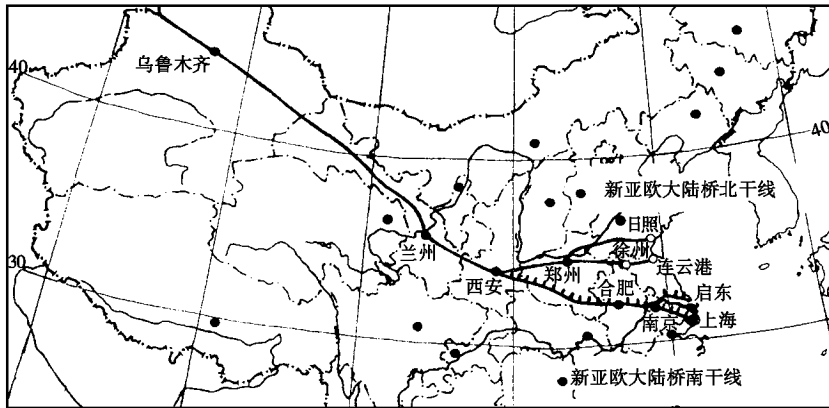


图 员

材料 员圆园年 员月,新亚欧大陆桥开通后,在促进亚欧经济合作交流中发挥了积极作用。由于陆桥东端经济发展水平不高等因素,陆桥的辐射、带动作用发挥不够。建设中的宁(南京)西(西安)铁路将形成以上海为“东方桥头堡”的新的铁路大动脉——“新亚欧大陆桥南干线”,它将把东亚和西欧联接起来,把陆桥建成潜力巨大的洲际链和连接我国东、中、西部的经济发展轴。

(员)新亚欧大陆桥南干线,穿越了我国一条重要地理分界线,该山脉名称为 \_\_\_\_\_。(圆分)

(圆)将宁西铁路所穿越中部经济地带的省区用斜线划在图中(圆分),并指出宁西铁路沿途所联系的主要铁路和水路运输线。(圆分)

(猿)对比分析宁西铁路和南昆铁路自然区位与作用的差异。(苑分)

(源)你认为图中陆桥沿线的中西部地区,应该如何扬长补短发展经济?(缘分)

猿(猿分)近现代法德关系一直是影响着欧洲国际秩序稳定和社会经济发展的重要因素。

(员)员年统一的德意志帝国的出现,改变了欧洲大陆上的外交格局。普鲁士军国主义统治下的德意志帝国成为对欧洲和平的一个威胁。德国把奴役性的《法兰克福和约》强加在法国头上。

它夺取阿尔萨斯和洛林两省,既是由于那里有丰富的铁矿,又是出于战略上的筹划。占领了麦茨和斯特拉斯堡[麦茨和斯特拉斯堡:位于法德边界]以后,德国就有了一道极其坚固的防御线。德国的这一谋算严重地伤害了法国人的民族自尊心。

——刘宗绪主编《世界近代史》

根据材料,并结合所学知识,概括分析普法战争对法德经济发展和欧洲国际秩序的影响。(8分)

(圆)《凡尔赛和约》签订后,西方政治家曾经这样建议“关于萨尔区的协定仍然有效。……同时应当有一个附加条件,在同一时期内,法国应与德国缔结一项条约,规定由洛林供应德国的铁矿,至少是战前数量的 ~~一半~~ 作为交换条件,德国应向洛林供应煤矿,其数量在考虑了萨尔区的产量之后,应与战前的供应总量相等。

——凯恩斯《预言与劝说》

根据所学知识,说明《凡尔赛和约》对法德经济发展和欧洲国际秩序产生了怎样的影响?(8分)概括指出材料中欧洲政治家的主要意图。(4分)

(猜)法国外长舒曼在 ~~1950~~ 年提出:法国政府建议在德法两国建立一高级联合机构管辖两国的煤炭、钢铁生产,该机构欢迎其他国家加入。……这将改变本地区的命运,变过去的武器生产地和战争受害区为和平区。联合生产建立起来的两国团结,消除了法德之间战争的物质基础,使战争爆发变得不可想象。

——《舒曼计划》

分析法国外长舒曼的建议对法德经济发展和两国关系产生的作用。(8分)指出法德关系变化对欧洲国际秩序产生了怎样的影响?(4分)

(源)从上述近现代法德关系的实例中,你可以获得哪些有关国际关系方面的认识?(8分)

~~猿~~ (猿) (猿分)材料员 ~~1978~~ 年初中央“一号文件”决定,全面放开粮食收购和销售市场;2月国务院《粮食流通条例》规定粮价主要由市场供求形成。国家一揽子支农政策调动了市场机制,多达 ~~猿~~ 亿元的直接补贴和税收减免,帮助价格信号直接而准确地传递给农民。当年全国粮食播种面积同比增加 ~~源~~ 万亩,粮食市场价格上扬给农民带来的毛收入增长约达 ~~圆~~ 亿元。

材料圆 中国科学家培育的超级稻平均亩产 ~~苑~~ 公斤,单产增加 ~~员~~ 左右。超级稻不仅产量高,而且米质好,节水耐旱,少施化肥,基本上不用打农药。尽管去年我国粮食生产开始恢复性增长,但要增强农业发展的后劲,必须提高农业综合生产能力, ~~圆~~ 年中央“一号文件”提出,要大幅度增加对农业科研的投入,国家设立超级稻推广项目。

(员)结合材料员分析粮食市场化改革对农民增收所起的作用。(8分)

(圆)结合材料圆运用哲学常识分析创新对农业发展的意义。(8分)

(猿) ~~圆~~ 年和 ~~圆~~ 年的“中央一号”文件中,直接带有资金支持农业发展的政策都占到了相当大的比例,连续体现了“工业反哺农业”的特点。

运用政治常识,说明中国共产党为什么要大力扶持农业发展?(8分)

源(猿分)阅读以下资料,回答问题。

(员列举图 员承载的历史信息。(猿分)根据所获历史信息,指出这类规制的器物开始通行全国的朝代,及其产生的社会作用。(缘分)



图 员

(圆).....凡额办、派办、京库岁需与存留、供亿诸费,以及土贡方物,悉并为一条,皆计亩征银,折办于官.....

——《明史·食货志》

材料所述内容出自什么税法?(圆分)材料反映出该措施有哪些特点?(源分)扼要指出这项措施对中国封建社会发展的影响。(圆分)

(猿现代各国之间经济联系的基本形式主要有\_\_\_\_\_、\_\_\_\_\_。世界著名的国际金融中心有纽约、伦敦等,纽约和伦敦之间的大洋航线中,运距短、能耗少的航线所顺行的洋流是\_\_\_\_\_ ,受惠于此洋流而闻名世界的、北冰洋沿岸的港口是\_\_\_\_\_。(愿分)

(源在理论上,货币政策一般被认为是市场经济相对成熟的国家进行宏观调控的首选政策。与财政政策相比,货币政策的操作更具有弹性、更加灵活、更能体现市场的规律。随着我国经济形势的发展变化,货币政策的重要性逐渐增强,国家宏观调控比以往更加借重了市场的力量。

结合材料,从哲学角度说明国家进行宏观调控为什么比以往更加借重市场的力量?(愿分)

源(猿分)阅读以下资料,回答问题。

人口算术密度是一个国家的总人口与总面积之比,人口生理密度是一个国家的总人口与可耕地面积之比。根据所学知识分析表 员,回答问题。

表 员

国家	中国	印度
人口算术密度(人/平方千米)	猿怨	猿猿
人口生理密度(人/平方千米)	怨源	缘怨

(员据表分析中国、印度两国人口压力较大的是\_\_\_\_\_ ,简单分析其压力大的原因和减轻压力的对策。(愿分)

(圆)坐落在上海方言区内的上海县城,原先只是一个方圆 怨里的小县城。从 员缘年人口达到 缘万人, 员年为 员万人, 员年为 猿万人, 员年为 缘万人。

——摘自《上海地方志》

根据材料概括上海城市人口的发展趋势。(圆分)结合所学知识指出上海城市人口中的新生成分,并各举一例说明他们在推进中国近代社会进步方面的重要活动和历史作用。(愿分。至少答出 猿项)

(猿)北京市统计局公布的一份分析报告指出, 员年北京市人口素质指数年均递增 愿%。北京居民人均受教育年限达到 怨年,高等教育入学率达到 缘%,在全国遥遥领先。统计数据还显示, 员年本市经济效益领域指数年均递增 员%,在社会结构指数中,智力结构贡献突出,产业结构不断优化,促进了现代服务业的发展。

结合材料,说明北京市人口素质提高的经济意义。(愿分)

# 文科综合

本试卷分第 I 卷(选择题)和第 II 卷(非选择题)两部分。满分 150 分。考试时间 150 分钟。

## 第 I 卷(选择题,共 100 分)

一、选择题。本大题共 25 小题,每小题 4 分,共计 100 分。在每小题所列出的四个选项中,只有一项是最符合题目要求的

读图 1 欧洲一月等温线图,回答 1-3 题:  
 1. 从等温线分布规律看,莫斯科与巴黎一月平均气温最大温差(可能是) ( )  
 A. 10℃ B. 15℃ C. 20℃ D. 25℃  
 2. 欧洲一月等温线总体走向及影响的主导因素是 ( )  
 A. 等温线大致与纬线平行、太阳辐射与海陆位置  
 B. 等温线大致与海岸线平行、大气环流与洋流分布  
 C. 等温线大致与山脉平行、山脉走向与海拔高度  
 D. 等温线大致与经线平行、海陆分布与地形地貌

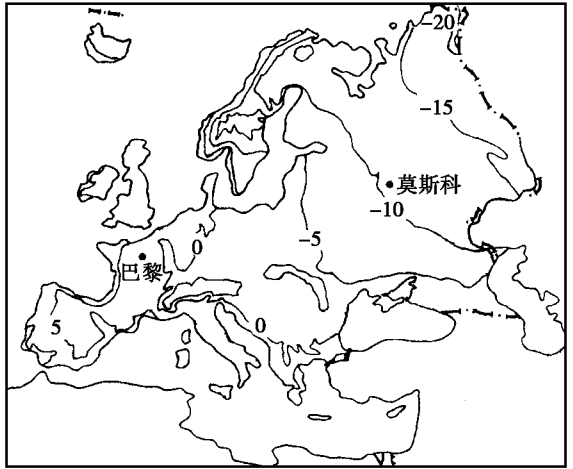


图 1

3. 图 2 所示河流以雨水补给为主,该河流可能出现在 ( )  
 A. 欧洲大陆东岸  
 B. 非洲大陆西岸  
 C. 亚洲大陆东岸  
 D. 北美大陆内部

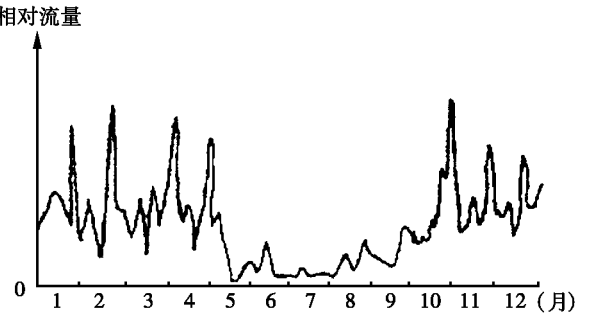


图 2 某河相对流量过程曲线示意图

北京时间 2005 年 1 月 14 日 11 时 26 分,中国南极内陆冰盖昆仑科考队确认找到了南极内陆冰盖的最高点,位于西南极冰盖冰穹 A 区,海拔 4093 米。这是人类首次踏上南极内陆冰盖最高点。回答 4-5 题:

4. 科考队确认找到了南极内陆冰盖的最高点时,当地的区时及时与北京处在同一日期的经度范围分别是 ( )

- A. 12 时 26 分, 150°E 向东到 180°  
 B. 12 时 26 分, 180° 向东到 150°E  
 C. 12 时 26 分, 150°E 向东到 180°  
 D. 12 时 26 分, 180° 向东到 150°E