

# 三点一测丛书

人教版·八年级地理(上)

龍 門 書 局

北 京

# 目 录

第一章 从世界看中国 .....	(1)
1.1 辽阔的疆域 .....	(1)
1.2 众多的人口 .....	(17)
1.3 多民族的大家庭 .....	(28)
第一章综合测试题 .....	(39)
第二章 中国的自然环境 .....	(43)
2.1 地势和地形 .....	(43)
2.2 气候多样 季风显著 .....	(65)
2.3 河流和湖泊 .....	(85)
第二章综合测试题 .....	(103)
第三章 中国的自然资源 .....	(110)
3.1 自然资源总量丰富 人均不足 .....	(110)
3.2 土地资源 .....	(122)
3.3 水资源 .....	(132)
第三章综合测试题 .....	(142)
第四章 中国的经济发展 .....	(147)
4.1 逐步完善的交通运输网 .....	(147)
4.2 因地制宜发展农业 .....	(166)
4.3 工业的分布与发展 .....	(185)
第四章综合测试题 .....	(203)
期中测试卷 .....	(210)
期末测试卷 .....	(217)
参考答案 .....	(225)

# 前 言

义务教育地理课程标准提出：要全面推进素质教育，课程的设置必须着眼于学生的全面发展和终身发展，创建新型的地理学习方式，构建开放式的地理课程，充分利用现代信息技术，培养学生的地理实践能力和探究意识，激发学生学习地理的兴趣和爱国主义情感，使学生确立正确的人口观、资源观、环境观以及可持续发展的观念。

本书是以人教版义务教育课程标准实验教科书《地理》八年级上为蓝本进行编写的。以章节为单位，每节包括探究目标、探究指导、快乐套餐等栏目。每章后有全章综合测试题。全书后有期中、期末测试题。测试题分为基础知识和探究性学习两部分，为了方便读者，所有的测试题都给出了答案，部分选择题还给出了提示。

**探究目标** 在探究目标中简明扼要地列出各节在知识上的学习目的和要求；需要掌握的技能，须采取的方法和过程；以及应持有的情感、态度、价值观。

**探究指导** 包括地理宫殿、探究活动和聊天室三个子栏目。地理宫殿对各节应掌握的知识点进行归纳和讲解，然后给出适量的例题并给出解题思路与技巧、答案和评析；探究活动是以例题的形式设计的适合学生特点的探究活动，也给了解题思路与技巧、答案和评析；聊天室是与该节内容相关的主题讨论、交流和探讨。

**快乐套餐** 包括练一练，你学会了吗？（提供具有代表性、典型性和灵活性的题目，供学生进行训练和检测）；想一想，如何探究（开拓学生的思维，帮助学生提高分析问题和解决问题的能力）；试一试，经历这些活动（培养学生参与活动的习惯，提高学生动手动脑的能力）；读一读，你有何收获（通过阅读，拓展视野，引发兴趣）等子栏目。

本书力求贯彻新课标精神，注重探究，注重发挥学生潜能，培养学生主动参与的态度、交流协作的精神和分析解决问题的能力。并在编写上树立人性化的写作风格，力求给读者一种亲切感。但由于水平所限，书中可能存在一些错误与不足，恳请各位师生在使用中予以指正和补充，并把发现的问题和修改意见及时反馈给我们，以便不断完善。

编 者



# 第一章 从世界看中国



同学们,大家好!我敢肯定同学们从小就知道,我们伟大的祖国是一个幅员辽阔、人口众多的国家,是一个屹立在世界东方的文明古国;在祖国辽阔的土地上,56个民族的兄弟姐妹和谐相处,组成了多民族统一的大家庭。那么祖国到底有多大?她的最北、最南、最东、最西端分别在哪里?她的海岸线有多长?她有哪些邻国?……祖国的人口有多少?有怎样的变化和分布特点?各民族有哪些各具特色的风土人情?分布有何特点?……就请随我一一细致地了解吧。



## 1.1 辽阔的疆域

### 探究目标

**知识目标** 1. 说出我国的地理位置及其特点,识记我国的国土面积及在世界上的位次。

2. 记住我国陆上疆界达 20000 多千米,相邻国家有 14 个。

3. 掌握我国海岸线长 18000 多千米,隔海相望的有 6 个国家及主要的临海、内海、海峡、半岛、岛屿的位置。

4. 了解领海的含义及我国管辖的海域面积。

5. 识记我国 34 个省级行政区的名称,并记住它们的简称和行政中心。

**能力目标** 1. 学会运用地球仪或东、西两半球图说出我国的位置,并分析我国地理位置的优越性。

2. 学会在中国疆域示意图上,查找我国的邻国、隔海相望的国家及临海、内海、海峡、半岛、岛屿的位置。

3. 学会在中国地图上查阅中国的四至点并量算我国领土南北端之间、东西端之间的距离;学会运用世界地图及有关资料,比较中国和其他面积居世界前列的国家的面积大小和位置优劣。

4. 学会在我国行政区图上准确找出 34 个省级行政区的位置。

**情感、态度、价值观目标** 1. 通过认识我国辽阔的领土和优越的位置,激发

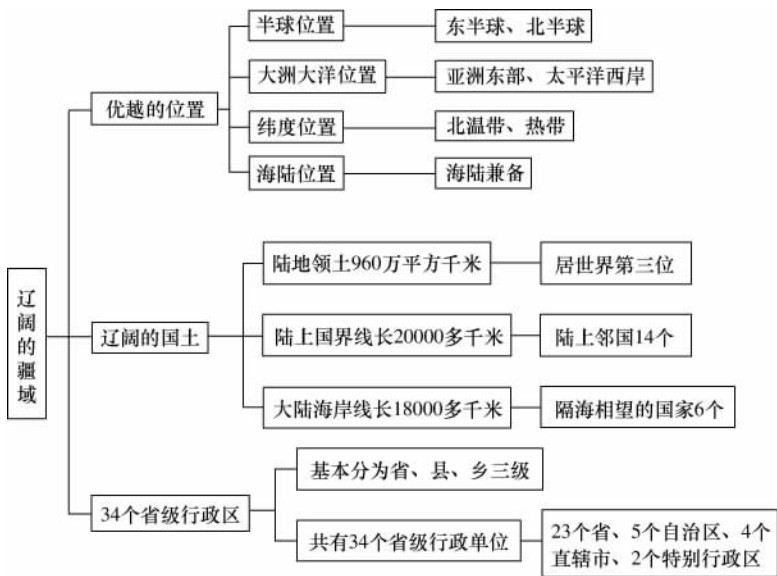
学生爱国之情、兴国之志,增强改革开放的意识。

2. 通过了解香港、澳门和台湾都是我国领土的一部分,使学生树立祖国统一大业必定实现的信念,培养学生维护祖国统一、保护祖国领土完整的神圣责任感。

探究指导



知识结构



地理宫殿

1. 从东西半球看,我国位于东半球;从南北半球看,我国位于北半球;从世界大洲大洋的位置关系看,我国位于亚洲东部、太平洋西岸。

2. 从纬度位置看,我国领土南北跨纬度很广,大部分位于中纬度地区,属北温带,南部少数地区位于北回归线以南的热带,我国没有寒带。

3. 从海陆位置看,我国位于世界最大的大陆——亚欧大陆的东部,西部深入亚欧大陆内部;东部濒临世界上面积最大的大洋——太平洋,是一个海陆兼备的

国家。

4. 我国疆域辽阔,陆地领土面积约 960 万平方千米,与整个欧洲的面积差不多。在世界上仅次于俄罗斯和加拿大,居世界第三位。我国领土最北端在黑龙江省漠河以北的黑龙江主航道的中心线上;最南端在南海的南沙群岛中的曾母暗沙;最东端在黑龙江与乌苏里江主航道中心线的相交处;最西端在新疆的帕米尔高原上。

5. 我国陆上国界线长达 20000 多千米,相邻的国家有 14 个,从东逆时针方向分别是:朝鲜、俄罗斯、蒙古、哈萨克斯坦、吉尔吉斯斯坦、塔吉克斯坦、阿富汗、巴基斯坦、印度、尼泊尔、不丹、缅甸、老挝、越南。

6. 我国濒临的海洋,从北向南依次为渤海、黄海、东海、南海,渤海和琼州海峡是我国内海;沿海分布着台湾岛、海南岛、舟山群岛和南海诸岛等岛屿,台湾岛是我国最大的岛屿;我国大陆海岸线长 18000 多千米,隔海相望的国家有 6 个,从北向南分别是:韩国、日本、菲律宾、马来西亚、文莱、印度尼西亚。

7. 我国的行政区域,基本上分为省(自治区、直辖市)、县(自治州、自治县、市)、乡(民族乡、镇)三级。

8. 自治区、自治州、自治县是民族自治地方,是中华人民共和国不可分割的部分。国家规定,必要时还可以设立特别行政区。

9. 目前,我国共有 34 个省级行政单位,包括 23 个省、5 个自治区、4 个直辖市和 2 个特别行政区。

#### 省级行政单位的名称、简称和行政中心

名称	简称	行政中心
北京市	京	北京
天津市	津	天津
河北省	冀	石家庄
山西省	晋	太原
内蒙古自治区	内蒙古	呼和浩特
辽宁省	辽	沈阳
吉林省	吉	长春
黑龙江省	黑	哈尔滨
上海市	沪	上海
江苏省	苏	南京
浙江省	浙	杭州

续表

名称	简称	行政中心
安徽省	皖	合肥
福建省	闽	福州
江西省	赣	南昌
山东省	鲁	济南
河南省	豫	郑州
湖北省	鄂	武汉
湖南省	湘	长沙
广东省	粤	广州
广西壮族自治区	桂	南宁
海南省	琼	海口
重庆市	渝	重庆
四川省	川或蜀	成都
贵州省	贵或黔	贵阳
云南省	云或滇	昆明
西藏自治区	藏	拉萨
陕西省	陕或秦	西安
甘肃省	甘或陇	兰州
青海省	青	西宁
宁夏回族自治区	宁	银川
新疆维吾尔自治区	新	乌鲁木齐
澳门特别行政区	澳	澳门
香港特别行政区	港	香港
台湾省	台	台北

**【例题 1】** 读“中国在世界上的位置图”(图 1-1-1),把下列知识补充完整:

从东西半球看,我国位于\_\_\_\_\_ ,从南北半球看,我国位于\_\_\_\_\_ ;  
 从世界大洲大洋的位置关系看,我国位于\_\_\_\_\_ 东部、太平洋\_\_\_\_\_ ;  
 从纬度位置看,我国领土南北跨纬度很广,大部分位于\_\_\_\_\_ 地区,属北温带,  
 南部少数地区位于北回归线以南的\_\_\_\_\_,我国没有\_\_\_\_\_ ;  
 从海陆位置看,我国位于世界最大的大陆\_\_\_\_\_ 亚欧大陆的\_\_\_\_\_ ,\_\_\_\_\_ 深入亚欧

大陆内部,东部濒临世界上面积最大的大洋——太平洋,是一个\_\_\_\_\_的国家。

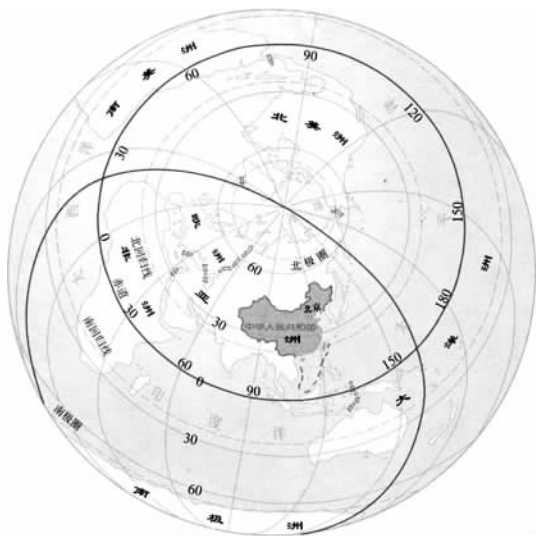


图 1-1-1 中国在世界的位置

**解题思路与技巧** 仔细读图,抓住图上所给信息,特别注意图中两条重要界线——东西半球和南北半球的分界线。会在图上获得信息,问题就迎刃而解了。

**答案** 东半球 北半球 亚洲 西岸 中纬度 热带 寒带 东部 西部 海陆兼备

**评析** 本题主要是考查学生读图能力,在图上获取信息解决问题。图中东西半球和南北半球的分界线是同学们容易忽略的,有的同学根本不知道它们是什么,也就利用不上。

**【例题 2】** 我国领土幅员辽阔,拥有\_\_\_\_\_平方千米,是世界上面积最大的国家之一。我国领土的最北端在\_\_\_\_\_,最南端在\_\_\_\_\_,南北直线距离约为\_\_\_\_\_千米;我国领土的最东端在\_\_\_\_\_,最西端在\_\_\_\_\_,东西直线距离约为\_\_\_\_\_千米。

**解题思路与技巧** 我国的面积及领土的四端是常识性知识,同学们要借助中国地图牢记这些知识。量算我国南北、东西距离,首先在中国地图上找出南、北、东、西四端,量出图上距离,再查看地图的比例尺,利用地图比例尺的知识计算南北、东西实地距离。

**答案** 960 万 黑龙江省漠河以北的黑龙江主航道的中心线上 南海的南

沙群岛中的曾母暗沙 5500 黑龙江与乌苏里江主航道中心线的相交处 新疆的帕米尔高原上 5200

**评析** 本题主要是考查学生是否正确记住了我国的面积和四至点的位置,也考查了学生利用地图比例尺计算实地距离能力。

**【例题 3】** 我国现在的行政区,基本上划分为\_\_\_\_\_ (自治区、直辖市)、\_\_\_\_\_ (自治州、自治县、市)和\_\_\_\_\_ (民族乡、镇)三级。省级行政区包括\_\_\_\_\_ 个省、\_\_\_\_\_ 个自治区和\_\_\_\_\_ 个直辖市。并设立了\_\_\_\_\_ 和\_\_\_\_\_ 两个特别行政区。

**解题思路与技巧** 我国行政区划主要分三级,目前省级行政单位有 34 个,这些知识靠同学们联系日常生活中所接触的行政区来认真记忆。

**答案** 省 县 乡 23 5 4 香港、澳门

**评析** 此题主要考查学生对目前我国行政区划的掌握,属于常识性知识,需要同学牢记。



**【例题】** 行政区划是一个国家政治的重要体现。行政区划的合理与否,直接对一个国家的经济、社会发展产生巨大的影响。行政区划作为一个政治概念与人的关系密不可分。因此在行政区划中,最重要的划分标准应是人口及与之紧密联系的文化、经济等人文、社会因素。这是行政区划标准的最重要因素。我国人口在 5000 万以上的省就有 9 个,7000 万以上的有 5 个,8000 万以上的有 3 个。一个省级行政区域管辖相当于一个德国、英国或法国的人口,同学们根据下面的资料探究一下,这是否合理?

世界 14 个国家行政区划情况

国家	一级区划数	面积 (万 km <sup>2</sup> )	平均区划面积 (万 km <sup>2</sup> )	人口(万)	平均区划人口 (万)
美国	50	937.26	18.75	27100.0	542.00
日本	47	37.78	0.80	12660.0	269.40
德国	16	35.70	2.23	8205.7	51.29
法国	95	55.16	0.58	5870.0	61.79
英国	4	24.30	6.08	5900.0	1475.00
意大利	20	30.13	1.51	5746.0	287.30

续表

国家	一级区划数	面积 (万 km <sup>2</sup> )	平均区划面积 (万 km <sup>2</sup> )	人口(万)	平均区划人口 (万)
中国	34	960.00	28.24	130000.0	3823.53
巴西	27	854.74	31.66	16179.0	599.22
澳大利亚	8	768.23	96.03	1830.0	228.75
加拿大	12	997.06	83.09	2980.0	248.33
俄罗斯	70	1707.50	24.39	14600.0	208.57
印度	28	297.47	10.62	93800.0	3350.00
印度尼西亚	26	190.00	7.31	20500.0	788.46
尼日利亚	12	92.38	7.70	12000.0	1000.00

**解题思路与技巧** 行政区域的外在表现形式是地域划分,它只是表现划分的方式,根本还在于地域内的“人”。因此,行政区划应以“人”为核心。纵观中国行政区划我们不难发现,在这一点上,我国的行政区划在一定范围内略倾向于地域划分,而忽视了人文因素。

**答案** 从表中我们不难看出,中国一级区划平均人口无疑是最多的,而平均面积却不在几个最大国家之列,行政区划的人口集中性很大。这些数字表明,我国现有的行政区划不尽合理,改革刻不容缓。

**评析** 这是一道资料分析题。考查同学们对资料的理解及提炼信息的能力。



聊天室

同学们,我们已经了解了我国的地理位置,你可以跟同学们探讨一下,我国的地理位置与日本、加拿大、蒙古等国家的位置相比,有哪些优越性。聊一聊,这些优越性对我国经济发展有什么益处。

快乐套餐



练一练,你会了吗?

一、你会填吗?

- 我国陆疆长\_\_\_\_\_千米,与我国陆地相邻的国家有\_\_\_\_\_个。
- 伸入大陆,被\_\_\_\_\_半岛和\_\_\_\_\_半岛环抱的\_\_\_\_\_海,是我国

的内海。\_\_\_\_\_半岛和\_\_\_\_\_岛之间的\_\_\_\_\_海峡,也是我国的内海。

3. 我国的海岸线很长,光是大陆海岸线就有\_\_\_\_\_多千米。我国沿海分布着一系列大小岛屿,其中面积最大的岛屿是\_\_\_\_\_岛,其次是\_\_\_\_\_岛。

## 二、你会选吗?

- 我国没有的温度带是 ( )
  - 热带和北温带
  - 热带和南温带
  - 寒带
  - 北温带和北寒带
- 有关我国地理位置的叙述,正确的是 ( )
  - 我国大陆南部有北回归线穿过
  - 领土最北端在漠河,最南端在曾母暗沙
  - 从经度来看,我国全属东经度;从纬度来看,我国全属低纬度
  - 位于东半球,亚洲东部,西临太平洋
- 我国最东端附近的学生早晨 8 点上课时,若按世界标准时区计算,最西端附近的时间才约 ( )
  - 3 点钟
  - 4 点钟
  - 5 点钟
  - 6 点钟
- 我国的领海,是指从海岸基线向海上延伸到 ( )
  - 12 里的海域
  - 12 公里的海域
  - 12 海里的海域
  - 12 英里的海域
- 下列既不与邻国接壤又不临海的我国少数民族自治区是 ( )
  - 宁夏
  - 广西
  - 西藏
  - 新疆

## 三、你会连吗?

把下列有因果关系的事物连线:

- |                  |                |
|------------------|----------------|
| ①我国南北相距 5500 千米  | ⑤我国东部降水丰富      |
| ②我国东邻太平洋         | ⑥我国发展多种农业经济    |
| ③北回归线穿过我国大陆南部    | ⑦我国东西时差可达 4 小时 |
| ④我国东西相距约 5000 千米 | ⑧我国大部分地区处北温带   |

## 四、你会做吗?

读“中国行政区划图”(图 1-1-2),完成下列表格:

序号	A	B	C	D	E
省级行政单位					
序号	F	G	H	I	J
简称					
序号	K	L	M	N	O
省级行政中心					

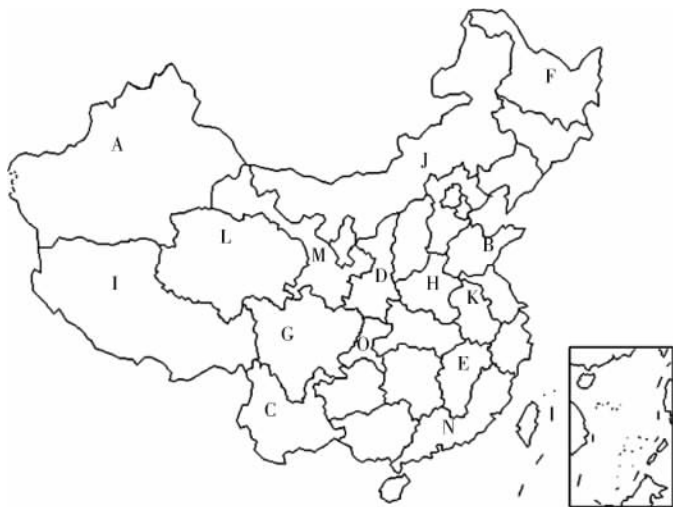


图 1-1-2 中国行政区划图



想一想，如何探究？

1. 想一想，我国省级行政单位的简称由几种方式得来，你能举例吗？这些简称均属于历史沿革、约定俗成，一般不好再变更了。

答案 ①取用全名中的一个字或几个字，如：新疆维吾尔自治区（新）。

②用本省著名的山水作简称，如：福建省（闽）。

③用本省的历史名称作简称，如：山东省（鲁）。

2. 从中国的范围和位置中，我们了解到乌苏里江和帕米尔高原有非常大的晨昏差异。想一想，它们之间的这种差异总是不变的吗？

答案 从两地的纬度上来看，是有变化的。因为纬度也会决定日出的早晚。夏季，处于高纬的乌苏里江白昼更长，因此两者之间的差异更大，到了冬天，这种差异会相应减小。



试一试，经历这些活动

同学们，通过学习我们知道，我国在行政区域上划分为 34 个省级行政单位，你记住了多少呢？如果有些省级行政单位的名称或简称你暂时没有记住，请你千万不要着急，下面我们一起来做个游戏，相信你会有很大的收获。

### 活动一 自己动手制作“中国政区图”的拼图

**活动目标** 通过自己动手制作“中国政区图”的拼图,熟悉我国省级行政单位的名称和位置,还使学生在动手的过程中,加深了对我国领土的认识。

**活动用具** 小图幅的中国政区图、两块等大的硬纸壳、复写纸、笔等。

**方法步骤** 1. 把“中国政区图”的省级轮廓分别复制在两块等大的硬纸壳上。

2. 把其中一块硬纸壳上的省级行政区裁开成 32 份(香港、澳门连在广东省)。

3. 把完整的一块硬纸壳作为底板,开始拼图来熟悉省级行政单位的轮廓和位置,并进行交流活动。

### 活动二 组织拼图竞赛活动

1. 每人准备一份“中国政区图”的拼图。

2. 分小组进行竞赛,同时记个人竞赛成绩,最后评出最佳小组和各个冠、亚、季军。



读一读, 你有何收获

### 【阅读材料 1】

#### 我国 34 个省级行政区的名称及简称的由来

除非疆域特别狭小,任何一个国家都要根据行政管理的需要,将领土划分成有层次的区域,这一过程叫作行政区划,这些区域称为行政区域,简称为行政区或政区。政区由国家立法所创置或撤废,具有可变性的特点,另外政区还有承继性、延续性的特点,中国政区的现状是历史上长期发展演变的结果。

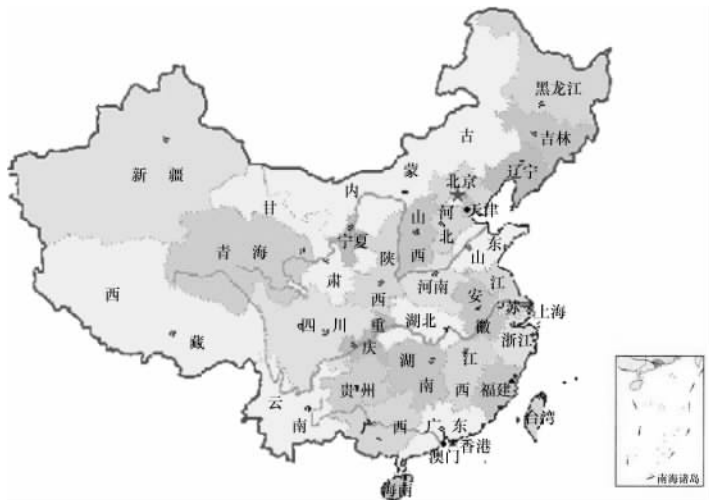
我国疆域辽阔,为了便于行政管理,利于经济的发展和民族团结,全国的行政区域基本上分为省(自治区、直辖市)、县(自治县、县级市)、乡(镇)三级。截至 2001 年底,我国共有 34 个省级行政区。

湖南省位于长江中游南岸;地处  $108^{\circ}47' \sim 114^{\circ}15'E$ ,  $24^{\circ}39' \sim 30^{\circ}08'N$  之间;面积 21 万  $\text{km}^2$ 。春秋战国时属楚国,秦分二郡,汉属荆州。唐分归两道,因地居洞庭湖以南,始称湖南。宋为两路,元、明设湖广行省,清置湖南省。因湘江纵贯省境,故简称湘。省会长沙。

湖北省位于长江中游北岸;地处  $108^{\circ}21' \sim 116^{\circ}07'E$ ,  $29^{\circ}05' \sim 33^{\circ}20'N$  之间;面积 18.6 万  $\text{km}^2$ 。春秋战国时期,为楚国之地。秦统一后,楚地为避秦始皇父亲名“子楚”讳,遂以荆山之“荆”改称之。后湖北多称荆,有时合称荆楚。汉属荆州。

北宋置荆湖北路,简称湖北路,因地处洞庭湖以北,始称湖北。元代属湖广行省。明代改行省为承宣布政使司。清康熙年间,改为湖北省,沿袭至今。因西部有鄂西山地,故简称鄂。省会武汉。

广东省位于华南地区东部;地处  $108^{\circ}13' \sim 119^{\circ}59'E, 3^{\circ}28' \sim 25^{\circ}31'N$  之间;面积 18 万多  $\text{km}^2$ 。战国时为百越地,秦属南海、象两郡,汉属交州,唐为岭南道。宋置广南东路和西路,从简称中得广东政区名。元属江西行省,明改广东布政使司,清设广东省。因古时为南越地(越又作粤),故简称粤。省会广州。



广西壮族自治区位于华南地区西部;地处  $104^{\circ}29' \sim 112^{\circ}13'E, 20^{\circ}54' \sim 26^{\circ}23'N$  之间;面积 23.6 万  $\text{km}^2$ 。战国为百越地,秦分属桂林、象两郡,汉属交州。唐属岭南道,宋分广南西路、东路,由简称得广西政区名。元属湖广行省,明改广西布政使司,清初为广西省。1958 年设广西壮族自治区。因秦时为桂林郡辖地,故简称桂。首府南宁。

河南省位于古时传说中九州(冀、兖、青、徐、扬、荆、豫、梁和雍州)中心的“豫州”,或称“中州”、“中原”;地处  $110^{\circ}22' \sim 116^{\circ}38'E, 31^{\circ}23' \sim 36^{\circ}22'N$  之间;面积 16.7 万  $\text{km}^2$ 。夏、商时期即以此为生息地。战国为东周、韩、魏地,秦设河南县,汉置郡,唐正式建河南(黄河以南得名)道,宋、金分多路,元属河南江北行省,明改河南布政使司。清创河南省。因在豫州之域,故简称豫。省会郑州。

河北省位于北京周边;地处  $113^{\circ}04' \sim 119^{\circ}53'E, 36^{\circ}01' \sim 42^{\circ}37'N$  之间;面积 18.77 万  $\text{km}^2$ 。古时为中国传说中的九州之一。春秋战国时,北部属燕国,南部属晋国,故有“燕赵”之称。秦时设多郡。汉设幽冀二州。三国归魏辖。晋仍设二州。唐为河北道,因地处黄河以北而得名。宋为东、西路。元为中书省所

辖。明改北直隶省。清称直隶省。1928年始称河北省。因汉设幽冀二州,故简称为冀。省会石家庄。

山东省位于渤海和黄海之滨;地处  $114^{\circ}36' \sim 112^{\circ}43'E$ ,  $34^{\circ}25' \sim 38^{\circ}23'N$  之间;面积 15.3 万  $\text{km}^2$ 。春秋为齐鲁之地,秦分多郡,汉分属青、兖、徐等 3 州,唐归河南、河北道,宋、金分两路,后改为山东东路、西路,创始政区名称。元属中书省,明置山东布政使司,清为山东省。省会济南。

山西省位于太行山西侧,故称山西;地处  $110^{\circ}15' \sim 114^{\circ}32'E$ ,  $34^{\circ}35' \sim 40^{\circ}45'N$  之间;面积 15.63 万  $\text{km}^2$ ,春秋时为晋国,故简称为晋。战国为赵地。秦置多郡,汉仍称并州,唐为河东道,宋置河东路,金被分属。元属中书省。明设布政使司,清改山西省。省会太原。

江苏省位于长江下游,东濒黄海;地处  $116^{\circ}21' \sim 121^{\circ}54'E$ ,  $30^{\circ}46' \sim 35^{\circ}08'N$  之间;面积 10 万多  $\text{km}^2$ 。春秋为吴、宋属地,战国归楚,秦划多郡,汉属徐、扬二州。三国苏南为吴,苏北为魏。唐宋为三道,元归江北、江浙两行省,明直隶南京。清取江宁府、苏州府合称,置江苏省,始得“江苏”政区名。省会南京。

江西省位于长江中游南岸;地处  $113^{\circ}34' \sim 118^{\circ}28'E$ ,  $24^{\circ}29' \sim 30^{\circ}05'N$  之间;面积 16 万多  $\text{km}^2$ 。春秋战国为楚国地,秦属九江郡,汉为扬州地。唐属江南西道,简称江西道,为政区原始名。宋为江南西、江南东两路,元为江西行省。明置江西布政使司,清为江西省。因境内大河以赣江为最,故简称赣。省会南昌。

浙江省位于东海的近邻;地处  $118^{\circ}01' \sim 123^{\circ}08'E$ ,  $27^{\circ}01' \sim 31^{\circ}10'N$  之间;面积 10.18 万  $\text{km}^2$ 。春秋为越国地,战国为楚国地。汉置多郡,唐始置浙江西、东道(因钱塘江流向曲折——因折与浙同音,又称浙江,渐成地名),宋置两路,元属江浙行省,明为浙江布政司,清设浙江省。省会杭州。

黑龙江省位于东北北部;地处  $121^{\circ}13' \sim 135^{\circ}06'E$ ,  $43^{\circ}26' \sim 53^{\circ}34'N$  之间;面积 46.9 万  $\text{km}^2$ 。古时为肃慎地,汉为挹娄、夫余地。唐属渤海国,辽金为东京、上京二道(路),元归辽阳行省,明属女真奴儿干都司。清 1671 年沿黑龙江岸筑城,名黑龙江城,后置黑龙江省。省会哈尔滨。

新疆维吾尔自治区位于中国西北边陲;地处  $34^{\circ}22' \sim 49^{\circ}33'E$ ,  $73^{\circ}41' \sim 96^{\circ}18'N$  之间;面积 160 万  $\text{km}^2$ ,占全国 1/6,是最大的省级行政区。古称西域,汉置西域都护府,唐置安西、北庭两都护府,宋为西辽地,元设两行省。清属伊犁将军府,被称新疆,1884 年建新疆省。1955 年成立新疆维吾尔自治区。首府乌鲁木齐。

辽宁省位于东北南部;地处  $118^{\circ}53' \sim 125^{\circ}46'E$ ,  $38^{\circ}43' \sim 43^{\circ}26'N$  之间;面积 14.59 万  $\text{km}^2$ 。战国属燕国,秦归辽东、辽西两郡,汉为幽州,唐置安东都护府及河北道,辽金分属三道(路),元置中书省,明设都指挥使司,清初建都称盛京,清末

改奉天省。1929年取“辽河流域永久安宁”之意，改称辽宁省。省会沈阳。

宁夏回族自治区位于 $104^{\circ}17' \sim 107^{\circ}40' E$ ,  $35^{\circ}14' \sim 39^{\circ}22' N$ 之间；面积6.6万 $km^2$ 。春秋战国为羌戎、匈奴族散居地，秦属北地郡，汉、魏分属郡州。唐、宋分归两道（路）。元称宁夏行省（取“夏地安宁”义得省名），明设宁夏卫，属陕西布政使司，清属甘肃省。1928年设宁夏省。1958年宁夏回族自治区成立。首府银川。

青海省位于西北中部；地处 $89^{\circ}35' \sim 103^{\circ}03' E$ ,  $31^{\circ}4' \sim 39^{\circ}19' N$ 之间；面积72.4万 $km^2$ 。古为西羌居地，汉设郡，隋设二郡，唐、宋属吐蕃。元多属，明为西番地，清多属。1928年置青海省，因境内青海湖得名，简称青。省会西宁。

陕西省位于黄河中游，西北地区东部； $105^{\circ}29' \sim 111^{\circ}15' E$ ,  $31^{\circ}42' \sim 39^{\circ}35' N$ ；20.5万 $km^2$ 。陕西在西周初得名。当时周、召二公以陕原（同“塬”，黄土高原地区因流水冲刷而形成的地貌，特点为：四边陡，顶上平）为界分而治之。陕原以东由周公治理，称“陕东”；陕原以西由召公治理称“陕西”；又因陕西在春秋战国时为秦国治地，故又简称“秦”。秦代为内史及汉中郡、上郡，汉属司隶和并、益州，唐属关内、山南等道，宋初置陕西路。元设陕西行省，自清朝始设陕西省至今。省会西安。

甘肃省位于河西走廊周围；地处 $93^{\circ}28' \sim 108^{\circ}44' E$ ,  $32^{\circ}36' \sim 42^{\circ}48' N$ 之间；面积45.1万 $km^2$ 。春秋战国为秦、西戎地。秦置二郡，汉属凉州。唐分三道，宋分两路，西夏时合甘州（张掖）、肃州（酒泉）两州首字得甘肃政区名。元置甘肃行省，始作省名。明属陕西省，清为甘肃省。因境内有陇山，故简称陇。省会兰州。

云南省位于中国西南地区；地处 $97^{\circ}32' \sim 106^{\circ}12' E$ ,  $21^{\circ}08' \sim 29^{\circ}15' N$ 之间；面积39.4万 $km^2$ 。因省内东部地区古属滇国疆域，故简称滇。春秋楚国开滇，汉属益州。三国属蜀，唐归剑南道，五代、宋为大理国，元设云南行省（因位于云岭之南而得名），明置云南布政使司，清设云南省。省会昆明。

贵州省位于中国西南部云贵高原东部；地处 $103^{\circ}37' \sim 109^{\circ}32' E$ ,  $24^{\circ}37' \sim 29^{\circ}13' N$ 之间；面积17万 $km^2$ 。春秋战国为楚、蜀、夜郎等7小国地，秦分多郡。汉属荆、益二州，隋、唐置黔中道。宋名贵州，元分属湖广、云南、四川三个行省，明设贵州布政使司。清为贵州省。因元时为黔州，故简称黔。省会贵阳。

西藏自治区位于青藏高原南部；地处 $78^{\circ}25' \sim 99^{\circ}06' E$ ,  $26^{\circ}44' \sim 36^{\circ}32' N$ 之间；面积120万 $km^2$ 。周为西戎，汉为西羌地，唐后属吐蕃，元设乌思藏宣慰司都元帅府。明设二都指挥使司，清先分治，后定名西藏（藏为圣洁义，因藏在中国西，康熙帝定名西藏），划为行政区。1965年，西藏自治区成立。首府拉萨。

四川省位于长江上游；地处 $97^{\circ}22' \sim 110^{\circ}10' E$ ,  $26^{\circ}03' \sim 34^{\circ}20' N$ 之间；面积56.7万 $km^2$ 。春秋战国时为巴、蜀国，秦置蜀郡，汉属益州。唐分两道。宋置四

路,元设四川行省,简称四川行省,始有初称。明改四川布政使司,清设四川省。故简称蜀(或川)。省会成都。

北京市位于华北平原北端;地处  $115^{\circ}25' \sim 117^{\circ}30' E, 39^{\circ}26' N$ ; 面积  $16807 \text{ km}^2$ 。春秋战国为燕国都城,称蓟。辽为陪都,称南京,又名燕京。金建都于此,号中都。此后 800 年,元称大都,明、清称京师,曾改称为北平、北京,及民国初年,称为首都。

上海市地处中国海岸带的中部,面临太平洋,背靠长江流域;位于  $30^{\circ}41' \sim 31^{\circ}53' E, 120^{\circ}51' \sim 122^{\circ}12' N$  之间;面积  $6341 \text{ km}^2$ 。唐宋时期,上海旧城乡一带是个渔村,在它的东面有两条河注入东北方的高桥、长江口一带。东面一条叫下海浦,西面靠近渔村的一条叫上海浦,渔村即以此为名,叫“上海”。新石器时代吴淞口下游一带的居民,以渔猎为生,并创造了一种叫“漉”的捕鱼的工具。这种工具适合于上海一带潮水涨落时进行捕鱼。后来就把这一带地方叫“漉”,简称为“沪”。

天津市位于华北平原东北部;地处  $116^{\circ}44' \sim 118^{\circ}01' E, 38^{\circ}33' \sim 44^{\circ}15' N$  之间;面积  $1.13 \text{ 万 km}^2$ 。战国时有民散居。汉、隋在此开凿运河,渐成重地。宋、辽时此为前线,金、元称直沽。明置海津镇,后取“天子津渡”之意,以纪念明成祖朱棣夺权胜利,改称“天津”,再筑城置天津卫。清为直隶州、天津府。

重庆市位于中国西南部、长江上游;地跨  $105^{\circ}11' \sim 110^{\circ}11' E, 28^{\circ}10' \sim 32^{\circ}13' N$  之间;面积  $8.2 \text{ 万 km}^2$ 。大约在三四千年前的夏商周时期,以重庆为中心地带的大片地区,已形成强大的奴隶制部族联盟,统称“巴”。周慎靓王五年,秦灭巴国,置巴郡。秦时分天下为三十六郡,巴郡为其一。汉朝时称江州。魏晋南北朝时期,先后更名荆州、益州、巴州、楚州。隋唐时为渝州(郡),故简称为渝。北宋改为恭州,取恭顺朝廷之意。1189 年皇子赵淳接踵于正月封恭王,二月受内禅即帝位,自诩“双重喜庆”,遂将恭州升格命名为重庆府。重庆因此而得名。1997 年,经全国人大批准,从四川省分离出来设为直辖市。

内蒙古自治区位于我国北边中部;地跨  $97^{\circ}12' \sim 126^{\circ}04' E, 37^{\circ}34' \sim 53^{\circ}23' N$  之间;面积  $118.3 \text{ 万 km}^2$ 。战国时属赵、燕、匈奴、东胡,秦汉置诸多郡,唐属多州,元归各路(府)辖。清朝实行盟旗制,称漠北外蒙古、漠南内蒙古。“内蒙古”一词始为区域名称,并沿用至今。民国设 3 个特别区,后改建成省。1947 年建立我国最早的自治区。首府呼和浩特。

台湾省位于中国东南海面,面积  $3.6 \text{ 万 km}^2$ 。包括台湾岛(面积  $3.58 \text{ 万 km}^2$ )、澎湖列岛、绿岛、钓鱼岛、兰屿、彭佳屿、赤尾屿。据实考及史载,原先的安平地区,存在着一个称为台窝湾族的土著部落,习惯上就把这一地区称为“台窝湾”,后随习惯的变化与官府的正式命名,“台湾”逐渐成为全岛的名称。《尚书·