

- 策 划：鼎尖教育研究中心
韩明雄 黄俊葵
- 执行策划：田 芬
- 丛书主编：周益新
- 本册主编：郭桂枝 黄旋萍
- 副 主 编：韩丙欣
- 编 著：黄旋萍 魏 艳 赵长远 管小琳 王 曙
胡世俊 彭职隆 易志平 魏立新 杨新云
杨少波 鲁广云 郑 兵
- 责任编辑：侯金莲 田 芬
- 法律顾问：北京陈鹰律师事务所（010-64970501）
- 装帧设计：韩 亮


ISBN 978-7-5437-5396-9

定 价：8.50 元

与人教版义务教育课程标准实验教科书同步
《教材精析精练》八年级地理 上

出 版：人民教育出版社 延边教育出版社
发 行：延边教育出版社
地 址：吉林省延吉市友谊路 363 号（133000）
北京市海淀区苏州街 18 号院长远天地 4 号楼 A1 座 1003（100080）
网 址：<http://www.topedu.net.cn>
电 话：0433-2913975 010-82608550
传 真：0433-2913971 010-82608856
排 版：北京鼎尖雷射图文设计有限公司
印 刷：
开 本：890×1240 16 开本
印 张：6
字 数：152 千字
版 次：2004 年 5 月第 1 版 2007 年 6 月第 4 版
印 次：2007 年 6 月第 1 次印刷
书 号：ISBN 978-7-5437-5396-9
定 价：8.50 元

如印装质量有问题，本社负责调换



FOREWORD

前言

2002年，由人民教育出版社、延边教育出版社联合出版的《教材精析精练》，率先与新课程、新理念接轨，融入自主、合作、探究学习的全新学习理念，栏目新颖，版式活泼，讲解透彻，科学性强，题目灵活，准确率高，题量适中，使学生在高效的学习中，能力与成绩得到迅猛提升，一跃成为全国优秀的教辅精品图书。

几年以来，丛书策划组兢兢业业，与时俱进，经过国家课程标准研究专家和人民教育出版社各编辑室的指导，多次赴国家级实验区、省级实验区调研，与特级教师、骨干教师共同探索初中新课标“自主性”“实践性”“探究性”“趣味性”的教学模式和最贴近新课标理念的评价模式，潜心研究，精心设计编写了初中新课标《教材精析精练》丛书，并不断在寻求改进和提升。在浩瀚的教辅市场中，这套丛书具有以下显著的特点：

标准制造——丛书编写以国家教育部颁布的各学科课程标准为纲，以国家教育部教材审定委员会审查通过的各种教材最新版本为依据。人民教育出版社各学科编辑室和国内著名的初中新课程研究专家对初中新课标实验区教师的编写工作进行指导并最终审定书稿。

引领潮流——丛书最贴近初中新课标理念，设置多样栏目拓展学生的知识视野，为学生构建开放的学习体系，语言表述清新自然，版式流畅活泼，充分尊重学生学习的主体地位。

与时俱进——丛书讲解和练习部分都充分体现当代社会和科技发展，反映各学科的发展趋势，引导学生关注社会、经济、科技和生活中的现实问题。

科学实用——丛书体例设置科学，在“精析”和“精练”上狠下功夫。既充分考虑目前全国新课标中考考试的现状，又真实反映初中新课标实验区的教学模式和评价模式。用独到的方法突破教材中的重难点，强调讲解透彻、分析精辟和指导到位。编写初中新课标学生用书是新时期新的研究课题，本丛书尽管经过课改实验区特级教师、骨干教师编写和国内著名的课程标准研究专家、初中新课标考试研究专家审订，仍需不断完善，恳请专家、读者指正。

丛书主编 周益新

目 录

CONTENTS



第1章 从世界看中国 1

- 第一节 辽阔的疆域 1
- 第二节 众多的人口 4
- 第三节 多民族的大家庭 8
- 第1章 小结 13

第2章 中国的自然环境 15

- 第一节 地势和地形 15
- 第二节 气候多样 季风显著 19
- 第三节 河流和湖泊 23
- 第2章 小结 29

第3章 中国的自然资源 31

- 第一节 自然资源总量丰富 人均不足 31
- 第二节 土地资源 35
- 第三节 水资源 40
- 第3章 小结 45

第4章 中国的经济发展 47

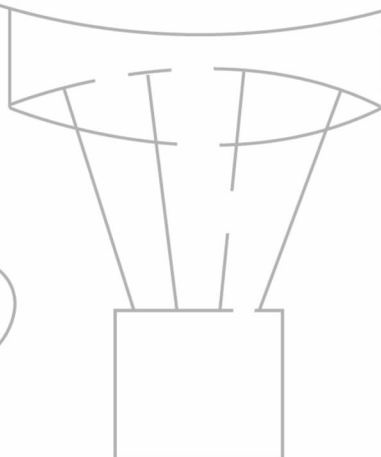
- 第一节 逐步完善的交通运输网 47
- 第二节 因地制宜发展农业 51
- 第三节 工业的分布与发展 56
- 第4章 小结 61

第1~4章能力测试题 63

期中测试题 76

期末测试题 79

参考答案 82



第 1 章 从世界看中国

第一节 辽阔的疆域



问题感知·情景切入

“我们都有一个家，名字叫中国。兄弟姐妹都很多，景色也不错，家里盘着两条龙是长江与黄河，还有珠穆朗玛峰是最高山坡。我们的大中国呀，好大的一个家……”这激情昂扬的歌曲激起多少中华儿女的爱国之情。我们热爱她，首先就要了解她。

想一想：

- (1)我国在世界上的位置是怎样的？具有哪些优越性？
- (2)我国领土的四至点在哪里？
- (3)我国有多少个省级行政区？其分布有什么特点？



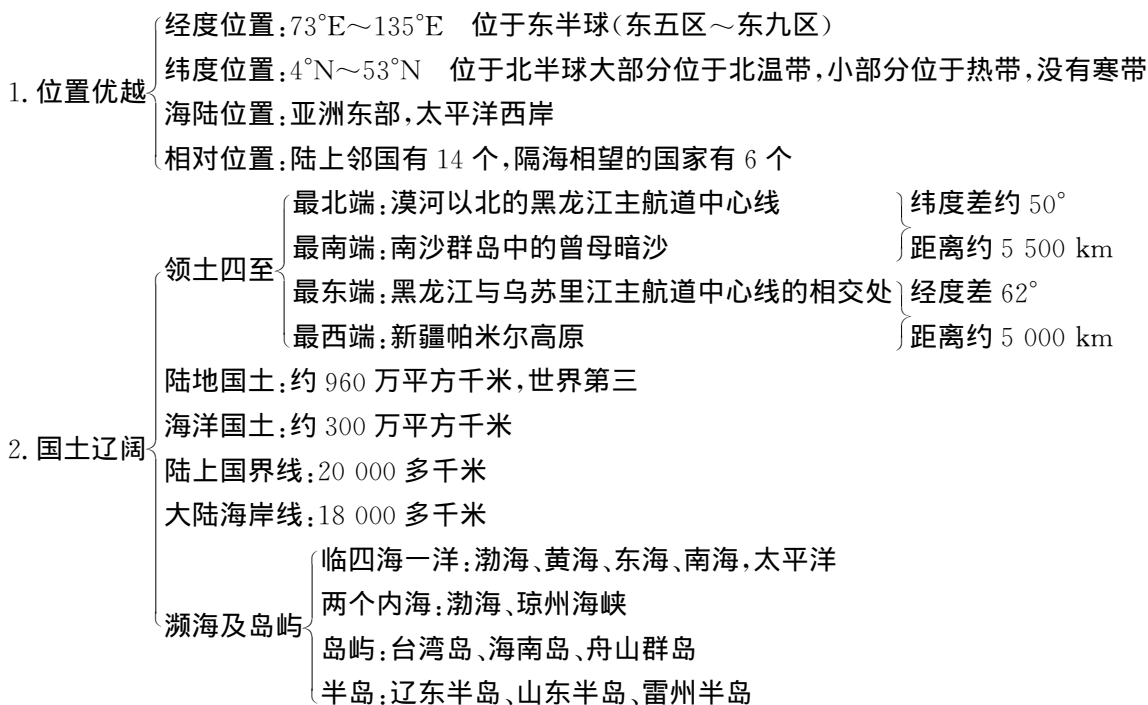
自主学习·知识提炼

知识概述

我国位于亚洲东部、太平洋西岸，海陆兼备，位置优越，国土辽阔，既是陆地大国，也是海洋大国，有绵长疆界和众多邻国。为了便于管理，实行了三级行政区划。

本章是学习中国地理的基础，特别是 34 个省级行政单位的位置、名称、简称、行政中心必须牢记并会填图。

知识结构



3. 行政区划
- 三级行政区划
 - 省(自治区、直辖市)
 - 县(自治州、自治县、市)
 - 乡(民族乡、镇)
- 34 个省级行政单位:23 个省、5 个自治区、4 个直辖市、2 个特别行政区



探究示例·学法点拨

例1

怎样评价我国地理位置的优越性?

解题思路 分析地理位置的优越性,应从纬度位置、海陆位置两方面分析。纬度位置:分析跨纬度大,气候不同,对农业的影响;海陆位置:从分析我国海陆兼备对生产活动的影响、与邻国交往入手。

答案 我国地理位置十分优越。

从纬度位置看,我国大部分位于北温带,小部分位于热带,没有寒带,领土南北跨纬度广,气候差异大,利于发展多种农业经济;

从海陆位置看,我国位于亚洲东部、太平洋西岸,海陆兼备。东临太平洋,使东部地区受海洋影响,雨量丰沛,利于农业生产;海域广阔,便于发展海洋事业;海岸线长,多良港,便于同各国进行海上往来;陆上疆界长,便于与邻国陆上交往,发展对外贸易。

例2

说说我国东西端的晨昏差异和南北部的季节差异,并解释原因。

解题思路 地球自转引起东西的时间差异;纬度引起南北气候和植物景象的差异。

答案 当夏季北京时间 6 点时,我国东部的乌苏里江上早已洒满阳光,而西部的帕米尔高原却是星斗满天、明月高悬的深夜。这是因为由于地球自转,东边地点比西边地点的地方时刻早,而我国领土东西跨经度 60 多度,东西两端的地方时相差 4 个多小时所致。

当我国春节时,北部的黑龙江省是冰天雪地的景象,而南国的海南岛已是春耕大忙时节。这是因为我国南北纬度差异大,导致南北气候差异大,从而形成了不同的自然和人文景观。

例3

做一做:在“中国政区图”上填注我国 14 个陆上相邻的国家。

提示 可先用编口诀方法,记忆起来顺口,记得牢固,长久不会忘记。记住名称方位后,再填注在空白图上。

答案

东朝鲜,北蒙古,
东北、西北俄罗斯,
西部哈吉塔阿巴,
西南印度和尼不,
南部相邻缅老越。

芝麻开门

省级行政区之最

面积最大的省区:新疆维吾尔自治区

面积最小的省区:澳门特别行政区

面积最大的直辖市:重庆市

面积最小的直辖市:上海市

位置最东的省区:黑龙江省

位置最西的省区:新疆维吾尔自治区

位置最北(纬度最高)的省:黑龙江

位置最南(纬度最低)的省:海南省

跨纬度最广的省区:海南省

跨经度最广的省区:内蒙古自治区

全部在热带的省区:海南、香港、澳门

巧记省轮廓

青海像兔子;

广东像火腿;

海南岛像菠萝;

云南像孔雀开屏;

山西像平行四边形;

湖南、江西像仕女头像

黑龙江像展翅欲飞的天鹅;

陕西像屈腿而跪的兵马俑;

内蒙古像展翅飞翔的老鹰;

山东像秃鹫招远金矿是眼睛;

简称“三字经”

京津沪 黑吉辽

内蒙古 晋陕甘

青新宁 川黔滇

冀鲁豫 苏浙皖

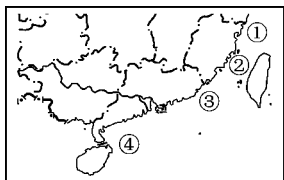
藏琼渝 湘鄂赣

桂粤闽 港澳台



一、沙里淘金,选一选。

1. 下列叙述正确的是 ()
- A. 我国既位于东半球,又位于南半球
- B. 我国南北相距 5 000 多千米,东西相距 5 500 千米
- C. 我国地跨寒、温、热三带
- D. 我国东西跨 5 个时区
- 读下图,完成 2~3 题。



2. 下列说法正确的是 ()
- A. ①海是深入大陆内部、被两个半岛环抱的内海
- B. ②海峡东面的台湾岛是我国的最大的岛屿
- C. ③海有我国最大的渔场——舟山渔场
- D. ④海峡南侧的海南岛是我国领土的最南端
3. 下列关于②海峡的说法正确的是 ()
- A. 是我国内海,有丰富的油气资源
- B. 连接黄海和南海,属于南海的一部分
- C. 是我国南北海上航行,大陆与台湾交往的必经水道
- D. 海峡沿岸有我国最大的盐场——长芦盐场
4. 我国是一个海陆兼备的国家,其陆上邻国和隔海相望的国家数目分别是 ()
- A. 12 5 B. 12 6 C. 14 5 D. 14 6
5. 同我国相邻国家数目最多的地区是 ()
- A. 南亚 B. 东南亚 C. 中亚 D. 西亚
6. 下列国家中,与我国隔海相望的是 ()
- A. 韩国、朝鲜
- B. 菲律宾、印度
- C. 马来西亚、印度尼西亚
- D. 越南、文莱
7. 与我国相邻的内陆国中面积最大的是 ()
- A. 蒙古 B. 老挝
- C. 尼泊尔 D. 哈萨克斯坦
8. 在我国 2 万多千米的大陆国界线上,以河流作为国界的长度约为 5 100 千米,占陆疆总长度的 1/4

以上。下列河流中,哪条是中国与朝鲜的界河

- ()
- A. 黑龙江 B. 鸭绿江 C. 长江 D. 黄河
9. 最早进入新的一年的省级行政单位是 ()
- A. 黑龙江省 B. 新疆维吾尔自治区
- C. 海南省 D. 台湾省
10. 邻自治区最多的省级行政单位是 ()
- A. 四川省 B. 青海省 C. 陕西省 D. 甘肃省
11. 与渤海、黄海都相邻的省级行政单位是 ()
- A. 河北省、山东省 B. 辽宁省、山东省
- C. 辽宁省、河北省 D. 山东省、江苏省
12. 位于西部地区的直辖市是 ()
- A. 北京市 B. 上海市
- C. 天津市 D. 重庆市
13. 下列不是用本省的主要河流名称作简称的是 ()
- A. 湖南省 B. 福建省
- C. 江西省 D. 山东省
14. 多数省级行政单位只有一个简称,但也有两个简称的省区。下列省区中有两个简称的是哪组 ()
- A. 辽宁、山西、甘肃、四川、重庆
- B. 山东、湖北、贵州、云南、河南
- C. 上海、云南、陕西、湖南、青海
- D. 四川、贵州、云南、陕西、甘肃
15. 下列省级行政中心的别称,错误的是 ()
- A. 羊城——西安 B. 春城——昆明
- C. 泉城——济南 D. 日光城——拉萨

二、追根求源,找异同。

16. 从海陆疆域看中国同英国、蒙古,各有什么不同? 与美国有什么相同和不同的地方?


17. 全国 34 个省级行政区名称中含有“东”“西”“南”“北”“江”“河”“湖”“海”字样的各有哪些省?

三、看图辨因,填一填。

18. 试一试:你能按方位填出空下的省的简称吗?

晋——冀
 (1)——鲁
 渝——(2)——皖——苏——沪
 (3)——湘——(4)
 桂——(5)——闽
 | 澳——港
 (6)

19. 组合地名:在每个花瓣中填一个字,使它和花朵中心的“州”字组成省级行政中心。



四、智力快车,猜猜看。

20. 猜谜语

(1) 省级行政中心

- | | |
|-----------|---------|
| ① 俩胖子 | ② 四季花开 |
| ③ 急来抱佛脚 | ④ 千里戈壁 |
| ⑤ 大言不惭 | ⑥ 欧洲无战争 |
| ⑦ 圆规画圆 | ⑧ 久雨初晴 |
| ⑨ 萤火虫,亮晶晶 | |

(2) 省级单位名称

- | | |
|-----------|-----------|
| ① 宝地 | ② 碧波万顷 |
| ③ 里面藏着文物 | ④ 江淮黄海 |
| ⑤ 十一逢中秋 | ⑥ 才开垦的土地 |
| ⑦ 银河渡口 | ⑧ 船出长江口 |
| ⑨ 天上无云似有云 | ⑩ 弯弯曲曲的河流 |

第二节 众多的人口



问题感知·情景切入

温家宝总理在接受美国《华盛顿邮报》记者采访时曾说过这样一句话:“中国有 13 亿人口,不管多么小的问题,只要乘以 13 亿,那就成为很大很大的问题;不管多么可观的财力、物力,只要除以 13 亿,那就成为很低很低的人均水平。”这句话真实地反映了我国最基本的、最大的国情,我国人口形势不容乐观。当前,人口问题是一个世界性的问题。多数学者认为 21 世纪将是人力资源开发较快的时代。如何把“人口过多的负担”转化为“人力资本”,这将是我们将面临的一个挑战。

想一想:

作为“人口超级大国”,是否是一件值得自豪的事情?我国人口数量过多,带来了哪些问题?众多的人口有着怎样的分布特点?怎样理解我国把“实行计划生育”作为一项基本国策?



自主学习·知识提炼

知识概述

本节内容介绍了我国人口方面的突出国情:数量大,增长快,因此我国把“实行计划生育”作为一项基本国策;同时还介绍了我国人口的分布特点。这些内容有助于形成科学的人口观,增强人口危机意识。

知识结构

1. 人口大国 { 世界上人口最多的国家:2005 年 1 月 6 日为中国 13 亿人口日
比例:我国人口占世界总人口 1/5 以上
人口密度是世界的 3 倍多
2. 人口增长 { 建国前:十分缓慢
建国后:直线上升
计划生育后:仍然很快
3. 人口突出特点 { 人口基数大 { 人口问题多 (措施) 基本国策:
人口增长快 { 人口压力大 实行计划生育 { 控制人口数量
提高人口素质
晚婚、晚育
少生、优生

4. 人口分布特点 { 不均匀 →
- | | |
|---------|---------|
| 黑龙江省黑河市 | |
| 西部 | 东部 |
| 人口稀疏 | 人口稠密 |
| 面积占 57% | 面积占 43% |
| 人口占 6% | 人口占 94% |
| 云南省腾冲县 | |
- ↑
- 主要原因:东部地形较平坦,气候较湿润,河湖众多,交通便利,发展历史悠久,经济发展水平较高,自然、经济条件都优于西部地区



探究示例·学法点拨

例1

人口增长过快会带来哪些问题?

提示 从人是消费者的角度分析。

答案 人是生产者(在一定的年龄阶段内),也是消费者(从出生到生命结束)。因而,人口增长过快会带来很多问题:

(1)为满足新增人口每年所需衣、食、住、医院、学校的数量是很大的。

(2)给国家、社会、家庭、资源利用、生态环境加重了负担。

(3)全国人民每年所创造的财富,较大一部分被新增人口所消费,全体人民的生活水平难以很快提高。

例2

以 100 年为标准,如果早婚(20 岁)早育可生几代人? 如果晚婚(25 岁)晚育则可生几代人?

解题思路 20 岁结婚生孩子,100 年就有五代人,如果 25 岁结婚生孩子,只有四代人,这就是说,晚婚 5 年,100 年可少生一代人,这也就是我国实行计划生育,提倡晚婚晚育的基本依据。

答案 五代人;四代人

芝麻开门

省级行政区之最

人口最多的省区:河南省;
人口最少的省区:澳门特别行政区
人口密度最大的省区:江苏省
人口密度最小的省区:西藏
人口最多的直辖市:重庆市
华人、华侨最多的省区:广东、福建

中国将迎来三大人口高峰

- ①总人口高峰:
每年净增 800 万~1 000 万人。
每两年将产生一个澳大利亚的人口,每六年产生一个英国的人口。
- ②劳动年龄人口高峰:
2020 年适龄劳动力将达 9.4 亿。
- ③老年人口高峰:
65 岁以上人口已达 1 亿多,占人口总数的 7% 以上,这表明中国老龄化社会的提前到来。

例3

说明我国人口分布特点,并简要分析其形成原因。

解题思路 地形、气候、交通、经济发展水平等都会影响人口的分布

答案 我国人口分布特点是:人口分布不均,以黑河—腾冲一线为界,东南部人口稠密,西北部人口稀疏。

原因是:东部气候好,耕地多,产粮多,经济发达,交通方便,城镇多;西部多沙漠、草原、山地,耕地少,经济落后,交通不便,因此人口稀少。

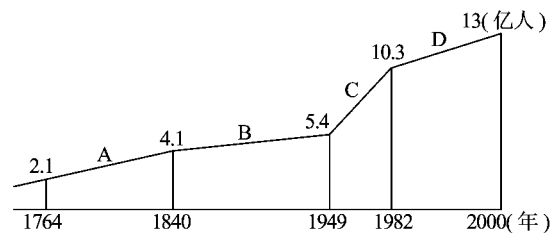
分层训练·能力升级

一、沙里淘金,选一选。

2005年1月6日零时2分,随着一声男婴的啼哭,一个体重3 660克,身长52厘米的男婴在北京妇产医院诞生,至此,中国人口已达13亿。据此,完成1~2题。

1. 以上材料说明 ()
 - A. 我国人口总量大
 - B. 我国人口自然增长率居世界首位
 - C. 北京人口男性比重大
 - D. 城市地区人口出生率高于农村地区
2. 针对目前的人口现状,我国应采取的人口措施,下列叙述正确的是 ()
 - A. 我国经济发展迅速,对劳动力需求量大,应放松人口控制
 - B. 着眼于“西部大开发”规划,大力推动人口由东部向西部迁移
 - C. 继续实行计划生育政策,控制人口数量
 - D. 鼓励农村人口向城市迁移,增加就业率
3. 我国人口数居前三位的省级行政区依次是 ()
 - A. 河南、山东、广东
 - B. 河南、山东、四川
 - C. 四川、山东、江苏
 - D. 河南、广东、山东
4. 除澳门外,下列我国人口最少的省区是 ()
 - A. 西藏自治区
 - B. 青海省
 - C. 新疆维吾尔自治区
 - D. 云南省

5. 我国人口超过5 000万的省级行政区有多少个 ()
 - A. 9
 - B. 10
 - C. 3
 - D. 5
 6. 我国大力实行计划生育,始于 ()
 - A. 20世纪50年代
 - B. 20世纪60年代
 - C. 20世纪70年代
 - D. 20世纪80年代
 7. 我国实行计划生育以来,每年仍增加1 200多万人,其主要原因是 ()
 - A. 人口死亡率低
 - B. 人口出生率高
 - C. 人口基数大
 - D. 自然增长率高
- 读图“中国人口增长图”回答8~10题。



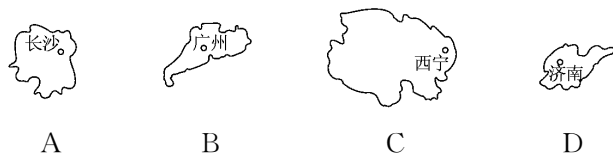
8. A、B阶段人口增长十分缓慢的原因是 ()
 - ①国家贫穷落后,社会动荡
 - ②社会医疗保障条件差
 - ③出生率高,死亡率也高
 - ④隐瞒人口的现象普遍
 - A. ①②③
 - B. ②③④
 - C. ①③④
 - D. ①②③④
9. C阶段人口迅猛增长的主要原因是 ()
 - A. 国家实行鼓励人口增长的政策
 - B. 多子多福的观念仍然支配着人们的生育观
 - C. 经济飞速发展,劳动力需求增多
 - D. 经济和卫生事业发展,死亡率降低

10. D 阶段人口增长有所减缓的主要原因是 ()
- A. 人们的生育观念变了, 都不愿多生孩子
 - B. 实行了计划生育政策
 - C. 人口死亡率大大降低
 - D. 人口死亡率增高

11. 下列有关我国人口的说法, 正确的是 ()
- A. 由于实行了计划生育, 我国人口总数已出现下降趋势
 - B. 少数民族人口少, 不需要实行计划生育
 - C. 当前, 我国人口的增长与经济、社会、资源、环境的发展基本上保持协调
 - D. 实行计划生育是我国的一项长期的基本国策

12. 位于黑河—腾冲这条人口地理分界线以东的下列地区, 人口密度最大的地方是 ()
- A. 贵州
 - B. 广西
 - C. 黑龙江
 - D. 山东

13. 下图我国四个省级行政区中, 具有典型的地广人稀特点的是 ()



14. 关于中国人口的叙述正确的是 ()
- A. 人口总数和欧洲人口总数相等, 有史以来一直高速增长
 - B. 是世界上人口密度最大的国家
 - C. 人口的地理分布特点是东部地区人口多, 西部地区人口少
 - D. 近十年来, 人口的出生率和自然增长率仍然上升

15. 我国人口分布不均, 东部地区人口密度大、人口多, 原因是 ()
- A. 东部地区粮食产量少, 生产落后
 - B. 东部地区多高原、山地, 地形起伏大
 - C. 东部工商业不发达、交通闭塞
 - D. 东部地区气候好, 耕地多, 养活的人口多

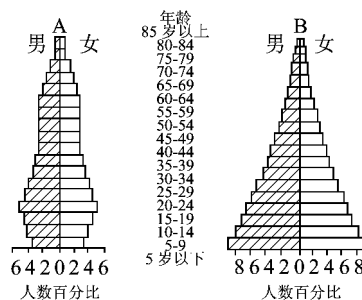
二、殊途同归, 巧分类。

16. 请根据我国人口分布方面的状况, 将下列各省级行政区分类。
- 西藏自治区 山东省 河南省 青海省
四川省 内蒙古自治区 甘肃省

广东省 北京市
香港特别行政区

三、看图辨因, 填一填。

17. 读“人口百分比图”, 回答问题:



- (1) A、B 两国“人口金字塔”中, 儿童占较高百分比的是 _____ 国, 这个国家的人口发展趋势是 _____。
- (2) A、B 两国中, A 国 60 岁以上人口所占的百分比为 _____ 左右。
- (3) 我国计划生育取得了令世人瞩目的非凡成就, 但是, 由于我国的人口 _____ 大, 每年新增人口 _____ 万左右, 计划生育任务还很艰巨。
- (4) 我国有的地方每平方千米不足 2 人, 这些地方能否大量增殖人口? 为什么?

四、追根求源, 大家谈。

18. 有两个同学就中国的人口问题展开了争论: 畅畅认为, 13 亿人口对中国来说是好事, 13 亿人口意味着 13 亿双“手”, 劳动力资源丰富, 对经济发展有利; 而雄雄则认为, 13 亿双“手”数量太多, 必定会导致一部分人闲着没事干, 更重要的是 13 亿双“手”意味着同时存在 13 亿张“口”, 每

天都需要消耗大量的资源和财富,所以 13 亿人口对我国来说是压力和负担。
你赞同谁的观点? 谈谈你的看法。

19. 读材料,请运用所学知识回答:

材料一:中国上天了!



材料二:美、日、中三国科技实力比较表

国家	美国	日本	中国
分值	89.30	58.57	32.5

三国(地区)符合科学素养条件人口比例表

国家(地区)	美国	欧盟	中国
占总人口比例	6.9%	4.4%	0.3%

材料三:1996 年记者在陕北黄土高原的一个穷山沟里与一个放羊娃有一段对话:“今年几岁了?”“十六。”“怎么不上学?”“我放羊。”“你放羊是为了什么?”“挣钱。”“挣钱干什么?”“娶媳

妇。”“娶了媳妇干什么?”“生娃娃。”“生下娃娃将来干什么?”“放羊。”

(1)材料一、材料二、材料三分别说明了什么?

(2)综合上述材料,你认为我国在人口发展上应遵循的基本国策是什么?

五、调查研究,我来做。

20. 调查及探究:

- (1)你所在的班级中,独生子女占全班人数的_____%。
- (2)你的爸爸共有_____个兄弟姐妹,妈妈呢?_____;你的爷爷共有_____个兄弟姐妹。
- (3)结合自己的调查,联系课本,分析 20 世纪以来我国人口的变化情况。

第三节 多民族的大家庭



问题感知·情景切入

藏历年是藏族人民最隆重的传统节日。过年的准备工作从藏历十二月初就开始,如酿制青稞酒。各家在厅堂里摆上染色的麦穗、青稞苗以及酥油花塑的羊头。这标志着过去一年的好收成,并预祝新的一年又获丰收。除夕晚上,全家人围坐在一起吃团圆饭。大年初一早上,家庭主妇第一个起床,先到河边或井边“汲新水”,有全家吉祥、新年风调雨顺之意。进食之前,每人必须先往嘴里沾一点糍粑面,以示自己是吃糍粑的子孙。这时,长辈端来一个叫做“竹素其玛”的五谷斗,里面装有糍粑、人参果、炒蚕豆、炒麦粒等食品,上面还插着青稞穗,每人依次抓一点向空中撒去,表示祭神,接着抓一点自己吃。长辈挨个祝愿“扎西德勒”(吉祥如意),晚辈则祝福老人“扎西德勒彭松措”(吉祥如意,功德无量)。在新年仪式之后,全家人再围坐在一起,喝青稞酒,吃人参果,欢度新年。初一全家人闭门欢聚,互不访问。从初二开始,相互拜年,持续三五天。这期间人们尽情跳锅庄、演藏戏,还举行赛马、拔河、射箭、投掷、角力等活动。

想一想:

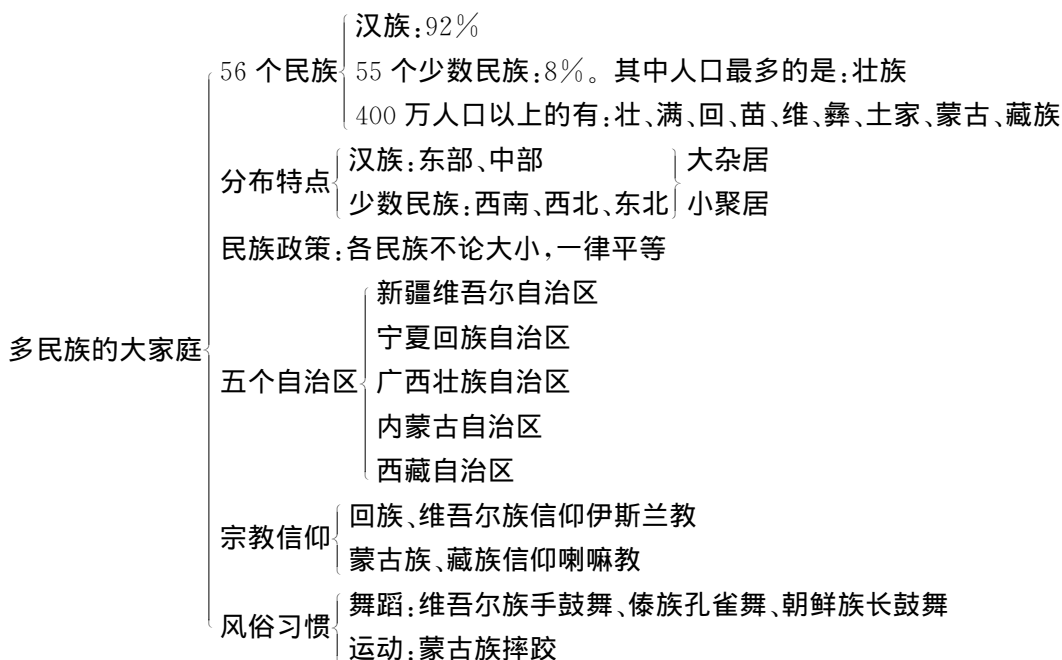
- (1) 藏族主要分布在我国的哪个地区?
- (2) 我国有多少个民族? 少数民族有多少个? 分布特点是什么?
- (3) 你还了解哪些少数民族的风俗民情?

自主学习·知识提炼

知识概述

我国是一个统一的多民族国家,民族构成及分布特点是本节的主要内容。通过了解少数民族的风俗习惯和文化艺术特点,要懂得关心、尊重、欣赏不同民族的文化传统和民风民俗,树立各民族不论大小,地位一律平等、共同维护祖国统一的正确观点。

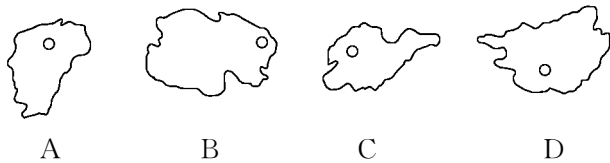
知识结构



探究示例·学法点拨

例1

读下图,你知道我国人数最多的少数民族聚居的省级行政单位是下图中的哪一个吗 ()



解题思路 壮族是我国人口最多的少数民族,其聚居的地方是广西壮族自治区,只需在四幅轮廓图中识别出广西,即可找到答案。此题关键在于识别轮廓,A 是江西,B 为青海,C 是山东,D 是广西。

答案 D

芝麻开门

省级行政区之最

人口最多的少数民族:壮族
少数民族数目最多的省:云南
民族节日最多的省:贵州

各民族传统节日

彝族:火把节
傣族:泼水节
苗族:芦笙节
藏族:晒佛节
傈僳族:刀杆节
蒙古族:敖包节、那达慕大会
哈萨克族:叼羊节

例2

读“我国某地区的景观图”回答下列问题:

(1) 该景观可能位于我国下列哪个地区 ()

- A. 青藏高原地区
- B. 内蒙古高原地区
- C. 黄土高原地区
- D. 云南的西双版纳地区



(2) 根据图中民居的建筑风格及民族服饰分析, 居住在该地区的少数民族是 ()

- A. 维吾尔族
- B. 傣族
- C. 鄂伦春族
- D. 藏族

解题思路 本题以景观图为载体, 考查我国少数民族及其分布。

从图中民居的建筑风格可知, 这是云南西双版纳地区的竹楼。从图中的民族服饰可确定为傣族。

答案 (1)D (2)B

例3

在我国民族分布图上, 找出有多个少数民族居住的省、自治区。

解题思路 此题从思维方面考虑并不难, 关键要仔细读图, 看懂图例。从民族分布图上可以发现西南部、西北部、东北部是少数民族比较集中的地区, 重点观察这些区域的省级行政区即可找出答案。

答案 我国分布着多个少数民族的省级行政区主要有云南省、广西壮族自治区、四川省、新疆维吾尔自治区、甘肃省、青海省、内蒙古自治区、黑龙江省等。

分层训练·能力升级

一、沙里淘金, 选一选。

1. 我国是统一的多民族国家, 共有多少个民族 ()
A. 55 个 B. 56 个 C. 57 个 D. 60 个
2. 我国人口最多的民族是 ()
A. 壮族 B. 汉族
C. 满族 D. 维吾尔族
3. 我国少数民族中, 分布最广的是 ()
A. 回族 B. 哈尼族 C. 藏族 D. 朝鲜族
4. 我国少数民族聚居最多的地区是 ()
A. 新、宁 B. 吉、藏
C. 黑、内蒙古 D. 云、贵、川
5. 下列有关我国民族的叙述中, 正确的是 ()
A. 除汉族外的其他民族, 统称少数民族

- B. 我国人口在 400 万以上的民族有 8 个
- C. 少数民族和汉族的分布, 界线清楚
- D. 少数民族只占全国人口的 8%, 其分布地区也只占全国总面积的 10% 左右
6. 我国少数民族中人口在 400 万以上的有哪些 ()
A. 土家族、苗族、布依族
B. 满族、回族、维吾尔族
C. 藏族、满族、朝鲜族
D. 蒙古族、满族、珞巴族
7. 我国回族和维吾尔族等民族多信奉哪种宗教 ()
A. 佛教 B. 伊斯兰教
C. 基督教 D. 道教

- 塔吉克族: 库尔班节
- 壮族: 三月三(歌墟节)
- 布依族: 六月六、查白歌节
- 回族、维吾尔族: 开斋节

各具特色的民族建筑

- 藏族: 碉房
- 傣族: 竹楼
- 苗族: 寨楼
- 蒙古族: 蒙古包
- 维吾尔族: 窑洞式住房

中国少数民族三大英雄史诗

- 藏族: 《格萨尔》
- 蒙古族: 《江格尔》
- 柯尔克孜族: 《玛纳斯》

读图,完成 8~9 题。



8. 上图中出现的画面是哪个民族一年一度的盛大节日 ()

- A. 土家族 B. 蒙古族
C. 朝鲜族 D. 傣族

9. 下列关于该民族所在省区的叙述,正确的是 ()

- A. 位置靠北,与俄罗斯相邻
B. 该省区的简称为黔
C. 北回归线穿过该省
D. 该省是我国人口最多的省区

10. 根据下图人物的服饰,判断所属民族 ()



- A. ①满族②维吾尔族③藏族④苗族
B. ①藏族②苗族③满族④维吾尔族
C. ①维吾尔族②藏族③苗族④满族
D. ①苗族②满族③维吾尔族④藏族

11. 下列有关我国各民族地区分布状况的叙述中,正确的是 ()

- A. 汉族集中分布在中部和东部,少数民族集中分布在西部边疆地区
B. 各少数民族主要分布在西南、西北和东南地区
C. 我国几乎没有一个县或市的居民是单一的民族
D. 各民族小杂居、大聚居

12. 下列有关我国自治区人口和民族的叙述中,正确的是 ()

- A. 人口最多的是西藏自治区
B. 人口最少的是广西壮族自治区
C. 人口密度最小的是西藏自治区
D. 新疆有两个 100 万人口以上的少数民族

13. 下列少数民族与主要所在省区搭配错误的是 ()

- A. 朝鲜族——吉林省
B. 回族——宁夏回族自治区
C. 高山族——台湾省
D. 傣族——贵州省

14. 下列少数民族中,主要分布在东北地区的是 ()

- A. 哈萨克族 B. 蒙古族
C. 藏族 D. 朝鲜族

15. 深圳“锦绣中华”有个著名的中国民俗文化村,当你走进某民俗村时,好客的主人双手给你送上洁白的哈达,那么,这个民族应该是 ()

- A. 哈萨克族 B. 藏族
C. 鄂伦春族 D. 朝鲜族

二、知己难求,连连看。

16. 请将下列 5 个自治区的名称、简称、行政中心以及居住的主要少数民族连线。

广西壮族自治区	乌鲁木齐	桂	维吾尔族
西藏自治区	南宁	新	回族
内蒙古自治区	拉萨	宁	藏族
宁夏回族自治区	呼和浩特	藏	蒙古族
新疆维吾尔自治区	银川	内蒙古	壮族

17. 你认识这些乐器吗? 将它们与所属的少数民族对应连起来。

- | | |
|------|-----------|
| ①长鼓 | a. 蒙古族 |
| ②芦笙 | b. 朝鲜族 |
| ③马头琴 | c. 苗族、侗族等 |
| ④神鼓 | d. 藏族 |
| ⑤合欢箫 | e. 哈萨克族 |
| ⑥冬不拉 | f. 壮族 |
| ⑦葫芦丝 | g. 彝族 |

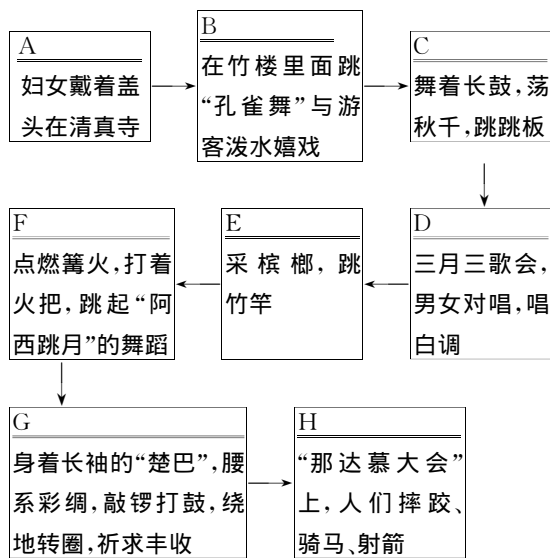
三、看图辨因,填一填。

18. 找找看:在 1980 年版第四套人民币壹角到拾圆的纸币上,印着我国某些民族的人物头像,你能说出他(她)们是哪个民族的吗?

纸币	左侧	右侧
壹角		满族
贰角	布依族	
伍角		壮族
壹圆	瑶族	
贰圆		维吾尔族
伍圆	回族	
拾圆		汉族

19. “只有民族的才是世界的”，我国少数民族独特的风俗习惯和文化艺术构成了祖国灿烂文化的重要组成部分，同时又成为得天独厚的旅游资源。

一天，畅畅和她的外国朋友玛丽亚到“民俗文化村”游园，看到了许多少数民族的歌舞、民俗表演。你能根据观看的内容，判断出它代表了哪一个少数民族？请将各少数民族的名称填入相应的空格中。



四、追根求源，大家谈。

20. 分析下列材料，回答问题。

材料一：当今世界，民族关系错综复杂，民族问题对国家政治、经济、文化的影响越来越大。冷战结束后，以苏联为首的东欧社会主义国家纷纷解体分裂，并引发了一系列民族冲突和纠纷，如南斯拉夫的科索沃战争、波黑战争、巴以冲突等。反观我国，社会安定，民族团结，主要原因就是新中国成立至今，我们一直贯彻执行着正确的民族政策。

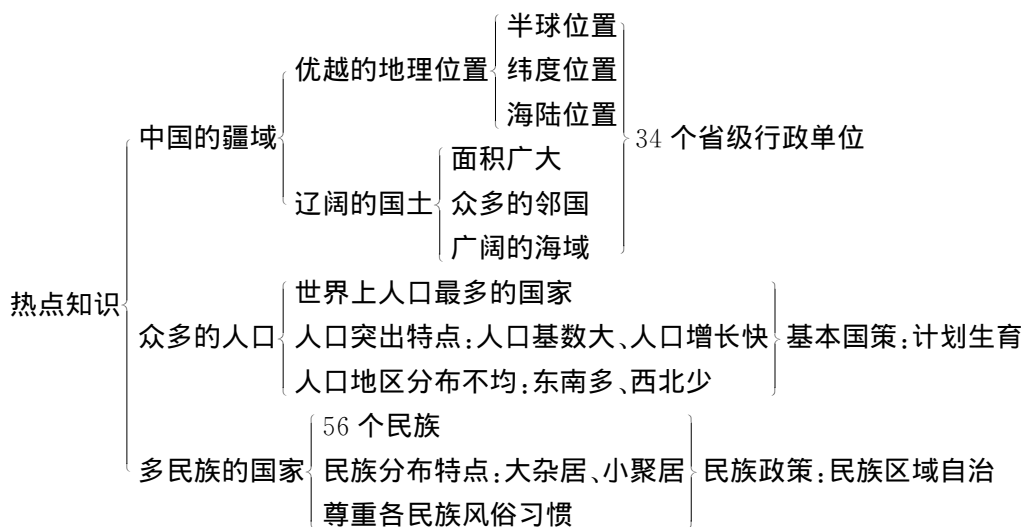
材料二：我国宪法规定：各民族都有保持或改革自己的风俗习惯的自由；中华人民共和国公民有宗教信仰的自由；国家保护正常的宗教活动。

材料三：新中国的建立离不开少数民族的贡献。建国后，国家帮助少数民族地区发展经济，在少数民族聚居的地方实行民族区域自治，各少数民族地区的政治、经济、文化生活面貌发生了很大的变化，涌现出了一大批杰出的少数民族人才。

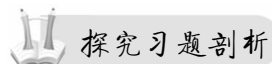
(1)我国是一个多民族的和睦的大家庭，各民族不论_____，一律_____，是我国的民族政策。国家保障各少数民族的合法权益，维护和发展各民族的平等、_____、_____关系。

(2)你能说出才旦卓玛、腾格尔、那英、宋祖英、杨丽萍是哪个民族的演员吗？电影《五朵金花》、《阿诗玛》、《冰山上的来客》、《刘三姐》分别反映的是我国哪个少数民族的生活？

第 1 章 小 结



- 应用热点
- ①运用地图说出我国地理位置的特点, 评价我国地理位置的优越性
 - ②在地图上指出我国的邻国和濒临的海洋, 知道我国既是陆地大国, 也是海洋大国
 - ③熟悉 34 个省级行政单位的名称、位置、行政中心、简称
 - ④运用有关数据说明我国人口增长的特点, 能对一些人口现象进行分析, 理解我国的人口政策
 - ⑤外出旅游时能了解当地的风土人情, 尊重少数民族的风俗习惯



例 1

读下面四个省区图, 回答问题。



1. 图中四个省区的简称分别是 ()
 - A. ①鲁 ②新 ③湘 ④藏
 - B. ①冀 ②疆 ③湘 ④藏
 - C. ①鲁 ②新 ③赣 ④青
 - D. ①晋 ②新 ③湘 ④西
2. 图中四个省区中, 濒临渤海和黄海的是 ()
 - A. ①
 - B. ②③
 - C. ①②
 - D. ①③
3. 图中四个省区中, 人口密度较小的两个省区是 ()
 - A. ①②
 - B. ②③
 - C. ③④
 - D. ②④

解题思路 本题重点考查了各省轮廓、简称、海陆位置以及人口密度的知识, 做题的关键是根据图中的特殊地理事物进行判断。黄河经过山东; 天山位于新疆; 洞庭湖在湖南; 珠穆朗玛峰在西藏。

答案 1. A 2. A 3. D

例2

北回归线从西向东穿过的省(区),与下列民族排序相同的是 ()

- A. 高山族、汉族、壮族、傣族
- B. 汉族、壮族、傣族、高山族
- C. 壮族、傣族、高山族、汉族
- D. 傣族、壮族、汉族、高山族

一 解题思路 本题是无图考图题,不仅考察了省区的分布,同时也考察了各民族分布,因此明确北回归线穿过的省(区)是解答本题的关键。北回归线从西向东穿过的省(区)是:云南(傣族)、广西(壮族)、广东(汉族)、台湾(高山族)。

答案 D