
初二地理·上

目 录

第一章 中国的疆域和行政区划..... 1	第四节 气候特征..... 37
第一节 中国的疆域(一)..... 1	第五节 寒潮、台风和水旱灾害..... 39
第一节 中国的疆域(二)..... 3	第三单元目标检测题..... 41
第二节 中国的行政区划(一)..... 5	第五章 中国河流和湖泊..... 44
第二节 中国的行政区划(二)..... 7	第一节 河流和湖泊概况(一)..... 44
第二章 中国的人口和民族..... 9	第一节 河流和湖泊概况(二)..... 46
第一节 中国的人口(一)..... 9	第二节 长江(一)..... 48
第一节 中国的人口(二)..... 10	第二节 长江(二)..... 50
第二节 中国的民族..... 12	第三节 黄河(一)..... 51
第一单元目标检测题..... 14	第三节 黄河(二)..... 52
第三章 中国的地形..... 16	第四单元目标检测题..... 54
第一节 地形概况..... 16	第六章 中国的自然资源..... 56
第二节 主要山脉..... 18	第一节 自然资源的总量和人均占有量..... 56
第三节 主要地形区(一)..... 20	第二节 水资源和水能资源(一)..... 58
第三节 主要地形区(二)..... 22	第二节 水资源和水能资源(二)..... 60
第四节 地震和火山..... 24	第三节 土地资源(一)..... 61
第二单元目标检测题..... 25	第三节 土地资源(二)..... 63
期中检测题..... 27	第四节 矿产资源(一)..... 64
第四章 中国的天气和气候..... 29	第四节 矿产资源(二)..... 66
第一节 收听天气预报..... 29	第五节 海洋资源(一)..... 67
第二节 气温分布和温度带(一)..... 31	第五节 海洋资源(二)..... 68
第二节 气温分布和温度带(二)..... 32	第五单元目标检测题..... 69
第三节 降水和干湿地区(一)..... 33	期末检测题..... 71
第三节 降水和干湿地区(二)..... 35	参考答案及点拨(后附单册)

第一章 中国的疆域和行政区划

第一节 中国的疆域(一)

姓名:

时间 20分钟

满分 50分

评分:



作业要求

1. 记住半球位置、海陆位置和纬度位置。
2. 记住领土面积和疆域的四至点。
3. 理解纬度位置的优越性。



课时作业

课堂快餐

一、选择题(每题3分,共15分)

1. 东西半球的分界线是 ()
A. 0° 和 180° 经线
B. 20°E 和 160°W
C. 20°W 和 180° 经线
D. 20°W 和 160°E
2. 下列国家中哪个国家位于太平洋西岸 ()
A. 中国 B. 巴西 C. 美国 D. 法国
3. 我国陆地面积差不多同哪个大洲面积相等 ()
A. 北美洲 B. 欧洲 C. 大洋洲 D. 南极洲
4. 我国陆地面积在世界各国中的位次是 ()
A. 第一 B. 第二 C. 第三 D. 第四
5. 图 1-1-1 中的正方形代表亚欧大陆,图中阴影能正确反映中国位置的是 ()

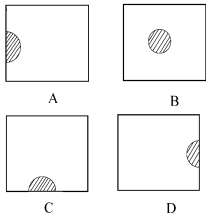


图 1-1-1

二、填空题(每空2分,共18分)

6. 我国位于____(东、西)半球,亚洲的____部,太平洋的____岸。
7. 我国陆地面积约____万平方千米,在世界各国中仅次于____、____居第三位。
8. 我国领土大部分在____,小部分在____,没有____。

三、简答题

9. (5分)简述我国纬度位置的优越性。

探险营地

四、读图分析题

10. (12分)读图 1-1-2 回答问题:

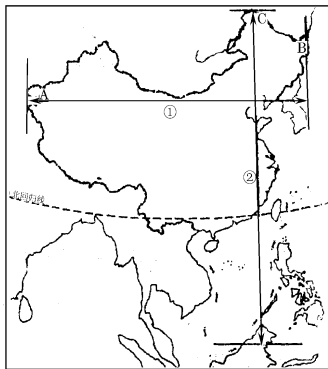


图 1-1-2

- (1)图中线段①跨____时区个,当夏季北京时间为 6 点时, A 地的景象是____, B 地的景象是____。

(2)图中线段②所跨的距离约为____千米。

当2月份时,C地的自然景象是_____ ,海南省的自然景象是_____。

中考超市

* 11. 我国疆域的四个端点中,位于北温带的是()

①北端 ②南端 ③东端 ④西端

A. ①②

B. ①③④

C. ①③

D. ①④

(2002·临沂·改编)

12. 下列关于我国疆域的表述,正确的是()

A. 我国领土最东端在台湾省

B. 我国陆地面积居世界第四位

C. 我国领土南北跨纬度近50度

D. 我国领土最北端到最南端相距约5000千米

(2002·长沙·改编)



捷进砺站

我国“四级”的奇特景观

一、“南极”——南沙群岛海疆

南沙群岛是我国南海诸岛中地理位置最南的海

岛。它是由230多个岛、礁、滩、洲组成的,水域面积为22.4万平方千米。最大的太平岛是鸟的乐园,岛上积累的鸟粪达2米多深。南沙群岛还是我国最大的热带渔场,向来就有“一半海水一半鱼”的说法。每当汛期期间,成群结队的鱼群此起彼伏跃出海面,非常壮观。

二、“北极”——漠河白夜

黑龙江省的漠河素有“北极村”之称。每年夏至那天太阳直射北回归线,漠河镇日照时间长达17个小时以上,日落之后晚上11时天空仍然很亮,这天进入午夜刚刚有一点朦胧感觉,东方已露出晓色,人称“白夜”奇观。

三、“东极”——乌苏日出

我国的“东极村”是黑龙江省抚远县乌苏镇,位于黑龙江与乌苏里江汇合处。每天,乌苏镇早早地迎来朝阳,而此时西部帕米尔高原却正值午夜之际。

四、“西极”——帕米尔高原之旅

帕米尔高原是我国新疆极地,平均海拔5000米以上。位于新疆喀什以南的公格尔山、慕士塔格山,号称“冰山之父”,素为登山胜地。

第一节 中国的疆域(二)

姓名: _____

时间 20分钟

满分 50分

评分: _____



作业要求

1. 知道领海、内海。
2. 知道陆疆长度和海岸线长度。
3. 记住主要半岛、岛屿和海峡的分布。
4. 知道陆上邻国和隔海相望的国家。



课时作业

课堂快餐

一、选择题(每题2分,共12分)

- * 1. 我国东部濒临的海洋,自南向北依次是()
- A. 渤海、黄海、东海、南海
B. 渤海、东海、黄海、南海
C. 南海、东海、黄海、渤海
D. 南海、黄海、东海、渤海
2. 属于我国内海的是()
- A. 黄海 B. 台湾海峡
C. 南海 D. 琼州海峡
3. 我国陆上国界线的长度是()
- A. 18000多千米 B. 2.万多千米
C. 5000多千米 D. 5500多千米
- * 4. 在我国陆上邻国中,与我国有不连续疆界的一组国家是()
- A. 俄罗斯、印度 B. 巴基斯坦、越南
C. 印度、缅甸 D. 朝鲜、蒙古
5. 我国的海洋中,位于热带的是()
- A. 黄海 B. 渤海 C. 南海 D. 东海
6. 下列国家中不属于我国邻国的是()
- A. 阿富汗 B. 俄罗斯
C. 越南 D. 泰国

二、填空题(每空1分,共8分)

7. 我国陆上邻国有_____个,隔海相望的国家有_____个。
8. 渤海被_____半岛和_____半岛所环抱。
9. 我国的领海,是指从海岸基线向海上延伸到_____海里的海域。
10. 我国的三大半岛自北向南依次是_____、_____、_____。

三、读图分析题(16分)

11. 读图1-1-3“中国空白政区图”完成下列要求:

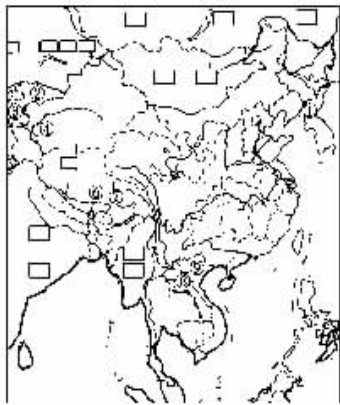


图 1-1-3

(1) 在图上填入下列地理事物的代号:

A. 渤海 B. 黄海 C. 琼州海峡

(2) 在图上空格中填入邻国的名称。

(3) 写出图中数字代表的邻国名称:

- ① _____
- ② _____
- ④ _____
- ⑦ _____
- ⑨ _____



探险营地

12. 读图 1-1-4, 回答下列问题 (14 分)

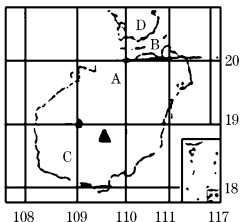


图 1-1-4

- (1) A 点的地理坐标是 _____, A 在 C 的 _____ 方向。
- (2) B 是 _____ 海峡, D 是 _____ 半岛。
- (3) 从纬度位置分析, 图中岛屿比台湾岛有什么优势?

中考超市

13. 下列每组的两个国家都是我国陆上邻国的是

()

- A. 日本、朝鲜
B. 俄罗斯、阿富汗
C. 印度尼西亚、蒙古
D. 越南、泰国

(2002·山东·中考)

14. 我国既临海, 又在陆上与外国相邻的省区有两个, 它们的简称是

()

- A. 辽、桂
B. 吉、桂
C. 滇、辽
D. 闽、辽

(2002·益阳·中考)



捷进砺站

中国是一个幅员辽阔的国家, 陆上国界线长达 2 万多千米, 有陆上邻国 15 个, 隔海相望的国家 6 个。这些国家的地理状况如何, 同我国有怎样的关系? 以“我国的周边国家”为题, 开展一次小课题研究活动: 每个同学选择与我国相邻或隔海相望的一个或几个国家, 搜集有关材料, 并结合自己的分析, 写出关于该国的地理概况、经济发展、与我国交往等方面的情况, 在班上进行交流、展览, 最后以“我国的周边国家”为题汇编成册, 作为本学期第一个研究成果。

第二节 中国的行政区划(一)

姓名: _____

时间 20分钟

满分 50分

评分: _____



作业要求

1. 知道三级行政区划的设置。
2. 记住省级行政单位的名称和位置。



课时作业

课堂快餐

一、选择题(每题2分,共10分)

1. 我国的省级行政单位共有 ()
 - A. 30个
 - B. 32个
 - C. 34个
 - D. 36个
2. 我国各省、区中各与两个邻国接壤的是 ()
 - A. 吉林、内蒙古
 - B. 云南、广西
 - C. 辽宁、黑龙江
 - D. 西藏、新疆
3. 下列省级行政单位中不临海的是 ()
 - A. 山东省
 - B. 浙江省
 - C. 广东省
 - D. 河南省
- * 4. 北回归线穿越的我国省区是 ()
 - ①台湾
 - ②福建
 - ③广东
 - ④广西
 - ⑤云南
 - ⑥海南
 - A. ①②③④
 - B. ①②⑤⑥
 - C. ①③④⑤
 - D. ①②④⑤
5. 我国跨经度和跨纬度最广的省份是 ()
 - ①台湾
 - ②广东
 - ③内蒙古自治区
 - ④海南
 - ⑤新疆维吾尔自治区
 - A. ①④
 - B. ③④
 - C. ②④
 - D. ③⑤

二、填空题(每空1分,共11分)

6. 我国的行政区域,基本分为_____、_____、_____三级,以此为标准,学校所在地的三级

行政区划名称是_____、_____、_____。

7. 我国四大直辖市中临渤海的是_____ ,临东海的是_____ ,位于西部大开发区的是_____。
8. 我国共有_____个自治区,1999年设立了_____特别行政区。

三、读图分析题(14分)

9. 读图1-2-1,将图中数字代表的省(区)和国家名称,填在相应处:

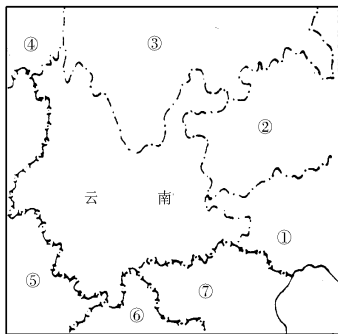


图1-2-1

(1)省(区)名称:

- ① _____,
- ② _____,
- ③ _____,
- ④ _____。

(2)邻国名称:

- ⑤ _____, ⑥ _____, ⑦ _____。

探险营地(15分)

10. 读图1-2-2填出我国自北而南沿海省级行政单位的名称及两个岛省的名称。(共14个省级行政单位)

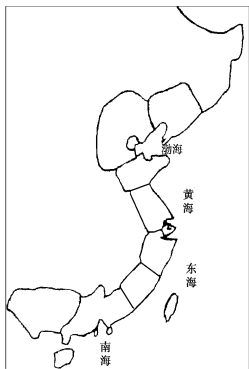


图 1-2-2

中考超市

11. 读图 1-2-3 “我国部分省区图” 回答 (共 10 分)

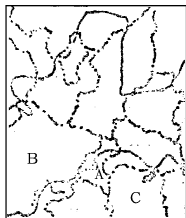


图 1-2-3

- (1) 位于我国西部地区的直辖市? 是_____。
(2 分)
- (2) 在图中用斜线描出河南省、宁夏回族自治区。(4 分)
- (3) 省区名称 B _____, C _____。(2 分)
- (4) 本区有一个省份邻我国三个自治区, 该省是_____。(2 分)

(2001·青岛·改编)



捷进碾站

中国省级行政区歌诀

两广两湖两河山, 五江(疆)二宁青陕甘,
云贵西四北上天, 海内重台福吉安,
香港澳门喜回归, 祖国一片好河山。

我国省级行政区简称三字经

京津沪 黑吉辽 内蒙古 晋陕甘 青新宁
冀鲁豫 苏浙皖 湘鄂赣 川黔滇 桂粤闽 藏琼
渝 台港澳 我祖国 好河山

第二节 中国的行政区划(二)

姓名: _____

时间 20 分钟

满分 50 分

评分: _____



作业要求

1. 知道各省级行政单位的简称及省府。
2. 记住各省级行政区的轮廓。



课时作业

课堂快餐

一、选择题(每题 2 分,共 10 分)

1. 我国面积最大,邻国最多的省级行政区的简称是 ()
A. 蜀 B. 藏 C. 新 D. 滇
2. 下列简称中,两省(区)相邻的是 ()
A. 湘、鄂 B. 陕、吉
C. 京、沪 D. 藏、黑
3. 下列省区中属于山东省邻省的是 ()
A. 晋 B. 鄂 C. 皖 D. 浙
4. 下列是以本省主要河流作简称的是 ()
A. 冀 B. 鲁 C. 湘 D. 皖

- * 5. 读图 1-2-4“四幅我国省区轮廓图”,表示“黔”轮廓的是 ()



图 1-2-4

二、填空题(每空 1.5 分,共 12 分)

6. 有两个简称,且位于西北的省、自治区是 _____、_____。
7. 北回归线自东向西依次经过的省级行政单位的简称是: _____、_____、_____ 和 _____。

8. 重庆市简称 _____,河南省简称 _____。

三、读图分析题(14 分)

9. 图 1-2-5 所示轮廓完整的是我国的某省,请回答下列问题:

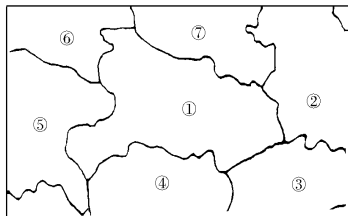


图 1-2-5

- (1)① _____ 省,简称 _____。
- (2)② _____ 省,省会 _____。
- (3)③ _____ 省,是否临海? _____。
- (4)④ _____ 省,简称 _____。
- (5)⑤ _____ 省(市)原属于 _____ 省。
- (6)⑥ _____ 省,是否有双简称? _____。
- (7)⑦ _____ 省,是否与山东省相邻? _____。

探险营地

四、(14 分)

10. 读图 1-2-6,回答问题:

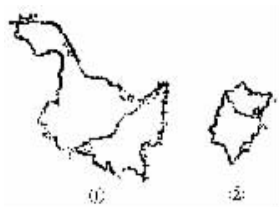


图 1-2-6

- (1)①图中省会城市是 _____,所临河流是 _____,该省与 _____ (国家)相邻。

(2) ②图中省会城市是_____，所临河流是_____，该省临海是_____。

11. 读图 1-2-7，完成下列要求（只填代号）

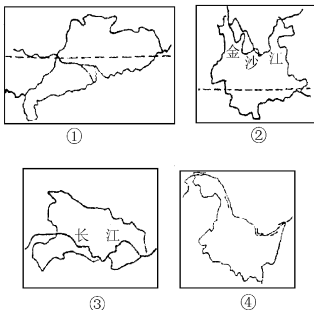


图 1-2-7

- (1) 简称粤的是_____，省府是昆明的是_____。（每空 1 分）
- (2) 图中四个省中，临海的有_____，陆上同邻国接壤的是_____，纬度最高的是_____。
- (3) 图中四个省中，地理位置最偏东的是_____，最偏西的是_____，有热带分布的是_____。

（2001·岳阳·改编）



捷进礮站

雅号最多的省——台湾

宝岛的树种达 4000 种以上，相当于整个亚洲大陆木本植物的 2/3，故“绿岛”、“海上植物园”和“亚洲天然植物园”之称，台湾森林面积占全岛面积的 55%，为全国森林覆盖率的 4.3 倍，所以有“木材之乡”、“森林宝库”之誉。阿里山盛产红松，故台湾又有“红松之乡”和“神木之乡”的称号。台湾的樟树几乎分布全岛，樟脑和樟油的产量居世界第一位，是中国也是世界的“樟脑之乡”。

台湾素以盛产四季花卉特别是兰花而闻名，品种多达 100 多种。因此，台湾自古有“四季如春的花园”和“兰花之岛”的美称。同时，台湾有 400 多种蝴蝶，故也有“蝶岛”的美誉。

台湾东部海域是珊瑚的主要产地，所以台湾还有“珊瑚岛”之称。台湾地热资源丰富，多火山、温泉，堪称“地热之岛”、“温泉之乡”。台湾地处地球上规模最大、活动性最强、最频繁的“环太平洋地震带”上，是中国地震最多的省份，故有“地震之岛”之说。台湾农作物一年三熟，主要农产品是甘蔗、稻米，是我国甘蔗的主要产地，因而又有“粮仓”、“粮库”和“东方甜岛”之称。

第二章 中国的人口和民族

第一节 中国的人口(一)

姓名: _____

时间 20 分钟

满分 50 分

评分: _____



作业要求

1. 记住全国人口总数。
2. 知道人口分布状况。
3. 理解人口分布同经济发展和自然条件的关系。



课时作业

课堂快餐

一、选择题(每题3分,共15分)

1. 世界上人口最多、面积最大的一组国家是 ()
 - A. 中国、加拿大
 - B. 中国、俄罗斯
 - C. 印度、俄罗斯
 - D. 中国、美国
2. 我国人口最多和最少的省级行政单位是 ()
 - A. 川、藏
 - B. 鲁、藏
 - C. 豫、澳
 - D. 苏、澳
3. 我国人口分布的特点是 ()
 - A. 南部多,北部少
 - B. 北部多,南部少
 - C. 西部多,东部少
 - D. 东部多,西部少
4. 我国人口密度最小的省级行政单位是 ()
 - A. 新
 - B. 青
 - C. 藏
 - D. 内蒙古
5. 我国侨胞原籍最多的两个省级行政区是 ()
 - A. 粤、闽
 - B. 闽、台
 - C. 台、琼
 - D. 琼、粤

二、填空题(每空2分,共12分)

6. 2000年第五次人口普查,我国总人口为 _____ 亿,约占世界总人口的 _____。
7. 我国人口分布不平均, _____ 多, _____ 少。
8. 我国人口的分布大体可从黑龙江省的 _____ 到云南省的 _____ 划为一条直线。

三、读图分析题(12分)

9. 读图 2-1-1, 回答:

- (1) 东南部面积占全国的 _____ % , 人口约占全国的 _____ %。

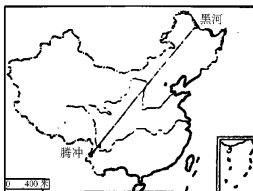


图 2-1-1

- (2) 西北部面积占全国的 _____ % , 人口约占全国的 _____ %。

探险营地

10. 计算人口密度, 读下表, 并由表中的人口密度分析回答问题(11分)

省级行政区	江苏	山东	新疆	西藏
面积 (万平方千米)	10	15	160	120
人口 (万人)	7400	9100	1900	260
人口密度 (人/平方千米)				

- (1) 江苏、山东人口密度 _____ (大、小), 新疆、西藏人口密度 _____ (大、小)。
 (2) 我国人口分布特征 _____。

中考超市

- * 11. 我国人口最多的直辖市是 ()
 A. 京 B. 津 C. 沪 D. 渝
 (2000年·长沙·改编)
- * 12. 下列四组省级行政区中, 人口密度最大的一组是 ()
 A. 苏、鲁、沪 B. 辽、吉、黑
 C. 黔、桂、滇 D. 甘、青、宁

第一节 中国的人口(二)

姓名: _____

时间 20 分钟

满分 50 分

评分: _____



作业要求

1. 知道我国人口突出特点。
2. 知道我国的人口政策。
3. 理解我国人口增长的变化和人口问题。



课时作业

课堂快餐

一、选择题(每题 5 分,共 10 分)

1. 我国人口的突出特点是 ()
 - A. 人口分布不平均
 - B. 城镇人口增长迅速
 - C. 人口的增长与经济发展不协调
 - D. 人口基数大,人口增长快
2. 目前,我国人口自然增长率明显下降,但每年新增人口数量几乎没有减少,其主要原因是 ()
 - A. 出生率高
 - B. 死亡率低
 - C. 人口基数大
 - D. 人的寿命延长

二、填空题(每空 3 分,共 15 分)

- * 3. 新中国成立以来,_____发展,_____改善,_____提高,我国人口的平均预期寿命延长,使人口增长加快。
4. 我国人口的突出特点是_____,_____。

三、阅读分析题(12 分)

5. 材料一:读图 2-1-2“新中国人口增长图”回答问题:

材料二:我国人口形势严峻,为了摸清全国人口状况,国家组织进行了第五次人口普查。这次普查除了投入更多的人力、物力外,国务院还强调对外资企业、三资企业和娱乐场所要认真清查登记。

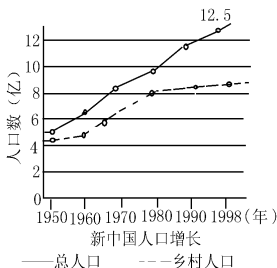


图 2-1-2

(1)(3 分)新中国人口的基本特点是_____。

*(2)(6 分)我国人口政策的基本内容是_____。提倡晚婚、晚育的主要目的是_____。

*(3)(3 分)第五次人口普查与前几次人口普查相比,尽管投入人力多,但统计难度大的主要原因是 ()

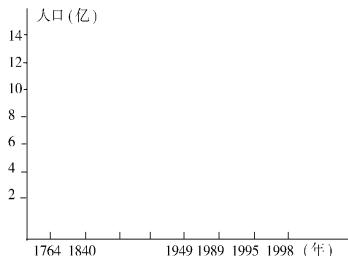
- A. 近几年人口增长过快
- B. 人口分布极不平衡
- C. 国内自发的人口迁移
- D. 大量的国际人口迁移

探险营地

6. 绘制人口增长曲线图(13 分)

根据图表所提供的我国人口数据,在下面方框内绘出我国人口增长的折线图。

时间(年)	1764	1840	1949	1989	1995	1998
人口(亿)	2.1	4.1	5.4	11	12	12.5



中考超市

7. 由于我国人口增长过快,同_____发展速度不相适应,因此我国政府把_____当作一项基本国策。

(2002·长沙·中考题)



捷进礮站

人口问题是中国可持续发展的首要问题

在人类进入 21 世纪的时候,实施可持续发展战略已成为世界各国共同选择的道路。但是,由于国情不同,各国面临的困难和关心的问题各不相同,因此实施可持续发展战略所选择的具体道路也不会完全相同。中国实施可持续发展战略,必须从中国处于并将长期处于社会主义初级阶段基本国情出发,走中国特色的可持续发展的正确道路。人口问题是中国实

施可持续发展战略面临的首要问题,而资源的持续利用、生态环境的保护则是实施可持续发展战略的基础。因此,必须把人口问题作为考虑一切问题的基本出发点。中国要实现可持续发展,需要解决的问题很多。其中,人口与经济发展、人口与社会进步、人口与资源利用和保护环境以及人口数量与人口素质相互依赖和制约的问题,是一些非解决不可的极端重要的问题。既然人口问题是中国可持续发展的首要问题,我们就必须从战略高度确定人口与计划生育工作跨世纪发展的基本框架。这一框架包括:第一,必须确定我国未来人口与计划生育工作的宏伟蓝图。第二,必须健全和完善发展社会主义市场经济要求相适应的人口宏观调控体系。第三,必须改革计划生育工作的管理体制。第四,必须建立和健全有利于计划生育的社会保障机制。确定人口与计划生育跨世纪发展的奋斗目标,健全和完善与发展社会主义市场经济要求相适应的人口宏观调控体系、计划生育管理体制和有利于计划生育的社会保障机制,是一个有内在联系的系统工程。这一系统工程的健全和完善,将推动我国人口与计划生育工作真正走向规范化、科学化、法制化和社会化,从而促进我国人口、资源、环境步入良性循环、可持续发展的轨道。



第二节 中国的民族

姓名：

时间 20 分钟

满分 50 分

评分：



作业要求

1. 记住我国由 56 个民族组成。
2. 记住我国民族分布的特点。
3. 知道我国汉族和少数民族的分布。
4. 知道我国的民族政策。



课时作业

课堂快餐

一、选择题 (每题 2 分 共 10 分)

1. 我国人口最多的两个民族是 ()
A. 汉族和回族 B. 藏族和壮族
C. 回族和蒙古族 D. 汉族和壮族
2. 我国少数民族最多的省区是 ()
A. 滇 B. 桂 C. 新 D. 藏
3. 我国分布最广泛的少数民族是 ()
A. 壮族 B. 满族 C. 回族 D. 藏族
4. 下列少数民族与主要所在省区搭配错误的是 ()
A. 朝鲜族——吉林 B. 回族——宁夏
C. 高山族——台湾 D. 傣族——贵州

* 5. 下列各民族中 人口均在 400 万以上的一组是 ()

- A. 回族、壮族、赫哲族
- B. 回族、土家族、维吾尔族
- C. 壮族、满族、高山族
- D. 苗族、土家族、珞巴族

二、填空题 (每空 1 分 共 12 分)

6. 我国共有 _____ 个民族, 其中 _____ 族人口最多, 占总人口的 _____ %。
7. 我国民族分布特点 _____、_____。
8. 我国汉族主要分布在 _____ 部和 _____ 部; 少数民族主要分布在 _____、_____、_____ 等边疆地区。

9. 我国民族政策是各民族 _____、_____。

三、读图分析 (14 分)

10. 读图 2-2-1 回答:

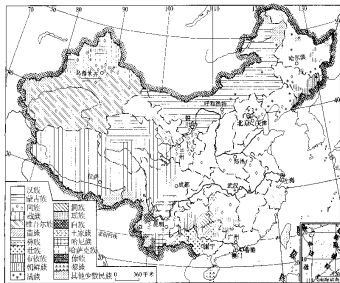


图 2-2-1

- (1) 蒙古族主要分布于 _____ 省、_____ 自治区。
- (2) 四川省主要的少数民族是 _____、_____。
- (3) 汉族主要分布于我国的 _____ 和 _____。
- (4) 从图中可以看出我国民族分布特点是 _____、_____。

探险营地

11. 读图 2-2-2 回答 (14 分)



图 2-2-2

- (1) 图 A 是 _____ 族的手鼓舞, 其所在省区的简称是 _____。
- (2) 图 B 是 _____ 族的孔雀舞, 主要分布在 _____ 省。
- (3) 图 C 是 _____ 族的跳板, 其所在省与 _____ 三个省区相邻。
- (4) 图 D 是 _____ 族的摔跤, 其所在省区的省府是 _____。

中考超市

12. 人口数量最多的少数民族是 ()
- A. 汉族 B. 回族 C. 蒙古族 D. 壮族
13. 读图 2-2-3, 高山族主要聚居的省级行政单位是下图中的 ()

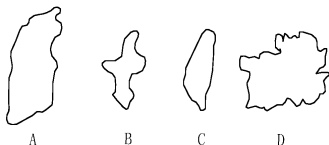


图 2-2-3

(2002·济南·中考)

捷进砺站

蒙古族的传统节日——那达慕大会

“那达慕”是蒙古语,意思是“娱乐”或“游戏”。那达慕大会,又称蒙古游戏节,是蒙古族的传统节日,每年大致在农历七八月份,这里水草丰茂、牛羊肥壮的时间举行。

在蒙古族最早的史书《蒙古秘史》中,便记载了人们唱歌跳舞举行“那达慕”的盛况。当年王昭君出塞时,蒙古人民就曾以这种盛大的活动仪式来迎接她。13世纪初,成吉思汗统一了蒙古 82 个部落,他为检阅自己的部队,维护和分配草场,每年都要将各个部落的首领召集在一起,举行较大规模的那达慕活动。到了清代,那达慕大会便逐渐演变成由官方定期召集的民间文娱竞技等庆丰收的大会。刚开始时,那达慕以单纯的歌舞娱乐形式为主,不久便增添了以摔跤、射箭、赛马为基本内容的比赛项目,而且竞技占有较大的比重。重视竞技比赛,与古族悠久的历史传统有着深刻的渊源关系。如今竞技已几乎贯穿到蒙古族生活方式的方方面面中去了。如春季打马鬃,剽悍的骑手调教暴烈的野马,祭敖包仪式之中,婚礼进行途中,都会展开规模不等、趣味迥异的各种竞技比赛。

新中国成立以来,那达慕增加了下棋、拔河、田径、篮球、物资交流等新内容。大会已成为蒙古族人民喜闻乐见的体育、娱乐、物资交流的盛会。

第一单元目标检测题

姓名：

时间：60分钟

满分：100分

评分：

一、选择题(每题3分,共30分)

1. 下列海域中,属于我国内海的是 ()
 A. 东海 B. 南海
 C. 台湾海峡 D. 琼州海峡
2. 我国既临海,又在陆上与外国相邻的省区有两个,它们的简称是 ()
 A. 闽、辽 B. 辽、桂 C. 滇、辽 D. 吉、桂
3. 读图1-1我国省区轮廓图与简称搭配正确的一组是 ()

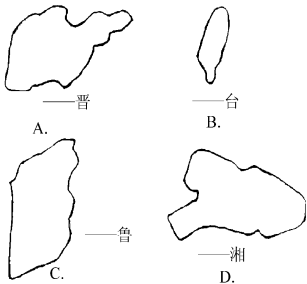


图1-1

4. 与我国黑龙江省接壤的是 ()
 A. 蒙古 B. 俄罗斯 C. 印度 D. 朝鲜
5. “两湖两广两河山”中的“两河”指的是 ()
 A. 冀、鲁 B. 鲁、豫 C. 冀、豫 D. 鲁、晋
6. 读图1-2,我国省区轮廓图与主要少数民族分布搭配错误的一组是 ()

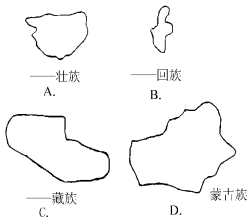


图1-2

7. 下列四个我国陆上邻国中,与我国有不连续疆界的国家是 ()
 A. 蒙古 B. 印度
 C. 朝鲜 D. 哈萨克斯坦
8. 下列有关我国人口的叙述,正确的是 ()
 A. 我国人口的增长与经济发展基本上保持协调关系
 B. 当前我国大多数人口居住在城镇
 C. 实行计划生育是我国的一项基本国策
 D. 四川省是我国目前惟一人口过亿的省
9. 下列省区不具有双简称的是 ()
 A. 贵州省 B. 云南省
 C. 山西省 D. 陕西省
10. 与我国广西壮族自治区相邻的国家是 ()
 A. 缅甸 B. 老挝
 C. 越南 D. 泰国

二、填空题(每空2分,30分)

11. 我国位于_____洲东部,_____洋西岸。
12. _____岛是我国面积最大的岛屿,_____是我国纬度最低的群岛。
13. 同时濒临渤海和黄河的省级行政区的简称是_____和_____。
14. 我国民族分布的特点是_____、_____。
15. 我国人口分布的特点是_____多,_____少。
16. 我国共有_____个省级单位,跨经度最广的省级行政单位是_____。
17. 我国人口最多的直辖市是_____,简称_____,1997年设立了_____特别行政区。

三、读图分析题(共40分)

18. 读图1-3“我国疆域轮廓图”,回答下列问题:(20分)
- (1) 我国的邻国①是_____,②是_____。(4分)
- (2) 省(区)A简称_____,B的省会_____。(4分)

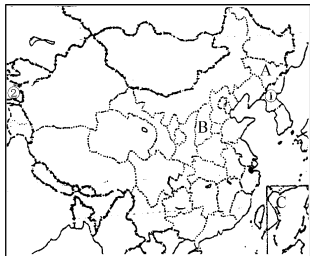


图 1-3

(3) 将下列地理名称的代表字母填入图中适当位置(8分)

- C. 哈萨克斯坦 D. 印度
E. 渤海 F. 云南省

(4) 我国最北的省区的省会是_____。(2分)

(5) 在图中用“.....”画出北回归线。(4分)

19. 读图 1-4, 完成下列要求(20分)

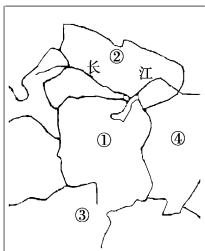


图 1-4

(1) ①省的省会是_____, 省区简称“鄂”的是_____。(只填代号)(8分)

(2) 省区③聚居的少数民族是_____, ④省的简称是_____。(8分)

(3) 用代号⑤填出重庆市。(4分)