

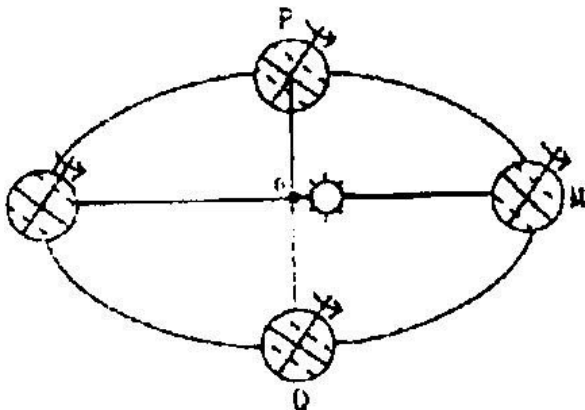
# 威海市高中毕业班教学质量检测

本试卷分第 I 卷(选择题)和第 II 卷(非选择题)两部分,共 100 分。考试时间 90 分钟。

## 第 I 卷(选择题,共 45 分)

一、选择题:本大题共 30 小题,每小题 1.5 分,共 45 分。在每小题列出的四个选项中,只有一项是符合题目要求的。

右图中, O 为地球公转轨道中心,据此图回答 1~4 题



1. 当地球公转至 M 处时,下列城市白昼最短的是 ( )

A. 哈尔滨    B. 上海    C. 新加坡    D. 悉尼

2. 关于地球公转速度的变化，叙述正确的是  
(    )

- A. 由 M 点到 N 点公转速度逐渐加快
- B. 由 M 点到 N 点公转速度先加快后减慢
- C. 由 N 点到 M 点公转速度逐渐减慢
- D. 由 N 点到 M 点公转速度先加快后减慢

3. 如果 PQ 正好将地球公转轨道平分，下列叙述正确的是(    )

A. 地球由 P 点公转到 Q 点的时间正好是回归年的一半

B. 地球在 $\widehat{QMP}$ 段公转时北极地区一直存在极夜现象

C. 到南极考察应选择地球在 $\widehat{QMP}$ 段公转时进行

D. 地球公转到 Q 点时为北半球春分，公转到 P 点时为北半球秋分

4. 当地球位于 M 点附近时，下列现象真实可信的是(    )

A. 东非高原上的动物大量迁徙到赤道以北

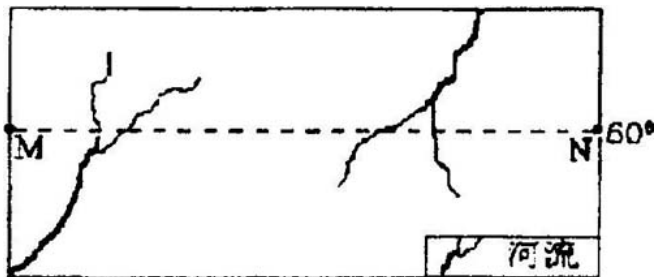
B. 轮船经过马六甲海峡时，船员发现正午时自己的影子朝南

---



- C. 耕地 林地 村落  
D. 林地 耕地 村落

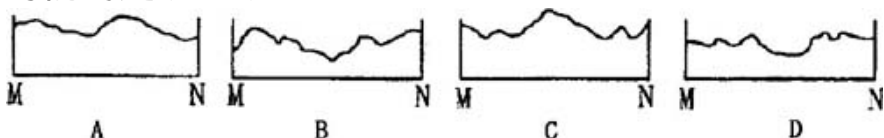
读右图，回答 8~9 题



8. 若 M、N 两地图上距离为 6.7 厘米，两地地方时相差 2 小时，那么此图的比例尺约为( )

- A. 1:25000000  
B. 1:50000000  
C. 图上 1 厘米相当于地面距离 25 千米  
D. 5 百万分之一

9. 下图为自 M 到 N 的地势变化剖面图，其中最有可能的是( )



沼泽是在多水条件下形成的特殊的自然综合体。三江平原是我国最大的沼泽区，经大面积开发，已成

为全国性的商品粮基地。但近年出现诸如气候趋干，旱灾增多等环境恶化现象，于是国家决定这里今后不再垦荒。根据相关知识，回答 10~11 题。

10. 三江平原分布的沼泽，属于( )

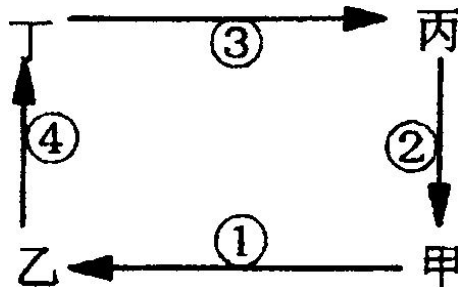
- A. 经度地带性现象
- B. 纬度地带性现象
- C. 垂直地带性现象
- D. 非地带性现象

11. 下列有关三江平原的叙述，正确的是( )

- A. 粮食单产高，但商品率低
- B. 主要粮食作物为冬小麦
- C. 纬度高，气温低，多为两年三熟
- D. 目前尚未开发的沼泽性荒原适宜建立自然保护区

区

读右图，回答 12~15 题



12. 若甲、乙为相距不远的陆地， 为水平气流， 为垂直气流，则甲、乙、丙、丁四处气压的

关系为( )

- A. 甲>乙>丙>丁      B. 甲>乙>丁>丙  
C. 乙>甲>丙>丁      D. 乙>甲>丁>丙

13. 若甲为城市，乙为其郊区，其余条件与 12 题相同，从环境效益的角度考虑，不宜在乙地建立的企业是( )

- A. 水泥厂    B. 造纸厂    C. 家具厂    D. 电子厂

14. 若该图为水循环示意图，乙为海洋，甲为陆地， 为地表径流，从水平衡角度看有( )

- A. >      B. >      C. >      D. <

15. 若图中表示水平大洋环流，易形成大规模渔场的是( )

- A. 甲地    B. 乙地    C. 丙地    D. 丁地

16. 关于大气臭氧和臭氧层的叙述( )

- A. 在大气圈中臭氧分布均匀  
B. 只有臭氧层中才有臭氧  
C. 由于臭氧层位于对流层内，所以与人类关系很

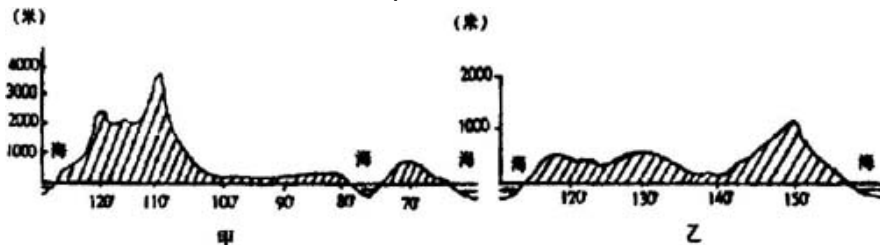
大

D. 臭氧层能吸收大量太阳紫外线

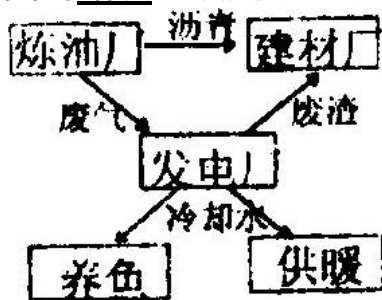
17. 下面甲、乙两图为两个国家的地形剖面图，

甲图剖面线为  $55^{\circ}\text{N}$ ，乙图剖面线为  $23^{\circ}26'\text{S}$ ，下列关于两国的正确叙述是（ ）

- A. 两国西部均分布有地中海气候
- B. 甲国地广人稀，乙国地窄人稠
- C. 两国都是世界上重要的农矿产品出口国
- D. 甲国工农业发达，乙国经济以农牧业为主



18. 关于右图的错误选项是（ ）



- A. 发电厂的燃料中有炼油厂的废气
- B. 该模式符合可持续发展的原则
- C. 水资源的消耗增加

D. 该模式既有利可图又减少了环境污染

19. 北回归线经过的亚洲地区的气候类型主要是 ( )

A. 热带季风气候、热带雨林气候、热带沙漠气候

B. 地中海气候、热带草原气候、热带季风气候

C. 热带季风气候、亚热带季风气候、热带沙漠气候

候

D. 地中海气候、亚热带季风气候、热带沙漠气候

20. 根据下列各概念的相互关系，右图中大、中、小椭圆依次代表 ( )



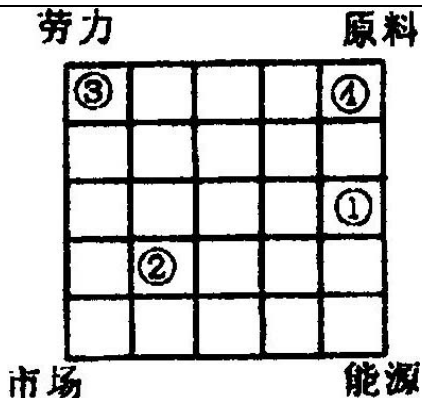
A. 海陆间循环、内陆循环、海上内循环

B. 地下水、潜水、承压水

C. 风海流、密度流、补偿流

D. 陆地水、地表水、冰川

读右图，根据影响工业布局的因素对某工业部门的影响程度，分析判断 21~22 题：



21. 图中数字代表的工业布局，可能都正确的是 ( )

- A. 石化 有色冶金 水产加工 电器装配
- B. 有色冶金 石化 电器装配 水产加工
- C. 电器装配 水产加工 石化 有色冶金
- D. 水产加工 电器装配 有色冶金 石化

22. 下列说法，正确的是 ( )

A. 现代化的交通运输及输电技术，使能源、原料对工业布局的影响削弱

B. 石化工业日益接近产油区减少产品运输成本

C. 图中 可能是采掘业

D. 石油加工工业形成于第一次工业革命期间

23. 下列说法，符合欧洲西部河流水文特征的是

( )

- A. 汛期明显      B. 长度较长  
C. 含沙量大      D. 水量充沛

24. 下列岛屿中，有温带海洋性气候分布的是

( )

- A. 夏威夷群岛      B. 马达加斯加岛  
C. 斯里兰卡岛      D. 塔斯马尼亚岛

下图为某地气温、降水资料图，据此回答 25 ~ 27

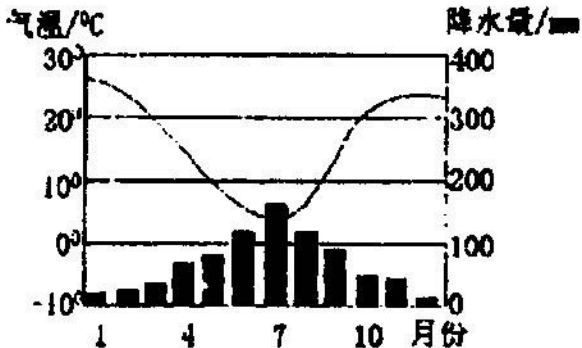
题

25. 下列地点与图中所示气候类型一致的是( )

- A. 罗马      B. 开普敦      C. 上海      D. 孟买

26. 七月份，该地降水较多的原因是( )

- A. 受西风影响      B. 受夏季风影响  
C. 受气旋影响      D. 受锋面影响



27. 该地不适宜发展种植业的原因是( )

- A. 热量不足      B. 降水稀少  
C. 日照不充分    D. 高温期与多雨期不一致

28. 大河下游三角洲地带，由于水热条件、土质条件较好，一般均为重要的农作物产区，以下正确的叙述是( )

- A. 长江三角洲是世界著名的长绒棉产区  
B. 恒河三角洲是世界著名的黄麻产区  
C. 湄公河三角洲以盛产油棕著称  
D. 多瑙河三角洲以产稻米著称

29. 有关环境问题的叙述，正确的是( )

亚马孙平原的热带原始森林正在遭受毁灭性破坏，使空气中  $\text{CO}_2$  含量增加

干旱地区重灌轻排是造成土壤次生盐碱化的主要原因

海湾战争中油井燃烧的浓烟遇水蒸气形成光化学雾，在阳光作用下形成酸雨

治理“三废”的措施，主要是控制工业生产的规模

- A.                      B.                      C.                      D.



温\_\_\_\_(高、低)。

(2) 该图若为等温线图，则：

若该图所示时间为 7 月，所示地区位于北半球，则 A、B 两地中\_\_\_\_地位于海洋，此时北大西洋上\_\_\_\_\_(气压中心)强盛。

若 A 地在陆地，B 地在海洋，所示地区位于南半球，则图示时间为\_\_\_\_\_(一、七)月，南亚地区盛行\_\_\_\_\_风。

(3) 若该图为等压线图，则：

A 处为\_\_\_\_\_ (气压分布类型)

若该地区在南半球，则 D 点吹\_\_\_\_\_风。

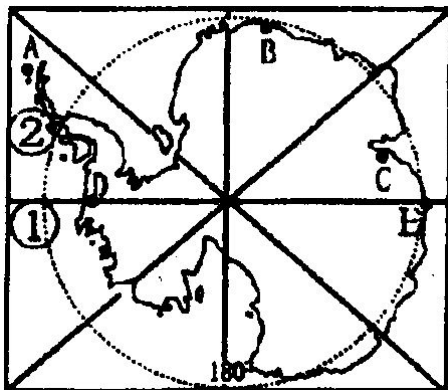
若 A 在海洋，B 在陆地，A、B 两处风力较大的是\_\_\_\_处，原因是\_\_\_\_\_。

32. 读“南极地区图”回答：(9 分)

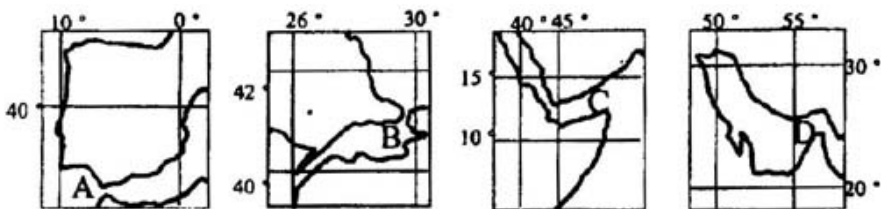
(1) 图中 A、B、C、D 四个考察站属于我国并可出现极昼极夜现象的是\_\_\_\_站(填字母)，其中 C 站位于 A 站的\_\_\_\_方向。A、B、C、D 四个考察站中，距离中国最近的是\_\_\_\_(填字母)。

(2) 处\_\_\_\_洋， 处是\_\_\_\_海峡，这里有\_\_\_\_海流，它从\_\_\_\_洋流向\_\_\_\_洋。

(3) E 点的经纬度是\_\_\_\_\_。



33. 读“世界著名海峡图”，回答：(均填字母，否则不得分。6分)



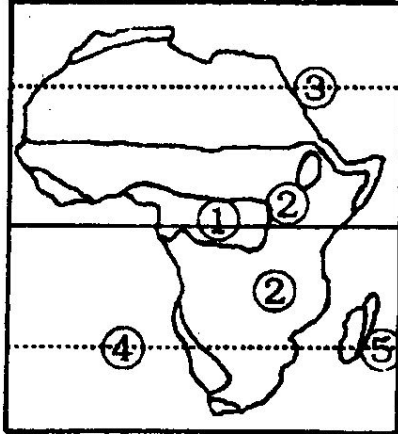
(1) 以上海峡附近地区，属于冬雨型的是\_\_\_\_\_，附近有热带沙漠分布的有\_\_\_\_\_，位于两大洲分界处的有\_\_\_\_\_，位于板块张裂地区的是\_\_\_\_\_。

(2) 一艘油轮由法国出发到科威特走最近的航线

要依次经过上述海峡中的\_\_\_\_\_。

(3) 12月22日，四个海峡中正午太阳高度角最大的是\_\_\_\_\_。

34. 读非洲图，回答下列问题：(4分)



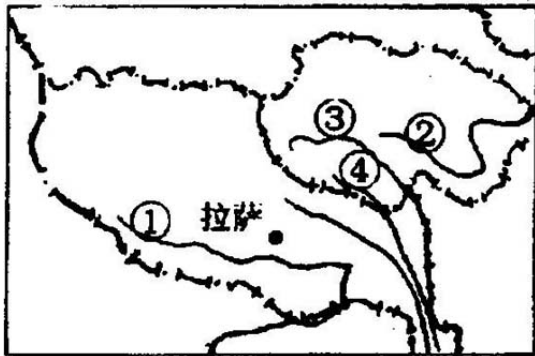
(1) 自然带 是\_\_\_\_\_，该自然带没有延伸到大陆东海岸的原因是\_\_\_\_\_。

(2) 自然带 的动物有随季节迁徙的特点，大致是( )

- A. 一月往北迁      B. 冬季往南迁
- C. 七月往北迁     D. 夏季往南迁

(3) \_\_\_\_\_ 三海域盐度由低到高的排序是

35. 读右图，回答：(6分)



(1) 2000年8月19日，我国面积最大的自然保护区三江源自然保护区正式成立。图中 为三江之一的 \_\_\_\_\_ 江，建立该自然保护区的最主要目的是 \_\_\_\_\_。

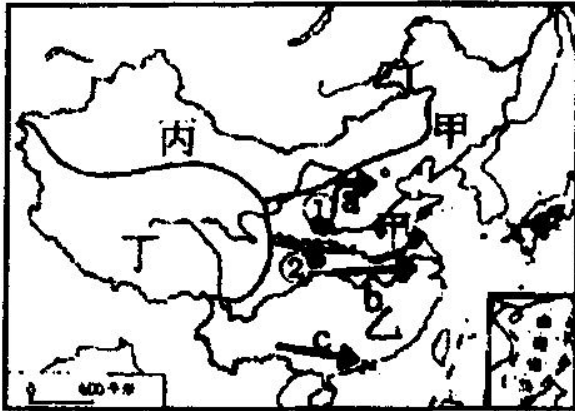
(2) 图中河流 南部巨大的山脉形成于( )

- A. 原始生命萌芽时代
- B. 蕨类植物时代
- C. 恐龙时代
- D. 被子植物大发展时代

(3) 我国青藏高原农区青稞高产的主要原因是 \_\_\_\_\_。

(4) 青藏高原上太阳辐射强，太阳能资源丰富，为什么气温不高? \_\_\_\_\_。

36. 读“中国分区图”，回答下列问题：(7分)



(1) 形成甲、乙两区自然地理条件差异的主要因素是\_\_\_\_\_。

(2) 丙区的自然景观与甲、乙两区截然不同的主要原因是\_\_\_\_\_。

(3) 地点 一月份平均气温有可能为( )

- A. 18      B. 5      C. -6      D. -28

(4) 地点 多年平均降水量有可能为( )

- A. 875mm      B. 733mm      C. 422mm      D. 255mm

(5) a、b、c 表示我国西电东输三大通道，下列各组电站分别属于 a、b、c 三条输电线路的是( )

- A. 大同、葛洲坝、天生桥  
B. 二滩、龚嘴、刘家峡