

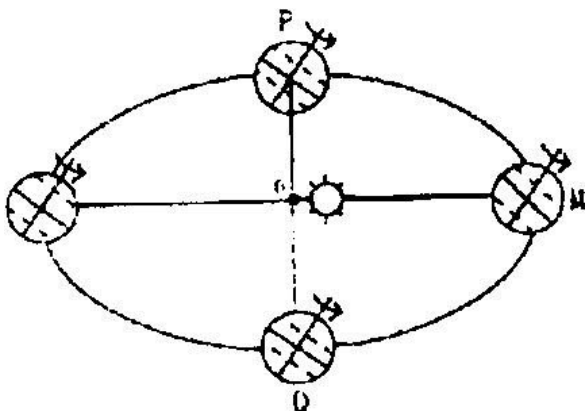
威海市高中毕业班教学质量检测

本试卷分第 I 卷(选择题)和第 II 卷(非选择题)两部分,共 100 分。考试时间 90 分钟。

第 I 卷(选择题,共 45 分)

一、选择题:本大题共 30 小题,每小题 1.5 分,共 45 分。在每小题列出的四个选项中,只有一项是符合题目要求的。

右图中, O 为地球公转轨道中心,据此图回答 1~4 题



1. 当地球公转至 M 处时,下列城市白昼最短的是 ()

A. 哈尔滨 B. 上海 C. 新加坡 D. 悉尼

2. 关于地球公转速度的变化，叙述正确的是
()

- A. 由 M 点到 N 点公转速度逐渐加快
- B. 由 M 点到 N 点公转速度先加快后减慢
- C. 由 N 点到 M 点公转速度逐渐减慢
- D. 由 N 点到 M 点公转速度先加快后减慢

3. 如果 PQ 正好将地球公转轨道平分，下列叙述正确的是()

A. 地球由 P 点公转到 Q 点的时间正好是回归年的一半

B. 地球在 \widehat{QMP} 段公转时北极地区一直存在极夜现象

C. 到南极考察应选择地球在 \widehat{QMP} 段公转时进行

D. 地球公转到 Q 点时为北半球春分，公转到 P 点时为北半球秋分

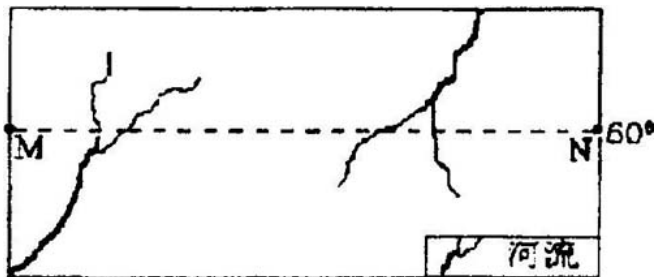
4. 当地球位于 M 点附近时，下列现象真实可信的是()

A. 东非高原上的动物大量迁徙到赤道以北

B. 轮船经过马六甲海峡时，船员发现正午时自己的影子朝南

- C. 耕地 林地 村落
 D. 林地 耕地 村落

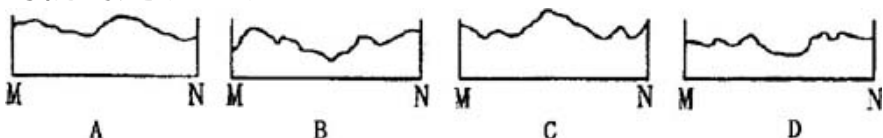
读右图，回答 8~9 题



8. 若 M、N 两地图上距离为 6.7 厘米，两地地方时相差 2 小时，那么此图的比例尺约为()

- A. 1:25000000
 B. 1:50000000
 C. 图上 1 厘米相当于地面距离 25 千米
 D. 5 百万分之一

9. 下图为自 M 到 N 的地势变化剖面图，其中最有可能的是()



沼泽是在多水条件下形成的特殊的自然综合体。三江平原是我国最大的沼泽区，经大面积开发，已成

为全国性的商品粮基地。但近年出现诸如气候趋干，旱灾增多等环境恶化现象，于是国家决定这里今后不再垦荒。根据相关知识，回答 10~11 题。

10. 三江平原分布的沼泽，属于()

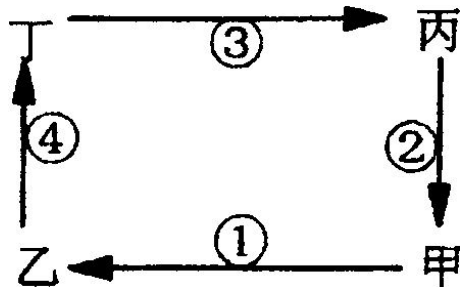
- A. 经度地带性现象 B. 纬度地带性现象
C. 垂直地带性现象 D. 非地带性现象

11. 下列有关三江平原的叙述，正确的是()

- A. 粮食单产高，但商品率低
B. 主要粮食作物为冬小麦
C. 纬度高，气温低，多为两年三熟
D. 目前尚未开发的沼泽性荒原适宜建立自然保护区

区

读右图，回答 12~15 题



12. 若甲、乙为相距不远的陆地， 为水平气流， 为垂直气流，则甲、乙、丙、丁四处气压的

关系为()

- A. 甲>乙>丙>丁 B. 甲>乙>丁>丙
C. 乙>甲>丙>丁 D. 乙>甲>丁>丙

13. 若甲为城市，乙为其郊区，其余条件与 12 题相同，从环境效益的角度考虑，不宜在乙地建立的企业是()

- A. 水泥厂 B. 造纸厂 C. 家具厂 D. 电子厂

14. 若该图为水循环示意图，乙为海洋，甲为陆地， 为地表径流，从水平衡角度看有()

- A. > B. > C. > D. <

15. 若图中表示水平大洋环流，易形成大规模渔场的是()

- A. 甲地 B. 乙地 C. 丙地 D. 丁地

16. 关于大气臭氧和臭氧层的叙述()

- A. 在大气圈中臭氧分布均匀
B. 只有臭氧层中才有臭氧
C. 由于臭氧层位于对流层内，所以与人类关系很

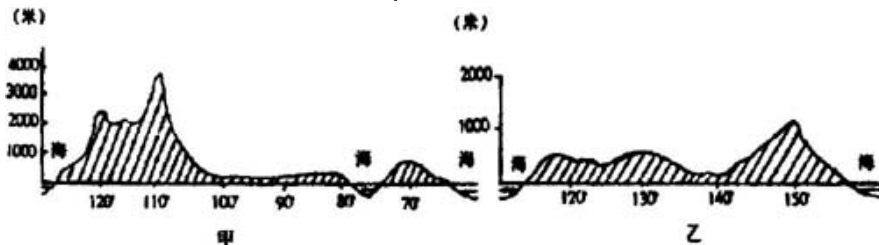
大

D. 臭氧层能吸收大量太阳紫外线

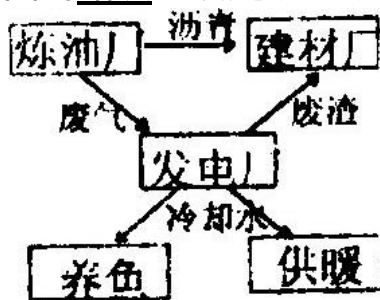
17. 下面甲、乙两图为两个国家的地形剖面图，

甲图剖面线为 55°N ，乙图剖面线为 $23^{\circ}26'\text{S}$ ，下列关于两国的正确叙述是（ ）

- A. 两国西部均分布有地中海气候
- B. 甲国地广人稀，乙国地窄人稠
- C. 两国都是世界上重要的农矿产品出口国
- D. 甲国工农业发达，乙国经济以农牧业为主



18. 关于右图的错误选项是（ ）



- A. 发电厂的燃料中有炼油厂的废气
- B. 该模式符合可持续发展的原则
- C. 水资源的消耗增加

D. 该模式既有利可图又减少了环境污染

19. 北回归线经过的亚洲地区的气候类型主要是 ()

A. 热带季风气候、热带雨林气候、热带沙漠气候


B. 地中海气候、热带草原气候、热带季风气候

C. 热带季风气候、亚热带季风气候、热带沙漠气候

候

D. 地中海气候、亚热带季风气候、热带沙漠气候

20. 根据下列各概念的相互关系，右图中大、中、小椭圆依次代表 ()



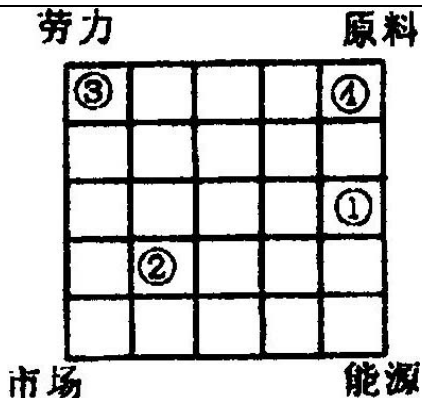
A. 海陆间循环、内陆循环、海上内循环

B. 地下水、潜水、承压水

C. 风海流、密度流、补偿流

D. 陆地水、地表水、冰川

读右图，根据影响工业布局的因素对某工业部门的影响程度，分析判断 21~22 题：



21. 图中数字代表的工业布局，可能都正确的是 ()
- A. 石化 有色冶金 水产加工 电器装配
- B. 有色冶金 石化 电器装配 水产加工
- C. 电器装配 水产加工 石化 有色冶金
- D. 水产加工 电器装配 有色冶金 石化
22. 下列说法，正确的是 ()
- A. 现代化的交通运输及输电技术，使能源、原料对工业布局的影响削弱
- B. 石化工业日益接近产油区减少产品运输成本
- C. 图中 ② 可能是采掘业
- D. 石油加工工业形成于第一次工业革命期间
23. 下列说法，符合欧洲西部河流水文特征的是

()

- A. 汛期明显
- B. 长度较长
- C. 含沙量大
- D. 水量充沛

24. 下列岛屿中，有温带海洋性气候分布的是

()

- A. 夏威夷群岛
- B. 马达加斯加岛
- C. 斯里兰卡岛
- D. 塔斯马尼亚岛

下图为某地气温、降水资料图，据此回答 25 ~ 27

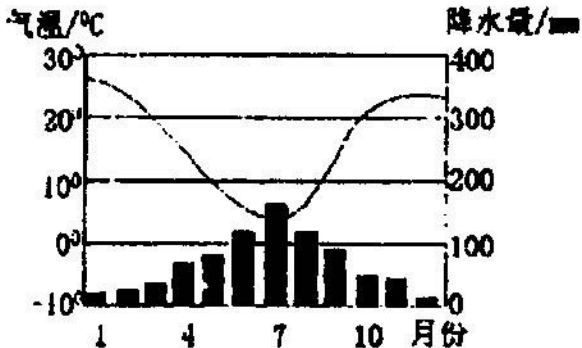
题

25. 下列地点与图中所示气候类型一致的是()

- A. 罗马
- B. 开普敦
- C. 上海
- D. 孟买

26. 七月份，该地降水较多的原因是()

- A. 受西风影响
- B. 受夏季风影响
- C. 受气旋影响
- D. 受锋面影响



27. 该地不适宜发展种植业的原因是()

- A. 热量不足 B. 降水稀少
C. 日照不充分 D. 高温期与多雨期不一致

28. 大河下游三角洲地带，由于水热条件、土质条件较好，一般均为重要的农作物产区，以下正确的叙述是()

- A. 长江三角洲是世界著名的长绒棉产区
B. 恒河三角洲是世界著名的黄麻产区
C. 湄公河三角洲以盛产油棕著称
D. 多瑙河三角洲以产稻米著称

29. 有关环境问题的叙述，正确的是()

亚马孙平原的热带原始森林正在遭受毁灭性破坏，使空气中 CO_2 含量增加

干旱地区重灌轻排是造成土壤次生盐碱化的主要原因

海湾战争中油井燃烧的浓烟遇水蒸气形成光化学雾，在阳光作用下形成酸雨

治理“三废”的措施，主要是控制工业生产的规模

- A. B. C. D.
-

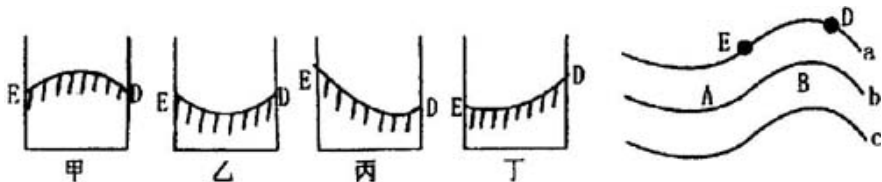
30. 塔里木、准噶尔、柴达木三个盆地的共同特点有()

- A. 均处在我国地势的第二阶梯上
- B. 全部为沙漠覆盖
- C. 都具有丰富的煤、石油和铁矿资源
- D. 均处在内陆干旱地区

第 卷(非选择题共 55 分)

二、非选择题:本大题共 7 小题,共 55 分。

31. a、b、c 为等值线图,且 $a < b < c$, 读图后回答下列问题:(12 分)



(1) 该图若为等高线示意图, 则:

B 处地形是_____。

若图中有一条河流, 则该河的流向是_____。

上图左面四幅剖面图中属于 ED 剖面图的是_____

若不考虑纬度因素的影响, B 处气温比 D 处气

温____(高、低)。

(2) 该图若为等温线图，则：

若该图所示时间为 7 月，所示地区位于北半球，则 A、B 两地中____地位于海洋，此时北大西洋上_____(气压中心)强盛。

若 A 地在陆地，B 地在海洋，所示地区位于南半球，则图示时间为_____(一、七)月，南亚地区盛行_____风。

(3) 若该图为等压线图，则：

A 处为_____ (气压分布类型)

若该地区在南半球，则 D 点吹_____风。

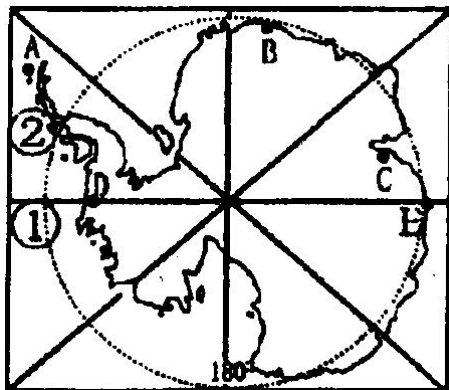
若 A 在海洋，B 在陆地，A、B 两处风力较大的是____处，原因是_____。

32. 读“南极地区图”回答：(9 分)

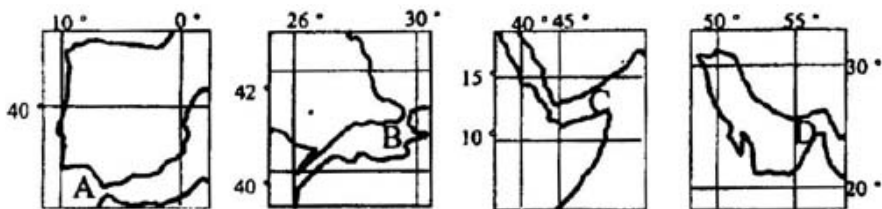
(1) 图中 A、B、C、D 四个考察站属于我国并可出现极昼极夜现象的是____站(填字母)，其中 C 站位于 A 站的____方向。A、B、C、D 四个考察站中，距离中国最近的是____(填字母)。

(2) 处____洋， 处是____海峡，这里有____海流，它从____洋流向____洋。

(3) E 点的经纬度是_____。



33. 读“世界著名海峡图”，回答：(均填字母，否则不得分。6分)



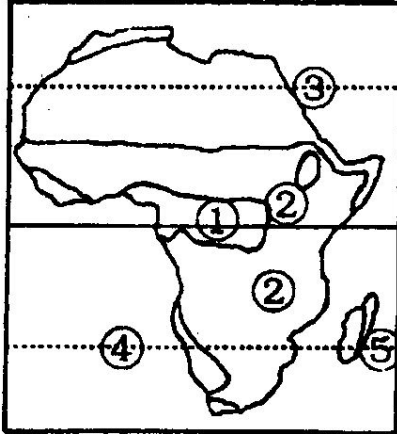
(1) 以上海峡附近地区，属于冬雨型的是_____，附近有热带沙漠分布的有_____，位于两大洲分界处的有_____，位于板块张裂地区的是_____。

(2) 一艘油轮由法国出发到科威特走最近的航线

要依次经过上述海峡中的_____。

(3) 12月22日，四个海峡中正午太阳高度角最大的是_____。

34. 读非洲图，回答下列问题：(4分)



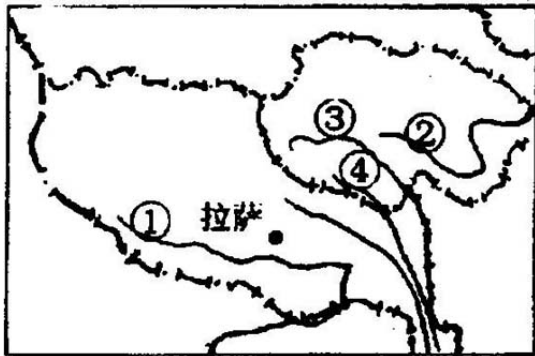
(1) 自然带 是_____，该自然带没有延伸到大陆东海岸的原因是_____。

(2) 自然带 的动物有随季节迁徙的特点，大致是()

- A. 一月往北迁
- B. 冬季往南迁
- C. 七月往北迁
- D. 夏季往南迁

(3) 三海域盐度由低到高的排序是

35. 读右图，回答：(6分)



(1) 2000年8月19日，我国面积最大的自然保护区三江源自然保护区正式成立。图中 为三江之一的 _____ 江，建立该自然保护区的最主要目的是 _____。

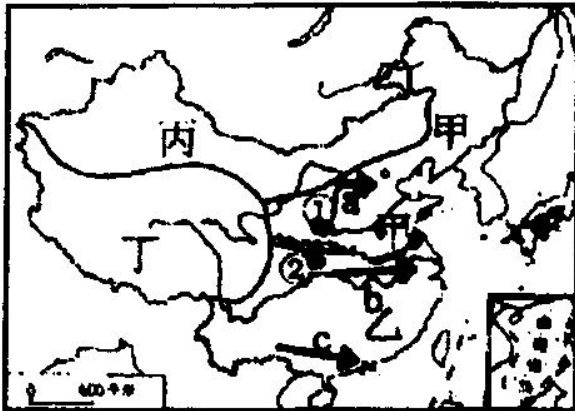
(2) 图中河流 南部巨大的山脉形成于()

- A. 原始生命萌芽时代
- B. 蕨类植物时代
- C. 恐龙时代
- D. 被子植物大发展时代

(3) 我国青藏高原农区青稞高产的主要原因是 _____。

(4) 青藏高原上太阳辐射强，太阳能资源丰富，为什么气温不高? _____。

36. 读“中国分区图”，回答下列问题：(7分)



(1) 形成甲、乙两区自然地理条件差异的主要因素是_____。

(2) 丙区的自然景观与甲、乙两区截然不同的主要原因是_____。

(3) 地点 一月份平均气温有可能为()

- A. 18 B. 5 C. -6 D. -28

(4) 地点 多年平均降水量有可能为()

- A. 875mm B. 733mm C. 422mm D. 255mm

(5) a、b、c 表示我国西电东输三大通道，下列各组电站分别属于 a、b、c 三条输电线路的是()

- A. 大同、葛洲坝、天生桥
B. 二滩、龚嘴、刘家峡