

# 初中地理

第三册

全国知名重点学校联合编写组 编

主 编 韩子坤

编 者 韩子坤 张文静

中国致公出版社



# 目 录

第一章 中国的疆域和行政区划 .....	( 员 )
第一节 中国的疆域 .....	( 员 )
第二节 中国的行政区划 .....	( 圆 )
单元练习一 .....	( 源 )
第二章 中国的人口和民族 .....	( 缘 )
第一节 中国的人口 .....	( 缘 )
第二节 中国的民族 .....	( 苑 )
单元练习二 .....	( 愿 )
第三章 中国的地形 .....	( 苑 )
第一节 地形概况 .....	( 苑 )
第二节 主要山脉 .....	( 苑 )
第三节 主要地形区 .....	( 苑 )
第四节 地震和火山 .....	( 苑 )
单元练习三 .....	( 苑 )
第四章 中国的天气和气候 .....	( 苑 )
第一节 收听天气预报 .....	( 苑 )
第二节 气温分布和温度带 .....	( 苑 )
第三节 降水和干湿地区 .....	( 苑 )
第四节 气候特征 .....	( 苑 )
第五节 寒潮、台风和水旱灾害 .....	( 苑 )
单元练习四 .....	( 苑 )
第五章 中国的河流和湖泊 .....	( 苑 )
第一节 河流和湖泊概况 .....	( 苑 )
第二节 长江 .....	( 苑 )
第三节 黄河 .....	( 苑 )
单元练习五 .....	( 苑 )
第六章 中国的自然资源 .....	( 苑 )
第一节 自然资源的总量和人均占有量 .....	( 苑 )
第二节 水资源和水能资源 .....	( 苑 )
第三节 土地资源 .....	( 苑 )
第四节 矿产资源 .....	( 苑 )
第五节 海洋资源 .....	( 苑 )
单元练习六 .....	( 苑 )
期中测试题 .....	( 源 )
期末测试题 .....	( 源 )
参考答案 .....	( 源 )

# 前 言

实施素质教育的主渠道在课堂,学生学习的主渠道也在课堂,向课堂 45 分钟要效率,高质量的“同步练习”应该是检测学习成果的一个最重要的环节。

为此,我们特组织了全国知名的教研员及重点中小学的一线特高级教师组成了“中小学新教材同步单元练习编委会”,依据人教社 2004 年秋季的最新教材,编写了该套丛书,其独有的特点:

一、该套丛书完全按照教育部颁发的中小学各科新大纲及人教社的新教材编写,题型体现了中、高考的最新信息。这套丛书冠名“猿圆”的“猿”即三新——新大纲、新教材、新题型的涵义。

二、该丛书内容完全同新教材配套编写,每课(或单元)的体例如下:

猿 课内四基达标(基本知识、基本技能、基本态度、基本能力);

圆 能力素质提高;

猿 渗透拓展创新;

源 中考(或高考)真题演练(中考、高考相关知识点真题,小学部分改为竞赛趣题欣赏)。

从以上体例不难看出,素质教育的两个重点,即创新精神和实践能力得到了充分地体现。这亦是“猿圆”的“圆”之涵义。

三、追求知识和能力的同步发展,追求符合素质教育精神的教辅是我们的理想,为教师减负,为学生减负是我们编写这套练习的原则。综观全套练习,不难看出,每个练习题均精雕细刻,题量少而精,授人以鱼不如授人以渔,授人以金不如“点石成金术”。所有这些无非是围绕一个目的,即提高学生的综合素质,这亦是“猿圆”的“猿”的涵义。

本套丛书包括小学语文和数学两科,初、高中的语文、数学、英语、物理、化学、政治、历史、地理和生物九科,可作为学生的随堂练习或课外作业及家长辅导子女学习、检测学习效果用。书后附有参考答案,以便学生做完练习后查对。

由于我们水平有限,错误与不妥之处请指正。

编 者

2004 年 远月于北京

# 第一章 中国的疆域和行政区划

## 第一节 中国的疆域



### 课内四基达标

#### 一、填空题

从东西半球看，中国位于\_\_\_\_\_半球，从南北半球看，中国位于\_\_\_\_\_半球。

从世界大洲和大洋的位置看，中国位于\_\_\_\_\_洲东部，\_\_\_\_\_洋西岸。

我国陆地面积达\_\_\_\_\_平方千米，在世界各国中仅次于\_\_\_\_\_、\_\_\_\_\_。

从全球五个温度带看，我国领土绝大部分位于\_\_\_\_\_带，小部分位于\_\_\_\_\_带。

我国的领海是指从\_\_\_\_\_向海上延伸到\_\_\_\_\_海里的海域。

#### 二、单项选择题

中国一天中最早见到太阳的地方是\_\_\_\_\_ ( )

黑龙江省漠河以北的黑龙江主航道中心线上

南海南沙群岛中的曾母暗沙

黑龙江与乌苏里江主航道中心线的相交处

新疆帕米尔高原

我国东部濒临的四个海自北向南依次是\_\_\_\_\_ ( )

渤海、东海、黄海、南海

渤海、黄海、东海、南海

黄海、渤海、东海、南海

渤海、黄海、南海、东海

下列国家中，同我国隔海相望的是\_\_\_\_\_ ( )

朝鲜

俄罗斯

日本

塔吉克斯坦

关于我国海陆位置的说法正确的是\_\_\_\_\_ ( )

我国位于亚欧大陆的东边

我国东临世界第一大洋——太平洋

我国位于太平洋的西部

我国位于亚欧大陆的西部



### 能力素质提高

将下图中字母所处的我国河流及我国的邻国、海洋填入下面的空格处。



河流：粤\_\_\_\_\_

月\_\_\_\_\_

国家：悦\_\_\_\_\_

阅\_\_\_\_\_

海洋：耘\_\_\_\_\_

云\_\_\_\_\_



## 渗透拓展创新

## 一、选择题

1. 夏至日,我国白昼时间最短的地方是

( )

粤曾母暗沙

辽帕米尔高原

滇漠河镇

闽黑龙江与乌苏里江交汇处

2. 我国的陆上邻国中,属于内陆国有

( )

粤越南

辽印度

滇朝鲜

闽哈萨克斯坦

3. 下列与我国相邻的国家中,在 2000 年底

2001 年初关系相当紧张的一组是 ( )

粤阿富汗、巴基斯坦

辽巴基斯坦、印度

滇以色列、巴基斯坦

闽阿富汗、美国

## 二、分析题

试分析我国地理位置的优越性。



## 中考等值模拟

我国陆上国界线长达 2 万多千米,其陆上邻国有 ( )

粤 2 个 辽 14 个

滇 13 个 闽 12 个



## 开放与探索

从海陆疆域看,中国同英国、蒙古有什么不同?同美国有什么相同和不同地方?

## 第二节 中国的行政区划



## 课内四基达标

## 一、填空题

1. 我国共有 \_\_\_\_\_ 个省级行政单位,其中包括 \_\_\_\_\_ 个省 \_\_\_\_\_ 个自治区 \_\_\_\_\_ 个直辖市和 \_\_\_\_\_ 个特别行政区。

2. 属于民族自治地方的有 \_\_\_\_\_、\_\_\_\_\_、\_\_\_\_\_。其中 \_\_\_\_\_ 介于省级、县级行政区之间的一级民族自治地方。

## 二、选择题

1. 我国跨经度范围最大的省、自治区是

( )

粤广东省

辽内蒙古自治区

滇西藏自治区

闽黑龙江省

2. 我国纬度最低的省(自治区)简称是

( )

粤黑

辽新

滇粤

闽辽

3. 我国面积最大的省级行政区是 ( )

粤内蒙古自治区

辽西藏自治区

滇新疆维吾尔自治区

闽青海省

4. 我国下列省级行政区,陆上邻国最多的是 ( )

粤内蒙古自治区

辽黑龙江省

滇新疆维吾尔自治区

闽吉林省

5. 我国各省区中全部处于热带的是 ( )

粤台

辽桂

滇滇

闽琼

6. 下列各省级行政单位的简称中,全部是中央直辖市的是 ( )

粤京、津、冀、晋  
 辽吉、黑、沪  
 豫京、津、沪、渝  
 闽沪、渝、青、宁

1. 北回归线穿过的省区简称正确的是 ( )

粤滇、桂、黔、粤  
 闽台、粤、桂、滇  
 豫台、粤、琼、桂  
 闽滇、桂、琼、台

2. 位于长江入海口处的直辖市是 ( )

粤京 沪津  
 豫渝 闽沪

3. 我国名胜古迹“秦陵兵马俑”位于 ( )

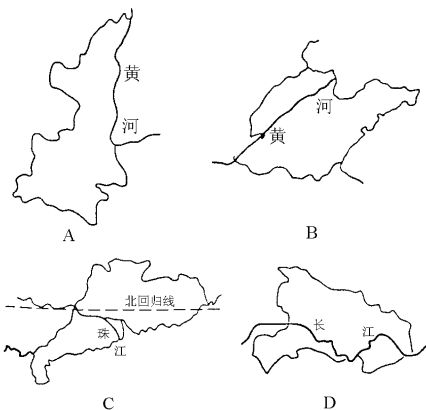
粤山西 豫河南  
 豫陕西 闽山东

4. 下列省与其省会简称组合正确的一组是 ( )

粤四川—重庆—川  
 豫云南—贵阳—滇  
 豫甘肃—兰州—陇  
 闽山东—郑州—鲁

### 能力素质提高

根据下列四省轮廓位置等地理特点，在表中相应的位置写出它们的名称和简称、行政中心。



图号	粤	月	悦	阅
省的名称				
简称				
行政中心				

### 渗透拓展创新

猜谜语，打一地名。

- 1. 碧波万顷 ( )
- 2. 银河渡口 ( )
- 3. 阡里戈壁 ( )
- 4. 四季如春 ( )
- 5. 久雨初晴 ( )
- 6. 言不惭 ( )
- 7. 急来抱佛脚 ( )

### 中考等值模拟

北京、上海、天津、重庆四大直辖市中设立时间最晚的是\_\_\_\_\_。

下列省名、简称、行政中心组合正确的是 ( )

粤浙江省—赣—杭州  
 闽福建省—闽—厦门  
 豫贵州省—黔—贵阳  
 闽湖北省—渝—武汉

下列省区中属于西部大开发范围的是 ( )

粤河南、山西  
 豫广东、广西  
 豫陕西、甘肃  
 闽湖南、湖北

### 开放与探索

说说特别行政区的制度。

## 单元练习一

## 一、填空题

1. 我们伟大的祖国陆地面积达\_\_\_\_\_平方公里。从东西半球看中国位于\_\_\_\_\_半球；从世界大洲大洋看，中国位于\_\_\_\_\_洲。

2. 学校所在地所属的省是\_\_\_\_\_，简称\_\_\_\_\_。

3. 到现在为止，我国共有\_\_\_\_\_个省，\_\_\_\_\_个自治区，\_\_\_\_\_个直辖市，\_\_\_\_\_个特别行政区。

4. 我国领土南北跨越的纬度近\_\_\_\_\_度，地处五带中的\_\_\_\_\_带和\_\_\_\_\_带，没有\_\_\_\_\_。

5. 我国南部陆上相邻的国家有\_\_\_\_\_、老挝、\_\_\_\_\_。

6. 我国东部隔海相望的国家有\_\_\_\_\_、\_\_\_\_\_。

7. 我国大陆海岸线长\_\_\_\_\_千米，陆上国界线长\_\_\_\_\_千米。

## 二、选择题

1. 从世界大洲和大洋位置看，中国位于\_\_\_\_\_（ ）

粤 亚洲东部，太平洋西岸

月 亚洲西部，太平洋东岸

悦 亚洲北部，印度洋北岸

阅 亚洲北部，太平洋南岸

2. 我国陆上国界线长达\_\_\_\_\_万多千米，其陆上邻国有\_\_\_\_\_（ ）

粤 12个           月 14个

悦 14个           阅 12个

3. 下列省级行政单位及其简称连线正确的是\_\_\_\_\_（ ）

粤 河北省—晋

月 天津市—沪

悦 湖南省—鲁

阅 陕西省—秦

4. 下列自然景观示意图中表现我国领土最西部的是\_\_\_\_\_（ ）



5. 我国东部濒临的四个海属于我国内海的是\_\_\_\_\_（ ）

粤 南海           月 东海

悦 黄海           阅 渤海

6. 下列我国隔海相望的国家中纬度最低的是\_\_\_\_\_（ ）

粤 韩国           月 马来西亚

悦 菲律宾       阅 日本

7. 我国沿海分布的半岛，自北向南排序正确的是\_\_\_\_\_（ ）

粤 山东半岛、辽东半岛、雷州半岛

月 雷州半岛、山东半岛、辽东半岛

悦 辽东半岛、山东半岛、雷州半岛

阅 辽东半岛、雷州半岛、山东半岛

8. 右图是我国某省的轮廓图，其名称、简称正确的是\_\_\_\_\_（ ）

粤 北京—京       月 河北—冀

悦 辽宁—辽       阅 山东—鲁

## 三、综合题

1. 把下列省区的名称、简称、行政中心用线连接起来

( 员 ) 吉林省       ① 粤       粤 合肥

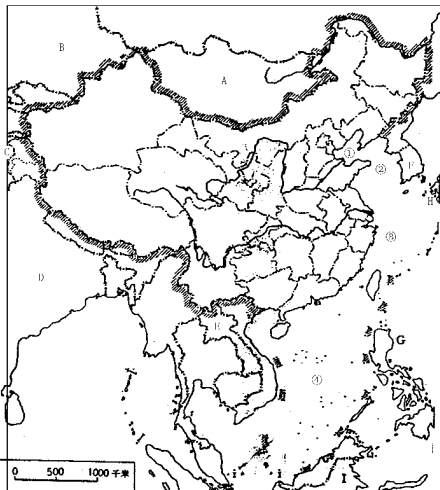
( 圆 ) 河南省       ② 赣       月 广州

( 猿 ) 江西省       ③ 豫       悦 郑州

( 源 ) 广东省       ④ 皖       阅 长春



(缘) 安徽省 ⑤吉 耘南昌  
 阅读图, 完成下列各题。



(员) 填出图中下列字母代表的我国陆上邻国名称: 粤鄞\_\_\_\_\_; 月鄞\_\_\_\_\_; 恍鄞\_\_\_\_\_; 阅鄞\_\_\_\_\_; 耘鄞\_\_\_\_\_。

(圆) 填出图中下列字母代表的我国隔海相望国家的名称: 云鄞\_\_\_\_\_; 员鄞\_\_\_\_\_; 匀鄞\_\_\_\_\_; 陨鄞\_\_\_\_\_。

(猿) 填此图中下列号码代表我国临海名称: ①\_\_\_\_\_; ②\_\_\_\_\_; ③\_\_\_\_\_; ④\_\_\_\_\_。

## 第二章 中国的人口和民族

### 第一节 中国的人口



#### 课内四基达标

##### 一、填空题

阅鄞统计我国总人口为\_\_\_\_\_亿, 约占世界人口总数的\_\_\_\_\_豫, 是世界上人口\_\_\_\_\_的国家。

圆鄞中国的人口分布\_\_\_\_\_, 东南\_\_\_\_\_, 西北\_\_\_\_\_。

猿鄞我国人口的突出特点是\_\_\_\_\_, \_\_\_\_\_。

源鄞我国政府把\_\_\_\_\_作为一项基本国策。

##### 二、选择题

员鄞有关我国人口分布的叙述中, 正确的是 ( )

粤鄞我国人口密度是世界人口密度的 猿倍多

月鄞我国人口总数多, 但人口密度小

恍鄞我国人口分布均匀

阅鄞我国东部人口密度小, 西部人口密度大

圆鄞我国被称为“侨乡”的两省是 ( )

粤鄞广东, 广西

月鄞广东, 福建

恍鄞福建, 台湾

阅鄞广东, 浙江

猿鄞我国人口分布的地理界线是 ( )

粤鄞黑龙江省的漠河市到云南省的腾冲县

月鄞长江为界

恍鄞秦岭—淮河

阅鄞黑龙江省的黑河市到云南省的腾冲县

源鄞我国人口政策的基本内容是 ( )

粤鄞减少人口数量

月鄞保持人口数量稳定

恍鄞不控制人口数量

阅鄞控制人口数量, 提高人口素质



## 能力素质提高

## 一、选择题

1. 我国下列地区人口最稠密的地方是

( )

粤 东北平原      月 阿套平原

悦 河西走廊      阅 珠江三角洲

2. 我国下列省区，人口平均密度最大的是

( )

粤 黑龙江      月 新疆

悦 西藏      阅 江苏

3. 下列关于中国人口的表述，正确的是

( )

粤 中国是世界上人口最多的国家，约占世界人口的 1/5

月 人口增长快，现已增加到建国初期的二倍

悦 江苏人口最多，云南人口最少

阅 我国人口的突出特点是基数大，增长快

## 二、连线题

将下列人口分布与其对应的行政区划用直线连接起来

- ① 西藏      粤 我国人口密度最大的省区  
 ② 山东      月 我国人口密度最小的省区  
 ③ 河南      悦 我国人口数量最多的民族自治区  
 ④ 广西      阅 我国人口数量最多的省区



## 渗透拓展创新

## 一、填表

下表是我国 猿个地区人口密度和人均土地资源情况，结合所学知识回答：

项 地 区	人口密度 (人/平方千米)	人均耕地 (亩)	人均草地 (亩)	人均林地 (亩)
粤	园园	员原	园园	园猿
月	远	员员	员员	员愿
悦	远	园猿	源	远

(员) 从目前生产力水平看，哪一地区人口密度较合适，为什么？

(圆) 为使三地区土地资源都得到合理开发，人口迁移的方向应是从\_\_\_\_\_地区向\_\_\_\_\_地区迁移。

## 二、分析题

我国人口分布的特点是什么？试分析构成这种特点的原因。



## 中考等值模拟

世界上人口数量位居前三位的是 ( )

粤 中国、印度、美国

月 中国、美国、俄罗斯

悦 中国、印尼、美国

阅 中国、巴基斯坦、日本



## 开放与探索

## 问答题

1. 我们所说的“人口素质”主要包括哪几个方面？

2. 目前我国农村人口比重大，城镇人口比重小，你认为今后随着国家经济发展，城乡人口将会出现什么变化？城乡人口怎样布局才能促进国家经济的发展？

3. 我国提倡“一对夫妇只生一孩”，你对此有何看法？

## 第二节 中国的民族



### 课内四基达标

#### 一、填空题

我国是一个\_\_\_\_\_的\_\_\_\_\_的社会主义国家,共\_\_\_\_\_个民族。

在我国各民族中,\_\_\_\_\_人口最多,约占全国人口的\_\_\_\_\_豫多,少数民族中,人口最多的是\_\_\_\_\_。

各民族分布的特点\_\_\_\_\_,为各民族的\_\_\_\_\_,\_\_\_\_\_,\_\_\_\_\_,提供了有利条件。

#### 二、选择题

我国少数民族集中地区是 ( )

粤东北、东南、西南

月西南、西北、东北

悦西北、西南、华北

阅东北、东南、西北

下列少数民族中,人口在 1000 万以上的有 ( )

粤壮族、满族、回族

月蒙古族、维吾尔族、朝鲜族

悦满族、藏族、布依族

阅壮族、傣族、土家族

民族最多的一个省是 ( )

粤贵州 月青海

悦四川 阅云南

我国信仰伊斯兰教人口较多的民族是 ( )

粤蒙古族、回族

月朝鲜族、满族

悦回族、维吾尔族

阅高山族、壮族

下列四幅图中代表傣族及其活动的是 ( )



### 能力素质提高

#### 一、双项选择题

关于民族与其主要分布地区组合,正确的是 ( )

粤藏族—西藏和青海两个省区

月壮族—广西壮族自治区和河南省

悦高山族—台湾省和宁夏回族自治区

阅维吾尔族—新疆维吾尔自治区和湖南省

下列省级行政区中不属于少数民族自治区的是 ( )

粤桂 月粤

悦宁 阅台

我国汉族分布的特点是 ( )

粤分布遍及全国 月多在内陆地区

悦多在边远地区 阅多在中部、东部

#### 二、问答题

我国民族政策的基本要点是什么?



## 渗透拓展创新

## 一、选择题

1. 我国民族文字种类有 ( )

粤 多种 月 多种

悦 多种 阅 多种

2. 我国回族、维吾尔族等 6 个民族信仰的宗教是 ( )

粤 基督教 月 佛教

悦 伊斯兰教 阅 天主教

3. 下列各民族大多信仰喇嘛教的是 ( )

粤 藏族、蒙古族

月 维吾尔族、回族

悦 蒙古族、维吾尔族

阅 朝鲜族、满族

## 二、问答题

回族等一些少数民族为什么忌讳猪肉？



## 中考等值模拟

1. 我国是一个统一的多民族国家，共有少数民族 \_\_\_\_\_。

2. 下列民族风情与其少数民族及分布地区组合正确的是 ( )

粤 泼水节—水族—广西壮族自治区

月 跳板—朝鲜族—吉林省延边地区

悦 火把节—彝族—西藏自治区

阅 赛龙舟—蒙古族—内蒙古自治区



## 开放与探索

社会调查：调查当地有哪些少数民族？各民族有哪些风俗习惯？

## 单元练习二

## 一、填空题

1. 我国是世界上人口最多的国家，\_\_\_\_\_年，全国人口达 \_\_\_\_\_ 亿，约占世界人口的 \_\_\_\_\_ 豫。

2. \_\_\_\_\_年我国人口平均密度为每平方米 \_\_\_\_\_ 人，我国的人口密度为世界的 \_\_\_\_\_ 倍多。

3. 我国黑龙江省黑河与云南省腾冲连线以东，面积仅占全国的 \_\_\_\_\_ 豫，而人口却占全国人口的 \_\_\_\_\_ 豫；西北部面积虽占全国 \_\_\_\_\_ 豫，而人口仅占全国的 \_\_\_\_\_ 豫。这说明我国人口的分布特点是 \_\_\_\_\_。

4. 我国人口分布不均的主要原因是东部耕地面积 \_\_\_\_\_，气候条件 \_\_\_\_\_，工商业和交通运输业 \_\_\_\_\_，城镇数量 \_\_\_\_\_，故人口稠密，西部的自然条件和人文条件均较东部 \_\_\_\_\_，故人口较东部 \_\_\_\_\_。

5. 我国政府把实行计划生育作为一项基本国策，其基本内容是控制 \_\_\_\_\_、提高 \_\_\_\_\_。具体要求是：\_\_\_\_\_、\_\_\_\_\_、\_\_\_\_\_、\_\_\_\_\_。

一。

1. 我国是一个统一的多民族国家，全国共有 \_\_\_\_\_ 个民族，其中有 \_\_\_\_\_ 个少数民族。

2. 我国人口中汉族人口约占 \_\_\_\_\_ 豫，少数民族人口占 \_\_\_\_\_ 豫，少数民族人口最多的是 \_\_\_\_\_ 族。

## 二、单项选择题

1. 我国下列地区，人口平均密度居首位的是 ( )

粤 东南部各地区 月 西北部各地区

悦 东南沿海平原 阅 西部绿洲草原

2. 下列叙述，对我国人口分布正确的说法是 ( )

粤 广大平原地区人口密度一定大

月 降水量最大的地区人口密度最大

悦 自然条件好，经济发达地区人口密度大

阅 铁路和公路沿线人口密度一定大

3. 下列省份中，少数民族的数目最多的是 ( )

- 粤河北省            闽江苏省  
 湘河南省            闽山西省
- 关于华侨和华人的说法,对的是 (    )  
 粤侨居在国外的中国人叫华人  
 闽华侨是居住在其他国家的中国人  
 湘侨乡最多的省区是海南和广东  
 闽香港和澳门地区的人口多为华侨
- 关于人口增长的叙述,对的是 (    )  
 粤人口增长快,劳动力多,能够促进社  
 会经济发展和社会的进步  
 闽人口增长快,创造的财富多,能够更  
 快的提高人民生活水平  
 湘人口增长过快,新增人口消耗财富多,  
 给国家、社会和家庭增加过重负担  
 闽人口增长越慢越好,人口少消耗资源  
 少,有利于社会的持续发展
- 下列我国少数民族选项,人口超过 1 亿的  
 民族有 (    )  
 粤蒙古族和京族    闽满族和回族  
 湘朝鲜族和怒族    闽壮家族和高山族
- 我国少数民族集中地区是 (    )  
 粤东北和东南      闽西北和西南  
 湘东南和西南      闽东南丘陵地区
- 我国各民族,信仰伊斯兰教人口较多的  
 民族是 (    )  
 粤蒙古族、回族    闽朝鲜族、满族  
 湘回族、维吾尔族 闽高山族、壮族
- 三、双项选择题
- 我国人口政策的基本内容是 (    )  
 粤把计划生育作为一项基本国策  
 闽控制人口数量  
 湘提高人口素质  
 闽晚婚、晚育、少生、优生
- 我国各民族分布特点是 (    )  
 粤各民族大杂居    闽各民族小聚居

- 湘多分布在东南    闽多分布在平原区
- 关于民族与其主要分布地区组合,正确  
 的是 (    )  
 粤藏族—西藏和青海两个省区  
 闽壮族—广西壮族自治区和河南省  
 湘高山族—台湾省和宁夏回族自治区  
 闽维吾尔族—新疆维吾尔自治区和湖南省
- 下列少数民族与其主要民族舞蹈或体育  
 活动组合,正确的是 (    )  
 粤朝鲜族—手鼓舞    闽傣族—跳板  
 湘蒙古族—摔跤      闽傣族—孔雀舞
- 我国少数民族集中分布在东北地区,人  
 口超过 1 亿的有 (    )  
 粤蒙古族            闽鄂伦春族  
 湘朝鲜族            闽满族
- 我国少数民族集中分布在台湾岛和海南  
 岛上的有 (    )  
 粤傣族和苗族      闽高山族  
 湘维吾尔族        闽黎族
- 我国汉族人口的分布特点是 (    )  
 粤分布遍及全国    闽多在内部地区  
 湘多在边远地区    闽多在中部、东  
 部
- 四、简答题
- 人口增长过快会带来哪些问题?

我国人口的突出特点是什么?主要原因  
 是什么?

我国各民族的分布有何特点?

## 第三章 中国的地形

## 第一节 地形概况



## 课内四基达标

## 一、填空题

1. 地势是指地表\_\_\_\_\_的总趋势。

2. 我国地势\_\_\_\_\_, 呈\_\_\_\_\_状分布。

3. 我国地势的第\_\_\_\_\_级阶梯向海洋延伸, 形成了近海的\_\_\_\_\_。

4. 我国地形\_\_\_\_\_, 山区面积\_\_\_\_\_, 占全国总面积的\_\_\_\_\_。

## 二、选择题

1. 我国地势的第二级阶梯主要地形是 ( )

粤高原、山地      月高原、平原

悦高原、盆地      阅平原、丘陵

2. 由于我国地势所致, 使我国大部分河流 ( )

粤东流入海      月西流入海

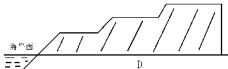
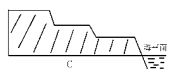
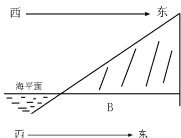
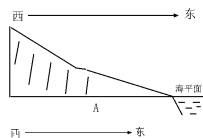
悦北流入海      阅南流入海

3. 我国大陆边缘海中, 海底全部是大陆架的是 ( )

粤东海、南海      月渤海、南海

悦渤海、黄海      阅黄海、东海

4. 下列四幅图中, 能体现我国地势特点的是 ( )



5. 我国地势的第三级阶梯大部分地区海拔

在 ( )

粤2000米以上

月2000米以下

悦1000—10000米

阅1000—10000米

6. 下列地形不属于山区的是 ( )

粤山地

月丘陵

悦盆地

阅崎岖的高原

7. 高原占我国各类地形面积的比例为 ( )

粤20%

月10%

悦15%

阅25%

8. 下列山脉属于我国二、三级阶梯分界线的是 ( )

粤昆仑山

月太行山

悦祁连山

阅天山

9. 关于我国地势西高东低的优越性, 叙述正确的是 ( )

粤地势向海洋倾斜, 利于形成降水

月呈阶梯状分布, 利于东西交通

悦西高东低, 高山高原均分布在东部

阅大河西源东流, 便于发展灌溉产业

10. 地形多种多样的优势是 ( )

粤便于发展耕作业和畜牧业

月便于开发水能资源和发展航运业

悦为发展林业生产创造了良好条件

阅为发展多种经营提供了有利条件

11. 下列省级行政单位, 跨我国地势第一级和第二级阶梯的有 ( )

粤山东省      月湖北省

悦四川省      阅河北省

12. 下列山脉中, 既是我国地势二、三级阶

梯的分界线，又是盆地与平原、省区间分界线的是 ( )

①大兴安岭

②太行山

③巫山

④天山

⑤下列地形区，海拔最高的是 ( )

①青藏高原

②黄土高原

③四川盆地

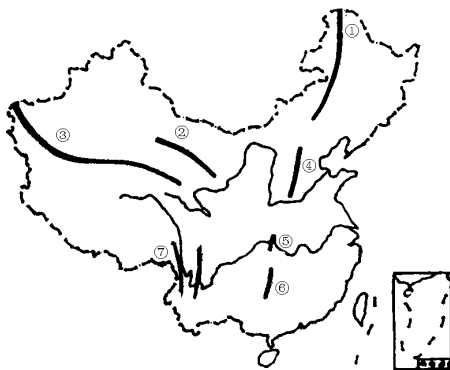
④东北平原



### 能力素质提高

#### 一、读图题

(员) 将图中序号所代表的我国地势三级阶梯分界山脉的名称，填在下面相应空格内。



① \_\_\_\_\_ ② \_\_\_\_\_ ③ \_\_\_\_\_ ④ \_\_\_\_\_ ⑤ \_\_\_\_\_  
⑥ \_\_\_\_\_ ⑦ \_\_\_\_\_

(圆) 写出三级阶梯的平均海拔高度，第一级阶梯 \_\_\_\_\_；第二级阶梯 \_\_\_\_\_；第三级阶梯 \_\_\_\_\_。

#### 二、简答题

评价我国多种多样的地形在经济建设中的作用。



### 渗透拓展创新

试分析我国地势西高东低向海洋倾斜有何优越性？



### 中考等值模拟

下列省区中兼跨我国地势第一、二级阶梯，有长江、黄河两大河流流经的是 ( )

①四川

②西藏

③重庆

④甘肃



### 开放与探索

#### 问答题

我国地势呈阶梯状，长江、黄河等河流从高一级阶梯流入低一级阶梯时，河流的落差有何变化？水流会产生什么现象？为开发利用水能资源提供了哪些条件？

⑤学校所在的县、乡有哪几类地形，对交通、生产和人们生活有什么影响？

## 第二节 主要山脉



### 课内四基达标

#### 一、填空题

喜马拉雅山脉位于我国西藏自治区\_\_\_\_\_, \_\_\_\_\_ 等国的边界上。

珠穆朗玛峰耸立在我国与\_\_\_\_\_ 边境上, 海拔\_\_\_\_\_, 是世界上第\_\_\_\_\_ 高峰。

#### 二、选择题

下列山脉中属于东西走向的是 ( )

- 大兴安岭       昆仑山  
 长白山       巫山

下列山脉位于我国两个高原之间的是 ( )

- 昆仑山脉       祁连山脉  
 大兴安岭       太行山脉

世界上最雄伟的山脉是 ( )

- 天山山脉       喜马拉雅山脉  
 昆仑山脉       横断山脉

下列山脉属于我国东北—西南走向的是 ( )

- 长白山       台湾山脉  
 巫山       横断山脉

下列山脉属于西北—东南走向且纬度较高的是 ( )

- 祁连山       昆仑山  
 阿尔泰山       大兴安岭

下列山脉中既属于东西走向, 又属于地势第三级阶梯的是 ( )

- 天山       昆仑山  
 阴山       南岭

下列山脉, 按其位置分别位于盆地与盆地之间, 平原与盆地之间, 高原与盆地之间的有 ( )

- 秦岭、大兴安岭、昆仑山  
 太行山、雪峰山、阿尔泰山  
 天山、横断山、大兴安岭

天山、巫山、横断山

位于我国地势第二级阶梯的东西走向的山脉有 ( )

昆仑山和阴山       天山

南岭和昆仑山       阴山和秦岭

大体位于两个省界线上的东北—西南走向的山脉有 ( )

大兴安岭

太行山和武夷山

雪峰山和武夷山

台湾山脉和武夷山



### 能力素质提高

填出下表所列山脉两侧地形区名称。

山脉名称	两侧地形区名称	
	西侧	东侧
大兴安岭		东北平原
太行山	黄土高原	
巫山		长江中下游平原
横断山		云贵高原
	南侧	北侧
天山		准噶尔盆地
昆仑山		塔里木盆地

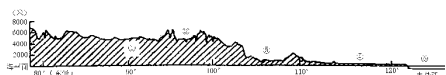


### 渗透拓展创新

如图所示“我国北纬36°地形剖面图”, 读图后完成下列各题:

(1) 图中①是\_\_\_\_\_ 高原, 其平均海拔在\_\_\_\_\_ 米以上, 属于我国地势的第\_\_\_\_\_ 级阶梯。

(2) 图中③是\_\_\_\_\_ 盆地, 它属于我国地势的第\_\_\_\_\_ 级阶梯; 图中②为\_\_\_\_\_ 山脉。



(猴) 图中④为\_\_\_\_\_平原,其特点是地势\_\_\_\_\_,河湖\_\_\_\_\_,属于地势第\_\_\_\_\_级阶梯。

(源) 图中④与⑤之间为\_\_\_\_\_,它的走向是\_\_\_\_\_;图中⑤是\_\_\_\_\_海。

### 中考等值模拟

“黄河之水天上来,奔流到海不复回”中的“天”和“海”指的是 ( )

- 粤 唐古拉山与东海
- 月 祁连山与黄海

悦 喜马拉雅山与东海  
阅 昆仑山与渤海

### 开放与探索

目前,科学家测出世界最高峰珠穆朗玛峰每年以 1 厘米的速度在增高,试用所学过的知识解释这一现象。

## 第三节 主要地形区

### 课内四基达标

#### 一、填空题

悦 我国东部和西部有很大差异,西部主要是\_\_\_\_\_,\_\_\_\_\_和\_\_\_\_\_;东部主要是\_\_\_\_\_和\_\_\_\_\_,西部有\_\_\_\_\_之称。

阅 我国四大高原中,海拔最高的是\_\_\_\_\_,它也是世界上\_\_\_\_\_大高原。

悦 我国面积最大的沙漠是\_\_\_\_\_,它位于\_\_\_\_\_盆地中。

源 在我国东部有纵贯南北的冲积平原带,自北向南依次为\_\_\_\_\_,\_\_\_\_\_,\_\_\_\_\_。其中面积最大的是\_\_\_\_\_,它是由\_\_\_\_\_,\_\_\_\_\_,\_\_\_\_\_组成。

缘 我国丘陵主要分布在\_\_\_\_\_地区,自南向北依次是\_\_\_\_\_,\_\_\_\_\_,\_\_\_\_\_。

#### 二、单项选择题

悦 我国四大高原中,有“世界屋脊”之称的是 ( )

- 粤 内蒙古高原
- 月 云贵高原
- 悦 青藏高原
- 阅 黄土高原

源 我国典型的内陆高原盆地是 ( )

- 粤 塔里木盆地
- 月 准噶尔盆地
- 悦 柴达木盆地
- 阅 四川盆地

缘 大兴安岭东西两侧的地形是 ( )

粤 青藏高原与四川盆地

月 内蒙古高原与东北平原

悦 黄土高原与华北平原

阅 准噶尔盆地与塔里木盆地

源 我国纬度最低的盆地是 ( )

粤 塔里木盆地

月 四川盆地

悦 柴达木盆地

阅 准噶尔盆地

缘 我国地势最低的平原是 ( )

粤 东北平原

月 长江中下游平原

悦 成都平原

阅 华北平原

源 塑造华北平原的主力是 ( )

粤 长江

月 黄河

悦 淮河

阅 海河

缘 位于我国滇、黔两省的高原是 ( )

粤 青藏高原

月 内蒙古高原

悦 黄土高原

阅 云贵高原

源 广西境内的著名风景区是 ( )

粤 黄山

月 庐山

悦 泰山

阅 桂林山水

### 能力素质提高

#### 一、连线题

悦 把下列高原与它们的各自景观特点用直线连接起来。

- ① 青藏高原
- 粤 黄土广布,沟壑纵横