

新思维测评丛书

高二地理·试题全解全析



第一单元 人口与环境

第一节 人口再生产

一、单项选择题

1. 人口再生产的正确含义是 ()
 A. 出生人口多于死亡人口
 B. 出生人口少于死亡人口
 C. 出生人口等于死亡人口
 D. 出生人口与死亡人口相等
2. 决定人口再生产类型的是 ()
 A. 人口年龄结构
 B. 人口出生率
 C. 人口死亡率
 D. 人口出生率、死亡率和自然增长率
3. 2000年天津人口出生率是 10.5‰, 死亡率 6.5‰, 人口自然增长率为 4.0‰, 其人口再生产类型是 ()
 A. 原始型
 B. 传统型
 C. 过渡型
 D. 现代型
4. 在人口再生产类型转变过程中, 先转变的是 ()
 A. 出生率
 B. 死亡率
 C. 自然增长率
 D. 生育率
5. 人口再生产的根本原因是 ()
 A. 自然状况改善的结果
 B. 人类社会生产力水平的提高
 C. 出生率明显降低造成
 D. 两次社会大分工及现代科技进步
6. 下列有关人口再生产类型与所属国家的连线, 正确的一组是 ()
 A. 新西兰—过渡型
 B. 新加坡—现代型
 C. 古巴—传统型
 D. 澳大利亚—过渡型
7. 下列国家中人口出生率小于死亡率的是 ()
 A. 德国
 B. 匈牙利
 C. 澳大利亚
 D. 新西兰
 E. 美国
 F. 加拿大
 G. 古巴
 H. 乌拉圭
8. 下列关于人口再生产类型的地区分布的叙述, 正确的是 ()
 A. 目前发达国家人口再生产类型属于“现代型”
 B. 目前仍有部分发达国家或地区未完成人口再生产类型的转变
 C. 发展中国家人口再生产类型目前全部仍然属于“过渡型”
 D. 世界各地人口再生产类型的转变同步性
9. 关于我国人口再生产类型的叙述, 正确的是 ()
 A. 目前我国各地人口再生产的类型仍属于“过渡型”
 B. 与西方大多数国家相比, 我国人口再生产类型转变速度更快
 C. 北京人口再生产型为“现代型”, 上海仍为“过渡型”
 D. 我国城乡人口再生产类型的转变速度是一致的
10. 下列叙述, 正确的是 ()
 A. 发达国家医疗卫生水平高, 人口的死亡率低于发展中国家
 B. 尽管许多国家人口再生产类型相同, 但并不表明这些国家生产力发展水平相同
 C. 在相同的社会制度下人口再生产类型的转变具有同步性
 D. 随着老龄化人口比例上升, 人口的死亡率将进一步下降
11. 有关人口再生产的叙述, 正确的是 ()
 ①人口再生产是一种纯自然的生理现象
 ②广义的人口再生产是指人口数量的世代更替
 ③人口再生产既是人类世代延续繁生的自然现象, 又是人口发展的社会现象
 ④不同时期的人口再生产类型是与其社会生产力发展水平相适应的
 A. ②
 B. ③
 C. ④
 D. ①②③④
12. 下列人口再生产类型与其地区分布配伍, 正确的有 ()
 ①绝大多数发展中国家——原始型
 ②德国、芬兰——传统型

- ②环境污染与人口数量呈正比关系
- ③受教育程度越高,妇女生育水平往往越低
- ④随着科技的发展,人类已摆脱了自然环境的影响和作用

粤爱② 月爱③ 悦爱③ 阅爱④

下列关系式正确的有 ()

- ①科技水平→获取资源量→环境人口容量 ②人口文化→生活消费水平→环境人口容量
- ③科技水平←环境人口容量←资源获取量 ④人口文化←环境人口容量←生活消费水平

粤爱④ 月爱③ 悦爱④ 阅爱③

下列关于人口数量与环境关系的叙述,错误的是 ()

- ①人口增长与环境污染呈正比例关系,人口越多环境污染程度越高,反之就越轻
- ②要辩证地看待人口增长与环境的的关系,坚定地走可持续发展的道路
- ③人口增长无疑对环境恶化有一定的作用
- ④人口增长对环境的影响无疑是直接的

粤爱④ 月爱③ 悦爱② 阅爱④

人口数量变化对环境的影响,正确的是 ()

- ①从古到今,人口数量增长对环境的影响越来越大
- ②人类对资源环境带来的巨大压力,不是人口数量增多造成的
- ③人口数量增长是环境污染的唯一决定性因素
- ④不能忽视人口数量增长对环境恶化造成的直接或间接的影响

粤爱② 月爱④ 悦爱④ 阅爱③

二、综合题

读右图“接受教育程度统计我国15岁到19岁妇女生育的子女数(1995年)图”完成下列问题:

(1)从图中看出:

①_____妇女生育的子女数高于_____的妇女,随着妇女_____的提高,生育的子女数越来越少。

②_____、_____落后地区的妇女生育子女数高于居住在_____发达地区的妇女。

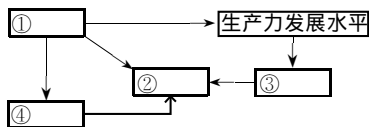
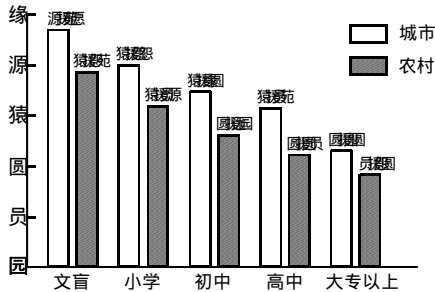
(2)从图中推理得出:

- ①_____环境因素对生育率的影响是极小的。
- ②_____发展水平、_____程度等社会环境因素对生育率的影响是很大的。

③提高居住在_____、_____和_____落后地区妇女的受_____程度是控制人口数量增长的当务之急。

将下列因素的代号按因果关系填入相应的表格

- 科技水平
- 获取资源量
- 环境人口容量
- 生活消费水平



第一单元 人口与环境

第四节 人口素质与环境

一、单项选择题

1. 影响人口身体素质的主要因素,叙述正确的是 ()
 粤原生环境 月次生环境 悦自然环境 阅社会经济因素
2. 关于人口科学文化素质对环境的影响,正确的是 ()
 粤不愿早生或多生子女是人口素质高的表现
 月耕多地方病的产生,是人口素质不高的体现
 悦多子多福是人口素质高的一种表现
 阅电信业发展使微波辐射加剧,是人口素质不高的表现
3. 关于原生环境因素对人口身体素质影响的是 ()
 粤臭氧空洞的出现,直接危害人类健康
 月台风过境,气流上升,利于大气污染物扩散而使空气污染减轻
 悦食品中的化学添加剂对人体健康的损害
 阅一些地方环境中缺乏硒,引起了大骨节痛
4. 有关人口身体健康的叙述,正确的是 ()
 粤人口身体素质指的是人口群体平均的身体健康状况
 月人口身体素质的好坏仅取决于遗传因素
 悦社会经济环境对人口身体健康的影响不大
 阅自然因素是影响人口身体健康的主要因素
5. 下列关于原生环境对人口身体健康的影响,正确的是 ()
 粤环境中硒缺乏产生地方病
 月原生环境就是指地形、气温、湿度、降水等自然环境因素,与人口的身体健康状况关系不大
 悦环境中的硒元素越多越好
 阅环境中硒异常当地人口易得地方性甲状腺肿大
6. 下列关于次生环境因素的叙述,错误的是 ()
 粤噪声和微波辐射污染属物理性环境污染
 月食品中的黄曲霉素有致癌致畸作用
 悦烟草燃烧时产生的烟雾中有致癌变作用
 阅生活垃圾、污水和粪便可使病菌、病毒、寄生虫卵对水体和土壤发生污染,属化学性污染
7. 一个地区环境质量的优劣,从根本上说主要取决于当地 ()
 粤环境保护工作资金投入得多少 月政府机构对环境的宣传程度
 悦人口科学文化素质的高低 阅原生自然条件的优劣
8. 下列现象由于人口科学文化素质低引起的 ()
 粤长江中游地区大力修建民垸,湖泊蓄洪量大减
 月日本神户人工岛
 悦1998年长江流域的暴雨
 阅俄罗斯的“和平号”空间站准备坠落在预定地点
9. 我国协调人类与环境关系的首要问题是 ()
 粤治理污染 月开发利用资源 悦控制人口增长 阅提高人口素质
10. 关于人口的科学文化素质对环境的影响,叙述正确的是 ()
 粤一个地区环境质量的好坏与当地人口数量无关,完全取决于人口科学文化素质的高低
 月随着科学的发展,资源利用范围越来越广,对资源和环境造成的破坏也越来越大
 悦人类可能以行为保护和改善环境,也可能对环境造成破坏
 阅不少先富的乡村大力兴建庙宇、陵墓,说明这些地区人口科学文化素质较高
11. 有关我国人口科学文化素质的正确叙述是 ()

- ①总体水平居发展中国家上游
- ②广大城乡公民都已接受过一定程度的科学文化教育
- ③位于东部的三大直辖市的人口科学文化素质较高
- ④提高国民素质的基础是普及九年义务教育

粤③ 月③ 悦④ 阅④

因素于次生环境对人口身体素质影响是

()

- ①一些食品中的污染和夹杂物对人体有致畸、致癌作用
- ②人体有极好的免疫力,次生环境的好与坏对身体素质影响不大
- ③交通和工业噪声,烟草燃烧等对身体素质有极大危害
- ④只要经济发展快,收入高,次生环境的好与坏对身体素质影响不大

粤② 月③ 悦④ 阅④

因素下叙述正确的是

()

- ①社会经济环境对人口身体素质无直接的影响
- ②自然环境因素从古至今都是影响人口身体素质的决定性因素
- ③社会制度、经济形式、文化传统等都是影响人口身体素质的主要因素
- ④人口身体素质主要取决于社会环境因素

粤④ 月④ 悦③ 阅③

因素人口科学文化素质的高低对环境质量的好坏起着重要的作用,下列叙述正确的是

()

- ①规定适当的“休渔期”有利于鱼类种群、数量的发展
- ②废物回收利用提高了资源的利用程度
- ③科技的发展将使人类对自然环境产生更大的破坏
- ④教育落后的地区,由于对自然规律认识不足,对自然资源的开发利用规模小,而有利于环境保护

粤③ 月② 悦③ 阅④

因素下列现象与人口科学文化素质高有关的是

()

- ①受教育程度高的地区多生多育成为普遍现象
- ③我国北方草原区有计划地退耕还牧
- ②首都北京申奥的“新北京”“新奥运”
- ④黄土高原植被破坏水土流失严重

粤② 月③ 悦④ 阅④

二、综合题

因素右图“人类发展和生产活动与环境质量下降的因果联系图”,回答下列问题:

(员)写出图中字母表示的含义:

粤生产规模_____,月对自然资源_____,悦生产活动_____,阅破坏_____。

(圆)图中反映出人类与环境向_____发展,表明人类同环境关系的_____。

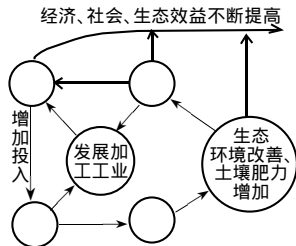
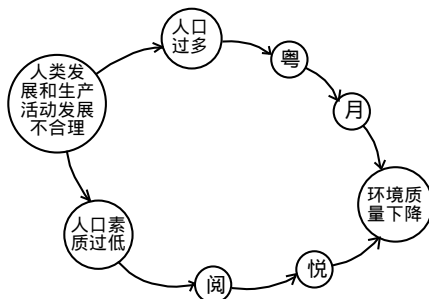
因素右图“水土流失严重山区良性转机制图”回答

(员)将不同涵义的字分别填入图中空白圈内

粤社会经济效益提高 月农林牧综合治理
悦水土流失减轻 阅粮食单产提高

(圆)上述各项中导致良性循环的关键是_____。

因素上述二题中可知在人口与环境的关系中,_____是主动的,可以以自身行为保持和改善环境,也可以对环境造成破坏,要促成入地关系的统一关键在于_____的提高。



第一单元 人口与环境

第五节 人口迁移与环境

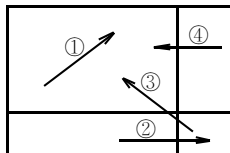
一、单项选择题

1. 下列不属于人口迁移定义中所包含的要素的是 ()

粤 空间位移 月 居住地变更 悦 时间限度 阅 旅游购物

2. 右图表示的行政区中不属于人口迁移的是 ()

粤 ① 月 ② 悦 ③ 阅 ④



3. 下列人口迁移的方向类型中是发达国家历史上和发展中国家当前人口迁移的主要类型的是 ()

粤 农村到农村 月 农村到城市
悦 城市到城市 阅 城市到农村

4. 对人口迁移经常起作用的因素是 ()

粤 资源开发 月 国家政策 悦 气候差异 阅 经济发展

5. 从古至今的人口迁移中,影响迁移的最根本因素是 ()

粤 经济因素 月 自然环境因素 悦 交通和通信因素 阅 政治因素

6. 下列属于人口迁移的是 ()

粤 四川某学生高中毕业考取上海某大学 月 五一期间外出旅游、观光
悦 游牧民的迁徙 阅 家庭在区内换新房

7. 对一个地区人口的变动不起作用的因素是 ()

粤 人口的迁移 月 人口的死亡 悦 人口出生 阅 探亲访友

8. 大庆、攀枝花等城市兴起吸引大量人口迁入的原因是 ()

粤 政策规定 月 经济发展迅速 悦 矿产资源的开发 阅 气候条件很好

9. 有关影响人口迁移因素的叙述,正确的是 ()

粤 自然因素历来不是影响人口迁移的主要因素
月 社会经济发展是影响人口迁移的主要、经常起作用的因素
悦 交通和通信的发展,加强了人类地域联系,减少了人口迁移的数量
阅 文化教育越落后,人口迁移的数量越多

10. 20世纪年代以来,西亚外籍工人大量增加,其主要原因是 ()

粤 本国人口增长缓慢,缺少劳力
月 经济发展水平较高,能够提供较多工作机会
悦 石油收入大增,经济发展很快,吸引了大量外籍工人
阅 人口老化现象严重,需要壮劳动力

11. 下列关于国际人口迁移的方向正确的是 ()

① 俄罗斯人口从国土东部向西部迁移
② 美国人口由“冷冻地带”向南部西部“阳光地带”迁移
③ 德国人口由北部向南部迁移
④ 巴西人口由东南部向首都巴西利亚迁移是受自然环境因素的影响
粤 ② 月 ③ 悦 ③ 阅 ④

12. 环境对人口迁移的影响,正确的是 ()

① 原始社会时期自然环境对人口迁移起决定性制约作用
② 农业文明时期人口是漫无边际、毫无目标的迁移
③ 工业社会后人口迁移要求劳动资料、劳动对象和劳动力以及市场之间优化配置

④自然因素是人口迁移的主要因素,社会环境因素是影响人口迁移的基础因素

粤爱④ 月爱④ 悦爱③ 阅爱③

关于人口迁移和环境关系的叙述,正确的是 ()

- ①农村人口大量迁入城市只有积极影响,无负面影响
- ②人口迁移对环境的影响、迁出地影响相对较小
- ③在人类社会的发展过程中,社会经济因素对人口迁移始终是主要因素
- ④在人类发展早期,社会经济因素对人口迁移影响不大

粤爱③ 月爱④ 悦爱④ 阅爱②

第二次世界大战以前国际人口迁移的原因有 ()

- ①资本主义的发展和殖民主义的扩张
- ②地理大发现和新航路的开辟
- ③欧美资本主义经济发展的不平衡
- ④寻找较高的生活水平和工资待遇

粤爱④ 月爱② 悦爱③ 阅爱③

下列叙述正确的是 ()

- ①只有那些居住地的永久性变化才被当做是人口的迁移
- ②国际人口的迁移距离一定大于国内人口的迁移距离
- ③婚姻是影响青年人口迁移的重要因素
- ④家庭因素在未成年人和老年人口的迁移中起着重要的作用

粤爱② 月爱③ 悦爱③ 阅爱④

二、综合题

将下列人口迁移因素的代号填在表中相应的位置:

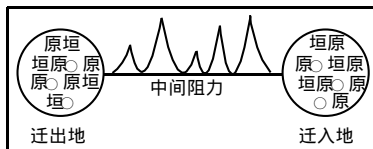
粤爱水和土壤 月爱矿产资源 悦爱经济发展 阅爱交通
 粤爱文化教育 月爱战争 悦爱政治变革

人口迁移因素	人口迁移现象与结果
	20世纪80年代深圳、珠海经济特区的设立
	北京市每年约100万新增人口(大学生)几十万
	河流中下游冲积平原人口较多
	20世纪80年代后,英国阿伯丁兴盛,人口猛增
	20世纪末大批卢旺达难民流向国外
	巴西利亚建都,1960年就在荒原上成为100万人的大城市
	京广、石太、石德线建成后,石家庄人口迅速增长

读右图“人口迁移的吸引力和排斥力图”回答:

(1)图中“垣”号表示_____ ; “原”号表示_____ ; “园”表示_____。

(2)人口迁移的吸引力是指_____ ,人口迁移的排斥力是指_____ ,人口迁移是由_____ 因素共同作用的结果。



第一单元 人口与环境

第六节 中国的人口迁移

一、单项选择题

历史上我国人口分布中心由黄河流域移到长江流域的原因 ()

粤 安史之乱 月 移民支边 悦 战争 阅 自然灾害

运用所学的新中国成立后到八十年代中期人口迁移特点的知识完成 题。

这段时期人口净迁入的省(市)是 ()

粤 辽宁 月 上海 悦 四川 阅 江西

不属于这段时期人口迁移特点的是 ()

粤 安置失业人员和闲散劳动力的人口迁移 月 高等学校搬迁、招生和分配的人口迁移
悦 务工经商 阅 移民垦荒支边建设农林牧新基地的人口迁移

下列叙述正确的是 ()

粤 这一时期我国人口迁移规模较大 月 这一时期政策鼓励农民迁入城市
悦 这一时期人口的自发迁移和流动相对较少 阅 这一时期人口迁移的频率比较高

环境难民产生的原因 ()

粤 战争或地区冲突 月 经济建设造成移民
悦 地方上传染病威胁 阅 生态环境遭到破坏

二十世纪八十年代以来我国人口迁移的方向主要是 ()

粤 农村到农村 月 农村到城市 悦 城市到农村 阅 城市到城市

下列有关我国人口迁移的叙述,正确的是 ()

粤 历史上我国人口迁移是由南方向北方移动
月 1959—1961年为中国人口迁移的低潮时期
悦 我国的人口迁移都是经济原因引起,与国家政策无关
阅 二十世纪 80 年代中期以后,人口迁移主要表现为流动人口大量增加

建国以来,我国人口迁出、迁入处于平衡的省区有 ()

粤 四川 月 上海 悦 西藏 阅 新疆

关于我国二十世纪八十年代中期以来人口迁移的叙述,正确的是 ()

粤 中央加紧了对农村人口进入城市,尤其是中小城镇的控制
月 这一时期人口流动主要是自发性的
悦 三峡库区的移民是自发性的迁移,政府不予干涉
阅 因大学毕业国家不分配工作,因此学习、培训和毕业就业人员的迁移人数逐步减少

改革开放后人口由原先净迁出省(市)变为净迁入省(市)的有 ()

粤 上海 月 北京 悦 广东 阅 四川

近年来我国人口迁移出现的趋向是 ()

① 内地人口流向沿海和工矿区 ② 农村人口流向城镇从事第三产业
③ 黄河流域流向长江流域 ④ 东部人口稠密区流向边疆地区
粤 ② 月 ③ 悦 ③ 阅 ④

八十年代中期以来,人口大规模流动的原因有 ()

① 移民支边
② 国家户籍制度的改革
③ 广大农村已经实现现代化出现了剩余劳动力
④ 沿海与内地、农村与城市之间经济收入相差悬殊
粤 ② 月 ③ 悦 ④ 阅 ④

三峡移民迁移到外省、市形成推力的现象是 ()

- ① 拨给移民适当的安置费用
- ② 移民留恋故居
- ③ 库区生态环境脆弱、环境容量低 就近安置困难大
- ④ 移民对迁入地的生活习惯和生产条件不适应

粤爱③ 月爱③ 悦爱④ 阅爱④

1. 有关我国改革开放以来人口迁移的正确叙述是 ()

- ① 东部沿海的大城市多为迁入地区
- ② 国际人口迁移占很大比例
- ③ 受国家政策的影响,多为非自发性迁移
- ④ 人口迁移和流动的方向主要是从农村到城市

粤爱④ 月爱③ 悦爱④ 阅爱③

2. 近年来,我国出现“民工潮”的主要原因是 ()

- ① 城市和沿海地区经济的迅速发展
- ② 东南部劳动力不足
- ③ 我国农村人口密度大
- ④ 我国农村出现大量剩余劳动力

粤爱② 月爱③ 悦爱④ 阅爱④

二、综合题:

读右图我国四省区轮廓图回答

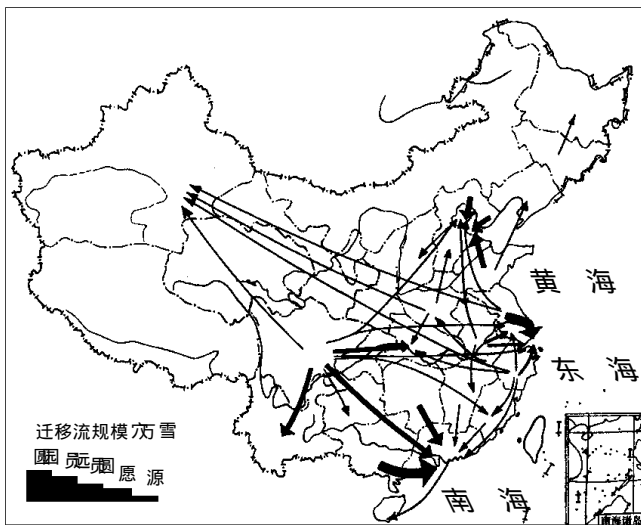
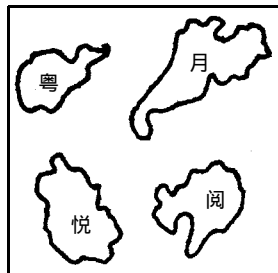
(1) 新中国成立后,人口移出较多的是_____ (填字母),这主要是由于_____原因引起的,它对调整_____。开发_____发展_____起了积极作用。

(2) 改革开放以来,民工输出最多的省是_____ (字母),民工输入最多的是_____ (字母)。

(3) 改革开放以来,随着城市和沿海地区经济的迅速发展,出现了我国农村剩余劳动力外出打工的新情况,民工流动的方向是_____。

(4) 从人生观方面来说明人才自由流动的价值意义。

读图 1 显示年代下半期我国务工经商流动人口“示意图”回答问题:



(1) 从图中可以看出,人口迁入数量比较多的地区是_____、_____、_____。这三个地区吸引人口迁入的主要原因是_____。

(2) 新疆吸引人口迁入的主要原因是_____。

(3) 四川人口大量外迁对本省产生的积极影响是_____。

第二单元 城市地域结构与规划

第一节 门槛人口和中心地

一、单项选择题

1. 关于中心地的叙述,正确的是 ()
- 粤 一个地区的行政中心
月 为周围地区提供教育服务的地方
悦 一个地区的中心地带
阅 为周围居民提供各种货物和服务的地方
2. 关于门槛人口的正确叙述有 ()
- 粤 维持一家企业生存所需的最高人口数
月 商家服务范围内的总人口数
悦 商店购买商品的最大人口数
阅 维持一家企业生存所需的最低人口数
3. 关于点铺与一般餐馆比较,正确的是 ()
- 粤 点铺门槛人数少,服务范围小,餐馆数目多
月 一般餐馆门槛人数多,服务范围大,餐馆数目多
悦 一般餐馆门槛人数少,服务范围小,餐馆数目少
阅 点铺门槛人数多,服务范围大,数目少
4. 关于门槛人口、商品等级和服务范围的理解,错误的是: ()
- 粤 一般来说,商店的实际服务人口多于门槛人口
月 行业不同,门槛人口的规模不同
悦 门槛人口、商品等级和服务范围三者是因果关系
阅 服务范围虽然不是固定的,但确实有着明显的界限
5. 人口密度小的农区其商业网点往往采用流动的货担形式,其原因是 ()
- 粤 争取更多的服务人口以满足对其门槛人口的需求
月 家人优良的服务态度
悦 新到之处无商品的生产能力
阅 农区商品流通的服务范围更大
6. 下列关于服务范围和门槛人口的关系的叙述,正确的是 ()
- 粤 门槛人口比实际服务人口在空间分布上要小
月 绝大多数商店接受服务的人口数一定超过了其门槛人口数
悦 在人口分布不均的条件下,门槛人口大,服务范围也大
阅 商品的等级越低,求购者越少,要满足对其门槛人口的需求,其服务范围越大
7. 关于中心地的理解,错误的是 ()
- 粤 中心地具有多种职能,可以提供所有货物和服务
月 中心地各职能服务范围的叠加就是中心地的服务范围
悦 高级中心地提供低级中心地所没有的职能
阅 高级中心地具有相同职能的单位数量也比低级中心地要多
8. 下列有关中心地与其服务范围的关系,正确的有 ()
- 粤 中心地一定位于其服务范围的正中心
月 中心地的等级越高,其服务的范围越大
悦 低级中心地也有高级中心地所没有的职能
阅 中心地级别与其服务范围没有必然联系
9. 商品等级与门槛人口的关系,正确的是 ()
- 粤 低级商品,门槛人口低,价格就高
月 高级商品,价格高,门槛人口就少
悦 低级商品,人们经常需要,门槛人口少
阅 高级商品,人们不经常需要,门槛人口少
10. 划分中心地的等级,主要依据 ()
- 粤 中心地的建筑风格
月 中心地的人均收入

悦中心地提供的职能种类多少

悦中心地的商品数量

阅读下列概念的叙述,正确的是

()

- ①一般来说,商店的实际服务人口高于门槛人口
- ②中心地常常具有多种职能
- ③门槛人口是个绝对不变的量,主要取决于一店的经营“成本”
- ④中心地就是城市和乡村

粤爱②

月爱③

悦爱④

悦爱④

阅读右图“相同级别中心地服务范围”,有关李军家购物的选择,正确的是

()

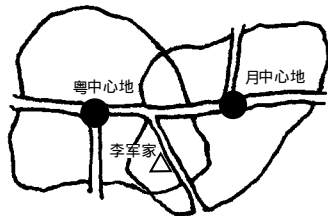
- ①一定选 粤中心地
- ②一定选 月中心地
- ③可能选 粤中心地
- ④可能选 月中心地

粤爱③

月爱③

悦爱④

悦爱④



阅读有关门槛人口和服务范围的叙述,正确的是

()

- ①消费水平和消费频率高的地区门槛人口更少
- ②同一行业其门槛人口数是维持不变的
- ③在人口分布均匀情况下,门槛人口大服务范围也大
- ④更高级服务,门槛人口高,数目多

粤爱④

月爱④

悦爱②

悦爱③

阅读有关中心地理论,正确的是

()

- ①高级中心地提供低级中心地没有的职能,有较低的门槛人口和服务范围
- ②高级中心地提供的职能种类有可能少于低级中心地的职能种类
- ③如果一个城镇的人口不能满足某种服务门槛人口的需求,就不可能提供这种服务
- ④中心地内综合商场的数量一定少于杂货店

粤爱④

月爱④

悦爱④

悦爱③

阅读关于商品等级的叙述,正确的是

()

- ①商品的等级是根据门槛人口的大小划分的
- ②商品的等级依据商店的服务范围划分
- ③油、盐、酱、醋是低级商品
- ④价格低的商品都是低级商品

粤爱③

月爱④

悦爱③

悦爱④

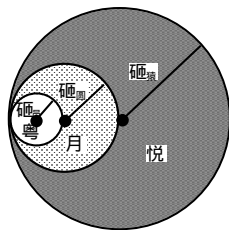
二、综合题

阅读右图回答:

(员)如果 砾、砾、砾 分别代表 粤、月、悦 三级中心地的服务范围半径,判断最高级中心地是_____,最低级中心地是_____。

(圆)根据门槛人口知识,指出下面中心地职能应与 砾、砾、砾 中的哪个服务范围相对应,音乐厅_____,电影院_____,录像带出租屋_____。

(猿)分析中心地级别与服务范围和门槛人口之间的关系:_____。



阅读 图 世纪 年代中后期,全国各大城市纷纷新建许多大型综合商场,但

有人推测 年是“关门年”,结合所学的商业网点的密度和门槛人口知识,你认为这种说法有根据吗?谈谈你的观点。_____。

第二单元 城市地域结构与规划

第二节 中心地理论及其应用

一、单项选择题

1. 关于六边形服务网络的叙述, 错误的是 ()

1. 高级中心地的服务范围均呈相等正六边形

2. 低级中心地均位于六边形服务范围中心

3. 不同级别中心地和服务范围彼此排斥和独立

4. 低级中心地和服务范围被高一级中心地的服务范围所包括

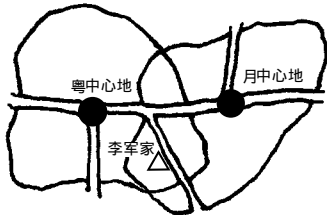
2. 右图李军选择中心地, 其原则是: ()

1. 距离最近原则

2. 交通最优原则

3. 市场最优原则

4. 消费观念和习惯的影响



3. 不属于“理想均质平原”含义的是 ()

1. 平原上土壤肥力相同、资源分布均匀

2. 平原上人们的活动都是理智的

3. 影响交通运输唯一的因素就是距离

4. 平原上人口分布、经济收入、消费方式不同

4. 关于六边形的嵌套的叙述, 错误的是 ()

1. 高级中心地的六边形面积比低级的要大

2. 金字塔型中心地体系中, 塔顶是最高级中心地, 塔基是最低级中心地

3. 级别越高中心地个数越少

4. 一个中心地服务范围正好是下一级中心地服务范围的 2 倍

5. 关于中心地理论应用的叙述, 错误的是 ()

1. 实际完全呈正六边形分布的服务范围是不存在的

2. 现实中六边形的嵌套规律是客观存在的

3. 安徽省的市镇分布就完全呈正六边形

4. 正六边形服务范围是一种假想的模式, 它是现实生活中的一种抽象

6. 下列叙述, 正确的是 ()

1. 首都北京并非在祖国的几何中心, 因此她不属于中心地

2. 我国省、县、乡三级行政区的划分就是运用了六边形的嵌套规律

3. 现实中同级别的中心地空间面积一样大

4. 某级中心地服务范围以内的居民不会到相邻的同级中心地去

7. 有关中心地与其服务范围的叙述, 正确的是 ()

1. 中心地都有其服务范围, 且固定不变

2. 两个中心地的服务范围界线分明

3. 中心地的顾客只来自服务范围之内

4. 两个相邻中心地的服务范围实际上有可能发生交叉和重叠

8. 对于一个地区的商业而言, 中心地就是 ()

1. 商品的来源地即产地

2. 这个地区的中心地点

3. 这个地区的商业中心

4. 消费者的来源地

9. 关于中心地理论的叙述, 正确的是 ()

1. 高级中心地的服务范围被低一级中心地的服务范围所包括

2. 中心地的数量分布特点是呈金字塔形的, 即级别越高, 数量越少

3. 高级中心地之间是由两级套一级的网格嵌套而成

4. 高级中心地在低级中心地的六个角上

第二单元 城市地域结构与规划

第三节 城市地域功能分区

一、单选题

1. 城市功能区是指 ()
- A. 城市人口统计区 B. 相同功能活动集中的区域
- C. 提供城市职能的地方 D. 城市内由交通线路分隔的地带
2. 关于城市功能区的叙述,正确的是 ()
- A. 商业区面积占城市空间很大的一部分 B. 工业区自然团聚,不断向市中心迁移
- C. 住宅区是城市中最为广泛的土地利用方式 D. 以上三种功能区相互交错,布局混杂,联系方便
3. 中心商务区通常具有的特征 ()
- A. 是城市经济活动最繁忙的地方 B. 是大型商场和购物中心集中地
- C. 居住人口密度最大 D. 中心商务区的商业活动以货物批发业务为主
4. 关于工业区的叙述,正确的是 ()
- A. 有投入和产出上有联系的工业才集聚形成工业区
- B. 一个城市只能拥有一个工业区
- C. 工业区的规模越大越好
- D. 因环境污染严重,地价昂贵,工业向市区边缘移动
5. 下列叙述,正确的是 ()
- A. 住宅区是城市最基本的一项职能 B. 工业区是城市最基本的一项职能
- C. 商业区是城市最基本的一项职能 D. 文化教育区是城市最基本的一项职能
6. 关于住宅区的叙述,正确的是 ()
- A. 产业革命前居住单元和劳动单元分工明显 B. 高级住宅区与低地联系在一起,房屋面积较大
- C. 低级住宅区与高地联系在一起,环境恶劣 D. 高级住宅区与低级住宅区背向发展
7. 关于城市内工业区的发展方向,叙述正确的是 ()
- A. 为了争夺市场,工业区不断向城市中心移动
- B. 为了保护环境,不断向市区外缘移动
- C. 工业企业占地少,设在市区,接近市场和资本
- D. 新建工厂都不进驻工业区
8. 关于中心商务区内部水平方向上特征的叙述,正确的有 ()
- A. 中心处以商务机构办公室为主,使中心处安静有序
- B. 中心处以无污染的工业为主
- C. 中心处以零售活动为主
- D. 中心处以低层建筑物为主
9. 关于工业集聚的叙述,正确的是: ()
- A. 有投入——产出联系的工厂,才可能发生近距离集聚
- B. 工业集聚可扩大总体生产能力,获得规模效益
- C. 随着跨国公司的出现,发达国家的工业由集聚走向分散
- D. 新的小批量定制产品的生产过程中,不会发生集聚现象
10. 关于城市住宅区的叙述,错误的是 ()
- A. 住宅区的面积往往占城市空间的 1/3 ~ 1/2
- B. 工业化后出现了明显的住宅区分化
- C. 西方国家的城郊只有低级住宅区而无高级住宅区
- D. 中国的高级住宅区往往表现为一座座高耸的现代化住宅楼群
11. 关于工业集聚和分散的叙述,正确的是 ()

- ①具有工业联系的工厂往往发生近距离集聚现象
- ②具有协作关系的工厂会发生集聚
- ③工业集聚可以获得规模效益,因此工业不宜分散布局
- ④目前,汽车生产的工业联系已经全球化,是典型的工业集聚现象

粤② 月③ 悦③ 阅④

题 合理协调城市工业用地与生活居住用地的关系,正确的是 ()

- ①工业用地多沿公路、铁路、通航河流等交通便捷的区位布置,以方便职工上下班
- ②合理安排工业用地,减少对生活居住区的污染
- ③生活区与居民区之间无需考虑交通问题
- ④使用大量劳动力的工业可考虑接近生活居住区

粤④ 月④ 悦③ 阅③

题 关于功能区的叙述,错误的是 ()

- ①各功能区并无明确的界线,每个功能区内兼有其他功能
- ②工业区内工业越多越集中,越能充分利用公共资源
- ③城市内工业区的多少要看城市规模大小和工业发展程度
- ④工业区和住宅区都有向商业区靠近的趋向

粤③ 月③ 悦④ 阅④

题 近年来在一些特大城市,为了疏散城区过密的人口和工业,在距母城较远交通干线上兴建了卫星城,原因是 ()

- ①市区就业困难
- ②大城市经济发展缓慢,生活水平下降
- ③大城市环境恶化
- ④老城区地价上涨

粤② 月③ 悦④ 阅④

题 城市环境问题叙述,正确的是 ()

- ①城市住宅问题主要表现为住房缺少,质量低劣
- ②工业是城市环境污染最主要的污染源,因此城市要消灭工业区
- ③中心商务区内建筑物往往是市区里最高的,因此中心商务区不受污染
- ④低级住宅区拥挤在内城和工业区附近,环境较差

粤③ 月④ 悦③ 阅④

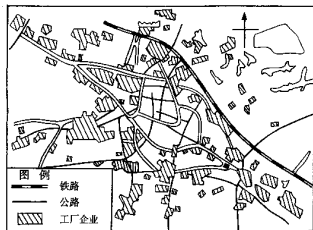
二、综合题

题 常州市工业分布状况示意图回答:

(员)常州城市的发展与工业的发展是同步的,其工业区的形成原因是

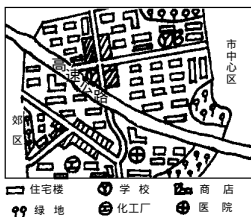
(圆)从图中可以看出,常州工业区在城市中的区位特点是:①

(猿)形成这一趋势的原因有



常州市工业分布状况示意图

题 某城市一住宅区布局图回答



(员)该住宅小区由成片的_____、商店、学校、医院和_____组成。

(圆)小区内学校 粤和学校 月相比,学校_____ (字母)所处位置不适当,其原因是_____

(猿)该小区居住环境尚有不足之处,主要表现在:

- ①_____;
- ②_____;
- ③_____。