

经四川省中小学教辅材料评议委员会评议通过  
经中华人民共和国自然资源部审核通过



# 快乐 寒假

KUAILE HANJIA

《快乐寒假》编委会 编著

七年级

通用版 合订本

( 语文 数学 英语 历史  
地理 生物 道德与法治 )



四川大学出版社

经四川省中小学教辅材料评议委员会评议通过  
经中华人民共和国自然资源部审核通过



# 快乐 寒假

通用版 合订本  
( 语文 数学 英语 历史  
地理 生物 道德与法治 )

《快乐寒假》编委会 编著

## 七年级

学校 \_\_\_\_\_

班级 \_\_\_\_\_

姓名 \_\_\_\_\_



四川大学出版社



作业一



基础快乐练

1. 下列加点字注音完全正确的一项是 ( )

- A. 黄晕(yùn)      花苞(pāo)  
 枯涸(hé)      吝啬(lìn)  
 B. 鳊鱼(biān)      乌桕(jiù)  
 唱和(hé)      黛色(dài)  
 C. 磅礴(páng)      梦寐(mèi)  
 发髻(jì)      看护(kàn)  
 D. 肌肤(jī)      竦峙(sǒng)  
 贮满(zhù)      澹澹(dàn)

2. 为下列句中加点字词选择正确的解释。

(1)一切都像刚睡醒的样子,欣欣然张开了眼。

- ( )  
 A. 然而      B. ……的样子  
 C. 这样      D. 对

(2)鸟儿将窠巢安在繁花嫩叶当中,高兴起来了,呼朋引伴地卖弄清脆的喉咙。

- ( )  
 A. 炫耀      B. 展示  
 C. 表现      D. 显示

(3)日光是永远那么毒,响亮的天气反有点儿叫人害怕。

- ( )  
 A. 声音很大      B. 非常晴朗  
 C. 亮光很强      D. 宏大明亮

(4)那么清亮,那么蓝汪汪的,整个的是块空灵的蓝水晶。

- ( )  
 A. 透明清亮      B. 灵活而不可捉摸  
 C. 十分灵巧      D. 空旷灵巧

3. 请根据语境,选择恰当的词语填在下面横线上。(只填序号)

- ① 饮水思源    ② 春华秋实    ③ 丰硕果实  
 ④ 源远流长    ⑤ 投桃报李    ⑥ 春风化雨

吃水的时候,感激挖井的人,\_\_\_\_\_,我们更加珍惜甜美的泉水;收获的时候,感激播

种的人,\_\_\_\_\_,我们更加明白劳动的艰辛;成功的时候,感激生养你的人,\_\_\_\_\_,我们更加懂得生命的宝贵。

4. 依次填入下面一段文字横线处的词语,最恰当的一项是 ( )

文学如泉,越品越见\_\_\_\_\_;文学如茶,越品越知\_\_\_\_\_;文学如酒,越品越感\_\_\_\_\_. 在文学的陶冶下,你会发现自己少了一份浮躁,多了一份宁静;少了一份庸俗,多了一份雅致;少了一份世故,多了一份纯真。

- A. 醇厚 幽香 清冽    B. 清冽 醇厚 幽香  
 C. 醇厚 清冽 幽香    D. 清冽 幽香 醇厚

5. 修改病句。

(1)衡量一个班级文明程度高低的重要标准是学风好。

\_\_\_\_\_

(2)我们一进球场就看到许多面国旗和一片欢呼声。

\_\_\_\_\_

(3)通过认真学习,使我明白了这个道理。

\_\_\_\_\_

6. 根据语境,将句子补充完整。

每个人都渴望得到别人的欣赏,同样,也应该学会欣赏别人。欣赏是一缕春风,染绿荒芜的山冈;\_\_\_\_\_,\_\_\_\_\_;欣赏是一汪甘泉,浇灌枯竭的希望。

7. 生活处处有语文。思雨同学搜集的语文素材,有一则与括号中注明的地点不相符,其序号是 ( )

- A. 虽然毫末技艺,却是顶上功夫 【理发店】





B. 藏古今学术,聚天地精华 【书店】

C. 运动奏响生命,锻炼点燃激情 【教室】

D. 节约用水一点一滴,珍惜粮食一颗一粒

【餐厅】



## 能力轻松提

8. 阅读下文,回答问题。

## 书 渴

舒 婷

和书的缘分就像谈恋爱,越是遭到砍伐杀戮,越是长得疯狂、热烈。

有一本好书在家静静等待着,手边的琐事都会变成音乐,犹如甜蜜的幽会守在你将要经过的街角,你心中贮存了那么多情感准备与他同行。

书中主人公的命运和你息息相关,当悲剧像乌云一样不可避免,你想扔下书逃走,但你不能,正如你不能逃脱你自己的命运。

《读书乐》的编者让我回忆自己和书之间的甜酸苦辣,犹如要一个结婚多年的妻子回忆恋爱史,她不知所措,不知从何说起。只记得有几件小事:

小学三年级,由于家庭的分离,我暂时转到奶奶家。出身书香门第的奶奶,却本着“女子无才便是德”的封建观念,对我的嗜书如命横加干涉。有天放学回来,我刚借的《古丽雅的道路》在我的抽屉里不见了。我当时是疯了,说了很多蠢话。直到我享有长孙特权的哥哥为我说话,奶奶才从针线筐下掏出我的书。在以后漫长的岁月中,关于这本书,我和奶奶之间始终没有取得谅解。

“文化大革命”时,普遍闹书荒,但民间却有许多名著流传。我只要看到纸边卷起的旧书,心里就像被吸空了。我读《茶花女》是向好朋友挪的10小时。从晚上8时我便拼命看,夜间1时看完,让妹妹起来看,翌晨5时,妹妹回到床上睡觉。我一边翻看第二遍,一边走到轮渡过海去还书。还记得那晚停电,点两盏油灯。仿佛听见窗下有人哭泣,几次撩开窗帘,望着发白的小路,我自己

泪流满面。

下乡期间,一本好书在手里,便可辄转换来不少意外的书。有一本就是《过节日》,割稻想着它,连从田坎上摔一大跤爬起来想的也是它。最愉快的享受便是洗完澡,干干净净清清爽爽,小心地把书吹了吹,坐在灯下一气看到半夜无人打扰。呵,那些日子!

至今,如果我同时借到5本有价值的书,我便要一气读完,百事不管。家人见我屡改不改,只好妥协。连4岁的小儿子也学会了我看书的姿势:蜷在沙发里,食指抚着眉骨——眼睛酸痛呀!

(1)给下列加点字注音。

杀戮( ) 嗜书如命( )

翌晨( ) 辗转( )

(2)开头三段文字都运用了\_\_\_\_\_的修辞手法,表达了“我”与书\_\_\_\_\_的感情。

(3)文章写了四件小事,请用简洁的语言加以概括。

① \_\_\_\_\_

② \_\_\_\_\_

③ \_\_\_\_\_

④ \_\_\_\_\_

(4)文中四件小事,是按\_\_\_\_\_顺序排列的,其语言标志分别是\_\_\_\_\_、\_\_\_\_\_、\_\_\_\_\_、\_\_\_\_\_。



## 学海开心游

## 读书诗

东晋诗人陶渊明,热爱田园生活,喜爱读书。他写了一首《杂诗》:“盛年不重来,一日难再晨。及时当勉励,岁月不待人。”这首诗告诫人们要珍惜时光,好好读书。

唐代书法家颜真卿写有一首流芳千古的《劝学》:“三更灯火五更鸡,正是男儿读书时。黑发不知勤学早,白首方悔读书迟。”这首诗劝诫人们要勤奋学习,不要错过读书的好时光。



作业二



基础快乐练

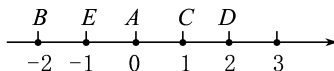
一、选择题

- 下列关于“0”的说法错误的是 ( )
  - 0 是自然数
  - 0 是整数
  - 0 是偶数
  - 海拔是 0 表示没有海拔
- 下列不表示相反意义的是 ( )
  - 向东走 5 m 和向西走 5 m
  - 比赛胜 3 局和比赛负 3 局
  - 上升 -5 m 和下降 5 m
  - 收入 10 万元和支出 10 万元
- 下列说法中,正确的是 ( )
  - 若一个数小于它的绝对值,则这个数是负数
  - 只有两个数相等时它们的绝对值才相等
  - 若  $|a|=|b|$ ,则  $a$  与  $b$  互为相反数
  - $-|a|$  一定是负数
- 某同学春节期间将自己的压岁钱 800 元存入银行,母亲节时他取出 100 元给妈妈买礼物,五一放假又取出 350 元买了礼物去看爷爷奶奶,则存折上存入、支出情况显示为 ( )
  - +800, -100, +350
  - +800, +100, +350
  - +800, -100, -350
  - 800, +100, -350

二、填空题

- 已知下列各数:  $-3.147, 32.8, +3, -19, 8.02, 0, -1.38, -9\frac{1}{4}, -\pi$ . 其中 \_\_\_\_\_ 是正数, \_\_\_\_\_ 是负数.
- 如果向东走 50 m 记作 +50 m,则向西走 10 m 应记作 \_\_\_\_\_,向东走 -50 m 的实际意义是 \_\_\_\_\_,向西走 -10 m 的实际意义是 \_\_\_\_\_.

- 数轴上,绝对值为 4,且在原点左边的点表示的有理数为 \_\_\_\_\_.
- 当  $a$  是正数时,  $|a| =$  \_\_\_\_\_; 当  $a$  是负数时,  $|a| =$  \_\_\_\_\_; 当  $a=0$  时,  $|a| =$  \_\_\_\_\_.
- 若数轴上  $M, N$  两点表示的数互为相反数,并且这两点间的距离为 12,则这两个点表示的数分别是 \_\_\_\_\_ 和 \_\_\_\_\_.
- 化简:  $|\pi-4| + |3-\pi| =$  \_\_\_\_\_.
- 图中数轴上  $A, B, C, D, E$  各点分别表示什么数?



第 11 题图

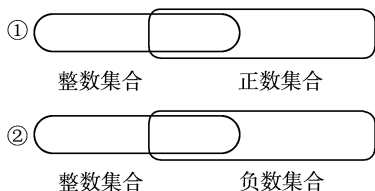
- 点  $A$  表示 \_\_\_\_\_,点  $B$  表示 \_\_\_\_\_,点  $C$  表示 \_\_\_\_\_,点  $D$  表示 \_\_\_\_\_,点  $E$  表示 \_\_\_\_\_.
- 将有理数  $-3, -|+2|, -\frac{1}{3}, -1$  按从小到大的顺序排列,并用“ $<$ ”号连接: \_\_\_\_\_.
- 三、解答题
- 写出下列各数的相反数,并画数轴表示出来.  
 $-6, -2.4, 3.1, 5, 0.$



14. 将下面一组数填入下图相应的圈内： $-0.6$ ，

$-8$ ， $+2.1$ ， $-809$ ， $-2\frac{1}{2}$ ， $89.9$ ， $0$ ， $4$ 。你能说

出图中重叠部分表示的数的集合吗？



第 14 题图

15. (1) 已知  $a=3$ ， $b=-2$ ，求  $|a|+|b|+|a+2|$   
 $-|-b|$  的值。

(2) 已知  $|a+5|+|b-2|=0$ ，求  $a$  和  $b$  的值。



## 能力轻松提

16. 以下各列数具有一定的规律性，请你根据规律写出后面的 3 个数，并求出第 15 个数，第 100 个数，第 101 个数。

(1)  $0, -1, 0, -1, 0, -1, 0, -1, \underline{\hspace{1cm}},$   
 $\underline{\hspace{1cm}}, \underline{\hspace{1cm}}, \dots$

(2)  $-1, 2, -3, 4, -5, 6, -7, 8, \underline{\hspace{1cm}},$   
 $\underline{\hspace{1cm}}, \underline{\hspace{1cm}}, \dots$

(3)  $1, -\frac{1}{3}, \frac{1}{5}, -\frac{1}{7}, \frac{1}{9}, -\frac{1}{11}, \frac{1}{13}, -\frac{1}{15},$   
 $\underline{\hspace{1cm}}, \underline{\hspace{1cm}}, \underline{\hspace{1cm}}, \dots$



## 学海开心游

## 数轴的自述

嗨，大家好！我就是大名鼎鼎的数轴！什么？不认识我？好，那我就自我介绍一下吧！

我历史悠久，还是从国外进口的呢！说起长相，我过于苗条了，我的骨头之间的长度都一样，这就是大家所说的单位长度。正数永远在我身体的右侧，负数也就只能永远在左边啦。在我身体的正中央有一个很特殊的数——“0”，它既不是正数，又不是负数，就是它，把正数、负数活生生地给分开了。如果在我身上任取一点作为原点，那么这个原点便是“0”，并且规定了从原点向右为正方向，从原点向左为负方向。

现在，我就教大家画出我的样子：第一，画一条水平的直线，定原点；第二，取原点向右的方向为正方向；第三，选取适当的长度作为单位长度，例如，选取 1 cm 作 1 个单位长度；第四，在数轴上标出如  $-3$ ， $-2$ ， $-1$ ， $0$ ， $1$ ， $2$ ， $3$  等数。还要提醒大家的是：我可是会无限延伸的，千万不要在我的左边封口，另外在右边，也要画出我的“头”——一个箭头。

提起我的用途，那是三天三夜也说不完啦！

大家看着我身上正、负数的位置，便可知道：正数都大于 0，负数都小于 0，正数大于一切负数。学习相反数、绝对值、一元一次不等式等也离不开我，我可是重要角色哟！

规定了原点、正方向、单位长度的直线，就是我——神通广大的数轴！

请利用数轴的知识解决如下问题： $1^{\circ}\text{C}$  与  $-2^{\circ}\text{C}$  哪个温度高？ $-1^{\circ}\text{C}$  与  $0^{\circ}\text{C}$  哪个温度高？



作业三



基础快乐练

I. 用所给动词的适当形式填空

1. My brother \_\_\_\_\_ (not like) playing football.
2. Mr Green \_\_\_\_\_ (walk) his dog every morning.
3. My brother \_\_\_\_\_ (work) in a school.
4. Mary \_\_\_\_\_ (watch) TV after supper.
5. \_\_\_\_\_ your father \_\_\_\_\_ (love) you?

II. 选择填空

- ( ) 1. Zhang Liangying is Chinese. Zhang is her \_\_\_\_\_ and Liangying is her \_\_\_\_\_.

- A. given name; family name
- B. given name; last name
- C. family name; given name
- D. last name; first name

- ( ) 2. — \_\_\_\_\_ Sam and Helen \_\_\_\_\_ Class 3?

—No, they \_\_\_\_\_.

- A. Are; in; aren't
- B. Do; in; don't
- C. Do; at; don't
- D. Are; at; aren't

- ( ) 3. —Excuse me, are you good at your lessons?

—\_\_\_\_\_.

- A. Yes, I am
- B. No, they aren't

C. Yes, I do

D. No, you don't

- ( ) 4. — \_\_\_\_\_ your mother a doctor?

—No, she \_\_\_\_\_ a teacher.

- A. Does; does
- B. Is; isn't
- C. Does; doesn't
- D. Is; is

- ( ) 5. Jack \_\_\_\_\_ lunch at school. He \_\_\_\_\_ lunch at home.

- A. doesn't have; has
- B. doesn't have; have
- C. don't have; has
- D. don't have; have

III. 情景交际

从方框中选择合适的句子, 补全对话。

- |   |
|---|
| <p>A. How old are you?</p> <p>B. Nice to meet you.</p> <p>C. Where are you from?</p> <p>D. Bye!</p> <p>E. What's your name?</p> |
|---|

A: Hello, my name is Lingling. \_\_\_\_\_ 1 \_\_\_\_\_

B: I'm Lili. \_\_\_\_\_ 2 \_\_\_\_\_

A: Nice to meet you, too. \_\_\_\_\_ 3 \_\_\_\_\_

B: I'm from Weifang. What about you?

A: I'm from Qingdao. \_\_\_\_\_ 4 \_\_\_\_\_

B: I'm thirteen. I'm in Class Two.

A: I'm in Class Two, too. \_\_\_\_\_ 5 \_\_\_\_\_

B: Bye.

1. \_\_\_\_\_ 2. \_\_\_\_\_ 3. \_\_\_\_\_

4. \_\_\_\_\_ 5. \_\_\_\_\_



## 能力轻松提

## IV. 完形填空

This is my 1. It's No. 3 Middle School. My 2 name is Miss Ma. My name is Li Ting. I'm twelve years old. I'm 3 Class Two, Grade One. In our 4, we have 18 girls 5 18 boys. Our classroom is not new, but 6 clean. It has two doors and four windows. I have a good 7 Rose. She's American. She is thirteen. 8 in the 9 class. Rose has a brother. 10 name is Peter. He isn't a student.

- ( ) 1. A. school                      B. class  
    C. friend                              D. teacher
- ( ) 2. A. friend's                        B. teacher's  
    C. teacher                             D. student's
- ( ) 3. A. /                                 B. on  
    C. in                                     D. at
- ( ) 4. A. team                             B. school  
    C. home                                D. class
- ( ) 5. A. and                                B. or  
    C. but                                    D. so
- ( ) 6. A. are                                B. am  
    C. is                                      D. be
- ( ) 7. A. class                             B. school  
    C. friend                                D. teacher
- ( ) 8. A. She's                             B. I'm  
    C. They're                              D. We're
- ( ) 9. A. same                             B. different  
    C. two                                    D. one
- ( ) 10. A. She's                            B. He's  
    C. Her                                    D. His



## 学海开心游

## 与朋友相关的英语谚语

- A friend in need is a friend indeed. 患难朋友才是真正的朋友。
- A good book is the best of friends, the same today and forever. 一本好书,相伴一生。
- A life without a friend is a life without a sun. 人生没有朋友,犹如生命没有太阳。
- A friend without faults will never be found. 没有十全十美的朋友。

## 英国知多少

英语中称呼亲属的词不多。例如,“uncle”和“aunt”,包括了父母双方所有兄弟姐妹,叔、伯、舅等都称 uncle,姑、姨、婶等称 aunt。

大多数英国人不愿住高楼大厦,喜欢住在只有一两层的房子,最好有一个花园可供孩子玩耍。

大部分英国人可以获得免费高等教育,但一般学生都会在假期自己赚些零花钱(pocket money)。

英国中、小学每年都有三个学期(the spring term, the summer term 和 the winter term)和三个假期(Christmas Day, Easter Day and Summer holidays)。工人每年有两个星期的假期。假期期间,他们常去阳光明媚的地方度假。

## 数 数

A:“哎呀,你的手指怎么了?”

B:“我想数数狗有几颗牙,把手伸到狗嘴里去了。”

A:“狗咬你了,是吗?”

B:“是啊,它大概也想数数我有几个手指头吧,真没办法。”



作业四




基础快乐练

一、选择题

- 守护生命首先要 ( )
  - 关注自己的身体
  - 关注并养护我们的精神
  - 守护精神家园
  - 培养面对困难的勇气和坚强的意志
- 下列行为或做法中,有益于自己生命与健康有 ( )
  - 积极参加运动
  - 合理摄取营养
  - 有时抽烟、喝酒
  - 预防传染性疾病

A. ①②③ B. ②③④ C. ①②④ D. ①③④
- 欣赏下面的漫画《父子网帖交流解心结》。漫画反映了中学生网友“珠海小渔哥”在网上发帖就亲子矛盾问题进行求助,没料到该帖被父亲“珠海渔哥”看到,激动之余便给孩子回了一篇长帖,父子俩借助网帖进行了一场网络交流,顿时化解了矛盾。这种做法 ( )



父子网帖交流解心结

- ①更容易使双方敞开心扉,平等交流
  - ②是现代家庭父母与子女交流的最好方法
  - ③是父母与子女沟通,子女与父母交朋友、化解亲子矛盾的一种好方法
  - ④能彻底化解父母与子女之间的矛盾
- A. ①②③ B. ①③  
C. ②③ D. ②④
- 当今社会,知识的重要性突显,对于学习的重要意义,相关理解正确的是 ( )
    - ①给生命添加养料
    - ②不仅让我们能够生存,而且可以让我们有更好的生活
    - ③可以让一

个苍白空虚的灵魂变得充实丰满、从容淡定  
④可以改变思维方式和行为,提升我们的能力和智慧

- A. ①②④ B. ①②③  
C. ①②③④ D. ①③④
- 一位同学这样评价宋玉刚:“自从宋老师担任班主任以来,他不辞劳苦,为我们创造了优良的学习环境。除了负责汉语课、电脑课,兼任班主任和副校长,他还负责寄宿生的生活起居。宋老师更像是我们的‘保姆’。”“最美乡村教师”宋玉刚的行为 ( )
    - ①塑造了人民教师勇于担当的光辉形象
    - ②体现了人民教师的无私奉献精神
    - ③展现了人民教师热爱学生的大爱情怀
    - ④说明了教师是人类文明的传播者之一

A. ①③④ B. ②③④  
C. ①②④ D. ①②③④
  - 七年级(1)班的同学正在举行主题为“在反思友谊中长大”的班会。在班会上,同学们对自己的友谊不断进行反思,交流彼此的经验,分享彼此的收获。在班会进行过程中,如果主持人要求你代表所在的学习小组,就反思自己的友谊进行总结性发言的话,以下内容你可能会用到的是 ( )
    - ①对友谊的渴望,让我们相互靠近
    - ②与朋友交往的过程中,有欢笑,有泪水;有甜蜜,也有苦涩
    - ③友谊是一成不变的精神分享,是超越功利的心灵沟通
    - ④在相遇、相处的过程中,我们有时也因彼此的碰撞而受伤

A. ①②④ B. ①②③  
C. ②③④ D. ①②③④

二、非选择题

- 一个女孩对父亲抱怨她的生活:事事都这么艰难,该如何应对?父亲是一位厨师,听后略有所思,当着女儿的面把胡萝卜、鸡蛋和碾碎的咖啡豆分别放在水中煮。20分钟后,父亲把胡萝卜、鸡蛋捞出来,把咖啡倒在了一个杯子里。



看着不解的女儿,父亲先让她摸摸胡萝卜,女儿注意到胡萝卜变软了;又打破蛋壳,看到的是煮熟之后凝成一体的鸡蛋;最后父亲又让她饮咖啡,女儿笑了,她问这意味着什么。父亲解释说:“这三样东西都面临着同样的逆境——煮沸的开水,但其反应却各不相同。胡萝卜入锅之前是强壮的,但经煮后变软了;鸡蛋原来是易碎的,薄薄的外壳包着液体的内部,但经煮后,它的内部变硬了;而粉末状的咖啡豆经煮后,反倒改变了水。哪个是你呢?”他问女儿。

这一故事说明了怎样的道理?

(2)每个人的生命都是独一无二的,你应该怎样爱护自己的身体?

(3)如何让生命充盈?



### 能力轻松提

8. 小说《钢铁是怎样炼成的》中主人公的独白给我们留下了深刻的印象。“人最宝贵的是生命,生命对于每个人只有一次。人的一生应当这样度过:当回忆往事的时候,他不会因为虚度年华而悔恨,也不会因为碌碌无为而羞愧;在临死的时候,他能够说:我的生命和全部精力都献给了世界上最壮丽的事业——为人类的解放而斗争。”

阅读上述材料,回答下列问题:

(1)人的生命的特质是什么?



### 学海开心游

释迦牟尼问弟子:“一滴水怎样才能不干涸?”弟子们冥思苦想:“一滴水,一阵风就能把它吹走,一撮土就能把它吸干,怎么能不干涸呢?”没有一个弟子能回答上来。释迦牟尼说:“把它放到大海里去。”一滴水被放进大海,它就与周围的水滴融为一体了。

每一个同学,就像这小小的一滴水,应该把自己融入集体这个海洋中。我们只有团结协作,相互配合,才能奏出最优美的班级乐章,每个人才能在班级中不断成长。



作业五



基础快乐练

1. 下列词语书写全都正确的一项是 ( )

- A. 莅临 朗润 烘托 秋风潇瑟
- B. 健壮 澄清 骄媚 呼朋引伴
- C. 淅沥 草垛 干涩 花枝招展
- D. 嘹亮 静谧 喉咙 咄咄逼人

2. 根据要求默写。

- (1) \_\_\_\_\_? 归雁洛阳边。
- (2) 我寄愁心与明月, \_\_\_\_\_。
- (3) \_\_\_\_\_, 小桥流水人家。
- (4) 马致远在《天净沙·秋思》中直抒胸臆, 道出特定时间天涯游子之悲的词句是 \_\_\_\_\_, \_\_\_\_\_。

3. 下列句子中没有语病的一项是 ( )

- A. 学校把这项任务交给我们班, 大家都有光荣的感觉是难以形容的。
- B. 毕业联欢会过后, 小雅那优美的舞姿, 动听的歌声, 时常萦绕在我的耳畔。
- C. 在“建设书香校园”活动中, 校刊开通了“诗韵玲珑”“思想芦苇”等小栏目。
- D. 也许, 青春本身就是一本成长的流水账, 需要我们小心地记录, 精心地收藏。

4. 下面句子没有语病的一项是 ( )

- A. 通过社会实践活动, 让我们接触了社会, 开阔了视野。
- B. 阅读是认识世界、发展思维的重要途径。
- C. 在学习中, 我们要及时解决并发现存在的问题。
- D. 一进入体育场, 大家就看到五颜六色的彩旗和欢呼声。

5. 仿照画线句子, 选择一种传统文化形式(如锣鼓、秧歌、风筝、书法等), 在横线处补写句子。

中华民族优秀的文化, 积淀着久远的岁月印痕。它绽放在春节缤纷的花炮中, 闪烁在京剧斑斓的脸谱中, 跳动在二胡凄美的弓弦上,

\_\_\_\_\_, 传扬在诗词浪漫的意境里……



能力轻松提

6. 阅读下文, 回答问题。

奶奶拂袖而去

王海桐

曾有人劝我把名字中的“桐”改成“同”, 他说我的名字犯“凶”。我却执意不肯, 因为这个“桐”字对我有特别意义。

这个名字是奶奶起的, 那时候, 我还在母亲肚子里, 奶奶说, 不管是男是女, 都用这个名字。可是谁都知道, 她想要个男孩, 因为父亲是她唯一的儿子。

很可惜, 在这场赌注里, 她注定要输得一塌糊涂。因为这世上, 没有什么事情可以计划的, 即使她那么渴望一棵“海边的梧桐”。所以, 18年前, 在某个城市某间产房的某个角落, 一个严厉的老人拂袖而去, 留下那苍白的床单上一个同样苍白而孤独的女人, 抱着一个张着大嘴“哇哇”啼哭的干瘪丑陋的婴儿。在地图的那一边, 在记忆模糊的海边, 年轻的父亲接到“生一女”的电报后, 整整躺了两个星期, 整整两个星期。

不久, 奶奶去世了。我便成了“我”, 而这个名字是我偷来的。

我是一个拙劣的小偷, 不经意间连累了我的母亲。

海桐, 海桐, 海桐?



“凤凰鸣矣，于彼高坡；梧桐生矣，于彼朝阳。”

我应该是八尺男儿，即使不能金戈铁马，醉卧沙场，也应该玉树临风，“谈笑间檣櫓灰飞烟灭”。真可惜，我只是个他人人口中“无用”的女孩，既不美丽，也不灵巧。

几年前，我偶然在字典上翻到这样的词条，“海桐，常青灌木植物，植株矮小，开白色小花”。我释然，我对自己说：原来对于我，再也没有比“海桐”更贴切的诠释了，我只是一丛普通的灌木，在一生的期待中开出白色的小花，然后宣告我的无罪。可只是这样吗？有人问我，只是甘心做一棵梧桐？你愿意以这词条作为你寻觅多年的辩词，来解除你难以照他人期望成为“梧桐”的挫败？是吗？一旦认定自己是棵海桐，是不是就会解开自降生时就套上的枷锁？是不是就会放弃多年来希冀成为“梧桐”的奋斗？是不是就会失去再长高，再长高的愿望？

我是个拙劣的小偷，没有辩护律师。在我好不容易找到辩词后，才发现法官早死了，听众也走光了，只有我一个人，一个人站在记忆的法庭上，任难以成为“梧桐”的无奈与不甘心做“海桐”的抗争在心底拔河，注定我永久的挣扎与反抗。

(1)我的名字是如何来的？文中说“‘桐’字对我有特别意义”指什么？

---



---

(2)“我”出生时，是什么原因让奶奶拂袖而去，让爸爸躺了两个星期？

---



---

(3)长大后“我”曾经如何用自己的名字来解脱自己？

---



---

(4)作者为什么说自己是一个小偷？

---



---

(5)从这段选文中，你觉着作者在成长的岁月里有哪些遗憾？从哪些句子中能看出来？

---



---



---



### 学海开心游

#### 悼念朱德母亲的挽联

党中央的挽联是：

八路公助，大孝为国；一生劳动，吾党之光。

毛泽东同志的挽联是：

为母当学民族英雄贤母；斯人不愧劳动阶级完人。

周恩来、刘少奇、陈云等同志的挽联是：

教人成民族英雄，举世共饮贤母范；毕生为劳动妇女，故乡永保好家风。

谢觉哉同志的挽联是：

红星入怀，盖世勋名光子舍；白云在望，漫天晴澹陨慈辉。

#### 中国人文之最

1. 中国古代最大的一部丛书：《四库全书》。
2. 中国古代现存最早的编年体史书：《春秋》。
3. 中国古代收录汉字最多的字典：《康熙字典》。
4. 中国第一部方言词典：《方言》。



作业六



基础快乐练

一、选择题

- 下列说法正确的是 ( )
  - 两个负数相加,等于它们的绝对值相减
  - 正数加负数,和为正数;负数加正数,和为负数
  - 两个正数相加,和为正数;两个负数相加,和为负数
  - 两个有理数相加,等于它们绝对值相加
- 下列不等式中正确的是 ( )
  - $|-2| > |-3|$
  - $-1 > -2$
  - $0 < -1$
  - $|-1| < -|-3|$
- 下列各式能用加法运算律简化计算的是 ( )
  - $3\frac{1}{2} + (-2\frac{1}{3})$
  - $(-8) + (-7.8) + (-2) + (+6.8)$
  - $6\frac{2}{5} + \frac{1}{2} + 3$
  - $4\frac{1}{2} + (-\frac{2}{7}) + (-3\frac{1}{3}) + (-2\frac{1}{5})$
- 长城总长约为 6 700 000 米,用科学计数法表示是(保留两个有效数字) ( )
  - $6.7 \times 10^5$  米
  - $6.7 \times 10^6$  米
  - $6.7 \times 10^7$  米
  - $6.7 \times 10^8$  米
- $(-4)^3$  与  $-4^3$  ( )
  - 相等
  - 互为相反数
  - 互为倒数
  - 它们和为 16

二、填空题

- 若  $|a|=21$ ,  $|b|=27$ , 且  $|a+b|=-(a+b)$ , 则  $a-b$  的值是\_\_\_\_\_.
- 已知  $a, b, c, d$  是四个互不相等的整数, 且  $abcd=9$ , 则  $a+b+c+d=$ \_\_\_\_\_.
- 若有理数  $m < n < 0$ , 则  $(m+n)(m-n)$  的符号为\_\_\_\_\_.
- (1) 近似数 0.007 203 中的有效数字是\_\_\_\_\_.

(2) 用科学计数法表示的  $1.36 \times 10^5$ , 它的原数是\_\_\_\_\_.

10. 在  $-|-4|^3, -( -4)^3, (-4)^3, -4^3$  中, 最大的数是\_\_\_\_\_.

三、计算题

11. (1)  $(-30) - (-19) + 27 - 48 - (+1)$ ;

(2)  $(-52) + (-19) - (+37) - (-24)$ ;

(3)  $(-5) \div (-1\frac{2}{7}) \times \frac{4}{5} \times (-2\frac{1}{4}) \div 7$ ;

(4)  $1 \div (-1) + 0 \div (-5.8) - (-4.2) \times (-1)$ ;

(5)  $(\frac{1}{2} - \frac{1}{3}) \div (-\frac{1}{6}) + (-2)^2 \times (-14)$ ;

(6)  $(\frac{7}{9} - \frac{5}{6} + \frac{1}{18}) \times 18 - 1.45 \times 6 + 39.5 \times 6$ .



## 三、解答题

12. 某人用 400 元购买了 8 套儿童服装, 准备以一定价格出售, 如果每套儿童服装以 55 元的价格为标准, 超出的记作正数, 不足的记作负数(单位: 元), 记录如下: +2, -3, +2, +1, -2, -1, 0, -2. 当他卖完这 8 套儿童服装后是盈利还是亏损?

13. 某登山队攀登珠穆朗玛峰, 在海拔 3 000 米时, 气温是  $-22^{\circ}\text{C}$ , 当攀登到海拔 6 000 米和 8 000 米时, 气温分别是多少? (已知当地海拔高度每增加 1 000 米, 气温降低大约  $6^{\circ}\text{C}$ )

14. 如果平均每人每天需要粮食 0.5 kg, 那么全国每天大约需要粮食多少千克? 1 年呢? (全国人口以  $1.3 \times 10^9$  人计, 结果用科学记数法表示)



## 能力轻松提

15. 规定一种新的运算:  $a \star b = a \times b - a - b^2 + 1$ . 例如:  $3 \star (-4) = 3 \times (-4) - 3 - (-4)^2 + 1$ . 请计算下面各式的值:

(1)  $2 \star 5$ ;

(2)  $(-2) \star (-5)$ .



## 学海开心游

## 有理数的运算口诀

有理数运算并不难, 符号第一记心间;  
加法须取大值号, 乘法同正异负添。  
减变加改相反数, 乘改除法用倒数;  
混合运算讲顺序, 乘方乘除后加减。  
加法运算要熟练, 减法运算会转换;  
乘除只把符号断, 运算顺序不能乱。



作业七



基础快乐练

I. 根据句意及首字母提示补全单词

1. I have a friend. H \_\_\_\_\_ name is Gina.
2. This is a p \_\_\_\_\_ of my brothers.
3. Our f \_\_\_\_\_ are watching TV at home.
4. He is from Japan, so he can speak J \_\_\_\_\_.
5. He likes s \_\_\_\_\_ and running.

II. 选择填空

- ( ) 1. — \_\_\_\_\_ play ping-pong.  
— That sounds interesting.  
A. Let                      B. Lets  
C. Let's                     D. It's
- ( ) 2. He is a secretary (秘书) \_\_\_\_\_ the factory.  
A. at                         B. on  
C. from                      D. with
- ( ) 3. This is \_\_\_\_\_ friend Tony.  
A. Lingling  
B. Lingling's  
C. Lingsings'  
D. Lingsings
- ( ) 4. Is your father's \_\_\_\_\_ a hotel manager?  
A. teacher                 B. worker  
C. job                        D. parents
- ( ) 5. Anne isn't \_\_\_\_\_ Chinese girl. She's \_\_\_\_\_ English girl.  
A. a; a                        B. an; an  
C. a; an                      D. an; a

III. 用“有”的适当形式填空

1. In the room, \_\_\_\_\_ (有) a TV and two beds.
2. Jimmy \_\_\_\_\_ (有) a computer. It's new.
3. \_\_\_\_\_ you \_\_\_\_\_ (有) a dictionary?
4. \_\_\_\_\_ (有) some people in front of the building.
5. Linda's friend, Lynn, \_\_\_\_\_ (有) two sisters and brothers.

IV. 完形填空

Come and look at this 1. It 2 a picture of 3 American family.

The man on the right (右边) is 4 Green. He is a teacher. You can see 5 Green on the left (左边). There 6 two boys 7 front of 8, they are Tom 9 Mike. Tom is ten and Mike is eight. They're 10.

- ( ) 1. A. picture                 B. photo  
   C. family                     D. map
- ( ) 2. A. am                         B. are  
   C. is                             D. be
- ( ) 3. A. a                             B. an  
   C. some                        D. the
- ( ) 4. A. Mr                         B. Mrs  
   C. Miss                        D. Ms
- ( ) 5. A. Mr                         B. Mrs  
   C. Miss                        D. Ms
- ( ) 6. A. are                         B. is  
   C. am                            D. be



- ( ) 7. A. on B. in  
C. under D. for
- ( ) 8. A. they B. them  
C. their D. our
- ( ) 9. A. or B. with  
C. to D. and
- ( ) 10. A. sisters B. cousins  
C. brothers D. friends



## 能力轻松提

## V. 阅读理解

I'm Li Meng. My English teacher is Julia. She is from England. She has two children: a son and a daughter. Her daughter is Betty. Her son is Dick. Julia and her daughter are in China, but her husband Paul Smith is in England. Her son is in America. Paul is a policeman. Dick is a college(大学) student. Betty and I are in the same school. We are classmates, and we are good friends. I teach(教) her Chinese and she teaches me English.

根据短文内容完成句子。

1. Julia and Paul are Betty's \_\_\_\_\_.
2. Dick's \_\_\_\_\_ is my good friend.
3. Betty and I are \_\_\_\_\_ and \_\_\_\_\_.
4. Betty's father is a \_\_\_\_\_ in England.
5. Paul's wife is a \_\_\_\_\_ in China.



## 学海开心游

一“好”并非百“好”

- a good child 孝顺的孩子

- a good joke 令人开心的笑话
- a good life 美满的生活
- good-for-nothing 不中用的人

## 永远不要对父母说的话

- 你们那一套,早就过时了。(父母的建议,也许不能起到作用,可我们是否能换一种回应的方式?)

- 我要吃什么我知道,别夹了!(盼着我们回家的父母总想把所有关心融在特意做的菜里,我们默默领情就好)

- 说了别吃这些剩菜了,怎么老不听啊!(他们一辈子的节约习惯,很难改,让他们每次尽量少做点菜就好)

- 叫你别收拾我的房间,你看,东西找都找不到!(自己的房间还是自己收拾好,不收拾,也不要辜负了父母的好意)

- 跟你说了多少次不要你做,做又做不好。(一些他们已经力不能及的事,我们因为关心而制止,但这样让他们觉得自己很无用)

## 找东西

上课时,某同学在看漫画。老师发现了便问:“你在干什么?”

“我在找东西。”

“找什么?”

“找,找……”

邻座的同学回答说:“找借口。”

## 减法

数学课上,数学教师对一位学生说:“你怎么连减法都不会?例如,你家里有10个苹果,被你吃了4个,结果是多少呢?”这个学生沮丧地说道:“结果是屁股挨了10下!”



作业八



基础快乐练

一、选择题

- 我国古老传说中黄河流域著名的部落首领是 ( )  
A. 尧、舜 B. 炎帝、禹  
C. 黄帝、蚩尤 D. 炎帝、黄帝
- 司母戊鼎、四羊方尊是什么朝代的青铜器 ( )  
A. 夏朝 B. 商朝 C. 西周 D. 春秋
- 春秋以来,大量荒地开垦出来的原因是 ( )  
A. 铁农具和牛耕的使用  
B. 分封制的瓦解  
C. 战争频繁  
D. 井田制瓦解
- 下列人物中,既是思想家、教育家,又是儒家学派创始人的是 ( )  
A. 孟子 B. 韩非 C. 老子 D. 孔子
- 我国历史上第一个统一的中央集权的封建国家建立的时间是 ( )  
A. 公元前 260 年 B. 公元前 230 年  
C. 公元前 221 年 D. 公元前 202 年
- 西汉国力进入到鼎盛时期是在 ( )  
A. 文帝时期 B. 景帝时期  
C. 武帝时期 D. 高祖时期
- 对黄河的治理,西汉、东汉比较重视的两个皇帝分别是 ( )  
A. 汉高祖、光武帝 B. 汉文帝、汉明帝  
C. 汉武帝、光武帝 D. 汉武帝、汉明帝
- 下面几位科学家中,对人类文化传播贡献最大的是 ( )  
A. 张衡 B. 蔡伦

- C. 张仲景 D. 华佗
- 西汉时,儒家学说被确立为专制王朝的正统思想,这种状况一直延续到清朝灭亡,前后达两千多年。请问:我国儒家学派的创始人是 ( )  
A. 孔子 B. 老子 C. 孟子 D. 墨子
- 为了实现大一统,汉武帝在思想上采取的措施是 ( )  
A. 焚书坑儒 B. 罢黜百家,独尊儒术  
C. 创立科举制 D. 文字狱
- 同学们来到殷墟,讲解员指着一段文字残片说:“这些文字记录反映了商王的活动和商朝的政治、经济情况,对我们研究商朝的历史有重要的价值。”由此判断,这些文字应该是 ( )  
A. 甲骨文 B. 小篆  
C. 隶书 D. 行书
- 春秋战国时期,生产力和社会经济发生了巨大变化。标志着战国时期生产力水平显著提高的是 ( )  
A. 铁农具的普遍使用和牛耕的推广  
B. 农业技术的进步  
C. 水利工程的兴修  
D. 农业产量的提高

二、非选择题

13. 阅读下列材料,回答问题:

农,天下之本也。黄金珠玉,饥不可食,寒不可衣……令郡国务劝农桑。

——汉景帝

(1)这段话反映了汉景帝的什么思想?