


2016年常德市初中毕业学业考试模拟试卷

历史

本书编写组 编



湖南教育出版社



9. 我国当代著名学者余秋雨说：“废墟是昨天派往今天的使者，废墟让我们把地理读成了历史。”站在南京古城墙的废墟上，我们可以“读到”的历史不包括
- A. 中国第一个不平等条约的签订 B. 中华民国成立
C. 中共一大召开 D. 国民党政权的垮台
10. 周恩来曾经说过：“新民主主义革命的历史；就是从天安门到天安门。”你认为第一个“天安门”应与哪一个重大历史事件有关
- A. 鸦片战争 B. 公车上书 C. 九一八事变 D. 五四运动
11. “芝麻赛玉米，玉米比人大。”“脚踏黄河水倒流，搬来泰山做枕头。决心苦战十五年，赶上英国不发愁。”“只要我们需要，要生产多少就可以生产多少粮食来。”这些“豪言壮语”反映了
- A. 土地改革的成果 B. 农业合作化初见成效
C. “大跃进”时的浮夸风 D. 土地承包调动了农民的积极性
12. “创新是一个民族的灵魂。”新中国成立以来的下列重大事件中，充分体现中国共产党的创新精神的有
- ①第一个五年计划的实施 ②对资本主义工商业采取“公私合营”的方式进行社会主义改造
③“一国两制”的构想 ④家庭联产承包责任制
- A. ①②③ B. ①②④ C. ②③④ D. ①②③④
13. 20世纪90年代以来，我国实施“科教兴国”发展战略，科教兴国的奠基工程是
- A. 九年义务教育 B. 小学教育 C. 中等教育 D. 高等教育
14. 《古巴比伦的兴衰》一书中收录了这样一个案例：奴隶阿卜对主人尼布说“你不是我的主人”，结果阿卜被判处割掉耳朵。阿卜被判刑的法律依据是
- A. 《汉谟拉比法典》 B. 《权利法案》
C. 《拿破仑法典》 D. 《人权宣言》
15. 17、18世纪，英、美、法三国资产阶级革命的共同意义有
- ①都推翻了外国的殖民统治 ②都建立了资本主义制度 ③都以启蒙思想为革命的指导思想
④都促进了资本主义的发展
- A. ①③ B. ②③④ C. ①②④ D. ②④
16. 在战争中诞生的美国，又不断通过战争“受益”。有一次战争，扫清了资本主义进一步发展的障碍，为美国成为世界上最发达的资本主义强国奠定了坚实的基础。这次战争是
- A. 美国独立战争 B. 美国南北战争 C. 第一次世界大战 D. 第二次世界大战
17. 19世纪末20世纪初，爱迪生、本茨登上各国媒体的头版头条，这主要是因为他们发明了
- A. 灯泡、蒸汽机 B. 灯泡、内燃机 C. 飞机、汽车 D. 灯泡、汽车
18. 1942年，美国印制的一份海报，印制“united”“win”等宣传语和美、英、苏等国的国旗。此海报与下列哪一文献的签署密切相关
- A. 《巴黎和约》 B. 《马歇尔计划》 C. 《联合国宣言》 D. 《雅尔塔协定》
19. 20世纪以来，国际格局经历了凡尔赛—华盛顿体系、雅尔塔体系、多极化趋势的演变，这三种格局的相同点
- ①合作与对抗并存 ②大国作用举足轻重 ③带有强权政治色彩 ④在世界大战后形成
- A. ①②③ B. ①②④ C. ①③④ D. ②③④
20. “果粉”是用来形容热衷于美国苹果公司产品的用户，而该公司的产品是由美国、

中国、韩国等多国分工协作生产零部件后组装完成的，这反映出世界经济的发展趋势是

A. 政治多极化 B. 经济区域集团化 C. 政治多元化 D. 经济全球化

21. 曾被译成多种外文，并于 1951 年获斯大林文学奖金的长篇小说《太阳照在桑干河上》的作者是

A. 丁玲 B. 沈从文 C. 周立波 D. 田汉

22. 下列关于湖南古代科技成就的表述，正确的是

①位居“五大陶都”之一的湖南铜官陶始创于唐代 ②东汉时，耒阳人蔡伦改进造纸术，发明了植物纤维纸 ③闻名海内外的浏阳花炮最早出现于唐代 ④世界名瓷醴陵瓷创始于宋代。

A. ①②③ B. ①②③④ C. ②③④ D. ①③④

23. 提出“师夷长技以制夷”主张的魏源，被誉为近代开眼看世界的先进的中国人之一。他的籍贯是

A. 湖南隆回 B. 湖南双峰 C. 湖南湘阴 D. 湖南浏阳

24. 下列关于湖湘名将曾国藩的表述，正确的有

①以封建礼教作为治军的基本原则，创建湘军 ②创办了洋务派的第一个近代军事工业——安庆内军械所 ③曾写下“身无半文，心忧天下；手释万卷，神交古人”的对联以铭心志，成为晚清洋务派的著名代表人物之一 ④打败阿古柏侵略军，收复了新疆地区

A. ①② B. ①②③ C. ②③④ D. ①④

25. 被孙中山称为“再造民国第一人”的是

A. 黄兴 B. 蔡锷 C. 蔡元培 D. 梁启超

二、材料分析题(共 50 分)

26. 中国古代文明源远流长，让我们穿越时光隧道，共同回顾历史。阅读下列材料，回答问题。(13 分)

[春秋战国时期]

材料一 春秋战国时期，社会急剧变化。这一时期，社会的物质生产、生活有了很大的改观，这得益于生产工具的改进和技术的进步。……围绕着“争霸”战争的需要，春秋以至战国的整个历史阶段内，诸侯国都在不停地进行着改革。经过改革，公室宗族逐渐衰亡，卿族甚或平民贵族势力增强。这些都为文化的理性主义和人本思潮的兴起奠定了社会物质基础。

——摘自潘俊杰、魏婧《春秋战国时期的文化转型》

(1) 结合所学知识思考，春秋战国时期，社会性质发生了怎样急剧的变化？根据材料一，归纳出推动社会变化的因素。(6 分)

[隋唐时期]

材料二 隋唐时，重新建立起大一统的帝国并且使之更为完善。接下来 100 年间的和平与繁荣使唐时的国力大大超过了汉朝，同时制度和文化也取得了突破性进展，而这一进展反过来又推动了国家的全面发展。长安城中云集了各国的商人和使节，他们也将各种宗教带到了中国。……

——费正清《中国：传统与变迁》

(2) 结合所学知识，指出隋唐时期在政治制度上取得的“突破性进展”。依据材料，

结合所学知识，概括隋唐时期的阶段特征。(4分)

[宋元时期]

材料三 国土的分裂并没有阻挡经济的发展……(此后)中国历史上出现了第一个由少数民族建立的统一大帝国。科学技术在宋元时期硕果累累……影响了整个人类文明的进程。

——华东师范大学出版社《中国历史》(七年级)(下)

(3)说出北宋时期出现的最早的纸币名称。写出此后出现的第一个由少数民族建立的统一大帝国的建立者。写出宋元时期开始出现的一项“影响了整个人类文明的进程”的科技成果。(3分)

27. 思想解放是社会变革的先导，思想解放能促进社会的进步。在历史上，从中国到世界，从古代到近现代，一批又一批思想家站在时代的前沿，提出了先进的思想理论，吹响了时代的号角。阅读下列材料，回答问题。(13分)

材料一 春秋战国时期，垄断在贵族手中的文化教育逐步扩展。有些人创立学说，广招学生，大办私学，在思想上、学术上形成了一个繁荣局面。

材料二 臣愚以为诸不在六艺之科孔子之术者，皆绝其道，勿使并进。邪辟之说灭息，然后统纪可一而法度可明，民知所从矣。

——《汉书·董仲舒传》

材料三



图1 康有为、梁启超

材料四 我们革命的目的，是为中国谋幸福，因不愿少数满洲人专制，故要民族革命；不愿君主一人专制，故要政治革命；不愿少数富人专制，故要社会革命。

——孙中山《三民主义与中国前途》

材料五 让统治阶级在共产主义革命面前发抖吧。无产者在这次革命中失去的只有锁链，他们获得的将是整个世界。

——《共产党宣言》

材料六



图2



图3

(1)材料一中说的“创立学说，广收学生，大办私学”中最具影响力的代表人物是谁？(1分)

(2)为实现大一统，汉武帝在思想上采纳了董仲舒的什么主张？(1分)

(3)图1中的两位人物领导了哪次运动？(1分)

(4)根据材料四思考，孙中山领导中国革命的指导思想是什么？(1分)

(5)材料五中该文件的发表标志着哪一思想的诞生？中国的“无产者”在哪一年建立了自己的政党？该政党的成立有什么历史意义？(4分)

(6)图2反映的是中国历史上哪一重大历史事件？(2分)

(7)图3是改革开放30周年纪念邮票小型张。1978年，作为改革开放的开端，与中国共产党历史上哪一次重要会议密切相关？该会议对党和国家的工作重心作出了什么规定？(3分)

28. 2009年9月1日，在波兰北部维斯特普拉特半岛，波兰总理图斯克、德国总理默克尔、俄罗斯领导人普京出席了二战欧洲战争爆发70周年纪念仪式。那场空前的灾难给人类留下了太多苦难的回忆。70年来，不同国度的人们，或反思罪恶，或保存记忆，为的是铭记历史，不让类似的人间悲剧再度重演。阅读下列材料，回答问题。(12分)

材料一 一切正义或者是非正义的战争都只是政客们的一种手段，军队只不过是政客们手上利用的工具，那些积极响应战争的人们不过是受了政客们的愚弄而身不由己地被任意驱使，并且最终都将成为满足政客们一己私欲的战争牺牲品。

材料二



材料三 德国总理默克尔在纪念演说中表示，她的国家点燃了战火并给其他国家的人民带来了无穷的苦难。她说：“我在这里向二战的罹难者致敬，因为承认应为此负责任是我们的义务。”同时，她也追忆战争给德国人民带来的不幸。

材料四 俄罗斯领导人普京在致辞时说，为了战胜法西斯，全世界付出了巨大代价，5000多万人死于这场战争。普京说：“我们应该反省是什么导致了这场悲剧。”他

说，俄罗斯议会对1939年苏德签订《苏德互不侵犯条约》进行了谴责。因此，俄罗斯希望其他国家也同样谴责自己的错误。

材料五 波兰总理图斯克致辞说，没有真实的记忆，波兰和世界永远不会安全。忘却和歪曲历史的人将制造类似70年前的不幸。

- (1) 依据材料一，结合所学知识思考，中国古代的墨子是如何看待战争的？(2分)
- (2) 依据材料二，写出一战前两大军事集团中A与B的国家名称。(2分)
- (3) 一战后，通过哪些会议确定了战后的世界格局？(2分)
- (4) 依据材料三，举例说明德国法西斯在“二战”中给其他国家带来的灾难。(2分)
- (5) 依据材料四，结合所学知识分析，加速这场战争爆发的直接因素还有哪些？请举例说明。(2分)
- (6) 综合上述材料，你认为当今世界如何才能制止战争，维护世界和平？(2分)

29. (12分) 阅读下列材料，回答问题。

2012年，中国空气质量检测进入PM2.5时代。2015年，柴静调查雾霾的纪录片《苍穹之下》播出后不久，北京迎来13年来最强沙尘暴。如今，环境污染与人们身体健康的问题引起了国人的高度关注

蒸汽机的发明和机器工业兴起，使人们对能源的需求急剧增长，大面积的森林被砍伐，煤炭被开采，江河湖泊和新兴工业区的环境受到污染。因产业数量少，规模有限，这一时期的环境污染基本局限于陆地。

随着电站、化工厂的兴建和汽车、远洋货轮及飞机的问世，人类开始疯狂地开采和消耗煤炭、石油等矿物燃料，污染迅速由陆地扩展到海洋和高空，地球环境开始受到人类“立体污染”的冲击。

计算机的普及、核能的利用、人造卫星和航天飞机又将人类带入到一个全新的时代，但环境并没有因为高科技的发展而避免再遭重创。核污染、太空垃圾、电子垃圾等都成为新的环境问题。

- (1) 蒸汽机、汽车、飞机的发明者分别是谁？(3分) 为“核能的利用”奠定理论基础的科学家是谁？(1分)
- (2) 请结合史实思考，科技发展给人类带来了哪些好处？(4分)
- (3) 科技所开拓的生产力创造了高度发达的物质文明，但对科技的不当使用，又引发了严重的环境问题。哪一发明的广泛应用使得石油开采量大幅度上升？(1分) 三次科技革命对环境的破坏呈现出怎样的态势？(1分)
- (4) 汽车尾气成为空气污染的重要来源是在哪次工业革命之后？(1分) 请你就汽车尾气治理提出合理的建议。(1分)

陈独秀的文章。他们代替了已经被我抛弃的梁启超和康有为，一时成了我的楷模。”毛泽东所说的杂志当时主要宣传

A. 传统儒家思想 B. 维新变法思想 C. 民主革命思想 D. 民主和科学

9. 《2004—2010年全国红色旅游发展规划纲要》提出要培育形成12个“红色旅游区”，其中属于沪浙(上海、浙江)红色旅游区的主题是

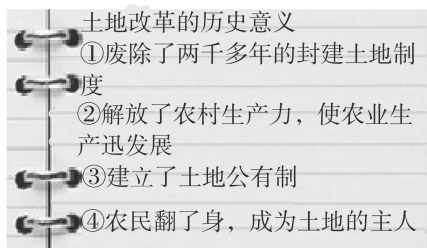
A. 开天辟地 党的创立 B. 遵义会议 生死攸关
C. 延安精神 革命圣地 D. 开国大典 国旗飘扬

10. 2015年9月2日，是世界反法西斯战争胜利70周年，也是中国人民抗日战争胜利70周年。某班历史学习小组在探究这段历史时，得出一些结论，其中错误的是

A. 卢沟桥事变标志着全民族抗战开始
B. 台儿庄战役是中国军队主动出击日军规模最大的战役
C. 日本在1945年8月15日宣告无条件投降
D. 抗战胜利是中华民族由衰败到振兴的转折点

11. 右图所示是小明同学在历史课堂上的笔记，其中与史实相符的是

A. ①②③ B. ②③④
C. ①③④ D. ①②④



12. 1983年，一位去南方打工的衡阳小伙子给

家乡亲人的信中写道：“我来到的这座城市，曾是鸦片战争中被迫开放的第一批港口之一，现在则是改革开放中建立的四个经济特区之一，国家的变化真大呀！”这个小伙子打工的城市是

A. 厦门 B. 广州 C. 海南 D. 上海

13. 有人说：“第一次工业革命时，中国正在沉睡；第二次工业革命时，中国正在挣扎；第三次科技革命时，中国开始奋起！”以下不属于中国“奋起”的是

A. 原子弹试爆成功 B. 人造地球卫星上天
C. 楼上楼下电灯电话 D. “嫦娥一号”发射成功

14. 从中国“制造”到中国“创造”，反映了中国民族工业从无到有、由弱到强的发展历程。下面的叙述中，不正确的是

A. 洋务运动中诞生了中国第一批近代工业
B. 张謇倡导“实业救国”，创办了大生纱厂
C. 三大改造完成，我国实现了工业化
D. 改革开放后，中国工业的创新水平不断提高

15. “帝国成立初期，地中海已成为帝国的内湖，各地的交通畅通无阻……商旅往来，络绎不绝。”材料中的“帝国”是

A. 亚历山大帝国 B. 古希腊 C. 罗马帝国 D. 阿拉伯帝国

16. “在公元1400年以后的200年间，欧洲绘图人笔下的几大块陆地宛如正在成长的胚胎，逐渐由模糊的团状，演变成我们今天所熟悉的清晰可见的模样。”这主要是因为

- A. 文艺复兴的兴起 B. 新航路的开辟 C. 早期的殖民活动 D. 资产阶级革命
17. 某男子生于1821年的俄国，40岁时，他的农奴身份被国家统一取消，成为法律上的“自由人”，而且可以出钱为自己购买一块“份地”。导致他的身份发生变化的是
- A. 《解放黑人奴隶宣言》的颁布 B. 1861年改革
C. 明治维新 D. 戊戌变法
18. 历史课堂讨论时，某小组对列宁的新经济政策做了如下评价，不正确的是
- A. 大大提高了劳动者的生产积极性 B. 有利于恢复苏俄的国民经济
C. 巩固了苏维埃政权的基础 D. 标志着社会主义制度确立
19. 一位美国学者在评价罗斯福新政时写道：“其实，罗斯福新政之所以成为神话，与其说是因为他经济上的成功，不如说是政治上的成功。”罗斯福新政在“政治上的成功”主要体现在
- A. 极大地改善了人民的生活 B. 使经济缓慢地恢复过来
C. 调整和巩固了资本主义制度 D. 加强了中央集权
20. 俄罗斯总统新闻发言人佩斯科夫说，他相信新的冷战没有开始，也愿意相信新冷战不会开始。美国总统奥巴马则指责普京有“冷战”思维，称美国“没有兴趣包围俄罗斯”。历史上，冷战开始和结束的标志是
- ①发表“铁幕”演说 ②杜鲁门主义出台 ③华约建立 ④苏联解体
- A. ①② B. ③④ C. ①③ D. ②④
21. 我国至今发现的最早城址，位于
- A. 湖南澧县 B. 湖南长沙 C. 湖南临澧 D. 湖南宁乡
22. 书院是中国传统文化的产物，起于唐，盛于宋。宋初，中国四大书院中，属于湖南的有
- ①岳麓书院 ②白鹿洞书院 ③石鼓书院 ④嵩阳书院
- A. ①② B. ①③ C. ②④ D. ①④
23. 被誉为“中国人民杰出的艺术家”的湖南湘潭人是
- A. 周立波 B. 沈从文 C. 田汉 D. 齐白石
24. 1938年，“文夕大火”发生于下列哪座城市
- A. 湖南长沙 B. 湖南衡阳 C. 湖南益阳 D. 湖南常德
25. 创立地洼学说，开辟大地构造研究新领域的湖南籍科学家是
- A. 刘筠 B. 袁隆平 C. 陈国达 D. 黄伯云

二、材料分析题(共50分)

26. 中国的发展离不开世界，世界的繁荣也离不开中国。历史上，中外文化交流的广泛开展，不仅使中华文明更加辉煌，而且促进了世界文明的发展。让我们共同探究中国的前进步伐，阅读材料，回答问题。(13分)

材料一 有人曾说：“郑和是中国第一位航海英雄。他下西洋，跟公元前2世纪张骞出使西域一样，都是为中国凿开了一个过去很少人知道的、混沌而广大的天地。”

(1)材料一中张骞出使西域发生在什么朝代?(1分)结合所学知识分析，丝绸之路的开辟有什么影响?(1分)

(2)郑和下西洋中的“西洋”是指哪里?(1分)他率领的船队，最远到达的地方是哪

里? (1分)

材料二 中国代表团是来求同的,而不是来立异的。在我们之间有没有求同的基础呢?有的。那就是我们大家所共同承认的,都曾经受过并且现在仍然在经受着殖民主义所造成的灾难和痛苦。……大家应该承认在亚非国家中是存在着不同的思想意识和不同的社会制度的,但这并不妨碍我们求同和团结。

——周恩来在某次会议上的演讲

(3)该演讲是周恩来在哪次国际会议上发表的?(1分)

材料三 吴建民也肯定是“非洲兄弟把我们抬进去的”,中国恢复联合国合法席位的一大背景是全世界范围内民族解放运动的高涨。吴建民说:“我国一直支持这些国家的民族解放运动,给予过他们很多帮助,因此一直获得亚非一些国家的支持。”

(4)作出恢复新中国合法席位的决定是第几届联合国会议?(1分)会议中支持新中国恢复联合国合法席位的是哪些国家?(1分)

材料四 中央财经领导小组第八次会议指出:在新时期,“一带一路”建设有利于我国扩大和深化对外开放。经过30多年的改革开放,我国经济正在实现从引进来到引进来和走出去并重的重大转变,已经出现了市场、资源能源、投资“三头”对外深度融合的新局面。

——东南网《“一带一路”建设是新一轮改革开放重大平台》

(5)20世纪80年代,中国打开国门,设立的经济特区有哪些?(5分)

(6)“一带一路”描绘出亚、非、欧合作的新蓝图,你认为我国应该怎样才能带领亚非国家实现愿景?(1分)

27. “南昌起义”“井冈山革命根据地”“长征”“遵义”“一切反动派都是纸老虎”“十一届三中全会”“改革开放”“香港回归”……真正的中国人永远不会忘记这些字眼,每一个词语的背后都记录着中国共产党的奋斗与成长。让我们一起走“近”党,感受党的伟大。(13分)



图1



图2



图3

凤阳县农业产量三年三大步

| | |
|---------|---------|
| 1980年产粮 | 5.02亿千克 |
| 1981年产粮 | 6.70亿千克 |
| 1982年产粮 | 7.15亿千克 |

图4

[成立篇]自从有了中国共产党,中国革命的面貌就焕然一新了。

(1)结合图1思考,中国共产党的诞生地在哪个城市?2016年是中国共产党诞生多少周年?(4分)

[创业篇]在中国共产党的创业过程中,离不开杰出人物的英明领导。图2和图3

所示人物都为中国人民找到了正确的道路。

(2)结合所学知识,请各用一句话从革命和建设两个方面评价他们的贡献。(2分)

[辉煌篇]

(3)历史上,国共两党进行过两次合作,推动中华民族的振兴。两次国共合作分别取得了什么成果?(4分)

(4)有数据显示,中国在2010年成为世界第二大经济体。中国共产党在改革开放之后作出的哪一重大决策,表明中国从真正意义上开始融入世界经济发展潮流?(1分)

(5)中国共产党始终代表中国最广大人民的根本利益,“执政为民”。结合图4思考,中国农民走上富裕的道路得益于新时期中国共产党在农村推行的什么政策?(1分)

[感悟篇]

(6)回顾近代中国的近代化探索过程和中国共产党的奋斗历程,我们可以得到怎样的启示?(1分)

28. 2015年是世界反法西斯战争胜利70周年,也是联合国成立70周年。在这个节点,人们对国际关系会有新的审视和思考,什么样的国际关系是当今世界所需要的?阅读材料,回答问题。(12分)

材料一 斯大林说:“在第一次世界大战以后,战胜国,主要是英国、法国和美国建立了一种新的国际关系制度,即战后和平制度。”

(1)材料一中所说的“和平制度”指的是一战后形成的国际关系体系。为确立这一“战后和平制度”,帝国主义列强召开了哪两次重要的国际会议?(2分)这两次重要的国际会议签署的哪两个条约对中国造成了严重危害?(2分)

材料二 一、维持国际和平及安全,并为此目的:采取有效集体办法,以防止且消除对于和平之威胁,制止侵略行为或其他和平之破坏……二、发展国际以尊重人民平等权利及自决原则为根据之友好关系……三、促成国际合作,以解决属于经济、社会、文化及人类福利性质之国际问题,且不分种族、性别、语言或宗教,增进并激励对于全体人类之人权及基本自由之尊重。

——《联合国宪章》

(2)建立材料二中的组织是哪次会议决定的?(1分)起到了什么作用?(1分)

材料三 2009年,日本的鸠山由纪夫在美国《纽约时报》发表文章《日本的新道路》一文。他认为:日本不能忘记自己“亚洲国家”的身份;在不太遥远的未来,中国经济的规模将超过日本。目前存在的领土争端等问题……欧洲的经历告诉我们,地区一体化能够化解领土争端。

——杨晋《“普遍崛起”下的东亚》

(3)材料三中标志着欧洲走向地区一体化的组织是什么？鸠山由纪夫认为解决亚洲领土争端的可行性方式是什么？(2分)

材料四 国家主席习近平 22 日在雅加达应约会见日本首相安倍晋三，就中日关系交换意见。习近平指出，历史问题是事关中日关系政治基础的重大原则问题。希望日方认真对待亚洲邻国的关切，对外发出正视历史的积极信息。中国坚定不移走和平发展道路，希望日本同中国一道沿着和平发展的道路走下去，共同为国际和地区和平、稳定、繁荣作出更大贡献。

(4)材料四中习近平要求日方“正视”的历史是指什么？中国发展的道路是什么？(2分)

(5)综合材料三和材料四思考，当今世界国与国相处需要建立怎样的国际关系？(2分)

29. 全球化是客观事实。根据所学知识，回答问题。(12分)

(1)有人认为，经济全球化经历了三次浪潮。第一次从 1500 年前后开始……第二次从 19 世纪初到一战前……请写出第一次浪潮开始的史实依据；以交通工具为例，举出推动第二次浪潮形成的两个重大发明。(2分)

(2)阅读下列关于第三次浪潮的材料，回答问题。

| | | |
|---|---|--|
|  |  | 由于不公正的国际经济秩序，经济全球化并没有使广大发展中国家从中受益，反而造成……富国愈富，穷国愈穷。 ——卡斯特罗 |
| 材料一 | 材料二 | 材料三 |

根据材料，指出第三次浪潮形成的根本动力、表现和存在的问题，分析存在问题的主要原因。(4分)

(3)人民网的《中国入世十年：改变自己影响世界》中报道：“加入世界贸易组织 10 年，中国在世界贸易组织中的比重从 4.3% 提高到 10.4%，成为世界第一大出口国……中国国内生产总值从全球排名第六位跃居到第二位，年均增速 11%……中国平均每年进口 7500 亿美元的商品相当于为贸易伙伴创造了 1400 万个就业岗位。”

20 世纪 80 年代末 90 年代初，为了顺应经济全球化潮流，我国采取了哪些重大举措？根据材料，指出中国融入经济全球化的影响。(4分)

(4)综合上述材料，谈谈你对经济全球化的认识。(2分)

转折点，在慈禧太后身上，民族战争失败的同时又意味着民族抵抗意识的全部丧失。”与“转折点”直接相关的不平等条约是

- A. 《南京条约》 B. 《北京条约》 C. 《马关条约》 D. 《辛丑条约》

8. 2014年2月27日，第十二届全国人大常委会第七次会议经表决通过了将12月13日确定为国家公祭日的决议，是为了让我们铭记

- A. 旅顺大屠杀 B. 九一八事变 C. 七七事变 D. 南京大屠杀

9. 漫画是一种具有强烈的讽刺性或幽默型的绘画，右下图揭示的是哪一历史事件

- A. 新文化运动
B. 洋务运动
C. 戊戌变法
D. 辛亥革命



10. 2011年2月20日，新一代高速动车组和时速400千米高速综合检测列车在京沪高铁开通。这是中国铁路发展史上的里程碑。中国铁路发展到今天的成就，我们不能不记住中国铁路第一人

- A. 盛宣怀 B. 李鸿章 C. 袁世凯 D. 詹天佑

11. 电视剧《亮剑》成功地塑造了八路军独立团团长李云龙和国民党晋绥军某部团长楚云飞的形象。右图是剧中李云龙和楚云飞共同抗日的情景，你认为出现该情景的原因是



- ①国共两党的阶级立场相同 ②抗日民族统一战线的形成 ③国共两党坚持的抗战路线相同 ④中日民族矛盾成为当时中国社会的主要矛盾

- A. ①② B. ③④ C. ②④ D. ①③

12. 中国共产党的历史，是一部争取民族解放的历史，也是一部进行不懈武装斗争并取得胜利的历史。下列四个事件按时间先后顺序排列，正确的是



- ①井冈山会师 ②南昌起义 ③长征胜利 ④解放南京

- A. ③①②④ B. ①②③④ C. ②①③④ D. ④①③②

13. 下表反映了我国在“一五”时期各部门的投资比例，由此可知，我国当时

| 部门 | 工业 | 交通运输 | 农林水利 | 文化教育 | 其他 |
|------|-------|-------|------|------|------|
| 投资比例 | 58.2% | 19.2% | 7.6% | 7.2% | 7.8% |

- A. 优先发展农业 B. 优先发展工业
C. 优先发展交通运输业 D. 优先发展文化教育

14. 邓小平说：“统一后，台湾仍搞它的资本主义，大陆搞社会主义，但是是一个统一的中国。”这一观点表明

- A. 统一是历史发展的趋势 B. 解决台湾问题的前提是一个中国原则
C. “一国两制”只适用于台湾问题 D. 反对美国插手中国内政

15. 有人把新中国成立以来重大外交成就编成下面的歌谣，歌谣对应的事件按时间先后排列，正确的是
 ①美总统，来访华，促进中美正常化 ②联合国，大厦前，五星红旗迎风飘
 ③英和葡，降国旗，领土回归国威长 ④周恩来，去两印，五项原则作用大
 A. ①②③④ B. ②③①④ C. ②③④① D. ④②①③
16. 有同学搜集了希波战争、亚历山大东征、日本大化改新、马可·波罗来到中国的相关书籍，他研究的课题最可能是
 A. 游牧文明与农耕文明的对话 B. 古代文明之间的暴力冲撞
 C. 古代东西方文化的和平交流 D. 古代文明的冲撞与交融
17. “直到 1500 年前，大西洋一直是一道栅栏、一个终点。但在 1500 年左右，它一变而成为一座桥梁、一个启程之地。”世界上，最早率船队通过这座“桥梁”到达美洲的是
 A. 迪亚士 B. 达·伽马 C. 哥伦布 D. 郑和
18. “英国几乎有半个世纪没有平静下来，直到 1688 年的所谓光荣革命为止，那几十年中一系列激动人心的事构成了英国革命。”英国革命后通过了
 A. 《权利法案》 B. 《独立宣言》 C. 《人权宣言》 D. 《拿破仑法典》
19. 对于 20 世纪三四十年代苏联的政治经济模式，有学者认为：从富国强兵的角度来说，成绩是辉煌的，但从社会的全面发展来说，是不成功的。其“不成功”主要体现在
 A. 没有使国家强大 B. 没有走上社会主义道路
 C. 农业发展落后 D. 不利于国家可持续发展
20. 中国人喝着美国的可口可乐，美国人用着韩国的三星手机，非洲人开着中国的奇瑞汽车……这种现象主要说明
 A. 人们生活方式现代化 B. 世界经济全球化
 C. 社会物质产品多样化 D. 世界格局多极化
21. 红军在长征途中开始获得军事主动权的事件是
 A. 红六军团西征
 B. 中央红军在长征初期突破敌人的四道封锁线
 C. 中央红军通道转兵
 D. 红二、六军团开始长征
22. 外省人特别是江西一带的人口，因“从征”“屯垦”和从事商贸等，大批涌进湖南，史称“江西填湖广”。这一现象发生在
 A. 秦朝 B. 唐朝 C. 明朝 D. 清朝
23. 维新变法期间，湖南是“全国最富有朝气”的维新省份。湖南维新变法的代表人物有
 ①曾国藩 ②左宗棠 ③陈宝箴 ④熊希龄 ⑤谭嗣同
 A. ①②③④⑤ B. ①②③④ C. ②③④ D. ③④⑤
24. 解放战争时期，湖南是全国少数几个以和平方式获得解放的地区之一。下列为湖南和平解放做出了贡献的国民党将领有

①白崇禧 ②程潜 ③陈明仁 ④李宗仁

A. ①②

B. ③④

C. ②③

D. ③④

25. 1921年，创办中国共产党第一个出版社——人民出版社的是湖南永州人

A. 李达

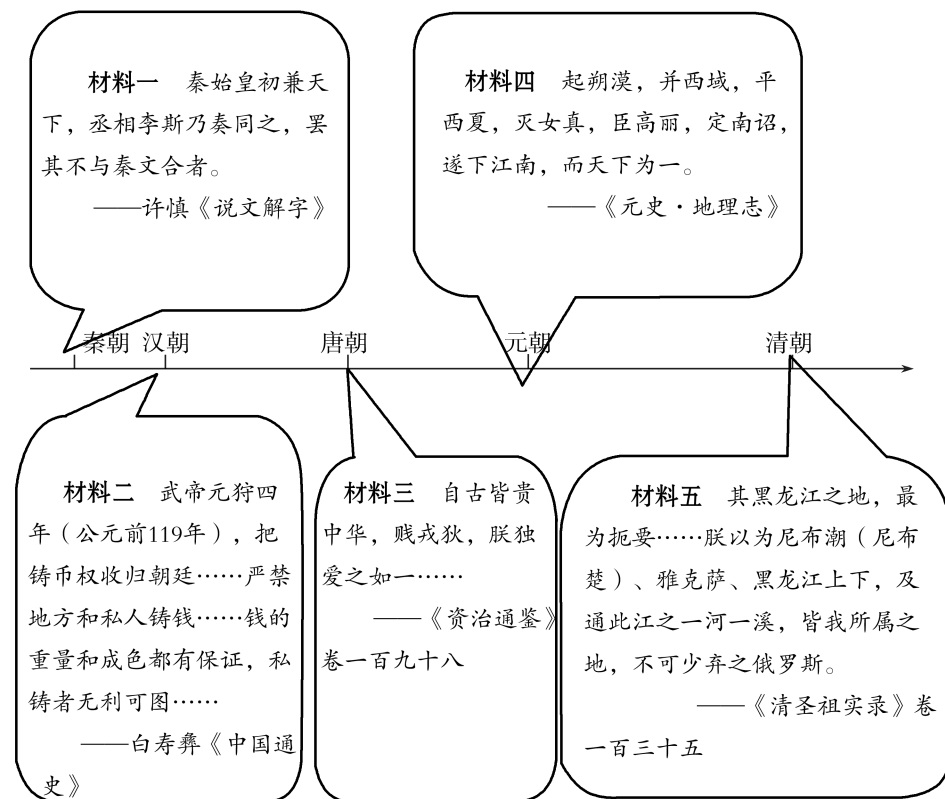
B. 翦伯赞

C. 吕振羽

D. 周谷城

二、材料分析题(共50分)

26. 纵观世界历史，古国文明源远流长；中国文明源远流长，成就辉煌，这是极为难得的。中国文明之所以没有中断，与统一多民族国家的发展和巩固密切相关。阅读下列材料，回答问题。(13分)



(1) 根据材料一，概括秦始皇巩固统一的措施，说出该措施的影响。(3分)

(2) 汉武帝将铸币权收归中央，铸造了什么货币？根据材料二，概括汉武帝将铸币权收归中央的影响。(3分)

(3) 根据材料三，概括唐太宗实行的民族政策的特点。列举一项唐太宗处理民族关系的具体措施。(3分)

(4) 为了实现材料五的目标，清圣祖(康熙帝)采取了哪些措施？(2分)

(5) 综合上述材料，谈谈你对巩固统一多民族国家的认识。(2分)