



目 录

一、万以内数的认识	(1)
写数 读数	(2)
大小比较	(4)
较大数的比较	(5)
二、千米的认识	(6)
综合练习(一)	(8)
三、三位数的加减法	(11)
加减法的估算	(13)
三位数的加法	(14)
三位数的减法	(16)
探索规律	(19)
问题解决	(21)
综合练习(二)	(23)
综合练习(三)	(27)
四、认识图形	(31)
长方形和正方形的认识	(31)
平行四边形	(32)
拼组图形	(33)
五、有余数的除法	(34)
综合练习(四)	(36)
六、时分秒	(39)
认识钟表	(39)
问题解决	(41)
收集与整理	(45)





统计图	(47)
综合练习 (五)	(50)
全册综合练习 (一)	(54)
全册综合练习 (二)	(58)
部分参考答案及建议	(63)



一、万以内数的认识

1. 填一填。

(1) () 个一是十, () 个十是一百, 十个 () 是一千, 10 个 () 是一万。

(2) 0 100 200 () () 500 () 700 () () ()

2. 画一画。(在方框内画“☆”)

万	千	百	十	个

一千

万	千	百	十	个

一百

万	千	百	十	个

一万

3. 填空。

(1) 九个一百是 (), 5000 里有 () 个一千。

(2) 七百往后数 () 个一百是 1000。

(3) 5000 往后数 5 个一千是 ()。

(4) 接着写: 400、500、600、_____、_____、_____、_____。6000、7000、_____、_____、_____。

4. 认一认, 填一填。

千	百	十	个
☆☆		☆☆	
☆		☆☆	☆☆
		☆☆	

() 个千和 () 十和 () 个一组成的数是 ()。

5. 五百九十是由 () 个百和 () 个十组成的。

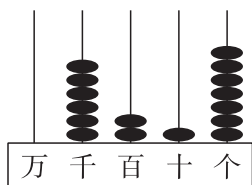
八千零七十五由 () 个千和 () 个十和 () 个一组成。



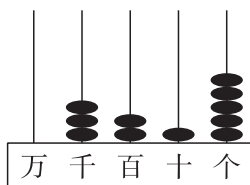


写数 读数

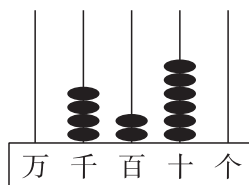
1. 写一写。



写作 ()



写作 ()



写作 ()

2. 读一读，连一连。



三千零四



3400



三千零四十



3040



三千四百



3004



三千四百零二



3402

3. 填一填。

(1)	…	() 位	() 位	() 位	() 位	() 位
-----	---	-------	-------	-------	-------	-------

(2) 9876 是一个 () 位数，它的最高位是 () 位。

(3) 10 个 () 是一千，10 个一千是 ()。



4. 写出下面的数。

三千二百五十六 写作 _____

七千零八 写作 _____

六千五百三十 写作 _____

八千零八十 写作 _____

5. 3627 的 7 在 () 位上, 表示 ()。

5074 的 7 在 () 位上, 表示 ()。

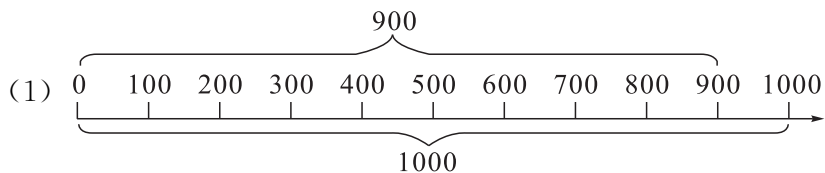
1799 的 7 在 () 位上, 表示 ()。

7864 的 7 在 () 位上, 表示 ()。

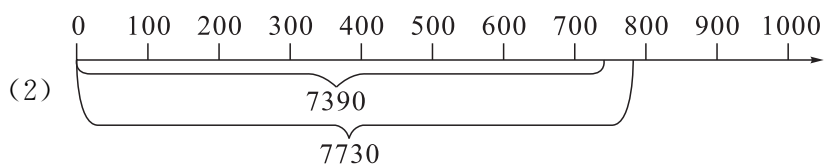


大小比较

1. 在○里填上“>”或“<”。



900 ○ 1000



7730 ○ 7390

2. 在○里填上“>”或“<”。

999 ○ 1111

50011 ○ 4999

6702 ○ 6490

3455 ○ 3487

3. 连一连。

500 比 496

大得多

500 比 990

大一些

7760 比 1020

小得多

7660 比 7700

小一些





较大数的比较

1. 算一算。

$72 \div 8 =$

$7 \times 6 =$

$40 - 8 =$

$4 \times 9 =$

$88 + 12 =$

$3 \times 5 =$

$45 \div 5 =$

$7 \times 2 =$

$3 \times 5 =$

$67 - 17 =$

$17 + 33 =$

$8 \div 8 =$

2. 估一估。



大约有 100 颗



大约有 () 颗

3. 回家做一做，估一估。

一小碗花生米大约有多少粒？

(1) 先数一把有 () 粒。

(2) 一共有 () 把。

(3) 一碗花生米大约有 () 粒。



二、千米的认识

1. 填空。

(1) 20 步大约有 10 m 长, 200 步大约有 () m, 2000 步大约有 () m 长。

(2) () 米 = () 千米 = () 公里 = 1 km。

(3) 较短的距离用 () 作单位, 较长的距离用 () 作单位。

2. 2 cm = () mm

700 米 = () 公里

4000 m = () km

9 千米 = () 米

3. 在○里填“>”“<”或“=”。

6900 m ○ 7 km

3 km ○ 3000 m

8 km ○ 8100 m

51 dm ○ 5 m

4. 口算。

$67 + 23 =$

$210 - 70 =$

$280 + 500 =$

$81 - 42 =$

$506 + 320 =$

$1000 - 400 =$

$960 + 30 =$

$72 - 49 =$

$500 - 40 =$

$710 - 80 =$

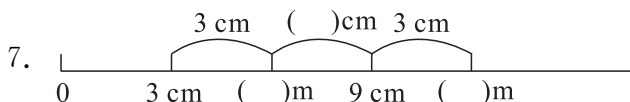
$286 + 47 =$

$320 - 60 =$

5. 我们学过的长度单位有哪些? 请整理如下:



6. 量一量你大拇指甲的宽度, 约是 () mm。





8. 连线。

公交车长 8 () km

中指长 5 () m

长颈鹿高 5 () dm

一个本子厚 3 () cm


一颗门牙宽 8 () mm

猎豹每小时跑 120 ()

一个小孩身高 12 ()

9. 一段路，已经走了 900 米，剩下 2 千米没走，这段路全长多少米？



※10.  如果 $\bigcirc + \bigcirc + \bigcirc + \triangle = 60$, $\bigcirc + \triangle + \triangle = 40$

那么: $\bigcirc =$ _____ $\triangle =$ _____



综合练习 (一)

一、算一算。

$63 \div 9 =$

$5 \times 4 =$

$36 \div 6 =$

$7 \times 2 =$

$54 \div 6 =$

$62 + 28 =$

$24 \div 8 =$

$79 - 9 =$

$8 \times 1 =$

$32 \div 4 =$

$30 + 70 =$

$30 \div 5 =$

$72 \div 8 =$

$42 \div 7 =$

$18 \div 3 =$

$21 + 3 =$

$42 + 24 + 9 =$

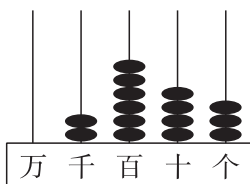
$4 \times 8 + 5 =$

$64 \div 8 - 8 =$

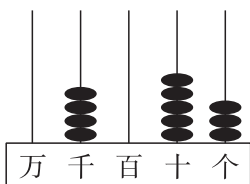
$7 \times 7 - 39 =$

二、填一填。

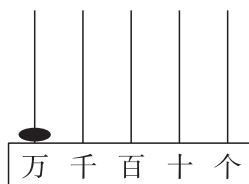
1. 看图填数。



()



()



()

2. 接着写。

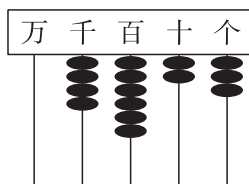
(1) 960、970、980、()、()、()

(2) 9500、9600、9700、()、()、()

(3) 9995、9996、9997、()、()、()

3. 在右图中, 有 () 个千、() 个百、() 个十, 和 () 个一。

这个数写作 ()。





4. 连一连。

三千六百四十五	7002
七千零二十	3645
七千零二	6032
六千三百零二	7020
六千零三十二	6302

5. 照样子填空。

$$5987 = \boxed{5000} + \boxed{900} + \boxed{80} + \boxed{7}$$

$$4637 = \boxed{} + \boxed{} + \boxed{} + \boxed{}$$

$$8095 = \boxed{} + \boxed{} + \boxed{}$$

$$3060 = \boxed{} + \boxed{}$$

6. 用 0、0、9、4 组成一个只读一个零的四位数是 (), 一个零也不读的四位数是 ()。

7. 把 875、954、978、632、477、988、289、406 按从小到大的顺序填在下面的 () 中。

() < () < () < () < () < () < () < ()



三、判断。对的画“√”，错误的画“×”。

- 最大的 4 位数是 9000。 ()
- 六千零二十写作 600020。 ()
- 10 个一千加起来等于一万。 ()

四、选择。把正确答案下的○涂成●。

1. 3 个一、2 个十、5 个一千组成的数是

- | | | | |
|-----------------------|-----------------------|-----------------------|-----------------------|
| 3250 | 5230 | 5203 | 5023 |
| <input type="radio"/> | <input type="radio"/> | <input type="radio"/> | <input type="radio"/> |



2. 在读 7009 这个数时

一个零也不读 只读一个零 两个零都要读 两个零都不读

3. 一小碗花生米的颗数比 200 多一点, 这碗花生米可能有

180 颗

210 颗

290 颗

310 颗

五、估一估。



一串葡萄约有 200 颗, 这样的 4 串葡萄大约有 () 颗。

六、我能解决问题了。

1. 勤劳的小刺猬。

原来有 300 个苹果, 我已经运走了 200 个。



现在还剩 () 个苹果。

2. 拍球玩。

我拍了 8 下。

我拍了 24 下。



东东

明明

(1) 明明比东东多拍多少下?

答: 明明比东东多拍 () 下。

(2) 明明拍的次数是东东的多少倍?

答: 明明拍的次数是东东的 () 倍。



5. 你会验算吗?

$30 + 80 = \square$

检验: _____

$400 + 500 = \square$

检验: _____

$70 - 30 = \square$

检验: _____

$850 - 800 = \square$

检验: _____

6.



男生 400 人



女生 450 人

共 () 人

$\square \bigcirc \square = \square$

7. 某商场 2008 年冰箱销售情况:

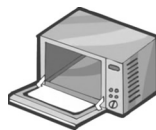
西门子冰箱 (台)	新飞冰箱 (台)	总计 (台)
50		80

$\square \bigcirc \square = \square$

8. 用 900 元买商品。



600 元



1000 元

买洗衣机还剩多少元?

$\square \bigcirc \square = \square$

买微波炉还差多少元?

$\square \bigcirc \square = \square$



加减法的估算

1. 算一算。

$60+20=$

$800-400=$

$100+50=$

$700+200=$

$90-50=$

$240-40=$

2. 选一个你认为合适的答案，在下面画“√”。

(1) 一本故事书有 194 页，另一本字典有 517 页，两本书一共大约有 ()。

600 页

700 页

800 页

(2) 爸爸原来有 897 元，买一件衣服用了 105 元，他还剩 ()。

约 600 元

约 700 元

约 800 元

3.



工具书 98 本



童话书 308 本

共大约 () 本

$$\square \bigcirc \square = \square$$

4. 估算。

$790+207\approx$

$894-215\approx$

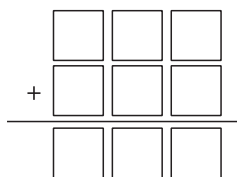
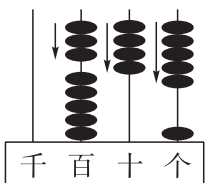
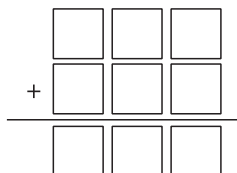
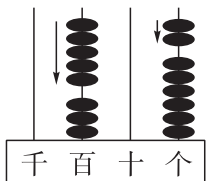
$111+692\approx$

$904-589\approx$



三位数的加法

1. 你会算吗?




2. 算一算。

金果园

苹果 (kg)	594
梨 (kg)	212
合计 (kg)	

$594 + 212 = \square \text{ (kg)}$

先估算, $594 + 212$ 约等于 ()。



3. 先估算, 再计算。

$167 + 333 =$

$415 + 528 =$

$449 + 357 =$

$278 + 630 =$

4. 在□里填上适当的数。


$$\begin{array}{r} 727 \\ \times 23\square \\ \hline \square 63 \end{array}$$

$$\begin{array}{r} 17\square \\ \times 3\square 8 \\ \hline 504 \end{array}$$

$$\begin{array}{r} \square \square 8 \\ \times 61\square \\ \hline 9\square 6 \end{array}$$



5. 有 3 个小朋友的身高如下 (单位: 厘米):



- (1) 小强身高多少厘米?
- (2) 小华身高多少厘米?
- (3) 你还能提出哪些问题? 算一算。



6. 解决问题。



685 元



346 元

1000 元能把这些粮食买回去吗?



请在下面写写你的理由。