



能力评价

NENGLI PINGJIA

初中卷

◆ 主编 / 黄步高 刘新民



地理

八年级

下册

人教版

CES 湖南教育出版社

湘教
考苑

能力评价

NENGLI PINGJIA

初中卷

◆ 主编 / 黄步高 刘新民



地理

八年級

下册

人教版

CBS 湖南教育出版社

编者的话

新

理念新：贯彻最新教育教学理念，以最新《课程标准》和教材为依据，将考试内容、命题探索和能力提升融为一体。

习题新：选取全国各地最新试题以及名校的精华试题，特别选择具有原创价值的新题，进行合理科学的选取或者改编。

精

策划精：试卷设计为活页，便于教学细节的监控和管理，在版式设计上注意合理设计答题空和分值统计，方便学生的作答和老师的快速批改与及时反馈。

选题精：单元、月考、期中、分类复习、期末测试题的设置博观而约取，精选试题，保证题型新颖，情境鲜活，梯度合理，充盈着浓浓的时代气息。

全

类别全：整体融合单元、月考、期中、分类复习、期末测试卷的科学化设计，倡导自主、合作、探究的学习方式。引领学生挑战自我，达成高分目标，体验成功的快乐。

检测全：紧紧抓住各科要求的基础点、重点、难点、疑点、热点，分阶段帮助学生提升综合素质和能力。力求通过实战，增强实效，提高实力。

目 录

第五章测试卷	1
第六章测试 A 卷	3
第六章测试 B 卷	5
月考试卷一	7
第七章测试 A 卷	9
第七章测试 B 卷	11
第八章测试卷	13
第九、十章测试卷	15
月考试卷二	17
分类复习卷一	19
分类复习卷二	23
期中测试卷一	25
期中测试卷二	29
期末测试卷一	33
期末测试卷二	37
参考答案与解析	41

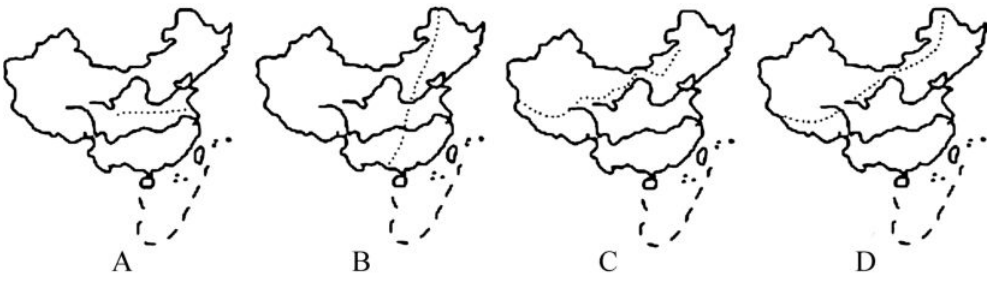
第五章测试卷

测试时间:60分钟 总分:100分

题号	一	二	总分
得分			

一、选择题(下列各小题的四个选项中,只有一项符合题意。每小题2分,共50分)

1. 我国疆域辽阔,各地环境千差万别。这里说的“差别”主要体现在 ()
 - A. 地理位置、自然、人文条件方面
 - B. 自然条件方面
 - C. 人文条件方面
 - D. 地理位置方面
2. 我国的三大平原位于地势的 ()
 - A. 第一级阶梯
 - B. 第二级阶梯
 - C. 第二、三级阶梯
 - D. 第三级阶梯
3. 下列区域中,属于我国省级行政区域的是 ()
 - A. 长春市
 - B. 东北地区
 - C. 内蒙古自治区
 - D. 北方地区
4. 下列有关我国地理区域的说法,不正确的是 ()
 - A. 我国的行政区域基本上可划分为省(自治区、直辖市和特别行政区)、县(自治县、市)、乡(镇)三级
 - B. 自然区域中的温带可划分为暖温带、中温带、寒温带
 - C. 地理区域的划分是绝对的,如长江三角洲只能是自然区域
 - D. 我国的四大地理区域分别是北方地区、南方地区、西北地区和青藏地区
5. 下列有关行政区域的描述,正确的是 ()
 - A. 我国西北地区最大的省级行政区是内蒙古
 - B. 纬度最低的省级行政区是广东省
 - C. 纬度最高的省级行政区是黑龙江省
 - D. 江西省是沿海省级行政区
6. 与我国1月0℃等温线大致接近的分界线是 ()
 - A. 横断山脉
 - B. 天山—阴山一线
 - C. 巫山—雪峰山一线
 - D. 秦岭—淮河一线
7. 图中表示我国南北方地理分界线的是 ()



8. 我国地域辽阔,不同地区自然环境差异大。依据各地的地理位置、自然环境和人文特点,可以将我国划分为四大地理区域。读图,下列说法中正确的一组 ()

- ①a线大致与我国季风区和非季风区的分界线一致 ②b线大致与南方地区和北方地区的分界线一致 ③乙地区的传统民居墙体厚,屋顶坡度小 ④甲地区煤炭、石油资源丰富

富 ⑤丙地区水草茂盛,牦牛、藏山羊是本区著名的畜种

- A. ①②③
- B. ②④⑤
- C. ①②④
- D. ③④⑤

9. 众所周知,秦岭—淮河一线是我国重要的一条地理分界线。假如没有秦岭,下列可能出现的地理现象是 ()

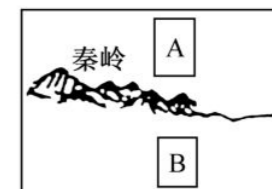
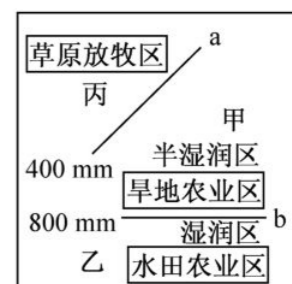
- A. 黄河流量将变得更小
- B. 长江江面1月可能结冰
- C. 长沙地区的冬季将会比以前更温暖
- D. 南方地区和北方地区的自然环境将没有差异

10. 关于秦岭—淮河一线的叙述,正确的是 ()

- A. 我国400毫米年等降水量线经过的地方
- B. 我国北方地区与南方地区的分界线
- C. 我国10℃等温线经过的地方
- D. 我国季风区与非季风区的分界线

11. 关于右图中A、B两地的说法,正确的是 ()

- A. A地的年降水量一般在800mm以上
- B. B地1月平均气温一般在0℃以下
- C. 由于受秦岭阻挡,B地几乎不受冬季风的影响
- D. 雨热同期是A、B两地共同的气候特征



12. 下列关于我国四大地理区域差异对人类活动影响的叙述,正确的是 ()

- A. 南方地区河流众多,船舶是传统的交通工具
- B. 北方地区多为旱地,民居多为吊脚楼
- C. 西北地区干旱,发展了基塘农业
- D. 青藏地区为高寒牧区,牲畜以三河马、三河牛为主

13. 北方地区和南方地区的划分与下列地理要素有关的是 ()

- A. 与我国7月平均气温大于或小于0℃有关
- B. 与能否被夏季风影响有关
- C. 与地形海拔是否高于3000米有关
- D. 与年降水量大于或小于800毫米有关

14. 下列现象中,只出现在秦岭—淮河以北的是 ()

- A. 林木茂密,四季常绿
- B. 河流汛期短,冬季结冰
- C. 气温随季节而变化
- D. 地表崎岖,高低不平

15. 我国四大区域中,平均海拔最高的是 ()

- A. 北方地区
- B. 西北地区
- C. 南方地区
- D. 青藏地区

16. 贵州省属于四大地理区域中的 ()

- A. 北方地区
- B. 南方地区
- C. 西北地区
- D. 青藏地区

17. 我国北方地区与西北地区的分界线接近 ()

- A. 第一、二级阶梯的分界线
- B. 1月0℃等温线
- C. 季风区和非季风区的分界线
- D. 800毫米年等降水量线

18. 在四大地理区域中,东临我国渤海和黄海的是 ()

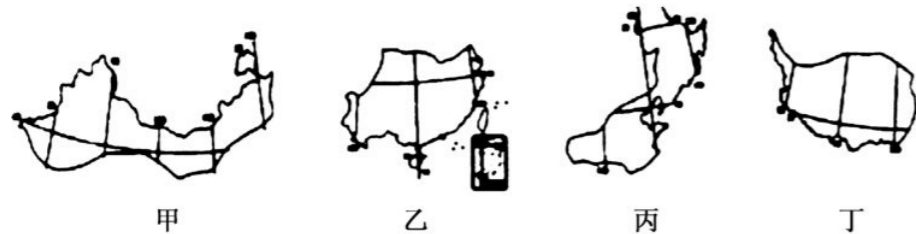
- A. 北方地区
- B. 南方地区
- C. 西北地区
- D. 青藏地区

19. 在四大地理区域中,青藏高原成为一个独立的区域,其主导因素是 ()

- A. 地形地势
- B. 气候
- C. 农业生产
- D. 风俗习惯

20. “南国春意浓，北国正冰封。”下列叙述中，与诗句反映的特征最相符的是 ()
- A. 我国夏季普遍高温 B. 我国南方地区的降水比北方地区多
- C. 我国冬季南北温差大 D. 我国大多数地方雨热同期

21. 关于我国四大地理区域特征的叙述，正确的是 ()



- A. 甲是西北地区，“远看是山，近看是川”是其显著特征，牧区多见蒙古包
- B. 乙是南方地区，深居内陆，气候干旱，民居屋顶坡度较小、墙体较厚
- C. 丙是北方地区，以平原、高原为主，民居屋顶坡度较大、墙体较高
- D. 丁是青藏地区，地势高耸，形成独特的高寒气候，城镇多见平顶碉房

22. 在四大地理区域中，跨经度最广的是 ()

- A. 南方地区 B. 北方地区 C. 西北地区 D. 青藏地区

23. 全国青少年地理夏令营 7 月 15 日在北京开营了，开营的第一次活动是介绍自己的家乡。下面是四位同学对各自家乡介绍的一段话，说法正确的是 ()

小丽：我们新疆好地方，地大瓜果香，三山夹两盆，壮族聚其中……

A

阿里：我们拉萨日光城，青藏铁路已贯通，欢迎大家来做客，民族团结一家亲……

B

小明：台湾宝岛不可分，水果之乡美名扬，菠萝、苹果和柑橘，运往大陆得双赢……

C

小玲：古都西安名胜多，大雁塔、兵马俑，京广铁路直接通……

D

24. 与我国青藏地区和其他地区的分界线大致吻合的是 ()

- A. 第一级阶梯与第二级阶梯的分界线 B. 亚热带与暖温带的分界线
- C. 外流区与内流区的分界线 D. 季风区与非季风区的分界线

25. 下列地理分界线，不在我国四大地理区域分界线上的是 ()

- A. 季风区与非季风区的分界线 B. 1 月 0℃ 等温线
- C. 地势一、二级阶梯的分界线 D. 人口分布的地理分界线

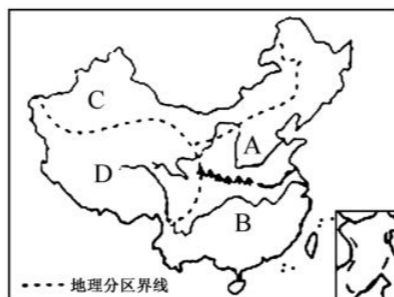
二、综合题(共 50 分)

26. 读我国四大地理区域图，完成下列问题。(16 分)

(1) A 区和 B 区的分界线大致沿_____ (山脉—河流) 一线分布，这条线与我国 1 月 _____℃ 等温线的分布最接近。

(2) A、B 两区中，发展农业的水热条件较优越的是 _____ 区(填字母)，该区的农田类型多为 _____ (旱地或水田)。

(3) 确定 A 区和 C 区分界线的主导因素是 _____，C 区草场广布，是我国重要的 _____ 业基地。



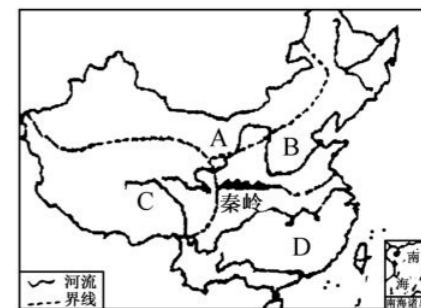
(4) “北国风光，千里冰封，万里雪飘……”所描述的是我国四大地理区域中的 _____ 地区；D 区在 _____ 高原上，形成了独特的自然特征，在海拔较低的谷地分布着河谷农业。

27. 读图，回答下列问题。(20 分)

(1) 图中反映了我国四大地理区域的范围，请将图中的代码 A、B、C、D 对号入座。

北方地区 _____、西北地区 _____、青藏地区 _____。

(2) 图中的秦岭是我国一条重要的地理分界线。秦岭南北的地理事物存在许多差异，请你列举其中的三项。



(3) 图中流经了三大区域的河流是 _____ 河。该河曾被称为“一石水，六斗泥”。你知道她的“泥”是从哪里来的吗？ _____。要减少该河流的“泥”量，最关键的措施是 _____。

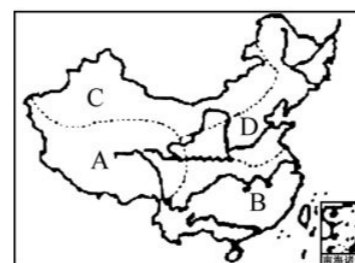
(4) 如果让你在 A、C、D 三个区域中，根据其气候特征，选择种植四种农作物(水稻、蔗糖、哈密瓜、青稞)中的一种，你会选择哪种作物？简单说说理由。

A 区选种 _____，理由是 _____；

C 区选种 _____，理由是 _____；

D 区选种 _____，理由是 _____。

28. 某中学地理兴趣小组外出考察，他们在不同地区拍摄到了甲、乙两幅图片。结合我国四大地理区域图及所学知识，完成下列各题。(14 分)



我国四大地理区域图



甲



乙

(1) A、B、C、D 四大地理区域中，最有可能拍摄到图片甲的是 _____，最有可能拍摄到图片乙的是 _____。(填字母代号)

(2) 从 B 区域到 C 区域，年降水量的变化呈现逐渐 _____ 的趋势。

(3) 划分 B、D 两区域的主导因素是 _____。(填数字代码)

- ①气候 ②地形 ③行政区域 ④植被类型

(4) 比较 B、D 两区域地理特征的差异，补充完成下表。

对比项目	B 区域	D 区域
土地利用类型	水田	
典型植被类型		温带落叶阔叶林
作物熟制	一年两熟至三熟	

第六章测试 A 卷

测试时间:60 分钟 总分:100 分

题号	一	二	总分
得分			

一、选择题(下列各小题的四个选项中,只有一项符合题意。每小题 2 分,共 50 分)

- 下列不属于北方地形区的是 ()
A. 黄土高原 B. 东北平原 C. 四川盆地 D. 山东丘陵
- 下列各组省区中,全部位于北方地区的是 ()
A. 甘肃、宁夏、安徽、江苏 B. 江苏、安徽、河南、辽宁
C. 陕西、甘肃、山东、广东 D. 山东、北京、天津、黑龙江
- 关于北方地区气候的叙述,正确的是 ()
A. 四季如春 B. 全年高温多雨
C. 冬冷干燥,夏热多雨 D. 全年干燥少雨
- 我国北方民居具有的特点是 ()
A. 屋顶坡度较小 B. 屋顶坡度较大 C. 墙体较薄 D. 墙体较高
- 温带落叶阔叶林景观在下列哪个地区可以见到 ()
A. 北方地区 B. 南方地区 C. 西北地区 D. 青藏地区
- 我国北方主要的地形区共有的自然特征是 ()
A. 均在地势的第三级阶梯上 B. 1 月份平均气温均在 0°C 以下
C. 河流均有较大的含沙量 D. 植被均为落叶阔叶林
- 华北平原是由下列哪组河流冲积而成的 ()
A. 黄河、长江、辽河 B. 海河、淮河、珠江
C. 黄河、淮河、海河 D. 淮河、长江、闽江
- 华北平原是我国缺水最严重的地区之一。下列对其缺水原因的分析,错误的是 ()
A. 工农业发达 B. 城市、人口众多 C. 水污染严重 D. 泥沙淤积严重
- 农田多为旱地,以种植小麦、大豆为主,一年一熟或两年三熟的地区是 ()
A. 北方地区 B. 南方地区 C. 西北地区 D. 青藏地区
- 困扰我国北方农业生产的主要问题是 ()
A. 水土流失 B. 梅雨和台风
C. 酸雨、低产田 D. 风沙侵袭与旱涝灾害
- 关于北方地区的描述,不正确的是 ()
A. 北方地区河流较少 B. 北方地区的地形以平原和高原为主
C. 北方地区以陆路运输为主 D. 北方地区内部自然景观差异不大
- 南方地区的农业耕作制度是 ()
A. 一年一熟或两年三熟 B. 一年两熟

C. 一年两熟或两年三熟

D. 一年三熟

13. 下列几幅景观图是人们的生活习惯和文化景观,其中属于北方地区的是 ()



农村房屋外观



室内的火炕



窑洞



马车

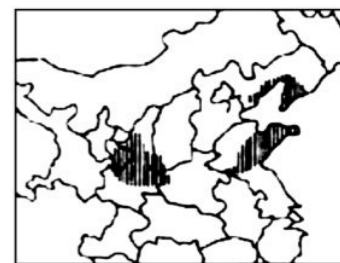


水乡地区的养鱼池



水乡的船和桥

- 农村房屋外观、室内的火炕、窑洞、马车
 - 农村房屋外观、室内的火炕、窑洞、马车、水乡地区的养鱼池、水乡的船和桥
 - 室内的火炕、窑洞、马车、水乡地区的养鱼池
 - 窑洞、马车、水乡地区的养鱼池、水乡的船和桥
14. 以“黑土地”和“黄土地”为主的地区是 ()
A. 北方地区 B. 南方地区 C. 西北地区 D. 青藏地区
15. 下列关于北方人生活特征的叙述,正确的是 ()
A. 居民的主食是面食
B. 传统的体育项目是赛龙舟
C. 民居屋顶坡度较小,墙体较薄
D. 多水田,以种植水稻、油菜等为主,一年两熟至三熟
- 读我国某种水果优势产区分布图,回答第 16 题。
16. 该种水果可能是 ()
A. 柑橘 B. 香蕉
C. 苹果 D. 菠萝
17. 东北各省区发展农业生产在气候方面的优势主要表现为 ()
A. 光照、热量、水分可满足作物一年两熟
B. 冬季漫长严寒
C. 光照、热量、水分仅可满足作物一年一熟
D. 高温期与多雨期一致
18. 东北地区生产的主要粮食作物是 ()
①玉米 ②青稞 ③水稻 ④谷子 ⑤春小麦
A. ①②③④ B. ①③⑤ C. ②③④ D. ①②⑤
19. 东北地区的中学生寒假时间很长,主要原因是 ()
A. 东北地区纬度较高,冬季寒冷而漫长 B. 寒假时间长是为了充分休息,有利于健康
C. 学生喜欢放长假 D. 当地政府规定的,为了让学生好好过年



20. 下列有关东北地区的叙述,正确的是 ()

- A. 东北地区三面临海
- B. 东北地区的降水多集中在冬季
- C. 东北地区的主要农作物有青稞、油菜、甘蔗等
- D. 东北地区是中国传统的老工业基地

21. 下列描述中,体现东北三省地貌特征的是 ()

- A. 山环水绕,沃野千里
- B. 河网密布,湖泊星罗
- C. 地表破碎,沟壑纵横
- D. 雪山连绵,冰川广布

22. 东北三省的传统民居墙体厚,屋顶坡度大。由此可以判断出,东北三省的气候特征主要表现为 ()

- A. 寒冷干燥
- B. 炎热多雨
- C. 寒冷湿润
- D. 炎热干燥

23. 我国东北地区由原来的“北大荒”变成了现在的“北大仓”,东北地区大米的质量甚至比我国南方的好,原因是 ()

- A. 东北地区机械化程度高,雨热同期
- B. 南方地区缺少水热
- C. 东北地区的水稻生长期长
- D. 东北地区地形平坦,南方地区地势较高

24. 下列振兴东北老工业基地的措施中,可行的有 ()

①从工矿城市向综合性城市转型 ②运用高新技术改造传统产业 ③积极发展观光旅游业 ④进一步加大资源开采力度 ⑤减少资源和能源的浪费

- A. ①②③④⑤
- B. ①②③④
- C. ①②③⑤
- D. ②③④⑤

25. 关于东北地区主要城市的叙述,正确的是 ()

- A. 哈尔滨是东北地区最大的综合性中心城市和交通枢纽
- B. 长春是一个具有“异国情调”魅力的城市
- C. 沈阳是著名的避暑旅游胜地和全国重要的水产基地
- D. 大连地理位置优越,是东北地区的重要门户

二、综合题(共 50 分)

26. 读我国北方地区示意图,回答下列问题。(18 分)

(1)写出图中数字代表的地理事物名称。

- ① _____ (山脉) ② _____ (山脉)
- ③ _____ (河流) ④ _____ (海洋)

(2)南方地区和北方地区的分界线是 _____ 一线。

(3)A、B 两地中,作物熟制是两年三熟的是 _____ 地。

(4)北方地区的耕地类型主要是 _____。

(5)在四大工业基地中,位于北方地区,以重工业为主的是 _____。

(6)下列地理事物和现象中,属于北方地区的一组是 ()

- A. 黑土地 地上河 窑洞
- B. 哈密瓜 坎儿井 绿洲农业
- C. 泼水节 赛龙舟 鱼米之乡
- D. 青海湖 日光城 青稞酒

27. 读图 1、图 2,回答问题。(10 分)

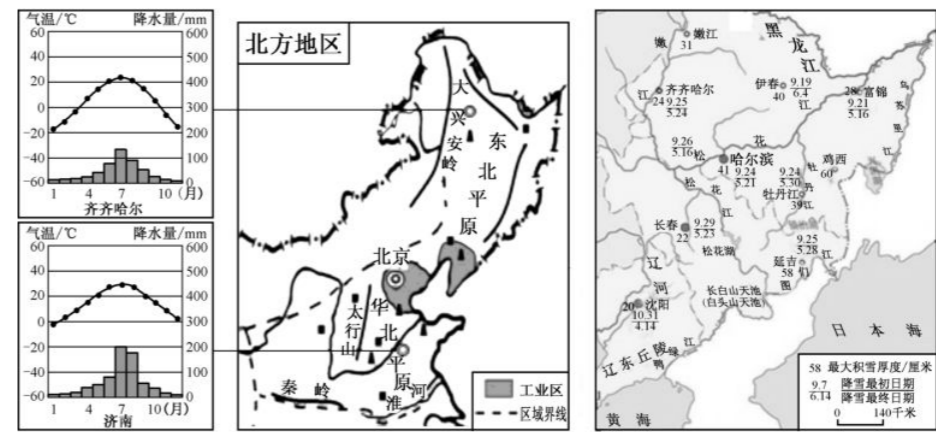
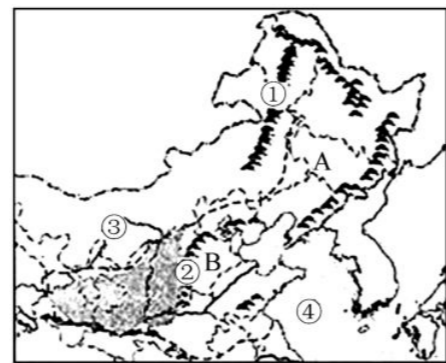


图 1

图 2

(1)华北平原春旱严重。结合济南多年平均各月气温和降水量图,分析该地区春旱形成的原因。

(2)结合上图和所学知识,分析东北平原成为我国商品粮基地的自然条件。(至少写出两点)

(3)图 1 中的阴影区是我国著名的京津唐和辽中南工业基地,两个工业基地发展的共同有利条件有哪些?

(4)结合图 2,比较延吉和长春积雪厚度的差异,说明导致这种差异的原因。

(5)东北三省的传统民居具有房顶坡度大、墙体厚、窗户小的特点,试分析这种传统民居的特点与当地自然环境的关系。

28. 读东北三省图,回答下列问题。(22 分)

(1)写出图中字母代表的地理事物名称。

省区:A _____ B _____ C _____

(2)东北三省的地形以 _____ 为主。

(3)东北三省的气候特点是 _____。

在此条件下发育了肥沃的土壤,被称为“_____”。东北平原农作物的熟制是 _____,是我国机械化程度最高的商品粮生产基地。

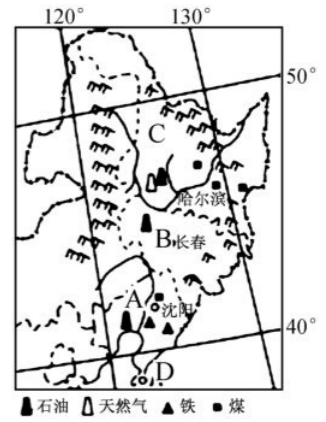
(4)东北三省主要的矿产资源有 _____。依靠丰富的资源,东北地区成为我国的 _____ 工业基地。

(5)东北地区平原广阔无垠,一首诗歌曾说:“……这里的土地肥到家,插根筷子会发芽,栽上柴禾也开花……”足见其土壤肥沃。目前,东北地区土地利用中的主要问题是 ()

- ①黑土土层变薄,肥力下降 ②沼泽地开发,破坏湿地 ③不合理灌溉,土壤盐碱化
- ④过度开垦,土地荒漠化

- A. ①②
- B. ②③
- C. ③④
- D. ①④

(6)图中我国重要的造船工业中心 D 城市是 _____。



第六章测试 B 卷

测试时间:60 分钟 总分:100 分

题号	一	二	总分
得分			

一、选择题(下列各小题的四个选项中,只有一项符合题意。每小题 2 分,共 50 分)

- 关于黄土高原的形成,已得到广泛支持的说法是 ()
A. 冰川 B. 地震 C. 风成说 D. 火山灰堆积
- 目前,我国黄土高原最突出的环境问题是 ()
A. 风沙危害 B. 水土流失 C. 植被破坏 D. 土质疏松
- 最能全面反映引起黄土高原水土流失的原因是 ()
①地表裸露地较多,缺少植被保护 ②黄土结构疏松,许多物质易溶于水 ③降雨集中
④开垦、采矿、修路,使地表疏松
A. ①② B. ②③④ C. ①②④ D. ①②③④
- 以下选项中,不属于黄土高原地区脆弱生态环境成因的是 ()
A. 水土流失严重
B. 历史上,黄土高原曾经植被繁茂、沟壑稀少
C. 自然灾害频繁发生
D. 人类活动对自然环境的压力日益增大
- 黄土高原生态系统十分脆弱,主要表现为 ()
①抵御自然灾害能力较低 ②水土流失已得到有效控制 ③人地矛盾有所缓解
④环境遭到破坏后恢复困难
A. ①② B. ②③ C. ②④ D. ①④
- 关于黄土高原地表形态特征的叙述,正确的是 ()
A. 地表破碎,沟壑纵横 B. 地面平坦,大部分是一望无际的原野
C. 雪山连绵,冰川广布 D. 地表崎岖不平,是个多山的高原
- 黄土高原上的传统民居是 ()
A. 四合院 B. 竹楼 C. 蒙古包 D. 窑洞
- 要实现黄土高原社会、经济的可持续发展,关键是 ()
A. 加强生态建设,改善环境 B. 提高粮食产量
C. 大力发展交通 D. 大力发展旅游业
- 下列能成为黄土高原“风成说”的有力证据的是 ()
A. 黄土就像冬季地面积雪一样较均匀地覆盖在起伏的地面上
B. 黄土的颗粒自东向西越来越细
C. 黄土的矿物成分与其下面的岩石成分是一样的
D. 黄土中有海洋生物的化石

- 黄土高原由于_____ (自然资源)丰富,被称为中国的_____。 ()
A. 锡矿 锡都 B. 铜矿 铜都
C. 太阳能 日光城 D. 煤矿 锅炉房

- 黄土高原地区的河流 ()
A. 全部属于黄河水系 B. 大部分属于黄河水系
C. 部分属于长江水系 D. 大部分属于内流河
- 下列省级行政区中,主要在黄土高原的一组是 ()
A. 山西 河北 B. 陕西 河南
C. 陕西 山西 D. 河北 河南

13. 见右图,该地区大力开展植树种草、退耕还林的主要环境效益是 ()

- 防风固沙、保持水土
- 蓄水拦沙、滞洪蓄水
- 绿化美化、吸烟滞尘
- 保塬护坡、固沟保肥



- 北京市位于 ()
A. 淮河水系 B. 黄河水系 C. 海河水系 D. 辽河水系

- 下列对北京的表述,不正确的是 ()
A. 位于华北平原西北部 B. 历史上是个古都
C. 是全国最大的城市和商业中心 D. 是一个重要的国际交往城市

16. 悠久的历史为北京留下了无数的名胜古迹,右图表示的名胜是 ()



- 避暑山庄
- 八达岭长城
- 天坛祈年殿
- 颐和园

17. “我爱北京天安门,天安门上太阳升……”这首歌同学们都会唱,下列关于首都北京的叙述,正确的是 ()

- 是全国的政治、经济、文化、工业和交通中心
- 西北郊的八达岭长城是沿着太行山等山脉修筑的
- 铁路四通八达,有京哈、京沪、京九、京广、京包等铁路线通往各地
- 旅游资源丰富,名胜古迹众多,故宫、颐和园、北戴河久负盛名

18. 北京是历史悠久的古城,古城的城址多年来发生了很大的变化,但无论怎样变化,都与什么因素关系密切 ()

- 建筑格局 B. 地形因素 C. 水源 D. 道路方向

19. 北京是全国高等学校最集中的地区,有众多的体育场馆、博物馆以及许多国家级文艺团体,说明北京是全国的 ()


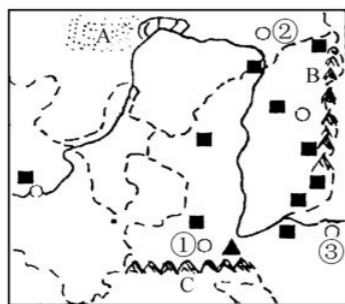
- 政治中心 B. 文化中心 C. 经济中心 D. 交通中心

20. 下列关于北京地理位置的叙述,不正确的是 ()
A. 位于我国北方地区 B. 位于燕山、太行山和华北平原的结合部

- C. 背靠群山,东临渤海 D. 位于华北平原的北部边缘
21. 下列有关北京自然环境的叙述,正确的是 ()
- A. 属温带大陆性气候 B. 西面是黄土高原能源基地
C. 东南濒临渤海 D. 地势西高东低
22. 与北京市属于同一级别的是 ()
- A. 华北平原 B. 郑州市
C. 长江三角洲 D. 新疆维吾尔自治区
23. 北京中关村是我国最早的高新技术开发区,其发展最有利的条件是 ()
- A. 工业基础好 B. 水陆交通便利 C. 高技术人才集中 D. 煤、铁资源丰富
24. 北京在城市建设中,保留了众多的四合院和胡同,其主要原因是 ()
- A. 它们能承载北京的传统文化 B. 它们是城市现代化的标志
C. 有助于缓解城市交通问题 D. 有利于提高土地利用效率
25. 北京的环境问题严重,沙尘暴天气多发的季节是 ()
- A. 春季 B. 夏季 C. 秋季 D. 冬季

二、综合题(共 50 分)

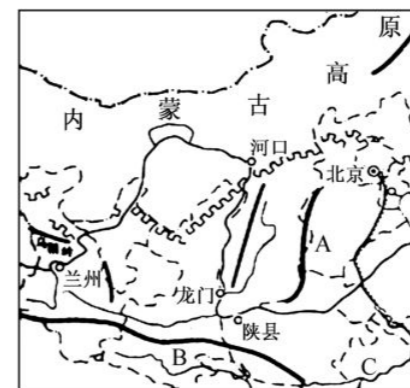
26. 读黄土高原示意图,回答下列问题。(18 分)



黄土高原景观

- (1)黄土高原地跨_____省、陕西省、宁夏回族自治区、甘肃省等省区的大部分或一部分,是世界上面积最大的黄土分布区。从四大区域位置看,黄土高原主要位于_____地区。
- (2)写出下列字母所代表的地形区名称:A_____高原,C_____山脉。
- (3)读黄土高原景观图,黄土高原地表景观的特征是_____。
- (4)黄土高原地理位置比较特殊,表现出明显的过渡性。从地形、农业生产两个方面举例说明。
- (5)下列有关黄土高原自然资源的叙述,正确的是 ()
- ①煤炭资源特别丰富 ②森林资源特别丰富 ③甘肃、宁夏水能资源丰富 ④我国太阳能最丰富的地区
- A. ①② B. ②③ C. ③④ D. ①③
- (6)B山脉是我国重要的地理分界线,请任意写出一条:_____。
- (7)黄土高原地区人地矛盾尖锐的主要原因是:_____。

27. 读黄土高原示意图,回答下列问题。(14 分)



- (1)黄土高原东起_____ (我国地势第二级阶梯与第三级阶梯的分界线),西至乌鞘岭,南连_____ (我国亚热带地区与暖温带地区的分界线),北抵长城。
- (2)将表 1 中四个水文站测得的相关水文数据的代号填入表 2 内并作简要分析。

表 1

代号	①	②	③	④
年平均含沙量 (千克/米 ³)	37.7	33.3	6.67	3.48

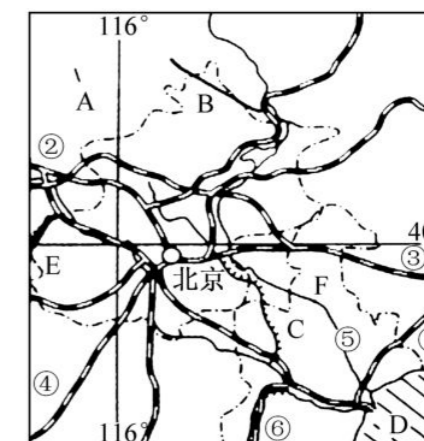
表 2

地点	兰州	河口	龙门	陕县
水文数据				

通过对数据进行分析可以发现,黄河的泥沙主要来自黄土高原地区,其主要的自然原因包括哪些?(写出两点)

28. 读图,回答下列问题。(18 分)

- (1)北京的主要职能是全国的政治、文化中心,也是_____中心。
- (2)北京属于_____气候。
- (3)写出图中字母或数字所代表的地理事物名称。
A_____省 C_____市
D_____海 河流⑤_____
- (4)如果有机会去北京,你最想参观哪两个名胜古迹?
- (5)北京应积极发展何种产业?
- (6)北京长期作为全国的政治中心,其地理位置有什么优越性?



月考试卷一

测试时间:60分钟 总分:100分

题号	一	二	总分
得分			

一、选择题(下列各小题的四个选项中,只有一项符合题意。每小题2分,共50分)

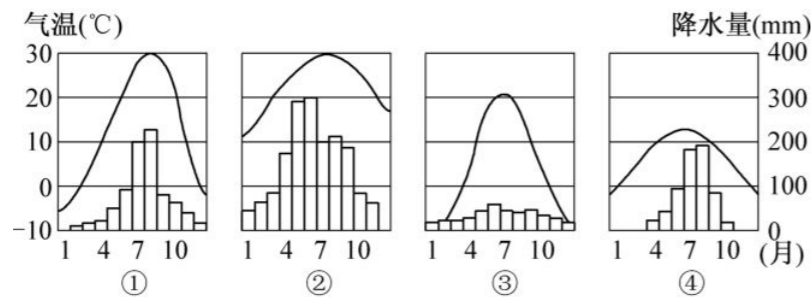
1. 我国划分四大地理区域的依据是 ()

- ①地理位置 ②自然特点 ③人文特点 ④经济发展程度
 A. ①②③④ B. ①②③ C. ②③④ D. ①②④

2. 一个地区自然地理环境的形成往往是气候在起主导作用。我国有一个地区,形成自然地理环境的主导因素却是地形地势。这个地区是 ()

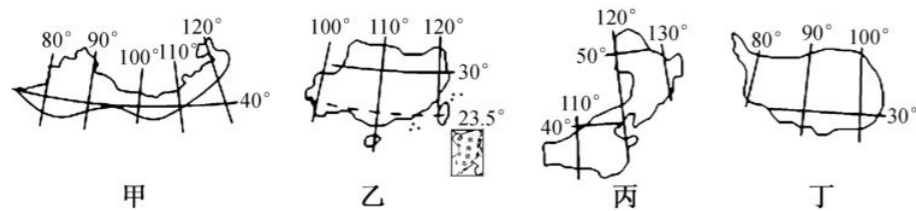
- A. 北方地区 B. 南方地区 C. 西北地区 D. 青藏地区

3. 读我国四大区域的气温变化曲线和降水量柱状图,下面正确的一组是 ()



- A. ①是青藏地区 ②是南方地区 ③是西北地区 ④是北方地区
 B. ①是南方地区 ②是北方地区 ③是青藏地区 ④是西北地区
 C. ①是西北地区 ②是南方地区 ③是青藏地区 ④是北方地区
 D. ①是北方地区 ②是南方地区 ③是西北地区 ④是青藏地区

读四大区域图,回答4~5题。



4. 下列关于四大区域的叙述,正确的是 ()

- ①甲图为西北地区 ②乙图和丙图主要位于季风区内 ③丙图位于地势的第一级阶
 ④丁图是许多大江大河的发源地

- A. ②③④ B. ②③ C. ③④ D. ①②④

5. 下列有关四大区域农业发展制约因素的叙述,错误的是 ()

- A. 甲图——干旱 B. 乙图——洪涝 C. 丙图——热量 D. 丁图——高寒

6. 秦岭—淮河一线是我国重要的地理分界线,下列对其叙述,正确的是 ()

- A. 400毫米年等降水量线与该线相吻合
 B. 它是半湿润区与半干旱区的分界线
 C. 它是我国北方地区与南方地区的分界线

D. 它是落叶阔叶林与针阔叶混交林的分界线

7. 右图反映了秦岭南北 ()

- A. 降水的差异
 B. 气温的差异
 C. 地形的差异
 D. 土壤的差异



8. 下列关于我国四大地理区域的描述,正确的是 ()

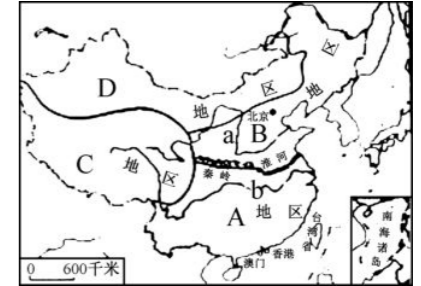
A. C区域雪山连绵,冰雪之下是世界上最深厚的黄土,所以被称为“世界屋脊”,人们的传统民居是窑洞

B. D区域自东向西降水逐渐减少,自然景观变化规律是:荒漠→荒漠草原→草原→森林

C. A区域和B区域之间的分界线与我国800毫米年等降水量线大体一致

D. A区域种植的主要粮食作物是小麦

9. 下图的各省级行政区中,位于我国北方地区的是 ()



- A. ①②③④ B. ①②④ C. ②③④ D. ②④

10. 俗语说“一方水土养一方人”。下列景观中,与我国北方地区相符的是 ()

- A. 民居屋顶坡度大,墙体高
 B. 多水田,以种植水稻、油菜为主
 C. 水运仍然是人们常用的一种交通运输方式
 D. 农业以旱作为主,多种植小麦、玉米等作物

11. 我国的红松、落叶松等树种主要分布在 ()

- A. 横断山区 B. 小兴安岭和长白山
 C. 台湾山脉 D. 东南丘陵

12. 下列关于北方气候的叙述,不正确的是 ()

- A. 年降水量多在800mm左右 B. 为半湿润、半干旱温带季风气候
 C. 冬季少雨,常出现冬旱 D. 7、8月降水集中,易出现洪涝灾害

13. 能缓解华北地区用水紧张状况,且符合可持续发展的措施是 ()

- A. 大规模开采地下水 B. 缩减农田面积以减少用水量
 C. 直接利用工业和生活污水灌溉 D. 修建南水北调工程

14. 华北平原的主要经济作物是 ()

- A. 棉花和花生 B. 大豆和甜菜 C. 棉花和油菜 D. 油菜和甘蔗

15. 东北平原发展成为我国重要商品粮生产基地的最主要原因是 ()

- A. 地势平坦,土壤肥沃 B. 人口密度较低,人均占有耕地多
 C. 光照条件好,单位面积产量高 D. 农业生产的机械化程度高

16. 下列关于东北地区的叙述,错误的是 ()

- A. 有我国重要的商品农业生产基地 B. 有我国最大的工业基地
 C. 有我国最大的平原 D. 有我国最大的天然林区

17. 东北地区地理事物或现象的分布符合由南到北的顺序的是 ()

- A. 温度带:暖温带、中温带、寒温带
 B. 作物:冬小麦、春小麦、甜菜
 C. 森林类型:暖温带常绿林、温带针阔混交林、寒温带针叶林
 D. 熟制:一年一熟、两年三熟、一年两熟

18. 黄土高原水土流失造成的环境问题是 ()

- A. 地震、泥石流灾害频繁发生

- B. 大气污染严重,气候逐渐变暖
C. 沟谷增多、扩大、加深,导致耕地面积减少
D. 使黄河中下游含沙量大增,给河道整治和防洪造成一定的困难

19. 下列有关黄土高原的叙述,错误的是 ()

- A. 黄土高原地表的特征是千沟万壑、支离破碎
B. 黄土高原蕴藏着丰富的矿产资源,尤其是煤炭资源
C. 要实现黄土高原的可持续发展,必须加强生态建设、改善环境
D. 黄土高原的泥沙被大量冲到黄河里,使黄河成为世界上含沙量第二大河流

北京是我国的首都,也是世界上著名的历史文化名城和国际化大都市。读图文资料,回答20~21题。

20. 关于北京市地理特征的叙述,正确的是 ()

- ①全国的政治、文化中心 ②南水北调东线、中线调水方案的终点城市 ③北依燕山,西接太行山 ④我国最大的工业城市 ⑤历史文化名城

- A. ①②④ B. ①③⑤
C. ②③④ D. ③④⑤

21. 2013年1月份以来,北京多次陷入了严重的雾霾天气,空气能见度低,空气质量下降,给人们的生产、生活及身体带来较大危害。下列行为中,不能降低或缓解北京雾霾天气发生的是 ()

- A. 增加城市绿地 B. 注意节能减排,倡导低碳经济
C. 大力倡导步行或乘坐公交车上下班 D. 大力推广家庭小汽车的使用

22. 下表是北京市某年的气温和降水资料,可以归纳出北京的气候特征是 ()

月份	1	2	3	4	5	6	7	8	9	10	11	12
气温(°C)	-6	-3	3	12	18	22	24	25	24	10	1	-3
降水(mm)	12	14	18	22	26	84	201	220	75	20	15	13

- A. 夏季炎热多雨,冬季温和少雨 B. 夏季炎热多雨,冬季寒冷干燥
C. 夏季高温少雨,冬季温和多雨 D. 分为干季和湿季

23. 受地形地势的影响,北京的河流的流向是 ()

- A. 东北→西南 B. 西北→东南 C. 南→北 D. 东→西

24. 四合院是北京民居建筑的代表。下列说法正确的是 ()

- A. 保护四合院不仅仅是保护旧房子,而是保护一种优秀的文化传统
B. 四合院为平房建筑,占地面积大,不利于北京市建设的发展
C. 随着人口的增加,住房紧张,拆除四合院势在必行
D. 不少四合院经历了历史的风雨,已经破烂不堪,严重影响了北京的市容

25. 北京作为国际交往中心,体现为 ()

- A. 中南海、人民大会堂位于北京
B. 天安门广场、中华世纪坛位于北京
C. 中关村科技园、王府井商业街位于北京
D. 外国驻华使馆、国际组织代表机构设在北京

二、综合题(共50分)

26. 我国领土辽阔,区域差异显著。读北方地区图,回答下列问题。(20分)

(1)图中的秦岭—淮河一线,与我国1月_____等温线和_____毫米年等降水量线相吻合。

(2)图中的_____海是我国的内海;_____平原是我国面积最大的平原,因其有肥沃的黑土,成为我国主要的商品粮基地,被称为我国的“_____”。

(3)图中的_____ (山脉)是我国季风区与非季风区的分界线。黄土高原地处我国地势的第_____级阶梯上。



(4)黄土高原上的传统民居是_____。

(5)黄土高原水土流失严重,造成这种后果的气候原因是_____。

(6)要实现黄土高原的可持续发展,必须加强生态建设。对治理黄土高原的水土流失,你有什么好的建议?(回答两点即可)_____。

27. 读图,回答下列问题。(16分)

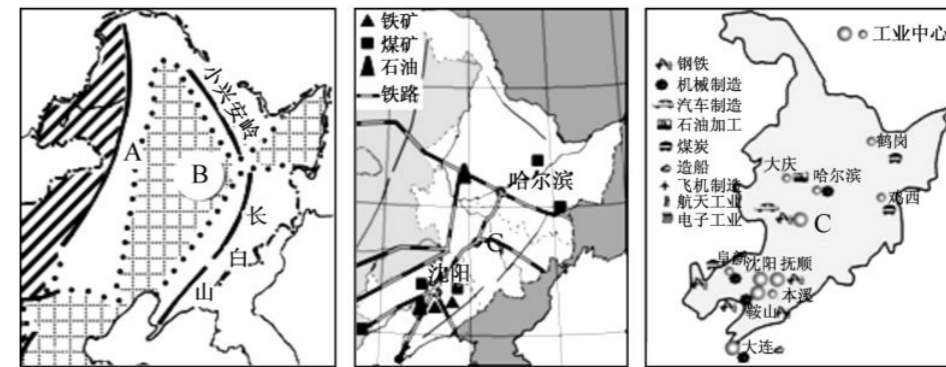


图1

图2

图3

(1)读图1,山脉A是_____,地形区B是_____。根据图1,描述东北地区的山脉、平原的分布特征:_____。

(2)读图2,省会城市C是_____市。东北的主要糖料作物是_____。

(3)读图3,东北地区的工业是以_____ (重或轻)工业为主;东北地区发展钢铁工业的有利条件有_____。

(4)东北是我国的老工业区,试举例说明东北在其主要产业部门的发展过程中,可能产生的问题:_____。

28. 阅读北京的相关材料,完成下列各题。(14分)

材料一 城市职能:北京是全国的政治中心、文化中心、国际交往中心。

材料二 城市建设成就:北京作为现代化大都市,规模不断扩大,兴建了一批卫星城、重点功能区和现代化立体交通网络等。

材料三 发展中出现的问题:近年来,北京市民抱怨“首都变‘首堵’,房子贵得出奇”;患了严重的“城市病”。



图1

图2

(1)图2中,能够反映北京文化职能的是 ()

- A. ①②③④ B. ①②③ C. ②③④ D. ①③④

(2)北京是我国重要的交通中心,说出连接北京的主要铁路干线:_____ (至少一条)。北京是历史悠久的古城,请列举一例北京的名胜古迹:_____。

(3)北京是现代化的大都市,请你列举北京的两个重点功能区:_____、_____。

(4)根据材料三,列举北京“城市病”的表现。

(5)为治理北京的“城市病”,请你提出合理化的建议。

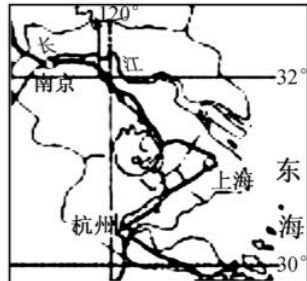
第七章测试 A 卷

测试时间:60 分钟 总分:100 分

题号	一	二	总分
得分			

一、选择题(下列各小题的四个选项中,只有一项符合题意。每小题 2 分,共 50 分)

1. 下列关于南方地区地理位置的叙述,错误的是 ()
 - A. 北以秦岭—淮河为界与北方地区相连
 - B. 西以横断山脉为界与青藏地区相邻
 - C. 东临黄海、东海和台湾岛以东太平洋海域,南临南海
 - D. 大致位于 100°E~125°E、20°S~34°N 之间
2. 下列各组地形区中,全部位于南方地区的是 ()
 - A. 东北平原 华北平原 东南丘陵
 - B. 云贵高原 东南丘陵 长江中下游平原
 - C. 大兴安岭 塔里木盆地 横断山脉
 - D. 天山山脉 内蒙古高原 四川盆地
3. 下列关于南方地区的叙述,正确的是 ()
 - A. 各地气温年较差较大,雨季较短
 - B. 河流的流量大、含沙量大
 - C. 亚热带常绿阔叶林是南方地区的主要景观
 - D. 农田以旱地为主,种植小麦、大豆等
4. 下列语句中,描写南方地区景观的是 ()
 - A. 千里冰封,万里雪飘
 - B. 枯藤老树昏鸦,小桥流水人家
 - C. 早穿皮袄午穿纱,围着火炉吃西瓜
 - D. 远看是山,近看成川
5. 俗话说“一方水土养一方人”。下列自然景观或人文活动与我国南方地区相符的是 ()
 - A. 传统民居屋顶坡度平缓,墙体厚,窗户较小
 - B. 代表性植被为温带落叶阔叶林
 - C. 摔跤、滑冰是人们喜爱的传统体育活动
 - D. 以种植水稻、油菜为主
6. 南方地区丰富的能源和矿产资源是 ()
 - A. 煤炭和石油资源
 - B. 煤炭和铁矿资源
 - C. 石油和铁矿资源
 - D. 水能和有色金属

7. 下列关于我国南方地区生态环境的叙述,不正确的是 ()
 - A. 酸雨污染范围较大
 - B. 云贵高原春季常由于干旱影响生产与生活
 - C. 出现了大面积的土地沙漠化现象
 - D. 植被破坏造成水土流失加剧
 8. 下列诗词中,描述南方地区的是 ()
 - A. “会当凌绝顶,一览众山小”
 - B. “九曲黄河万里沙,浪涛风簸自天涯”
 - C. “草长莺飞二月天,拂堤杨柳醉春烟”
 - D. “大漠沙如雪,燕山月似钩”
 9. 我国南方地区多水田,以种植水稻、油菜为主,一年两熟至三熟,其原因是南方地区 ()
 - A. 地形以平原为主
 - B. 河流、湖泊众多
 - C. 植被为亚热带常绿阔叶林
 - D. 气温高,降水丰富
 10. 下列关于南方地区农业生产的叙述,错误的是 ()
 - A. 河湖众多,是闻名全国的“鱼米之乡”
 - B. 农作物可以一年两熟或三熟
 - C. 小麦是主要粮食作物
 - D. 长江中下游平原是重要的粮棉产区
- 读图,回答 11~12 题。
- 
11. 下列关于长江三角洲的叙述,正确的是 ()
 - A. 长江三角洲是我国最大的综合性工业基地
 - B. 长江三角洲是我国著名的侨乡,侨居世界各地的侨胞数量极大
 - C. 长江三角洲是我国最大的林、牧、副、渔业基地
 - D. 长江三角洲石油、天然气资源丰富
 12. 长江三角洲地区城市密集,其中最大的核心城市是 ()
 - A. 杭州
 - B. 上海
 - C. 苏州
 - D. 南京
 13. 长江三角洲地区与城市带发育不相关的自然因素是 ()
 - A. 气候温和湿润
 - B. 河网密集
 - C. 矿产资源丰富
 - D. 临江面海的地理位置
 14. 下列对上海的叙述,正确的是 ()
 - A. 上海地处珠江三角洲前沿
 - B. 京九铁路与京沪铁路在这里相会
 - C. 这里是世界著名的海港
 - D. 是仅次于北京的第二大工业城市
 15. 有人把长江沿江地区比作一条“龙”,一条中国经济的“巨龙”,那么“龙头”是 ()
 - A. 北京
 - B. 广州
 - C. 上海
 - D. 武汉
 16. 下列有关上海成为我国最大的综合性工业基地成因的说法,错误的是 ()
 - A. 雄厚的工业基础
 - B. 丰富的矿产资源
 - C. 优越的地理位置
 - D. 大量的科技人才
 17. 在实施西部大开发战略中,国家倡导长江三角洲等经济发达地区支援西部地区,从全局上看,主要是为了 ()

- A. 利用西部的大量富余劳动力
B. 提供西部所需的大量建设资金
C. 向西部提供人才、技术支持
D. 保持东、西部地区的经济协调发展

18. 长江三角洲发展经济的优势条件是 ()

- A. 毗邻港澳
B. 集黄金海岸和黄金水道的区位优势于一体
C. 矿产资源丰富
D. 扼长江出海口, 濒临南海

19. 长江三角洲是驰名中外的 ()

- A. 温带水果之乡
B. 鱼米之乡和丝绸之乡
C. 亚热带动植物王国
D. 旅游胜地

20. 长江三角洲的交通运输 ()

- A. 以水运为主
B. 以铁路为主
C. 以高速公路为主
D. 已形成铁路、高速公路、海运、内河航运、航空等交通网

读我国长江三角洲图, 回答 21~24 题。

21. 下列景点不在图示区域内的是 ()

- A. 杭州西湖
B. 颐和园
C. 古镇周庄
D. 拙政园

22. 图中的湖泊是 ()

- A. 太湖
B. 洞庭湖
C. 鄱阳湖
D. 洪泽湖

23. 南京、上海、杭州三个城市所对应的序号, 正确的是 ()

- A. ④②⑤
B. ④⑤⑧
C. ⑥②⑤
D. ⑥⑤⑧

24. 世界文化遗产苏州园林位于图中的 ()

- A. ⑤
B. ③
C. ①
D. ⑧

25. 下列对上海的叙述, 错误的是 ()

- A. 是重要的科技教育中心
B. 是我国最大的商业中心
C. 它拥有浦东国家级经济开发区
D. 它的煤炭资源丰富

二、综合题(共 50 分)

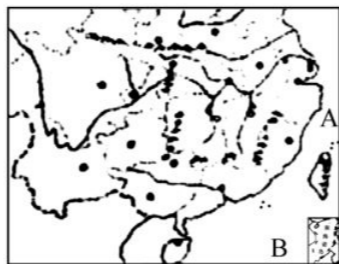
26. 读图, 回答下列问题。(18 分)

(1) 写出图中字母代表的海洋名称: A _____ B _____

(2) 南方地区位于 _____ 以东; 平原、低山和丘陵交错分布在南方地区的 _____ 部。

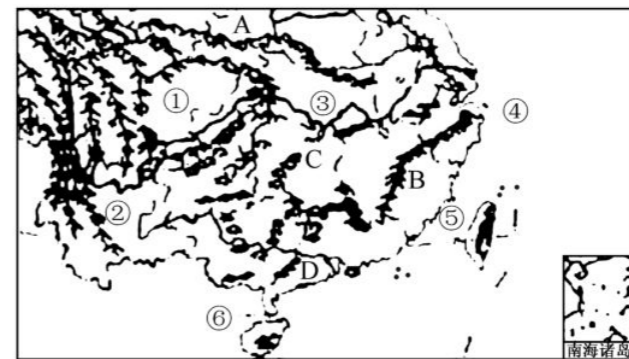
(3) 南方地区属于 _____ 气候和 _____ 气候。

(4) 南方地区山区的农田零星地分布在 _____ 和 _____ 地带。



(5) 云贵高原是中国的第四大高原, 该高原上 _____ (岩石种类) 分布广泛, 是典型的喀斯特地形。

27. 读我国南方地区略图, 回答问题。(16 分)



(1) 写出图中字母所代表的地理事物名称。

山脉 B 是 _____; 湖泊 C 是 _____; 河流 D 是 _____。

(2) 写出图中数字所代表的地理事物名称。

① _____ 盆地, ② _____ 高原, ③ _____ 平原, ④ _____ 海。

(3) “十一”黄金周期间, 珠海某同学在街头看到某旅游团乘坐的一辆车牌号为“湘 A57681”的旅游大巴车。据此判断, 下列说法可能性最大的是 ()

- A. 这辆大巴来自河南
B. 游客在旅游途中看到成片的稻田一望无际
C. 该车辆穿越了辽阔的黑土地
D. 车上游客沿途感受到了一年四季的变化

28. 读长江三角洲地区简图, 回答问题。(16 分)

(1) 写出图中字母代表的地理事物名称。

A _____ (海洋) B _____ (海洋)

C _____ (河流) D _____ (湖泊)

(2) “五一”期间, 小明跟随父母游览了长江三角洲, 大饱眼福, 过了一个非常愉快的假期。你能告诉小明, 长江三角洲旅游业非常发达的原因吗?

_____。

(3) 上海作为长江三角洲城市群的核心城市, 经济发展历史悠久, 科技力量雄厚, 还有许多发展经济的有利条件。

①位于我国三大平原中的 _____ 平原, 平原有利于城市建设和经济发展。位于亚热带、湿润区, 耕地类型为 _____, 农作物的熟制是 _____, 农业的发展为工业的发展和居民的生活提供了保障。



第七章测试 B 卷

测试时间:60 分钟 总分:100 分

题号	一	二	总分
得分			

一、选择题(下列各小题的四个选项中,只有一项符合题意。每小题 2 分,共 50 分)

1. 下列关于我国第一大岛台湾的自然条件的叙述,正确的是 ()

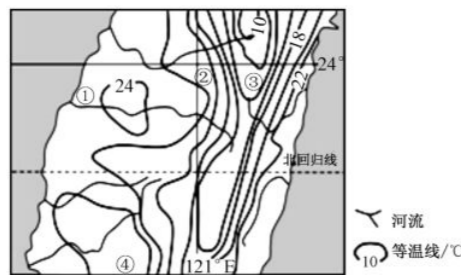
①东临太平洋,北回归线穿过中南部 ②东北部沿海降水少,日照充足 ③山地、平原各占一半 ④多火山地震

A. ①② B. ②③ C. ①④ D. ②④

2. 读右图,关于台湾森林资源的叙述,正确的是 ()

A. 分布在中、西部,地处低纬度,气候湿热,树种繁多
 B. 分布在中、东部,亚热带、温带季风气候,树种繁多
 C. 分布在中、西部,地形多样,地势起伏大,树种繁多
 D. 分布在中、东部,纬度低,山地垂直气候显著,树种繁多

3. 下图为某地区年均温的分布,影响该地区年均温分布特征的主要因素是 ()



A. 台风 B. 海陆分布 C. 地形 D. 大气环流

4. 台湾的农产品深受内地人们的欢迎,这些农产品最有可能是 ()

A. 大米、菠萝 B. 苹果、梨
 C. 棉花、甜菜 D. 哈密瓜、大豆

5. 台湾的人口和城市主要分布在 ()

A. 东部地区 B. 南部地区 C. 西部地区 D. 北部地区

6. 台湾岛修建的铁路是半环状的环岛铁路,没有直接联系东西部的横向铁路,你认为其主要的因素应该是 ()

A. 气候 B. 河流 C. 地形 D. 矿产

7. 台湾出口导向型经济发展的有利因素是 ()

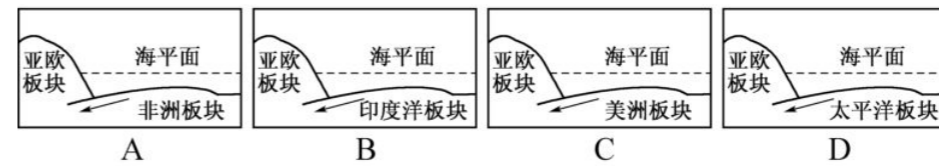
①良港众多 ②岛内矿产资源丰富 ③吸收外国资本 ④岛内市场广阔

A. ①② B. ①③ C. ②④ D. ③④

8. 自 20 世纪 90 年代开始,台湾重点发展以电子工业为主导的产业是 ()

A. 农业和农产品加工 B. 出口加工工业
 C. 高新技术产业 D. 畜牧业和养殖业

9. 2014 年 3 月 19 日,台湾花莲县附近海域发生里氏 5.6 级地震。关于其成因,下图中能正确表示的是 ()



10. 下列有关台湾的叙述,不正确的是 ()

A. 台湾海峡鱼类丰富
 B. 西隔台湾海峡与广东省相望
 C. 享有“水果之乡”的美名
 D. 山区森林资源丰富,也是亚洲有名的天然植物园

11. 台湾岛上最长的河流和最大的湖泊分别是 ()

A. 浊水溪和日月潭 B. 浊水溪和月潭
 C. 浊水溪和日月潭 D. 大甲溪和珊瑚潭

12. 你认为香港最大的进出口贸易伙伴是 ()

A. 英国 B. 美国 C. 祖国大陆 D. 澳门

13. 被称为“购物天堂”的是 ()

A. 上海 B. 香港 C. 台湾 D. 澳门

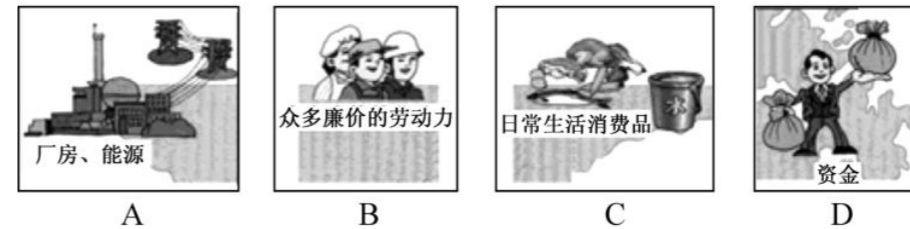
14. 下列关于香港的叙述,正确的是 ()

A. 人多地少,“上天”和“下海”是城市扩展的主要方式
 B. 自然资源丰富
 C. 旅游业是最重要的经济支柱
 D. 位于珠江口西侧

15. 香港在城市建设中保留有大片绿地,其原因是 ()

A. 香港土地面积大,有大量空地闲置 B. 香港人口密度小,有大量空地闲置
 C. 为了绿化、美化、净化城市环境 D. 香港土地价格昂贵,很少有人开发

16. 香港与祖国内地优势互补,下图中内地为港商提供的物资不可能是 ()



17. 下列关于香港“上天”“下海”的叙述,不正确的是 ()

A. 抢占空间和海洋的资源
 B. 为解决人多地少的矛盾而采取的土地利用措施
 C. “上天”指的是建设高层建筑
 D. “下海”指的是填海造地

18. 下列关于澳门的叙述,正确的是 ()

A. 位于珠江东侧,北与珠海接壤 B. 面积 16 平方千米,人口 400 万
 C. 经济以博彩业和旅游业为主 D. 1979 年 12 月 20 日,回归祖国

19. 著名的大三巴牌坊是下列哪个城市的标志性建筑 ()

A. 广州 B. 深圳 C. 香港 D. 澳门

20. 香港属于亚热带季风气候,但所需淡水几乎全部由祖国大陆提供,其主要原因是 ()

A. 香港面积狭小,缺乏大河 B. 香港工农业生产中水资源浪费严重
 C. 香港污染严重,本地水质差 D. 为了支援祖国大陆的经济建设

得分 姓名 班级 能力评价价初中卷·地理八年级下册(人教版) 密封线

21. 香港对外经济贸易比澳门发达的主要原因是 ()
- A. 香港有深水港, 港口条件优于澳门 B. 澳门自然资源没有香港丰富
C. 澳门与广州之间没有铁路相通 D. 香港人口多
22. 下列属于港澳共同的支柱产业是 ()
- A. 博彩业 B. 转口贸易 C. 建筑业 D. 旅游业
23. 下列关于香港和澳门的叙述, 正确的是 ()
- A. 澳门位于珠江口东侧 B. 博彩旅游业是香港的经济支柱
C. 香港是国际贸易中心和金融中心 D. 澳门地狭人稠, 自然资源丰富
24. 下列关于港澳台经济的说法, 正确的是 ()
- A. 博彩业是香港的主导产业
B. 对外贸易是澳门的支柱产业
C. 台湾经济的特点是大量出口原材料、进口工业产品
D. 三地的旅游业都十分发达
25. 下列关于我国内地、香港、澳门的说法, 不正确的是 ()
- A. 香港交通、旅游业非常发达, 因其特殊的历史背景, 成为东西方文化的荟萃之地
B. 澳门的面积不断扩大, 是由于珠江口泥沙淤积和填海造地双重因素造成的
C. “港澳跨海大桥”的建成, 更加强了两地的联系, 促进了两地的合作与发展
D. 内地有丰富的资源, 港澳有雄厚的经济基础, 应将香港和澳门建成大型的重工业基地

二、综合题(共 50 分)

26. 读香港和澳门图, 完成下列问题。(12 分)

(1) 写出特别行政区的名称:

A _____ B _____。

(2) 香港特别行政区主要由三大部分及周围 200 多个岛屿组成, 其中①是 _____, ②是 _____。

(3) 港澳与祖国内地联系密切。下列选项中, 属于从内地运往香港的是 ()

①大量资金 ②淡水 ③蔬菜、禽蛋等农产品

④技术及管理经验

A. ①②

B. ②③

C. ③④

D. ①④

(4) 为纪念香港回归祖国 18 周年, 某中学举行了香港知识竞赛活动。下列美称中, 属于香港的是 ()

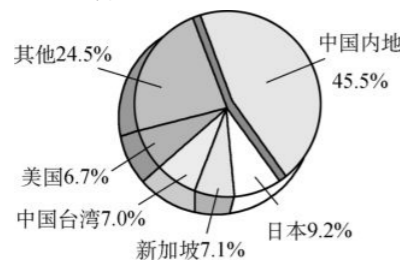
A. “东方蒙特卡罗”

B. “购物天堂”

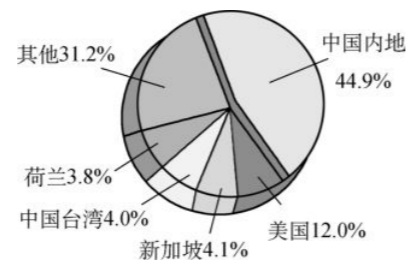
C. “亚洲天然植物园”

D. “祖国东南的海上明珠”

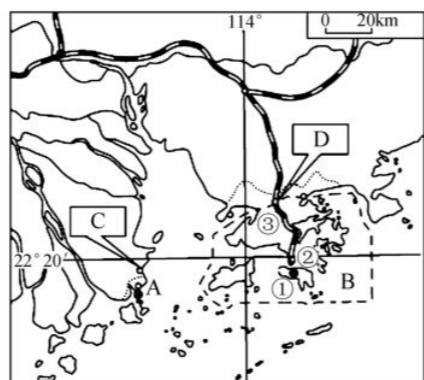
27. 根据下图, 回答问题。(12 分)



2010 年香港进口商品地区构成



2010 年香港出口商品地区构成



(1) 香港进口贸易的商品主要来自于 _____ 地区, 出口贸易的商品主要输往 _____ 地区, 其主导产业是 _____。

(2) 香港和 _____ 的贸易占香港进出口贸易的首位, 强大的祖国是香港经济发展的坚强后盾。

(3) 利用所学知识分析, 香港和内地的经济是如何优势互补的? _____。

28. 读台湾省地理位置图, 联系所学知识, 回答问题。(18 分)

(1) 从图中所处的纬度位置来判断, 台湾岛南部属于 _____ 带。

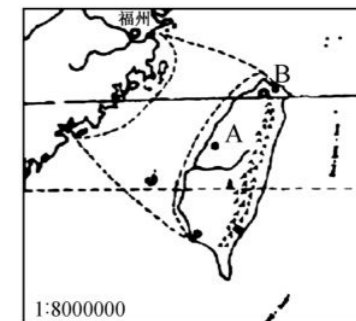
(2) 台湾岛的地形东部为 _____, 西部沿海为 _____。

(3) 由图可知, 台湾的地势特征是 _____。这种地势使河流的流向为 _____。

(4) 省会城市 B 是 _____; 台湾省各少数民族中, 人口最多的是 _____ 族。

(5) 台湾省隔 _____ 海峡与我国的福建省相望。

(6) 近年来, 祖国大陆每年从台湾大量输入香蕉、甘蔗、菠萝等水果, 请从气候条件入手, 分析台湾盛产这些水果的原因。 _____。



29. 图 A 为台湾岛位置与地形、河流分布图, 图 B 为台湾岛的位置与各自然地理要素关联图。读图, 完成下列问题。(8 分)

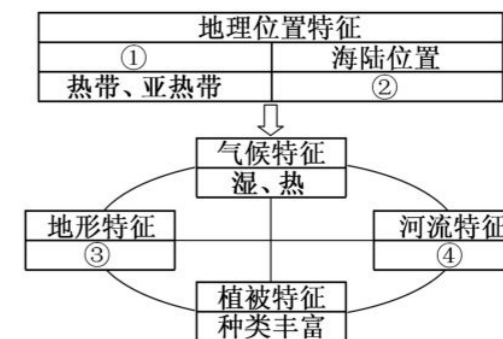


图 A 台湾岛位置与地形、河流分布 图 B 台湾岛的位置与各自然地理要素关联

(1) 区域的地理位置往往决定着一个区域的自然环境特征, 同时各自然地理要素之间也是相互影响的。请依据图 A 把图 B 补充完整。

(2) 区域的自然环境特征通常深刻地影响着人类活动。请根据图 A、图 B 判断, 下面的人类活动是否可信? 如果可信, 请在括号内打“√”; 如果不可信, 请在括号内打“×”。

⑤台湾岛的城市主要分布于东部沿海平原 ()

⑥台湾岛的铁路、公路多环岛建设 ()

⑦台湾岛多优良港口, 出口导向型经济发达 ()

⑧台湾岛建有许多大型水利枢纽工程, 既能防洪又有利于航运 ()

第八章测试卷

测试时间:60分钟 总分:100分

题号	一	二	总分
得分			

一、选择题(下列各小题的四个选项中,只有一项符合题意。每小题2分,共50分)

1. 西北地区划分的主导因素是 ()
A. 地势因素 B. 季风因素 C. 纬度因素 D. 经度因素
2. 下列关于西北地区地形的叙述,正确的是 ()
A. 以平原、盆地为主 B. 内蒙古高原地面较崎岖,风蚀作用显著
C. 新疆地形的特征是“三山夹两盆” D. 塔克拉玛干沙漠位于准噶尔盆地内
3. “放眼望去,是茫茫的戈壁滩,偶尔看到一点点绿色,让你欣喜若狂;猛然间,一阵清脆的叮当声让你回头一望:地平线上冒出一支驼队,在夕阳下,格外壮观……”这段文字描述的是下列哪个地区的景观 ()
A. 北方地区 B. 南方地区 C. 西北地区 D. 青藏地区
4. 下列组合是关于西北干旱气候成因的表述,正确的是 ()
a. 降水稀少 b. 来自海洋的湿润气流难以到达 c. 气候干旱 d. 山脉对湿润气流的阻隔
e. 深居内陆,距海遥远
A. $\begin{matrix} e \rightarrow b \\ d \end{matrix} \rightarrow a \rightarrow c$ B. $\begin{matrix} a \rightarrow b \\ c \rightarrow e \end{matrix} \rightarrow d$ C. $\begin{matrix} e \rightarrow a \\ d \end{matrix} \rightarrow b \rightarrow c$ D. $\begin{matrix} a \\ d \end{matrix} \rightarrow b \rightarrow e \rightarrow c$
5. 西北地区的耕作业主要分布在水源及灌溉条件较好的绿洲、河谷地区的主导因素是 ()
A. 地形因素 B. 气候因素 C. 植被因素 D. 土壤因素
6. 下列与西北地区的干旱无关的是 ()
A. 绿洲农业 B. 丰富的矿产资源 C. 灌溉农业 D. 风蚀城堡
7. 下列关于我国西北地区地理特征的叙述,正确的是 ()
A. 引用祁连山的冰雪融水在河套平原、宁夏平原发展灌溉农业
B. 位于柴达木盆地的油气田是西气东输工程的起点
C. 三河牛、三河马是内蒙古草原著名的优质畜种
D. 新疆瓜果特别甜的原因是日照充足,气温日较差小
8. 下列关于西北地区绿洲的叙述,不正确的是 ()
A. 多呈点状、带状分布 B. 有充足的灌溉水源
C. 是本区重要的农业区,盛产粮棉瓜果 D. 乡镇、城市并不分布在绿洲上
9. 下列少数民族中,生活在西北地区的一组是 ()
A. 黎族、回族、蒙古族 B. 苗族、壮族、维吾尔族
C. 满族、高山族、哈萨克族 D. 蒙古族、维吾尔族、哈萨克族
10. “成群的牛羊安闲地嚼着青草,小马驹蹦蹦跳跳地撒欢,跟着马群从这边跑到那边,

偶尔还会看到成群的黄羊,它们跑起来极快,像一阵风。一碧千里的草原上还散落着一个一个圆顶的蒙古包。”这里描写的是何地的景色 ()

- A. 准噶尔盆地 B. 塔里木盆地 C. 河西走廊 D. 内蒙古高原

11. 西北地区主要的农耕区,位于祁连山麓的是_____,“西气东输”、古“丝绸之路”及第二亚欧大陆桥均从此处经过,其自然地理原因是_____。下列选项中,正确的一项是 ()

- A. 河套平原 路程最短 B. 宁夏平原 气候适宜
C. 河西走廊 地形平坦 D. 柴达木盆地 物产丰富

12. 下列不属于西北地区自然地理事物的是 ()

- A. 以温带落叶阔叶林为主
B. 雅丹地貌
C. 我国最长的内流河——塔里木河
D. 我国面积最大的沙漠——塔克拉玛干沙漠

13. 右图为大兴安岭东西两侧的地形剖面示意图,①②③地的自然景观依次可能为 ()



- A. 荒漠—草原—荒漠草原
B. 草原—荒漠—荒漠草原
C. 荒漠草原—草原—荒漠
D. 草原—荒漠草原—荒漠

14. 在西部大开发的自然条件中,主要有利条件和制约经济发展的最缺少的自然资源的组合,正确的是 ()

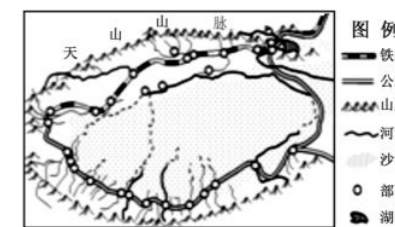
- A. 宜耕荒地广阔——平原 B. 草原广阔——森林
C. 矿产资源丰富——光照 D. 土地广阔——水

15. 我国西部地区与东部地区相比,西部地区突出的优势是 ()

- A. 生态环境优良 B. 自然资源丰富
C. 经济发展水平高 D. 人均国内生产总值大

塔里木盆地内的绿洲人口集中,农牧业发达,交通便捷。结合下图,回答16~21题。

16. 下列关于塔里木盆地内的叙述,不正确的是 ()



- A. 盆地内有我国最大的内流河塔里木河
B. 盆地内部沙漠广布,有我国最大的沙漠
C. 自然资源丰富,油气资源储量大
D. 气候温暖湿润,降水丰富

17. 下列关于新疆农业生产条件的叙述,不正确的是 ()

- A. 夏季热量充足,光照强烈,有利于瓜果着色
B. 夏季昼夜温差大,有利于瓜果和糖料作物的糖分积累
C. 稳定的灌溉水源和夏季炎热干燥的气候有利于优质棉花的生长和成熟
D. 降水稀少,气候干旱,沙漠广布,无法进行农业生产

18. 下列哪些不属于新疆的农作物或农产品 ()

- A. 小麦、玉米、高粱 B. 葡萄干、哈密瓜、甜菜
C. 西红柿、石榴、枸杞 D. 甘蔗、花生、油菜