

初中毕业学业考试模拟试卷 ● 地理 (益阳版)

本书编写组主编



湖南教育出版社



24. 在湖南省株洲相交的铁路干线正确的一组是

①京广线 ②焦柳线 ③湘黔线 ④石长线 ⑤浙赣线

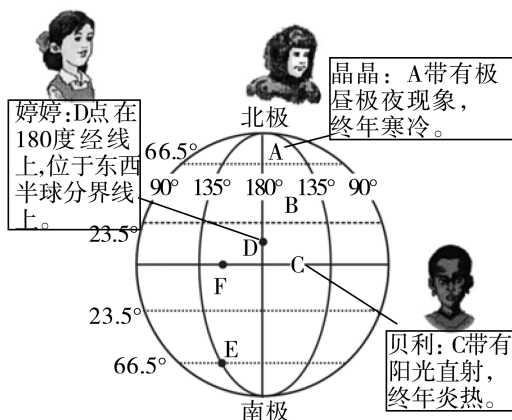
- A. ①②⑤
B. ②③④
C. ③④⑤
D. ①③⑤

25. 下列美称不符合湖南省的是

- A. 天府之国
B. 有色金属之乡
C. 芙蓉国
D. 鱼米之乡

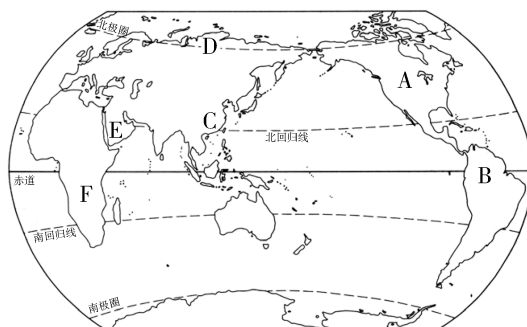
二、综合题(本大题共7个小题,共50分)

26. 读右图,回答下列问题。(6分)



- (1) 图中 A、B、C 分别代表地球五带中某一带, B 代表的是_____带; 跨纬度最广的是_____ (填代号)。
 (2) 2016 年 6 月 17 日, A、B、C 三带中, 白昼最长的是_____ (填代号)。
 (3) 图中 E 点的经纬度_____。
 (4) 图中 F 点在 E 点_____方向。
 (5) 图中描述 A、C、D 地理特征的句子有一处有误, 请更正如下_____。

27. 读世界地图, 回答下列问题。(8分)

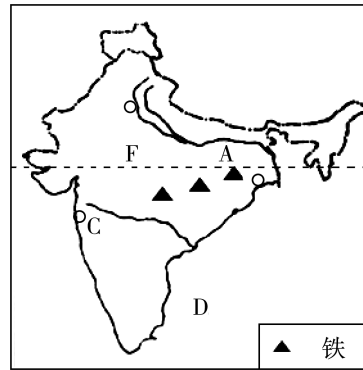
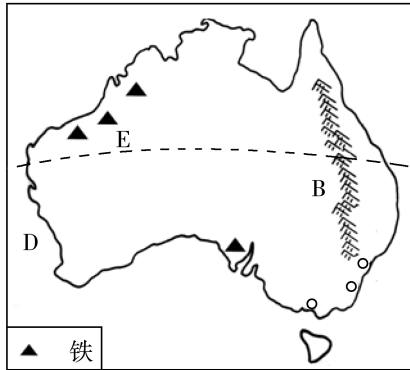


- (1) 图中 A、B 所在大洲的分界线是_____, A、B、C、F 所在大洲中跨纬度最广的是_____ (填代号)。
 (2) 图中 A 位于六大板块中_____板块, C、D、E 三地人口最稠密的是_____ (填代号), B 地人口稀疏的原因是_____。

(3) E地主要是_____人种，E地被誉为“世界石油宝库”，其石油主要分布在_____及其沿岸地区。

(4)从经济发展水平来看，F地的国家属于_____国家。

28. 读印度和澳大利亚图，回答下列问题。(8分)




(1) 写出图中字母所代表的地理事物名称：平原 A _____， 山脉 B _____， 城市 C _____。

(2) 从图中信息可知，两国_____矿资源都很丰富，两国都临 D _____洋。


(3) E、F 同处回归线附近，E 地气候类型是_____，F 地气候类型是_____。

(4) 两国同为重要的粮食生产国，澳大利亚粮食大量出口，而印度粮食只能基本实现自给，请分析其原因_____。

29. 读我国冬、夏季风图，回答下列问题。(7分)



A



B

(1) 图 A 表示的是_____季的风向图，①表示的是_____ (方向) 季风；图 B 中②表示的季风其气流特点是_____。

(2) 下列位于我国季风区与非季风区界线上的山脉是 ()

- A. 祁连山
- B. 阴山
- C. 秦岭
- D. 南岭

(3) 受季风的影响，我国年降水量空间分布的总趋势是_____。

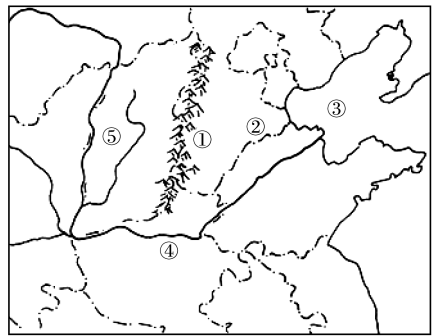
(4) 我国季风气候显著，最大的优势是_____，夏季风活动不稳定，容易导致_____灾害的发生。

30. 读右图，回答下列问题。(8分)

(1) 写出图中数码代表的地理事物的名称
 山脉①_____，平原②_____，
 海③_____。

(2) ⑤地区的传统民居是_____，目前最
 突出的环境问题是_____，加强该地
 区生态建设的首要问题是_____。

(3) 河流④下游忧患重重，请列举两项
 _____，_____。

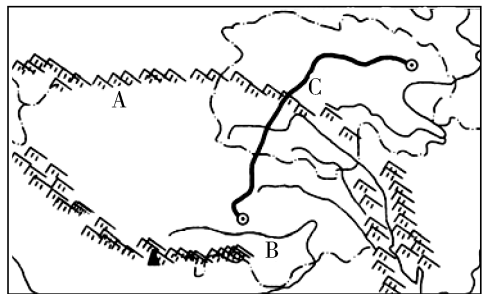


31. 读青藏地区图，回答下列问题。(7分)

(1) 写出图中字母代表的地理事物的名称
 山脉 A _____，
 河流 B _____，
 铁路 C _____。

(2) 该地区显著的自然特征_____，
 该地区是许多大江大河的发源地，其
 原因是_____。

(3) 青藏地区有丰富的洁净能源，请列举一种并分析形成的原因：
 _____，_____。



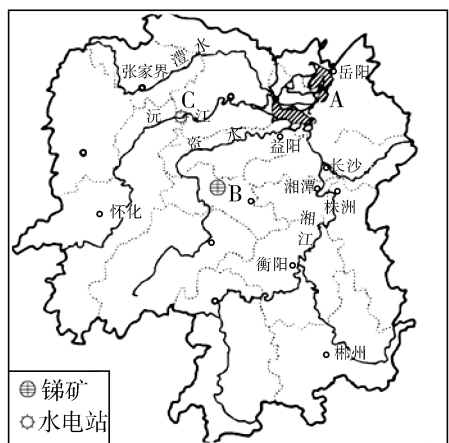
32. 读湖南省略图，回答下列问题。(6分)

(1) 图中湖 A _____，矿产地名 B _____，
 水电站 C _____。

(2) 2010年8月，因独特的丹霞地貌，列入
 《世界自然遗产名录》的邵阳市景点是
 ()。

- A. 衡山
- B. 岳阳楼
- C. 崀山
- D. 武陵源

(3) 湖南地势特征是_____，
 从图中_____可反映出该特征。



2016年益阳市初中毕业学业考试模拟试卷(二)

地 理

准考证号

姓名 _____

- 考生注意：**
1. 答题前，考生务必将自己的姓名、准考证号写在答题卡和该试题卷的相应处，并认真核对答题卡上的姓名、准考证号和科目。
 2. 考生作答时，选择题、判断题和综合题均须作在答题卡上，在本试题卷上作答无效。考生在答题卡上按答题卡中注意事项的要求答题。
 3. 考试结束后，将本试题卷和答题卡一并交回。
 4. 本试卷包括试题卷和答题卡。本试卷为闭卷考试试卷，满分为 100 分，考试时间与生物共 120 分钟。本试题卷共 6 页。如缺页，考生须声明，否则后果自负。

一、选择题(本大题共 25 小题，每小题只有一个正确答案，每小题 2 分，共 50 分)

1. 2012 年 5 月下旬，意大利某地发生里氏 5.9 级地震，造成人员伤亡。此次地震发生的主要原因是该地位于
 - A. 欧亚板块与非洲板块的碰撞挤压交界处
 - B. 欧亚板块与印度洋板块的碰撞挤压交界处
 - C. 非洲板块与印度洋板块的碰撞挤压交界处
 - D. 美洲板块与欧亚板块的张裂交界处
2. 去年四月间我市部分地区出现冰雹天气现象，下列符号能表示该天气现象的是

A.



B.



C.



D.

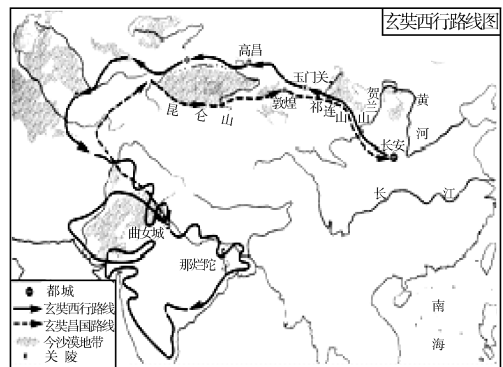


3. 下表中人口密度(2012 年)最小的国家是

国家	领土面积(万平方千米)	人口(亿人)
俄罗斯	1707	1.42
加拿大	997	0.33
中国	约 960	13.4
美国	937	3.02

- A. 加拿大
 - B. 俄罗斯
 - C. 美国
 - D. 中国
4. 在许多国家，世界文化遗产的保护工作已经得到空前的重视，下列做法不正确的是
 - A. 减轻旅游活动对文化遗产的破坏
 - B. 控制工业污染对历史性建筑物、雕塑和壁画的侵蚀
 - C. 在著名文化遗产周围禁止修建高大的现代建筑物

- D. 在故宫里面建大型商场以吸引游客
5. 泰国的首都曼谷，水上市场繁荣成为当地的一大特色，其形成的自然因素是
- A. 终年高温，河网密布
B. 热带雨林气候，终年高温多雨
C. 地形山河相间，纵列分布
D. 人口密集，土地资源紧张
6. 近年来，叙利亚国内局势持续发生动荡，引起世界许多国际组织的关注，联合国曾多次召开会议并派出特使进行协调。联合国的总部位于
- A. 瑞士洛桑
B. 瑞士日内瓦
C. 美国纽约
D. 奥地利维也纳
7. 下列关于俄罗斯的叙述，正确的是
- A. 伏尔加河注入黑海
B. 贝加尔湖是世界最大淡水湖
C. 乌拉尔工业区以轻工业为主
D. 温带大陆性气候分布广
8. 玄奘西行路线上的长安、高昌、那烂陀三地的气候类型依次是
- A. 温带季风气候、温带大陆性气候、热带季风气候
B. 温带大陆性气候、温带海洋性气候、热带沙漠气候
C. 亚热带季风气候、温带大陆性气候、热带季风气候
D. 温带大陆性气候、亚寒带针叶林气候、高山气候



9. 玄奘西天取经最后到达地所在的半岛名称是
- A. 阿拉伯半岛
B. 中南半岛
C. 印度半岛
D. 巴尔干半岛
10. 根据下表内容判断，下列说法正确的是

国家	总人口(万)	人口出生率(%)	人口死亡率(%)
M 国	6398	2.50	0.65
N 国	12687	0.94	0.82

- ①人口自然增长率较高的是 M 国 ②人口自然增长率较高的是 N 国 ③M 国属于发达国家 ④N 国属于发达国家
- A. ①③
B. ②③
C. ①④
D. ②④
11. 19 世纪后期到 20 世纪初，我国东南沿海一带，特别是广东、福建两省，有大量人口“下南洋”谋生，这里的南洋是指
- A. 非洲
B. 西亚
C. 东南亚
D. 大洋洲
12. 沟通红海和地中海的重要水道是
- A. 土耳其海峡
B. 苏伊士运河
C. 巴拿马运河
D. 马六甲海峡
13. 我国民族的分布特点是“大杂居，小聚居”。少数民族集中分布的地区不包括
- A. 西北地区
B. 东北地区
C. 东南沿海地区
D. 西南地区

14. 下列关于省区轮廓与其名称、简称、省级行政中心搭配正确的一组是



- A. ①—黑龙江—龙—哈尔滨 B. ②—湖北—鄂—武汉
C. ③—云南—滇—西宁 D. ④—广东—粤—广州

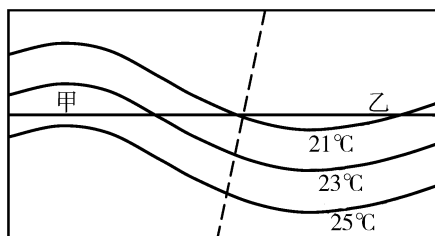
15. 我国某地地形崎岖，石灰岩广布，许多山间小盆地和河谷平原错落其中。该地形区为

- A. 四川盆地 B. 南岭山地 C. 东南丘陵 D. 云贵高原

16. 俗话说“跳进黄河洗不清”，说明黄河含沙量十分严重。黄河的泥沙主要来自

- A. 华北平原 B. 青藏高原
C. 内蒙古高原 D. 黄土高原

17. 右图为某区域7月份等温线分布示意图，图中虚线表示海岸线，据图分析下列说法正确的是



- A. 该区域位于北半球，乙地代表陆地
B. 该区域位于北半球，甲地代表陆地
C. 该区域位于南半球，甲地代表海洋
D. 该区域位于南半球，乙地代表海洋

18. 据报道，我国南水北调工程的中线方案需要进行丹江口水库库区的移民工作。说明我国水资源分布不均，下列关于我国水资源分布的说法正确的是

- A. 水资源的年际变化不大
B. 水资源时间分布不均，冬春两季多，夏秋两季少
C. 水资源空间分布不均，“东多西少，南多北少”
D. 水资源的时空分布是均匀的，只是各地对水资源的浪费和污染程度不同

19. 我国下列钢铁工业基地中，不属于长江流域的是

- A. 包头 B. 攀枝花 C. 武汉 D. 上海

20. 下列运输任务与适宜的运输方式搭配正确的是

- A. 四十箱玻璃由益阳运往长沙—铁路
B. 2万吨铁矿石由武汉运往上海—水运
C. 一箱急救药由长沙运往拉萨—公路
D. 5万立方米天然气由四川运往湖南—河运

21. 近年来，影响北京的浮尘、扬沙和沙尘暴天气表现出加剧的趋势，但大多数沙源却不是来自北京本地，其沙源最有可能来自

- A. 内蒙古高原 B. 东北平原 C. 黄土高原 D. 青藏高原

22. 新疆的瓜果特别甜，如哈密瓜、吐鲁番的葡萄等。其主要原因是

- A. 新疆光照强、昼夜温差大 B. 新疆水分充足
C. 新疆绿洲面积广 D. 新疆人特别爱吃瓜果

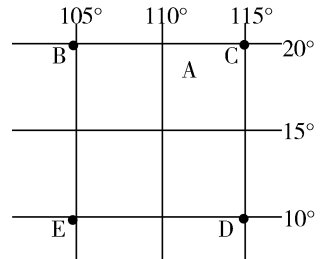
23. 我国某城市位于珠江口西南，博彩业、旅游业等是其主要的经济支柱，素有“海上花园”之称。该城市是指

- A. 台湾 B. 香港 C. 澳门 D. 深圳

据报道，2014年4、5月间我国渔民在南海某地(东经117°，北纬16°)附近进行海上捕捞作业，受到了某邻国军舰的干扰。为保护我国渔民的合法权益，我国渔政船从A地立即前往事发地点进行处理。结合右图，回答24至25题：

24. 我国渔政船为了尽快抵达事发地点，应该选择的前进方向大致是

- A. 东北方向 B. 西北方向
C. 东南方向 D. 正南方向

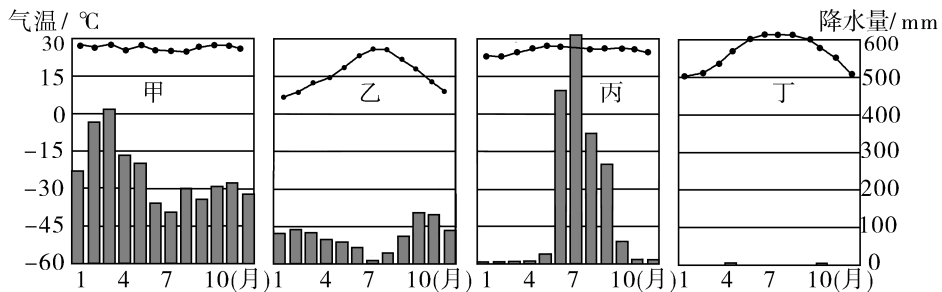


25. 下列说法正确的是

- A. 此季节一天中B处比C处先日落
B. ED两地之间比BC两地之间的距离长
C. 图中E点的位置是(10°S, 105°E)
D. 图中C点在E点的西南方

二、综合题(本大题共6个小题，共50分)

26. 读四地气温-降水量图，回答下列小题。(7分)



(1) 图中四个地区所属的四种气候类型分别是：

甲：_____ 乙：_____ 丙：_____ 丁：_____

(2) 乙地所属的气候类型的特点是_____。

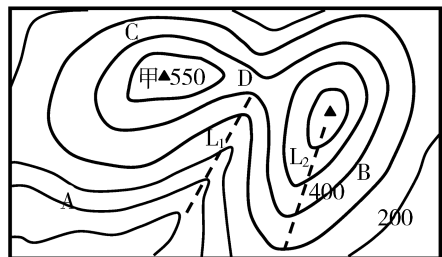
(3) 寒假临近了，海南岛以其优美宜人的自然风光吸引了国内外众多游客，成为我国冬季旅游的热门地区，图中四个地区中，_____地可能是海南岛，请根据其气候特点判断冬季海南岛是我国旅游热点的主要原因是_____。

27. 右图为我国东南沿海某地等高线地形图(比例尺：1：10000)，读图回答下列问题。(6分)

(1) A地的海拔为_____米，A地与甲山顶之间的气温差约为_____℃。

(2) 写出与下列山地地形(部位)名称对应的字母：
鞍部_____，山谷_____。

(3) B、C两地降水量多的是_____，原因是_____。



28. 右图为东亚局部示意图，读图回答问题。(11分)

(1) 写出图中数码所代表的地理事物：(2分)

国家：①_____

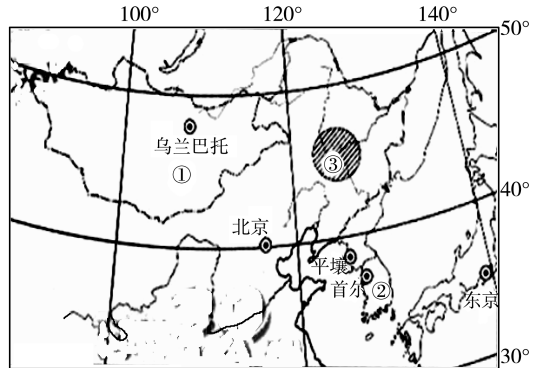
半岛：②_____

(2) 该图东部地区，冬季和夏季风向和降水有什么差异。(4分)

(3) 日本工业的分布特点及原因。(3分)

(4) 日本多火山、地震。2011年3月11日，该国东部海域发生9.0级地震，并引发了强烈的海啸。简述日本多火山、地震的原因。(1分)

(5) 图中③地区种植的粮食作物主要有_____。(1分)



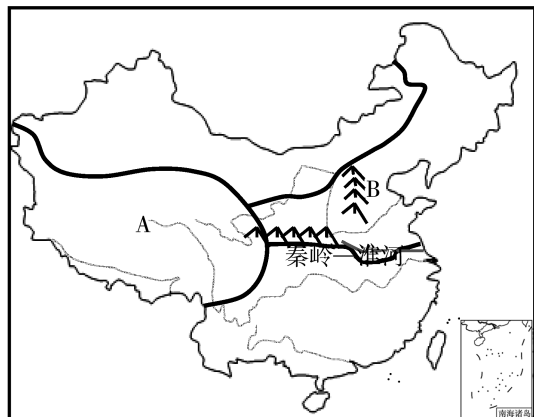
29. 阅读有关材料，回答相关问题。(8分)

材料一 我国东西横跨 5200 多千米，南北纵贯 5500 余千米，包括了从沿海到内陆、从寒温带到热带的各种自然景观，呈现出显著的区域地理差异。

材料二 中国四大地理分区图

(1) 如图所示，秦岭—淮河是我国一条重要的自然地理分界线。此界线以南大部分地区温度带属于_____，耕地类型以_____为主，

(2) A 自然地理区是_____。其主要的自然地理环境特征是_____；该区域主要牲畜中，被称为“高原之舟”的是_____；通往该地区世界海拔最高的铁路名称是_____。



(3) B 为_____山脉，它是黄土高原和_____ (地形区) 的分界线。

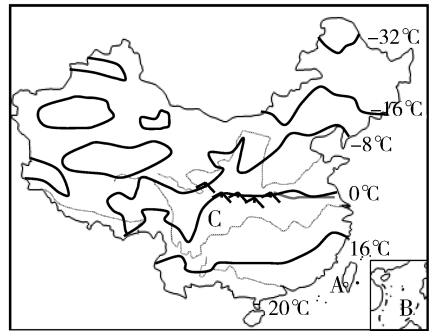
30. 阅读有关材料，完成下列问题。(7分)

材料一 中国外交部发言人在 2012 年 4 月 16 日下午举行的例行记者会上说：“黄岩岛是中国的领土，中方要求这艘考古船(菲律宾)立即离开黄岩岛海域。”外交部发言人表示黄岩岛局势的主要原因是菲律宾方面侵犯了中国的主权，因为黄岩岛是中国的固有领土。

材料二 合水桥中学初二 155 班的小李同学寒假乘火车到哈尔滨旅游，欣赏了哈尔滨非常美丽的冰雕景观，并感受了我国南北景观的差异。

材料三 我国某月等温线分布图

(1) 写出图中字母所代表的相关地理事物名称：著名港口 A 是_____，黄岩岛所在海域 B 是_____，商品粮基地 C 是_____。



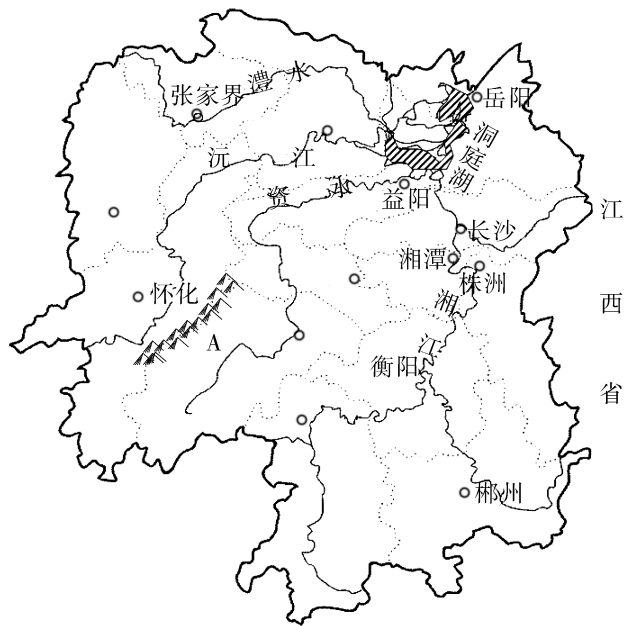
(2) 不属于 C 地区主要的自然灾害是()。

- A. 台风 B. 洪涝
C. 暴雨 D. 干旱

(3) 根据图中等温线分布情况，说明我国此季节气温分布的主要特点是_____，并简要说明其形成原因。(3 分)

31. 读湖南省简图，回答问题。(11 分)

(1) 湖南的湘、资、沅、澧四水汇集洞庭湖，根据河流流向可以判断湖南的地势特征是_____。(2 分) 湖南是一个旱涝灾害比较频繁的地区，其中洪涝灾害最严重的是_____地区。



(2) 图中山脉 A 是_____，它是我国地势二、三级阶梯的分界线。该山脉以西是_____高原。

(3) 湖南提出要将湘江打造成“东方的莱茵河”。请问：莱茵河是位于哪个大洲的河流() (2 分)

- A. 北美洲 B. 非洲 C. 大洋洲 D. 欧洲

(4) 谭其骧先生在《湖南人由来考》中指出，现代湖南人大多数为江西移民，因此湖南与江西有很深的历史渊源。请列举湖南和江西在自然地理特征方面的两个相似之处。(2 分)

(5) 近年来，益阳地区一直在开展创建卫生城市和文明城市工作，结合所学的地理知识，你认为作为中学生该如何积极参与这项活动。(2 分)

2016年益阳市初中毕业学业考试模拟试卷(三)

地 理

准考证号

--	--	--	--	--	--	--	--	--	--

姓名_____

- 考生注意：**
1. 答题前，考生务必将自己的姓名、准考证号写在答题卡和该试题卷的相应处，并认真核对答题卡上的姓名、准考证号和科目。
 2. 考生作答时，选择题、判断题和综合题均须作在答题卡上，在本试题卷上作答无效。考生在答题卡上按答题卡中注意事项的要求答题。
 3. 考试结束后，将本试题卷和答题卡一并交回。
 4. 本试卷包括试题卷和答题卡。本试卷为闭卷考试试卷，满分为 100 分，考试时间与生物共 120 分钟。本试题卷共 6 页。如缺页，考生须声明，否则后果自负。

一、选择题(本大题共 25 小题，每小题只有一个正确答案，每小题 2 分，共 50 分)

1. 日月东升西落的主要原因是

- A. 日月自东向西绕地球转 B. 地球公转
C. 地球自转 D. 日月自西向东绕地球转

2015 年 4 月 25 日 14 时 11 分，尼泊尔(位于中国和印度之间)发生 8.1 级地震，余震 100 多次，造成大量人员伤亡和财产损失。据此回答 2~4 题

2. 此次大地震发生的原因是

- A. 欧亚板块与印度洋板块碰撞挤压 B. 欧亚板块与印度洋板块张裂作用
C. 欧亚板块与太平洋板块碰撞挤压 D. 欧亚板块与太平洋板块张裂作用

3. 此次地震可能诱发的次生灾害有

- A. 雪崩 大雪 崩塌 B. 暴雨 洪涝 滑坡
C. 崩塌 滑坡 雪崩 D. 干旱 雪崩 滑坡

4. 地震发生后，中国政府紧急组织救援人员前往地震灾区。要将救援人员和急救药品第一时间运送到震区，最合适的运输方式是

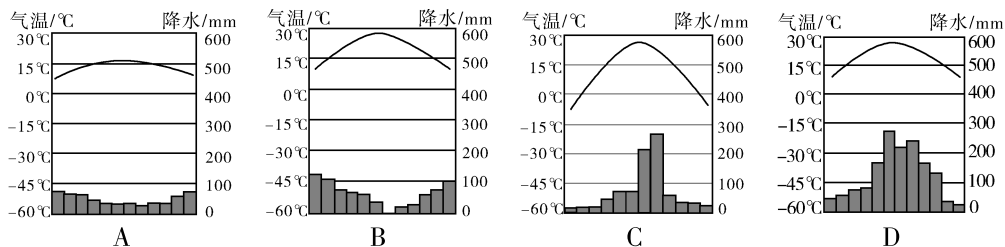
- A. 公路运输 B. 铁路运输 C. 航空运输 D. 海洋运输

2013 年 10 月 2 日，习近平主席提出筹建亚洲基础设施投资银行(简称亚投行)，截至 2015 年 4 月 15 日，亚投行意向创始成员国确定为中国、英国、法国、德国、澳大利亚、意大利、印度、俄罗斯、巴西等 57 个。据此回答 5~6 题

5. 下列关于亚投行创始成员国的叙述，正确的是

- A. 佛教创始于印度 B. 澳大利亚人口稠密
C. 印度以黄色人种为主 D. 巴西主要使用英语

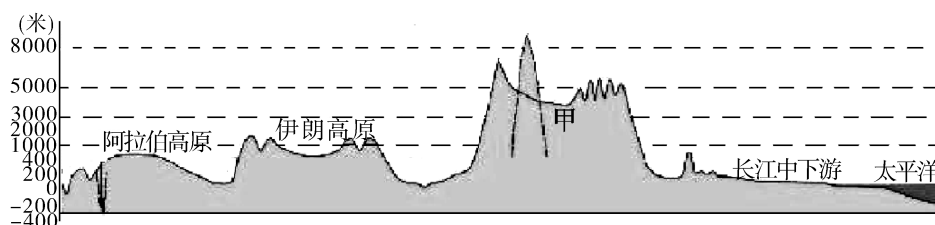
6. 下列气温与降水量图中，能够反映意大利主要气候特点的是



7. 下列关于亚投行创始成员国的叙述，错误的是

- A. 俄罗斯属发达国家
- B. 中国是最大的发展中国家
- C. 印度和巴西的合作属南南合作
- D. 中国和英国的合作属南北对话

下图为亚洲大陆沿北纬 30 度地形剖面图，据此回答 8~9 题



8. 此图反映的地势特征是

- A. 中部高四周低
- B. 西高东低
- C. 东西高中间低
- D. 东西低中间高

9. 关于甲地区的叙述，正确的是

- A. 气候为温带大陆性气候
- B. 多条大河的发源地
- C. 位于板块内部地壳稳定
- D. 农业以种植业为主

10. 关于日本的叙述，正确的是

- A. 地形以平原、丘陵为主
- B. 地广人稀，资源丰富
- C. 工业主要分布在日本海沿岸
- D. 大和民族占绝对优势

11. 长期以来中东地区战火纷飞，近期阿拉伯极端组织(IS)相继攻占伊拉克、叙利亚多个城镇，同时以沙特阿拉伯为首的多国部队对也门境内的极端组织进行了打击。造成中东地区战争不断的原因是

- ①地理位置重要
- ②以白色人种为主
- ③石油资源丰富
- ④淡水资源贫乏
- ⑤民族宗教矛盾突出
- ⑥地形以高原为主

- A. ①③④⑤
- B. ①②③④⑤⑥
- C. ②④⑤⑥
- D. ①④⑤⑥

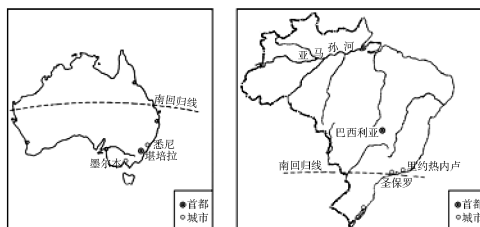
12. 关于撒哈拉以南非洲的叙述，正确的是

- A. 气候以热带雨林气候为主
- B. 出口商品以初级农矿产品为主
- C. 资源贫乏，导致经济落后
- D. 黑种人占总人口的一半左右

13. 根据澳大利亚和巴西示意图，判断下面

关于两国相同点的说法，正确的是

- A. 都有南回归线穿过
- B. 都濒临太平洋
- C. 首都都位于沿海地区
- D. 都有热带沙漠气候



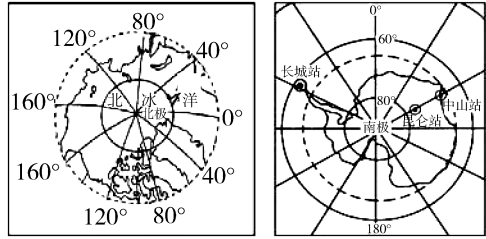
读两极地区图，完成 14~15 题

14. 两极地区共有的地理特征是

- A. 以海洋为主
- B. 纬度较低
- C. 冰雪覆盖
- D. 动植物资源丰富

15. 关于两极地区的叙述，正确的是

- A. 围绕北极地区的大洲是亚洲、非洲、欧洲
- B. 两极地区气候严寒的主要原因是冰雪覆盖
- C. 围绕南极地区的大洋是太平洋、大西洋、印度洋
- D. 昆仑站在中山站的西南方



2015 年 6 月 1 日 21 时 28 分，从南京到重庆的“东方之星”客船，沿长江逆流而上，行驶到湖北监利(荆江河段)时，不幸侧翻沉没。据此回答 16~18 题

16. 湖北的简称和行政中心是

- A. 皖—合肥
- B. 赣—南昌
- C. 渝—重庆
- D. 鄂—武汉

17. 沉船事故地点位于长江的

- A. 上游
- B. 中游
- C. 下游
- D. 上中游的分界处

18. 导致此次客船翻沉事故的自然原因，不可能是


- A. 龙卷风
- B. 暴雨
- C. 江流湍急
- D. 寒潮

19. 关于我国人口和民族的叙述，正确的是

- A. 我国人口的分布是南方人口多，北方人口少
- B. 因为出生率高，目前我国每年新增大量人口
- C. 我国民族分布的特点是“小散居、大聚居、交错杂居”
- D. 我国少数民族主要分布在西南、西北和东北地区

20. 山脉是地形的骨架，往往成为重要的地理分界线，下列说法正确的是

- A. ①地区地表支离破碎
- B. ②地区是长江中下游平原
- C. ③在福建省
- D. ④地区有我国最大的河流



21. 符合我国自然资源分布特点的说法，正确的是

- A. 水资源——华北多，西南少
- B. 草地——主要分布在东南部湿润地区
- C. 林地——西北多，东北少
- D. 耕地——南方以水田为主，北方以旱地为主

22. 关于我国四大地理区域工农业生产的叙述，正确的是

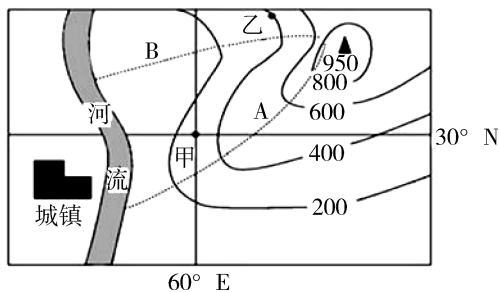
- A. 西北地区发展种植业的主要制约因素是人口少
- B. 环渤海地区是我国重要的高新技术产业聚集区
- C. 青藏地区主要是发展高山牧业和绿洲农业
- D. 南方地区有我国最大的重工业基地

23. 关于北京的叙述，正确的是
- A. 北京冬冷夏热属温带大陆性气候 B. 为解决就业问题应大力发展工业
- C. 北京是全国最大的铁路交通枢纽 D. “鸟巢”是北京作为政治中心的标志
24. 关于台湾的叙述，正确的是
- A. 西隔台湾海峡与广东相望
- B. 人口主要集中分布在东部沿海
- C. 台湾气候湿润，雨量充沛，河流源远流长
- D. 台湾省包括台湾岛及澎湖列岛、钓鱼岛等许多小岛
25. 关于香港和澳门的叙述，正确的是
- A. 香港毗邻珠海，澳门紧邻深圳
- B. 博彩旅游业是香港的经济支柱
- C. 祖国内地是港澳经济繁荣的坚实后盾和强力支撑
- D. 香港由香港岛、九龙和路环岛组成

二、综合题(本大题共6个小题，共50分)

26. 今年儿童节，小明同学外出旅游，登山到甲处，通过GPS定位确定了自己的经纬度位置(如下图)。据图完成下列问题。(8分)

- (1)甲地在城镇的_____方向，运用所学地理知识小明_____ (能、不能)用此图量算出甲乙两地的实地距离，理由是_____。



- (2)儿童节这天，图中城镇的昼夜长短情况是_____。
- (3)儿童节这天，测得乙地的气温为20℃，那么山顶的气温是_____℃。
- (4)甲地到乙地与甲地到山顶比较，甲地到乙地的坡度_____ (陡、缓)。
- (5)图示地区位于东、西半球的_____半球。
- (6)A、B两条线，表示山脊的是_____线。

27. 阅读下列资料，完成有关问题。(9分)

资料1 2013年9月和10月，中国国家主席习近平在出访中亚和东南亚国家期间，先后提出共建“丝绸之路经济带”和“21世纪海上丝绸之路”(以下简称“一带一路”)的重大倡议，得到国际社会高度关注。

资料2 “一带一路”示意图。

- (1)“一带一路”战略涵盖亚洲、_____洲和_____洲三大洲。
- (2)“海上丝绸之路”上的海上交通要道有被日本称为“海上生命线”的_____海峡和亚非分界线_____。

