



# 能力评价

NENGLI PINGJIA

## 初中卷

◆ 主编 / 黄步高 刘新民



# 地理

七年级

下册

人教版

CES 湖南教育出版社

湘教  
考苑

# 能力评价

NENGLI PINGJIA

初中卷

◆ 主编 / 黄步高 刘新民



# 地理

七年级

下册

人教版

CNS 湖南教育出版社

# 编者的话

新

**理念新：**贯彻最新教育教学理念，以最新《课程标准》和教材为依据，将考试内容、命题探索和能力提升融为一体。

**习题新：**选取全国各地最新试题以及名校的精华试题，特别选择具有原创价值的新题，进行合理科学的选取或者改编。

精

**策划精：**试卷设计为活页，便于教学细节的监控和管理，在版式设计上注意合理设计答题空和分值统计，方便学生的作答和老师的快速批改与及时反馈。

**选题精：**单元、月考、期中、分类复习、期末测试题的设置博观而约取，精选试题，保证题型新颖，情境鲜活，梯度合理，充盈着浓浓的时代气息。

全

**类别全：**整体融合单元、月考、期中、分类复习、期末测试卷的科学化设计，倡导自主、合作、探究的学习方式。引领学生挑战自我，达成高分目标，体验成功的快乐。

**检测全：**紧紧抓住各科要求的基础点、重点、难点、疑点、热点，分阶段帮助学生提升综合素质和能力。力求通过实战，增强实效，提高实力。

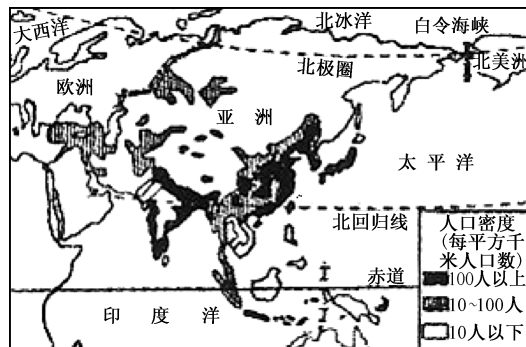
# 目 录

第六章测试卷	1
第七章测试卷一	3
月考试卷一	5
第七章测试卷二	7
第八章测试卷一	9
第八章测试卷二	11
第九章测试卷	13
月考试卷二	15
第十章测试卷	19
分类复习卷一 自然地理	21
分类复习卷二 人文地理	23
期中测试卷一	25
期中测试卷二	29
期末测试卷一	33
期末测试卷二	37
参考答案与解析	41





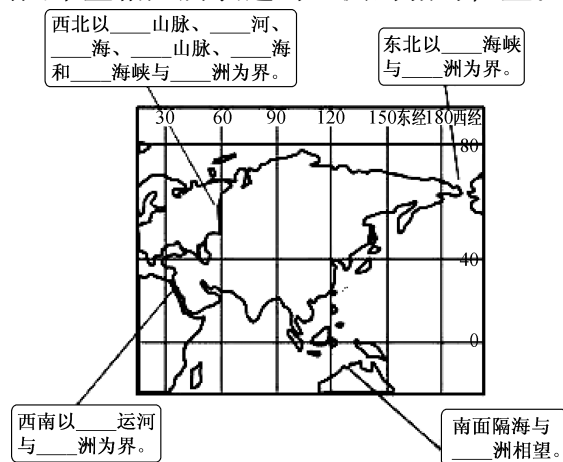
17. 小明的爸爸拍摄的是哪个民族的生活场景 ( )
- A. 北亚东西伯利亚的亚库特人      B. 南亚恒河三角洲的孟加拉人  
C. 西亚沙特阿拉伯的贝都因人      D. 东南亚印度尼西亚的达雅克人
18. 当地人聚居在长屋里,与当地的哪一因素有关 ( )
- A. 炎热干燥      B. 严寒多雪      C. 气候湿热      D. 河网密布
19. 亚洲是世界上季风气候最典型、影响最广的大洲,季风气候主要分布在亚洲的 ( )
- ①东部地区    ②西部地区    ③南部地区    ④中部地区
- A. ①②      B. ①③      C. ②③      D. ②④
20. 下图是亚洲人口分布略图,图中人口分布密集的地区是 ( )



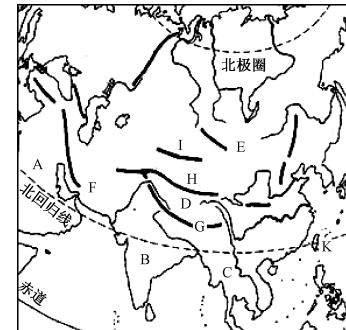
- A. 亚洲的东南部和南部      B. 亚洲的东部和北部  
C. 亚洲的西部和南部      D. 亚洲的中部和东部

二、综合题(60分)

21. 按照地理位置的相对性和绝对性,一般分为绝对地理位置和相对地理位置。相对地理位置是以其参考点的周围事物进行确定。绝对地理位置是以整个地球为参考系,以经纬度为度量标准。请填出图中空格处所表达的亚洲的相对位置。(每空2分,共24分)

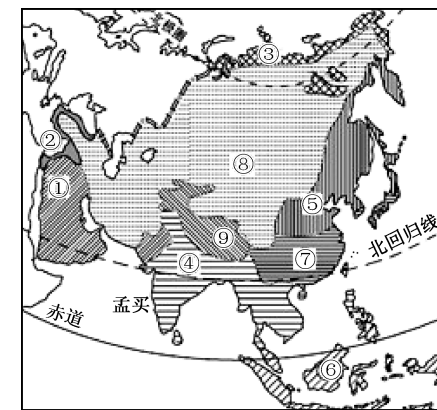


22. 读亚洲部分地区地形略图,完成下列各题。(共14分)



- (1)写出图中字母所代表的半岛和高原名称。(6分)
- A \_\_\_\_\_ (半岛) B \_\_\_\_\_ (半岛) D \_\_\_\_\_ (高原)
- (2)写出图中字母所代表的山脉名称:G \_\_\_\_\_。(2分)
- (3)全世界的主要气候类型约有11种,仅亚洲就有9种,这说明亚洲气候 \_\_\_\_\_。(2分)
- (4)亚洲是世界第一大洲,“第一”不仅表现在面积最大和人口最多上,还表现在它有着许多“世界之最”的高原、山地、河流、湖泊等。请列举亚洲在自然地理方面的世界之最。(至少两个)(4分)

23. 读亚洲气候类型图,回答下列问题。(共22分)



- (1)亚洲各种气候类型中,序号 \_\_\_\_\_ 所代表的 \_\_\_\_\_ 气候分布面积最广。(4分)
- (2)由于亚洲中部 \_\_\_\_\_,形成序号⑨所代表的高原山地气候。(2分)
- (3)我国东南沿海地区与阿拉伯半岛基本上处于同一纬度,都有北回归线穿过,可是阿拉伯半岛是炎热干燥的亚热带和热带沙漠气候,而我国东南沿海地区却是夏季炎热多雨、冬季低温少雨的 \_\_\_\_\_ 气候,原因是 \_\_\_\_\_。(4分)
- (4)(2分)下列关于亚洲气候复杂多样的原因的叙述,错误的是 ( )
- A. 南北跨纬度大,增加了气候的复杂性  
B. 东西离海远近差异大,增加了气候的复杂性  
C. 植被类型多,增加了气候的复杂性  
D. 地形复杂并且起伏大,增加了气候的复杂性
- (5)(2分)序号⑥所代表的气候类型,其气候特征是 ( )
- A. 炎热干燥      B. 全年高温,分旱雨两季  
C. 终年高温多雨      D. 冬暖夏凉
- (6)受 \_\_\_\_\_ 因素的影响,⑥→⑦→⑤气温逐渐 \_\_\_\_\_。受 \_\_\_\_\_ 因素的影响,⑦→⑧降水逐渐 \_\_\_\_\_。(8分)

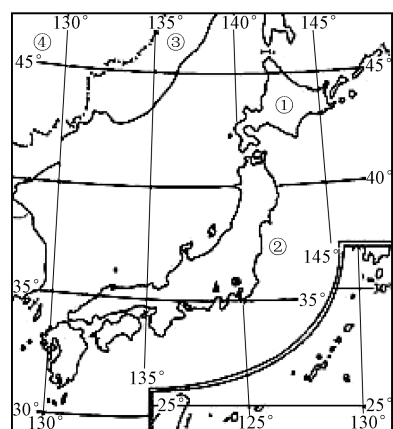
## 第七章测试卷一

测试时间:60分钟 满分:100分

题号	一	二	总分
得分			

一、选择题(下列各小题的四个选项中,只有一项符合题意。每小题2分,共40分)

日本是东亚地区一个多山的岛国,也是一个火山、地震活动频繁的国家。读下图,回答1~3题。



1. 图中序号代表的地理事物名称,正确的是 ( )  
 A. ①—本州岛 B. ②—日本海 C. ③—朝鲜 D. ④—中国
2. 日本领土组成的四个大岛中,纬度最高的是 ( )  
 A. 北海道岛 B. 本州岛 C. 四国岛 D. 九州岛
3. 下列关于日本自然地理特征的叙述,正确的是 ( )  
 A. 位于北海道的关东平原是其最大的平原  
 B. 处于两大板块交界处,多火山、地震  
 C. 气候四季分明,很少受到台风侵袭  
 D. 富士山海拔3776米,山顶樱树成林

下图是玲玲外出旅游时拍摄的一幅照片。请你根据图片,回答4~6题。



4. 玲玲外出旅游所到的国家是 ( )  
 A. 法国 B. 日本 C. 印度 D. 英国
5. 玲玲在该国旅游时,不能实现的愿望是 ( )  
 A. 雨林探险 B. 游富士山 C. 观赏樱花 D. 吃生鱼片
6. 这幅图片是该国著名的旅游胜地 ( )  
 A. 泰山 B. 富士山 C. 黄山 D. 金刚山
7. 下列关于日本的叙述,正确的是 ( )

- A. 矿产资源大多能自给,少量依靠进口
  - B. 工业主要分布在日本海沿岸一带
  - C. 工业产品大量销往国外
  - D. 最大的贸易对象是亚洲
  8. 下列关于日本经济的说法,错误的是 ( )  
 A. 资源缺乏,是一个资源小国  
 B. 经济类型是以加工贸易为主的经济  
 C. 日本的工业集中分布在太平洋沿岸和濑户内海沿岸  
 D. 因为日本是亚洲唯一的经济强国,因此,世界经济对其影响较小
  9. 某考察团在考察日本工业时,深深感受到其技术优势,但同时也发现其工业发展的弱点,那就是 ( )  
 A. 有丰富的劳动力资源 B. 地域狭小,资源贫乏  
 C. 岛国,海岸线曲折 D. 火山、地震的威胁大
  10. 日本的工业集中在太平洋沿岸一带的主要原因是 ( )  
 A. 受日本暖流影响,气候温暖湿润 B. 接近太平洋大渔场,水产丰富  
 C. 受火山、地震等自然灾害影响小 D. 有优良的港湾和接近消费市场
- 近年来,日本加大海外投资,不断地把工厂迁移到国外。据此回答11~13题。
11. 对迁入国来说,其好处是 ( )  
 ①解决资金短缺问题 ②引进先进的生产技术 ③降低运输成本,提高经济效益 ④提供丰富的资源  
 A. ①② B. ①③ C. ②③ D. ②④
  12. 在日本的外迁企业中,大多是 ( )  
 ①耗用大量资源的企业 ②需用大量劳动力的企业 ③高新技术企业 ④污染较重的企业  
 A. ①②③ B. ①②④ C. ①③④ D. ②③④
  13. 你认为下列国家中,对日本投资建厂最具有吸引力的是 ( )  
 A. 英国 B. 澳大利亚 C. 中国 D. 美国
  14. 下列河流中,流经首都最多的是 ( )  
 A. 湄公河 B. 湄南河 C. 萨尔温江 D. 伊洛瓦底江
  15. 下列关于东南亚地区的叙述,不正确的是 ( )  
 A. 以热带季风气候为主,终年高温多雨  
 B. 大城市主要分布在河流沿岸及河口三角洲地区  
 C. 中南半岛的地形具有山河相间、纵列分布的特点  
 D. 在河流沿岸和三角洲平原分布着大面积的稻田
  16. 上海一个经贸代表团赴东南亚的印度尼西亚开展商贸活动。活动期间,成员可在该国看到的自然或人文现象是 ( )  
 ①午后电闪雷鸣,大雨倾盆 ②饭桌上以大米为主食 ③泰姬陵和吴哥窟 ④众多的华人和华侨  
 A. ①② B. ②③④ C. ①③ D. ①②④
- 漫步在新马泰海滨,扑面而来的是温暖的热带气息。令人神往的海滩,茂盛的橡胶园和油棕树,浓郁的宗教文化和众多的佛教建筑无不吸引着旅游爱好者。据此回答17~18题。
17. 材料中提到的“新马泰”指的是 ( )  
 A. 新加坡、马来西亚、泰国 B. 新加坡、马六甲、泰国  
 C. 新西兰、马六甲、泰国 D. 新加坡、马尔代夫、泰国
  18. “新马泰”所在地区成为世界上重要的天然橡胶、油棕等热带经济作物产地的主要

原因是 ( )

- A. 热量、水分充足
- B. 山地多,土壤肥沃
- C. 种植历史悠久,生产技术高
- D. 世界对热带经济作物的需求量大

19. 某公司从东南亚采购了一船当地的货物回国,轮船进入中国海关时,报货单上的货物名称最有可能是 ( )

- A. 锡矿砂
- B. 棉花
- C. 椰枣
- D. 羊毛

20. 某经济代表团要去东南亚参观考察,并打算与所进口货物的最大生产国签订进货合同。请帮他们判断,下列组合正确的是 ( )

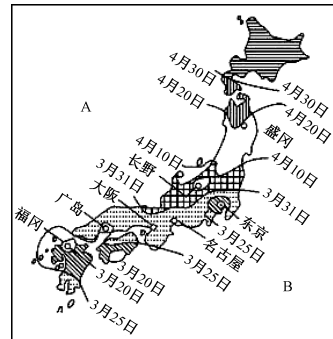
- ①橡胶——菲律宾
  - ②蕉麻——马来西亚
  - ③棕榈油——马来西亚
  - ④橡胶——泰国
  - ⑤蕉麻——菲律宾
  - ⑥棕榈油——印度尼西亚
- A. ③④⑤    B. ①②③    C. ①⑤⑥    D. ②④⑥

### 二、综合题(共 60 分)

21. 阅读材料,回答问题。(共 9 分)

材料一 每年春天是日本人赏樱花的季节,当第一朵樱花在南部绽放后,媒体就开始向人们播报樱花开放时间逐渐北移的路线。在樱花开放的日子里,人们常在樱花树下野餐聚会。

材料二 日本樱花开放时间北移路线图。



(1) 写出日本周边水域的名称。(2 分)

A \_\_\_\_\_ 海, B \_\_\_\_\_ 洋。

(2) (1 分) 导致日本樱花开放时间从南向北推迟的主要原因是由于南北 ( )

- A. 气温差异
- B. 地形差异
- C. 海陆差异
- D. 光照差异

(3) 济南的王先生“五一”期间欲到日本观赏樱花,你建议他最好去 \_\_\_\_\_ 岛。(1 分)

(4) 若一个人在同一季节观赏东京、长野、盛冈、福冈四个城市的樱花开放,他应最先到 \_\_\_\_\_, 其次到 \_\_\_\_\_, 最后到 \_\_\_\_\_。其中日本的首都是 \_\_\_\_\_。(5 分)

22. 阅读材料,回答问题。(26 分)

材料一 日本发生的强烈地震、海啸以及核电站泄漏事故,不仅对原已步入复苏通道的日本经济产生重大影响,也对中日贸易发展产生巨大冲击。

材料二 中国和日本之间的贸易。中国出口到日本的商品是服装、石油、煤炭、棉花、水产品、木材等;日本出口到中国的商品是钢材、电子产品及其他工业产品。

(1) 日本多火山、地震的原因是 \_\_\_\_\_。(4 分)

(2) 中国出口到日本的商品大多为 \_\_\_\_\_ (初级产品或工业制成品), 价格 \_\_\_\_\_, 贸易获得的利润 \_\_\_\_\_, 而日本出口到中国的商品大多为 \_\_\_\_\_ (初级产品或工业制成品), 价格 \_\_\_\_\_, 贸易获得的利润 \_\_\_\_\_。(6 分)

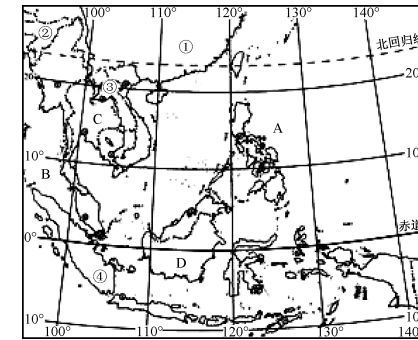
(3) 你知道日本经济赖以发展的条件有哪些吗?(至少写出两条)(4 分)

(4) 日本的工业集中分布在太平洋沿岸的原因是什么?(4 分)

(5) 小强在学习了日本的经济后说:“日本是一个资源贫乏的国家。”你认为他的说法对吗? 为什么?(4 分)

(6) 日本的森林覆盖率为 70%, 但是还需要大量从中国进口木材, 你能想象出是什么原因吗?(4 分)

23. 读图, 完成下列问题。(每空 1 分, 共 11 分)

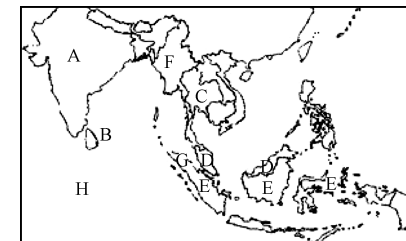


(1) 东南亚的主要邻国: ① \_\_\_\_\_, ② \_\_\_\_\_。

(2) 东南亚由 C \_\_\_\_\_ 半岛和 D \_\_\_\_\_ 群岛两部分组成, 其中国家 ③ \_\_\_\_\_ 是该地区唯一的内陆国, 国家 ④ \_\_\_\_\_ 占据了群岛 D 的大部分。④ 国还是世界上最大的 \_\_\_\_\_ (热带作物) 生产国。

(3) 在图中用字母 P 标注出马六甲海峡。它沟通了大洋 A \_\_\_\_\_ 和大洋 B \_\_\_\_\_, 位于 \_\_\_\_\_ 半岛和 \_\_\_\_\_ 岛之间。

24. 阅读下图, 完成下列问题。(共 14 分)



(1) 将图中字母与其对应的国家用直线连接起来。(6 分)

- A \_\_\_\_\_ 印度尼西亚
- B \_\_\_\_\_ 马来西亚
- C \_\_\_\_\_ 泰国
- D \_\_\_\_\_ 缅甸
- E \_\_\_\_\_ 印度
- F \_\_\_\_\_ 斯里兰卡

(2) (2 分) 写出图中字母代表的地理事物的名称: H \_\_\_\_\_ 洋 G \_\_\_\_\_ 岛

(3) 图示地区地震频发, 并易引发大海啸。印度洋海啸的触发原因是 \_\_\_\_\_, 地震发生的范围位于 \_\_\_\_\_ 板块与 \_\_\_\_\_ 板块交界处。这种现象的发生可以用 \_\_\_\_\_ 学说进行解释。(4 分)

(4) 全球变暖与人类大量排放温室气体有关, 温室气体主要是指 \_\_\_\_\_。请你举出至少一种减少温室气体排放所应采取的行动: \_\_\_\_\_。(2 分)

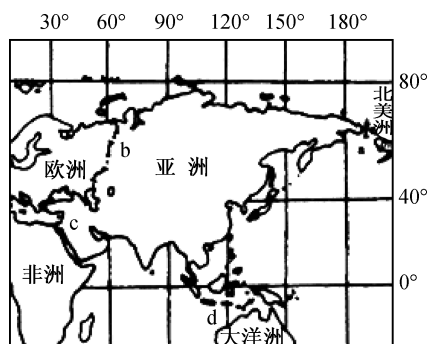
# 月考试卷一

测试时间:60分钟 满分:100分

题号	一	二	总分
得分			

一、选择题(下列各小题的四个选项中,只有一项符合题意。每小题2分,共40分)

读图,回答1~5题。



1. 下列有关亚洲地理位置的叙述,正确的是 ( )
- A. 从半球位置看,亚洲的主体部分位于东半球、北半球
  - B. 从纬度位置看,南极圈与南回归线分别穿过亚洲的北部和南部
  - C. 从海陆位置看,亚洲位于亚欧大陆西部,太平洋的东岸
  - D. 从相对位置看,亚洲的西部与非洲连接在一起,东部与欧洲相连

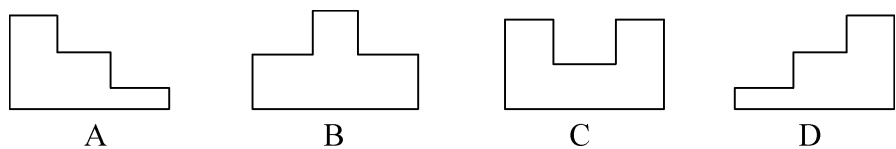
2. 值得大家自豪的是,我们生活的亚洲是世界上第一大洲。下列关于世界第一大洲的叙述,错误的是 ( )

- A. 世界上面积最大的一个洲
- B. 世界上东西距离最长的一个洲
- C. 世界上跨经度最多的一个洲
- D. 世界上跨纬度最广的一个洲

3. 通常,人们按地理方位把亚洲分为6个地区,请选出全部与中国接壤的一组 ( )

- A. 东南亚、南亚、西亚、北亚、中亚
- B. 东南亚、南亚、北亚
- C. 东南亚、南亚、西亚、北亚
- D. 南亚、北亚、中亚

4. 如果从亚洲的东西方向或南北方向作剖面图,下列地形剖面示意图中,最合理的一项为 ( )



5. 下列不属于亚洲的地形区是 ( )
- A. 青藏高原
  - B. 西西伯利亚平原
  - C. 刚果盆地
  - D. 喜马拉雅山

“我们亚洲,山是高昂的头;我们亚洲,河像热血流……”听到这首《亚洲雄风》,我们的脑海中会涌现出一幅亚洲壮丽山河的画卷。据此回答6~7题。

6. “我们亚洲,山是高昂的头”。这里的“山”如果是世界的“头”,那么这座“山”是指 ( )

- A. 天山
- B. 阿尔卑斯山
- C. 昆仑山
- D. 珠穆朗玛峰

7. “我们亚洲,河像热血流”是说亚洲的河流众多,奔流不息。下列关于亚洲河流的叙述,正确的是 ( )

- A. 发源于中部山地、高原的河流,呈放射状都流向太平洋
- B. 发源于中部山地、高原的河流,呈放射状都流向四大洋
- C. 亚洲第一长河是长江
- D. “一江春水向东流”是指亚洲的河流都向东流入大海

8. 下列关于亚洲气候复杂多样原因的叙述,错误的是 ( )

- A. 南北跨纬度大,东西离海远近差异大
- B. 河湖众多,增加了气候的复杂性
- C. 植被类型多,增加了气候的复杂性
- D. 地形复杂并且起伏大,增加了气候的复杂性

读日本略图,回答9~10题。



9. 日本是一个岛国,国土自北往南分别是 ( )

- A. 四国岛、北海道岛、九州岛、本州岛
- B. 九州岛、北海道岛、本州岛、四国岛
- C. 本州岛、北海道岛、四国岛、九州岛
- D. 北海道岛、本州岛、四国岛、九州岛

10. 下列叙述不正确的是 ( )

- A. ①是北海道岛,该岛附近渔业资源丰富
- B. ②是富士山,它是一座著名的活火山
- C. ③是日本海,该海沿岸地带工业分布特别集中
- D. 日本火山众多,地震频繁

11. 下列有关日本地理特征的叙述,正确的是 ( )

- A. 日本是太平洋东部的群岛国家,由四大岛、数千个小岛及周围海域组成
- B. 日本境内多平原,平原面积占国土总面积的3/4
- C. 气候冬暖夏凉,为典型的温带海洋性气候
- D. 受地形及降水影响,日本河流短小,水能资源丰富

12. 下列关于日本经济情况的叙述,错误的是 ( )

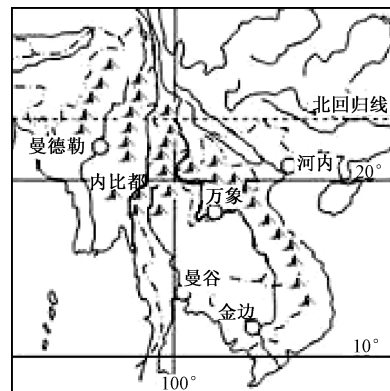
- A. 日本的经济以加工贸易经济为主
- B. 近年来,日本加速扩大海外投资
- C. 日本从国外进口大量的原料和燃料
- D. 日本投资建厂的主要对象是非洲、东亚

13. 日本传统的民居,多是质地较轻的木屋,主要是因为 ( )

- A. 森林资源丰富
- B. 传统的风俗习惯
- C. 居住木屋舒适方便
- D. 减轻地震灾害

14. 下列有关东南亚位置的说法,不正确的是 ( )
- A. 被称为交通的“十字路口” B. 从南北半球来看,完全处在北半球
- C. 从东西半球来看,完全位于东半球 D. 位于印度洋与太平洋之间

下图是中南半岛的山河和城市分布示意图。据图回答 15~17 题。



15. 下列对中南半岛山河分布特点的说法,正确的是 ( )
- ①山河南北纵列 ②山河东西横列 ③山环水绕 ④山河相间
- A. ①④ B. ①③ C. ②③ D. ②④
16. 根据中南半岛的纬度位置可以推断出,该地的气候 ( )
- A. 以热带气候为主 B. 以温带气候为主
- C. 以亚热带气候为主 D. 以寒带气候为主
17. 根据图中城市的分布可以发现,中南半岛的城市 ( )
- A. 大多沿河流分布 B. 大多沿海分布
- C. 大多集中在南部平原 D. 大多集中在北部山地

2013 年元旦前后,上海的一个经贸代表团赴东南亚采购货物,并观光考察。据此完成 18~20 题。

18. 下列物品中,代表团成员没有必要携带的是 ( )
- A. 雨伞 B. 御寒物品 C. 摄像机 D. 地图
19. 下列产品中,最有可能出现在订货合同中的是 ( )
- A. 棉花、小麦 B. 天然橡胶、椰子 C. 蔬菜、牛奶 D. 黄麻、棕榈油
20. 东南亚地区信仰佛教的人数较多。下列国家中,佛寺遍布全国各地,以佛教为国教的是 ( )
- A. 缅甸 B. 柬埔寨 C. 泰国 D. 新加坡

## 二、综合题(共 60 分)

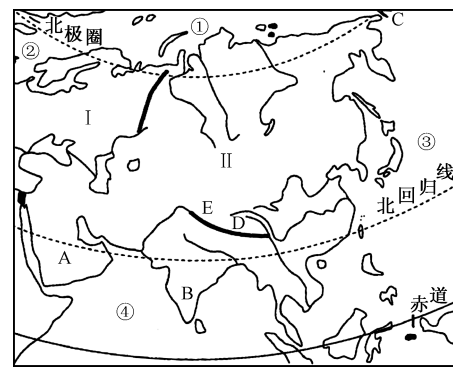
21. 读亚洲地形图,回答下列问题。(每空 2 分,共 22 分)

- (1)写出图中字母或者数字代表的地理事物名称。
- A \_\_\_\_\_ 半岛 B \_\_\_\_\_ 半岛 C \_\_\_\_\_ 海峡
- D \_\_\_\_\_ 山脉 ③ \_\_\_\_\_ 洋

(2)图中,世界最大的半岛是 \_\_\_\_\_ (填字母),E 是世界最高的高原 \_\_\_\_\_。

(3)请写出 I 和 II 两大洲分界线上一条河流与一个海峡的名称: \_\_\_\_\_ 河、\_\_\_\_\_ 海峡。

(4)在上图中找出赤道、北回归线、北极圈的位置,从中我们可以看出,亚洲地跨五带中的 \_\_\_\_\_ 带、北温带



和 \_\_\_\_\_ 带。

22. 读日本工业分布图,回答下列问题。(每空 2 分,共 24 分)

(1)写出图中字母代表的地理事物名称。

海洋:A \_\_\_\_\_ B \_\_\_\_\_

城市:F \_\_\_\_\_ H \_\_\_\_\_

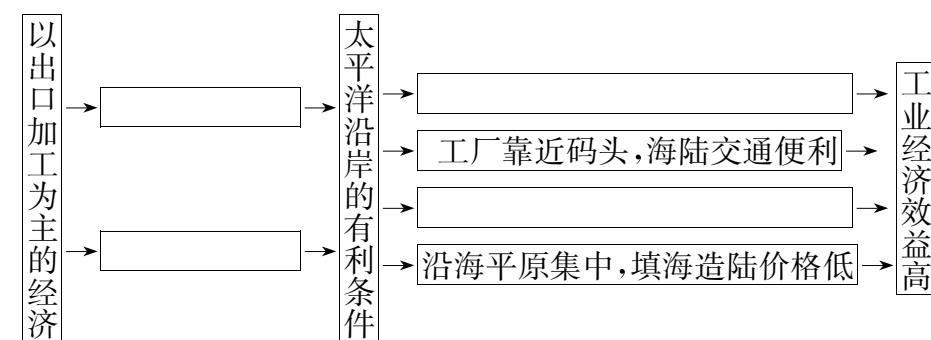
(2)写出数字代表的岛屿名称。

① \_\_\_\_\_ ② \_\_\_\_\_

(3)从图上看,日本的工业主要分布在 \_\_\_\_\_ 沿岸和 \_\_\_\_\_ 沿岸。

(4)将下列内容的字母代号填入下面的框图中。

- a. 城市和人口集中,是国内最大的消费地
- b. 原料、燃料主要依靠进口
- c. 港口条件优越,巨型船舶可以停靠
- d. 产品主要用于出口



日本工业分布图

23. 读图,回答下列问题。(14 分)

(1)图中 B 国的首都是 \_\_\_\_\_,该国最著名的火山为 \_\_\_\_\_。该国海岸线漫长,多优良港湾,为工业发展提供有利条件。(2 分)

(2)图中 D 为 \_\_\_\_\_ 海峡,其连接的两个大洋分别是 \_\_\_\_\_ 和 \_\_\_\_\_,它被 B 国称为 \_\_\_\_\_。该海峡所处的地区是 \_\_\_\_\_。该地区由于南北连接两大洲,东西沟通两大洋,因此被称为 \_\_\_\_\_ 的位置。(6 分)

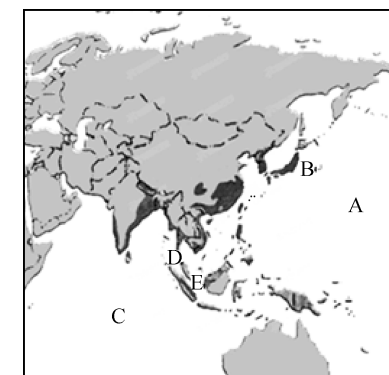
(3)从 C 大洋经过 D 海峡的 B 国轮船,在途经 D 海峡时,轮船总体方向是向 \_\_\_\_\_ 方向行驶,中途可以停靠在被称为“花园城市”的 E \_\_\_\_\_ (国家)补给所需用品。该轮船运送的货物最可能是 \_\_\_\_\_。(3 分)

- A. 淡水 B. 木材 C. 硫磺 D. 石油

(4)近几年,在 A 和 C 海域频繁发生了强烈的地震,并引发海啸,使沿岸各国遭受巨大损失。两海域地震多发的共同原因是 \_\_\_\_\_。(1 分)

(5)(多选,2 分)遇上海啸的时候,下列做法正确的是 ( )

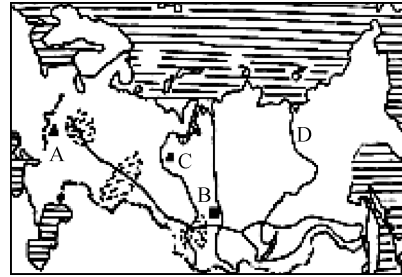
- A. 靠近海边、江河的入海口
- B. 离开海岸,快速到高地等安全处避难
- C. 如果落入水中,尽可能寻找可用于救生的漂浮物
- D. 保持镇定,找准机会,挥动颜色鲜艳的衣物求救






- A. 俄罗斯东西较长, 纬度较高, 气候差异较小  
 B. 乌拉尔山以西为温带海洋性气候  
 C. 俄罗斯大部分地区冬季长而寒冷, 夏季短而温暖  
 D. 冬季在西伯利亚地区形成寒冷的低气压中心

17. 读俄罗斯图, 下列说法中正确的一项是 ( )



- A. A 为库兹巴斯煤矿, 附近是莫斯科工业区  
 B. 俄罗斯最长的铁路是从海参崴到莫斯科的西伯利亚大铁路, 有“亚欧大陆桥”之称  
 C. 俄罗斯的人口主要分布在亚洲部分, 领土主要位于欧洲部分  
 D. D 为俄罗斯的母亲河——伏尔加河, 往南注入贝加尔湖

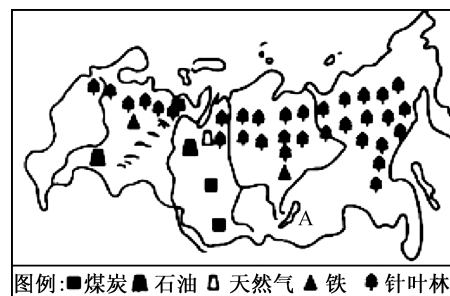
18. 读俄罗斯亚洲部分和欧洲部分几种资源所占比例示意图, 俄罗斯亚洲部分占优势的资源是 ( )



俄罗斯亚洲部分和欧洲部分几种资源所占比例示意图

- A. 淡水资源、科技力量  
 B. 科技力量、人口  
 C. 人口、土地资源  
 D. 淡水资源、土地资源

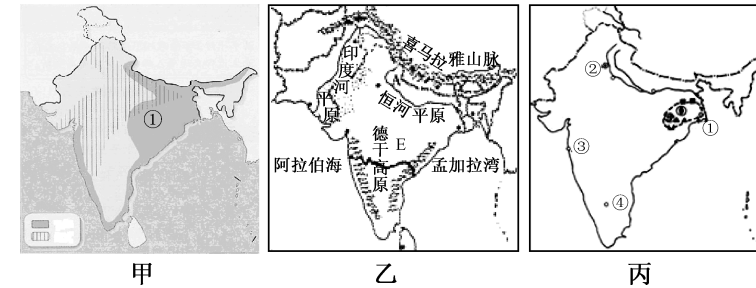
读图, 完成 19~20 题。



19. 俄罗斯丰富的矿产资源有 ( )  
 A. 煤、铁、石油、天然气、森林  
 B. 石油、铁、水能  
 C. 黄金、金刚石、铝土  
 D. 煤、铁、石油
20. 俄罗斯森林资源丰富, 拥有世界上面积最大的 ( )  
 A. 热带雨林  
 B. 热带季雨林  
 C. 温带阔叶林  
 D. 亚寒带针叶林

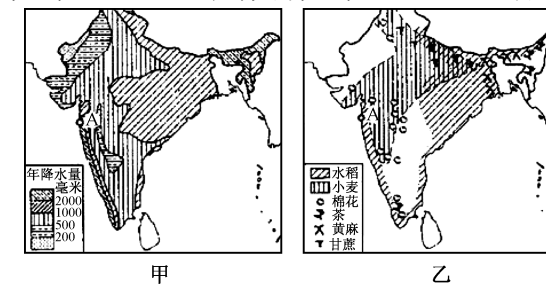
二、综合题(共 40 分)

21. 应印度共和国总理辛格、巴基斯坦伊斯兰共和国政府、瑞士联邦主席毛雷尔、德意志联邦共和国总理默克尔邀请, 国务院总理李克强于 2013 年 5 月 19 日至 27 日对上述四国进行正式访问。读下面三幅图, 回答问题。(每空 2 分, 共 22 分)



- (1) 材料中提到的国家中与印度相邻的是\_\_\_\_\_。  
 (2) 甲图中①区域的农作物是\_\_\_\_\_。  
 (3) 图乙中 E 所在的半岛是\_\_\_\_\_。该半岛的地形分为三部分: 北部是\_\_\_\_\_; 中部是\_\_\_\_\_; 南部是德干高原。图丙中数字①②③④所代表的城市中, 代表该国的信息产业中心的是\_\_\_\_\_。  
 (4) 对印度农业影响较大的是\_\_\_\_\_。  
 A. 东北季风 B. 东南季风 C. 西南季风 D. 西北季风  
 (5) 印度与我国相比, 在人口方面共同的突出特点是\_\_\_\_\_; 在农业生产方面共同面临的自然灾害是\_\_\_\_\_。  
 (6) 近年来, 中印经贸联系日益密切, 印度向我国出口的优势产品主要是\_\_\_\_\_。  
 (7) 近年来, 南亚的一些岛屿不断被海水淹没。这一现象已引起国际社会的高度重视。请你分析这些岛屿被淹没的原因。

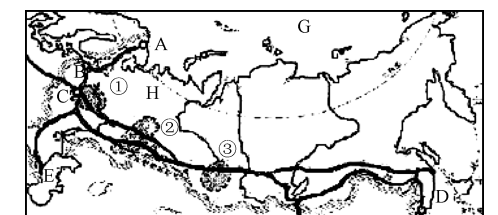
22. 读印度年降水量分布图(甲)和农作物分布图(乙), 回答下列问题。(7 分)



- (1) 印度的小麦主要种植在降水量在\_\_\_\_\_至\_\_\_\_\_毫米之间的地区。(2 分)  
 (2) (1 分) 印度的农业区域化布局的主要目的是 ( )  
 A. 适应不同地区农民的种植习惯  
 B. 使经济作物的布局接近加工厂  
 C. 充分发挥各地的自然条件优势  
 D. 有利于实施大型机械化作业  
 (3) A 市成为纺织工业中心的有利条件是\_\_\_\_\_。(2 分)  
 (4) 印度农产品产量大, 而出口量小的原因是\_\_\_\_\_。(2 分)

23. 读俄罗斯图, 回答下列问题。(11 分)

- (1) 写出图中字母代表的地理事物名称。(4 分)  
 城市: A \_\_\_\_\_ C \_\_\_\_\_ 湖泊: E \_\_\_\_\_  
 海洋: G \_\_\_\_\_  
 (2) 写出图中数字代表的工业区名称。(3 分)  
 ① \_\_\_\_\_ ② \_\_\_\_\_ ③ \_\_\_\_\_  
 (3) H 处的地形为\_\_\_\_\_。从 C 到 D 的铁路沿线亚洲部分多山, 可是铁路却沿山区修建, 原因是\_\_\_\_\_。(4 分)



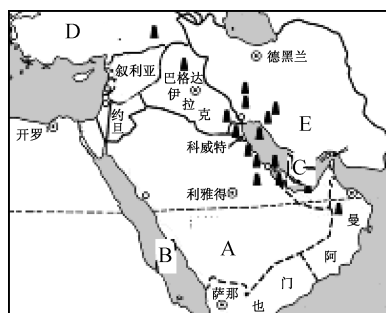
## 第八章测试卷一

(时间:60分钟 总分:100分)

题号	一	二	总分
得分			

一、选择题(下列各小题的四个选项中,只有一项符合题意。每小题2分,共40分)

读中东地区简图,回答1~5题。



1. 下列说法正确的是 ( )
  - A. 半岛A是中南半岛
  - B. 海域B是红海
  - C. 海峡C是土耳其海峡
  - D. 国家D是伊朗
2. 中东地区是世界上石油储量最为丰富、石油产量和输出量最多的地区。结合上图判断,该地区的石油资源主要分布在 ( )
  - A. 里海沿岸地区
  - B. 波斯湾及其沿岸地区
  - C. 红海及其沿岸地区
  - D. 地中海沿岸地区
3. 下列有关图示区域内的叙述,正确的是 ( )
  - A. 热带季风气候分布广,水旱灾害频繁
  - B. 多为发达国家,石油资源大量出口
  - C. 世界人口稠密区,当地居民多为白种人
  - D. 是联系欧、亚、非三大洲的交通枢纽,战略位置重要
4. 我们常以“二洋三洲五海之地”来形容中东地理位置的重要性,但是“五海”中有一个“海”其实为湖泊。它是 ( )
  - A. 里海
  - B. 阿拉伯海
  - C. 黑海
  - D. 红海
5. 图中字母E和A所示的国家分别是 ( )
  - A. 伊朗、沙特阿拉伯
  - B. 伊拉克、沙特阿拉伯
  - C. 叙利亚、阿拉伯联合酋长国
  - D. 伊朗、阿拉伯联合酋长国
6. 中东的资源有“一多一少”的特点,这“一多一少”两种资源分别是 ( )
  - A. 石油和水资源
  - B. 铜矿和天然气
  - C. 铁矿和金矿
  - D. 煤矿和铁矿
7. 霍尔木兹海峡是波斯湾通往印度洋的唯一出口,具有重要的战略和航运地位。西方国家把霍尔木兹海峡视为“生命线”,这是因为 ( )
  - A. 大量黄金从这里出口到世界各地
  - B. 大量木材从这里出口到俄罗斯、日本
  - C. 大量煤炭从这里出口到中国、印度
  - D. 大量石油从这里出口到欧美、日本

8. 下列关于中东石油的叙述,不正确的是 ( )
  - A. 石油的储量、产量、出口量均居世界首位
  - B. 沙特阿拉伯是中东主要的产油国家
  - C. 所产石油大部分输往西欧、美国、日本等发达国家
  - D. 所产石油主要用于国内消费
9. 解决中东水资源短缺的措施,错误的做法是 ( )
  - A. 以色列用滴灌等节水技术解决缺水问题
  - B. 沙特阿拉伯通过海水淡化获取水资源
  - C. 农业以畜牧业和种植耐旱作物为主
  - D. 通过战争的手段夺取水资源
10. 中东地区 ( )
  - A. 是“五洲三海”之地
  - B. 居民以阿拉伯人为主,多信奉伊斯兰教
  - C. 是世界上重要的石油输入地
  - D. 人们在干旱环境中运用节水技术种植水稻
11. 下列有关中东地区的说法,正确的是 ( )
  - A. 该地区被称为“三洲五海之地”
  - B. 该地区水资源丰富
  - C. 该地区大多数居民信仰佛教
  - D. 该地区大多数人讲英语
12. 中东的下列地理现象中,与气候的炎热干燥无关的是 ( )
  - A. 畜牧业是许多国家传统的经济部门
  - B. 许多国家大力发展节水农业
  - C. 农业多分布在河谷平原和沙漠中的绿洲上
  - D. 许多国家石油资源丰富
13. 图中所示人物对应的语言、宗教分别是 ( )
  - A. 英语、基督教
  - B. 法语、基督教
  - C. 俄语、伊斯兰教
  - D. 阿拉伯语、伊斯兰教



14. 欧洲西部是指欧洲的西半部,其北、西、南三面濒临的海洋分别是 ( )
  - A. 北冰洋、太平洋、大西洋
  - B. 北冰洋、大西洋、印度洋
  - C. 北冰洋、大西洋、地中海
  - D. 北冰洋、太平洋、地中海
15. 对欧洲西部温带海洋性气候的形成没有影响的是 ( )
  - A. 位于中纬度地区
  - B. 西面濒临大西洋
  - C. 南面濒临地中海
  - D. 中部有广阔平原

16. 西欧人夏季都想到阳光明媚的地中海沿岸旅游,这种旅游欲望产生的主要原因是 ( )

- A. 地中海沿岸的畜牧业比西欧发达 B. 欧盟内部各国的居民往来自由  
C. 西欧阴雨天数多,比较潮湿 D. 西欧的旅游资源贫乏

17. 欧洲西部、中部的地形主要以 ( )

- A. 平原为主 B. 高原为主 C. 盆地为主 D. 山地为主

18. 如果你的家人冬季到英国去旅游,你会告诉他,那里 ( )

- A. 冬季比北京冷 B. 冬季比北京温暖  
C. 冬季的气温和北京差不多 D. 冬季比北京干燥

19. 小亮计划暑假去欧洲西部旅游,你认为他不能如愿以偿的是 ( )

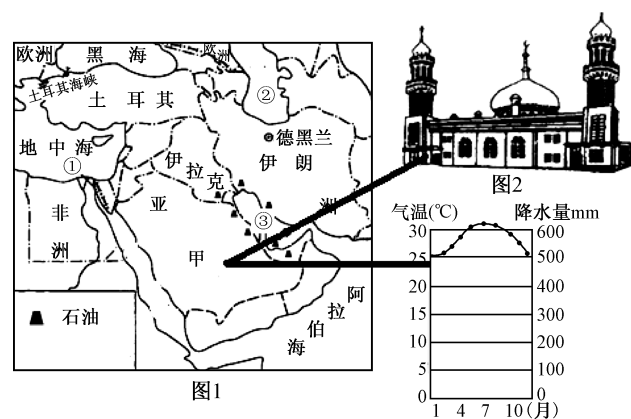
- A. 到法国巴黎登埃菲尔铁塔 B. 到西班牙看斗牛表演  
C. 到挪威观看午夜太阳 D. 到瑞典阿尔卑斯山去滑雪

20. 下列有关欧洲西部的叙述,错误的是 ( )

- A. 欧洲西部是世界上发达国家最为集中的地区  
B. 欧洲西部畜牧业发达,人们称牧草为“绿色金子”  
C. 有利于多汁牧草生长的气候是地中海气候  
D. 《申根协定》对欧洲西部旅游业的发展起到了促进作用

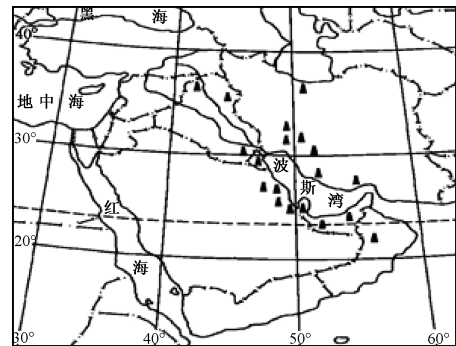
二、综合题(共 60 分)

21. 读世界某区域图(图 1)和甲地区的气候资料及宗教建筑图(图 2),回答下列问题。(每空 2 分,共 18 分)

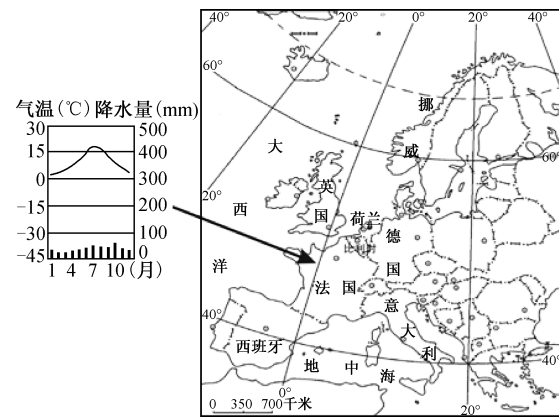


- (1) 写出图中数字序号所代表的地理事物名称: ① \_\_\_\_\_ 运河(亚洲和非洲的分界线), ② \_\_\_\_\_ 海(世界最大的湖泊), ③ \_\_\_\_\_ 湾(富含石油的海湾)。  
(2) 甲国位于 \_\_\_\_\_ 半岛上,以 \_\_\_\_\_ 气候为主, \_\_\_\_\_ 资源短缺是该地区经济发展的主要制约因素。  
(3) 当地阿拉伯人绝大部分信奉 \_\_\_\_\_ 教。  
(4) 地中海位于亚洲、非洲和 \_\_\_\_\_ 洲之间,通过 \_\_\_\_\_ 海峡与大西洋相遇。

22. 中东地区位于三洲五海之地,是世界石油宝库。读图,回答下列问题。(每空 2 分,共 12 分)



- (1) 本地区处在联系亚洲、非洲和欧洲,沟通印度洋与 \_\_\_\_\_ 洋的枢纽地位。  
(2) 沟通地中海和黑海的是 \_\_\_\_\_ 海峡。  
(3) 该区域具有世界意义的自然资源是 \_\_\_\_\_,其大部分分布在 \_\_\_\_\_ 及其沿岸地区,要经过 \_\_\_\_\_ 海峡出口到西欧、美国和日本等。  
(4) 该地区民族和宗教矛盾突出,这里的居民大多信仰 \_\_\_\_\_ 教。  
23. 2014 年 3 月 22 日至 4 月 1 日,国家主席习近平应邀对“欧洲四国”(荷兰、法国、德国、比利时)进行国事访问,并访问了联合国教科文组织总部和欧盟总部。这是习近平就任中国最高领导人以来的首次访欧之旅。(每空 3 分,共 30 分)



- (1) “欧洲四国”按照经济发展水平分,属于 \_\_\_\_\_ 国家。欧洲西部最重要的区域性国际组织是 \_\_\_\_\_。我国与“欧洲四国”之间关于政治、经济等方面的商谈,叫作 \_\_\_\_\_。  
(2) “欧洲四国”中,有“低地之国”之称的国家是 \_\_\_\_\_,该国有 1/4 的土地低于海平面,地势低洼,易受海潮的侵袭。  
(3) 欧洲西部畜牧业发达,餐桌上常常可见牛奶、乳酪等食品,试分析其地理原因: ① 西临 \_\_\_\_\_ 洋,地形以 \_\_\_\_\_ 为主。② 由图可知,大部分地区属于 \_\_\_\_\_ 气候,有利于多汁牧草的生长。  
(4) 欧洲人金发碧眼,属于 \_\_\_\_\_ 种人;周末可看到很多人去教堂做礼拜,居民多信仰 \_\_\_\_\_ 教。  
(5) 2014 年是中法建交 50 周年,很多中国人去法国旅游,游客在法国能拍摄到的景观是 \_\_\_\_\_。



A B C D

装 订 线

## 第八章测试卷二

(时间:60分钟 总分:100分)

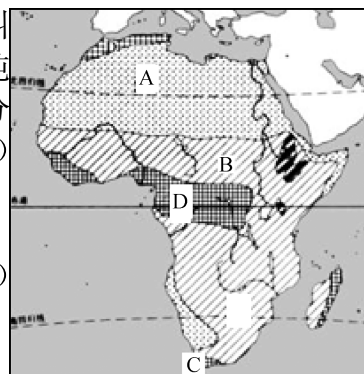
题号	一	二	总分
得分			

一、选择题(下列各小题的四个选项中,只有一项符合题意。每小题3分,共60分)

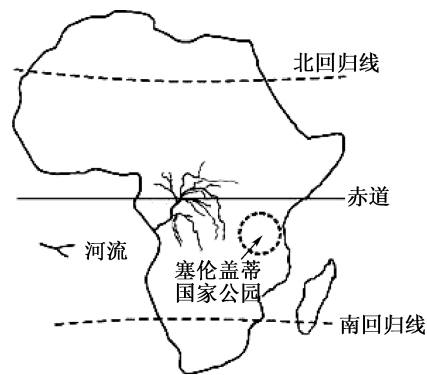
1. 下列有关撒哈拉以南非洲地理位置的叙述,正确的是 ( )
- A. 位于东半球,北临地中海      B. 横跨南北半球,东临印度洋  
C. 东临大西洋,西临印度洋      D. 位于西半球,隔苏伊士运河与亚洲相望

2. 在撒哈拉以南非洲的大陆上生长着一种形状奇特的树,叫波巴布树,它的树干很粗,湿季时能储存大量水分,最多能达2吨之多;干季时,人们可从树干中取水饮用。据此分析,该树主要分布在图中的 ( )

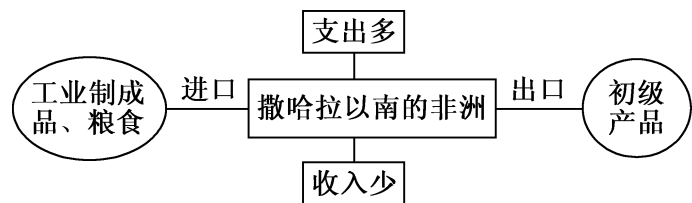
- A. A地                                  B. B地  
C. C地                                  D. D地
3. 在撒哈拉以南地区分布最广的气候是 ( )
- A. 热带雨林气候                      B. 热带沙漠气候  
C. 热带草原气候                      D. 地中海气候



读非洲示意图,回答4~5题。



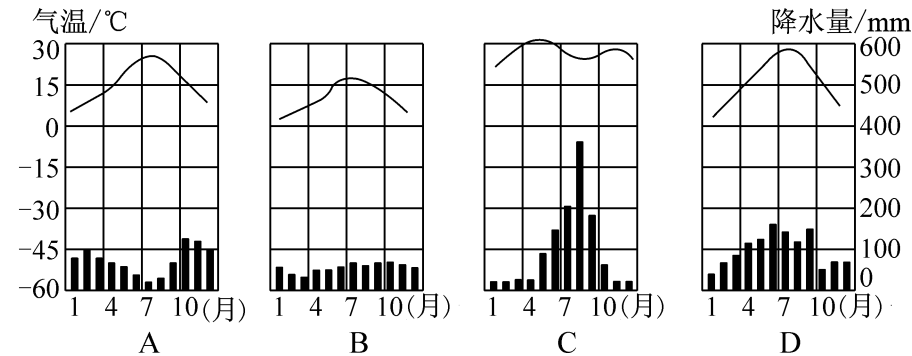
4. 撒哈拉以南非洲,大多数居民属于 ( )
- A. 黄种人      B. 白种人      C. 黑种人      D. 混血种人
5. 坦桑尼亚塞伦盖蒂国家公园是世界著名的天然野生动物园。在此动物园中,我们找不到的动物是 ( )
- A. 狮子      B. 大象      C. 长颈鹿      D. 牦牛
6. 下图所反映的是南非所在地区多数国家对外贸易的特点,下列叙述正确的是 ( )



- A. 制造业发达,从事制造业的人口多      B. 粮食产量高,出口量大  
C. 在国际贸易中,处于有利地位      D. 许多国家的经济以出口初级产品为主
7. 撒哈拉以南非洲的国家形成单一商品经济的原因是 ( )
- A. 自然条件优越,自然资源丰富  
B. 长期受殖民主义者的统治和控制  
C. 单一商品经济可以发挥本国的资源优势  
D. 单一商品经济在国际贸易中能赚很多钱
8. 撒哈拉以南的非洲矿产资源丰富,其中储量和产量居世界第一位的是 ( )
- A. 铜和石油      B. 铝土和铁矿      C. 黄金和金刚石      D. 金刚石和磷灰石
9. 撒哈拉以南的许多非洲国家是以单一商品为主的经济,主要的出口产品是 ( )
- ①机械 ②矿产 ③汽车 ④木材
- A. ①②③      B. ②④      C. ②③④      D. ①③
10. 目前,撒哈拉以南的非洲面临的主要问题是 ( )
- A. 干旱、能源、资源问题      B. 人口、粮食、环境问题  
C. 人口、粮食、能源问题      D. 宗教、资源、环境问题
11. 非洲的一些国家为改变“单一商品经济”的局面,可采取的合理措施是 ( )
- A. 扩大初级产品的生产      B. 努力发展民族工业  
C. 提高初级产品的出口价格      D. 大力推销国外的产品
12. 小华认识了来自非洲的黑人小朋友拉比,拉比告诉小华许多地形名称。小华很仔细地在地图上查找属于撒哈拉以南非洲的地形,其中正确的是 ( )
- ①刚果盆地 ②东非高原 ③德干高原 ④乞力马扎罗山
- A. ①②③      B. ②③④      C. ①②④      D. ①③④
13. 下列选项中,不属于撒哈拉以南的非洲今后发展的重要任务是 ( )
- A. 保护自然环境      B. 提高农牧业水平  
C. 不断扩大耕地面积      D. 控制人口增长速度
- 读撒哈拉以南非洲的传统民居图,回答14~15题。

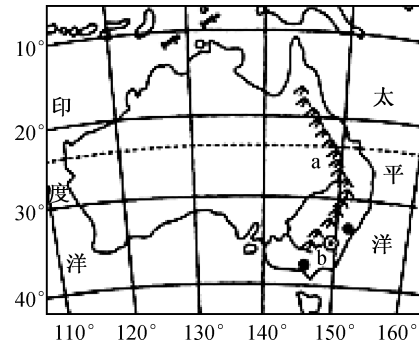


14. 图中所示民居的名称是 ( )
- A. 竹楼      B. 茅草房      C. 蒙古包      D. 高架屋
15. 图中所示民居最可能分布在下列哪一气候区 ( )



16. 非洲一些地区土地肥力下降、草场退化、沙漠面积不断扩大,主要原因是 ( )

- A. 风力过大,吹走了表土      B. 由于大量开发矿产,破坏了土地结构  
C. 工业十分发达,污染严重      D. 大量砍伐森林,开垦草原,过度放牧
- 读澳大利亚略图,回答 17~18 题。



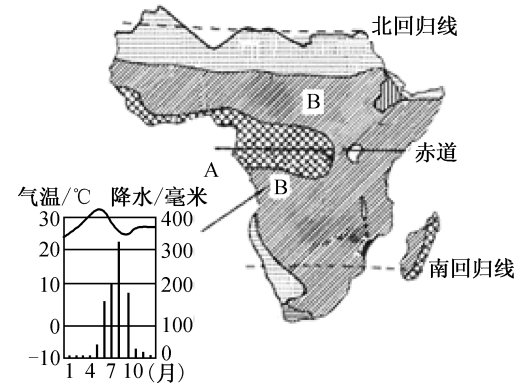
17. 下列叙述正确的是 ( )
- A. 位于北半球      B. 东临印度洋,西临太平洋  
C. 山脉 a 为大分水岭      D. 首都 b 为悉尼
18. 澳大利亚大陆自西向东可明显分为三大地形区,西部是 ( )
- A. 宽广平坦的高原      B. 一望无际的平原  
C. 大分水岭      D. 大自流盆地
19. 读图,澳大利亚国徽上的两种动物是鸸鹋和有“跳远名将”之称的 ( )



- A. 考拉      B. 袋鼠      C. 琴鸟      D. 鸭嘴兽
20. 下列关于澳大利亚的叙述,不正确的是 ( )
- A. 独自占有一个大陆      B. 有许多古老的物种  
C. 被称为“骑在羊背上的国家”      D. 人口和城市主要分布在西北沿海

二、综合题(共 40 分)

21. 读撒哈拉以南非洲气候分布图,回答下列各题。(每空 2 分,共 14 分)



撒哈拉以南非洲气候分布图

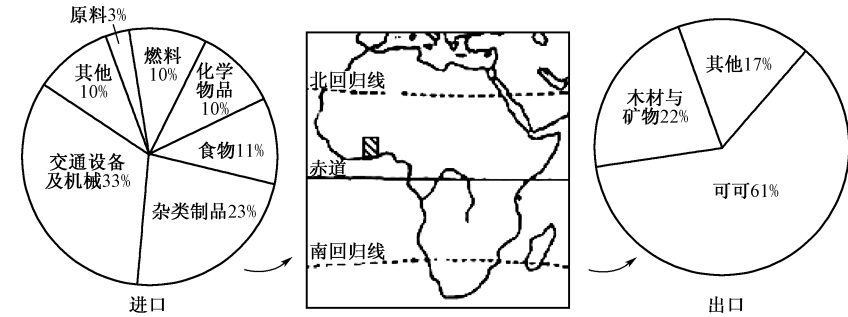
- (1)根据图中信息,说出撒哈拉以南非洲的地理位置: \_\_\_\_\_。
- (2)图中字母 A 所代表的大洋是 \_\_\_\_\_, B 区域的气候类型是 \_\_\_\_\_ 气候。结合图中 B 区域某地年内气温和降水量变化示意图判断,该气候的特征是 \_\_\_\_\_。
- (3)茅草屋是非洲典型的民居,分布广泛,一般用树枝、木棍构架,房顶铺茅草。结合图

中的信息,分析当地民居与气候的关系。

(4)撒哈拉以南非洲有“原材料仓库”之称,试分析其原因。

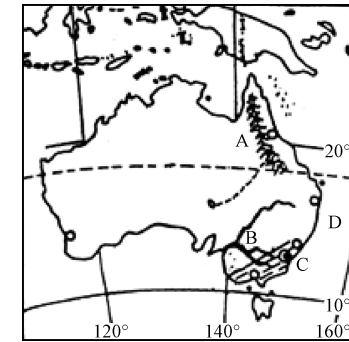
(5)撒哈拉以南非洲存在着严重的人口、粮食和环境问题。为解决以上问题,摆脱贫穷,你认为该地区应该采取哪些措施?(至少写出两点)

22. 读加纳经济图,完成下列问题。(12 分)



- (1)加纳最主要的出口产品是 \_\_\_\_\_。像这样依赖某一种或几种初级产品出口赚取外汇的经济类型被称为“\_\_\_\_\_”。(4 分)
- (2)加纳进口产品中占比例最大的是 \_\_\_\_\_。依赖其他国家供应此类进口产品,其弊端是 \_\_\_\_\_。(4 分)
- (3)(2 分)加纳所在的撒哈拉以南非洲被称为“黑非洲”,原因是 ( )
- A. 人到那里会被晒黑      B. 当地的大部分居民是黑人  
C. 那里有大片的黑土地      D. 那里有很多黑色矿产
- (4)(2 分)撒哈拉以南非洲经济落后的根本原因是 ( )
- A. 自然条件恶劣      B. 民族内部不团结  
C. 自然资源缺乏      D. 长期遭受殖民统治

23. 澳大利亚地广人稀,是世界上唯一拥有一个大陆的国家。读图,回答问题。(每空 2 分,共 14 分)



- (1)写出图中字母代表的地理事物名称。  
A \_\_\_\_\_ (山脉) B \_\_\_\_\_ (河流) C \_\_\_\_\_ (城市) D \_\_\_\_\_ (海洋)。
- (2)该国的人口和城市集中分布在东南沿海地区的原因有哪些? \_\_\_\_\_。
- (3)该国农牧业发达,是世界上重要的羊毛、小麦和牛肉出口国,其农牧业生产的特点是 \_\_\_\_\_。
- (4)近几年,澳大利亚已成为世界上重要的矿产品出口国,特别是 \_\_\_\_\_ 的出口,在世界上占有重要地位。


## 第九章测试卷

(时间:60分钟 总分:100分)

题号	一	二	总分
得分			

一、选择题(下列各小题的四个选项中,只有一项符合题意。每小题3分,共60分)

1. 世界上大多数国家都有著名的标志性建筑物。下列图片中,所示景观位于美国的是 ( )

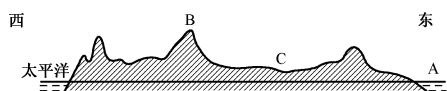


A                      B                      C                      D

2. 1972年2月21日,美国的尼克松总统访华时,周恩来总理说:“总统先生,你把手伸过了世界上最辽阔的海洋……”,这个海洋指的是 ( )

- A. 太平洋      B. 大西洋      C. 印度洋      D. 北冰洋

读北美地形图和美国地形剖面图(沿40°N),回答3~6题。



3. 图中A是 ( )

A. 太平洋      B. 大西洋      C. 北冰洋      D. 墨西哥湾

4. 图中B山脉是 ( )

A. 海岸山脉      B. 阿巴拉契亚山脉  
C. 落基山脉      D. 内华达山脉

5. 河谷C所在的河流是 ( )

A. 科罗拉多河      B. 圣劳伦斯河      C. 密西西比河      D. 哥伦比亚河

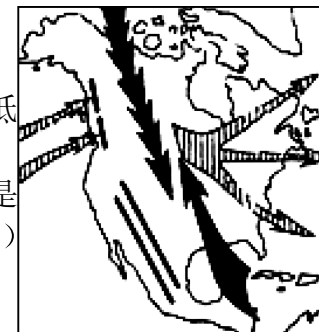
6. 美国的地势特征是 ( )

A. 东西高,中部低      B. 中部高,东西低  
C. 南北高,中部低      D. 中部高,南北低

7. 读图,墨西哥湾沿岸与我国广州的纬度位置大致相同,但是墨西哥湾沿岸的冬天比广州要冷,原因是 ( )

- A. 墨西哥湾沿岸临海

- B. 受北美洲地形影响,冬季风可以长驱直入,没有山脉阻挡  
C. 阿巴拉契亚山地阻挡了北上的暖湿气流  
D. 墨西哥湾沿岸在西半球,广州在东半球,西半球的气温要低于东半球



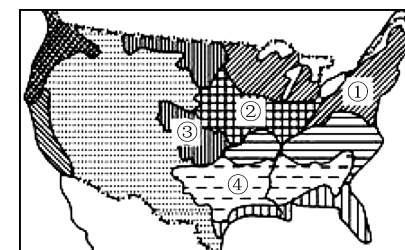
8. 美国耕地广大,约占世界耕地面积的10%。下列哪条河流是美国农业生产的主要灌溉水源 ( )

- A. 圣劳伦斯河      B. 密西西比河  
C. 科罗拉多河      D. 刚果河

9. 美国农业人口只占全国总人口的2%左右,但他们不仅养活了3亿多美国人,还使美国成为世界上最大的农产品出口国。美国农民为什么有如此大的能力? 其原因是 ( )

- A. 美国土地肥沃,庄稼自然长得好      B. 美国农民出钱请了大量的劳动力  
C. 农业生产得益于温和湿润的气候      D. 美国农业机械化水平高,生产效率高

读美国农业带分布图,回答10~11题。



10. 下图中的数字序号与其所代表的农业带的名称,对应正确的是 ( )

A. ①—棉花带      B. ②—玉米带      C. ③—乳畜带      D. ④—小麦区

11. 图中①农业带形成的主导因素,正确的是 ( )

A. 城市与人口密集,市场广阔      B. 地势平坦,土壤肥沃  
C. 热量资源丰富,降水充沛      D. 劳动力资源多,工资水平低

12. 近段时间,苹果公司的iphone和ipad等高科技产品持续热销。该产品原产于美国微电子工业中心,该中心的名称是 ( )

- A. 中关村      B. 班加罗尔      C. 光谷      D. 硅谷

13. 下列有关美国自然条件的叙述,正确的是 ( )

A. 美国本土跨温带和热带  
B. 美国耕地面积广大,约占世界耕地面积的10%  
C. 亚马孙河和五大湖为灌溉、航运和发电提供了良好条件  
D. 美国的矿产、森林、草原等自然资源极为贫乏

14. 下列关于美国的叙述,正确的是 ( )

A. 首都纽约是全国最大的城市  
B. 世界最大的农产品出口国,不需要进口任何农产品  
C. 居民以黑色人种为主  
D. 世界最发达的工业国家

15. 下列对美国经济的叙述,不正确的是 ( )

A. 美国许多重要农产品的产量和出口量居世界前列  
B. 美国是世界最大的高新技术产业基地  
C. 美国的陆地面积和从事农业生产的人口均居世界首位  
D. 美国是世界第一经济强国,工业现代化程度很高