



目 录

一、百以内数的认识	(1)
数 数	(1)
写数读数	(3)
数的顺序大小比较	(5)
第一次综合练习	(7)
二、位置	(10)
三、认识图形	(11)
第二次综合练习 (二、三单元)	(13)
四、100 以内的加法和减法 (一)	(16)
整十数加减整十数	(16)
两位数加减整十数、一位数	(18)
两位数加两位数	(20)
第五单元 认识人民币	(23)
第三次综合练习	(25)
六、认识钟表	(29)
第四次综合练习 (一~六单元)	(31)
七、100 以内的加法和减法 (二)	(35)
进位加法 (两位数加一位数)	(35)
进位加法 (两位数加两位数)	(37)
退位减法 (两位数减一位数)	(40)
退位减法 (两位数减两位数)	(42)
八、分类与整理	(44)
分类	(44)
第五次综合练习	(46)





第六次综合练习（期末）	（ 50 ）
期末综合练习（一）	（ 54 ）
期末综合练习（二）	（ 58 ）
部分参考答案及建议	（ 62 ）

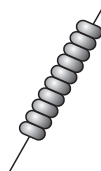
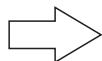




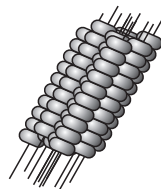
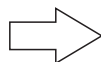
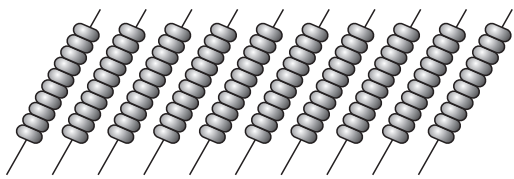
一、百以内数的认识

数 数

- 观察一下你的周围，并数一数。
 - 我们班有（ ）个女孩，有（ ）个男孩。
 - 教师里一共有（ ）把椅子。
 - 你和你的同桌一共有（ ）本书。
- 请你填一填。



（ ）个一是（ ）



（ ）个十是（ ）


- 用你最喜欢的方法数一数，填一填。

(1)




一共有（ ）条小鱼



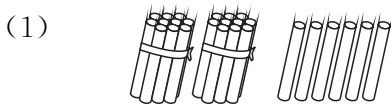


一共有 () 个气球。

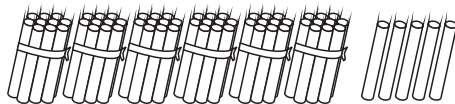


哇！好多苹果呀！小朋友，请数一数，这里一共有 () 个苹果。和你的同桌说一说，你是怎样数的。

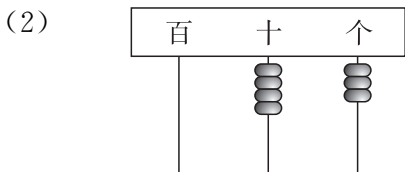
5. 小朋友，你会填吗？



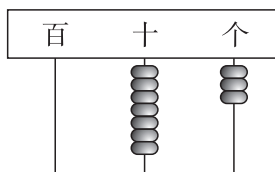
二十六里面有 () 个十和 () 个一。



() 个十和 () 个一组成的数是 ()。



四十三里有 () 个十和 () 个一。



() 个十和 () 个一组成的数是 ()。

6. 八十九里有 () 个十和 () 个一，七十里有 () 个十，() 个十和 () 个一组成的数是五十七。

7. 在格子里面画“☆”。

百	十	个
	☆	☆☆
	☆☆	☆☆
	☆	☆☆

三十四

百	十	个

一百

百	十	个

二十三

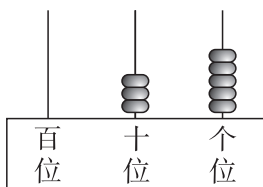
百	十	个

五十一



写数读数

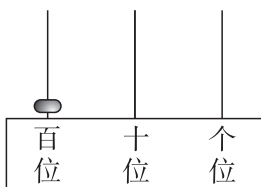
1. 你会写吗?



写作 ()

十	个
☆☆	
☆☆	

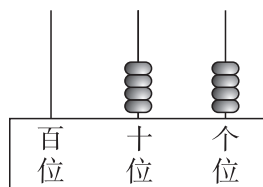
写作 ()



写作 ()

十	个
☆☆	☆☆
☆☆	☆☆

写作 ()




写作 ()

十	个
☆☆☆	☆☆
☆☆☆	☆☆

写作 ()

2. 小猫钓鱼。(连一连)



3. 填一填。

例: $75 = \boxed{70} + \boxed{5}$

$82 = \boxed{\quad} + \boxed{\quad}$

$39 = \boxed{\quad} + \boxed{\quad}$

$76 = \boxed{\quad} + \boxed{\quad}$

$58 = \boxed{\quad} + \boxed{\quad}$

$44 = \boxed{\quad} + \boxed{\quad}$

$21 = \boxed{\quad} + \boxed{\quad}$

4. 74 是由 () 个十和 () 个一组成的。



() 个十和 () 个一组成 83。

90 是由 () 个十组成的。

5. 连一连。

六十五 99 33 八十八

七十八 65 54 六十七

三十六 36 29 三十三

九十九 20 67 五十四


二十 78 88 二十九

6. 按规律给小鱼编号。


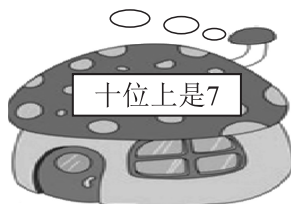

(1)



(2)



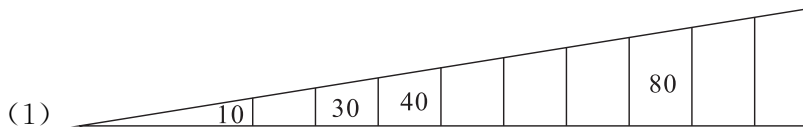
7. 小兔子回家 (连一连)。



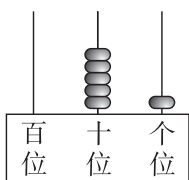
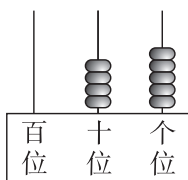


数的顺序大小比较

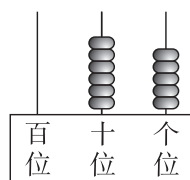
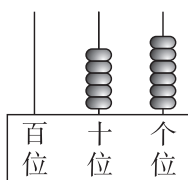
1. 我会填。



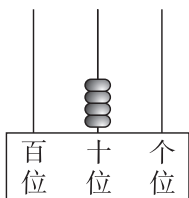
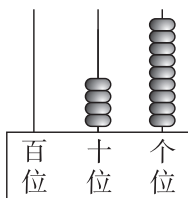
2. 在○里填“>”“<”或“=”。



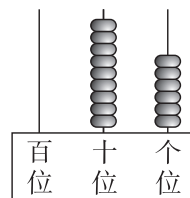
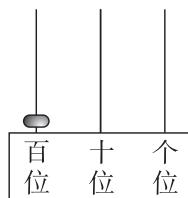
45 ○ 51



56 ○ 65


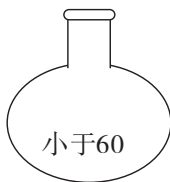


39 ○ 40



100 ○ 96

3. 把花插在花瓶里。(连线)





4. 把下面的数按从小到大的顺序排列。

47 55 96 72 63 66 25 12

5. 连一连。




妈妈的年龄比我	大一点
	大得多
姐姐的年龄比我	小一点

6. 请你猜一猜。



我今天拔了34个萝卜。


兔八哥



我拔的萝卜比兔八哥多得多。

小灰

我拔的萝卜比兔八哥少一点。



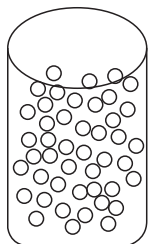
小白

小白可能拔了多少个萝卜？(画△)

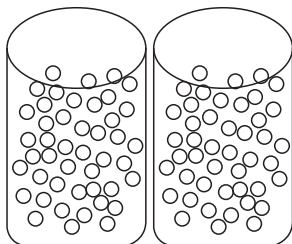
小灰可能拔了多少个萝卜？(画□)

29 个	50 个	57 个	82 个

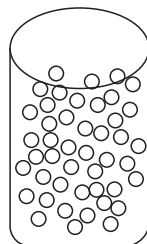
7. 请你估计一下。



大约有 40 颗珠子



大约有 () 颗珠子



大约有 () 颗珠子



第一次综合练习

一、算一算。

$4+6=$

$11-5=$

$10+3=$

$7+8=$

$11-4=$

$9+6=$

$13-7=$

$6+6=$

$17-8=$

$12-3=$

$5+9=$

$8+11=$

$9+8=$

$8+8=$

$12-7=$

$18-9=$

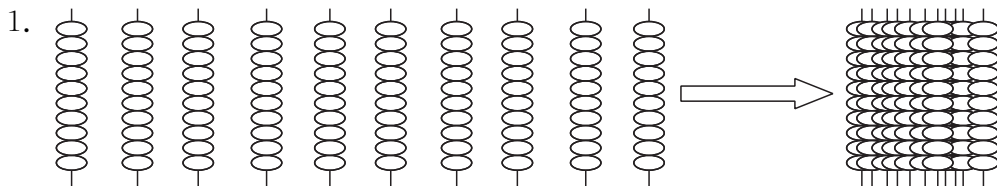
$13-6+10=$

$4+7-10=$

$12-10+9=$


$7+6+3=$

二、填一填。



() 个一十是 ()

2.

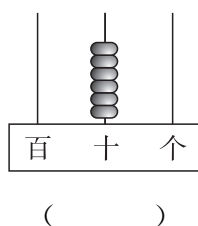
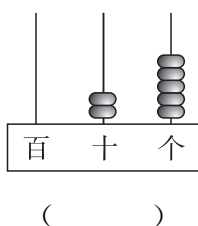
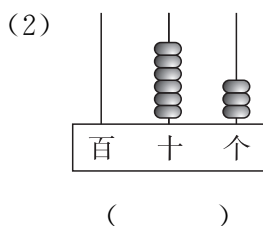
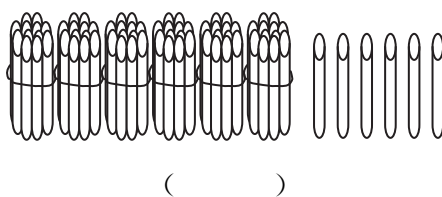
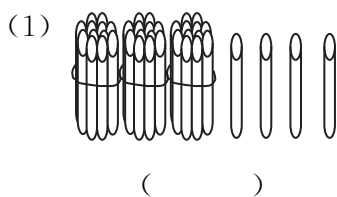


上图中共有 () 只小狗，把其中 25 只圈起来，把第 32 只涂上红色。





3. 看图写数。



4. 在方框里画☆。

45

十位	个位

30

十位	个位

26

十位	个位

5. 接着往下写。

(1) 26、27、28、_____、_____、_____、_____。

(2) 17、27、37、_____、_____、_____、_____。

(3) 25、35、45、_____、_____、_____、_____。

(4) 100、99、98、_____、_____、_____、_____。

6. (1) 76 是由 () 个十和 () 个一组成的。

(2) 52 中的 5 表示 ()，2 表示 ()。

(3) 四个十和七个一组成的数是 ()。

(4) 一个数十位上是 6，个位上是 0，这个数写作 ()。

7. 连一连。

七十五

100

一百

84

八十四

32

五十五

67

三十二

55

六十七

75



8. 送数字回家。

14、47、49、24、64、45、94、46、54、42、74

在上面的数中，个位数字相同的有（ ）。

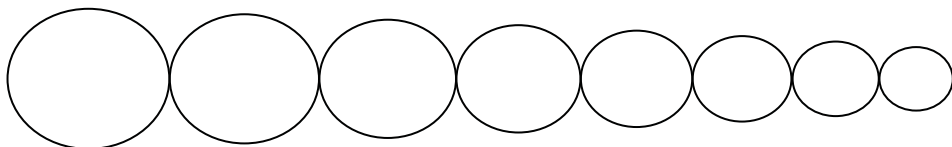
十位数字相同的有（ ）。

9. 小猫钓鱼。(连线)



10. 按从大到小的顺序排列下面的数。

16、65、97、20、88、49、56、60



11. 估计一下。




一串葡萄大约有 30 颗。



这里大约有（ ）颗葡萄。

12. 连一连。



7 本

32 本

68 本

40 本



二、位置

1. 排队去春游。



小猴子在 () 的前面, () 在小牛的后面。

() 在 () 的前面, () 在 () 的后面。

小猫的前面有 _____ ,

小猫的后面有 _____ 。

2. 看图填一填。



兔



象



小丽




鼠



羊

小丽的左边有 (), 鼠在小丽的 () 边。

3. 下面是商店的一个货架。



机器人在排球的左边,

游泳圈在排球的 () 边,

乒乓球在足球的 () 边,

羽毛球在游泳圈的 () 边,

乒乓球在游泳圈的 () 边。

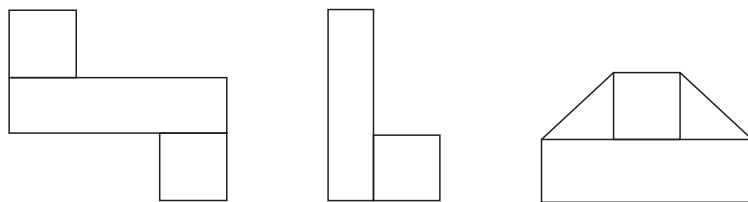


三、认识图形

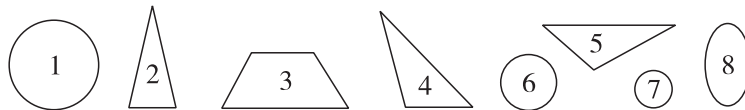
1. 说一说，你身边哪些物体的面是长方形、正方形、三角形、圆。



2. 把长方形涂上绿色，正方形涂上红色。

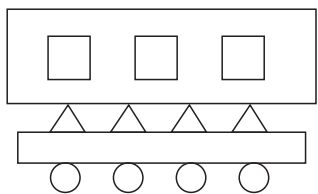


3. 把图形编号填入相应的 () 里。



() 是三角形，() 是圆形。

4. 数一数。



(1) 左图中有 () 个 □


() 个 □

() 个 △

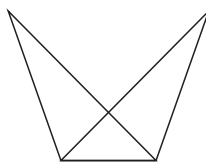
() 个 ○



(2)




我能数出 () 个正方形



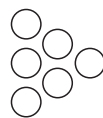
我能数出 () 个三角形

动脑筋

移小圆。



左图是由 6 个小圆组成的，
请你移动其中的 2 个小圆，
使左面的图形变成右面的
图形。





第二次综合练习（二、三单元）

一、算一算。

$7+6=$

$12-5=$

$10+9=$

$5+8=$

$12-8=$

$8+5=$

$13-9=$

$8+9=$

$15-6=$

$11-7=$

$7+9=$

$2+11=$

$3+8=$

$9+0=$

$12-12=$

$15-9=$

$14-10+1=$

$6+5-11=$

$18-8+9=$

$1+9+9=$

二、填一填。

1. 接着往下写。

(1) 40、50、60、()、()、()、() ……

(2) ()、()、96、94、92、()、() ……

2. 在方框里画☆。

14

十位	个位

50

十位	个位

32

十位	个位

3. 小动物排排走。



小猫走在 () 的后面, () 走在小马的前面。

小老虎的前面有 ()。

小猫的后面有 ()。



4. 动物的图片。



例：熊在狗_头的上面，熊猫在熊的左面。

猴在狗_头的（ ）面，

熊猫在狗_头的（ ）面，

猫在熊的（ ）面。

5. 我当小司机。（画出行车路线）




往前开



往右转



往左转



三、画一画。

用长方形、正方形、三角形和圆，在下面画一幅你喜欢的图画。



四、猜一猜。

铅笔比蛋糕便宜得多。

蛋糕2元钱。

文具盒比蛋糕贵一点。

的价钱可能是？画√

的价钱可能是？画△

10元	1元8角	5角	2元2角

动脑筋

小猫有一些鱼，它第一天吃掉了一半，第二天吃了剩下的鱼的一半，这样每天都吃掉前一天剩下的鱼的一半，第5天吃完最后1条鱼，小猫原来有（ ）条鱼。