

练习与测试·基础练习册

(地理八年级下册)(湘教版)(含试卷)

《练习与测试》编写组



湖南教育出版社





目 录

第五章 中国的地域差异

第一节 四大地理区域的划分

第二节 北方地区和南方地区

第三节 西北地区和青藏地区

第五章测试题

第六章 认识区域：位置与分布

第一节 东北地区的地理位置与自然环境

第二节 东北地区的人口与城市分布

第三节 东北地区的产业分布

第六章测试题

期中测试题

第七章 认识区域：联系与差异

第一节 香港特别行政区的国际枢纽功能

第二节 澳门特别行政区的旅游文化特色

第三节 珠江三角洲区域的外向型经济

第四节 长江三角洲区域的内外联系

第五节 长株潭城市群内部的差异与联系

第七章测试题

第八章 认识区域：环境与发展

第一节 北京市的城市特征与建设成就

第二节 台湾省的地理环境与经济发展

第三节 新疆维吾尔自治区的地理概况与区域开发

第四节 贵州省的环境保护与资源利用

第五节 黄土高原的区域发展与居民生活

第八章测试题

第九章 建设永续发展的美丽中国

期末预测题一

期末预测题二

参考答案

附：测试卷及其参考答案



第五章测试卷

(时间:90分钟 满分:100分)

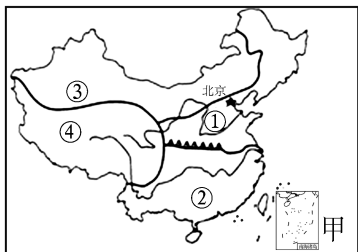
题号	一	二	总分
得分			

一、选择题(每小题2分,共50分)

秦岭—淮河是我国南北方重要的地理分界线。据此回答1~2题。

1. 大致与秦岭—淮河一线吻合的是 ()
- A. 1月0℃等温线
B. 200毫米年等降水量线
C. 热带与亚热带的分界线
D. 干旱地区与半干旱地区的分界线
2. 下列有关我国南北方的叙述,正确的是 ()
- A. 北方民居屋顶坡度大
B. 南方人以米饭为主食
C. 北方的耕地以水田为主
D. 南方以温带落叶阔叶林为主

读四大地理区域及景观图,完成3~5题。

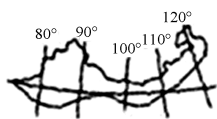


a

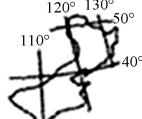


b

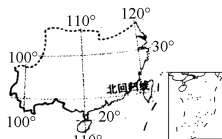
3. ①地区属于 ()
- A. 北方地区
B. 南方地区
C. 西北地区
D. 青藏地区
4. 有关四大地理区域分界线的叙述,正确的是 ()
- A. ①与②的分界线是秦岭—淮河线
B. ①与③的分界线是800毫米年等降水量线
C. ③与④的分界线是昆仑山—横断山
D. ②与④的分界线是阿尔金山—祁连山
5. 右上边的a、b两幅景观图与其在图甲中四大地区的连线,正确的是 ()
- A. a—①
B. b—③
C. a—②
D. b—④
- 读我国四大区域简图,完成6~7题。



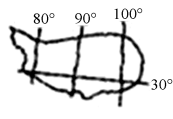
甲



乙



丙



丁

6. “草长莺飞二月天,拂堤杨柳醉春烟。儿童散学归来早,忙趁东风放纸鸢。”该诗描写的是我国四大区域中的 ()
- A. 甲地区
B. 乙地区
C. 丙地区
D. 丁地区
7. 下列对乙、丙两个区域的分界线,描述不正确的是 ()
- A. 此线是我国常绿阔叶林和落叶阔叶林的分界线
B. 此线与我国1月0℃等温线的分布大体一致
C. 此线与我国800毫米年等降水量线的分布大体一致
D. 此线是我国季风区与非季风区的分界线
- “一方水土养一方人。”受自然环境的影响,我国北方地区、南方地区的人们在生产生活方式上有很大的差异。据此完成8~9题。

8. 下列表示南方地区的生产和生活方式的是 ()
- A. 作物熟制是一年一熟或两年三熟
B. 传统运输方式以陆路运输为主
C. 屋顶坡度较小,墙体较厚
D. 传统运动项目以游泳、划龙舟为主
9. 北方人喜面食,南方人喜食米饭。造成这一差异的主导因素是 ()
- A. 地形因素
B. 气候因素
C. 海陆位置
D. 人类活动
10. 有关我国北方地区自然环境的叙述,正确的是 ()
- A. 北方地区是指中国东部秦岭—淮河线以北的地区
B. 主要的地形区有华北平原、东北平原、东南丘陵
C. 北方地区的年降水量大致为 200~800 毫米
D. 北方地区全部位于我国地势的第三级阶梯
11. 有关我国北方地区的叙述,正确的是 ()
- A. 北方地区盛产温带水果,比如柑橘、梨、桃、杏、柿、枣、葡萄等
B. 位于北方地区的古都是西安、北京、南京
C. 我国最大的油田是大庆油田,山西省是我国出产煤炭最多的省份
D. 本区煤、铁、石油等矿产丰富,建立了沪宁杭和京津唐工业区
12. 有关我国南方地区自然环境的叙述,正确的是 ()
- A. 南方地区是指中国秦岭—淮河线以南、青藏高原以东的地区
B. 主要的地形区有长江中下游平原、四川盆地、黄土高原
C. 南方地区属于温带季风气候和亚热带季风气候
D. 南方地区的东部有云贵高原和东南丘陵
13. 下列有关南方地区的叙述,正确的是 ()
- A. 贵州是中国少数民族最多的省级行政区域单位,有“旅游天堂”之称
B. 长江中下游平原有“水乡”“天府之国”“鱼米之乡”之称
C. 南方地区的洞庭湖平原、江汉平原、成都平原、鄱阳湖平原是中国重要的商品粮基地
D. 南方地区有色金属丰富,比如贵州铜仁的铜矿、湖南冷水江锡矿山的锡矿等
14. 下列各个省级行政区中,位于我国北方地区的是 ()

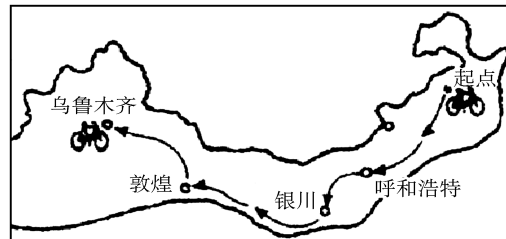


- A. ①②③④
B. ①②④
C. ②③④
D. ②④

勇敢坚毅的小明利用暑假进行了一次终生难忘的骑自行车旅游,旅游路线如下图所示。据此回答 15~17 题。

15. 小明旅游的地区是我国四大地理区域中的 ()

- A. 北方地区
B. 南方地区
C. 西北地区
D. 青藏地区



16. 小明从起点出发到乌鲁木齐,沿途看到的自然景观依次是 ()

- A. 荒漠、草原、森林
B. 草原、荒漠、森林
C. 荒漠草原、荒漠、草原
D. 草原、荒漠草原、荒漠

17. 从起点到乌鲁木齐,沿途景观变化的主导因素是 ()
- A. 气温的东西差异
B. 降水的东西差异
C. 地形的东西差异
D. 河流的东西差异

18. 有关西北地区的叙述,正确的是 ()

- A. 新疆的地形特点是“三山夹两盆”
B. 高寒是本区自然环境的主要特征
C. 内蒙古草原、青海牧场、天山牧场是本区重要的畜牧业基地
D. 甘肃白云鄂博的稀土资源非常丰富

读图,完成 19~20 题。

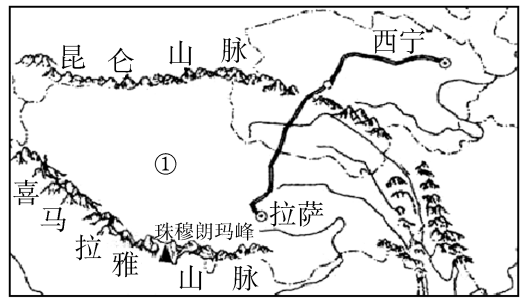
19. 图中①所代表的省级行政区域单位是 ()

- A. 青海省
B. 西藏自治区
C. 新疆维吾尔自治区
D. 四川省

20. 读图,下列说法中不正确的是 ()

- A. 图示区域显著的自然特征是干旱

- B. 农业生产以高寒畜牧业为主
 C. 区域内分布着我国最大的三江源自然保护区
 D. 种植业主要分布在雅鲁藏布江谷地和湟水谷地



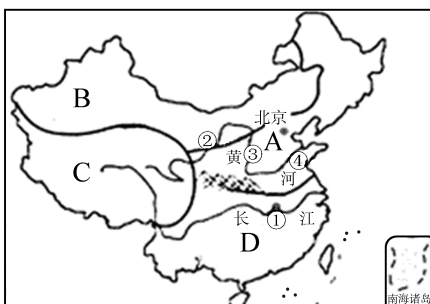
21. 下列有关青藏地区的叙述,正确的是 ()
 A. 青藏地区隔昆仑山—阿尔金山—横断山与西北地区相邻
 B. 干旱是本地区自然环境的主要特征
 C. 青藏铁路东起兰州,西至拉萨
 D. 柴达木盆地有“聚宝盆”之称
22. 有关我国青藏地区、西北地区的叙述,不正确的是 ()
 A. 位于青藏地区和西北地区分界线上的山脉是昆仑山
 B. 三江源位于我国的青藏地区
 C. “神舟十号”发射地位于我国的西北地区
 D. “黄梅时节家家雨,青草池塘处处蛙”是对西北地区的描述
23. 下列地理分界线中,与我国“秦岭—淮河”一线大体一致的是 ()
 A. 北方地区与南方地区的分界线
 B. 湿润区与干旱区的分界线
 C. 大陆性气候区与季风气候区的分界线
 D. 内流区与外流区的分界线
24. 下列地理事项描述中,与右图中铁路沿线观赏到的景观特征不相符的是 ()
 A. 雪峰连绵,冰川广布
 B. 藏民欢歌,青稞片片
 C. 雪域牧场,毡房点点
 D. 城镇遍布,繁华热闹
25. 读中国部分区域图,下列说法中正确的是 ()



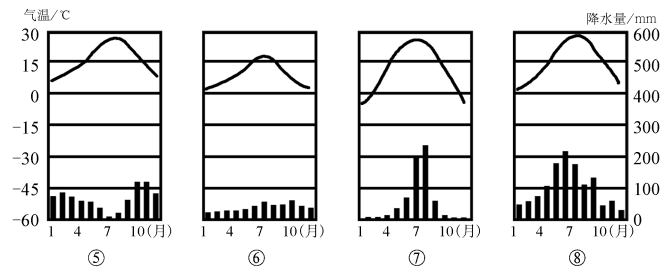
- A. A、C 区域主要位于我国北方地区, B、D 区域主要位于我国南方地区
 B. C 区域中的山脉是我国一条重要的地理分界线, 800 毫米年等降水量线经过这里
 C. C 区域的主要生态环境问题是水土流失严重, 地表呈现千沟万壑的形态
 D. D 区域热量充足, 降水多, 雨热同期, 是 D 地区发展农业生产的优势

二、非选择题(共 50 分)

26. 读我国四大地理区域示意图(甲图)及气温变化曲线和降水量柱状图(乙图), 完成下列各题。(24 分)



甲图



乙图

(1) 受地理位置、地形地势等因素的影响, 四大地理区域 A、B、C、D 的自然环境差异较大。其中, 以畜牧业为主, 高寒区面积广大的是 _____; 河湖众多, 水热条件最为优越的是 _____ (以上均填字母)。(4 分)

(2) 图中黄河的②③④河段中, 出现“地上河”现象的是 _____; 城市①是 _____, 属于乙图中的 _____ (填序号) 气候类型。(6 分)

(3) A 地区的耕地以 _____ 为主, 主要种植的粮食作物是 _____。(4 分)

(4) B 地区发展农业生产最突出的制约因素是 _____, 但是其出产的瓜果特别甜, 原因是 _____。(4 分)

(5) C 地区的种植业主要分布在 _____; 拉萨有“_____”之称。(4 分)

- (6)(2分)下列对中国四大地理区域自然地理特征的说法,正确的是 ()
- A. 由于B区域位于内陆地区,所以该区域都是内流河
 B. A区域的山脉主要有太行山、长白山、巫山、泰山
 C. D区域的河流大部分注入太平洋,少部分注入印度洋
 D. C区域石灰岩广布,多喀斯特地貌发育

27. 读我国四大地理区域图,完成下列各题。(16分)

(1)图中 A、B 是我国一条重要的地理分界线——
 线。(2分)

(2)区域①自然环境的主要特征是_____。(2分)

(3)区域②的小麦等农作物单位面积产量高,其主要原因是_____。(2分)

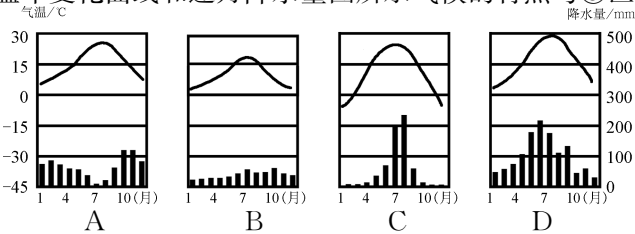
(4)(2分)下列四句话描述的景观中,出现在①地区的是 ()

- A. 千里莺啼绿映红,水村山廓酒旗风
 B. 天苍苍,野茫茫,风吹草低见牛羊
 C. 北国风光,千里冰封,万里雪飘
 D. 到了昆仑山,气息已奄奄;上了风火山,三魂已归天

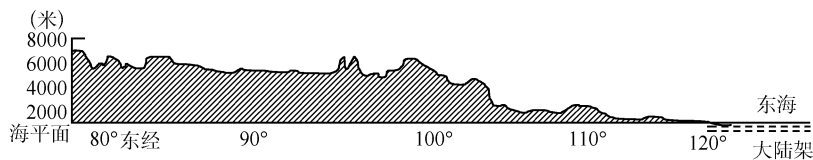
(5)④地区的河流具有分布密集、多外流河的特点,①地区的河流具有_____的特点。

造成这一差异的主要原因是,①地区_____。

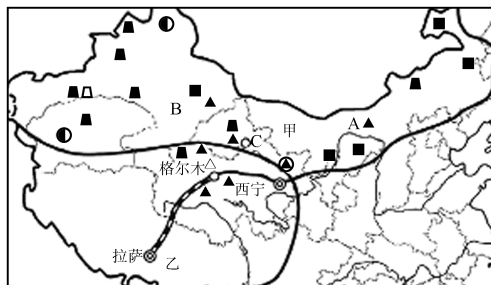
(6)(2分)下列气温年变化曲线和逐月降水量图所示气候的特点与③区域相符的是 ()



(7)(2分)图中甲、乙、丙、丁四条线的地势剖面图与下图相符的是_____。



28. 读我国西部地区局部图,回答下列问题。(10分)



(1)图中 B 代表的省区有古老的引水工程_____ ,被称为吐鲁番盆地的生命之泉。(2分)

(2)北京时间 2012 年 6 月 16 日 18 时 37 分,“神舟九号”飞船搭载航天员在卫星发射中心 C _____ 成功发射。(2分)

(3)2006 年 7 月 1 日,青藏铁路全线通车。该铁路线经过我国四大盆地的_____盆地。(2分)

(4)由图中信息可知,甲、乙两地区发展经济的共同优势条件是什么?(2分)

(5)乙地区有丰富的新能源,请列举两种。(2分)



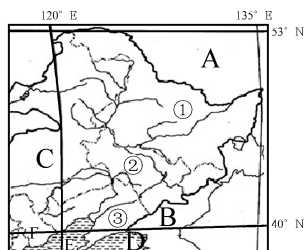
第六章测试卷

(时间:90分钟 满分:100分)

题号	一	二	总分
得分			

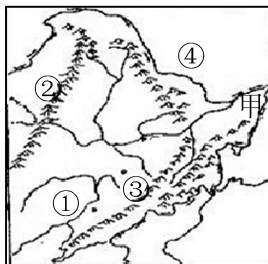
一、选择题(每小题2分,共50分)

读东北地区略图,完成1~4题。



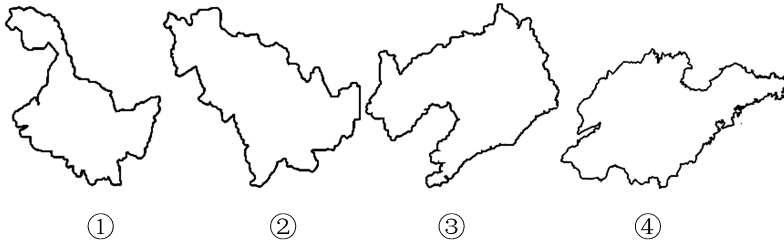
- 有关东北地区省级行政区域单位的叙述,正确的是 ()
 - ①简称吉,隔黑龙江与俄罗斯相邻
 - ②的行政中心是哈尔滨,是汽车制造中心
 - ③隔乌苏里江与朝鲜为邻
 - 位于我国最北和最东的省级行政区域是①
- 有关东北地区相对位置的叙述,正确的是 ()
 - A是蒙古
 - B是朝鲜
 - C是河北省
 - D是渤海
- ①省级行政区域单位的主要农作物有 ()
 - 春小麦、甜菜、大豆
 - 春小麦、甘蔗、大豆
 - 水稻、玉米、油菜
 - 水稻、甜菜、花生
- 有关③省级行政区域单位的叙述,正确的是 ()
 - 简称辽,行政中心是长春
 - 行政中心是我国最大的综合性中心城市和交通枢纽
 - 这里有我国著名的重工业基地——辽中南工业基地
 - 隔图们江与韩国为邻

读下图,完成5~7题。

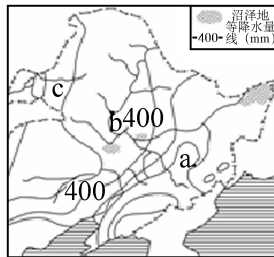


- 图中甲所在的区域是我国著名的 ()
 - 辽河平原
 - 三江平原
 - 松嫩平原
 - 河套平原
- 下列地理事物搭配正确的一组是 ()
 - ①—松花江
 - ②—小兴安岭
 - ③—武夷山
 - ④—黑龙江
- 有关东北地区地形的叙述,正确的是 ()
 - 本区的地形以平原、高原、山地为主
 - 东北平原是我国第二大平原
 - 三江平原是由黑龙江、松花江和鸭绿江冲积而成的

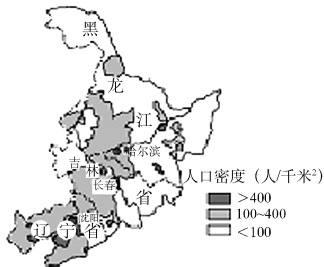
- D. 本区的地表结构大致呈半环状的三带分布 ()
8. 下列符合东北地区的气候特征的是 ()
- A. 属温带大陆性气候
B. 夏季南北温差大, 冬季普遍寒冷
C. 降水集中在夏季, 冬季降雪较多
D. 地跨暖温带和寒温带
- 读下面的四幅省区轮廓图, 回答 9~10 题。



9. 下列省份中, 不属于东北三省的是 ()
- A. ①
B. ②
C. ③
D. ④
10. 东北三省中邻河北省的是 ()
- A. ①
B. ②
C. ③
D. ④
11. 读东北地区年降水量分布图, 图中 a—b—c 年降水量的空间变化为 ()



- A. 自 a 到 c 降水逐渐减少
B. 自 a 到 c 降水逐渐增加
C. 自 b 到 a 降水逐渐减少
D. 自 b 到 c 降水逐渐增加
12. 有关东北地区的人口与民族的说法, 正确的是 ()
- A. 目前, 本区中黑龙江省人口最多
B. 三江平原和辽河平原人口较为稠密
C. 黑龙江省北部山区人口相对稀疏
D. 朝鲜族是东北地区人数最多的少数民族
13. 关于东北地区城市与交通的说法, 不正确的是 ()
- A. 本区最主要的运输方式是铁路
B. 本区的城市主要集中在哈大线、滨洲线、滨绥线上
C. 哈尔滨是中国著名的汽车制造基地
D. 沈阳是本区最大的综合性中心城市和交通枢纽
- 读东北地区的面积与人口统计表及东北地区人口分布图, 回答 14~16 题。



项目 \ 省份		黑龙江	吉林	辽宁
		黑龙江	吉林	辽宁
面积(万千米 ²)		45.4	18.7	14.7
人口(万人)	1953年	1190	1133	2039
	2010年	3833	2747	4375

14. 目前, 东北三省中人口密度最大的省区是 ()
- A. 黑龙江省
B. 吉林省
C. 辽宁省
D. 不能确定
15. 自 1953 年至 2010 年, 东北三省中人口增长率最高的是 ()
- A. 黑龙江省
B. 吉林省
C. 辽宁省
D. 不能确定
16. 在东北地区, 不属于人口稠密区的是 ()
- A. 中部、南部平原地区
B. 工业和交通运输发达的地区
C. 松嫩平原和辽河平原
D. 黑龙江省北部山区
- 读东北地区略图, 完成 17~18 题。
17. 东北平原粮食作物的分布特点是 ()
- A. 小麦种植面积占绝对优势

- B. 从北向南大致分布着小麦、玉米、水稻
 C. 从东向西依次分布着小麦、玉米、水稻
 D. 粮食作物品种单一

18. 甲地和乙地的畜牧业类型分别是 ()
 A. 农耕区畜牧业、牧区畜牧业
 B. 农耕区畜牧业、农耕区畜牧业
 C. 牧区畜牧业、牧区畜牧业
 D. 牧区畜牧业、农耕区畜牧业

19. 关于东北地区重工业基地的说法,正确的是 ()
 A. 重工业是东北地区的支柱产业
 B. 沈阳是中国重要的动力机械制造基地
 C. 辽中南工业基地是中国最大的综合性工业基地
 D. 中国最大的油田位于吉林省

20. 下列城市与其主要工业部门的连线,正确的是 ()
 A. 大庆——机械工业 B. 长春——汽车工业 C. 鞍山——石油工业 D. 大连——煤炭工业

21. 有关东北地区的叙述,正确的是 ()

- A. 东北地区三面临海
 B. 东北地区的降水多集中在冬季
 C. 东北地区主要的农作物有青稞、油菜、甘蔗等
 D. 东北地区是中国传统的老工业基地

读右图,完成 22~23 题。

22. 下列地区的工农业布局符合因地制宜原则的是 ()
 A. 甲地——制糖工业 B. 乙地——种植业
 C. 丙地——渔业 D. 丁地——林业

23. 下列对东北地区的描述,正确的是 ()
 A. 被称为高原湿地 B. “红土地”广布
 C. 是干旱的宝地 D. 山环水绕、沃野千里

东北地区物产丰富。读我国东北地区地形图,回答 24~25 题。

24. 图中序号对应的地理事物名称,正确的是 ()
 A. ①—辽河平原 B. ②—长白山
 C. ③—松花江 D. ④—渤海

25. 东北的稻米质量高的主要原因是 ()
 A. 一年一熟,生长期较长
 B. 夏季高温多雨
 C. 水源充足,灌溉便利
 D. 当地生产技术先进

二、非选择题(共 50 分)

26. 读东北地区工业城市分布图,回答下列问题。(24 分)

(1)东北地区工业结构的突出特点是_____。

(2 分)

(2)城市主要集中在_____地区,特别是_____、滨洲线、滨绥线沿线地区。主要城市包括:北部的中心城市_____;工业发达,重要铁路枢纽;中部的中心城市_____;是中国著名的汽车制造基地;南部的中心城市_____;是该地区最大的综合性中心城市和交通枢纽,是国家历史文化名城。(10 分)

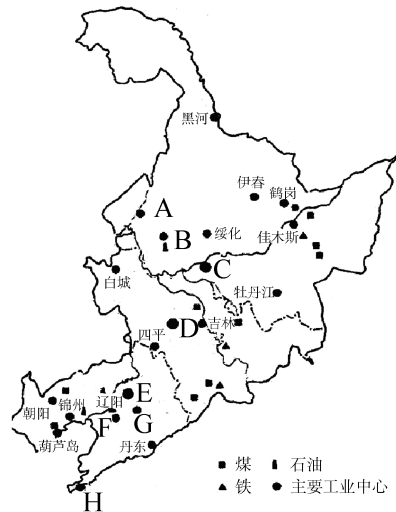
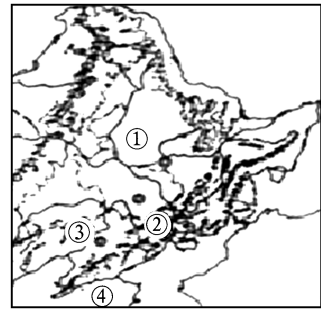
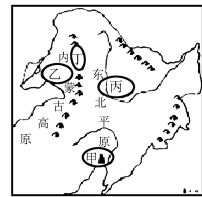
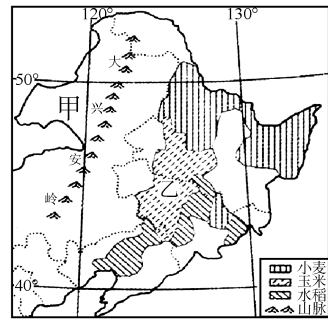
(3)东北地区有丰富的_____等重要的矿产资源,有我国重要的工业基地_____。该工业基地发展的有利条件是:_____。(6 分)

(4)东北老工业区存在的问题主要是什么? 如何解决? (4 分)

①问题:_____

②措施:_____

(5)资源枯竭型城市应如何发展? 谈谈你的看法。(2 分)



27. 读下图,回答下列问题。(8分)



东北地区商品粮基地的分布

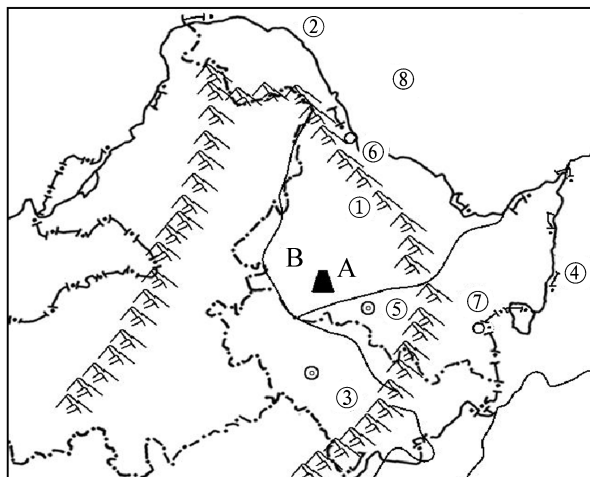
(1) A 区域是世界范围内纬度最高的水稻种植区,该地区适宜水稻种植的主要原因是_____。(2分)

(2) B 区域是玉米的集中产区,被称为中国的“玉米带”。如果借鉴美国“玉米带”的经验,该地区今后的发展策略应该是_____。(2分)

(3) C 区域有“北大荒”之称。建国以后,该地区大力开垦荒地,发展粮食生产,成为“北大仓”。现在,“北大荒”不再开垦荒地,这是因为_____。(2分)

(4) 东北地区是我国最大的商品粮基地,对于保证我国粮食安全有重要意义。除此以外,还有哪些途径可以解决我国的粮食问题?(2分)

28. 读中国部分区域图,回答问题。(18分)



(1) 写出图中字母代表的地理事物名称。(10分)

山脉:①_____ 河流:②_____ ④_____

城市:⑤_____ 邻国:⑧_____

(2) 在图中标出下列地理事物的代号。(4分)

⑨大兴安岭 ⑩长春

(3) B 所在的地形区是_____,是我国重要的商品粮基地。(2分)

(4) 对于③山区的开发,玲玲和贝贝发表了各自不同的看法。贝贝的想法是可以种植药材,饲养梅花鹿。玲玲的建议是这里山清水秀,朝鲜族的舞蹈又好看,可以发展旅游业。你认为呢?(2分)



月考测试卷一

(时间:90分钟 满分:100分)

题号	一	二	总分
得分			

一、选择题(每小题2分,共50分)

1. 受地理环境的影响,我国秦岭—淮河一线南北两侧形成了具有地域特色的人文风情。有关这些地域差异的描述,不符合实际情况的是 ()

- A. 民间体育——南赛马北滑雪
B. 饮食习惯——南米北面
C. 民居风格——南尖顶北平顶
D. 传统交通——南船北马

2. 我国北方地区与西北地区的分界线接近 ()

- A. 地势第一、二级阶梯的分界线
B. 1月0℃等温线
C. 季风区和非季风区的分界线
D. 800毫米年等降水量线

3. 俗话说“一方水土养一方人”。下列自然景观和人文活动与我国秦岭—淮河以北地区相符的是 ()

- A. 民居屋顶坡度大,墙体高
B. 多水田,以种植水稻为主
C. 水运仍然是人们常用的一种交通运输方式
D. 耕地以旱地为主,农作物熟制为一年一熟或两年三熟

4. 下列四幅民居邮票图中,反映我国江南水乡的特点的是 ()



A



B



C



D

5. 《晏子春秋》中说:“橘生淮南则为橘,生于淮北则为枳。”造成这一差异的主要因素是 ()

- A. 市场因素
B. 土壤因素
C. 地形因素
D. 气候因素

6. 下列盆地中,位于青藏地区的是 ()

- A. 四川盆地
B. 塔里木盆地
C. 柴达木盆地
D. 准噶尔盆地

7. 同一纬度的青藏高原和四川盆地自然景观差异大,其原因是 ()

- A. 海陆因素
B. 临近边界
C. 地形地势
D. 地理位置

8. 在我国四大地理分区中,处于我国地势第一级阶梯的是 ()

- A. 北方地区
B. 南方地区
C. 西北地区
D. 青藏地区

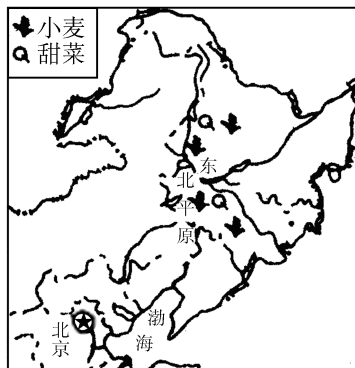
9. 请你判断,下列说法中可信的是 ()

- A. 海南黎族同胞:“我们栽种的苹果个大香甜。”
B. 藏族同胞:“我们用青稞酒招待远方的来客。”
C. 朝鲜族同胞:“我们种的甘蔗又获得大丰收。”

- D. 壮族同胞：“泼水节是我们传统盛大的节日。”
10. 我国西部地区地形复杂，主要的地形类型是 ()
- A. 山地、高原和盆地
B. 山地、高原和平原
C. 高原、平原和丘陵
D. 平原、丘陵和盆地
11. 青藏高原地区的主要农作物是 ()
- A. 小麦、谷子、高粱
B. 水稻、玉米、棉花
C. 玉米、大豆、甘蔗
D. 青稞、小麦、豌豆
12. “三江源自然保护区”中的“三江”是指 ()
- A. 长江、黄河、珠江
B. 长江、黄河、雅鲁藏布江
C. 长江、珠江、澜沧江
D. 长江、黄河、澜沧江
13. 下列四个省区中，少数民族数量最多的是 ()



读下图，回答 14~15 题。



14. 我国东北平原主要的粮食作物是 ()
- A. 棉花
B. 甘蔗
C. 小麦
D. 水稻
15. 该区域农作物的熟制是 ()
- A. 一年三熟
B. 一年两熟
C. 两年三熟
D. 一年一熟
16. 下列商品粮基地中，分布在长江中下游地区的是 ()
- A. 三江平原
B. 松嫩平原
C. 洞庭湖平原
D. 成都平原
17. 我国西北地区有一座山脉，山区为著名的牧场，山的南北两侧为盆地。这座山是 ()
- A. 天山
B. 昆仑山
C. 秦岭
D. 祁连山
18. 被称为“高原之舟”的是 ()
- A. 骆驼
B. 三河马
C. 滩羊
D. 牦牛
19. 关于我国东北地区地表结构的描述，最为准确的是 ()
- A. 山河相间，纵列分布
B. 呈半环状的三带
C. 支离破碎，水乡处处
D. 黄土遍地，沟壑纵横
20. 东北地区人口相对稀疏的地区是 ()
- A. 松嫩平原和辽河平原
B. 辽宁省中南部地区
C. 黑龙江省北部的山区
D. 哈大线沿线地区

21. 东北地区是我国城市密集、城市化水平较高的区域,城市集中在

()

- A. 沿海地区
- B. 沿边地区
- C. 交通干线沿线地区
- D. 自然资源丰富地区



22. 下列地形区中,位于南方地区的是

()

- A. 长江中下游平原
- B. 柴达木盆地
- C. 内蒙古高原
- D. 黄土高原

23. 南方地区丰富的能源和矿产资源是

()

- A. 煤炭和石油资源
- B. 煤炭和铁矿资源
- C. 石油和铁矿资源
- D. 水能和有色金属

24. 下列景观图片中,在我国东北地区不可能见到的是

()



A



B



C



D

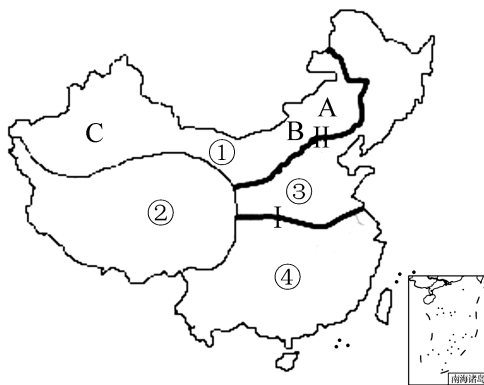
25. 制约西北地区农业生产发展的主要因素是

()

- A. 地形条件
- B. 光照条件
- C. 水源条件
- D. 技术条件

二、非选择题(共 50 分)

26. 读我国四大地理区域图,回答下列问题。(30 分)



(1) 写出图中数字代表的地理区域的名称。(4 分)

③ _____ ④ _____

(2) 图中界线 I 是 _____ — _____ 一线;界线 II 与 _____ 毫米年等降水量线大致吻合。

(6 分)

(3) 区域①最显著的自然环境特征是 _____。(2 分)

(4) 在区域①中,由 A→B→C 的景观变化依次是 _____ → _____ → _____。(6 分)

(5) 图中①地区有我国面积最大的 _____ 沙漠,②地区主要的农业类型是 _____ (灌溉农业、河谷农业或生态农业)。④地区的耕地以 _____ 为主。(6 分)

(6) 青藏地区成为众多大河的发源地,主要原因是 _____。(2 分)

(7) (2 分)关于青藏地区生态环境问题的叙述,正确的是 _____ ()

- A. 草场资源不足,加上过度放牧,是我国土地荒漠化最严重的地方
- B. 长期种地不养地,水土流失严重,土壤肥力大幅度下降
- C. 暴雨集中,土质疏松,形成千沟万壑的地表形态

D. 气温低,牧草矮小,载畜能力低

(8)(2分)藏族人穿的藏袍可以适应当地

()

A. 气候寒冷的特点

B. 气候干旱的特点

C. 昼夜温差大的特点

D. 日照强烈的特点

27. 读东北地区图,回答下列问题。(20分)



(1)写出图中字母代表的地理事物名称。(12分)

省区:A _____ B _____

山脉:C _____ D _____

河流:F _____ G _____

(2)H所在区域是_____平原,该地种植的糖料作物是_____。(4分)

(3)(2分)居住在D地区的少数民族主要是

()

A. 朝鲜族、满族

B. 藏族、维吾尔族

C. 傣族、壮族

D. 高山族、土家族

(4)对于D山区的开发,玲玲和贝贝发表了各自不同的看法。贝贝的想法是可以种植药材,饲养梅花鹿。玲玲的建议是这里山清水秀,少数民族的舞蹈又好看,可以发展旅游业。你认为呢?说说你的看法。(2分)

装

订

线



第七章测试卷

(时间:90分钟 满分:100分)

题号	一	二	总分
得分			

一、选择题(每小题2分,共50分)

- 有关香港自然环境的叙述,正确的是 ()
 - 位于珠江口东侧,北与广东省珠海市相连
 - 由香港岛、九龙和“新界”三部分组成
 - 香港的地形以平原为主
 - 香港属于热带季风气候
- 北京直达香港的铁路线是 ()
 - 陇海线
 - 京广线
 - 京沪线
 - 京九线
- 香港拥有先进的电信系统,是重要的国际性信息中心。香港的报业、电视、广播、出版、邮政都很发达,能够及时传递各种信息。这说明香港 ()
 - 现代旅游业发达
 - 现代商业发达
 - 现代服务业发达
 - 现代高新技术产业发达
- 香港回归以来,为祖国内地的发展作出了巨大贡献,祖国内地为香港的繁荣提供了坚实的后盾和强有力的支撑。下列关于香港的叙述,正确的是 ()

①被誉为“购物天堂” ②世界著名的自由贸易港 ③重要的国际金融中心和信息中心
④博彩旅游业发达

 - ①②③
 - ②③④
 - ①②④
 - ①③④
- 香港地少人多,而且山地多、平地少,可供城市发展的土地有限,香港人采用“上天”“下海”的方式扩展城市建设用地。对这两种方式的正确理解是 ()

①建设高层建筑 ②居住在船上 ③向月球移民 ④填海造地

 - ①③
 - ③④
 - ②④
 - ①④
- 香港的进口商品主要来自 ()
 - 中国台湾
 - 美国
 - 日本
 - 中国内地
- 香港是著名的自由港,逐步形成了多元化经济结构。其经济的基础是 ()
 - 博彩业
 - 对外贸易
 - 重工业
 - 建筑业
- 关于澳门地理概况的叙述,正确的是 ()
 - 澳门位于珠江口西南,与广东省的深圳市相连
 - 澳门由澳门半岛、九龙和路环岛组成
 - 澳门属于热带季风气候
 - 澳门国际机场,是采取人工填海方式建成的
- 下列美称属于澳门的是 ()
 - “世界公园”
 - “花园城市”
 - “购物天堂”
 - “海上花园”
- 关于澳门的说法,正确的是 ()
 - 澳门的工业以生产重工业产品为主
 - 澳门的人口集中分布在岛屿上
 - 澳门的商业发达,商业收入成为主要经济来源
 - 澳门旅游业发达,旅游业收入和博彩业收入是经济发展的重要支柱
- 下列关于我国内地、香港、澳门的说法,不正确的是 ()
 - 香港交通、旅游业非常发达,因其特殊的历史背景,成为东西方文化的荟萃之地

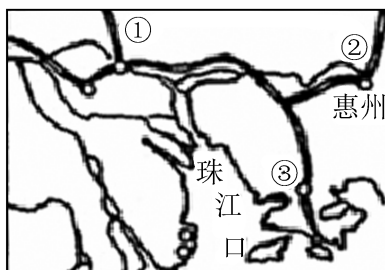
- B. 澳门的面积不断扩大,是由于珠江口泥沙淤积和填海造地双重因素造成的
 C. 香港和澳门之间“港珠澳跨海大桥”的建成,更加强了两地的联系,促进了两地的合作与发展

D. 内地有丰富的资源,港澳有雄厚的经济基础,应将香港和澳门建成大型的重工业基地

12. 有关广州的叙述,不正确的是 ()

- A. 是珠江三角洲区域的中心城市
 B. 是著名的侨乡,华侨人数居全国各城市之首
 C. 是京九铁路与广深铁路的交会枢纽
 D. 是著名的沿海开放城市

13. 读图,下列说法不正确的是 ()



A. 珠江三角洲区域生产总值的一半左右是通过国际贸易来实现的

B. ①城市是珠江三角洲区域的中心城市,也是著名的侨乡

C. ②铁路线是京广线

D. ③城市毗邻香港,是中国第一批经济特区之一

14. 下列有关珠江三角洲的叙述,正确的是 ()

A. 珠江三角洲的地形以低山、丘陵为主

B. 终年炎热,属于热带季风气候

C. 珠江三角洲区域是中国的“南大门”

D. 深圳是著名的侨乡,华侨人数居全国各城市之首

15. 下列关于珠江三角洲地区对外开放的有利因素,分析错误的是 ()

A. 珠江三角洲位于广东省东南部,珠江下游,靠近港澳和东南亚,交通便利

B. 许多地方是侨乡

C. 这里平原广阔,水网密布,矿产资源丰富,人口众多,经济发达

D. 珠江三角洲地区有一个包括经济特区、沿海开放城市、经济开放区在内的多层次的开放体系,享有发展经济的优惠政策

16. 港澳和珠江三角洲地区相比,港澳的优势是 ()

A. 廉价的劳动力

B. 土地资源丰富

C. 先进的技术和管理经验

D. 矿产资源丰富

17. 珠江三角洲地区外向型经济的特点是 ()

A. 加大了资源的开发力度

B. 吸引外资,引进先进的技术和管理经验,发展出口加工工业

C. 利用本地的资源大力发展重工业

D. 生产的产品主要满足国内的需要

18. 珠江三角洲地区人均国民生产总值增长迅速的主要原因是 ()

A. 劳务输出扩大

B. 农业产值的迅速增加

C. 外向型经济的带动作用

D. 传统工业的发展

19. 每年有大量的“打工妹”和“打工仔”纷纷涌向珠江三角洲地区,其原因是 ()

A. 气候湿润,农业发达

B. 资源丰富,开发潜力大

C. 加工业发展较快,劳动力需求大,就业机会多,报酬高

D. 沿海的位置,交通便利

20. 上海市成为我国第一个自由贸易区,具有的优势是 ()

①科技力量比较雄厚 ②矿产资源丰富,工业发达 ③拥有全国最大的港口,水陆交通便利

④对外开放程度高,外向型经济特色显著

- A. ①②③ B. ①②④ C. ②③④ D. ①③④

21. 读右图,有关长江三角洲区域概况的说法,不正确的是 ()

- A. 地势低平,气候湿润
B. 其核心城市上海是中国规模最大的城市
C. 其北翼的中心城市是杭州
D. 南京是江苏省省会,有“六朝古都”之称



22. 在上海浦东新区可能看到的景象是 ()

- A. 春耕大忙时期,人们忙着播种小麦
B. 夜晚的东方明珠电视塔闪烁着耀眼的光芒
C. 资源密集型产业比比皆是
D. 到处是等待开发的棚户区

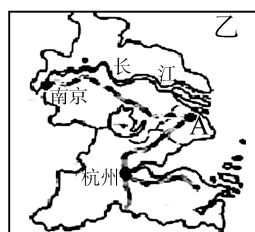
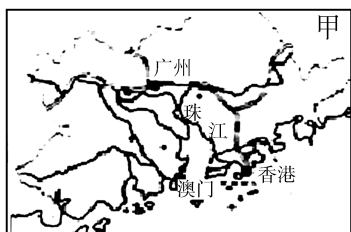
23. 有关长株潭三市发展差异的叙述,正确的是 ()

- A. 长沙是湖南省的省会,所辖的韶山市是毛泽东同志的故乡
B. 株洲是中国南方重要的铁路枢纽,京九、沪昆等铁路在此交会
C. 湘潭是制造业和旅游业相对发达的城市
D. 就机械行业来说,长沙侧重电工机械,株洲侧重铁路机械,湘潭侧重工程机械

24. 长株潭正倾力建设资源节约型、环境友好型社会。下列措施中,不符合“两型社会”要求的是 ()

- A. 湘江上游地区大力开采、冶炼有色金属
B. 建设湘江生态风光带,保护沿江湿地和山水景观
C. 推广节能建筑,优先发展公共交通
D. 三个城市之间保留大面积的生态绿地

读下图,完成第 25 题。



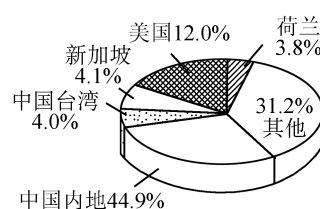
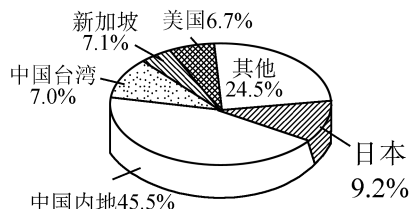
图例
— 铁路
— 河流
● 城市

25. 图甲所示区域是我国重要的工业基地,与乙所示区域相比,甲所示区域发展工业的突出优势是 ()

- A. 煤、铁等矿产分布集中 B. 多港湾,海上运输便利
C. 毗邻港澳,很多地方是“侨乡” D. 高等院校众多,科技力量雄厚

二、非选择题(共 50 分)

26. 根据下图,回答问题。(10 分)



2010 年香港进口商品的地区构成

2010 年香港出口商品的地区构成

(1) 香港进口贸易的商品主要来自 _____, 出口贸易的商品主要出口到 _____, 其主导产业是 _____。(6 分)

(2) 香港和 _____ 的贸易占香港进出口贸易的首位, 强大的社会主义祖国是香港经济发展的坚强后盾。(2 分)

(3) 根据所学知识分析, 香港和内地在经济上是如何优势互补的?(2 分)

_____。